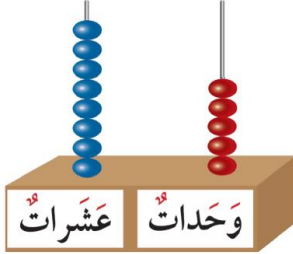


الصف : ٢ / .....

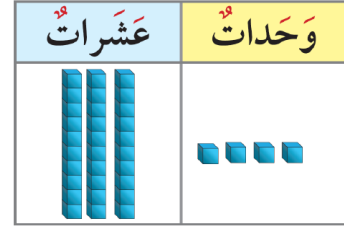
الاسم : .....

أكمل :



عشرات  + وحدات

$$\square + \square = \square$$



عشرات  + وحدات

$$\square + \square = \square$$

اكتب رمز العدد :

٣ وحدات و ٥ عشرات

٨ + ٩٠

اكتب القيمة المكانية للرقم الذي تحته خط:

١٣

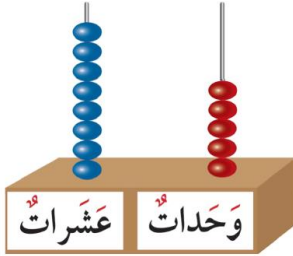
٣٩

٧٣

الاسم : .....

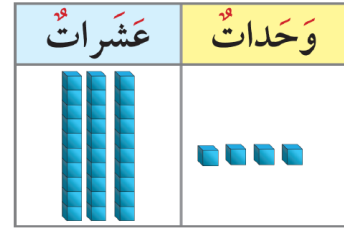
الصف : ٢ / .....

أكمل :



عَشْرَات  + وَحَدَات

$$\boxed{\phantom{00}} + \boxed{\phantom{00}} = \boxed{\phantom{00}}$$



عَشْرَات  + وَحَدَات

$$\boxed{\phantom{00}} + \boxed{\phantom{00}} = \boxed{\phantom{00}}$$

اكتب رمز العدد :

٣ وحدات و ٥ عشرات

٨ + ٩٠

اكتب القيمة المكانية للرقم الذي تحته خط:

١٣

٣٩

٧٣