



وزارة التربية

مكتب الوكيل المساعد للتعليم العام
امتحان الفترة الدراسية الأولى
الصف العاشر

العام الدراسي 2018 / 2019
تاريخ الكويت

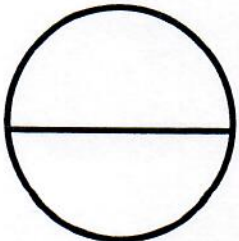
اسم الطالب /
الصف:
الشعبة:

تم تجميع
الامتحانات ونماذج الإجابة
وأرشفتها إلكترونياً
من قبل الموجه الفني
أ. حمد إبراهيم البحوه

رقم السؤال	الدرجة	توقيع المصحح
1		
2		
3		
4		
5		
6		
7		
8		
9		
10		
المجموع		



الدرجة بالحروف :





دولة الكويت

وزارة التربية

التوجيه الفني العام للاجتماعيات

امتحان نهاية الفترة الدراسية الأولى - الصف العاشر

للعام الدراسي ٢٠١٨/٢٠١٩م



لمادة : تاريخ دولة الكويت

• تعليمات الامتحان

- ١- استعن بالله عز وجل فهو خير معين .
- ٢- تأكد أن الامتحان من (٥) ورقات مختلفات .
- ٣- زمن الامتحان ساعتان وربع .
- ٤- أقرأ الأسئلة بتمعن ثم أجب حسب ما هو مطلوب منك .
- ٥- أجب عن ثلاثة أسئلة فقط على أن يكون السؤال الأول منها (إجباري).
- ٦- يمنع استخدام المزيل الأبيض (الكوريكتور) .

مع تمنياتنا لكم بالنجاح والتوفيق ،،،

العام الدراسي (٢٠١٨ / ٢٠١٩ م)

الزمن : ساعتان وربع

عدد الأوراق : (٥)

امتحان نهاية الفترة الدراسية الأولى

لمقرر / تاريخ دولة الكويت

(للسف العاشر)



وزارة التربية

التوجيه الفني العام للاجتماعيات


أجب عن (ثلاثة أسئلة) فقط على أن يكون السؤال الأول منها (إجبارياً) :

السؤال الأول / الموضوعي (إجباري) ويتكون من (أ - ب - ج - د) :

(أ) أكمل العبارات التالية بما يناسبها فيما درست :



١- الجزء المظلل على الخريطة المقابلة يمثل وادياً يحد دولة الكويت غرباً اسمه.....



٢- الجزيرة الكويتية التي توجد بها الآثار القديمة في الصورة المقابلة تسمى



٣- السفينة الموجودة في شعار دولة الكويت الذي أمامك تسمى



٤- المهنة التي يمتثلها العامل في الصورة المقابلة تسمى



ب) أكتب المفاهيم أو المصطلحات الدالة على العبارات التالية :

١- (.....) منابت المحار المحتوي على اللؤلؤ .

٢- (.....) ما يوضع على ظهر الدابة وتوضع فيه حاجات الراكب .

٣- (.....) الصيد بالإضاءة حيث يتجمع السمك حول سراج يحمله الصياد فيقوم بضربه بألة حادة كالسيف أو عصا في نهايتها حربة.

٤- (.....) رياح تهب على دولة الكويت في أواخر الربيع وأوائل الصيف فتثير الغبار مصحوبة عادة بعواصف رعدية يسقط بسببها المطر الشديد .

تابع / امتحان مقرر تاريخ دولة الكويت - للصف العاشر - نهاية الفترة الدراسية الأولى - للعام الدراسي ٢٠١٨ - ٢٠١٩ م



تابع / السؤال الأول (إجباري) :

(ج) ضع خطأً تحت الخيار الصحيح من بين الخيارات التي تلي كل عبارة :

١- المنطقة التي وقعت فيها معركة ذات السلاسل بين المسلمين والفرس عام ١٢ هجرية :

كاظمة - الصبية - أم العيش - الجهراء

٢- العامل الذي يقوم بتنجيد وصناعة المساند والفرش مستخدماً القطن :

الصفار - الحداد - النداف - النجار

٣- العام الذي أجري فيه أول تعداد رسمي موثق لسكان دولة الكويت :

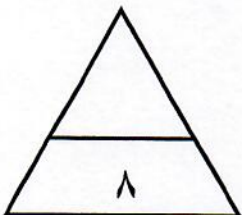
١٩٥٥ م - ١٩٥٦ م - ١٩٥٧ م - ١٩٥٨ م

٤- أكبر الجزر الكويتية والتي تمثل ٥% من المساحة الإجمالية لدولة الكويت :

بوبيان - عوهه - ورية - فيلكا

(د) اختر للمجموعة (أ) ما يرتبط بها من المجموعة (ب) بوضع الرقم المناسب :

م	المجموعة (أ)	الرقم المناسب	المجموعة (ب)
١	تقدمت التجارة في عهده بشكل كبير وألغى الرسوم احتراماً لرغبة أبناء شعبه	الشيخ مبارك الصباح
٢	ساعد العثمانيين في حملة "مدحت باشا" على إقليم الإحساء عام ١٨٧١م	الشيخ جابر الأول
٣	وقعت معركة الرقة في عهده عام ١٧٨٣م	الشيخ صباح الثاني بن جابر
٤	دعم الأمير "عبد العزيز آل سعود" عسكرياً وسانده في معاركه لاستعادة ملك آبائه	الشيخ عبدالله بن صباح الثاني
		الشيخ عبد الله الأول



الدرجة فقط

السؤال الثاني (اختياري) ويتكون من (أ - ب - ج) :

(أ) فرّق بين كل مما يلي :

الأسنان	القلاف
تم التعميل من



(ب) دال على صحة العبارات التالية :

١- لمنطقة الصبية قيمة وأهمية أثرية كبيرة .

..... -
..... -

٢- تطور (التعليم والصحة) في الكويت في عهد الشيخ مبارك الصباح .

..... - التعليم :
..... - الصحة :



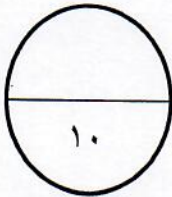
(ج) أجب عن الأسئلة التالية :

١- عدّد العوامل التي ساعدت على نمو وازدهار دولة الكويت تحت حكم آل الصباح .

..... -
..... -

٢ - علل - أهمية الموقع الاستراتيجي لدولة الكويت بين دول العالم .

..... -
..... -



الدرجة فقط

السؤال الثالث (اختياري) ويتكون من (أ - ب - ج) :

(أ) اقرأ الفقرة التالية ثم أجب عما يليها من أسئلة :

"الكويت بلد صحراوي يعاني من شح المياه وارتفاع درجة الحرارة أغلب أيام السنة إلى جانب عدم خصوبة التربة ، لكن على الرغم من تلك الصعوبات فقد تكيف الكويتيون قديماً مع البيئة المحيطة بهم وتغلبوا عليها"

١- ضع عنواناً للفقرة .

٢- دّل على صحة ما تحته خط .

٣- عدّد أهم المناطق الزراعية في دولة الكويت قديماً .



(ب) أكتب النتائج المترتبة على كل من :

١- ارتباط الكويت بنفوذ بني خالد .

٢- أثر احتلال العدوان العراقي لدولة الكويت عام ١٩٩٠ م على عدد السكان .

(ج) علل لما يلي :

١- الإنهيار التدريجي للاستعمار البرتغالي في منطقة الخليج العربي .

٢- اختيار الشيخ صباح الأول حاكماً لدولة الكويت .

٣- حرص بريطانيا على إبقاء اتفاقية الحماية للكويت عام ١٨٩٩ م سرية .



الدرجة فقط

السؤال الرابع (اختياري) ويتكون من (أ - ب - ج) :

(أ) قارن بين كل من:

أوجه المقارنة	الرياح الجنوبية الشرقية (الكوس)	رياح السموم
مميزاتها المناخية
أثرها في فصل الصيف



(ب) لاحظ الخريطة التي أمامك ثم أجب عما يليها من أسئلة :

- 1- أرسم أسهم على الخريطة المقابلة توضح (خط سير هجرة العتوب) من موطنهم الأصلي (الهدار) إلى محطة الاستقرار الأولى (قطر) .
- 2- عرّف العتوب :

.....
.....

(ج) عدد كل مما يلي :

- 1- الأسس التي حددها (الفرمان العثماني) حول علاقة الكويت بالدولة العثمانية .

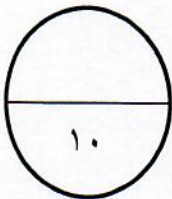
.....

.....

- 2- العوامل التي ساعدت على ازدهار صناعة السفن في دولة الكويت .

.....

.....



الدرجة فقط

انتهت الأسئلة

مادة تاريخ الكويت



امتحان نهاية الفترة الدراسية الأولى

العام الدراسي (٢٠١٨ / ٢٠١٩ م)

الزمن : ساعتان وربع

عدد الأوراق : (٥)

لمقرر / تاريخ دولة الكويت

(للسف العاشر)

نموذج الإجابة



وزارة التربية

التوجيه الفني العام للاجتماعيات

أجب عن (ثلاثة أسئلة) فقط على أن يكون السؤال الأول منها (إجبارياً) :

السؤال الأول /الموضوعي (إجباري) ويتكون من (أ - ب - ج - د) : (لكل سؤال نصف درجة = ٨ درجات)

(أ) أكمل العبارات التالية بما يناسبها فيما درست :



١- الجزء المظلل على الخريطة المقابلة يمثل وادياً يحد دولة الكويت غرباً اسمه وادي الباطن
ص ٢٥



٢- الجزيرة الكويتية التي توجد بها الآثار القديمة في الصورة المقابلة تسمى فيلكا
ص ٥٩



٣- السفينة الموجودة في شعار دولة الكويت الذي أمامك تسمى سفينة البوم
ص ٤٥



٤- المهنة التي يمتنها العامل في الصورة المقابلة تسمى الغيص
ص ٤٧



(ب) أكتب المفاهيم أو المصطلحات الدالة على العبارات التالية :


١- (الهيئات) منابت المحار المحتوي على اللؤلؤ .

٢- (العدول - العدل) ما يوضع على ظهر الدابة وتوضع فيه حاجات الراكب .

٣- (القمبار) الصيد بالإضاءة حيث يتجمع السمك حول سراج يحمله الصياد فيقوم بضربة بألة حادة كالسيف أو عصا في نهايتها حربة .

٤- (السرايات أو) رياح تهب على دولة الكويت في أواخر الربيع وأوائل الصيف فتثير الغبار مصحوبة عادة بعواصف الترابية بعواصف رعدية يسقط بسببها المطر الشديد .

ص ٣٤



التوجيه الفني العام للاجتماعيات

تابع / السؤال الأول (إجباري) :

(ج) ضع خطأً تحت الخيار الصحيح من بين الخيارات التي تلي كل عبارة :

١- المنطقة التي وقعت فيها معركة ذات السلاسل بين المسلمين والفرس عام ١٢ هجرية : ص ٦٠

كازمة	- الصبية	- أم العيش	- الجهراء
-------	----------	------------	-----------

٢- العامل الذي يقوم بتنجيد وصناعة المساند والفرش مستخدماً القطن : ص ٥٥

الصفار	- الحداد	- <u>النداف</u>	- النجار
--------	----------	-----------------	----------

٣- العام الذي أجري فيه أول تعداد رسمي موثق لسكان دولة الكويت : ص ٣٦


١٩٥٥ م	- ١٩٥٦ م	- <u>١٩٥٧ م</u>	- ١٩٥٨ م
--------	----------	-----------------	----------

٤- أكبر الجزر الكويتية والتي تمثل ٥% من المساحة الإجمالية لدولة الكويت : ص ٢٨

بوبيان	- عوهه	- وربة	- فيلكا
--------	--------	--------	---------

(د) اختر للمجموعة (أ) ما يرتبط بها من المجموعة (ب) بوضع الرقم المناسب :

م	المجموعة (أ)	الرقم المناسب	المجموعة (ب)
١	تقدمت التجارة في عهده بشكل كبير وألغى الرسوم احتراماً لرغبة أبناء شعبه . ص ٧٧	(٤)	الشيخ مبارك الصباح
٢	ساعد العثمانيين في حملة "مدحت باشا" على إقليم الأحساء عام ١٨٧١ م . ص ٧٧	(-)	الشيخ جابر الأول
٣	وقعت معركة الرقة في عهده عام ١٧٨٣ م . ص ٧٣	(١)	الشيخ صباح الثاني بن جابر
٤	دعم الأمير "عبد العزيز آل سعود" عسكرياً وسانده في معاركه لاستعادة ملك آبائه . ص ١٠٥	(٢)	الشيخ عبدالله بن صباح الثاني
		(٣)	الشيخ عبد الله الأول





السؤال الثاني (اختياري) ويتكون من (أ - ب - ج) :

(درجتين)

(أ) فرّق بين كل مما يلي :

ص ٤٣	الأستاذ	ص ٤٣	القلاف
هو الذي يقوم بتصميم السفينة.		هو الذي يقوم بعملية إعداد المواد اللازمة لصناعة السفينة ثم عملية بناء السفينة.	

(ب) دلل على صحة العبارات التالية :

(درجتين ويكتفى بنقطتين)

١- لمنطقة الصبية قيمة وأهمية أثرية كبيرة . ص ٥٨

- إذ أنها تحتضن مئات المواقع الأثرية التي برهنت على وجود حضارة العبيد القديمة /
والعثور على أقدم القرى السكنية في بحرة وطبج شمال الصبية / وأبار المياه القديمة في المنطقة والعثور على
جرار فخارية / والعثور على الرحى الحجرية التي تستخدم في طحن الغلال / وأدوات الغزل وحياسة القماش /
ومساكن بيضاوية الشكل / العثور على المدافن الركامية ذات الأشكال المختلفة الدائرية والمستطيلة .

(درجتين)

٢- تطور (التعليم والصحة) في الكويت في عهد الشيخ مبارك الصباح . ص ٩٦

التعليم : أنشئت المدرسة المباركية في عهده عام ١٩١١م وكانت أول المدارس النظامية الأهلية .
الصحة : وافق على تأسيس أول مستشفى عام ١٩١١م والذي أطلق عليها المستشفى الأمريكي .

(ج) أجب عن الأسئلة التالية :

١- عدّد العوامل التي ساعدت على نمو وازدهار دولة الكويت تحت حكم آل الصباح . ص ٨١ (درجتين ويكتفى بنقطتين)

- موقع الكويت الاستراتيجي على الجزء الغربي من الخليج العربي والجزء الشمالي الشرقي لشبه الجزيرة العربية .
- طبيعة نظام الحكم المعتمد على العدل والشورى والأمن وهو أمر هام لنهضة وتطور البلاد .
- وجود علاقات متوازنة مع القوى المجاورة .
- التسهيلات التي كانت تمنح لتجار البادية (تجارة المسابله) مما جعل الكويت المقر الرئيسي للبضائع داخل الجزيرة العربية .
- النظام الاقتصادي وتوزيع المهام ما بين الغوص ونقل التمور وتجارة البادية .
- والأمانة التي كان يتحلّى بها التجار والعاملون .
- الصفات التي تميز أهل الكويت من التسامح والانفتاح على الآخرين .

(درجتين ويكتفى بنقطتين)

٢- علل - أهمية الموقع الاستراتيجي لدولة الكويت بين دول العالم . ص ٢٢

- موقعها الذي يمثل النهاية الطبيعية للطريق الملاحي البحري والتجاري ، الواقع على طريق الهند ومنطقة الشرق الأقصى .
- تمثل دولة الكويت البوابة والمدخل الطبيعي لشمال شرق الجزيرة العربية ، وتعدّ مركزاً لتجارة السكان الوافدين عليها من نجد والإحساء وبادية الشام ، وتصريف بضائعهم منها .
- شهرتها بأنها منطقة (ترانزيت) ، او منطقة لتجارة العبور قليلة الضرائب .
- نشاط دولة الكويت البحري والتجاري ، فهي أحد أهم الموانئ في شمال إقليم الأحساء خاصة مع ظهورها البري وملحقاتها من الجزر .



السؤال الثالث (اختياري) ويتكون من (أ - ب - ج) :

ص ٥٢

(أ) **اقرأ الفقرة التالية ثم أجب عما يليها من أسئلة :**

"الكويت بلد صحراوي يعاني من شح المياه وارتفاع درجة الحرارة أغلب أيام السنة إلى جانب عدم خصوبة التربة ، لكن على الرغم من تلك الصعوبات فقد تكيف الكويتيون قديماً مع البيئة المحيطة بهم وتغلبوا عليها"

درجة واحدة

١- ضع عنواناً للفقرة .

(أي عنوان مناسب لموضوع الفقرة)

درجتين (يكتفى بنقطتين)

٢- دلل على صحة ما تحته خط .

احترف الكويتيون مهنة الزراعة بقصد الربح واكتساب الرزق / قاموا بزراعة النباتات التي تتلاءم مع البيئة .
استغلوا مياه الأمطار القليلة / استخدموا مياه الآبار السطحية المتوفرة / قاموا بزراعة بعض الخضراوات مثل الطماطم والبطاطس وغيرها .

درجة (ويكتفى بمنطقتين)

٣- عدد أهم المناطق الزراعية في دولة الكويت قديماً .

الدمنة (السالمية) / الفحيحيل / المنقف / الفنتاس / أبو حليفة / الشعبية / الجهراء .

درجتين (يكتفى بنقطة واحدة)

(ب) **أكتب النتائج المترتبة على كل من :**

١- ارتباط الكويت بنفوذ بني خالد .	ص ٧٢	- استطاعت الكويت أن تتمتع بمزيد من الأمن والرخاء / وأن تنجو من كثير من التهديدات والأخطار لمختلف القوى الإقليمية التي كانت موجودة آنذاك .
٢- أثر احتلال العدوان العراقي لدولة الكويت عام ١٩٩٠م على عدد السكان .	ص ٣٧	- تعرض وضع السكان لتغيرات كبيرة وعودة كبيرة للوافدين من العرب وغيرهم إلى أوطانهم .

(ج) **علل لما يلي :**

درجة واحدة

١- الإنهيار التدريجي للاستعمار البرتغالي في منطقة الخليج العربي . ص ٨٦

- بسبب المنافسة التجارية بينه وبين الهولنديين والإنجليز .
- جهود اليعاربة في عمان ، التي ساهمت في تصفية الوجود البرتغالي في الخليج وطردهم من المنطقة .
- وقوع البرتغال نفسها تحت الاحتلال الإسباني .

درجتين (يكتفى بنقطتين)

٢- اختيار الشيخ صباح الأول حاكماً لدولة الكويت . ص ٧٠

سماته الشخصية من شجاعة وحكمة / كان لوالده الزعامة على قومه منذ أن كانوا في نجد .
كان مقبلاً طوال أيام العام في الكويت / عمله في الصحراء خلافاً للبقية الذين كانوا يعملون في البحر .

درجة واحدة

٣- حرص بريطانيا على إبقاء اتفاقية الحماية للكويت عام ١٨٩٩م سرية . ص ١٠٢

بسبب عدم رغبتها في إثارة الدولة العثمانية ، أو خلق توتر جديد بينها وبين القوى الأوروبية



التوجيه الفني العام للاجتماعيات

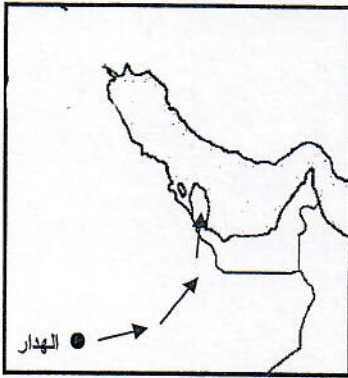


السؤال الرابع (اختياري) ويتكون من (أ - ب - ج) :

ص ٣٤

(أ) قارن بين كل من: (٤ درجات)

رياح السموم	www.sskuwait.net	الرياح الجنوبية الشرقية (الكوس)	أوجه المقارنة
رياح جافة جداً تهب في الظهيرة وتنخفض معها الرطوبة النسبية ودرجة حرارتها عالية..		رياح رطبة دافئة تهب من الجنوب الشرقي وتتأثر في المنخفض السوداني .	مميزاتها المناخية
ترفع درجات الحرارة إلى مستوى عالٍ جداً في فصل الصيف وإذا كانت هذه الرياح نشطة فإنها تثير الأتربة والرمال.		تتسبب في رفع درجة الحرارة وتزيد من نسبة الرطوبة في فصل الصيف .	أثرها في فصل الصيف



(ب) لاحظ الخريطة التي أمامك ثم أجب عما يليها من أسئلة : ص ٦٩

١- أرسم أسهم على الخريطة المقابلة توضح (خط سير هجرة العتوب) من موطنهم الأصلي (الهدار) إلى محطة الاستقرار الأولى (قطر)

(درجة واحدة)

٢- عرّف العتوب :

*مجموعة من العشائر أو الأسر التي تنتمي إلى عدة قبائل من أبرزها قبيلة عنزة ، تلك القبيلة العربية الكبرى التي كانت تستوطن منطقة نجد بشبه الجزيرة العربية .

(درجة واحدة)

(ج) عدد كل مما يلي :

١- الأسس التي حددها (الفرمان العثماني) حول علاقة الكويت بالدولة العثمانية . ص ٩٠

درجتين (ويكتفى بنقطتين فقط)

- شيخ الكويت مستقل في شؤونه الداخلية .

- منح شيخ الكويت لقب قائم مقام .

- أهالي الكويت لا يلتزمون بدفع رسوم أو ضرائب للباب العالي .

- إلزام السفن الكويتية برفع العلم العثماني مع إعفاء السفن الكويتية من دفع أي رسوم .

٢- العوامل التي ساعدت على ازدهار صناعة السفن في دولة الكويت . ص ٤٣

درجتين (ويكتفى بنقطتين فقط)

- هبوب الرياح الموسمية على منطقة الخليج العربي ، والتي ساعدت على دفع السفن نحو شواطئ الهند وشرق آسيا .

- توفر الأيدي العاملة لصناعة السفن .

- تمتع الكويت بواجهة بحرية طويلة ويتخللها العديد من التعرجات ، فضلاً عن وجود جون الكويت شمالاً .

- وانتشار العديد من الجزر في مياها الإقليمية ، ووجود النقع والعمائر الساحلية .

- براعة الأستادة والقلانيف .

- توفر مصادر المواد المستخدمة في صناعة السفن .

