

مراجعة اختبار قصير للصف الثالث  
الوحدة الثالثة (الضرب)

السؤال الأول:-

• أكمل الفراغ التالي :



$$\underline{\quad} = \underline{\quad} + \underline{\quad} + \underline{\quad} + \underline{\quad} + \underline{\quad}$$

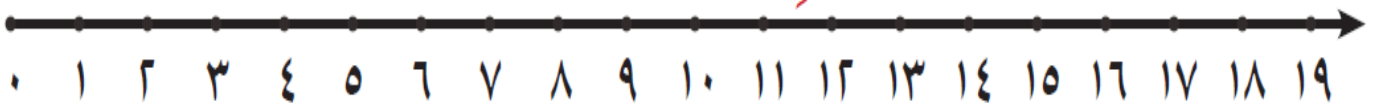
$$\underline{\quad} = \underline{\quad} + \underline{\quad} + \underline{\quad}$$

$$\underline{\quad} = \underline{\quad} \times \underline{\quad}$$

$$\underline{\quad} = \underline{\quad} \times \underline{\quad}$$

السؤال الثاني:-

استخدم خط الأعداد في إيجاد ناتج كل مما يأتي:



$$\square = 2 \times 6$$

$$\square = 2 \times 3$$


السؤال الثالث :



كم عدد العجلات في ٧ دراجات؟

عدد العجلات في ٧ دراجات =  $\underline{\quad} \times \underline{\quad}$  = عجلة

أَكْمِلْ.



السؤال الرابع :-

مَعَ سَلْمَى زَهْرَتَانِ، وَمَعَ خُلُودَ أَزْهَارٌ أَكْثَرُ بِخَمْسِ مَرَّاتٍ مِمَّا لَدَى سَلْمَى، فَكَمْ زَهْرَةٌ مَعَ خُلُودَ؟  
مَعَ خُلُودَ =  زَهْرَةٌ

اُكْتُبْ ٤ أَعْدَادٍ كُلٌّ مِنْهَا مُضَاعَفٌ لِلْعَدَدَيْنِ ٢، ٥ مَعًا.

اُكْتُبْ رَمْزَ الْعَمَلِيَّةِ الْمُنَاسِبِ  $\times$  أَوْ  $+$

$1 = 1$    $\cdot$  ج |  $10 = 9$   ب |  $9 = 1$   ٩

أكمل  
الفراغ




لديك 3 جزرات وحبّات بطاطا أكثر بـ 4 مرّات. فكّم عدد حبّات البّطاطا؟  
عدد حبّات البّطاطا =  حبة بطاطا

للفراشة 6 أرجل، كم عدد أرجل 9 فراشات؟

للمزيد من الامتحانات انضموا إلى قناة  
الأستاذ حسين المعاني

واضغطو على زر الاشتراك والجرس  
ليصلكم كل جديد ومن قوائم التشغيل  
اختر الصف الثالث

أكمل :-



<input type="text"/>	= 7 × 7
<input type="text"/>	= 7 × 8
<input type="text"/>	= 7 × 9

## أوجد الناتج.

$$\underline{\hspace{2cm}} = 13 - 7 \times 5$$


$$\underline{\hspace{2cm}} = 2 \times 4 + 6$$

$$\underline{\hspace{2cm}} = 12 - 12 \times 1$$

$$\underline{\hspace{2cm}} = 10 + 8 \times 4$$

الجدول التالي يبين أنواع الأطعمة المفضلة لدى متعلمي الصف الثالث.

الأطعمة المفضلة لدى متعلمي الصف الثالث		
العدد	نوع الطعام	
		بيتزا
		فطائر سبانخ
		فطائر زعتر
٢٠		فطائر جبنة

كل  يمثل ٥ متعلمين

أكمل الجدول.

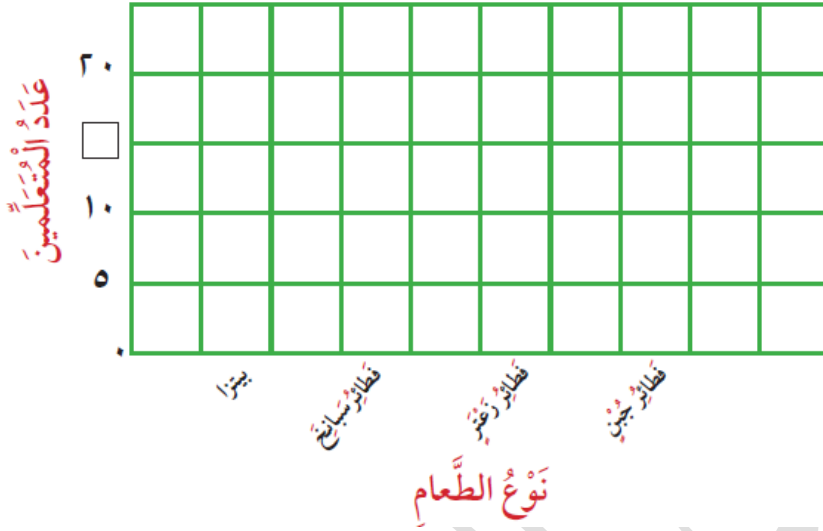
وضّح كيف عرفت عدد المتعلمين الذين يفضلون البيتزا؟

لتفترض أن كل  يمثل ٢ متعلم، وضّح كيف تبين عدد الذين يفضلون فطائر الزعتر؟

استخدم المعطيات في الجدول السابق لتكامل التمثيل البياني بالأعمدة.

اِسْتِخْدِمِ الْمُعْطِيَاتِ فِي الْجَدْوَلِ السَّابِقِ لِتُكْمِلَ التَّمْثِيلَ الْبَيَانِيَّ بِالْأَعْمَدَةِ.

الأطعمة المفضلة لدى متعلمي الصف الثالث



الناتج	المصفوفة	المجموعات المتساوية	الجمع المتكرر	تعبير الضرب
6			$2 + 2 + 2$	$2 \times 3$
				$5 \times 2$
				$3 \times 4$
				$3 \times 5$