


حوظ حالة الطقس بعد سماعك لنشرة الأخبار الجوية



اعداد المعلمة : مريم مرتضى دشتي

مذكرة المشروع العلمي

محطة رصد أحوال الطقس



اعداد المعلمة :

مريم دشتي

اسم الطالب :

الصف : ثالثة /

ما اسم الأرصادي المشهور
في دولة الكويت ؟



صالح

اعداد المعلمة : مريم مرتضى دشتي

قم بوصف حالات الطقس التالية:



.....



.....



.....



.....



.....



.....

اعداد المعلمة : مريم مرتضى دشتي

ما هي الأدوات والأجهزة التي تساعد الأرصادي على معرفة أحوال الطقس ؟

الأداة ١ :

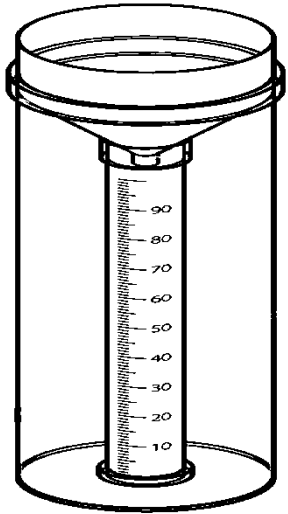
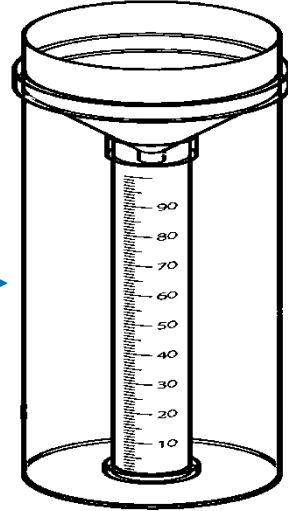
الأداة ٢ :

الأداة ٣ :

الأداة ٤ :


اعداد المعلمة : مريم مرتضى دشتي

قم بتوقع كمية الأمطار في الصور
التالية :



اعداد المعلمة : مريم مرتضى دشتي

قم بتوقع درجة الحرارة في كل
من الصور التالية :



درجة الحرارة :




درجة الحرارة :

اعداد المعلمة : مريم مرتضى دشتي

قم بتوقع اتجاه الريح :



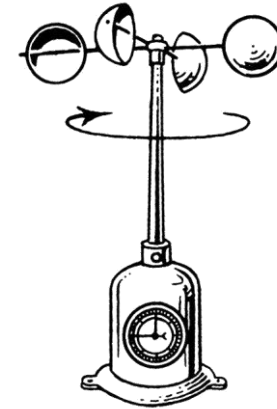
حوظ الاجابة



(باتجاه اليسار - باتجاه اليمين)

اعداد المعلمة : مريم مرتضى دشتي

قم بتوقع سرعة الرياح :



حوظ : (سريعة - بطيئة)

اعداد المعلمة : مريم مرتضى دشتي