

2021م

للتوصيل

60431360



مذكرات

الصفوة

إختيارك الأول

الخامس

الصف

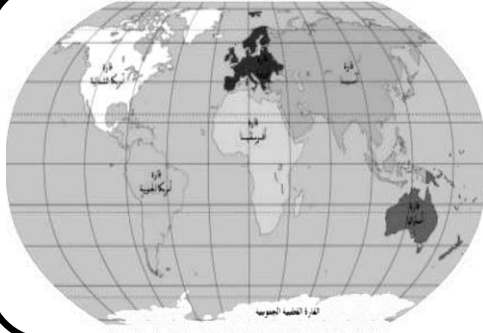
اجتماعيات

العامة

سلسلة مذكرات الصفوة لجميع المراحل

الوحدة الأولى: بلاي الكويت

الدرس الأول: سطح الكرة الأرضية



تتكون الكرة الأرضية من يابسة وماء، وتغطي المياه حوالي 70% من سطح الكرة الأرضية وتوجد على شكل مسطحات مائية، وتمثل اليابسة حوالي 30% من مساحة الأرض.



• اذكر مكونات سطح الكرة الأرضية

– اليابس (30%) – المياه (70%)

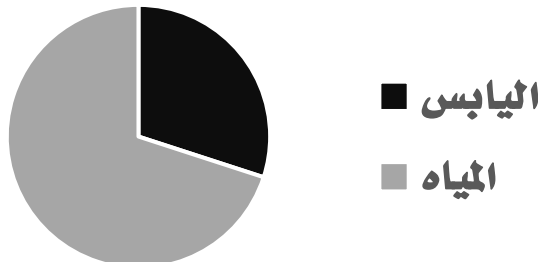
• أكمل العبارات التالية بما يناسبها مما درست:

1. نسبة اليابس من إجمالي مساحة الكرة الأرضية يقدر بنحو ((30)) %
2. نسبة المسطحات المائية من إجمالي مساحة الكرة الأرضية يقدر بنحو ((70)) %
3. يرمز اللون الأصفر على الخريطة إلى ((اليابس))
4. يرمز اللون الأزرق على الخريطة إلى ((المياه))

• ضع علامة (✓) للعبارات الصحيحة وعلامة (X) للعبارات غير الصحيحة وذلك بين القوسين :

1. تبلغ نسبة اليابسة من سطح الكرة الأرضية 70% (X)
2. مساحة المياه على سطح الكرة الأرضية أكبر من مساحة اليابس (✓)

• مثل نسبة المياه ونسبة اليابسة على سطح الكرة الأرضية في الشكل التالي:



المسطحات المائية

• عرف المفاهيم التالية:

- ((المحيط)): مسطح كبير جداً من الماء المالح .
- ((البحر)): مسطح مائي أصغر من المحيط يفصل بين القارات .
- ((الخليج)): بحر ضيق يمتد طويلاً بين اليابس .

توزيع المسطحات المائية على سطح الكرة الأرضية		
الخلجان	البحار	المحيطات
- الخليج العربي .	- البحر الاحمر	- المحيط المتجمد الشمالي
- خليج عدن .	- البحر المتوسط	- المحيط المتجمد الجنوبي
- خليج عمان .	- بحر العرب .	- المحيط الأطلسي .

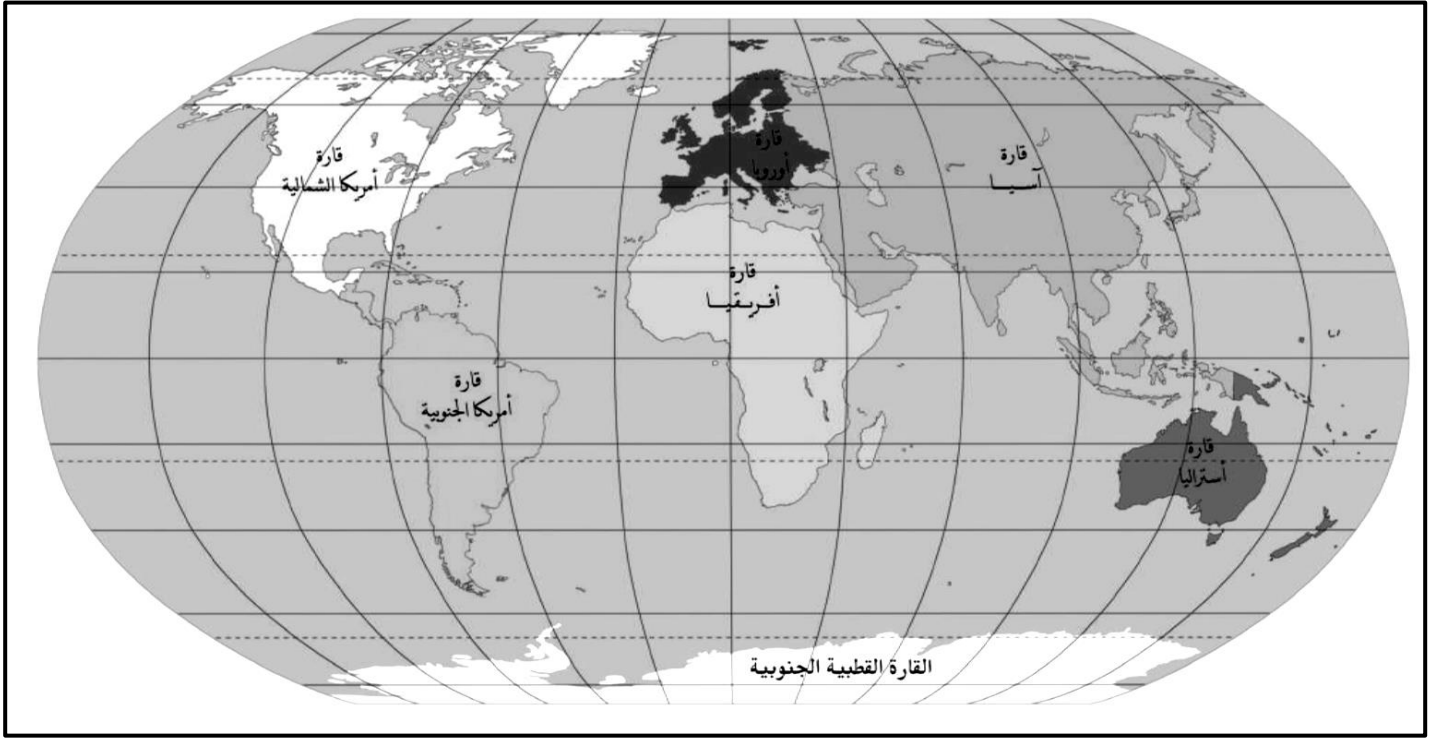
• علل لما يلي :• تكرار اسم المحيط الهادي على خريطة العالم أكثر من مرة.

- لأن الأرض كروية الشكل .

• أكمل العبارات التالية بما يناسبها مما درست:

1. تطل بلاوي الكويت على مسطح مائي يسمى ((الخليج العربي))
2. مسطح مائي أصغر من المحيط يفصل بين القارات يسمى ((البحر))
3. يبلغ عدد المحيطات في العالم ((خمسة)) محيطات
4. مسطح كبير جداً من الماء المالح يسمى ((المحيط))
5. المحيط الذي تكرر اسمه أكثر من مرة على خريطة العالمي يسمى ((المحيط الهادي))
6. بحر ضيق يمتد طويلاً بين اليابس يسمى ((الخليج))

القارات

**عرف المفاهيم التالية:**

((القارة)) هي مساحة كبيرة من اليابسة يحيط بها الماء.

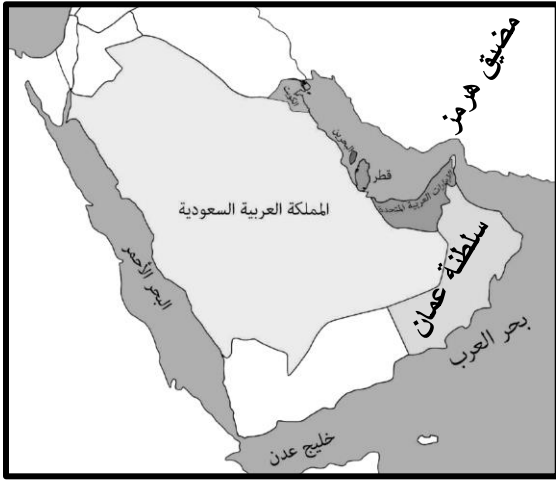
اذكر أسماء قارات العالم السبع

– آسيا – أوروبا – أفريقيا – أمريكا الشمالية
– أمريكا الجنوبية – أستراليا – القارة القطبية الجنوبية

أكمل العبارات التالية بما يناسبها مما درست:

1. أكبر قارات العالم وأكثرها سكاناً تسمى ((آسيا))
2. القارة التي تقع فيها بلادي الكويت تسمى ((آسيا))
3. القارة غير المأهولة بالسكان اسمها ((القارة القطبية الجنوبية))
4. أصغر قارات العالم من حيث المساحة اسمها ((أستراليا))
5. عدد قارات العالم يقدر بنحو ((سبع)) قارات

الدرس الثاني: بلدي الكويت ودول الخليج العربية



دول الخليج العربية		
سلطنة عمان	دولة قطر	بلدي الكويت
المملكة العربية السعودية	دولة الامارات العربية	مملكة البحرين

• عرف المفاهيم التالية:

((الضيق)): منفذ أو ممر ضيق من الماء يفصل بين مسطحين مائيين.

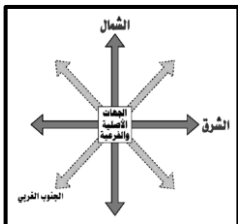
• علل لما يلي :• تسمية دول الخليج العربية بهذا الاسم.

- لأنها تطل على مسطح مائي يسمى الخليج العربي.

دول خليجية تطل على منفذ واحد	دول خليجية تطل على أكثر من منفذ
الكويت - قطر - البحرين - الامارات	سلطنة عمان - المملكة العربية السعودية

• أكمل العبارات التالية بما يناسبها مما درست:

- المسطح المائي الذي تطل عليه جميع دول الخليج العربية يسمى ((الخليج العربي))
- تقع بلادي الكويت بالنسبة لشبه الجزيرة العربية في جهة ((الشمال الشرقي))
- تطل جميع دول الخليج العربية بالنسبة للخليج العربي على جهة ((الغرب))
- منفذ أو ممر ضيق من الماء يفصل بين مسطحين مائيين يسمى ((المضيق))
- عدد دول الخليج العربية يقدر بنحو ((ست)) دول
- الشكل المقابل يرمز إلى ((الجهات الأصلية والفرعية))

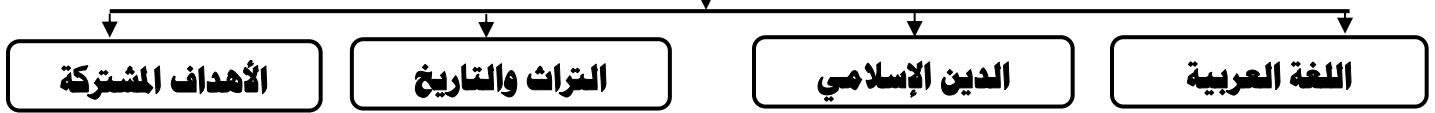


الدرس الثالث: بلادي الكويت ودول الوطن العربي



أن الوطن العربي يضم مجموعة من الدول تجمعها سمات مشتركة مثل (الدين واللغة العربية والتراث والتاريخ والأهداف المشتركة) ويقع في وسط العالم ويمتد بين قارتي آسيا وأفريقيا، وتقع بلادي الكويت في الجهة الشرقية من الوطن العربي .

السمات المشتركة بين دول الوطن العربي



• عدد أهمية موقع الوطن العربي.

– يطل الوطن العربي على العديد من المسطحات المائية.

– ويشرف على العديد من المضائق المائية.

• ما هي القارات التي يقع فيها الوطن العربي.

– قارة آسيا.

– قارة أفريقيا.

• أكمل العبارات التالية بما يناسبها مما درست :

1. تقع بلادي الكويت بالنسبة للوطن العربي في الجهة ((الشرقية))

2. عدد الدول العربية يقدر بنحو ((22)) دولة

• ضع علامة (✓) للعبارات الصحيحة وعلامة (X) للعبارات غير الصحيحة وذلك بين القوسين :

(✓)

1. يقع الوطن العربي في وسط العالم

(✓)

2. يمتد الوطن العربي بين قارتي آسيا وأفريقيا

• **عرف المفاهيم التالية:**

((**القناة**)): ممر مائي صناعي يشق للربط ما بين مسطحين مائيين .

المضايق البحرية التي يشرف عليها الوطن العربي

مضيق جبل طارق

مضيق باب المندب

مضيق هرمز

• **ما هي المحيطات التي يطل عليها الوطن العربي .**

– المحيط الهندي. – المحيط الهادي.

• **ما هي البحار التي يطل عليها الوطن العربي .**

– البحر الاحمر. – البحر المتوسط. – بحر العرب.

دول الوطن العربي في قارة أفريقيا	دول الوطن العربي في قارة آسيا
– ليبيا	– الكويت
– السودان	– قطر
– مصر	– البحرين
– تونس	– سلطنة عمان
– الجزائر	– السعودية
– المغرب	– العراق
– موريتانيا	– سوريا
– الصومال	– فلسطين
– جيبوتي	– لبنان
– جزر القمر	– الأردن

• **أكمل العبارات التالية بما يناسبها مما درست:**

1. ممر مائي صناعي يشق للربط ما بين مسطحين مائيين يسمى ((**القناة**))

2. الدولة العربية التي يوجد بها قناة السويس تسمى ((**مصر**))

3. بحر يفصل الجناح العربي الآسيوي عن الجناح العربي الأفريقي يسمى ((**البحر الأحمر**))

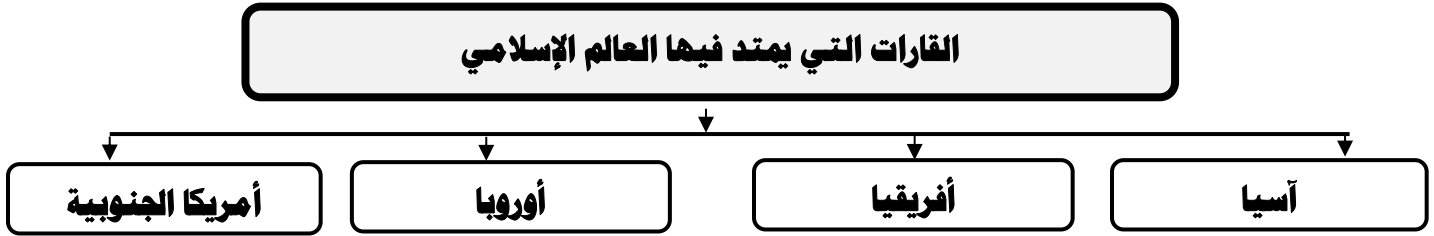
الدرس الرابع: بلادِي الكويت ودول العالم الإسلامي

يحتل العالم الإسلامي موقعاً وسطاً بالنسبة إلى العالم ويشغل مساحة واسعة شبه متصلة من اليابسة، تمتد في أربع قارات هي آسيا، أفريقيا، أوروبا، أمريكا الجنوبية. مما، أكسبه العديد من المزايا.



• عرف المفاهيم التالية:

((العالم الإسلامي)): مجموعة من الدول التي يكون فيها عدد المسلمين 50% فأكثر من مجموع السكان.



• أهمية موقع العالم الإسلامي.

– يحتل العالم الإسلامي موقعاً وسطاً بالنسبة للعالم.

• عدد مميزات العالم الإسلامي.

– يمثل سكان العالم الإسلامي ربع سكان العالم.

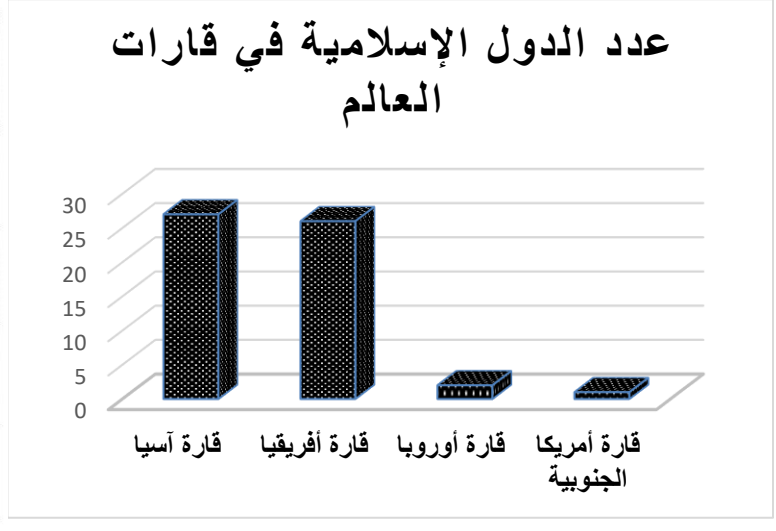
– تمثل مساحة العالم الإسلامي ربع مساحة العالم.

– يطل على 18 بحراً، ويشرف على 3 محيطات.

– كثرة الموارد الطبيعية.

• **حول بيانات الجدول إلى أعمدة بيانية.**

عدد الدول الإسلامية في قارات العالم	
٢	أوروبا
٢٧	آسيا
٢٦	أفريقيا
١	أمريكا الجنوبية

• **أكمل العبارات التالية بما يناسبها مما درست:**

1. القارة التي يوجد بها أقل عدد من دول العالم الإسلامي تسمى ((**أمريكا الجنوبية**))
1. القارة التي يوجد بها أكبر عدد من دول العالم الإسلامي تسمى ((**آسيا**))
2. القارة التي يوجد فيها دولة إسلامية وحيدة تسمى ((**أمريكا الجنوبية**))
3. حجم المسلمين في العالم الإسلامي من إجمالي سكان العالم حوالي ((**الربيع**))
4. مساحة العالم الإسلامي من إجمالي مساحة العالم حوالي ((**الربيع**))
5. عدد البحار التي يطل عليها العالم الإسلامي تقدر بنحو ((**18**)) بحراً
6. عدد المحيطات التي يشرف عليها العالم الإسلامي تقدر بنحو ((**ثلاث**)) محيطات
7. عدد الدول الإسلامية في قارة أوروبا يقدر بنحو ((**دولتين**))

• **ضع علامة (✓) للعبارات الصحيحة وعلامة (✗) للعبارات غير الصحيحة وذلك بين القوسين :**

1. تقع بلادي الكويت في وسط العالم الإسلامي (✓)
2. الدول الإسلامية هي التي يمثل فيها عدد المسلمين 40% من إجمالي السكان (✗)
3. يمتد العالم الإسلامي في أربع قارات ليس منهم أمريكا الجنوبية (✗)
4. يحتل العالم الإسلامي بالنسبة للعالم موقعاً متوسطاً (✓)