



وزارة
مكتب الوكيل المساعد
التربية
للتعليم العام



تصويح

الفترة الدراسية الأولى

إجابية

العام الدراسي : 2017 / 2018 م



وزارة التربية
التوجيه الفني العام للاجتماعيات

نموذج إجابة

امتحان نهاية الفترة الدراسية الأولى
مادة / تاريخ الكويت
الصف العاشر

العام الدراسي
2018 / 2017 م
الزمن / ساعتان وربع
عدد الصفحات (5)



• أجب عن ثلاث أسئلة مما يلي على أن يكون السؤال الأول منها (إجباري) :

السؤال الأول (إجباري) ويتكون من (أ - ب - ج - د) (لكل نقطة نصف درجة)

(أ) أكمل العبارات التالية بما يناسبها فيما درست :

1. الشيخ الذي تم في عهده أول تعداد للسكان في دولة الكويت يسمى عبد الله السالم الصباح . ص 24
2. المعركة التي وقعت بين المسلمين والفرس عام 12 هجرية على أرض الكويت تسمى ذات السلاسل /
كاظمة ص 37

3. نسبة المساحة التي تشغلها جزيرة بوبيان من إجمالي مساحة الكويت تبلغ 5 % ص 21

4. العام الذي وقعت دولة الكويت إتفاقية حماية مع بريطانيا 1899م ص 60

(ب) ضع خطا تحت الخيار الصحيح من بين الخيارات التي تلي كل عبارة :

1. سهل يمتد من جون الكويت باتجاه الجنوب موازيا لخط الساحل : ص 21

(الدبدبه - واره - الروضتين - برقان)

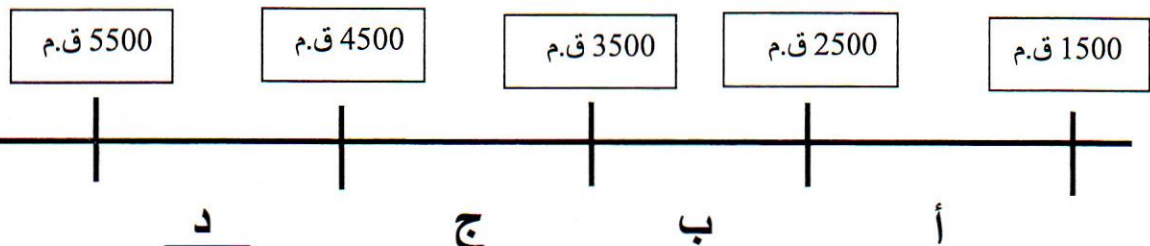
2. طريق الحرير أحد أهم طرق التجارة الدولية في العالم القديم ويبدأ من دولة : ص 26

(الصين - الهند - اندونيسيا - عمان)

3. الشهر الذي يبدأ به موسم المطر في دولة الكويت : ص 31

(سبتمبر - أكتوبر - نوفمبر - ديسمبر)

4. حضارة العبيد على المخطط السهمي يمثلها الحرف : ص 35

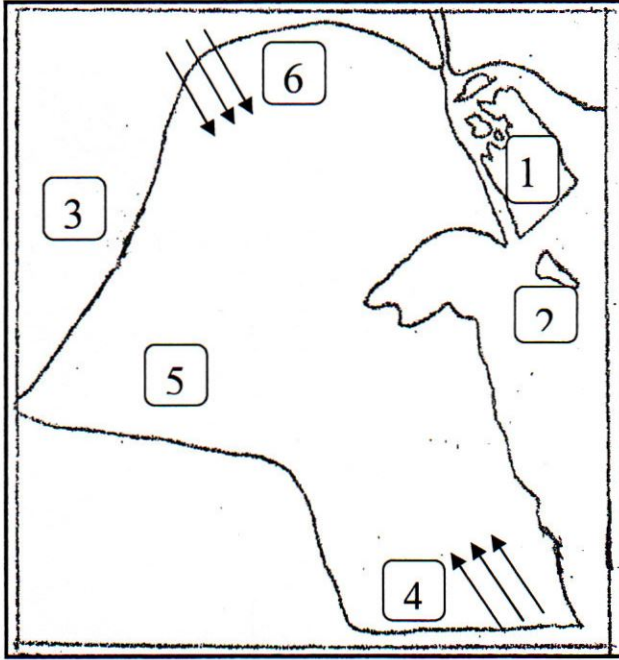


تابع / السؤال الأول الإجابري :

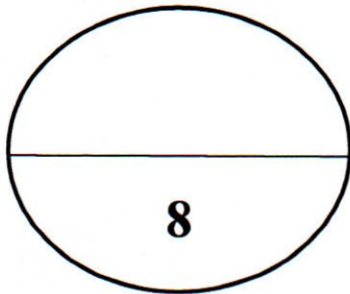
(ج) أكتب المفاهيم أو المصطلحات الدالة على العبارات التالية :

- 1- (السموم) رياح جافة جدا تهب من الشمال أو الشمال الشرقي في فصل الصيف .ص 23
- 2- (القلاف) يقوم بعملية إعداد المواد اللازمة للصناعة ثم عملية بناء السفينة نفسها .ص 27
- 3- (العدل) أكياس كبيرة لحفظ بعض أنواع الطعام توضع في ظهر الدابة . ص 34
- 4- (الصخين) أداة تستخدم للحفر والجدوم والهييب والمنقاش والسكاكين والسلاسل والدوه . ص 33

(د) أمامك خريطة دولة الكويت الصماء أكتب الرقم الدال على العبارات التالية :



- 1- دولة العراق يمثلها الرقم (3) ص 19
- 2- الجزيرة الكويتية التي كانت مأهولة بالسكان قبل عام 1990 يمثلها الرقم (2) ص 22
- 3- سهل الدببة يمثله الرقم (5) ص 21
- 4- رياح الكوس يمثلها الرقم (4) ص 23



التحميد من



q8-online.com

مدرستي الكويتية

السؤال الثاني (اختياري) ويتكون من (أ - ب - ج)

4 درجات

(أ) علل لما يلي :

- 1- اختيار الشيخ صباح بن جابر للحكم . ص 46
 - سماته الشخصية من شجاعة و حكمة .
 - كانت الزعامة لوالده على قومه منذ أن كانوا بنجد .
 - طوال أيام العام مقيما بالكويت وعمله في البر خلافا للبقية كانوا يعملون في البحر .
- 2- تعرض التواجد البرتغالي في منطقة الخليج العربية للانهايار التدريجي . ص 58
 - المنافسة التجارية بينه وبين الهولنديون والانجليز .
 - جهود اليعاربة في عمان التي ساهمت في تصفية الوجود البرتغالي وطردهم من المنطقة .
 - وقوع البرتغال نفسها تحت الاحتلال الاسباني .

4 درجات

(ب) فرق بين كل مما يلي :

القفال ص 29	الدشة ص 29
إنتهاء موسم الغوص	دخول البحر
القفاص ص 33	النداف ص 33
يستخدم العاملین بها جريد النخيل حيث يشبك ببعض وذلك بثقبه وإدخال أطرافه في الثقوب وحيث يقوم العامل بهذه الحرفة يصنع أشكال مختلفة من الأقفاص والمنز بالإضافة إلي الأسرة للكبار و الرک	يقوم النداف بتنجيد وصناعة المساند والفرش مستخدما القطن



درجتان

(ج) فند العبارات التالية :

- 1- استمر وضع السكان في الكويت دون تغير عام 1990 م . ص 24
 - تعرض وضع السكان لتغييرات كبيرة نتيجة للاحتلال العراقي للكويت وما تبع ذلك من عودة الوافدين إلى أوطانهم .
- 2- استمر التفوق الهولندي في منطقة الخليج العربية طويلا . ص 58
 - لم يستمر طويلا بسبب التنافس الانجليزي الهولندي الذي قضى على آمالهم في النهاية .

السؤال الثالث (اختياري) ويتكون من (أ - ب - ج)

درجتان

(أ) عرف المفاهيم التالية :

1. ترانزيت : إعادة تصدير الواردات . ص 30

2. سرايات : أمطار شديدة تسقط في أواخر الربيع وبداية الصيف . ص 23

6 درجات

(ب) نفذ المطلوب مابين القوسين :

1- ازدهار صناعة السفن في الكويت قديما . (العوامل) يكتفى بنقطتين ص 27

- هبوب الرياح الموسمية على منطقة الخليج العربي ساعدت على دفع السفن نحو شواطئ الهند وشرق آسيا .

- توفر الأيدي العاملة لصناعة السفن .

- تمتع الكويت بواجهة بحرية طويلة يتخللها العديد من التعرجات ووجود النقع والعمائر الساحلية (مخازن المواد المستخدمة في صناعة السفن) .

- براعة الأساتذة والقلاليف .

- توفر مصادر المواد المستخدمة في صناعة السفن

2- عهد الشيخ عبد الله الأول . (الأحداث) يكتفى بنقطتين ص 49

- معركة الرقة بين الكويت وبنو كعب 1783 م .

- بناء سور الكويت الأول عام 1811 م .

3- النمو التجاري والاقتصادي للكويت تحت حكم آل صباح . (القرارات) يكتفى بنقطتين ص 52

- قلة الضرائب علي البضائع القادمة للكويت .

- تشجيع بناء سفن الغوص وتأمين طرق التجارة المارة عبر أراضيها .

- اجتذاب الوكالات التجارية فانتقلت الوكالة البريطانية للكويت مرتين عامي 1793م / 1821م .

- لعب التجار الكويتيون دور الوسيط التجاريين مما ساعد على بناء علاقات تجارية مع دول الجوار .

(ج) أكتب فقرة مترابطة من ثلاث اسطر مستعينا بالكلمات التالية : ص 61 درجتان

(الكويت - دولة عثمانية - مدحت باشا - الإحصاء) (مايراه المصحح صحيح)

كانت العلاقة الكويتية - العثمانية علاقة أسمية قائمة علي الولاء الديني لأن الدولة العثمانية هي

دولة الخلافة و ساعدت الكويت للدولة العثمانية في حمله مدحت باشا عام ١٨٧١م لإعادة

سيطرتها على إقليم الإحصاء كانت سبباً لتلطيف الأجواء بينهما .

السؤال الرابع (اختياري) ويتكون من (أ - ب - ج)
(أ) أقرأ الفقرة التالية ثم أجب عما يليها من أسئلة :

سكن الكويت قبل نزول العتوب قليل من البدو وصيادي الأسماك ومارسوا مجموعة من الأنشطة البحرية مثل صيد الأسماك وصناعة السفن والغوص على اللؤلؤة التجارية .

1- عرف ما تحته خط ص 46 درجة واحدة

العتوب : أسر ترجع في أصولها إلى عدة قبائل أبرزها قبيلة عنزة وموطنهم الأصلي نجد من منطقة الهدار

2- علل تسمية الكويت بهذا الاسم . ص 46 درجة واحدة

- تصغير لكلمة " كوت " والكلمة تعني القلعة أو الحصن

2- عدد الأنشطة البحرية في الكويت قديما ص 26 درجة واحدة

*صيد السمك * الغوص عن اللؤلؤ * صناعة السفن * التجارة البحرية

(ب) برهن على صحة العبارات التالية : 4 درجات

1- تتعد مظاهر اعتزاز الكويت بتراثها البحري . ص 28

- اتخذت صورة سفينة البوم الكويتي لتكون شعارا للدولة وكذلك العملة الوطنية .

- غالبا ما تزين المؤسسات بصور ومشاهد تعبر عن عمق ارتباط الكويت بتراثها البحري .

2- نجاح الكويتيين في التكيف مع البيئة قديما وامتهان الزراعة . ص 31

- زراعة النباتات التي تتلاءم مع البيئة .

- استغلوا مياه الأمطار القليلة .

- استخدموا مياه الآبار السطحية المتوفرة .

- قاموا بزراعة بعض الخضروات مثل الطماطم والبطاطس وغيرها .

(ج) علل لما يلي : 3 درجات

1- اشتهر الشيخ جابر الأول بجابر العيش . ص 50

- لكرمه و لكثرة ما يتصدق به على الفقراء .

2- تراجع الشيخ صباح الثاني عن قرار فرض الضرائب . ص 50

- رفض التجار و احتراما لرغبة أبناء شعبه .

3- اختفاء مهنة الغوص عن اللؤلؤ . ص 29

- بسبب ظهور اللؤلؤ الصناعي علم 1928 م بالإضافة لظهور النفط .

انتهت الاجابة ،،،

