

نموذج اختبار نهاية الفصل الدراسي الأول

أجب عن ثلاثة أسئلة فقط مما يلي على أن يكون السؤال الأول واحداً منها (إجباري).

السؤال الأول: (إجباري) ويتكون من [أ - ب - ج - د].

(أ) أكمل العبارات التالية بالكلمة المناسبة:



١. سطح الكويت ينحدر تدريجياً من الغرب إلى الشرق باتجاه سواحل
٢. الجزر الكويتية غير مأهولة بالسكان ما عدا جزيرة
٣. أول تعداد رسمي موثق للسكان في دولة الكويت ١٩٥٧ م في عهد الحاكم
٤. أقدم الآثار التاريخية في جزيرة فيلكا ترجع إلى الحضارة

(ب) ضع المصطلح المناسب أمام العبارات التالية:

١. (.....) رياح تهب طوال العام جافة وتتأثر بالمنخفض الجوي فوق سيبيريا شمال آسيا
٢. (.....) منابت المحار المحتوي على اللؤلؤ في قاع الخليج العربي.
٣. (.....) أسر ترجع أصولها إلى قبيلة (عنزة) وموطنهم الأصلي منطقة الهدار في نجد.
٤. (.....) التجارة التي كانت تتم بين سكان الكويت وسكان مناطق البادية قديماً.

(ج) اختر الإجابة الصحيحة بوضع خط تحت الكلمة الصحيحة:

- ١- ترجع أقدم الآثار التاريخية في جزيرة فيلكا إلى حضارة:

(أ) الفرعونية	(ب) الإغريقية [الهلنستية]	(ج) الرومانية	(د) الفارسية
---------------	-----------------------------	---------------	--------------
- ٢- المعركة التي تعتبر بوابة دخول الإسلام للعراق وإيران عام ١٢ هـ تسمى:

(أ) نهاوند	(ب) الجسر	(ج) أجنادين	(د) ذات السلاسل.
------------	-----------	-------------	------------------
- ٣- حاكم الكويت الذي الغي الرسوم التجارية احتراماً لرغبة شعبه:

(١) الشيخ صباح بن جابر	(ب) عبد الله بن صباح	(ج) محمد بن صباح	(د) جابر بن عبد الله.
------------------------	----------------------	------------------	-----------------------
- ٤- الكويت ساعدت الدولة العثمانية في حملة مدحت باشا علي إقليم الأحساء عام:

(أ) ١٨٩٩ م	(ب) ١٨٩٢ م	(ج) ١٨٧١ م	(د) ١٨٩٥ م
------------	------------	------------	------------

تابع السؤال الأول (إجباري).

(د) بالاستعانة بخريطة دولة الكويت الصماء :

أكمل الجمل التالية ثم ضع الرمز في مكانه الصحيح علي الخريطة:

١. أكبر الجزر الكويتية مساحة تسمى والرمز (+).
٢. تطل الكويت بسواحل طويلة علي مسطح مائي يسمى والرمز (=).
٣. الوادي الجاف الذي يمثل الحدود الغربية للكويت مع العراق يسمى والرمز (// // // //).
٤. الدولة التي تحد الكويت من جهة الجنوب تسمى والرمز (#).



السؤال الثاني: (اختياري) ويتكون من (أ - ب - ج) .

(أ) علل لما يأتي : (ثلاثة درجات)

(١) الأهمية التجارية والحضارية للخليج العربي قديماً؟

.....
.....

(٢) بم تفسر: ازدهار صناعة السفن في دولة الكويت قديماً؟

.....
.....

(٣) ازدهار ونمو الكويت تحت حكم أسرة آل الصباح؟

.....
.....

(ب) فرق بين كل من : (ثلاثة درجات)

المزاود	العدول
الرك	المنز
المناخ	الطقس

تابع السؤال الثاني:

(ج) أكتب النتائج المترتبة على الأحداث التالية: (درجتان).

١- ارتباط الكويت بنفوذ قبيلة بني خالد خلال النشأة الأولى.

.....

.....

٢- اختيار صباح بن جابر حاكماً للكويت ١٧٦٣ م.

.....

.....

(د) اجب عن الأسئلة التالية: (درجتان)

١- فند العبارة التالية:

(رفض الشيخ عبد الله بن صباح مساعدة العثمانيين في حملة مدحت باشا علي الأحساء ١٨٧١ م)

.....

.....

هـ (حرص حكام الكويت علي اتخاذ قرارات ذات ابعاد اقتصادية ساعدت علي النمو التجاري والاقتصادي

للكويت) في ضوء العبارة السابقة عدد القرارات .

.....

.....

السؤال الثالث: (اختياري) ويتكون من [أ - ب - ج] .

(أ) بم تفسر: (اربع درجات ٤×١)

١) علل: قلة عدد الوافدين في دولة الكويت بعد عام ١٩٩٠م؟.

٢) هجرة العتوب من اقليم الهدار بنجد الي قطر (الهجرة الأولى)؟.

٣) اهمية ظهور الكويت ككيان سياسي في القرن السابع عشر الميلادي؟

٤) انهيار إمبراطورية البرتغال الاستعمارية تدريجيا؟

(ج) (أصدر مدحت باشا والي بغداد العثماني فرمانا (قرارا) تناول فيه بشكل موسع بعض الجوانب التي تتعلق بوضع الكويت).

أذكر الأسس التي حددها الفرمان الذي أصدره مدحت باشا والي بغداد العثماني الخاص بالكويت.

(ب) [تقع دولة الكويت في النطاق الصحراوي الجاف حيث يمتاز بارتفاع درجات الحرارة أكثر أيام السنة وبوجود فصلين رئيسيين (الشتاء والصيف) وفصلين ثانويين لا يكادان يلاحظان (الخريف والربيع). (اربع درجات)

في ضوء العبارة السابقة أجب عن الأسئلة التالية

١) كيف تغلب أهل الكويت علي الظروف المناخية القاسية؟.

٢) بم تفسر: لعب المناخ دوراً هاماً في اتجاه سكان الكويت قديماً إلى العمل في النشاط البحري؟.

٣) بم تفسر: صفت الكويت ضمن المناطق الصحراوية؟.

٤) فرق بتن كل مما يلي:

الكوس	السرايات

السؤال الرابع: (اختياري) ويتكون من (أ - ب - ج - د).

(لعب البرتغاليون والهولنديون دوراً مهماً في تاريخ الاستعمار الأوربي للخليج العربي، إذ أدركوا مبكراً أهميته في مطلع القرن السادس عشر) في ضوء العبارة السابقة أجب عن الأسئلة التالية: (اربع درجات)

١- بم تفسر: الاستعمار الأوربي لمنطقة الخليج العربي في العصور الحديثة؟.

٢- لماذا يعتبر الاستعمار البرتغالي من أسوأ النظم الاستعمارية في منطقة الخليج العربي؟.

٣- أذكر الأساليب التي اتبعتها هولندا في تأسيس وإدارة الإمبراطورية الاستعمارية.

٤- وضح سياسة بريطانيا في منطقة الخليج العربية بعد انهيار النفوذ الهولندي بالمنطقة؟.

تابع (السؤال الرابع) (ب) علل لما يأتي :

١. كانت الكويت من المراكز التجارية الدولية الهامة؟

٢. تمثل آثار منطقة الصبية قيمة أثرية كبيرة؟

٣. أهمية قوة اليعاربة في منطقة الخليج اواخر القرن السادس عشر؟

(ج) عرف ما يلي (درجة)

١- وادي الباطن.....

٢- طريق الحرير البحري:

(د) فرق بين كل ما يلي: (درجتان)

القفال	الأساذ
القفال	الدشة

العام الدراسي ٢٠١٦ / ٢٠١٧ م

الإدارة العامة لمنطقة العاصمة التعليمية

الفصل الدراسي الأول

ثانوية أحمد العدواني للبنين

تاريخ الكويت - الصف العاشر

قسم الاجتماعيات (التاريخ/الجغرافيا)

اختبار نهاية الفصل الدراسي الأول

أجب عن الأسئلة التالية (اجباري).

السؤال الأول: ويتكون من [أ - ب - ج - د]. (ثمانية درجات للسؤال)

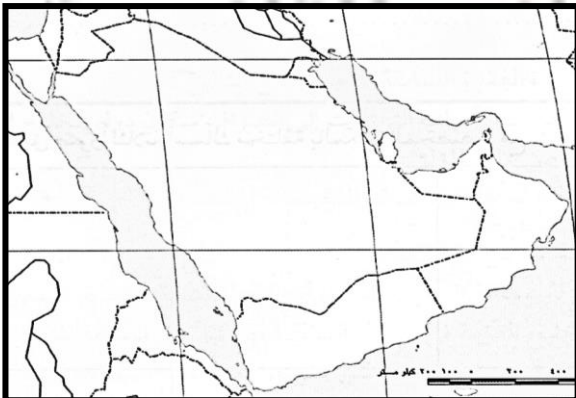
(أ) أكمل العبارات التالية بالكلمات المناسبة:

١. تبلغ مساحة دولة الكويت كم ٢.
٢. الجزر الكويتية غير مأهولة بالسكان ما عدا جزيرة تسمى
٣. بلغت نسبة الوافدين من إجمالي سكان الكويت حسب تعداد ١٩٩٠ م %.
٤. طريق الحرير البحري يبدأ من مدينة صينية تسمى

(ب) صحح الكلمات الخاطئة في الجمل التالية:

١. أول تعداد رسمي موثق لسكان الكويت عام ١٩٥٧ م في عهد الشيخ عبد الله السالم الصباح.
٢. يبدأ موسم الغوص بداية موسم الشتاء حيث تتجه السفن نحو الهيرات لجمع المحار.
٣. الهدف الرئيسي لحملة مدحت باشا والي بغداد العثماني السيطرة على إقليم الحجاز.
٤. بريطانيا أول دولة أوربية استعمارية في منطقة الخليج العربية.

(ج) علي الخريطة الصماء ضع الرموز في مكانها الصحيح :



١. البحر الأحمر والرمز (+).
٢. خليج عمان والرمز (\$) .
٣. بحر العرب والرمز (%) .
٤. المملكة العربية السعودية والرمز (٢) .

تابع السؤال الأول.

(د) اختر من القائمة (ب) ما يناسب القائمة (أ) بوضع الرقم في المكان المناسب:

م	القائمة (أ) الحكام	الرقم المناسب	القائمة (ب) الإنجازات
١	عبد الله بن صباح		شارك بأسطول بحري قاده بنفسه وجيش بري بقيادة أخيه مبارك في حملة مدحت باشا العثمانية علي إقليم الأحساء
٢	صباح بن جابر (صباح الثاني)		أول حاكم للكويت ١٧٦٣م.
٣	عبد الله بن صباح (عبد الله الثاني)		وقعت معركة الرقة البحرية بين الكويت وبنو كعب ١٧٨٣م.
٤	صباح بن جابر (صباح الأول)		زيارة المعتمد البريطاني (لويس بيلي) للكويت ١٨٦٥م.

السؤال الثاني: (يتكون من أ - ب - ج) [سبعة درجات للسؤال]

(أ) قارن بين فصلي الصيف والشتاء في دولة الكويت مستكماً بالجدول التالي: (درجتان)

أوجه المقارنة	فصل الصيف	فصل الشتاء
درجة الحرارة		
الأمطار		

(ب) علل لما يأتي: (اربع درجات)

١. أدى تنوع النشاط الاقتصادي بالكويت قديماً في التأثير علي المجتمع الكويتي.

٢. لعب المناخ دور هاماً في اتجاه سكان الكويت قديماً إلي العمل في النشاط البحري.

تابع السؤال الثاني.

٣. برهنت آثار الصبية على انفصال حضارة العبيد عن بلاد الرافدين؟

.....
.....

٤. هجرة العتوب من اقليم الهدار بنجد الي قطر (الهجرة الأولى)؟

.....
.....

(ج) حرص حكام الكويت على اتخاذ قرارات ذات ابعاد اقتصادية ساعدت علي النمو التجاري والاقتصادي

للكويت في ضوء العبارة السابقة أذكر نماذج لتلك القرارات. (درجة)

.....
.....

السؤال الثالث: (ويتكون من أ – ب – ج). [سبعة درجات للسؤال]

(أ) قارن بين الرياح الشمالية الغربية والرياح الجنوبية الشرقية مستكملاً الجدول التالي: (درجتان)

<u>الرياح الجنوبية الشرقية</u>	<u>الرياح الشمالية الغربية</u>	<u>أوجه المقارنة</u>
		<u>المميزات</u>
		<u>الآثار المناخية</u>

(ب) بم تفسر [أذكر السبب]: (اربع درجات)

١- ساعدت تضاريس الواجهة البحرية للكويت على ازدهار صناعة بناء السفن قديماً؟

.....
.....

٢- كانت الكويت من المراكز التجارية الدولية الهامة؟

.....
.....

تابع السؤال الثالث.

٣- عدم انتشار الزراعة في الكويت قديما؟

.....

.....

٤- ظهور الكويت ككيان سياسي في القرن السابع عشر الميلادي؟

.....

.....

👉 فرق بين كل مما يلي:

المرازييم	الشداخنة

السؤال الرابع: ويتكون من (أ- ب- ج). (ست درجات للسؤال)

(أ) أجب عن الأسئلة التالية: (ثلاثة درجات)

١- لماذا يعتبر حجم السوق الكويتي قديما صغيرا جدا؟

.....

.....

٢- أسباب عدم انتشار الزراعة في الكويت قديما.

.....

.....

٣- أذكر الأساليب التي اتعتها هولندا في تأسيس وإدارة الإمبراطورية الاستعمارية.

.....

.....

تابع السؤال الرابع.

(ج) دلل على صحة العبارات التالية: (درجتان)

١- كانت العلاقة الكويتية العثمانية علاقة أسمية قائمة على الولاء الديني فقط.

.....
.....

٢- اهمية الكويت بالنسبة لبريطانيا في نهاية القرن الثامن عشر الميلادي.

.....
.....

(ج) فرق بين المفاهيم التالية: (درجة)

<u>القفال:</u>	<u>الدشمة:</u>

العام الدراسي ٢٠١٦ / ٢٠١٧ م


الإدارة العامة لمنطقة العاصمة التعليمية

الفصل الدراسي الأول

ثانوية أحمد العدواني للبنين

تاريخ الكويت - الصف العاشر

قسم الاجتماعيات (التاريخ / الجغرافيا)



اختبار نهاية الفصل الدراسي الأول

أجب عن الأسئلة التالية : السؤال الأول: (إجباري) ويتكون من [أ- ب - ج - د] .

(أ) أكمل العبارات التالية بالكلمة المناسبة:

- ١ . الجزر الكويتية معظمها تقع في منطقة بحرية تسمى
- ٢ . رياح دائمة جافة تتأثر بالضغط المرتفع فوق سيبيريا وتخفض الحرارة صيفا تسمى.....
- ٣ . الجهة الحكومية التي قامت بإجراء تعداد السكان عام ١٩٥٧ م تسمى
- ٤ . حجر إيكاروس عثر عليه في منطقة أثرية تسمى

(ب) ضع المصطلح المناسب أمام العبارات التالية:

- ١ . (.....) الإقليم الذي يعد الموطن الأصلي لجماعات العتوب بنجد.
- ٢ . (.....) منابت المحار المحتوي على اللؤلؤ في قاع الخليج العربي.
- ٣ . (.....) الجهود التي قام بها الأوربيون في القرنين الخامس عشر والسادس عشر الميلادي للتعرف علي العالم الخارجي.
- ٤ . (.....) التجارة التي كانت تتم بين سكان الكويت وسكان مناطق البادية قديماً.

(ج) اختر من المجموعة [ب] ما يناسبها من المجموعة (أ) بوضع الرقم في المكان المناسب::

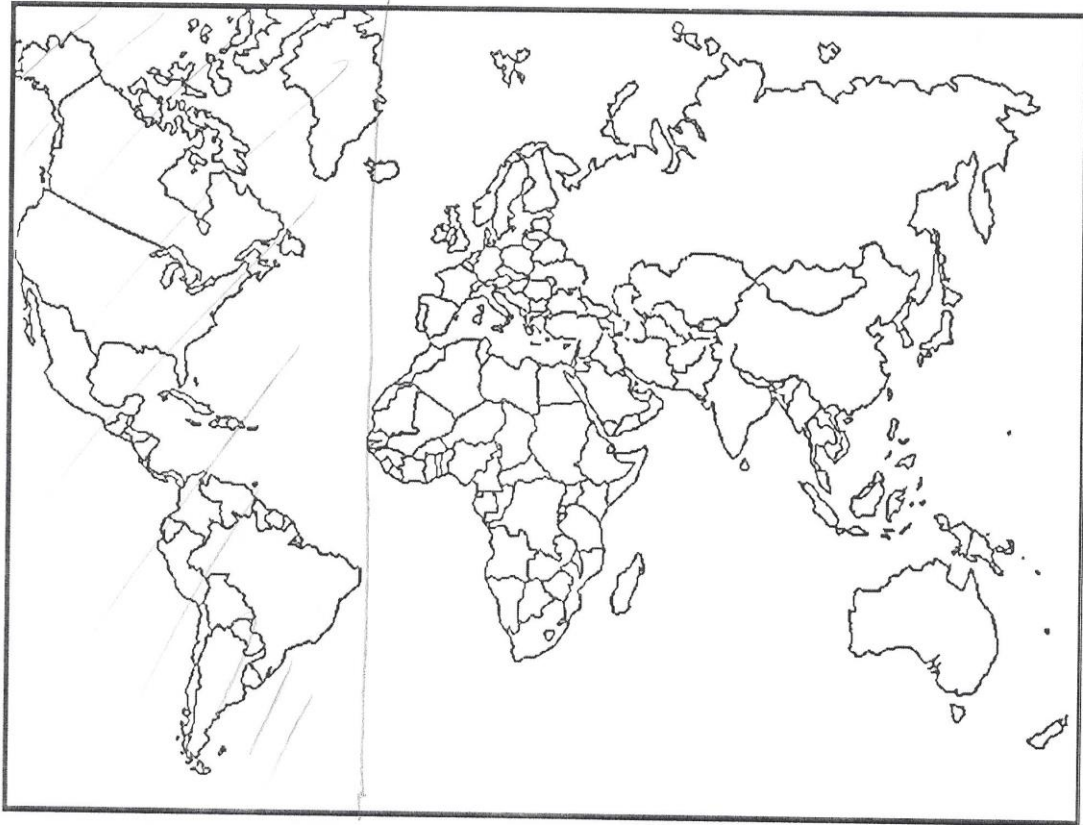
م	المجموعة (أ)	الرقم المناسب	المجموعة (ب)
١	الصفارة	()	حرفة تزاولها المرأة وتقوم بحياكة الصوف لصنع بيت الشعر.....
٢	الندافة	()	حرفة يدوية توفر مستلزمات البناء والمستلزمات المنزلية وتستخدم الأخشاب المستوردة من الهند وأفريقيا.
٣	النجارة	()	تنجيد وصناعة المساند والفرش مستخدماً القطن.
٤	غزل السدو	()	يستخدم العاملون الصفيح المعدنية لصنع المحقان والدوة والسطول

تابع السؤال الأول (إجباري).

(د) بالاستعانة بخريطة العالم السياسية:

أكمل الجمل التالية ثم ضع الرمز في مكانه الصحيح علي الخريطة:

١. الذراع البحري للمحيط الهندي في شبة جزيرة العرب والرمز (+).
٢. أولى الدول الأوربية في استعمار منطقة الخليج العربي والرمز (X)
٣. دولة تعد مركز للتوابل في شرق آسيا والرمز (#).
٤. الدولة التي وقعت اتفاقية الحماية مع الكويت ١٨٩٩م والرمز (=).



السؤال الثاني: ويتكون من (أ - ب - ج).

(أ) علل لما يأتي : (ثلاثة درجات)

١) أهمية قوة البعارة في منطقة الخليج او اخر القرن السادس عشر؟

.....
.....

٢) الاستعمار الأوربي لمنطقة الخليج العربي في العصور الحديثة؟

.....
.....

٣) ازدهار ونمو الكويت تحت حكم أسرة آل الصباح؟

.....
.....

(ب) فرق بين المفاهيم التالية : (ثلاثة درجات)

معركة الرقة البحرية ١٧٨٣ م	معركة ذات السلاسل ١٢ هـ
المــــزاود	العــــدول
المــــرازيــــم	الشــــداخــــة

حرص حكام الكويت علي اتخاذ قرارات ذات ابعاد اقتصادية ساعدت علي النمو التجاري والاقتصادي

للكويت) في ضوء العبارة السابقة أذكر نماذج لتلك القرارات. (درجة)

.....
.....

السؤال الثالث: (اختياري) ويتكون من [أ - ب - ج] .

(أ) أجب عن الأسئلة التالية (اربع درجات)

١. وضح أثر الموقع الفلكي على مناخ دولة الكويت؟

.....
.....

٢. الأهمية التجارية والحضارية للخليج العربي قديماً؟

.....
.....

٣. انتعاش حرفة صيد الأسماك في الكويت قبل ظهور النفط؟

.....
.....

٤. وضح مدى تأثير حرفة الغوص على أهل الكويت قديماً.

.....
.....

(ج) (أصدر مدحت باشا والي بغداد العثماني فرماناً (قراراً) تناول فيه بشكل موسع بعض الجوانب التي تتعلق بوضعية الكويت).

١- فرق بين السلبيات والإيجابيات المترتبة على صدور هذا فرمان. (درجتان)

الإيجابيات	السلبيات
.....
.....
.....
.....

٢- استفادت الكويت من الصراع بين القوى الإقليمية في بداية نشأتها الأولى (

كيف تفسر العبارة السابقة. . درجة)

.....
.....

(ب) [تقع دولة الكويت في النطاق الصحراوي الجاف حيث يمتاز بارتفاع درجات الحرارة أكثر أيام السنة وبوجود فصلين رئيسيين (الشتاء والصيف) وفصلين ثانويين لا يكادان يلاحظان (الخريف والربيع) . (اربع درجات)

(١) كيف تغلب أهل الكويت على الظروف المناخية القاسية؟

.....
.....

تابع السؤال الثالث:

(٢) بم تفسر: لعب المناخ دورا هاما في اتجاه سكان الكويت قديما إلى العمل في النشاط البحري؟

.....
.....

(٣) لماذا صنف الكويت ضمن المناطق الصحراوية؟

.....
.....

السؤال الرابع: (اختياري) ويتكون من (أ - ب - ج) .

(أ) علل لما يأتي : (ثلاثة درجات)

١- انتعاش حرفة صيد السمك في الكويت قبل ظهور النفط؟

.....
.....

٢- تمثل آثار منطقة الصبية قيمة أثرية كبيرة؟

.....
.....

٣- اهمية قوة العاربة في منطقة الخليج اواخر القرن السادس عشر؟

.....
.....

(ج) عرف المفاهيم التالية: (درجة)

١- وادى الباطن.....

.....

٢- طريق الحرير البحرى:.....

.....

.....

(د) فرق بدقة بين المفاهيم التالية: (درجتان)

القلاف	الأستاذ
القال	الدشة