



وزارة التربية

الإدارة العامة لمنطقة الأحمدية التعليمية

مريم حمد بودي الإبتدائية بنات

تدريبات الصف الثالث

اعداد المعلمة

حلا المطيري

رئيسة القسم

أشواق الدويرجي

مديرة المدرسة

أ.إيمان الشطي

الموجهة الفنية

أ.يساره العجمي

أوجدى الناتج:

$$993$$

$$524 +$$

$$202$$

$$429 +$$

$$= 20 - 48$$

مالفرق بين ١٦٨'٣٨٤

$$= 19 + 63$$

$$= 785 - 965$$

أوجدى العدد المجهول:

$$98 = \square + 20$$

$$38 = 18 + \square$$

$$= 3 \times 4$$

$$= 5 \times 2$$

$$= 1 \times 7$$

$$= 4 \times 2$$

$$= 3 \times 5$$

$$= 2 \times 2$$

مضاعفات ٢ احادها أو أو أو

مضاعفات ٥ احادها أو

$$= 2 \times 4$$

$$= 9 \times 5$$

$$= 0 \times 7$$

$$= 6 \times 8$$

$$= 1 \times 8$$

أوجد الناتج:

$$= 7 + 4 \times 2$$

$$= 9 \times 1 - 20$$

العدد العدد ١٦ هو ضعف العدد.....

$$= 6 \div 18$$

$$= 3 \div 15$$

$$= 5 \div 20$$

$$= 2 \div 18$$

$$= 16 \div 16$$

اقسم ٢٤ على ٦

أكمل :

$$..... = 7 \div 28 \text{ لان }$$

$$..... = 2 \div 14 \text{ لان }$$

أقسم ٣٢ على ٨.....

أقسم ٧٢ على ٩.....

أوجدني العدد المجهول:

$$١٤ = \dots \times ٢$$

$$١٨ = \dots \times ٣$$


اقسم ٦٤ على ٨

كم سبعة في العدد ٦٣؟

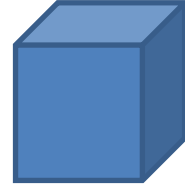
حصل عثمان على ٥٤ ديناراً حصيلة بيعة لست زجاجات
عطر من النوع نفسه

كم قيمة زجاجة العطر الواحدة؟


أكتب اسم كل مجسم:




.....



.....



.....




.....




.....

أكتبي عدد الأجزاء المتطابقة:



.....

.....



تمنياتنا لكم بالتوفيق