

السؤال الاول : اشطب لتطرح ثم اكتب الناتج



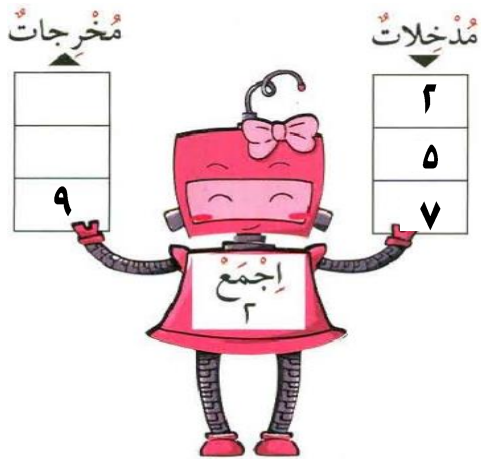
$$\underline{\quad} = 3 - 10$$

السؤال الثاني : استخدم خط الاعداد لايجاد الناتج



$$\underline{\quad} = 2 - 6$$

$$\underline{\quad} = 1 + 10$$




السؤال الثالث : اكمل



$$\underline{\quad} = \underline{\quad} + \underline{\quad}$$

السؤال الرابع : اختار الاجابة الصحيحة بوضع علامة ✓



عدد النحل المتبقية

1



5



7





السؤال الأول : اشطب لتطرح ثم اكتب الناتج

$$\begin{array}{r} \wedge \\ 4 - \\ \hline \square \end{array}$$



السؤال الثاني : أوجد الناتج

في الحديقة ٨ 


وَصَلَتْ ٤  أخرى.

كَمْ أَصْبَحَ عَدُّهَا الْآنَ؟

$$\begin{array}{r} \square \\ + \\ \square \\ + \\ \square \\ \hline \end{array}$$

السؤال الثالث : أوجد الناتج

$$\begin{array}{r} \square \\ 5 - \\ \hline 1 \end{array}$$

$$\begin{array}{r} 1 \\ 5 + \\ \hline \square \end{array}$$


السؤال الرابع : اختار الاجابة الصحيحة بوضع علامة (✓)




$5 = 5 + 0$



$6 = 5 + 1$



$7 = 5 + 2$



$2 = 2 - 4$



$2 = 4 - 6$



$0 = 6 - 6$

