






وزارة التربية
MINISTRY OF EDUCATION



تحت رعاية التوجيه العام للاجتماعيات
د. نادية العريفان

الموجه الفني الأول
أ. دلال محمد الأنصاري

التحميل من



مدرستي الكويتية

دليل الاجتماعيات الإلكتروني للمرحلة الثانوية

إعداد



- أ. محمد شبيب
أ. عبدالله الشطي
د. محمد أبو حشاد
أ. أبو الوفا السمان
أ. سعود المونس
- تاريخ الكويت/الصف العاشر
مبادئ علم الجغرافيا و الاقتصاد /الهادي عشر أدبي
التاريخ الإسلامي / الهادي عشر أدبي
قضايا البيئة والتنمية المعاصرة / الثاني عشر أدبي
تاريخ العالم الحديث والمعاصر / الثاني عشر أدبي

إشراك ومراجعة

أ. سعود المونس
رئيس قسم الاجتماعيات
أ. نادية ابن العميد
أ. حمد البحوه
الموجه الفني للاجتماعيات



دليل تاريخ الكويت الإلكتروني - المراجعة الفصل الدراسي الأول



تحت رعاية التوجيه الفني العام للاجتماعيات / د. نايه العريفان

وتوجيه الاجتماعيات في منطقة الفروانية التعليمية

الموجه الفني الأول للاجتماعيات / أ. دلال محمد الأنصاري

اعداد/ أ. محمد شبيب / معلم الاجتماعيات - مدرسة ابن العميد الثانوية بنين

اشراف ومراجعة/ أ. عهود المطيري الموجه الفني - أ. سعود المونس رئيس قسم الاجتماعيات

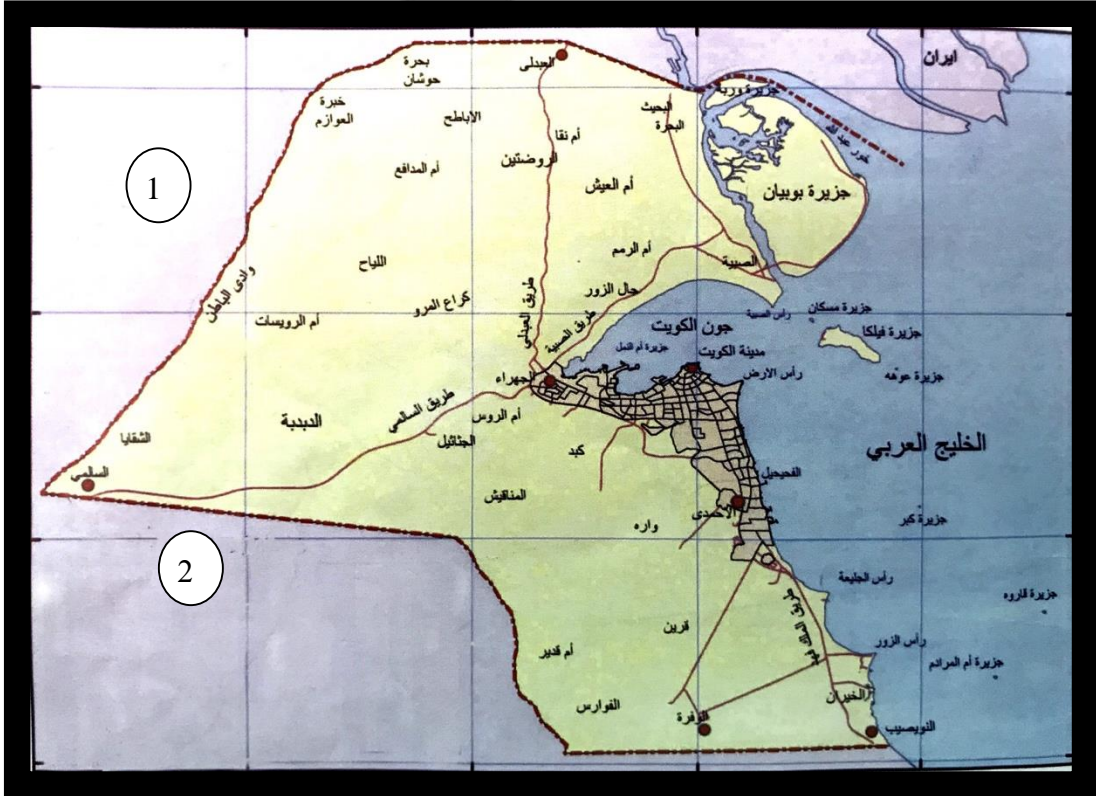
ملاحظة: هذا الدليل لا يغني عن الكتاب المدرسي وشرح المعلم.

ص 19-83

الفصل الأول: معالم الكويت الجغرافية والاقتصادية والحضارية.

السؤال الأول/ لاحظ الخرائط أمامك ثم أجب عما يليها:

تمرين رقم 1



ص 19

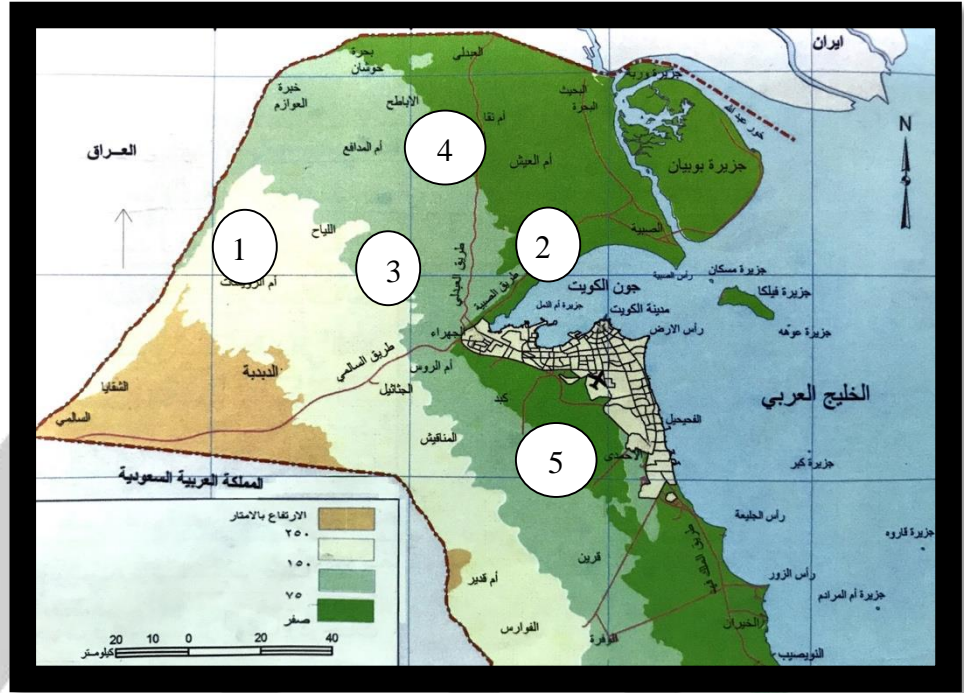
*دولة تحد دولة الكويت من جهة الشمال والشمال الغربي يمثلها الرقم 1 جمهورية العراق.

ص 19

*دولة تحد دولة الكويت من جهة الجنوب والجنوب الغربي يمثلها الرقم 2 المملكة العربية السعودية.



❖ تمرين رقم 2



ص20

*حافة جال الزور يمثلها الرقم 2.....

ص21

*تلال واره يمثلها الرقم 5.....

ص21

*سهل الروضتين يمثلها الرقم 4.....

ص21

*تلال كراع المرو يمثلها الرقم 3.....

ص21

*وادي الباطن يمثلها الرقم 1.....

WWW.Q84S.COM

❖ تمرين رقم 3

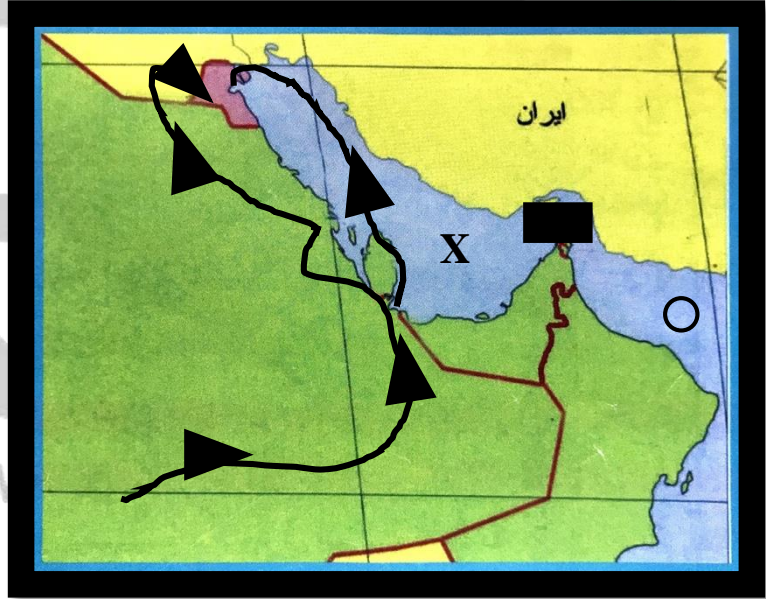
* جزيرة كويتية تمثل ما نسبته 5% من المساحة الإجمالية للإمارة يمثلها الرقم 1....
ص 21

* جزيرة كويتية شهدت تواجدًا سكانيًا إلى ما قبل الغزو العراقي الغاشم عام 1990م يمثلها الرقم 2....
ص 22

* رتب الجزر الكويتية من الشمال إلى الجنوب:

جزيرة وربة / جزيرة بوبيان / جزيرة مسكان / جزيرة فيلكا /
جزيرة أم النمل / جزيرة عوثة / جزيرة كبر / جزيرة قاروه /
جزيرة أم المرادم.
ص 22

❖ تمرين رقم 4



ص 25

السؤال الثاني/ عين على الخريطة الصماء ما يلي:

- * موقع الخليج العربي بالرمز X
- * موقع خليج عُمان بالرمز ○
- * مضيق هرمز بالرمز ■

ص 47

* هجرة العتوب من الهدار حتى استقرارهم في الكويت بالرمز ←

السؤال الثالث/ أكمل العبارات التالية:

- 1- يحد دولة الكويت من جهة الشمال والشمال الغربي دولة تسمى جمهورية العراق. ص19
- 2- يحد دولة الكويت من جهة الشرق مسطح مائي يسمى الخليج العربي. ص19
- 3- ينحدر سطح دولة الكويت انحدارًا تدريجيًا من جهة الغرب إلى الشرق. ص20
- 4- تبلغ مساحة دولة الكويت 17,818 كلم مربع. ص19
- 5- تمثل جزيرة بوبيان من المساحة الإجمالية لدولة الكويت ما نسبته 5%. ص21
- 6- جزيرة كويتية شهدت تواجدًا سكانيًا سابقًا وأصبحت غير مأهولة بالسكان بعد الغزو العراقي عام 1990م تسمى فيلكا. ص22

السؤال الرابع/ عرف المفاهيم التالية:

- أ-طريق الحرير: ص26
هو طريق تجاري مهم يبدأ من الصين وكان الأكثر استخداماً للتجارة الدولية في العالم القديم.
- ب-القمبار: ص27
هو الصيد بالإضاءة حيث يتجمع السمك حول سراج يحمله الصياد فيقوم بضربه بألة حادة.
- ج-العمائر: ص27
هي مخازن للمواد المستخدمة في صناعة السفن.
- د-الهيئات: ص29
هي منابت المحار المحتوي على اللؤلؤ.
- هـ-الترانزيت: ص30
هو إعادة تصدير الواردات.
- و-الصخين: ص33
هي أداة يصنعها الحداد وتستخدم للحفر.

السؤال الخامس/ علل لما يلي:

- ص23** أ- تتميز الرياح الشمالية الغربية بالجفاف.
بسبب المرتفع السيبيري المتمركز في القارة الآسيوية.
- ص23** ب- تتميز الرياح الجنوبية الشرقية بأنها رطبة ودافئة.
بسبب تأثرها بالمنخفض السوداني.
- ص25** ج- زيادة أهمية النشاط الاقتصادي قديماً.
1- وجود الخليج العربي.
2- طريق الحرير.
3- تنوع الأنشطة الاقتصادية (النشاط البحري-النشاط البري-الحرف اليدوية).
- ص26** د- توجه معظم سكان الكويت قديماً إلى النشاط البحري.
- بسبب موقع دولة الكويت الجغرافي، حيث تقع دولة الكويت في منطقة صحراوية شحيحة الموارد والأمطار، وتحتوي على أراضٍ غير صالحة للزراعة.
- ص29** هـ- كساد تجارة الغوص على اللؤلؤ عام 1928م.
بسبب ظهور اللؤلؤ الصناعي.
- ص30** و- تعتبر دولة الكويت قديماً من المراكز التجارية المهمة.
بسبب موقعها الجغرافي الاستراتيجي، حيث تربط الشرق بالغرب (نقطة ترانزيت).
- ص31** ز- تباين نمو النباتات البرية من عام لآخر.
بسبب اختلاف نسبة هطول الأمطار من موسم لآخر.
- ص31** ح- قلة الزراعة في دولة الكويت مقارنة بالنشاط البحري.
1- لأن الكويت بلد صحراوي يعاني من شح المياه وارتفاع درجة الحرارة.
2- عدم خصوبة التربة.

السؤال السادس/ دلل على صحة العبارات التالية:

ص25

أ-للخليج العربي أهمية اقتصادية قديماً.

- 1- يقع في موقع متوسط من قارات العالم القديم (آسيا-أفريقيا-أوروبا).
- 2- وجود مضيق هرمز الذي يربط بين خليج عمان والخليج العربي.
- 3- يعد الخليج العربي أحد أذرع المحيط الهندي في شبه الجزيرة العربية.
- 4- توافر الموارد الطبيعية البرية والبحرية، كالتمر واللؤلؤ.
- 5- توافر وسائل النقل برًا وبحرًا للبلدان المحيطة.

ص29

ب-لحرفة الغوص على اللؤلؤ أثر إيجابي على أهل الكويت قديماً.

- 1- تقوية العلاقات بين السكان وتأسيس قيم الصدق والأمانة.
- 2- الاحترام المتبادل وتكوين الأسرة الواحدة.
- 3- التعاون والتعاقد بالمجتمع.
- 4- الالتزام والطاعة.

ص35

ج-الأهمية الحضارية لدولة الكويت.

- نتيجة لموقع دولة الكويت الجغرافي فقد ساهمت في التواصل الحضاري بين حضارات شمال الخليج العربي وجنوبه.

السؤال السابع/ قارن بين ما يلي:

أ- أنواع التضاريس الجغرافية في دولة الكويت مع ذكر مثال لها. **ص21**

نوع التضاريس	التلال	الأودية	السهول
أمثلة	1-حافة جال الزور 2-تلال كراع المرو 3-تلال اللياح 4-تلال وارة	1-وادي الباطن	1-سهل الدبدبة 2-سهل برقان 3-سهل الروضتين

ص23

ب-أنواع الرياح التي تهب في دولة الكويت ومميزاتها.

الرياح	المميزات وآثارها المناخية
الشمالية الغربية	رياح جافة بفعل المرتفع السيبيري المتمركز شمال القارة الآسيوية – تهب معظم أيام السنة – خافضة لدرجة الحرارة.
الجنوبية الشرقية (الكوس)	رياح رطبة دافئة – تهب من الجنوب الشرقي وتتأثر بالمنخفض السوداني – ترفع درجة الحرارة وتزيد من نسبة الرطوبة في فصل الصيف – تسهم باعتدال الجو في فصل الشتاء وتحمل معها المطر.
السموم	رياح جافة جدًا تهب في الظهيرة – تخفض نسبة الرطوبة – تتميز بدرجات حرارة عالية – تهب من جهة الشمال أو الشمال الشرقي في فصل الصيف.
العواصف الترابية (السرايات)	عواصف ترابية تهب في أواخر الربيع وأوائل الصيف – مثيرة للغبار – مصحوبة بعواصف رعدية يسقط بسببها المطر الشديد.

السؤال الثامن/ فرق بين ما يلي:

ص27

1-الأستاذ والقلاف.

القلاف	الأستاذ
هو الذي يقوم بعملية إعداد المواد اللازمة للصناعة ثم يقوم ببناء السفينة.	هو الذي يقوم بتصميم السفينة.

ص29

2-الدشة والقفال.

القفال	الدشة
تعني انتهاء موسم الغوص.	بداية موسم الغوص على اللؤلؤ.

ص33

ج-المنز والرك.

الرك	المنز
هو صندوق له فتحة من الأعلى لوضع المأكولات به.	هو السرير الذي ينام عليه الطفل قديمًا ويصنعه القفاص.

ص34

د-العدول والمزاود.

المزاود	العدول
هي أكياس متوسطة الحجم لحفظ الطعام والملابس.	هي أكياس كبيرة لحفظ بعض أنواع الطعام توضع على ظهر الدابة ويوضع به حاجات الراكب أيضًا.

السؤال التاسع/ عدد كل من:

ص26

أ-أنواع الأنشطة الاقتصادية قديماً.

- 1- النشاط البحري.
- 2- النشاط البري.
- 3- الحرف اليدوية.

ص27

ب-أنواع الأسماك التي كانت تستخدم كغذاء في الكويت قديماً.

- 1- الزبيدي.
- 2- الهامور.
- 3- الصبور.
- 4- النقرور.
- 5- الربيان.
- 6- البياح.
- 7- السبيطي.

ص27

ج- أهم طرق صيد الأسماك قديماً.

- 1- الصيد بالشباك.
- 2- الصيد بالحظور.
- 3- الصيد بالقرقور.
- 4- الصيد بالإضاءة.
- 5- الصيد بالميدار (السنارة).

ص27

د-العوامل التي ساعدت على ازدهار صناعة السفن في الكويت قديماً.

- 1- هبوب الرياح الموسمية على منطقة الخليج العربي والتي تساعد على دفع السفن.
- 2- توفر الأيدي العاملة لصناعة السفن.
- 3- تمتع الكويت بواجهة بحرية طويلة تمتد من شمالها إلى جنوبها.
- 4- توفر مصادر المواد المستخدمة في صناعة السفن.
- 5- براعة الأساتذة والقلاليف في صناعة السفن.

ص33

هـ- أبرز المهن الكويتية القديمة.

حرفة يدوية يُستخدم بها الخشب، لعب العاملون بها دورًا مهمًا لتوفير مواد البناء وغيرها من المستلزمات المنزلية قديمًا، ومن صناعات النجار: الأبواب والنوافذ والشداخة لصيد الفئران والصفائح لتصريف مياه الأمطار وألعاب الأطفال.	النجارة
حرفة يقوم العاملون بها بصناعة المسامير اللازمة لصناعة السفن قديمًا، وصناعة الأدوات المستخدمة في البناء والزراعة والأدوات المنزلية كالمناقش والسكاكين والسلاسل والدوّة وغيرها.	الحدادة
حرفة يقوم العاملون بها بصنع وتلميع القدور المستخدمة في المطبخ المصنوعة من النحاس.	الصفارة
حرفة يقوم العاملون بها باستخدام الصفائح المعدنية لصنع "المحقان" والعلب وأغطيها والطشوت.	التنّاك
حرفة يقوم العاملون بها باستخدام جريد النخيل وشبك بعضه ببعض لصنع أشكال مختلفة من الأقفاص، بالإضافة للمنز والرك وأسرّة الكبار.	القفّاص
حرفة يقوم العاملون بها بخياطة الملابس كالبنشوت.	الحيّاة
حرفة يقوم العاملون بها بتنجيد وصناعة المساند والفرش باستخدام القطن.	الندافة
حرفة سائدة كانت تزاولها المرأة في البادية قديمًا وتقوم على حياكة الصوف، حيث يعتبر أساس مكونات بيت الشعر، إضافة إلى الصناعات التي تتعلق بالسدو والمنسوجات الصوفية كالعباءات النسائية والبنشوت الرجالية.	غزل السدو

ص35

و-مراحل التطور الحضاري لدولة الكويت قديمًا.

- 1- حضارة العبيد (5500-4500 ق.م) في منطقة الصبية.
- 2- الحضارة الدلمونية (النصف الثاني من الألف الأول ق.م) في جزيرتي أم النمل وفيلكا.
- 3- معركة ذات السلاسل (12 هـ الموافق 633م) في منطقة كاظمة.

السؤال العاشر/ اكتب في سطرين عن:

ص24

أ- أول تعداد سكاني رسمي لسكان دولة الكويت.

تم أول تعداد سكاني رسمي موثق في عام 1957م، في عهد الأمير الراحل عبد الله السالم الصباح، وقد قامت بإجرائه دائرة الشؤون الاجتماعية.

ص24

ب- تغير التركيبة السكانية في دولة الكويت بعد عام 1990م.

بلغ إجمالي عدد السكان 2141465 في عام 1990م (72٪ غير كويتيين)، لكن تعرضت هذه النسبة للتغيير بعد عام 1990م نتيجة للعدوان والغزو العراقي الغاشم على دولة الكويت، وما تبع ذلك من هجرة غير الكويتيون من الكويت.

ص36

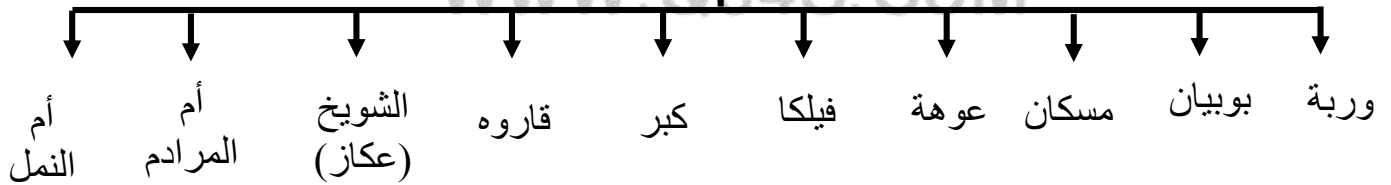
ج- الدور الحضاري لجزيرة فيلكا.

لعبت جزيرة فيلكا دوراً رئيسياً في منطقة الخليج العربي باعتبارها مركزاً من مراكز حضارة دلمون القديمة، حيث كانت تؤدي دور الوسيط التجاري بين حضارات الهند وبلاد الرافدين.

السؤال الحادي عشر/ أكمل المخططات السهمية التالية:

ص21

أ- جزر دولة الكويت



ص26

ب-تأثر المجتمع الكويتي قديماً بعنصرين
أساسيين هما:

النشاط
المتعلق
بالبادية

النشاط
البحري

ص26

ج-كان لطريق الحرير مساران رئيسيان:

المسار الغربي
طريق الحرير البحري

المسار الشمالي
طريق الحرير البري

ص28

د-أنواع السفن الكويتية:



ص32

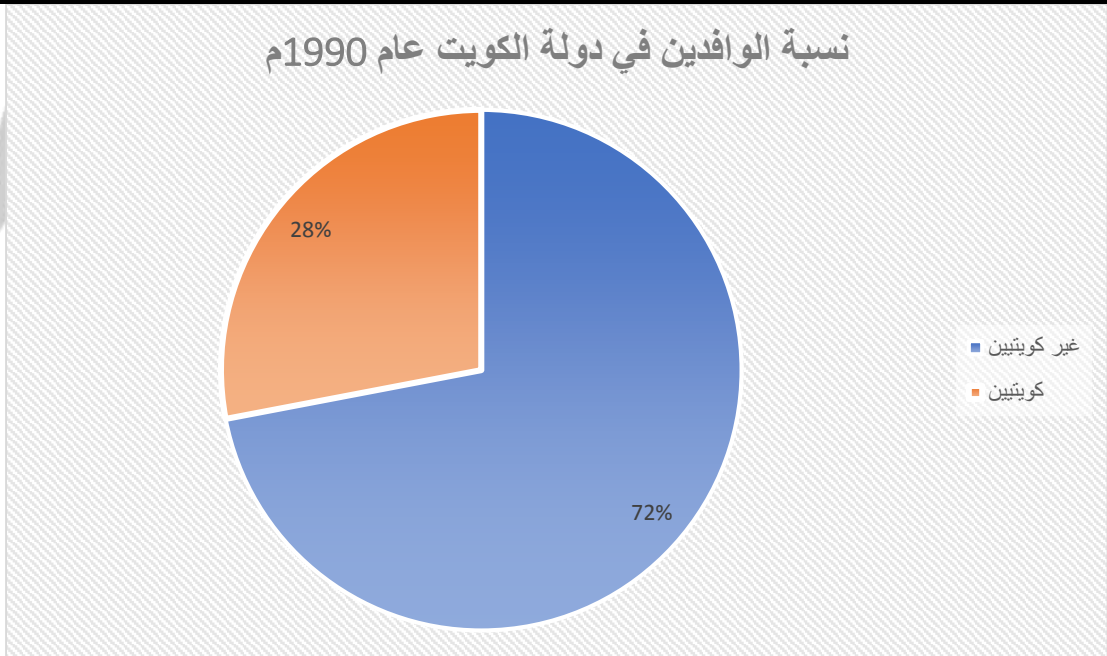
هـ-أهم المناطق الزراعية في الكويت قديماً:



السؤال الثاني عشر / أكمل الدائرة البيانية التالية بنسبة الوافدين في دولة الكويت عام 1990م.

ص24

نسبة الوافدين في دولة الكويت عام 1990م



السؤال الثالث عشر / لاحظ الأشكال التالية ثم أجب:

ص28


أ- حدد المشترك في الشكل (1).

- البوم الكويتي.



الشكل (1)

ب- اكتب تعليقاً مناسباً للأشكال التالية:



ج ص34




أ ص28
قسم الاجتماعات
ثابرة ابن العميد



ب ص34



36ص هـ



35ص د



37ص ز



36ص و

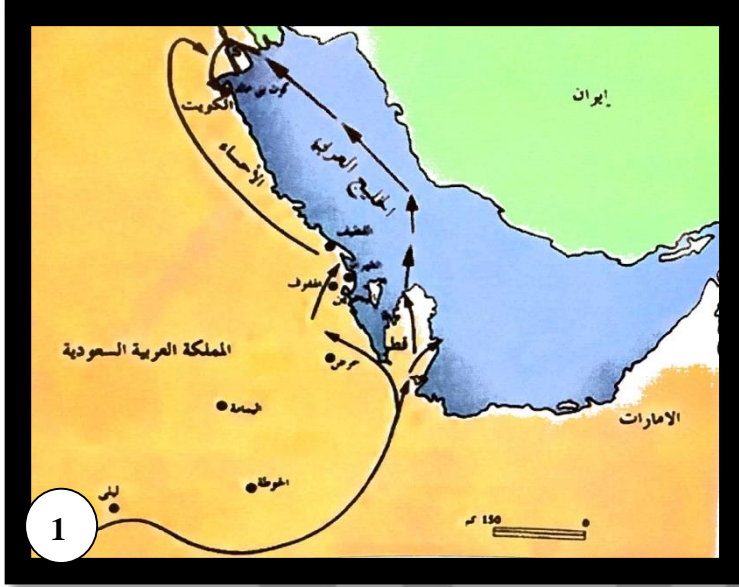
WwW.Q84S.CoM



ص45-54

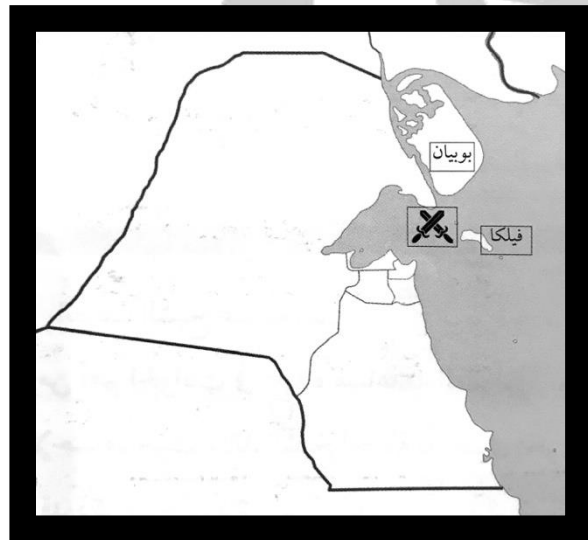
الفصل الثاني: نشأة الكويت.

السؤال الأول/ لاحظ الخرائط التالية ثم أجب:



• تمرين رقم (1)

*يمثل الرقم (1) موطن العتوب قبل هجرتهم
ويسمى منطقة الهذارة. ص47



• تمرين رقم (2)

*يشير الرمز x لمعركة بارزة في تاريخ دولة الكويت
تسمى معركة الرقة. ص49

*حدثت في عام 1783م.

ص46

السؤال الثاني/ عرف ما يلي:

- العتوب: هم أسر ترجع أصولها إلى عدة قبائل أبرزها قبيلة عنزة، وموطنهم الأصلي نجد في منطقة الهدار.

السؤال الثالث/ علل لما يلي:

ص46

أ-تسمية الكويت بهذا الاسم.
سُميت الكويت تصغيراً لكلمة (الكوت)، وهو مصطلح شائع معناه "القلعة" أو "الحصن".

ص46

ب-كانت قطر محطة الاستقرار الأولى بالنسبة للعتوب.
1- بسبب القحط الذي أصاب مناطقهم الأصلية.
2- الصراعات القبلية في موطنهم.

ص46

ج-تسمية العتوب بهذا الاسم.
أصل كلمة العتوب يرجع إلى الفعل (عَتَب) ومعناه الإكثار من الترحال.

ص46

د-اختيار الشيخ صباح الأول للحكم.
1- لسماته الشخصية من شجاعة وحكمة.
2- كان لوالده الزعامة على قومه منذ أن كانوا بنجد.
3- كان يقيم في الكويت طوال أيام العام وكان عمله في البر خلافاً للبقية الذين كانوا يعملون في البحر.

ص50

هـ-تسمية الشيخ جابر الأول بن عبد الله الصباح بلقب "جابر العيش".
لكرمه ولكثرة ما يتصدق به على الفقراء والمساكين.



السؤال الرابع/ دليل على صحة العبارات التالية:

ص45

أ-نشأة الكويت وتأسيسها عام 1613م.
1- رسالة الشيخ مبارك الصباح حاكم الكويت السابع إلى المقيم البريطاني في الخليج العربي، والتي استهلها بقوله: "الكويت أرض قفراء نزلها جدنا صباح عام 1022هـ (الموافق 1613م)".

2- ذكر مؤرخ الكويت عبدالعزيز الرشيد في كتابه تاريخ الكويت: "سكن الكويت قبل نزول العتوب قليل من البدو وصيادي الأسماك".

ص50

ب-تعد فترة الشيخ جابر الأول فترة ازدهار بحري لدولة الكويت.
1- تطورت خلالها صناعة السفن الكبيرة الخاصة بالنقل التجاري.
2- استطاع الكويتيون الوصول لسواحل مختلفة لنقل البضائع منها وإليها.

ص47

السؤال الخامس/ قارن بين:

أ-مهام الأسر الثلاث في دولة الكويت قديماً.

الأسرة	آل صباح	آل خليفة	آل الجلاهمة
المهام	الحكم	شؤون التجارة	شؤون التجارة

السؤال السادس/ عدد ما يلي:

ص49

أ-أبرز أعمال الشيخ صباح الأول بن جابر.

- 1- العمل على توطيد الأمن ونشر العدل.
- 2- تنظيم أمور السكان والبلاد.
- 3- ترسيخ أنشطة دولة الكويت البحرية.

ص49

ب-أبرز الأحداث في عهد الشيخ عبد الله الأول بن صباح.

- 1- معركة الرقة (الكويت x بني كعب) عام 1783م.
- 2- بناء سور الكويت الأول عام 1811م.

ص50

ج- أهم الأحداث في عهد الشيخ صباح الثاني بن جابر.

- 1- تقدمت التجارة في عهده بشكل كبير.
- 2- عندما قرر أن يفرض رسوماً على البضائع رفض التجار، فألغى الرسوم احتراماً لرغبة أبناء شعبه.
- 3- زيارة المعتمد البريطاني في الخليج العربي "لويس بيلي" للكويت في عام ١٨٦٥م، حيث أشار فيها "بيلي" للتقدم الاقتصادي والتجاري للكويت وإلى النظام العادل للحكم.

ص50

د- أبرز الأحداث في عهد الشيخ عبد الله بن صباح الثاني.

- مساعدته العثمانيين في حملة مدحت باشا عام ١٨٧١م على إقليم الإحساء. (مساندتهم بأسطول بحري يقوده بنفسه، وجيش بري يقوده شقيقه الشيخ مبارك).

ص52

هـ- أبرز القرارات التي ساهمت بالنمو التجاري والاقتصادي لدولة الكويت.

- 1- قلة الضرائب على البضائع القادمة إلى الكويت.
- 2- تشجيع بناء سفن الغوص على اللؤلؤ وتأمين طرق التجارة المارة عبر أراضيها.
- 3- اجتذاب الوكالات التجارية التابعة للشركات الأوروبية العاملة في الخليج العربي.
- 4- لعب التجار الكويتيون دور الوطاء التجاريين، مما ساعد على بناء علاقات تجارية بين الكويت ومناطق دول الجوار.

ص53

و- العوامل التي ساعدت على نمو وازدهار الكويت تحت حكم آل صباح.

- 1- موقع الكويت الاستراتيجي على الجزء الغربي للخليج العربي.
- 2- طبيعة نظام الحكم المعتمد على العدل والشورى والأمن.
- 3- وجود علاقات متوازنة مع القوى المجاورة.
- 4- التسهيلات التي كانت تمنح لتجار البادية (تجارة المسابلة).
- 5- النظام الاقتصادي وتوزيع المهام ما بين الغوص على اللؤلؤ ونقل التمور وتجارة البادية.
- 6- الصفات التي تميز بها أهل الكويت من التسامح والانفتاح على الآخرين.

السؤال السابع/ أوجد العلاقة بكتابة فقرة مترابطة بالاستعانة بالكلمات التالية:

ص48

أ- (طبيعة العلاقة - بني خالد - التهديدات).

في ظل ارتباط الكويت بنفوذ بني خالد استطاعت الكويت أن تتمتع بمزيد من الحماية والأمن، وبفضل هذا الارتباط استطاعت الكويت أن تتجو من كثير من التهديدات والأخطار لمختلف القوى الإقليمية آنذاك.


ص50

ب- (محمد بن صباح - 1891م - عبدالرحمن آل سعود).

اشتهر الشيخ محمد بن صباح بالزاهة والوقار، وساعده في الحكم أخواه الشيخان جراح (تولى الشؤون المالية) ومبارك (تولى شؤون البادية والجيش)، ورحب وسهّل استقرار أسرة الأمير عبد الرحمن آل سعود والد مؤسس الدولة السعودية الثالثة في دولة الكويت عام 1891م.

ص45

السؤال الثامن/ لاحظ الشكل ثم أجب عما يلي:



- الشكل الذي أمامك يمثل:

رسالة الشيخ مبارك الصباح حاكم الكويت السابع إلى المقيم البريطاني في الخليج العربي.

قسم الاجتماعات
نانوية ابن العميد

● **الفصل الثالث: الكويت والتنافس الأوروبي على منطقة الخليج العربي من القرن السادس عشر حتى القرن التاسع عشر ميلادي.**
ص57-62

ص58

السؤال الأول/ أكمل العبارات التالية:

- 1- بدأ الوجود الهولندي في آسيا خصوصاً والشرق عمومًا في فترة أواخر القرن السادس عشر.
- 2- خرج أول اسطول هولندي إلى آسيا في العام 1595م.

السؤال الثاني/ علل لما يلي:

ص58

أ- يعتبر الاستعمار البرتغالي من أسوأ النظم الاستعمارية في الخليج العربي.

1- تدمير البرتغاليين القاعدة الاقتصادية لمنطقة الخليج ودويلاتها.

2- احتلال المدن والقرى بطريقة وحشية.

ص58

ب- أهمية اليعاربة في منطقة الخليج العربي في أواخر القرن السادس عشر.

لتصفيتهم الوجود البرتغالي وطردهم من منطقة الخليج العربي.

ص58

ج- الإنهيار التدريجي للاستعمار البرتغالي في منطقة الخليج العربي.

1- المنافسة التجارية مع الهولنديين والبريطانيين.

2- جهود اليعاربة في عُمان والتي ساهمت في تصفية الوجود البرتغالي.

3- وقوع البرتغال نفسها تحت الاحتلال الإسباني.

ص58

د- عدم استمرار التفوق الهولندي في منطقة الخليج العربي طويلاً.

التنافس البريطاني الهولندي.

ص59

هـ- نزاع بريطانيا مع القوى الاستعمارية الأخرى في منطقة الخليج العربي.

وذلك لأطماع البريطانيين في السيطرة على الخليج العربي.

ص59

و- إزدياد حدة التنافس بين البريطانيين والهولنديين في منطقة الخليج العربي.

لتأسيس شركة الهند الشرقية البريطانية في عام 1600م.

ز-نقل بريطانيا مركز البريد والتجارة من البصرة إلى الكويت في عامي 1775م و1793م. ص60

- 1- نقلت بريطانيا مركز البريد والتجارة إلى الكويت في عام 1775م بسبب الحصار الفارسي واحتلال البصرة.
- 2- نقلت بريطانيا مركز البريد والتجارة إلى الكويت عام 1793م بسبب المشاكل التجارية بين العثمانيين والوكالة الإنجليزية.

السؤال الثالث/ دلي على صحة العبارات التالية:

ص60

- أ- أهمية الكويت بالنسبة لبريطانيا في نهاية القرن الثامن عشر.
- 1- أسس البريطانيون مراكز تجارية لهم في الكويت.
 - 2- أسس البريطانيون مركزاً للبريد البري المتجه من الهند إلى لندن.
 - 3- نقل مركز البريد والتجارة من البصرة إلى الكويت.

ص61

- ب- العلاقات الكويتية العثمانية قديماً.
- كانت العلاقة الكويتية العثمانية علاقة قائمة على الولاء الديني بحكم أن الدولة العثمانية دولة خلافة، وكانت دولة الكويت مستقلة في شؤونها الداخلية فقط.

ص49

السؤال الرابع/ عدد كل من:

- أ- أبرز أعمال الشيخ صباح الأول بن جابر.
- 1- العمل على توطيد الأمن ونشر العدل.
 - 2- تنظيم أمور السكان والبلاد.
 - 3- ترسيخ أنشطة الكويت البحرية.

ص57

ب- دوافع البرتغاليين لمد نفوذهم لمنطقة الخليج العربي.

- 1- النهضة الملاحية التي شهدتها أوروبا في تلك الفترة.
- 2- ادراكهم للأهمية الاقتصادية للخليج العربي.
- 3- العامل السياسي والديني.

ص58

ج- التغيرات التي وقعت في أواخر القرن السادس عشر في أوضاع البرتغاليين في الشرق.

- 1- وصول سفن لدول أوروبية أخرى جاءت لتشارك البرتغاليين أرباحهم من تجارة الشرق.
- 2- ظهور الهولنديون في مياه الهند الشرقية.

ص58

- د-أبرز أعمال الهولنديون بعد وصولهم لمنطقة الخليج العربي.
- 1- عقد معاهدات مع حكام منطقة الخليج العربي باسم الحكومة الهولندية.
 - 2- بناء القلاع.
 - 3- تعيين الحكام والقضاة في المواقع التابعة لهم.
 - 4- اتخاذ ميناء بندر عباس مركزاً تجارياً.

ص59

- هـ-أبرز سياسات البريطانيين في منطقة الخليج العربي بعد انهيار النفوذ الهولندي.
- 1- الاستيلاء على ممتلكات هولندا في الهند وسيلان.
 - 2- الاستيلاء على المواقع الهولندية في الخليج العربي.
 - 3- قيام شاه فارس بمنح الانجليز بعض الامتيازات
 - 4- تعزيز وجودها العسكري بما يضمن تحقيق الانفراد بالخليج بشكل كامل.

ص61

- و-الأسس التي حددها الفرمان العثماني حول علاقة الكويت بالدولة العثمانية.
- 1- شيخ الكويت مستقل بشؤونه الداخلية.
 - 2- منح شيخ الكويت لقب قائم مقام.
 - 3- أهالي الكويت لا يلتزمون بدفع ضرائب أو رسوم للباب العالي.
 - 4- إلزام السفن الكويتية برفع العلم العثماني.



WwW.Q84S.CoM

أسأل الله لعم التوفيق والنجاح ...

ملاحظة: هذا الدليل لا يغني عن الكتاب المدرسي وشرح المعلم.