



لون تحت الطاولة




لون فوق الطاولة



ضع علامة ✓ على تحت الكرسي




ارسم فوق



لون الذي يقع في الـ أمام 



لون الذي يقع في الـ خلف 



ضع علامة على الشيء الذي يقع في الـ أمام :



ارسم موضع الكرة إذا تحركت إلى الـ أمام :



ارسم  خلف



تم التحميل من شبكة ياكويت

تدريبات للصف الأول الابتدائي- الفصل الأول

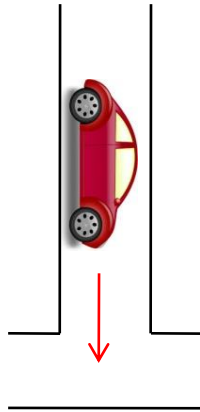
■ ارسم  يمين  :



■ ضع علامة على السيارة التي تقع على يسار 



■ ارسم خطا يبين موضع  إذا تحركت إلى اليسار :



لون الشيء الذي يقع بين



ضع علامة ✓ على الأشياء التي تقع في الـ خارج



ضع علامة ✓ على الأشياء التي تقع في الـ داخل



داخل

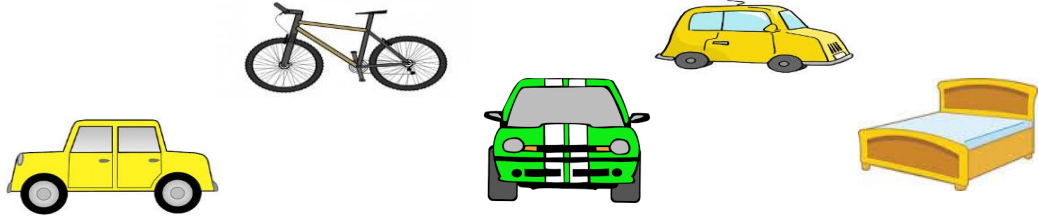


ارسم



ارسم ● بين

▪ حوط السيارات




▪ صل الكرات




▪ صل كل حبة فاكهة إلى داخل



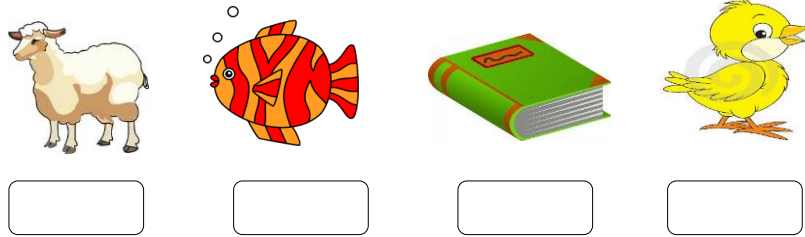
حوظ السيارات الصفراء



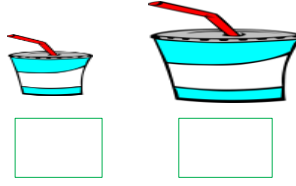
صل البالونات الزرقاء بخط




ضع علامة ✓ على الشيء الذي لا ينتمي إلى المجموعة



▪ ضع علامة ✓ على الشيء الكبير :




▪ ضع علامة ✓ على الشيء الصغير :



▪ حوط الأشياء الكبيرة



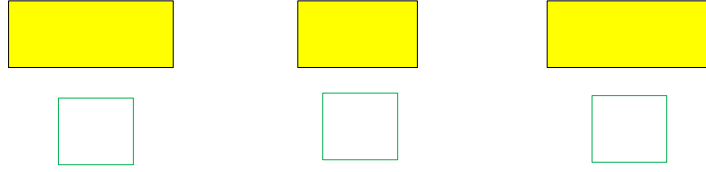
▪ - لون الأقلام الصغيرة باللون الأحمر .
والأقلام الكبيرة باللون الأزرق .



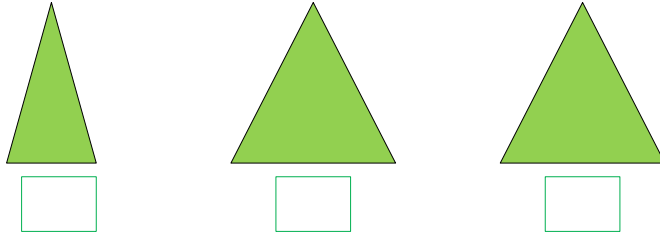
▪ أكمل النمط



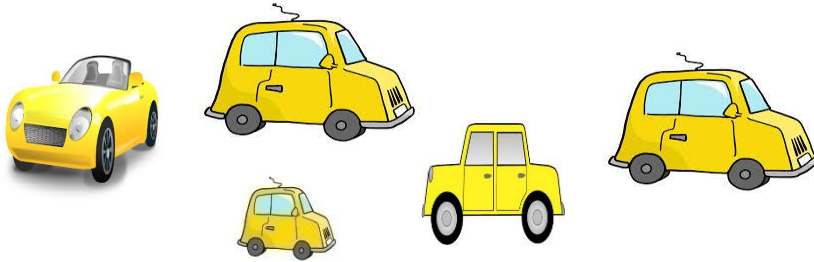
ضع علامة ✓ على الشكلين المتطابقين



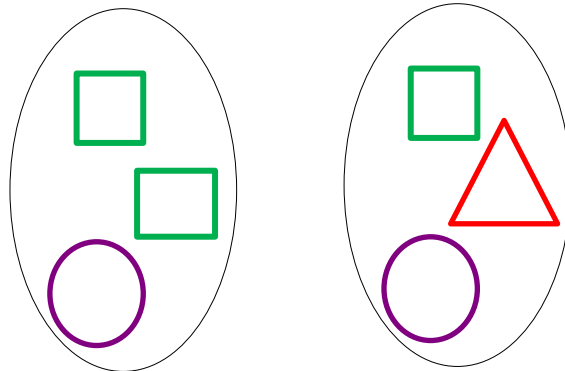
ضع علامة ✓ على الشكل الذي لا يطابق



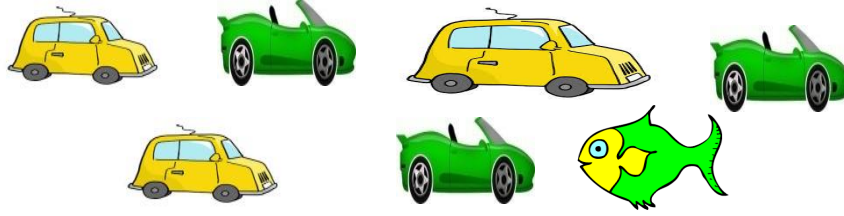
حوظ الأشياء الـ متطابقة



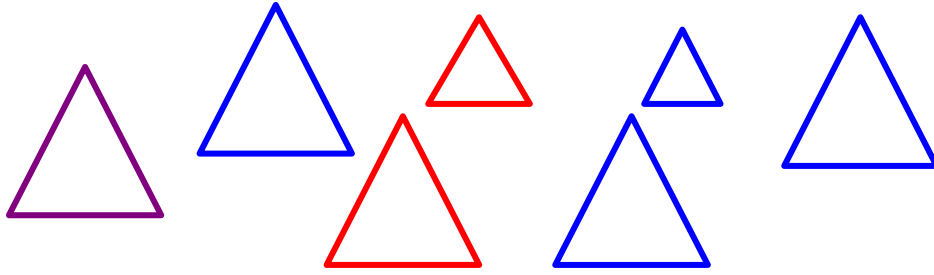
صل الأشكال الـ متطابقة




▪ حوط السيارات الصفراء الصغيرة




▪ حوط المثلثات الكبيرة الزرقاء



- لون البيض الذي يقع في الـ داخل باللون الأحمر
- ولون البيض في الـ خارج باللون الأصفر



أكتب رمز العدد

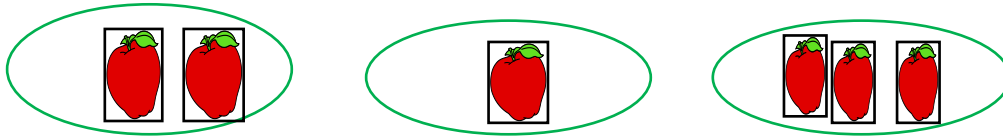


لون واحدا






صل

١



أكتب رمز العدد






لون اثنتين




صل


٢



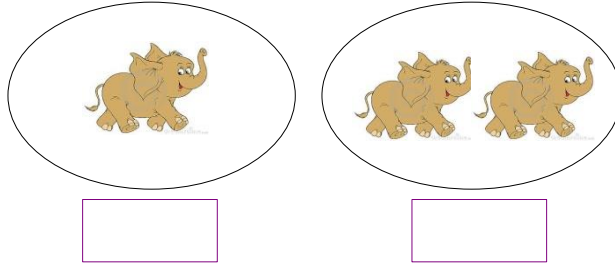
أكتب رمز العدد الدال على عدد العيون عندك



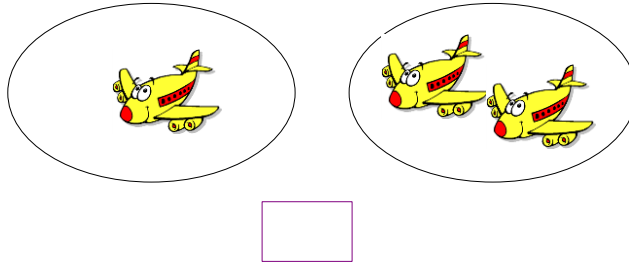
- لون عناصر المجموعة التي تحوي عنصرا واحدا باللون الأزرق
- لون عناصر المجموعة التي تحوي عنصرين باللون الأحمر



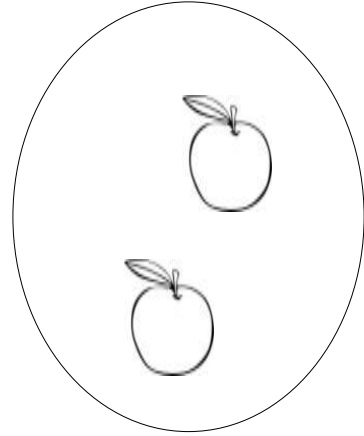


- ضع علامة أسفل المجموعة الأقل






- أكتب عدد عناصر المجموعتين ، ثم قارن بينهما مستخدما الرموز (< أو > أو =)





- لون عناصر المجموعة التي تحوي عنصرا واحدا باللون الأزرق .
- لون عناصر المجموعة التي تحوي عنصرين باللون الأحمر .




- ضع علامة أسفل المجموعة الأقل .



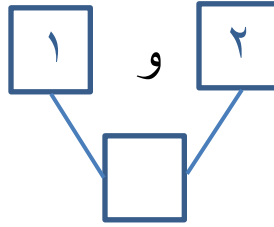
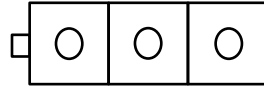
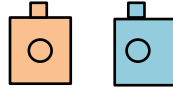
■ أكتب عدد عناصر المجموعتين ، ثم قارن بينهما مستخدماً الرموز (< أو > أو =)





أكتب رمز العدد .



استخدم لونين ، أوجد طرقا لتكون العدد ٣ .




ضع علامة أسفل المجموعة الأكثر .




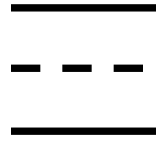
أكمل ، أكتب رمز العدد .

----- ، ٢ ، -----



أكتب رمز العدد الدال على عدد الأقلام في يد المعلم .




▪ أكتب رمز العدد .



▪ ضع علامة أسفل المجموعة الأكثر .



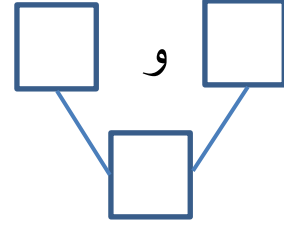
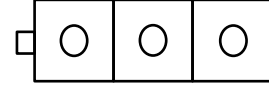
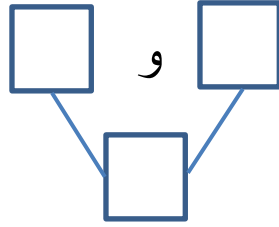
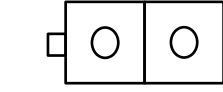
▪ أكمل ، أكتب رمز العدد .



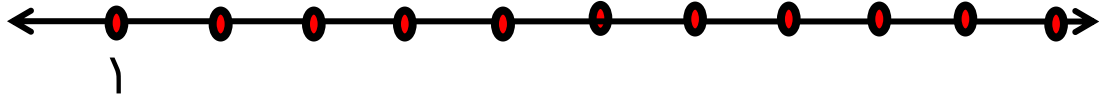
، ٢ ،



■ استخدم لونين .  



■ حدد موقع العددين ٢ ، ٣ على خط الأعداد .



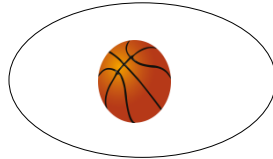
■ أكمل .

○ العدد ٢ قبل العدد

○ العدد بعد العدد ٢



○ العدد ٢ يقع بين العدد والعدد

■ كم عنصر تحتاج لاستكمال رسم العناصر ل ثلاثة


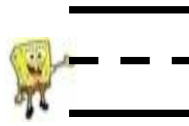



٢

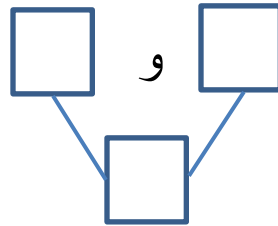
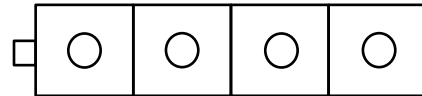
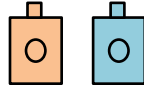
أكتب رمز العدد .



حوظ المجموعة الأقل واكتب رمز العدد .



لتوضح طرقا لتكوين العدد ٤ مستخدما



أكمل .

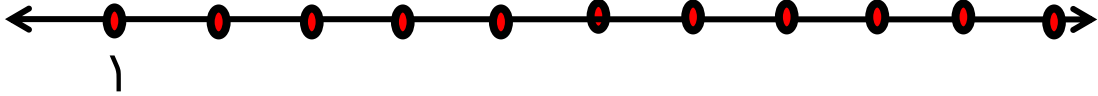
○ العدد ٣ قبل .

○ العدد ٣ بعد العدد .

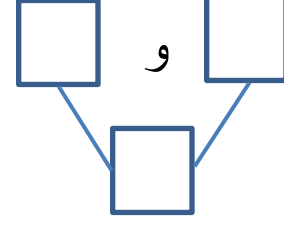
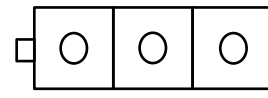
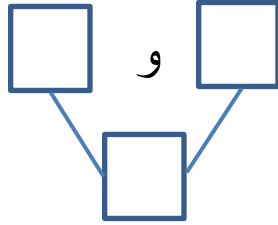
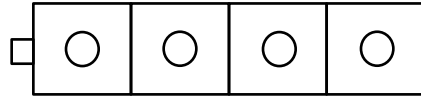
■ أكمل . أكتب رمز العدد .

..... ، ٣ ، ٢ ،



■ حدد موقع العددين ٢ ، ٣ ، ٤ على خط الأعداد .




استخدم لونين من المكعبات لإيجاد طرق لتكوين العددين ٣ ، ٤ .



■ أكتب رمز عدد عناصر المجموعتين ، ثم قارن بينهما مستخدماً الرموز (< أو > أو =)



■ استكمل رسم العناصر لـ ٤



٤