

# حقيبة طالب الصف السابع

الفصل الدراسي الأول ٢٠١٩ / ٢٠٢٠



معلمة المادة :

أ/ لطيفه



اعداد وتصميم المعلمة :  
لطيفة سليمان الحربي

رئيسة القسم :  
أ/ آمنه المطيري  
الموجهة الفنية :  
أ/ بدور العنزي


الإدارة العامة  
لمنطقة الجهراء  
التعليمية  
مدرسة تيماء م  
بنات



## إهداء لطلاب الصف السابع

امتحان نهاية الفصل الدراسي الأول  
في الوحدة الأولى والوحدة الثانية  
من صفحة ٢١ الى صفحة ٩٥

عزيزي الطالب الكتاب المدرسي هو مصدر المعلومة الأساسي  
هذه الحقيبة اضعها بين يديك لتعينك على فهم مادة الإجتماعيات  
متمنيه لك دوام التفوق والنجاح



اعداد المعلمة : لطيفة سليمان الحربي



## محتوى الحقيبة

- \* أهم المفاهيم
- \* أهم المخططات السهمية في الوحدة الأولى والثانية
- \* خريطة ذهنية للدروس
- \* أهم خرائط منهج الصف السابع
- \* ورقة عمل لمهارة الخريطة
- \* حل تقويم الكتاب
- \* نماج اجابة امتحانات سابقة لعام الدراسي ٢٠١٨ / ٢٠١٩



## اهم مفاهيم منهج الصف السابع الفصل الدراسي الأول ٢٠١٩ / ٢٠٢٠



**الوطن العربي :-** هو مجموعة الدول العربية التي يجمعها عدد من السمات المشتركة ( الدين و اللغة ) ويمتد ضمن قارتين من أكبر قارات العالم مساحة

**الموقع الإستراتيجي :** أي موقع ذي مكانة مهمة بين الدول .

**خطوط الطول :-** عبارة عن خطوط وهمية ترسم على الكرة الأرضية وتقسّمها إلى قسمين شرقي و غربي وعددها ٣٦٠ والخط الرئيسي هو خط جرينتش .  
**خطوط العرض :-** عبارة عن خطوط وهمية ترسم على الكرة الأرضية وتقسّمها إلى قسمين شمالي وجنوبي وعددها ١٨٠ والخط الرئيسي هو خط الأستواء

**السهول الفيضية ( النهرية ) :-** وهي الأراضي المنخفضة التي تكونت من التربة التي حملتها مياه الأنهار .  
**السهول الساحلية :-** هي الأراضي المنبسطة التي تجاور سواحل البحار والمحيطات

**القناة :-** مجرى مائي صناعي ضيق يشق لأغراض الري أو النقل .

**المسطحات المائية :-** جميع أشكال المياه على سطح الأرض مثل البحار والخلجان والمحيطات والبحيرات والأنهار .

**الموقع الفلكي :-** نقطة من الكرة الأرضية يتحدد موقعها بخطوط الطول ودوائر العرض .  
**الموقع النسبي :-** موقع الدولة بالنسبة لليابس والماء .

**الهضبة :-** أرض مرتفعة سطحها مستوي وتمتد على مساحه كبيرة .

**الحضارة :-** كل ما يطرأ على المجتمع من تقدم وتطور وورقي في جميع نواحي الحياة الدينية والسياسية والاقتصادية والاجتماعية والفكرية .

**المضيق :-** ممر مائي ضيق يصل بين بحرين أو محيطين أو أي مساحتين كبيرتين نسبياً من الماء .

**النبات الطبيعي :-** هو النبات الذي ينمو تلقائياً عقب سقوط المطر دون تدخل من الإنسان

**السهول :-** مساحة كبيرة من سطح الأرض تتميز بإستوائها وقلة ارتفاعها .

**أوال :** اسم أطلق على البحرين قديماً نسبة إلى صنم وائل كانت تعبده قبيلة وائل التي حكمت البحرين آنذاك .

**البحيرة :-** مسطح مائي تحيط به اليابسة من جميع الاتجاهات .

**الجبل :-** هو كل مرتفع من الأرض وله قمة لا يقل ارتفاعها عن ١٠٠٠ متر ، أما اذا قل الارتفاع عن ذلك فيسمى تلاً .

**الضغط الجوي :-** وزن الهواء فوق أي مكان

**المناخ :-** هو حالة الجو خلال فترة زمنية طويلة من حيث درجة الحرارة والرطوبة والأمطار والرياح .  
**الطقس :-** هو حالة الجو في مكان لمدة قصيرة تتراوح بين يوم أو عدة أيام من حيث درجة الحرارة والرطوبة والرياح والضغط الجوي .

**النهر :-** مجرى مائي عذب ينحدر على الدوام لينتهي إلى بحر أو نهر آخر أو ينتهي تدريجياً في الصحراء .  
**المياه الجوفية :-** هي المياه التي توجد في جوف الأرض .  
**الأفلاج :-** الماء الجاري ( صغير مائي من الأرض ) .





# الخرائط



تحدد الجبال والدول التي تقع بها



تحدد المضائق والقنوات المائية والمسطحات المائية  
(بحار - خلجان - محيطات)



شكل (٢) خريطة الوطن العربي السياسية  
تحدد موقع الدول العربية في الجناح الآسيوي والجناح الأفريقي

تحدد الهضاب والدول التي تقع بها

الجناح الأفريقي		الجناح الآسيوي	
اسم الدولة التي تقع فيها الجبل	اسم الجبل	اسم الدولة التي تقع فيها الجبل	اسم الجبل
السودان	جبل مرة	السعودية واليمن	جبال عسير
الجزائر والمغرب	جبال أطلس	السعودية	جبال الحجاز
الجزائر	جبال الأحمجار	عمان	الجبل الأخضر
ليبيا	الجبل الأخضر	سوريا	جبل قاسيون
مصر والسودان	سلسلة جبال البحر الأحمر	لبنان	جبل الشيخ
		العراق	جبل شيشا دار



الدولة	اسم الرياح المحلية
العراق	الشرقية
الكويت	الطوز
السعودية	السموم و الطوز
مصر	الخماسين
السودان	الهبوب
ليبيا	القبلي
دول المغرب العربي	السيركو والسولانو

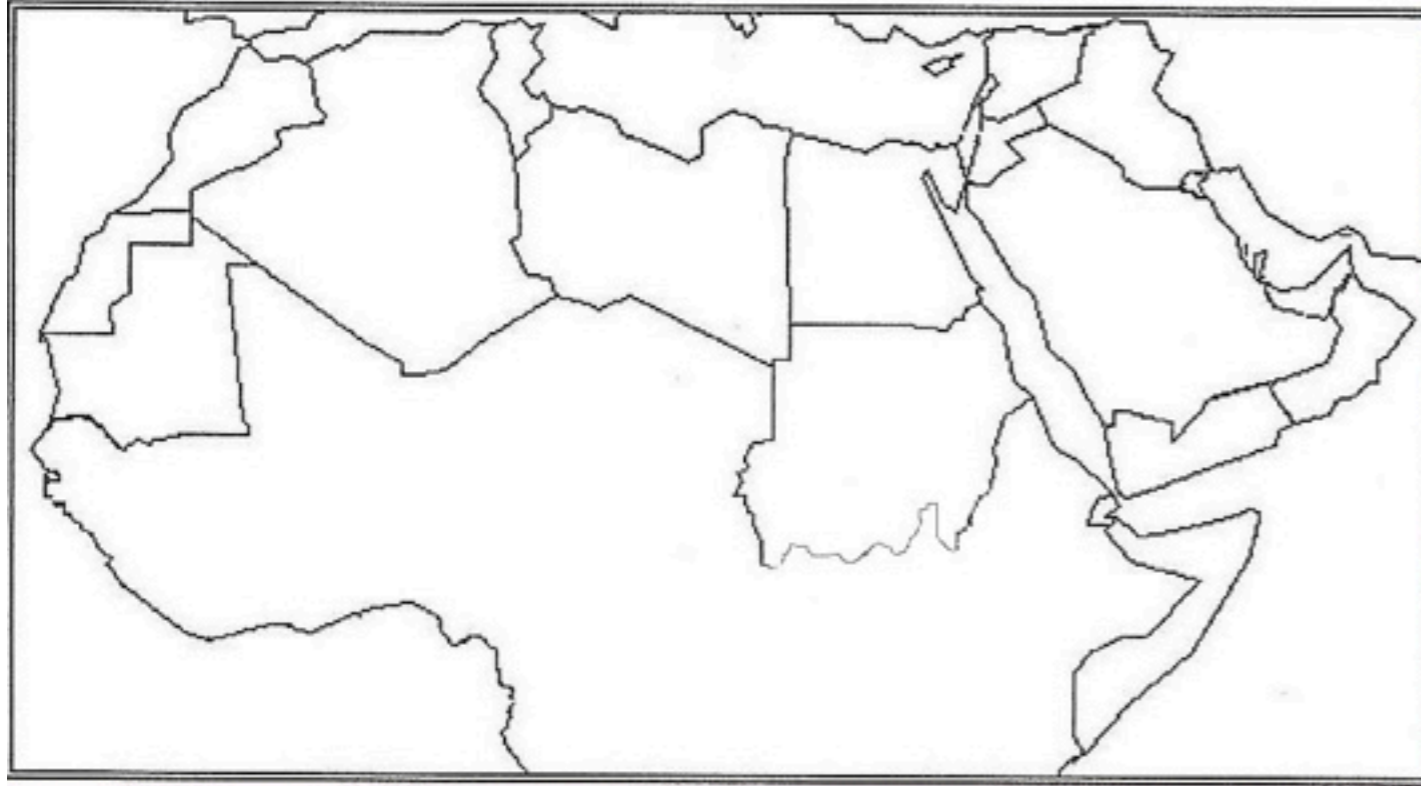


أهم الهضاب في الوطن العربي في الجناح الأفريقي		أهم الهضاب في الوطن العربي في الجناح الآسيوي	
اسم الهضبة	الدول التي تقع فيها الهضبة	اسم الهضبة	الدول التي تقع فيها الهضبة
هضبة نجد	السعودية	هضبة أفريقية الشمالية (الصحراء الكبرى)	الجزائر
هضبة بادية الشام	الأردن	هضبة الشطوط	مصر و ليبيا و الجزائر



شكل (٢٣) خريطة الحضارات في الوطن العربي  
تحدد الحضارات القديمة في الوطن العربي

على خريطة الوطن العربي الصماء التي أمامك نفذ ما هو مطلوب :



- ١/ حددي بالرمز ▲ اكبر دولة بالجناح الآسيوي
- ٢/ حددي بالرمز ● اكبر دولة بالجناح الأفريقي
- ٣/ حددي بالرمز ✗ دولة عربية كانت تسمى قبل الفتح الإسلامي بأوال
- ٤/ حددي بالرقم 1 الدولة التي يمر بها خط جرينتش
- ٥/ حددي بالرقم 2 الدولة التي يمر بها خط الإستواء
- ٦/ حددي بالرقم 3 مضيق باب المندب
- ٥/ حددي بالرقم 4 الدولة التي توجد بها الأهرامات
- ٧/ حددي بالرقم 5 الدولة التي تقع بها جبال مره
- ٨/ حددي بالرقم 6 الدولة التي يقع بها نهر دجلة والفرات
- ٩/ حددي بالرقم 7 الدولة التي تقع بها محطة الشويخ لتحلية مياه البحر
- ١٠/ ارسم نهر النيل
- ١١/ ارسم خط الأستواء



- ١/ قناة السويس يمثلها على الخريطة الرقم. .... 1 ...
- ٢ / الكتابة المسماة المسماة تعود الى احدى الحضارات القديمة يمثلها على الخريطة الرقم .... 2 ...
- ٣/ هضبة نجد يمثلها على الخريطة الرقم .... 3 ...
- ٤/ الرقم 4 على الخريطة يمثل دولة عربية تسمى ... **موريتانيا** ....
- ٥/ الرقم 6 على الخريطة يمثل مسطح مائي يحد الوطن العربي من جهة الشمال يسمى ... **البحر المتوسط** ...
- ٧/ المحيط الأطلسي يمثلها على الخريطة الرقم .. 7 ...
- ٨/ جبال الأحجار يمثلها على الخريطة الرقم ... 9 ...
- ٩/ حضارة سبأ يمثلها على الخريطة الرقم ... 5 ...



## أهم المخططات السهمية

الوحدة الأولى

### مقومات الهوية العربية

الأهداف المشتركة

التراث

الدين واللغة

العادات والتقاليد

### تنقسم الهضاب في الوطن العربي

هضبة أفريقيا الشمالية ( الصحراء الكبرى )

هضبة شبة الجزيرة العربية وبلاد الشام

### عناصر المناخ

الرطوبة

الضغط الجوي

الرياح

الأمطار

الحرارة

### الرياح المحلية في الوطن العربي

السموم

الهبوب

القبلي

الخماسين

الشرقية

الطوز

النباتات الصحراوية

الحشائش

الغابات

### مصادر المياه في الوطن العربي

البحار

المياه الجوفية

الأنهار

البحيرات

الأمطار

### الحياة الحيوانية الصحراوية في الوطن العربي

الزواحف

الحشرات

الطيور

القوارض

الإبل والماعز



## أهم المخططات السعدية



### عوامل قيام الحضارة

مصادر المياه

الثروات الطبيعية

اعتدال المناخ

توافر العنصر البشري

بلاد الشام

دلمون

مصر القديمة

بلاد اليمن

بلاد الرافدين

البقول

الكتان

القمح

الفواكة

الآشوريون

البابليون

الكلدانيون

الأكاديون

السومريون

### حضارات جنوب غرب الجزيرة العربية ( بلاد اليمن

حمير

سبأ

معين

الديانة المسيحية

الديانة اليهودية

الديانة الإسلامية

### انتقال الحضارة العربية الإسلامية إلى أوروبا عن طريق

بلاد الشام ( الاحتلال الصليبي )

صقلية

الأندلس

### العلوم التي برع بها سكان بلاد الرافدين


الفلك


الطب

الحساب

الهندسة







الدين

عددي

اللغة

مفومات

الهوية

الأهداف المشتركة

العربية ؟

وحدة التراث

الوحدة الأولى :  
الدرس الأول -  
البيئة الطبيعية  
في الوطن العربي

- \* يمتد الوطن العربي ضمن قارتي آسيا وأفريقيا
- \* يضم الوطن العربي ٢٢ دولة
- \* تمثل مساحة الوطن العربي نحو ١٠٪ من جملة مساحة العالم
- \* تبلغ مساحة الوطن العربي ١٣,٥٠٠ مليون كم
- \* البحر الذي يفصل الجناح الآسيوي عن الجناح الأفريقي هو البحر الأحمر



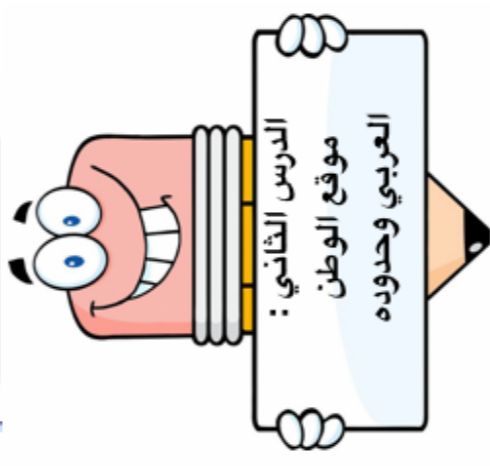
جمهورية جزر القمر  
الاتحادية الإسلامية :

تقع جمهورية جزر القمر خارج نطاق موقع الوطن العربي ، حيث تتكون من اتحاد أربع جزر مستقلة تقع شمال غرب جزيرة مدغشقر في المحيط الهندي ، عاصمتها موروني وانضمت إلى جامعة الدول العربية عام ١٩٩٣ .

الدولة العربية التي انضمت حديثا الى جامعة الدول العربية هي جمهورية جزر القمر وعاصمتها موروني

أكبر دولة في الجناح الآسيوي هي السعودية وأصغرهم البحرين

أكبر دوله بالجناح الأفريقي هي الجزائر وأصغرهم جزر القمر



الدرس الثاني :  
موقع الوطن العربي وحدوده

يمتد القسم الأكبر من الوطن العربي في قارة أفريقيا

يمتد الوطن العربي من المحيط الأطلسي غرباً الى بحر العرب والخليج العربي شرقاً ، ومن خط الإستواء إلى البحر المتوسط شمالاً

الدولة التي يمر بها خط جرينتش هي الجزائر

الدولة العربية التي يمر بها خط الإستواء هي الصومال

علل: يتمتع الوطن العربي بموقع استراتيجي ؟  
ج/ لأنه يقع في وسط العالم - يتحكم في المنافذ البحرية - يطل على عدة مسطحات مائية



مضيق جبل طارق وهذا المضيق يصل بين البحر المتوسط والأطلسي



قناة السويس وهذه القناة تصل بين البحر المتوسط والبحر



مضيق باب المندب وهذا المضيق يصل بين خليج عدن والأحمر



مضيق هرمز وهذا المضيق يصل بين الخليج العربي وعمان

خطوط الطول	دوائر العرض	وجه المقارنة
خطوط وهمية تقسم الكرة الأرضية الى قسمين شرق وغرب	خطوط وهمية تقسم الكرة الأرضية الى قسمين شمال وجنوب	التعريف
٣٦٠	١٨٠	العدد
جرينتش	الإستواء	الخط الرئيسي
معرفة الوقت	معرفة المناخ	الأهمية
الجزائر	الصومال	الدولة التي يمر بها

محيطات	خليجان	بحار
١- المحيط الأطلسي	١- الخليج العربي	١- البحر الأحمر
٢- المحيط الهندي	٢- خليج عدن	٢- البحر المتوسط
	٣- خليج عمان	٣- بحر العرب

البحر المتوسط وتركيا

يحد الوطن العربي من الشمال

يحد الوطن العربي من الشرق

إيران والخليج العربي

المحيط الأطلسي

يحد الوطن العربي من الغرب

القارة المجاورة للوطن العربي من جهة الشمال تسمى أوروبا

المسطح المائي الذي يحد الوطن العربي من جهة الغرب يسمى المحيط الأطلسي

يقع الوطن العربي بالنسبة لقارة أفريقيا شمال وشرق قارة أفريقيا

يقع الوطن العربي بالنسبة لقارة آسيا في جهة جنوب غرب آسيا

علل : تناقص الدول الاستعمارية للإستيلاء على الوطن العربي منذ القرن ١٨ م ؟  
ج/ ١- بسبب الأهمية الجغرافية والموقع الاستراتيجي  
٢- يطل على مسطحات مائية هامة  
٣- ذات أهمية كبيرة للملاحة والتجارة العالمية

علل : أهمية الوطن العربي ؟  
ج - ١ / الأهمية الجغرافية  
٢ / الأهمية الاقتصادية  
٣ / الأهمية الحضارية والثقافية

علل : يتمتع الوطن العربي بأهمية حضارية وثقافية ؟  
قامت على أرضة حضارات عديدة وهبطت على أرضة الديانات السماوية الثلاثة

علل : يتمتع الوطن العربي بأهمية اقتصادية كبيرة منذ القدم ؟  
ج/ ١- يعتبر منطقة عبور لحركة الملاحة والتجارة العالمية  
٢- جسر يربط قارات العالم الثالث ( اسيا لأوروبا و أفريقيا )  
٣- ظهور النفط بكميات كبيرة





## الملاحم السطح في الوطن العربي

الجنح الأفريقي		الجنح الآسيوي	
اسم الدولة التي يقع بها	اسم المظهر التضاريسي	اسم الدولة التي يقع بها	اسم المظهر التضاريسي
السودان مصر والسودان ليبيا الجزائر و المغرب الجزائر	جبال مرة جبال البحر الأحمر الجبل الأخضر جبال أطلس جبال الأحجار	العراق سوريا السعودية السعودية عمان الأردن	جبل شيوخا دار. جبل قاسيون الحجاز عسير. الجبل الأخضر جبل الشيخ
مصر وليبيا والجزائر تونس و الجزائر	هضبة أفريقيا الشمالية هضبة الشطوط .	الأردن السعودية	هضبة بادية الشام هضبة نجد
			الجنح السطح

تنقسم هضاب الوطن العربي إلى :-  
 ١/ هضبة شبة الجزيرة العربية وبلاد الشام  
 ٢/ هضبة أفريقيا الشمالية ( الصحراء الكبرى)

تعد  
 الهضاب اكثر الأشكال  
 التضاريسية انتشاراً في الوطن  
 العربي



شكل (٩) خريطة توضح الهضاب في الوطن العربي



شكل (٨) خريطة توضح الجبال في الوطن العربي

## السهول في الوطن العربي

### فرق بين السهول الفيضية ( النهرية ) والسهول الساحلية ؟

**السهول الساحلية :** هي الأراضي المنبسطة التي تجاور سواحل البحار والمحيطات .  
**مثل :** السهول الساحلية للبحر الأحمر و السهول الساحلية على المحيط الأطلسي

**السهول الفيضية ( النهرية) :** هي الأراضي المنخفضة التي تكونت من التربة التي حملتها مياه الأنهار  
**مثل :** سهول نهر النيل و سهول نهر جوبا


### أنواع السهول

### السهول الفيضية (النهرية)

### السهول الساحلية



اسم السهل	نوعه	يقع فيها السهل	الدول التي
نهر النيل	فيضية	مصر والسودان	
نهر شبلي	فيضية	الصومال	
نهر جوبا	فيضية	الصومال	
نهر المجردة	فيضية	تونس	
نهر الشليف	فيضية	الجزائر	
نهر سبو	فيضية	المغرب	
نهر أبو الرقراق	فيضية	المغرب	
نهر أم الربيع	فيضية	المغرب	
نهر السوس	فيضية	المغرب	
سهول المحيط الأطلسي	ساحلية	المغرب وموريتانيا	
سهول المغرب العربي	ساحلية	تونس والمغرب و الجزائر	
سهل ليبيا	ساحلية	ليبيا	
سهول البحر الأحمر	ساحلية	مصر والسودان	



اسم السهل	نوعه	يقع فيها السهل	الدول التي
نهر دجلة والفرات	فيضية	العراق	
نهر العاصي	فيضية	سوريا	
نهر الأردن	فيضية	الأردن	
سهول المحيط الهندي	ساحلية	عمان واليمن	
سهول الخليج العربي	ساحلية	دول الخليج	
سهل العلويين	ساحلية	سوريا	
سهل عكار	ساحلية	سوريا	
سهل لبنان	ساحلية	لبنان	
سهل الساحل الفلسطيني	ساحلية	فلسطين	
سهول البحر الأحمر	ساحلية	السعودية	

## الطقس

هو حالة الجو في فترة  
زمنية طويلة من حيث  
الحرارة والرطوبة والأمطار  
والرياح و الضغط الجوي

الدرس الرابع :  
المناخ في الوطن العربي

## المناخ

هو حالة الجو في فترة  
زمنية طويلة من حيث  
الحرارة والرطوبة والأمطار  
والرياح و الضغط الجوي

## عناصر المناخ

الرياح

الرطوبة

الضغط  
الجوي

الأمطار

درجة  
الحرارة

بما تفسر التالي :- ( علل )

١/ الأماكن القريبة والبعيدة من خط الإستواء تتميز بارتفاع درجات حرارتها على مدار أيام السنة ؟

ج - وذلك بسبب القرب أو البعد عن خط الإستواء

٢/ ارتفاع درجة الحرارة في وسط الوطن العربي **صيفاً** ؟

ج- لأن الشمس تكون عمودية على المنطقة الواقعة بين خط الإستواء ومدار السرطان

٢/ ارتفاع الحرارة جنوب الوطن العربي شتاءً ؟

ج - لأن الشمس تكون عمودية على المنطقة الواقعة بين خط الاستواء و مدار الجدي

٤/ إذا مرت الرياح على بحار محملة ببخار ماء قد تسبب سقوط الأمطار وإذا هبت من منطقة جافة فإنها لا تسقط مطراً ؟

ج- لان الرياح تأخذ صفة المنطقة التي تمر بها .

## عدد العوامل التي تؤثر في مناخ الوطن العربي ؟

03

٣ / التضاريس

01

٨ / الموقع بالنسبة  
لدوائر العرض

٤ / الرياح

04

٢ / القرب والبعد عن  
المسطحات المائية

02

## مباالفرق بين مناخ الوطن العربي في فصل الصيف والشتاء ؟

### الشتاء

تتعامد الشمس مع المنطقة الواقعة بين خط الاستواء  
و مدار **الجدي**

ترتفع الحرارة في جنوب الوطن العربي وتقل كلما  
اتجهنا شمالاً .

### الصيف

تتعامد الشمس مع المنطقة الواقعة بين خط الاستواء  
و مدار **السرطان** .

ترتفع الحرارة أكثر وسط الوطن العربي وتكون معتدلة  
على سواحل البحر المتوسط وشمال الوطن العربي

## الرياح المحلية



### الدولة

العراق

الكويت

السعودية

مصر

السودان

ليبيا

دول المغرب

### اسم الرياح .

الشرقية

الطوز

السموم - الطوز

الخماسين

الهبوب

القبلي

السيركو و  
السولانو




## النبات الطبيعي في الوطن العربي



علل : تنوع النباتات الطبيعي في الوطن العربي ؟ أو ( اذكر العوامل المؤثرة في تنوع  
النبات الطبيعي في الوطن العربي ) ؟  
ج/ بسبب ١- نوع التربة  
٢- المناخ ( اختلاف درجة الحرارة و كمية الأمطار )



أنواع الحياة النباتية في  
الوطن العربي



النباتات  
الصحراوية

الحشائش

الغابات

الغابات  
المعتدلة

الغابات  
المدارية الحارة

الحشائش الحارة  
( الأستبس )

الحشائش المعتدلة  
( الأستبس )

الغابات المعتدلة	الغابات المدارية الحارة	وجه المقارنة
تمتاز بعدم كثافتها - دائم الخضرة - بعضها تتساقط أوراقه في فصل الشتاء	أشجارها ضخمة - متشابكة الأغصان - أوراقها عريضة	مميزات أشجارها
الأرز / الصنوبر الحليبي / العرعر / البلوط / السنديان / أشجار الزيتون. / التفاح والحمضيات	الساج / الماهوجني / التاك / الأبنوس / السرر / الأثل / السنط .	أهم أشجارها
يستخدم لحاء البلوط والسنديان في صناعة الفلين	في البناء وصناعة الأثاث	الإستخدام



وجه المقارنة	الحشائش الحارة ( السافانا)	الحشائش المعتدلة ( الاستبس )
التعريف	هي حشائش طويلة يختلف نوعها حسب كمية الأمطار . وتنقسم إلى : ( طويلة - متوسطة - قصيرة )	هي حشائش قصيرة نوعاً ما تنمو في الشتاء خلال موسم سقوط الأمطار ** تعرف في بلاد المغرب باسم ( الحلفا ) **
الاستخدام	تتربى عليها الماشية .	تستخدم في صناعة الورق والحبال والحصر و تتربى عليها الأغنام والأبل و الخيول و الحمير .

تنتشر حشائش الأستبس في دولة عربية تسمى .... المغرب

تعرف حشائش الأستبس في بلاد المغرب باسم (الحلفا)



سفينة الصحراء تطلق على حيوان يسمى ...

الجمال

أهم الحيوانات السائدة في المنطقة الصحراوية :-  
\* الإبل - الماعز - الضب - الأرنب البرية  
\* الطيور مثل ( الصقور والبوم و الحبارى )  
\* الحشرات مثل ( الجراد والعقارب والخنفس )  
\* الزواحف مثل ( الأفاعي )  
\* الحيوانات القارضة مثل ( الفئران و الجربوع )

ج/ جذورها طويلة - القدرة على خزن المياه. - تحمي نفسها بلحاء سميك وأوراق إبرية  
اذكر وسائل مقاومة النباتات الصحراوية للجفاف ؟

## مصادر المياه في الوطن العربي

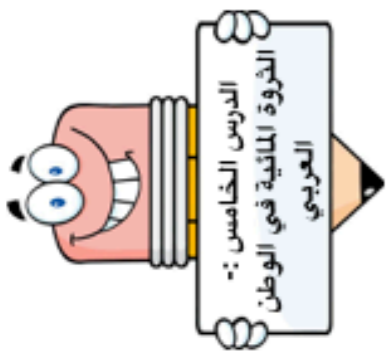
البحيرات

البحار  
و  
المحيطات

المياه  
الجوفية

الأمطار

الأنهار



تكثر الآبار الجوفية بالواحات التي تنتشر في المناطق الصحراوية

عدد مصادر المياه الجوفية ؟  
ج/ الآبار الجوفية - العيون و **الينابيع** -  
الآفلاج .

أهم مصادر المياه في الوطن العربي هي **الأنهار** وتمتاز بأنها مياة عذبة

- ماهي صفات الأمطار في الوطن العربي ؟
- ١- تذبذب كمية المطر بين عام وآخر
  - ٢- تكاد ان تقتصر على الأطراف الشمالية والجنوبية من الوطن العربي
  - ٣- قليلة بصفة عامة .

يمر نهر النيل  
بـ دولتين هما مصر  
والسودان

يصب نهر  
دجلة والفرات  
بالخليج  
العربي

أهم الأنهار في الوطن العربي في الجناح الآسيوي

اسم النهر	الدولة التي يمر بها
دجلة والفرات	العراق
نهر العاصي	سوريا
نهر الأردن	الأردن

تعتمد دولة الكويت كاملاً على تحلية مياة البحر منذ بداية ١٩٥٣ ( محطة الشويخ )

محطات تحلية المياه :-

الكويت ----- < محطة الشويخ  
السعودية ----- < محطة الأحساء  
قطر ----- < محطة عبود / ابو فنتاس

أهم الأنهار في الوطن العربي في الجناح الأفريقي

اسم النهر	الدولة التي يمر بها
النيل	مصر والسودان
جوبا / شيلي	الصومال
مجردة	تونس
الشليف	الجزائر
ام الربيع / السوس / أبو رفراق / سبو	المغرب

**كيف نحافظ على ثروة المياه ونخفف من المشكلة :-**

- ١/ ترشيد الإستخدام والحد من التبذير في المنازل.
- ٢/ استخدام وسائل الري الحديثة كالرش بالتنقيط المحوري .
- ٣/ إقامة البحيرات والسدود للإستفادة من مياة الأمطار والسيول.
- ٤/ تطوير استعمال مياة الصرف الصحي المعالجة في الزراعة .

أكثر دولة  
إستخدام للمياه  
المحلاة هي ...  
الكويت بنسبة  
٥٥٪



الدراسات الاجتماعية  
الكويت والوطن العربي

للمصف السابع



# حل تقويم الكتاب المدرسي الوحدة الأولى

المرحلة المتوسطة

الطبعة الثانية





## تقوم

### الوحدة الأولى

أولاً - أكمل الفراغات التالية :

- ١- يمتد الوطن العربي في قارة آسيا وقارة . **أفريقيا**
- ٢- أكبر دولة عربية في الجناح الآسيوي هي . **السعودية**
- ٣- الدائرة العرضية الرئيسية التي تقسم الكرة الأرضية إلى قسمين متساويين شمالي وجنوبي تسمى ..... **دائرة خط الإستواء**

- ٤- تشرف على قناة السويس دولة تسمى . **مصر**
- ٥- المسطح المائي الذي يحد الوطن العربي من الغرب يسمى . **المحيط الأطلسي**
- ٦- وصف حالة الجو في مكان ما لمدة قصيرة تتراوح بين يوم وعدة أيام يسمى **الطقس**
- ٧- من عناصر المناخ درجة الحرارة والرياح والضغط الجوي وعنصر آخر يسمى **الأمطار**
- ٨- سفينة الصحراء تطلق على حيوان يسمى ..... **الجمال**
- ٩- تنتشر حشائش الأستبس في دولة عربية تسمى ..... **المغرب**

ثانياً - اكتب المصطلح العلمي المناسب فيما يلي :

- ١- مساحة واسعة من الأرض تمتد ضمن قارتين من أكبر قارات العالم مساحة . ( **الوطن العربي** )
- ٢- مجرى مائي صناعي ضيق يشق لأغراض الري أو النقل . ( **القناة** )
- ٣- نقطة من الكرة الأرضية يتحدد موقعها بخطوط الطول ودوائر العرض . ( **الموقع الفلكي** )
- ٤- كل ما ارتفع عن الأرض له قمة لا يقل ارتفاعها عن ١٠٠٠ متر . ( **الجبيل** )
- ٥- وزن الهواء فوق أي مكان . ( **الضغط الجوي** )
- ٦- مسطح مائي تحيط به اليابسة من جميع الاتجاهات . ( **بحيرة** )

ثالثاً - أجب عما يلي كما هو بين الأقواس :

- ١- أهمية الوطن العربي (اذكر نقطتين) .  
..... **أهمية جغرافية** .....  
..... **أهمية اقتصادية** .....
- ٢- تركيز السكان في مناطق السهول الفيضية في الوطن العربي . (علّل)  
..... **لسهولة التنقل و خصوبة التربة و توفر المياه** .....



(دَلِّلْ)

٣- للمسطحات المائية تأثير في المناخ .

المدن الساحلية أكثر اعتدالاً في المناخ صيفاً وادفء شتاءً لأن البحر يلطّف الجوّ

(اذكرها)

٤- العوامل المؤثرة على توزيع النبات الطبيعي في الوطن العربي

١/ نوع التربة

٢/ المناخ

(استشهد بآية قرآنية)

٥- أهمية المياه في حياة الإنسان .

قال تعالى : ﴿ وجعلنا من الماء كل شيء حي ﴾

رابعاً - قارن بين المفاهيم التالية من حيث التعريف :

المضيق	القناة
ممر مائي ضيق يصل بين بحرين او محيطين او أي مساحتين كبيرتين نسبياً من الماء	مجرى مائي صناعي ضيق يشق لأغراض الري أو النقل
السهول	الهضاب
مساحات واسعة من سطح الأرض تتميز باستوائها وقلة ارتفاعها	أرض مرتفعة سطحها مستوي تمتد على مساحات كبيرة
الأفلاج	المياه الجوفية
مجرى مائي صغير من الأرض	ملي المياه التي توجد في جوف الأرض

خامساً - أجب عما يلي :

- عدد أسماء أربع دول عربية تنتهي بحرف النون :

الأردن	البحرين	لبنان	السودان
--------	---------	-------	---------

- صنف المسطحات المائية في الوطن العربي حسب الجدول التالي :

المحيطات	الخليجان	البحار
المحيط الأطلسي المحيط الهندي	الخليج العربي خليج عمان خليج عدن	البحر الأحمر البحر المتوسط بحر العرب

لاحظ العلم الذي أمامك فهو لدولة عربية تقع في الجناح الآسيوي :



البنان

- اسم هذه الدولة العربية؟






الأرز

- ما اسم النبات المرسوم على علم هذه الدولة؟

- ما دورك في المحافظة على النبات الطبيعي؟

المساهمة بالتشجير والمحافظة على الأشجار

بالاستعانة بالصور التالية اذكر أهم مصادر المياه الرئيسية المتوافرة في الوطن العربي .

		
الأنهار	الأمطار	البحار والمحيطات


### مشروع

- صمم حملة توعوية في المدرسة للمحافظة على البيئة النباتية والحيوانية .



لطفه

إعداد المعلمة: لطيفة الحربي



# الشاطئية الوحدة

## الوحدة الثانية... الوطء العربي معء الحضارات والديانات السماوية.

الحضارة : هي كل ما يطرا على المجتمع من تطور وتقدم ورفقي في جميع نواحي الحياة الدينية والسياسية والفكرية والاجتماعية

### عوامل قيام الحضارة :

- 1 الموقع الإستراتيجي
- 2 توافر المياه العذبة
- 3 اعتدال المناخ
- 4 توافر الثروات الطبيعية
- 5 توافر العنصر البشري



بابلون



مصر القديمة



بلاد الرافدين



بلاد الشام

أهم الحضارات التي قامت في الوطن العربي

حضارة طوبه (البحريه)	حضارة بلاد اليمه	حضارة بلاد الرافديه	الحضارة المصرية القديمة	العوامل التي ساعدت على قيام الحضارة
موقعها وسط الخليج العربي جعلها مركزاً للمواصلات والتجارة البحرية	١/ وفرة المياه العذبة. ٢/ المناخ المناسب للزراعة ٣/ الموقع الذي يسمح بقيام النشاط التجاري	١/ الموقع الممتاز ٢/ خصوبة التربة ٣/ وفرة المياه العذبة ( نهر دجلة والفرات )	١/ تنوع الصخور والمعادن ٢/ نهر النيل ٣/ امتداد الصحراء ٤/ اعتدال المناخ وجفافه	العوامل التي ساعدت على قيام الحضارة
* الزراعة * صيد الأسماك * الغوص عن اللؤلؤ	* الزراعة ( الموز - اللبان - القرفة ) أشهر السدود << سد صأرب	* الزراعة ( بسبب خصوبة تربتها وسعة سهولها ووفرة مياهها ) * التجارة ( الصادرات : المنتجات الزراعية و المنتجات الصوفية / الواردات : المعادن والأحجار والأخشاب ) * الصناعة ( صناعة الحلبي والأواني الفخارية )	* الزراعة ( القمح - الفواكه - البقول - الكتان ) * الصناعة ( صناعة الاواني الفخارية والمعدنية - الملابس الكتانية - السفن - الورق ) * تربية الماشية	الحياة الاقتصادية
قبيلة وائل التي حكمت البحرين كانت تعبد صنم اسمه ( اوال ) لذلك سميت البحرين بأوال قبل الفتح الإسلامي .	ورد ذكر مملكة سبأ بالقرآن الكريم وأشهر ملوكها ( الملكة بلقيس )	تطبيق شرائع حمورابي ٢٨٢ مادة قانونية مبدأها ( العين بالعين والسن بالسن ) نتيجة تطبيقها < انتشار الأمن والامان في البلاد (	علمي : حرص المصريون القدماء على تحنيط جثث موتاهم ؟ ج- لانهم اعتقدوا ( بالبعث والخلود ) وان الحياة تعود للجسم بعد الموت .	المعتقدات الدينية
---	---	العلوم مثل : الهندسة - الحساب - الفلك - الطب الفنون مثل : فن النحت - البناء - الرسم - الاواني الفخارية	الفلك - الكيمياء - التحنيط - النحت - البناء	العلوم والفنون
---	الأبجدية وتكتب بخط المسند تتألف من ٢٩ حرف	المسمارية ، حروفها تشبه المسمار وعددها ٦٠٠ حرف تكتب على ألواح من الطين الطري	الهيروغليفية	الكتابة
معبد باربار	سد صأرب	اسد بابل	الأهرامات	المعالم الحضارية
البحرين	اليمن	العراق	مصر	موقع الحضارة



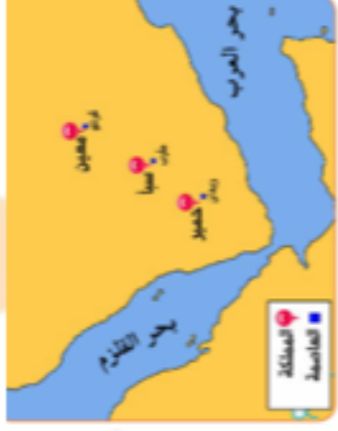
أكمل  
العبارات التالية :

- ١/ تعتبر الأهرامات مظهر من مظاهر حضارة ..... مصر القديمة
- ٢/ عرفت الكتابة المصرية القديمة باسم ..... الكتابة الهيروغليفية
- ٣/ اخترع السومريون نوعاً من الكتابة عرفت باسم ..... الكتابة  
المسمارية

٤/ من أقدم أنواع الكتابة في العالم وحروفها تشبه المسمار تسمى ..... الكتابة  
المسمارية

- ٥/ تقع دولة ..... حمير ..... في جنوب اليمن
- ٦/ تقع دولة ..... سبأ ..... في وسط اليمن
- ٧/ عاصمة دولة معين مدينته اسمها ..... قرناو .
- ٨/ أشهر ملوك سبأ و ورد ذكرها في القرآن ..... بلقيس .....
- ٩/ ظهرت شرائع قانونية قديمة في بلاد الرافدين أسمها شريعة ..... حمورابي
- ١٠/ الخط الذي كانت تكتب به الأبجدية في حضارة جنوب غرب شبه الجزيرة  
العربية هو .... المسند .

- ١١/ من أهم معالم دولة سبأ سد ..... مأرب .
- ٢/ عرفت حضارة اليمن الأبجدية وكانت تتكون من ..... ( ٢٩ ) حرف .
- ١٣/ أهم المعابد في حضارة دلمون معبد ..... ياريار .
- ١٤/ كانت دلمون تسمى قبل الفتح الإسلامي بإسم ..... أوال .....
- ١٥/ يطلق اسم بلاد الرافدين حالياً على دولة عربية تسمى .... العراق ....
- ١٦/ الورق المستخدم في الكتابة عند المصريين يسمى ورق ... البردي ...
- ١٧/ من أشهر ملوك الحضارة البابلية في العراق ملك يسمى .... حمورابي .....



شكل ( ٣٧ ) خريطة حضارات بلاد اليمن

الحضارات  
في بلاد  
اليمن

الحضارة	معين	سبأ	حمير
العاصمة	قرناو	مأرب	ريدان
الموقع	شمال اليمن	وسط اليمن	جنوب اليمن
اهم المعالم	مدينة بئث الدينية	مأرب	ريدان

علل :

– كان الوطن العربي مركزاً للحضارات المختلفة عبر التاريخ .

نظرا لتوفر مقومات قيام الحضارة ( الموقع

الاستراتيجي - المياه العذبة - اعتدال المناخ - الثروات

الطبيعية - العنصر البشري

– اهتمام المصريين القدماء بتحنيط جثث موتاهم .

لأنهم اعتقدوا في ( البعث والخلود ) وان الحياة تعود إلى الجسم بعد الموت

– ازدهار الزراعة في بلاد الرافدين بسبب خصوبة تربتها و سعة سهولها ووفرة مياهها ،

– تعد منطقة جنوب غرب شبة الجزيرة العربية من أكثر مناطق شبة الجزيرة ملائمة لقيام الحضارة . بسبب توافر المياه العذبة والمناخ المناسب لقيام الزراعة و الموقع الذي يسمح بقيام النشاط التجاري .

– كان أهل اليمن أسiad التجارة العربية .

لأنهم سيطروا على الطرق التجارية – امتدت تجارتهم بين شمال الجزيرة العربية وجنوبها – كان هناك تبادل تجاري مع الحضارات المجاورة لها .



## الوطن العربي مهد الديانات السماوية

\*\* نزل القرآن على سيدنا محمد صلى الله عليه وسلم عام ٦١٠ م في مكة المكرمة

يعتبر الوطن العربي مهد الديانات الثلاث التي انتشرت في أنحاء العالم .

الديانة	الكتاب	النبي
الإسلام	القرآن	محمد
المسيحية	الإنجيل	عيسى
اليهودية	التوراة	موسى



اسم المعلم الديني : - المسجد النبوي  
اسم الدولة : المملكة العربية السعودية



اسم المعلم الديني : - المسجد الحرام  
اسم الدولة : المملكة العربية السعودية



اسم المعلم الديني : - المسجد الأقصى  
اسم الدولة : فلسطين

## الحضارة العربية الإسلامية

عاشت أوروبا قبل القرن ١٠ الميلادي في عصور الظلام ؟ بسبب سيطرة الكنيسة

علل :-

عدد أسس الحضارة الإسلامية :-  
/ الصلاة في نظامها ومواقفيتها  
والصوم والزكاة التي تحقق التكافل الاجتماعي

عدد مبادئ الحضارة الإسلامية :-  
/ الشورى - العدل - المساواة

انتقلت الحضارة العربية الإسلامية إلى أوروبا عن طريق :-



بلاد الشام



جزيرة صقلية



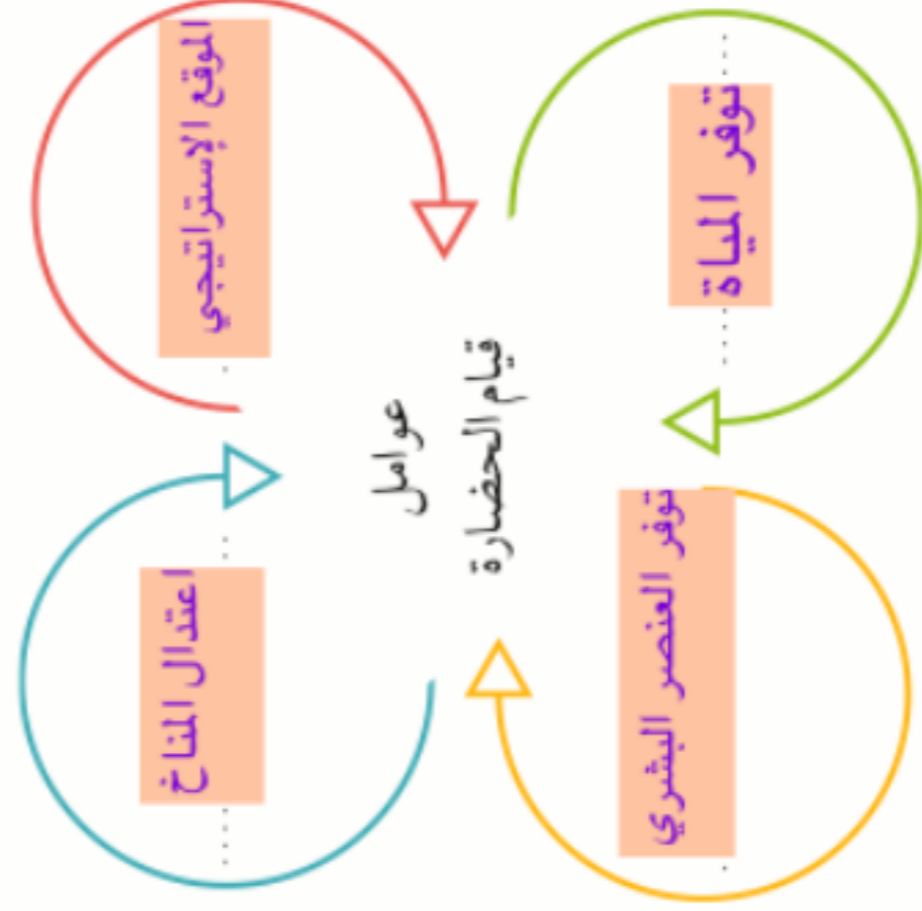
بلاد الأندلس

نعم بحمد الله تعالى للجميع بالنجاح

أولاً - أكمل الفراغات التالية بكلمات مناسبة :

- ١ - كل ما يطرأ على المجتمع من تقدم وتطور في جميع نواحي الحياة الدينية والسياسية والاقتصادية والاجتماعية والفكرية يسمى **الحضارة** .....
- ٢ - تعتبر الأهرامات مظهراً من مظاهر الحضارة **المصرية** .....
- ٣ - عرفت الكتابة المصرية القديمة باسم **الهيروغليفية** .....
- ٤ - يطلق اسم بلاد الرافدين أو بلاد ما بين النهرين على دولة عربية تسمى **العراق** .....
- ٥ - من أشهر ملوك الحضارة البابلية في العراق ملك يسمى **حمورابي** .....
- ٦ - يطلق على البحرين قديماً اسم **أوال** .....

ثانياً - أكمل المخطط التالي :



ثالثاً - اذكر أشهر المعالم الدينية حسب الصور في الجدول التالي :

اسم المتعلم الديني الكعبة المشرفة	اسم الدولة السعودية	
اسم المتعلم الديني المسجد الأقصى	اسم الدولة فلسطين	

رابعاً - لاحظ الصورة التالية ثم أجب عما يلي :



١ - اسم الشخصية التي في الصورة .

حمورابي

٢ - ما أهم ما اشتهر به؟

شرائع حمورابي

٣ - ما المبدأ الذي اعتمد عليه؟

العين بالعين والسن بالسن

خامساً - علل لما يأتي :

لتوفر المقومات الجغرافية والطبيعية في الوطن العربي مثل : الموقع الجغرافي والمناخ المناسب وتوفر الثروات الطبيعية وتوفر العنصر البشري

- كان الوطن العربي مركزاً للحضارات المختلفة عبر التاريخ

- اهتمام المصريين القدماء بتحنيط جثث موتاهم .

- لانهم اعتقدوا في ( البعث والظهور ) وأن الحياة تعود للجسم بعد الموت

- ازدهار الزراعة في بلاد الرافدين .

بسبب خصوبة تربتها و سعة سهولها ووفرة مياهها



- اقتصر ظهور المجتمعات الحضارية على الجزء الجنوبي الغربي من شبه الجزيرة العربية .
- بسبب توفر المياه العذبة ، والمناخ المناسب
- للزراعة ، والموقع الذي يسمح بقيام النشاط التجاري
- سادساً - صف الأسماء التالية في مكانها الصحيح في الجدول التالي :

(الإنجيل - موسى ﷺ - القرآن الكريم - عيسى ﷺ - التوراة - محمد ﷺ) .

النبى	الكتاب	الديانة
محمد	القرآن الكريم	الإسلام
عيسى	الإنجيل	المسيحية
موسى	التوراة	اليهودية

سابعاً - أجب عن الأسئلة التالية كما هو مطلوب بين القوسين :

- تُعدُّ حضارة (دلمون) مركزاً مهماً للمواصلات البحرية . (علّل)
- بحكم موقعها وسط الخليج العربي
- انتقلت الحضارة العربية الإسلامية إلى قارة أوروبا بفضل مراكز الإشعاع (عددتها)
- ١ - الأندلس
- ٢ - صقلية
- ٣ - بلاد الشام

### مشروع :

- شارك زملاءك في إعداد متحف مصغر يحتوي على صور ومجسمات وبعض الآثار للحضارات القديمة في الوطن العربي بمساعدة معلمك .





وزارة التربية

الإدارة العامة لمنطقة مبارك الكبير التعليمية

اختبار نهاية الفصل الدراسي الاول  
٢٠١٩ / ٢٠١٨

«السابع»	الصف
«الاجتماعيات»	المادة



السؤال الأول (موضوعي) : يتكون من ( أ - ب - ج - د - هـ - و ) ( لكل نقطة درجة )

( أ ) اختر الإجابة الصحيحة للعبارة التالية من بين الخيارات التي تلي كلاً منها وضع خطاً تحته :-

1- يقع جبل مرة في دولة عربية تسمى : ص 39

د- السودان      أ- الأردن      ب- المغرب      ج- العراق

2- عرف سكان بلاد اليمن قديماً الأبجدية وكانت تكتب بخط : ص 87

د- المسند      أ- الهيروغليفي      ب- المسماري      ج- الصيني

3- حشائش الاستنبس في بلاد المغرب العربي تسمى : ص 52

د- الصبار      أ- العرفج      ب- الصنوبر      ج- الحلفا

4- تمثل مساحة الوطن العربي من جملة مساحة العالم حوالي : ص 23

د- 25%      أ- 10%      ب- 15%      ج- 20%

5- أكبر الدول العربية في قارة آسيا تسمى : ص 23

د- الكويت      أ- اليمن      ب- السعودية      ج- سوريا

6- من محطات تحلية مياه البحر في دولة الكويت محطة : ص 61


د- الإحصاء      أ- رأس عبود      ب- أبو فنتاس      ج- الشويخ

( ب ) صنف الأسماء التالية حسب الجدول: ص 90

( القرآن الكريم - سيدنا موسى عليه السلام - التوراة - سيدنا محمد ﷺ - الأنجيل - سيدنا عيسى عليه السلام )

الكتاب	النبي	الديانة
القرآن الكريم	سيدنا محمد ﷺ	الإسلام
الأنجيل	سيدنا عيسى عليه السلام	المسيحية
التوراة	سيدنا موسى عليه السلام	اليهودية

( 1 )



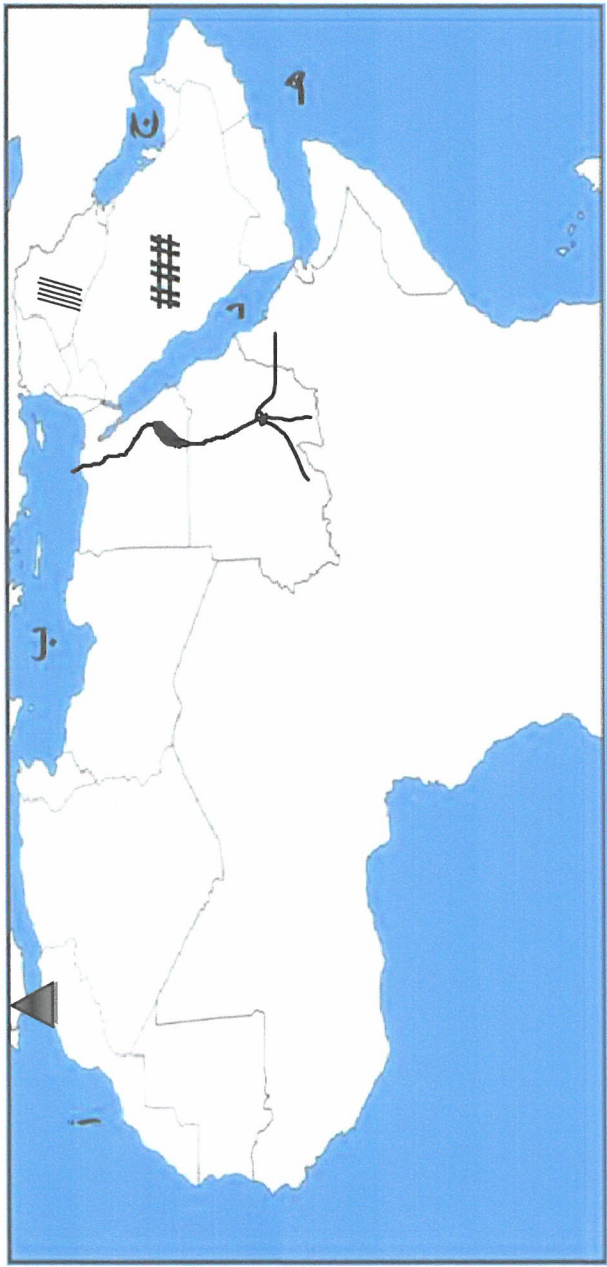


**(ج) أكمل العبارات التالية بما يناسبها مما درست :-**

- 1- موقع الدولة بالنسبة للدياس والماء يسمى ....الموقع النسبي... ص37
- 2- أرض مرتفعة سطحها مستوي وتمتد على مساحة كبيرة تسمى ...الهضبة ... ص40
- 3- من أشهر السدود الزراعية التي قام بها سكان بلاد اليمن يسمى ...مأرب.... ص86
- 4- يمتد وطننا العربي الكبير في قارتي آسيا و ....افريقيا .... ص21
- 5- يطلق على البحرين قديما قبل الفتح الإسلامي اسم ....أوال..... ص88
- 6- تعتبر حدائق بابل المعلقة مظهر من مظاهر حضارة تسمى ....بلاد الرافدين..... ص82


6

**(د) لاحظ خريطة الوطن العربي الصماء ، ثم أجب عن الأسئلة التي تليها :-**



- (1) الحرف ( ب ) يمثل مسطح مائي يسمى ...البحر المتوسط ... ص28
- (2) الرمز (###) يمثل هضبة تسمى ... نجد ... ص40
- (3) الخليج العربي يحمل على الخريطة حرف ... ج ... ص28
- (4) حدد على الخريطة مضيق جبل طارق بشكل . ▲ ص29
- (5) ظلل فوق موقع حضارة بلاد الرافدين . ▨ ص82
- (6) ارسم نهر النيل على الخريطة . ✍ ص58

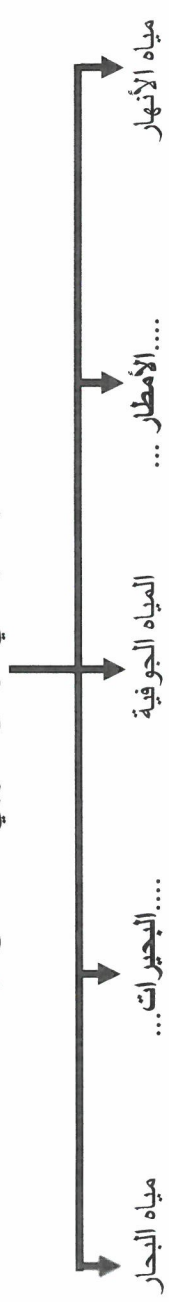
6



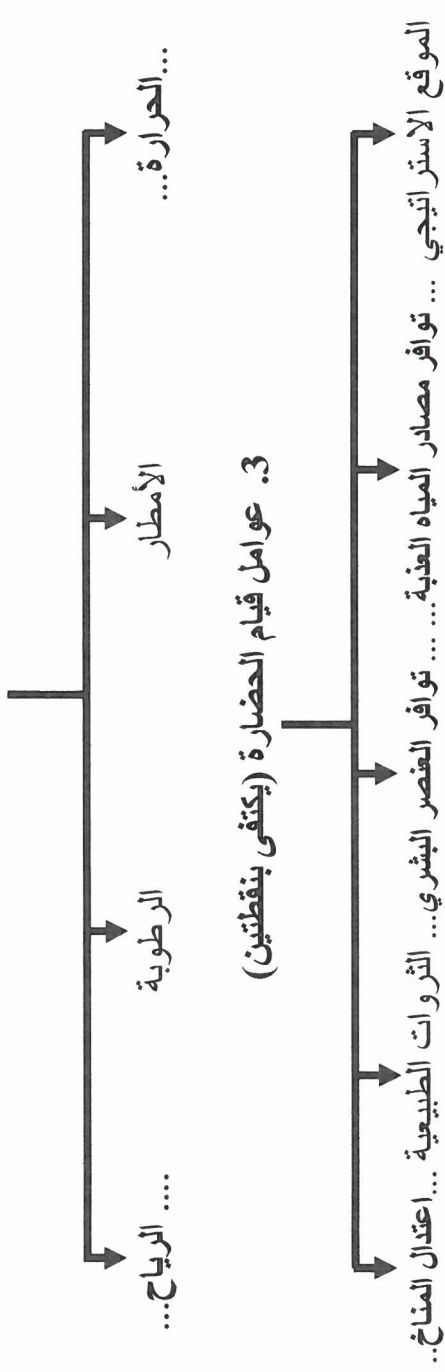
(2)

**هـ) أكمل المخطط السهمي التالي :**

**1. مصادر المياه في الوطن العربي ص 57**



**2. عناصر المناخ ص 45**



**3. عوامل قيام الحضارة (يكتفى بنقطتين)**

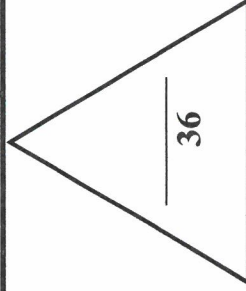


6

**ب) صحح ما تحته خط في العبارات التالية وذلك بكتابة التصويب في المكان المناسب :-**

العبارة	التصويب
المضيق الذي يصل بين الخليج العربي و خليج عمان يسمى <u>باب المنذب</u>	هرمز ص 29
ملكة سبا التي حكمت بلاد اليمن تسمى <u>كيلوبترا</u> .	بقيس ص 86
المسطح المائي الذي تحيط به اليابسة من جميع الاتجاهات يسمى <u>الخليج</u>	البحيرات ص 60
يعتبر معبد باربارا من مظاهر <u>حضارة اليمن</u> .	حضارة نلمون ( البحرين) ص 73
اخترع السومريون نوعا من الكتابة عرفت باسم الكتابة <u>الهيروغليفية</u>	المسمارية ص 83
حالة الجو خلال فترة زمنية طويلة يسمى <u>الطقس</u>	المناخ ص 44

6



( 3 )



السؤال الثاني (المقالي) : يتكون من ( أ - ب - ج ) .

( أ ) : عرف المفاهيم التالية :- ( لكل مفهوم درجة )

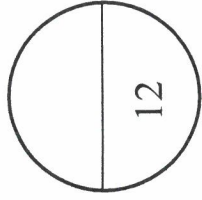
- 1- النبات الطبيعي : هو النبات الذي ينمو تلقائياً عقب سقوط الأمطار دون تدخل من الإنسان ص 51
- 2- حضارة : كل ما يطرأ على المجتمع من تقدم و تطور و رقي في كل نواحي الحياة الدينية و السياسية ص 71
- 3- المضييق : ممر مائي ضيق يصل بين البحرين أو محيطين أو أي مساحتين كبيرتين من الماء ص 28
- 4- السهول : مساحة كبيرة من سطح الأرض تتميز باستوائها و قلة ارتفاعها ص 42

( ب ) : علل لما يلي ( اذكر السبب ) :-

- 1- يتمتع الوطن العربي بأهمية اقتصادية منذ القدم . ( درجة )
  - منطقة عبور لحركة الملاحة والتجارة العالمية - جسر يربط بين قارات العالم الثلاث القديم ص 35
  - سكان الوطن العربي يشكلون 5% من سكان العالم
- 2- ازدهار الزراعة في بلاد الرافدين . ( يكتفى بنقطتين ) ( درجة )
  - خصوبة التربة - سعة السهول - وفرة المياه - إقامة السدود ص 81
- 3- حرص المصريون القدماء على تحنيط جنث موتاهم . ( درجة )
  - اعتقدوا أن الحياة تعود بعد الموت ( البعث والخلود ) ص 76
- 4- كانت أوروبا قديماً تعيش في عصور الظلام . ( درجة )
  - سبب سيطرة الكنيسة على عقول الناس . ص 92

( ج ) : أجب عما يلي :-

- 1- عدد - العوامل المؤثرة في تنوع النبات الطبيعي في الوطن العربي . ( درجتان )
  - نوع التربة
  - المناخ
- 2- اذكر - مراكز الإشعاع التي بفضلها انتقلت الحضارة العربية الإسلامية الى قارة أوروبا . ( درجتان )
  - بلاد الأندلس
  - صقلية
  - الاحتلال الصليبي لبلاد الشام



السؤال الثالث (المقالى) : يتكون من ( أ - ب - ج ) .



( أ ) لاحظ الصورة التي أمامك ثم أجب عن الأسئلة التالية :

- 1- ما اسم الحضارة التي تمثلها هذه الصورة ؟ (درجة )
- الحضارة المصرية القديمة  
ص74
- 2- اذكر اثنين من عوامل قيام هذه الحضارة . (درجتان )
- تنوع الصخور والمعادن - امتداد الصحراء ص74  
• نهر النيل - اعتدال المناخ وجفافه
- (ب) اكتب نقطتين فيما يلي :

- 1- الفنون التي اشتهر فيها سكان بلاد الرافدين . (درجتان )
- النحت  
• البناء  
• الرسم  
• الاواني الفخارية
- 2- صفات الأمطار في الوطن العربي . (درجتان )
- تذبذب كمية الامطار بين عام و اخر  
• تسقط في ايام معدودة  
• الامطار تقتصر على الاطراف الشمالية والجنوبية
- 3- العوامل التي تنثر في مناخ الوطن العربي . (درجتان )
- الموقع بالنسبة لدوائر العرض  
• القرب أو البعد من المسطحات المائية .  
• التضاريس  
• الرياح .

(ج) قارن بين كل مما يلي حسب الجدول التالي

وجه المقارنة	الغابات المدارية ص52	الغابات المعتدلة ص52
مميزات اشجارها	• تمتاز بضخامة اشجارها و جذوعها - تشابك اغصانها - اوراقها العريضة - ارتفاعها الكبير (درجة)	• تنسم هذه الغابات بعدم كثافتها - بعضها يكون دائم الخضرة و بعضها تتساقط اوراقه في فصل الشتاء. (درجة)
أهم الأشجار	• الساج - التاك - الماهوجني - الاينوس - السدر - الاثل - والسنت ( نصف درجة)	• البلوط - السنديان - الأرز- العرعر- الصنوبر - الزيتون-التفاح - الحمضيات والفواكه (نصف درجة)