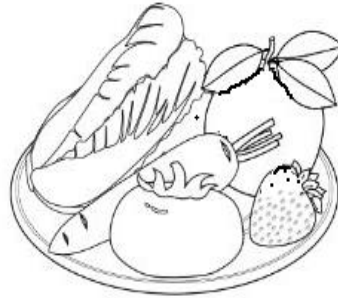
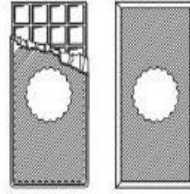
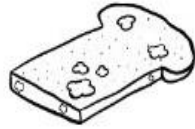
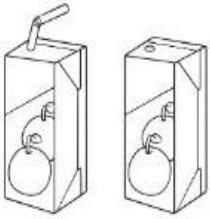


السؤال الأول: ظللي دائرة الملابس المناسبة لهذا الولد :



السؤال الثاني : لوني الأطعمة غير الصالحة للأكل :



السؤال الثالث : رتبي مراحل نمو الإنسان :




()




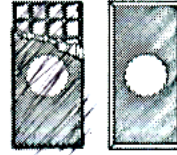
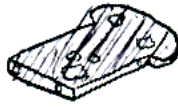
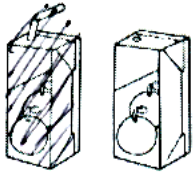
()

()

السؤال الأول: ظللي دائرة الملابس المناسبة لهذا الولد :



السؤال الثاني: لوني الأطعمة غير الصالحة للأكل :



السؤال الثالث: رتبي مراحل نمو الإنسان بالأرقام :



(٢)

(١)

(٣)