



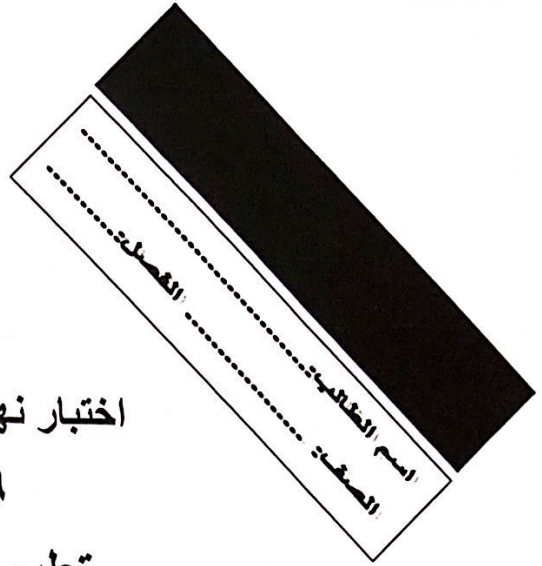
وزارة التربية

الإدارة العامة لمنطقة الجهاد التعليمية

اختبار نهاية الفصل الدراسي الأول

٢٠٢٠ / ٢٠١٩

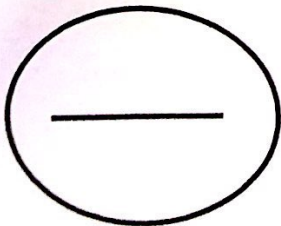
تعليم الكبار ومحو الأمية



التاسع	الصف
الاجتماعيات	المادة

رقم السؤال	الدرجة	المصحح	المراجع
السؤال الأول			
السؤال الثاني			
السؤال الثالث			
السؤال الرابع			
السؤال الخامس			
السؤال السادس			
السؤال السابع			
السؤال الثامن			
السؤال التاسع			
السؤال العاشر			
المجموع			

الدرجة بالحروف :



وزارة التربية
مكتب المدير العام
منطقة الجهاد التعليمية

وزارة التربية
مكتب المدير العام
منطقة الجهاد التعليمية



وزارة التربية

امتحان نهاية الفترة الدراسية الأولى

العام الدراسي 2019 / 2020م

الإدارة العامة لمنطقة الجهراء التعليمية للصف التاسع (تعليم كبار)

الزمن : ساعة ونصف

التوجيه الفني للاجتماعيات

الكويت والعالم

عدد الورق : (7)

السؤال الأول : (موضوعي) يتكون من (أ- ب- ج- د- هـ- و)

أ - أكمل العبارات التالية بما يناسبها فيما درست :-

- 1- العالم الذي استخدم علم البيئة الطبيعية كمفهوم جديد يدرس في الجامعات يسمى
- 2- أول رياضي عربي تسلق قمة إفرست أسمة
- 3- حصلت الناشطة الكينية وانجاري ماثاي على جائزة نوبل للسلام في
- 4 - وحدة قياس ضغط الصوت (volume) تسمى
- 5- الذراع الرئيسي للدبلوماسية الكويتية هو

مس ولاء صلاح / قناة هالة

ب - اختر الإجابة الصحيحة من بين البدائل التالية :-

- 1- تقع الكويت ضمن المناخ
(المناخ الحار - المناخ المعتدل الدافئ - المناخ المعتدل البارد - المناخ البارد)
- 2- يعد الإقليم المناخي للبحر المتوسط ضمن الإقليم المناخي
(الحار - المعتدل الدافئ - المعتدل البارد - البارد)
- 3 - تتمثل الدول المتقدمة حضاريا في عدة دول ليس من بينهم دولة
(اليابان - كندا - الولايات المتحدة الأمريكية - الهند)
- 4 - من أشد أنواع التلوث خطرا
(التلوث الهوائي - التلوث المائي - تلوث التربة - التلوث الضوضائي)
- 5 - من أدوات تنفيذ السياسة الخارجية
(الدبلوماسية - استخدام القوة السياسية - توقيع المعاهدات والاتفاقيات - كل ما سبق)

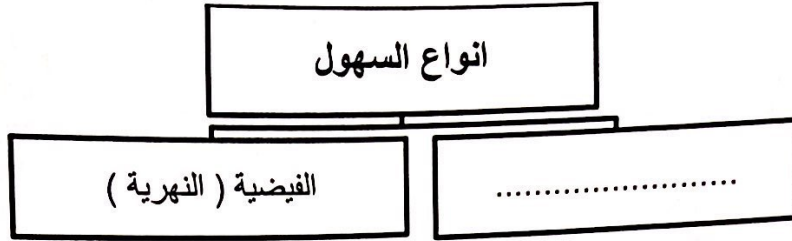
ج - اختر من المجموعة (أ) ما يرتبط بها من المجموعة (ب) بوضع الرقم المناسب :

ع	المجموعة (أ) المؤلفات	الرقم المناسب	المجموعة (ب) مؤلف الكتاب
1	الإنسان والحيوان		أضرار التلوث الهوائي
2	الكائنات الحية النباتية		عناصر غير الحية
3	بكتيريا وفطريات		العناصر الحية المحللات
4	الماء والهواء		العناصر الحية المستهلكة
5	نشر كثير من الأمراض		العناصر الحية المنتجة
			أضرار التلوث الضوضائي

د - اكتب المفاهيم والمصطلحات الدالة على العبارات التالية : - خمس درجات

- 1- (.....) هو التفاعل المستمر بين مكونات البيئة الذي يحفظ استقرارها النسبي في زمن محدد دون ان يتأثر أي مكون من مكوناته
- 2- (.....) الملامح الرئيسية لشكل سطح الأرض من مرتفعات ومنخفضات وأودية وسهول
- 3- (.....) مجموعة من العناصر الحية وغير الحية تتفاعل مع بعضها البعض ضمن وحده بيئية متجانسة ونظام متوازن ودقيق
- 4- (.....) أي تغير غير مرغوب فيه في الخواص الطبيعية أو الكيميائية أو البيولوجية للبيئة المحيطة
- 5- (.....) عدم وجود ما يكفي من الموارد المائية المتاحة لتلبية مطالب استخدام المياه داخل المنطقة

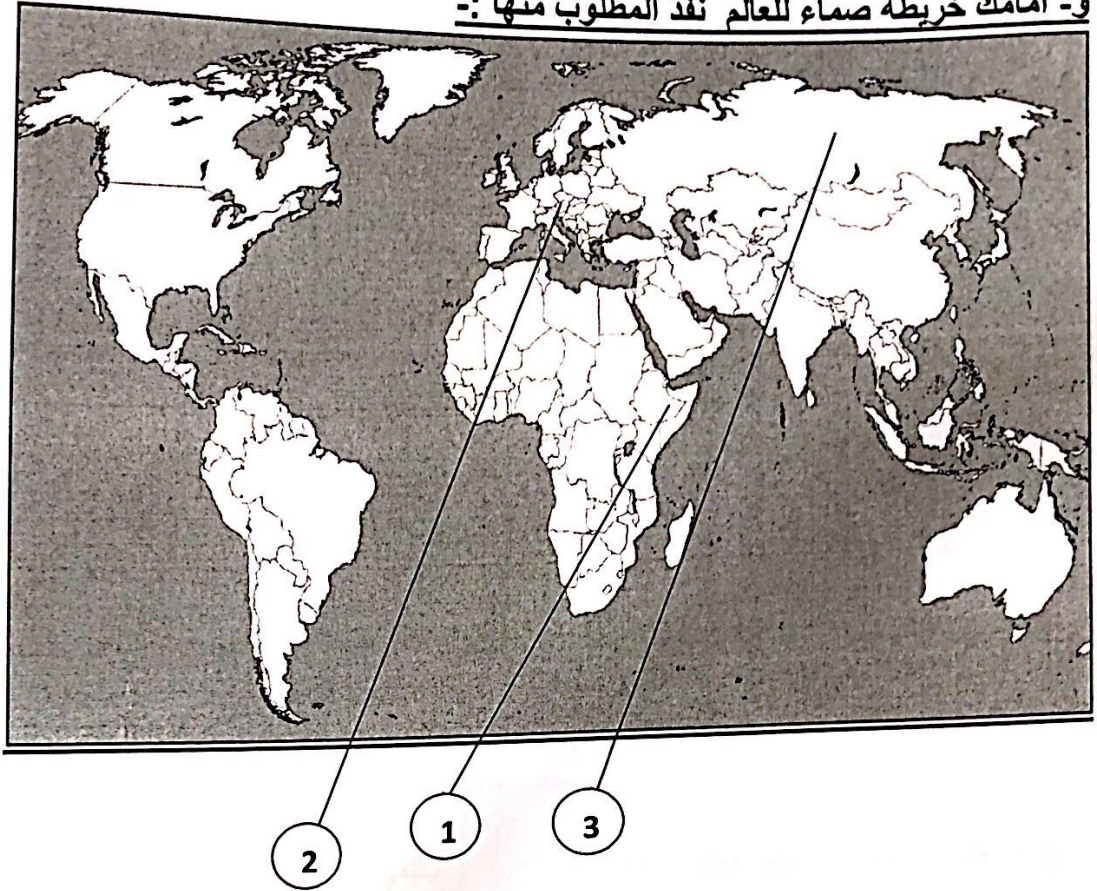
هـ - أكمل المخططات السهمية التالية :- خمس درجات



مس ولاء صلاح / قناة هالة



و- أمامك خريطة صماء للعالم نفذ المطلوب منها :-

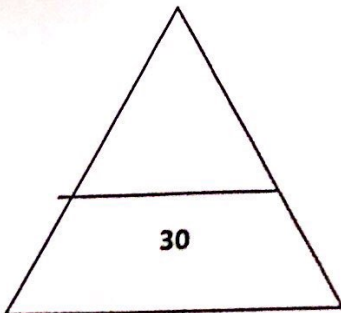


أولا : اكتب مدلولات الأرقام التالية :-

- 1 - سهول سيبريا تحمل رقم (.....)
- 2 هضبة أثيوبيا تحمل رقم (.....)
- 3 - جبال الألب تحمل رقم (.....)

ثانيا : حدد كل مما يلي على خريطة باستخدام الرموز التالية :-

- 1 - حدد باستخدام ***** جبال الروكي
- 2 - ظلل الدولة التي يوجد بها هضبة نجد السعودية



مس ولاء صلاح / قناة هالة

السؤال الثاني : يتكون من (أ - ب - ج)

أ - فرق بين كل من حسب الجدول

المناخ	الطقس
تصحّر طفيف	تصحّر شديد جدا

ب علل لما يأتي :-

1- التصحر الطبيعي في الكويت ؟ يكتفي بنقطة

.....

2 - أهمية زراعة الأشجار لكوكب الأرض ؟ يكتفي بنقطة

.....

3 - تعد البيئة المعتدلة من أفضل البيئات للعيش على وجه الكره الأرضية ؟ يكتفي بنقطة

.....

ج عدد ما يلي :

1- عناصر المناخ ؟ يكتفي باثنين

.....

2 - مراحل تطور علاقة الإنسان بالبيئة ؟ يكتفي باثنين

.....

3 - العوامل المؤثرة في العلاقات السياسية بين الدول؟ يكتفي باثنين

.....

مس ولاء صلاح / قناة هالة

تابع امتحان الفترة الدراسية الأولى لمادة الاجتماعيات للصف التاسع (تعليم كبار) لعام 2019 / 2020 م .

السؤال الثالث : يتكون من أ - ب - ج - :-

أ - اقرأ لفقرة التالية ثم اجب عما يليها من أسئلة :-

تعد البيئة الطبيعية التي أوجدها الله سبحانه وتعالى بعناصرها المختلفة وبيئتها البحرية الممتدة في البحار والمحيطات والتي تغطي 71% من مساحة الكرة الأرضية لخدمة الإنسان وتوفير احتياجاته الضرورية

1- عرف البيئة الطبيعية

.....

2 - اذكر مميزات البيئة البحرية 30 يكتفي بنقطتين

.....
.....

3 - حول نسبة البيئة البحرية (البحار والمحيطات) إلى رسم بياني دائري

ب - قارن حسب الجدول ثلاث درجات

وجه المقارنة	خطوط الطول	دوائر العرض
العدد		
خط الأساس		
الأهمية		

ج - اجب عما يلي :- ثلاث درجات

1 - مصادر تلوث التربة يكتفي بنقطتين

.....

2- الأسباب البشرية لمشكلة التصحر ؟

يكتفي بنقطتين

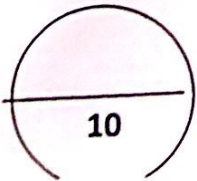
.....

3- مظاهر الاحتباس الحراري بكوكب الأرض

يكتفي بنقطتين

.....

مس ولاء صلاح / قناة هالة



السؤال الرابع يتكون من (أ - ب - ج)

أ - اكتب فيما يأتي :

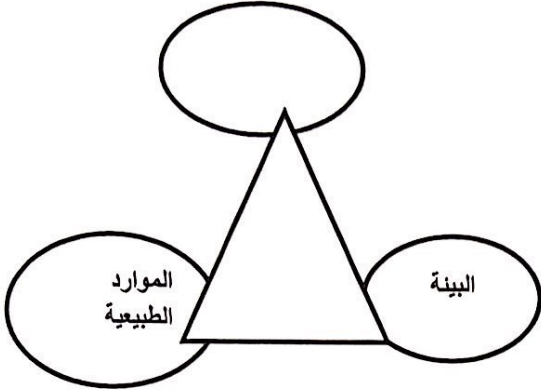
1- أضرار التلوث الهوائي ؟

.....

2- مصادر المياه ؟

.....

3- أضلاع مثلث الحياة



مس ولاء صلاح / قناة هالة

ب اذكر اثنين لكل من :-

1 - أنواع البيئة التضاريسية؟

يكتفي باثنين

.....

2 - كيفية المحافظة على المياه ؟

يكتفي باثنين

.....

.....

3 - أقسام الموقع ؟

يكتفي باثنين

.....

ج - ما المقصود بكل من :

1 - مفهوم الاقتصاد البيئي

2 - التصحر

3- الاحتباس الحراري.....

4- السياسة الخارجية