



مدرستي

الكويتية



school-kw.com



وزارة التربية

# الدراسات الاجتماعية الكويت والوطن العربي

للفص السابع



المرحلة المتوسطة

الطبعة الثانية





مدرستي

الكويتية

school-kw.com



وزارة التربية

# الدراسات الاجتماعية الكويت والوطن العربي

للفص السابع

تأليف

أ. رضا أبو حسين

أ. شيخة التركيت

أ. عادل الشراح

أ. صالح دشتي

لجنة التعديل

أ. قتيبة محمود الفيلكاوي

أ. سلطان محمد مناحي المطيري

أ. حنان مصطفى محمد الكندري

أ. عدنان مشري معتق الظفيري

أ. عبدالرحمن بركة الرشيد

أ. ناصر سعيد دغيم المطيري

أ. محمود جاسم محمود المحميد

أ. أسماء بدر حسن الفيلكاوي

الطبعة الثانية

١٤٤٠ - ١٤٤١ هـ

٢٠١٩ - ٢٠٢٠ م

حقوق التأليف والطبع والنشر محفوظة لوزارة التربية - قطاع البحوث التربوية والمناهج

إدارة تطوير المناهج



مدرستي

الكويتية

school-kw.com

الطبعة الأولى ٢٠١٢/٢٠١١ م  
الطبعة الثانية ٢٠١٨/٢٠١٧ م  
٢٠٢٠/٢٠١٩ م

شاركنا بتقييم مناهجنا



الكتاب كاملاً



طبع في : الألفين للطباعة

أودع بمكتبة الوزارة تحت رقم (٨) بتاريخ ٢٠١٧/٤/٢ م



مدرستي

الكويتية

school-kw.com





مدرستي

الكويتية

school-kw.com



مدرستي

الكويتية

school-kw.com



صاحب السمو الشيخ أحمد الجابر الصباح

أمير دولة الكويت



مدرستي

الكويتية

school-kw.com



مدرستي


الكويتية

school-kw.com



سَيِّدُ الشَّيْخِ نَوَافِ بْنِ جَبْرِ بْنِ الصَّبَّاحِ

وَلِيِّ عَهْدِ دَوْلَةِ الْكُوَيْتِ



مدرستي

الكويتية

school-kw.com



مدرستي

الكويتية

school-kw.com

# المحتوى

الصفحة	الموضوع
١٥	تصدير
١٧	مقدمة
١٩	<b>الوحدة الأولى: الوطن العربي مقومات وملامح جغرافية</b>
٢١	● <b>الدرس الأول: البيئة الطبيعية في الوطن العربي</b>
٢١	أ - تعريف الوطن العربي .
٢٣	ب - دول الوطن العربي .
٢٦	ج - هوية الوطن العربي .
٢٨	● <b>الدرس الثاني: موقع الوطن العربي</b>
٢٨	أ - موقع الوطن العربي وحدوده .
٣١	ب - الموقع الفلكي للوطن العربي .
٣٣	ج - الموقع النسبي للوطن العربي .
٣٥	د - أهمية موقع الوطن العربي .
٣٧	● <b>الدرس الثالث: ملامح السطح في الوطن العربي</b>
٣٨	أ - الجبال في الوطن العربي .
٤٠	ب - الهضاب في الوطن العربي .
٤٢	ج - السهول في الوطن العربي .
٤٤	● <b>الدرس الرابع: المناخ في الوطن العربي</b>
٤٤	أ - ما المقصود بالمناخ؟ وما الفرق بين الطقس والمناخ؟
٤٦	ب - العوامل التي تؤثر في مناخ الوطن العربي .
٤٩	ج - مناخ الوطن العربي في فصلي الصيف والشتاء .



مدرستي

الكويتية

school-kw.com



الصفحة	الموضوع
٥١	● <b>الدرس الخامس : النبات الطبيعي في الوطن العربي</b>
٥١	أ - العوامل الرئيسية المؤثرة في تنوع النبات الطبيعي في الوطن العربي .
٥٢	ب - الحياة النباتية في الوطن العربي .
٥٧	● <b>الدرس السادس : الثروة المائية في الوطن العربي</b>
٥٧	١ - مصادر المياه في الوطن العربي .
٦٣	٢ - ترشيد استخدام المياه .
٦٥	● <b>التقويم</b>
٦٩	● <b>الوحدة الثانية : الوطن العربي مهد الحضارات والديانات السماوية .</b>
٧١	● <b>الدرس الأول : الأهمية الحضارية للوطن العربي</b>
٧٤	● <b>الدرس الثاني : نماذج من الحضارات القديمة في الوطن العربي</b>
٧٤	١ - الحضارة المصرية القديمة .
٧٩	٢ - حضارة بلاد الرافدين .
٨٥	٣ - حضارة جنوب غرب شبه الجزيرة العربية (بلاد اليمن) .
٨٨	٤ - حضارة دلمون (البحرين) .
٩٠	● <b>الدرس الثالث : الوطن العربي مهد الديانات السماوية الثلاث</b>
٩٠	١ - الديانة اليهودية ٢ - الديانة المسيحية ٣ - الديانة الإسلامية
٩٢	● <b>الدرس الرابع : الحضارة العربية الإسلامية</b>
٩٣	● <b>التقويم .</b>



مدرستي

الكويتية

school-kw.com

الصفحة	الموضوع
٩٧	الوحدة الثالثة : الوطن العربي ملامح بشرية واقتصادية
٩٩	● الدرس الأول : نمو السكان وتوزيعهم في الوطن العربي
١٠٠	١ - التوزيع الجغرافي للسكان في الوطن العربي .
١٠٢	٢ - الكثافة السكانية في الوطن العربي .
١٠٦	٣ - النمو السكاني في الوطن العربي .
١٠٩	● الدرس الثاني : الموارد الاقتصادية في الوطن العربي
١١٠	أولاً : إنتاج الغذاء في الوطن العربي .
١١٠	أ - الإنتاج الزراعي .
١١١	ب - مقومات الإنتاج الزراعي .
١١٣	ج - المحاصيل الزراعية في الوطن العربي .
١١٥	د - المشكلات التي تعاني منها الزراعة في الوطن العربي .
١١٧	ثانياً : الإنتاج الحيواني
١١٧	أ - الثروة الرعوية .
١٢٠	ب - تربية الدواجن والطيور .
١٢٢	ج - الثروة المائية .
١٢٤	ثالثاً : الطاقة والثروة المعدنية
١٢٥	أ - النفط والغاز الطبيعي .
١٣١	ب - أهمية النفط العربي .



مدرستي

الكويتية

school-kw.com

١٢



الصفحة	الموضوع
١٣٢	ج - التعدين في الوطن العربي .
١٣٤	د - المنظمات الاقتصادية الإقليمية والدولية .
١٣٧	رابعاً : الإنتاج الصناعي
١٣٩	أ - مقومات الصناعة في الوطن العربي .
١٤١	ب - أنواع الصناعة في الوطن العربي .
١٤٧	خامساً : النقل والتبادل التجاري في الوطن العربي
١٤٧	أ - طرق النقل .
١٥١	ب - التبادل التجاري .
١٥٣	● التقييم
١٥٩	<b>الوحدة الرابعة : الوطن العربي قضايا وتحديات وحلول نحو مستقبل عربي أفضل</b>
١٦١	● <b>الدرس الأول : المشكلات الأساسية في الوطن العربي</b>
١٦١	أ - المشكلات المرتبطة بالزراعة .
١٦٤	ب - مشاكل استثمار المياه .
١٦٦	ج - التلوث البيئي .
١٧٢	● <b>الدرس الثاني : نحو مستقبل عربي أفضل</b>
١٧٢	١ - التنمية في الوطن العربي .
١٧٣	أ - التنمية الاقتصادية .
١٧٤	ب - التنمية البشرية .
١٧٥	ج - التنمية المستدامة .



مدرستي

الكويتية

school-kw.com

الصفحة	الموضوع
١٧٧	٢ - التعاون والتضامن العربي لتحقيق التقدم والتنمية .
١٧٧	أ - دور الجامعة العربية في تحقيق التكامل بين الدول العربية .
١٧٨	ب - مؤسسات التعاون العربي المشترك .
١٨١	ج - نموذج للتعاون العربي المشترك بين دول ذات انتماء جغرافي .
١٨٢	د - دور دولة الكويت في العمل العربي المشترك .
١٨٤	٣ - الصندوق الكويتي للتنمية الاقتصادية العربية .
١٨٦	٤ - استضافة دولة الكويت لأضخم وأهم المؤتمرات الاقتصادية العربية .
١٨٦	أ - القمة العربية الاقتصادية والتنموية والاجتماعية (٢٠٠٩م) .
١٨٨	ب - المؤتمر الدولي للمانحين لدعم الوضع الإنساني في سوريا (الأول - الثاني - الثالث) .
١٩١	● التقويم
١٩٨	المراجع



مدرستي

الكويتية

school-kw.com

لم يعد خافياً على كل مهتم بالشأن التربوي الأهمية القصوى للمناهج الدراسية ، وذلك ، لأنها ترتكز بطبيعتها على فلسفة المجتمع وتطلعاته بالإضافة لأهداف النظام التعليمي والمنظومة التعليمية ، لذلك نجد أن صناعة المنهج أصبحت من التحديات التي تواجه التربويين ؛ لارتباطه بأسس فنية ذات علاقة وثيقة بالبنية التعليمية مثل : الأسس الفلسفية والتربوية والاجتماعية والثقافية ، ومن - هنا - اكتسبت المناهج الدراسية أهميتها ومكانتها الكبرى .

ونظراً لهذه المكانة التي تبوأتها المناهج الدراسية ، قامت وزارة التربية بعملية تطوير واسعة ، استكمالاً لكل الجهود السابقة ، حيث قامت بإعداد الكتب والمناهج الدراسية وفقاً للمعايير والكفايات سواء العامة أو الخاصة ، وذلك لتحقيق نقلة نوعية في الشكل والمضمون ، ولتكون المناهج برؤيتها الجديدة ذات بعد عملي تطبيقي وظيفي يرتبط بقدرات المتعلمين وسوق العمل ومتطلبات المجتمع وغيرها من أبعاد المناهج التربوية ، مع تأكيدنا بأن ذلك يأتي أيضاً متسقاً مع التطورات الحديثة ، إن كانت في مجال الفكر التربوي والسلوك الإنساني أو القفزات المتسارعة في مجال التكنولوجيا ، والتي أصبحت جزءاً لا يتجزأ من حياة الإنسان ، وأيضاً ما أملتته التطورات الثقافية والحضارية المعاصرة وانعكاساتها على الفكر ونمط العلاقات الإنسانية .

ونحن من خلال هذا الأسلوب نتطلع إلى أن تسهم المناهج الدراسية في تحقيق أهداف دولة الكويت بشكل عام وأهداف النظام التعليمي بشكل خاص ، والتي تأتي في طليعتها تنشئة لأجيال مؤمنة بريها مخلصه لوطنها تتمتع بقدرات ومهارات عقلية ومهارية واجتماعية تجعل منهم مواطنين فاعلين ، ومتفاعلين ، محافظين على هويتهم الوطنية ومنفتحين على الآخر ومتقبلينه مع احترام حقوق الإنسان وحرياته الأساسية والتمسك بمبادئ السلام والتسامح ، والتي صارت من أهم متطلبات الحياة المستقرة الكريمة .

والله ولي التوفيق ، ، ،

الوكيل المساعد لقطاع البحوث التربوية والمناهج  
د . سعود هلال الحربي



مدرستي

الكويتية

school-kw.com



مدرستي

الكويتية

school-kw.com

## المقدمة

نقدم لأبنائنا الأعزاء طلاب وطالبات الصف السابع ، كتاب الدراسات الاجتماعية (الكويت والوطن العربي) ، المعدل تطبيقاً لرؤية المنهج الوطني الكويتي الجديد القائم على الكفايات . . وهو كما يتضح من عنوانه يدور حول أهمية الولاء للوطن والهوية العربية ، والانتماء للأرض ، بأسلوب علمي متطور واضح ، مع الاعتماد على المصادر الأصلية مدعومة بالخرائط والأشكال والرسوم البيانية ، والجداول الموثقة المرتبطة بالمادة العلمية ؛ لتساعد المتعلم على اكتساب المعارف والقيم والمهارات ، وقد نظمنا محتوى الكتاب في صورة وحدات ، تضم كل وحدة مجموعة من الدروس ، وجاء عرض الوحدات لينمي مهارة الطالب في التفكير والتحليل والتفسير والاستنتاج والتقويم ، فضلاً عن التفاعل الإيجابي من خلال ممارسة الأنشطة التعليمية داخل بيئة الصف وخارجه .

وفي الختام نرجو أن يحقق هذا الكتاب الأهداف التي وضع من أجلها ، سائلين المولى -عز وجل- أن يحفظ وطننا الكويت والأمة العربية ، ويحقق لنا المزيد من التقدم .

والله ولي التوفيق ، ، ،

المعدلون



مدرستي

الكويتية

school-kw.com



ستتعرف في هذه الوحدة على ما يلي :

- ١ - اختلاف عناصر البيئة الطبيعية (الموقع - التضاريس - المناخ - الحياة النباتية والحيوانية)
- ٢ - كيفية تطبيق المفاهيم التي درستها في الوحدة



مدرستي  
الكويتية

school-kw.com

# الوحدة الأولى

الوطن العربي مقومات  
وملامح جغرافية



- الدرس الأول : البيئة الطبيعية في الوطن العربي
- الدرس الثاني : موقع الوطن العربي
- الدرس الثالث : ملامح السطح في الوطن العربي
- الدرس الرابع : المُنَاخ في الوطن العربي
- الدرس الخامس : النبات الطبيعي في الوطن العربي
- الدرس السادس : الثروة المائية في الوطن العربي
- التقويم



مدرستي

الكويتية

school-kw.com



مدرستي

الكويتية

school-kw.com

## الدرس الأول : البيئة الطبيعية في الوطن العربي

### أ - تعريف الوطن العربي



ابحث وتعلم :



شكل (١) موقع الوطن العربي على خريطة العالم

**نشاط (١)** لاحظ الخريطة شكل (١) ثم شارك زملاءك في الإجابة عن الأسئلة التي تليها :

علام يدل اللون الأصفر في الخريطة .

..... **الوطن العربي** .....

ما اسم القارات التي يمتد فيها وطننا العربي؟

..... **آسيا - إفريقيا** .....

ما موقع الوطن العربي بالنسبة إلى قارات العالم؟

..... **وسط العالم** .....





نشاط (٢) لاحظ الجدول التالي :

الدولة	اللغة الرسمية	الدين
الكويت	اللغة العربية	الإسلام
المملكة المغربية	اللغة العربية	الإسلام
المملكة الأردنية	اللغة العربية	الإسلام

ماذا تستنتج من الجدول السابق؟

..... أن هناك مجموعة من الروابط المشتركة بين الدول العربية .....

نشاط (٣) من خلال نشاط (١) ونشاط (٢) أوجد تعريفاً للوطن العربي حسب رأيك .

إذن نستنتج أن الوطن العربي:

هو مجموعة الدول العربية التي يجمعها عدد من السمات المشتركة (الدين واللغة) ويمتد ضمن قارتين من أكبر قارات العالم مساحة .



مدرستي

الكويتية

school-kw.com

## ب - دول الوطن العربي

لنقم عزيزي المتعلم برحلة في وطننا العربي لتتعرف على عدد الدول العربية وأسماءها وعواصمها .



شكل (٢) خريطة الوطن العربي السياسية



جمهورية جزر القمر  
الاتحادية الإسلامية :

تقع جمهورية جزر القمر خارج نطاق موقع الوطن العربي ، حيث تتكون من اتحاد أربع جزر مستقلة تقع شمال غرب جزيرة مدغشقر في المحيط الهندي ، عاصمتها موروني وانضمت إلى جامعة الدول العربية عام ١٩٩٣ .

### نشاط (١)

صنف الدول العربية الآسيوية والدول العربية الأفريقية في الجدول التالي :

الدول العربية الأفريقية		الدول العربية الآسيوية	
	أكبر دولة عربية		أكبر دولة عربية
	أصغر دولة عربية		أصغر دولة عربية

تمثل مساحة الوطن العربي نحو ١٠٪ من جملة مساحة العالم والتي تبلغ ١٣,٥٠٠ مليون كم<sup>٢</sup> تقريباً بعد انفصال جنوب السودان عن جمهورية السودان .





## نشاط (٢)

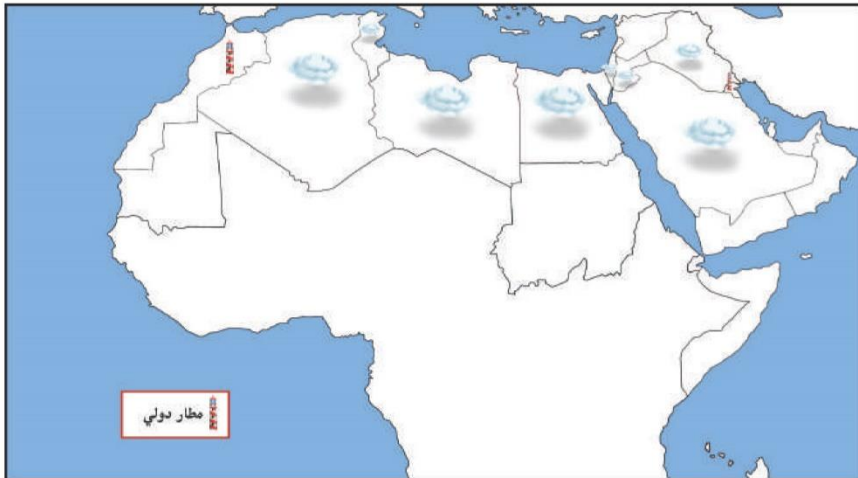
استعن بالشكل رقم (٢) ثم أجب عما يلي :  
 ما اسم البحر الذي يفصل الجناح الآسيوي عن الجناح الأفريقي؟  
 ..... **البحر الأحمر** .....



ما الدولة التي انضمت حديثاً لجامعة الدول العربية؟  
 ..... **جزر القمر** .....

## نشاط (٣)

- أراد خالد السفر من مطار الكويت الدولي إلى مطار المغرب الدولي .
- هل تستطيع مساعدة خالد في رسم مسار رحلة الطائرة على الخريطة؟
  - اكتب أسماء الدول العربية التي سوف تمر الطائرة في أجوائها على الخريطة .



شكل (٣) الخريطة الصماء للوطن العربي



مدرستي

الكويتية

school-kw.com



مدرستي

الكويتية

school-kw.com

## نشاط (٤)

بالاستعانة بالأطلس المدرسي وشبكة الإنترنت تعرف على أسماء الدول العربية وعواصمها .



البحرين	الإمارات	عمان	السعودية	قطر	الكويت	اسم الدولة العربية
المنامة	ابوظبي	مسقط	الرياض	الدوحة	الكويت	عاصمتها



الأردن	سوريا	فلسطين	لبنان	العراق	اليمن	اسم الدولة العربية
عمان	دمشق	القدس	بيروت	بغداد	صنعاء	عاصمتها



موريتانيا	المغرب	الجزائر	تونس	ليبيا	مصر	اسم الدولة العربية
نواكشوط	الرباط	الجزائر	تونس	طرابلس	القاهرة	عاصمتها



جزر القمر	الصومال	جيبوتي	السودان	اسم الدولة العربية
موروني	مقديشو	جيبوتي	الخرطوم	عاصمتها



## ج - هُويّة الوطن العربي



مدرستي  
الكويتية

school-kw.com



في هذا الامتداد تعيش مجموعة من الدول التي تتكلم لغة واحدة وهي اللغة العربية لغة القرآن الكريم ، والتي ساهمت في امتزاج (اختلاط) هذه الدول ثقافياً وحضارياً وتاريخياً أي أنها ذات هُوية واحدة ، وكونت شعوب هذه المنطقة وطناً كبيراً له عاداته وتقاليده وقيمه ، وتربط بين أبنائه وحدة الدين واللغة والتراث والأهداف المشتركة ، وهذه الهوية هي التي اجمعت عليها دول الوطن العربي على امتداده الجغرافي .

### نشاط (١)

أكمل المخطط السهمي التالي بعد الاستعانة بالفقرة السابقة :





مدرستي


الكويتية

school-kw.com

## نشاط (٢)

ساعد خالدًا في كتابة رسالة إلى أحد أصدقائه في الخارج ، يبيّن فيها أهم العادات والتقاليد العربية في

الوطن العربي .





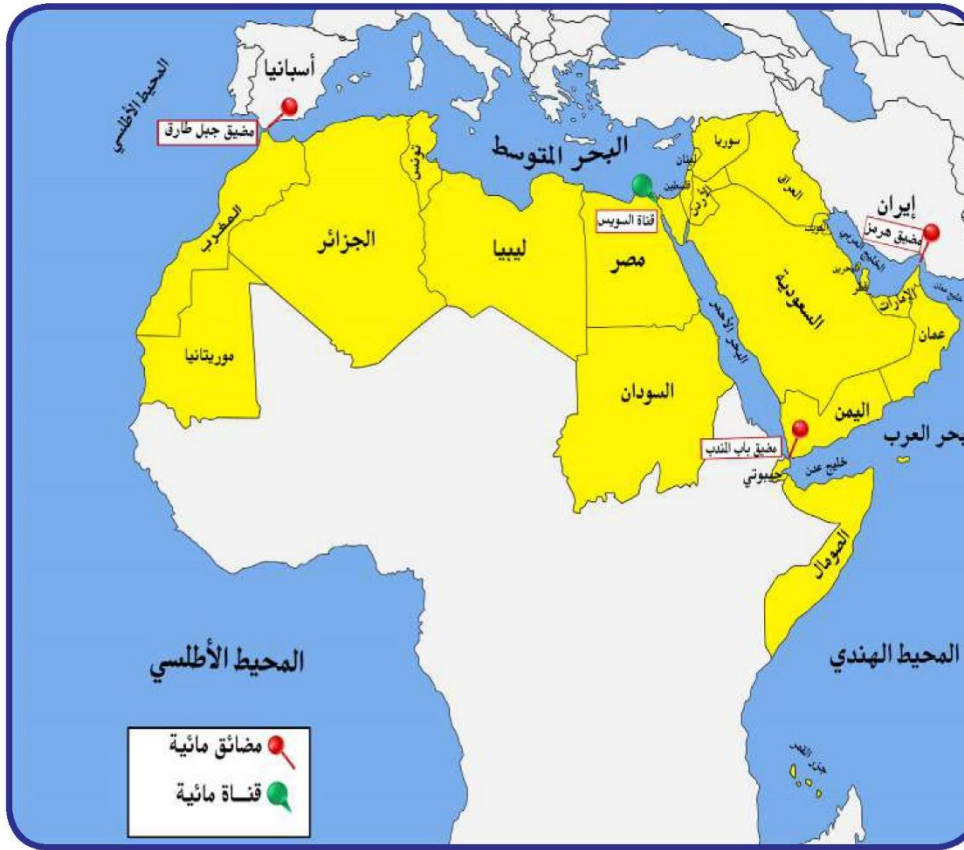
## الدرس الثاني : موقع الوطن العربي

### أ - موقع الوطن العربي وحدوده

لماذا يتمتع الوطن العربي بموقع إستراتيجي مهم  
تتجدد أهميته على مر العصور؟



استنتج



الموقع الإستراتيجي :

أي موقع ذي  
مكانة مهمة بين دول  
العالم .

شكل (٤) خريطة توضح الموقع الإستراتيجي للوطن العربي

#### المضيق :

ممر مائي ضيق يصل  
بين بحرين أو محيطين أو أي  
مساحتين كبيرتين نسبياً من  
الماء .

#### القناة :

مجرى مائي صناعي ضيق  
يشق لأغراض الري أو  
النقل .

#### المسطحات المائية :

جميع أشكال المياه على سطح  
الأرض مثل البحار والخلجان  
والمحيطات ، البحيرات ،  
والأنهار . . . إلخ .



مدرستي

الكويتية

school-kw.com

## نشاط (١)

استعن في الشكل رقم (٤) ثم أجب عما يلي :-

ما الصفات الأساسية التي يتمتع بها موقع الوطن العربي؟  
**يقع وسط العالم - يطل على مسطحات مائية مهمة -**  
**يتحكم بمضائق مائية مهمة في التجارة العالمية**



في أي قارة يمتد القسم الأكبر من الوطن العربي؟  
**قارة إفريقيا**

## نشاط (٢)

ساعد خالداً في التعرف على أسماء المضائق ، والممرات المائية وكذلك أسماء المسطحات المائية التي تتصل بهما .



مضيق  
**جبل طارق**  
وهذا المضيق  
يصل بين البحر  
**الأبيض**  
والمحيط  
**الأطلسي**



قناة  
**السويس**  
وهذه القناة  
تصل بين البحر  
**الأحمر**  
والبحر  
**الأبيض**  
**المتوسط**



مضيق  
**باب المندب**  
وهذا المضيق  
يصل بين خليج  
**عدن**  
والبحر  
**الأحمر**



مضيق  
**هرمز**  
وهذا المضيق  
يصل بين الخليج  
**العربي**  
وخليج  
**عمان**





مدرستي

الكويتية

school-kw.com



### نشاط (٣)

صنف المسطحات المائية للوطن العربي من خلال خريطة شكل (٤) حسب الجدول التالي :

بحار	خلجان	محيطات
١ - بحر العرب	١ - الخليج العربي	١ - المحيط الهندي
٢ - البحر الأحمر	٢ - خليج عمان	٢ - المحيط الأطلسي
٣ - البحر الأبيض المتوسط	٣ - خليج عدن	.....



مدرستي

الكويتية

school-kw.com

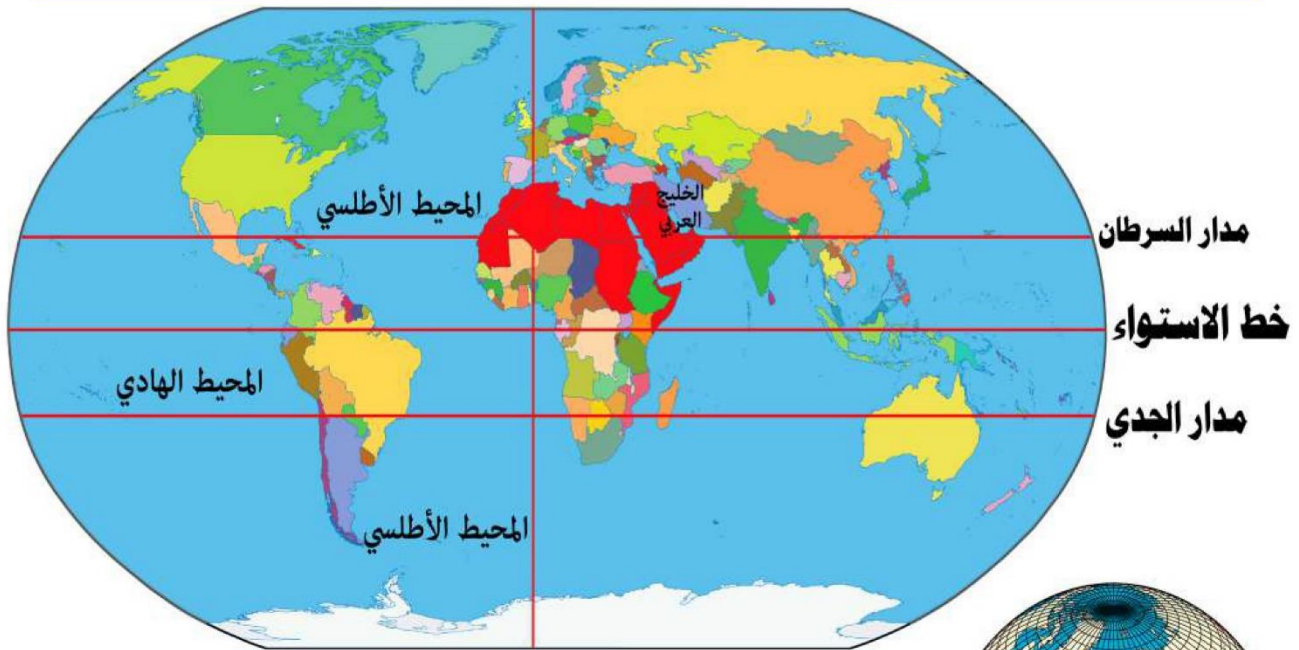
## ب - الموقع الفلكي للوطن العربي



ابحث وتعلم :

رسم العلماء خطوطاً وهمية طولية وعرضية على مجسم الكرة الأرضية وعلى الخرائط ، وتعرّف هذه الخطوط باسم (خطوط الطول ودوائر العرض) .

وبهذا يكون **الموقع الفلكي** : هو نقطة من الكرة الأرضية يتحدد موقعها بخطوط الطول ودوائر العرض ، ويمتد الوطن العربي من المحيط الأطلسي غرباً إلى بحر العرب والخليج العربي شرقاً ، ومن خط الاستواء إلى البحر المتوسط شمالاً .



خط غرينتش



شكل (٥) خريطة توضح خطوط الطول ودوائر العرض



## نشاط (١)

قارن بين خطوط الطول ، و دوائر العرض حسب الجدول التالي :

أوجة المقارنة	خطوط الطول	دوائر العرض
التعريف	خطوط وهمية ترسم على الكرة الأرضية تقسمها لقسمين شرق وغرب	خطوط وهمية ترسم على الكرة الأرضية تقسمها لقسمين شرق وغرب
العدد	٣٦٠	١٨٠
الخط الرئيسي	جرينتش	خط الاستواء
مميزاته	معرفة التوقيت	معرفة المناخ



## نشاط (٢)

من خلال شكل رقم (٥) أفكر ثم أجييب .

ما الدول العربية التي يمر بها خط الاستواء؟

.....  
**الصومال**

ما الدولة العربية التي يمر بها خط جرينتش؟

.....  
**الجزائر**



\* يمكن الاستعانة بكتاب الدراسات الاجتماعية للصف السادس .



مدرستي

الكويتية

school-kw.com



مدرستي

الكويتية

school-kw.com

## ج - الموقع النسبي للوطن العربي



الموقع النسبي: هو موقع الدولة بالنسبة لليابسة والماء.

ابحث وتعلم :



شكل (٦) الخريطة السياسية للوطن العربي

### نشاط (١)

لاحظ الشكل رقم (٦) ثم أجب عما يليه .

ما القارة المجاورة للوطن العربي من جهة الشمال؟

أوروبا

ما المسطح المائي الذي يحده الوطن العربي من جهة الغرب؟

المحيط الأطلسي

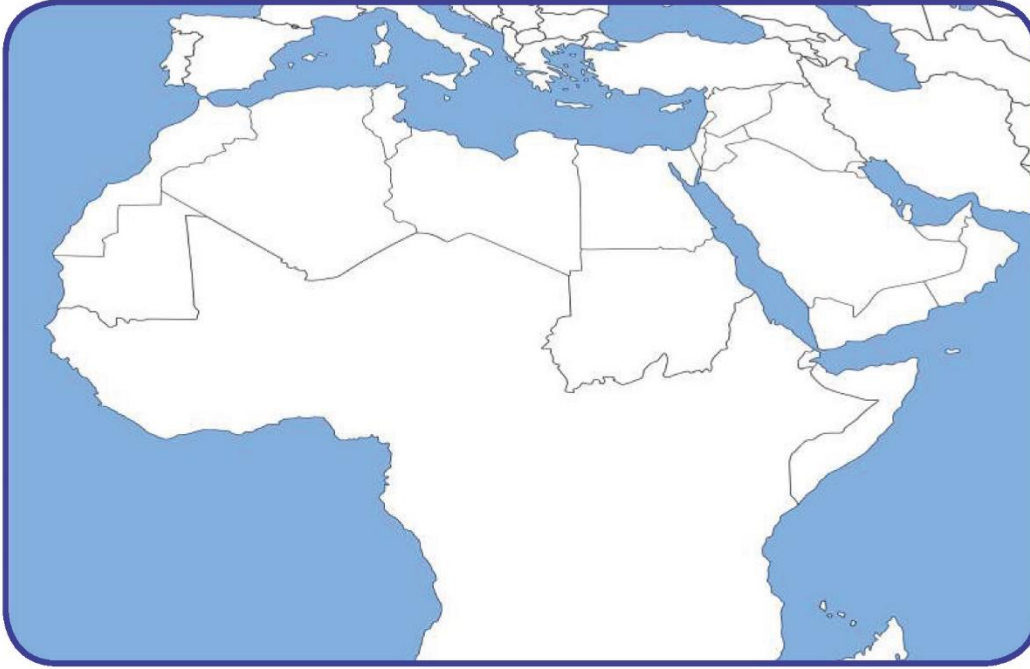




## نشاط (٢)

بمساعدة معلمك استعن ببرنامج google earth ( ) لتحديد ما يلي :

- موقع الوطن العربي بالنسبة لقارة آسيا وأفريقيا .....
- ..... **جنوب غرب آسيا - شمال إفريقيا** .....
- موقع بلادك الكويت على الخريطة .
- اكتب أسماء المسطحات المائية التي تحد الوطن العربي من الشرق والجنوب الشرقي على الخريطة .
- ظلل الحدود الجنوبية البرية للوطن العربي على الخريطة باللون الأصفر .



**اقرأ وتعلم :** إن للوطن العربي حدوداً بحرية وبرية ، يحده من الشمال البحر المتوسط وتركيا ، ومن الشرق إيران والخليج العربي ، ومن الغرب المحيط الأطلسي .



مدرستي

الكويتية

school-kw.com



مدرستي

الكويتية

school-kw.com

## د - أهمية موقع الوطن العربي

### ١ - الأهمية الجغرافية للوطن العربي :

تعرف على الأهمية الجغرافية للوطن العربي من خلال الحوار التالي بين خالد ووالده .

هل تعلم يا خالد أن الوطن العربي يتمتع بموقع إستراتيجي مهم ، أكسبه مكانة مهمة بين دول العالم في أوقات السلم والحرب .  
حيث إنه يشغل مكاناً وسطاً بين قارات العالم الثلاث ، ويطل على مسطحات مائية واسعة ذات أهمية كبيرة للملاحة والتجارة العالمية .



وماذا ترتب على هذه الأهمية يا والدي؟



ترتب على هذه الأهمية يا خالد تنافس الدول الاستعمارية للاستيلاء عليه منذ القرن ١٨ الميلادي وتقسيمه لعدة دول ، وقد قاومت هذه الدول الاستعمار للحصول على استقلالها .



### ٢ - الأهمية الاقتصادية للوطن العربي :

يتمتع الوطن العربي بأهمية اقتصادية كبيرة منذ القدم كمنطقة عبور لحركة الملاحة والتجارة العالمية ، وهو الجسر الذي يربط قارات العالم الثلاث (أفريقيا - آسيا - أوروبا) بمواردها الهائلة وال ضخمة ، وسكان الوطن العربي الذين يشكلون ٥٪ تقريباً من سكان العالم .  
كما أدى ظهور النفط بكميات كبيرة بمنطقة الخليج العربي وشبه الجزيرة العربية وبعض مناطق شمال أفريقيا إلى تزايد هذه الأهمية .



مدرستي

الكويتية

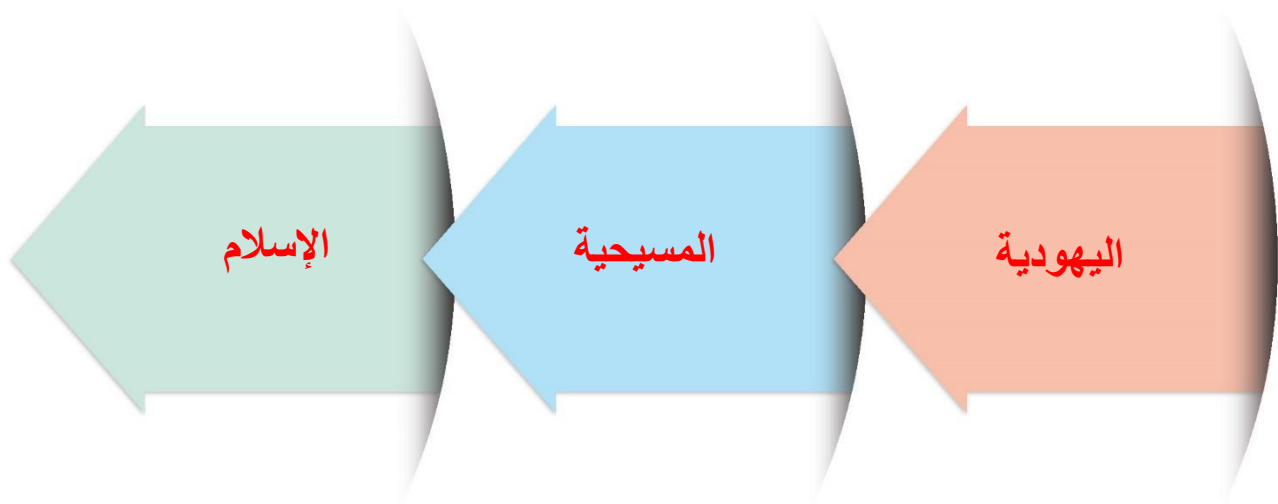
school-kw.com



### ٣ - الأهمية الحضارية والثقافية للوطن العربي :

قامت على أراضي الوطن العربي حضارات عديدة ، وهبطت على أرضه الديانات السماوية التي انتشرت في أنحاء العالم .

نشاط (١) بالاستعانة بالإنترنت  ابحث عن الديانات السماوية الثلاث وسجلها .





مدرستي

الكويتية

school-kw.com

## الدرس الثالث

### ملامح السطح في الوطن العربي

سبق أن درست خريطة دولة الكويت الطبيعية وتعرفت على مظاهر السطح وأصبحت قادراً الآن على أن تقرأ شكل (٧) وأن تميز بين الظاهرات الطبيعية .



شكل (٧) مظاهر السطح

**نشاط (١)** شارك زملاءك في التمييز بين ملامح السطح في شكل (٧) حسب الجدول التالي :

الوديان	السهول	الهضاب	الجبال	أوجه المقارنة
أرض منخفضة بين الجبال أو السهول	مساحة كبيرة من الأرض باستوائها وقلّة ارتفاعها	أرض مرتفعة سطحها مستوي ومساحتها كبيرة	كل ما ارتفع عن سطح الأرض وتزيد قمته عن ١٠٠٠ م	التعريف
				الرسم

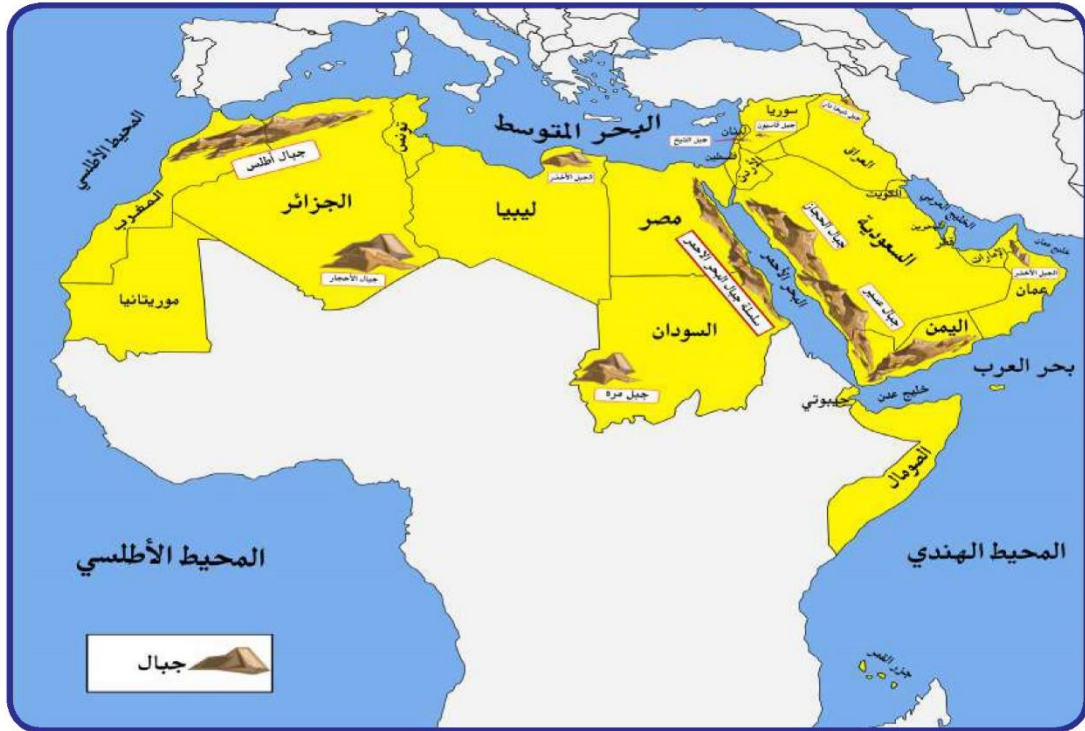
\* يمكن الاستعانة بكتاب الدراسات الاجتماعية للصف السادس .



اقرأ وتعلم

## أ - الجبال في الوطن العربي

**الجبل:** هو كل ما ارتفع من الأرض وله قمة لا يقل ارتفاعها عن ١٠٠٠ متر، أما إذا قل الارتفاع عن ذلك فيسمى تلاً وجمعها تلال .



شكل (٨) خريطة توضح الجبال في الوطن العربي

**نشاط (١)** تعرف على الجبال التي تقع في الوطن العربي في الجناح الآسيوي

والأفريقي .

الجناح الأفريقي	
اسم الدولة التي يقع فيها الجبل	اسم الجبل
السودان	جبل مرة
الجزائر	أطلس
الجزائر	الأحجار
.....	.....

الجناح الآسيوي	
اسم الدولة التي يقع فيها الجبل	اسم الجبل
السعودية	الحجاز
عمان	الجبل الأخضر
سوريا	قاسيون
.....	.....



مدرستي

الكويتية

school-kw.com

نشاط (٢) باستخدام google earth ( ) ابحث عن صور ومعلومات عن بعض  
الوطن العربي .

اسم الجبل	الدولة	صورة الجبل	معلومات عن الجبل
مثال ١ - جبل مرة	السودان		يبلغ ارتفاع الجبل ٣٠٤٢ متراً، ويقع في دولة السودان في الجناح الأفريقي .
٢ - جبال أطلس	الجزائر		يبلغ ارتفاعه ٢٥٠٠ م
٣ - جبال عسير	السعودية		تقع جنوب غرب السعودية وحدود اليمن
٤ - جبل قاسيون	سوريا		يبلغ ارتفاعه ١١٥٠ م





اقرأ وتعلم

## ب - الهضاب في الوطن العربي

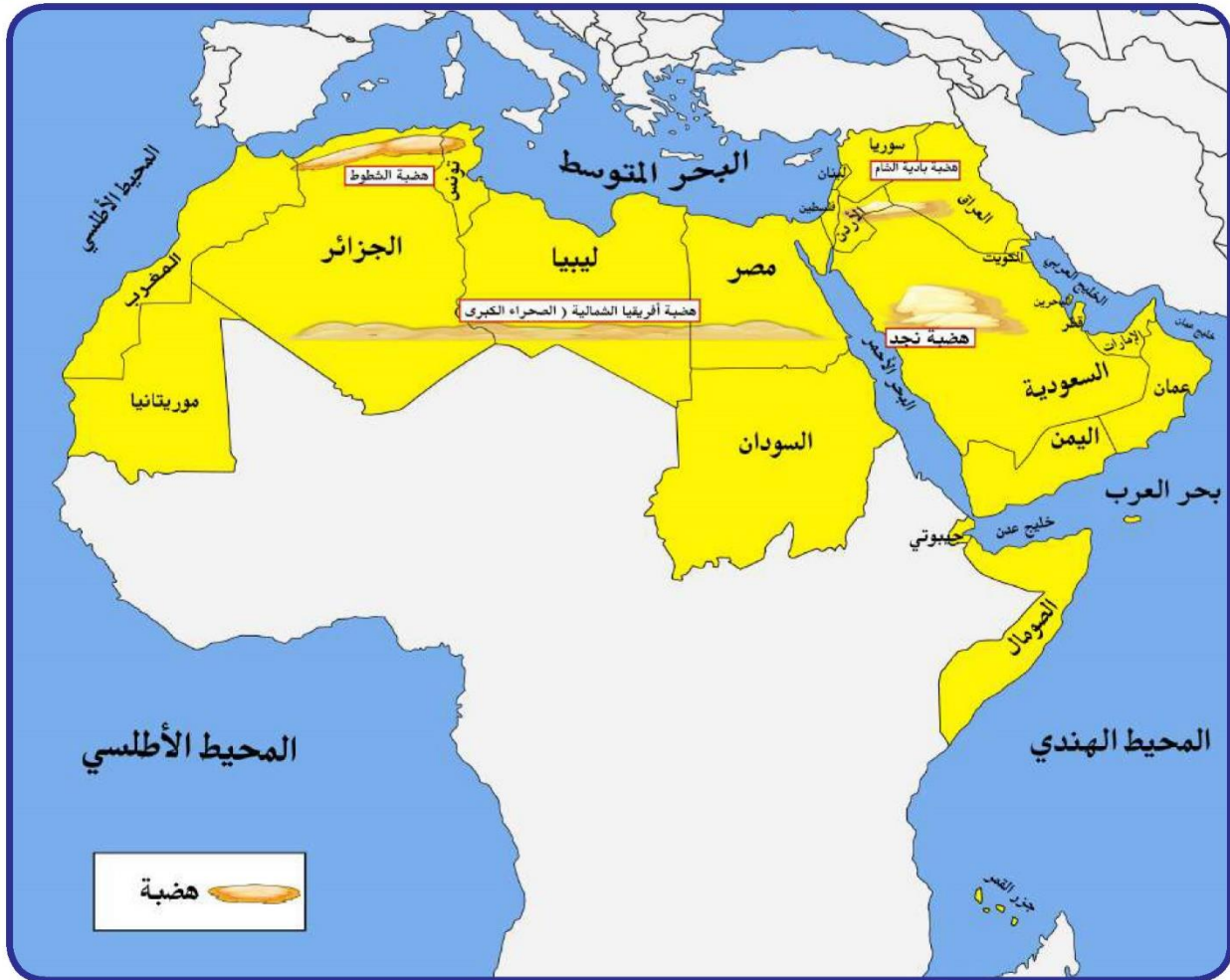
تعد الهضاب أكثر الأشكال التضاريسية انتشاراً في الوطن العربي ؛ إذ تشغل مساحات واسعة تمتد من أقصى الشرق إلى أقصى الغرب ، فهي تغطي بذلك معظم أرجاء الوطن العربي .

وتنقسم هضاب الوطن العربي كالآتي :

هضبة أفريقيا الشمالية (الصحراء الكبرى)

هضبة شبه الجزيرة العربية وبلاد الشام .

**الهضبة :** أرض مرتفعة ، سطحها مستو ، وتمتد على مساحة كبيرة .



شكل (٩) خريطة توضح الهضاب في الوطن العربي



مدرستي

الكويتية

school-kw.com

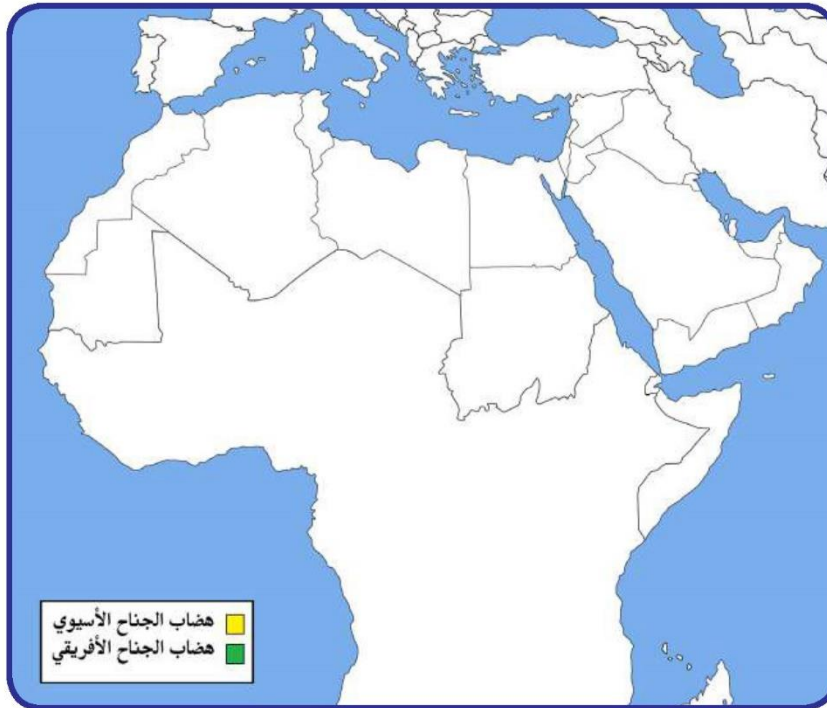
تعرف على أهم الهضاب التي تقع في الوطن العربي في الجناح الآسيوي والافريقي .



أهم الهضاب في الوطن العربي في الجناح الآسيوي		أهم الهضاب في الوطن العربي في الجناح الأفريقي	
اسم الهضبة	الدول التي تقع فيها الهضبة	اسم الهضبة	الدول التي تقع فيها الهضبة
١- نجد	السعودية	١- الصحراء الكبرى	مصر، ليبيا، الجزائر
٢- بادية الشام	سوريا الأردن	٢- الشطوط	تونس، الجزائر

## نشاط (٢)

ارسم الهضاب على خريطة الوطن العربي الصماء ، ثم لَوّن هضاب الجناح الآسيوي باللون الأصفر ، وهضاب الجناح الأفريقي باللون الأخضر .





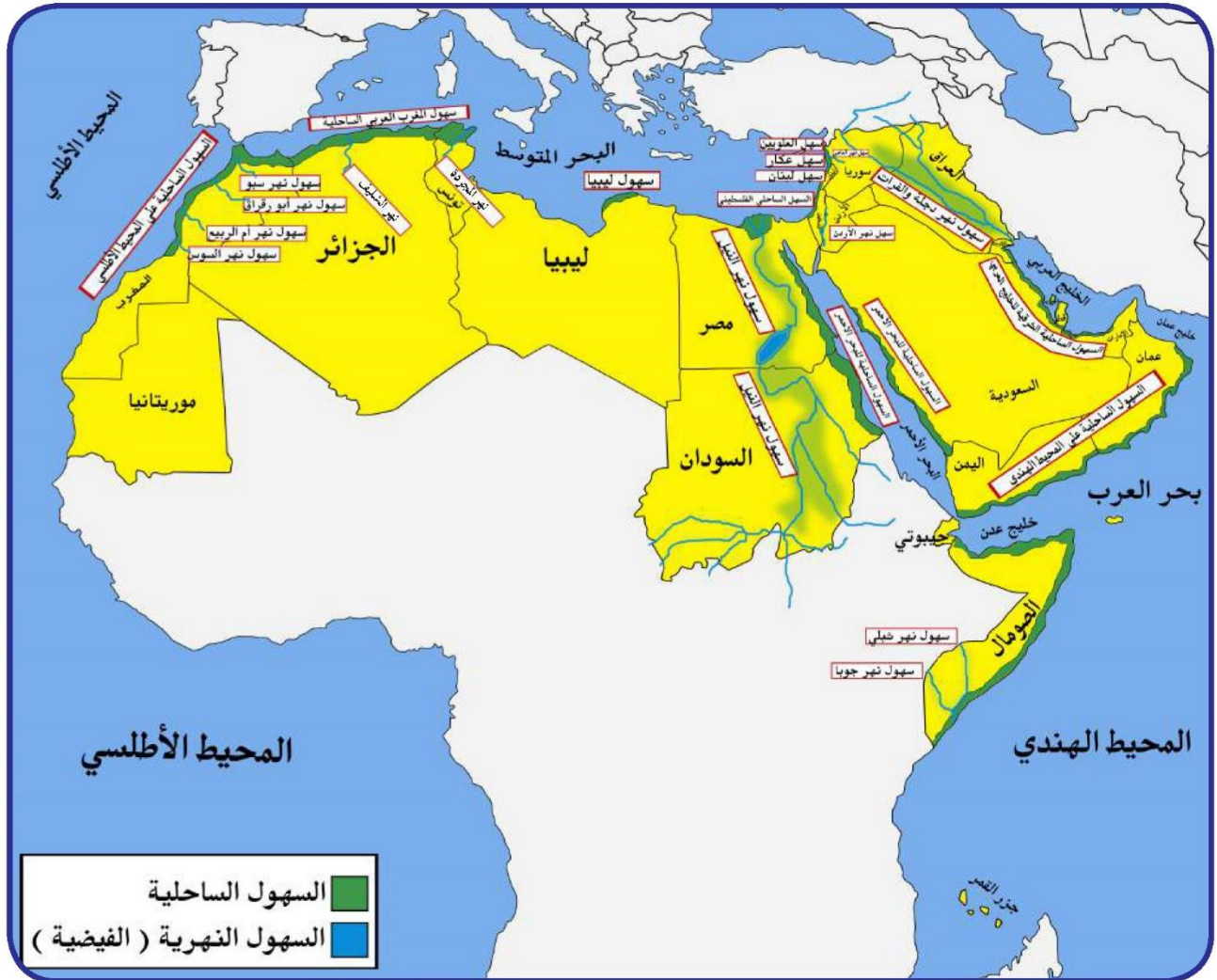
## ج - السهول في الوطن العربي



اقرأ وتعلم

- تتنوع السهول ، وتتنوع على مختلف أنحاء الوطن العربي ، ويمكن أن نميز بين نوعين رئيسيين من السهول هما :
- السهول الفيضية (النهرية) : وهي الأراضي المنخفضة التي تكونت من التربة التي حملتها مياه الأنهار .
  - السهول الساحلية : هي الأراضي المنبسطة التي تجاور سواحل البحار والمحيطات .

**السهول :** مساحة كبيرة من سطح الأرض تتميز باستوائها ، وقلة ارتفاعها ومفردها : سهل .



شكل (١٠) خريطة توضح السهول في الوطن العربي



مدرستي

الكويتية

school-kw.com

## نشاط (١)



تعرف على اسم ونوع السهول التي تقع في الوطن العربي في الجناح الآسيوي والأفريقي .

أهم السهول في الوطن العربي في الجناح الأفريقي			أهم السهول في الوطن العربي في الجناح الآسيوي		
الدول التي يقع فيها السهل	نوعه	اسم السهل	الدول التي يقع فيها السهل	نوعه	اسم السهل
مصر السودان	نهري	النيل	الكويت السعودية	ساحلي	الخليج
تونس الجزائر	ساحلي	سهول	قطر الإمارات	نهري	العربي
المغرب		المغرب العربي	البحرين		دجلة
			سوريا والعراق		والفرات



## المناخ في الوطن العربي

### أ - ما المقصود بالمناخ؟ وما الفرق بين الطقس والمناخ؟

إذا قلنا إنَّ الجو اليوم حار نهاراً ومعتدل ليلاً ، وإنَّ اتجاه الرياح جنوبية غربية أو شمالية شرقية ، فإننا نتحدث عن الطقس خلال هذا اليوم .  
أما إذا تكلمنا عن حالة الجو خلال فصل الصيف أو الشتاء فإننا نتحدث عن المناخ فنقول :  
إنَّ المناخ في دولة الكويت حار جاف صيفاً ومعتدل بارد شتاءً .

**المناخ** : هو حالة الجو خلال فترة زمنية طويلة من حيث درجة الحرارة والرطوبة والأمطار والرياح .  
**الطقس** : هو حالة الجو في مكان لمدة قصيرة تتراوح بين يوم أو عدة أيام من حيث درجة الحرارة والرطوبة والأمطار والرياح والضغط الجوي .



شكل ( ١١ )

**الضغط الجوي** : وزن الهواء فوق أي مكان .



مدرستي

الكويتية

school-kw.com



الكويت



لبنان

**نشاط (١)** من خلال ملاحظة الشكل (١١) تعرف على حالة

الطقس في هاتين الدولتين العربيتين خلال الـ ٢٤ ساعة القادمة بعد كتابة اسم الدولتين تحت العلمين .

**الكويت: الطقس حار والرياح شمالية خفيفة السرعة**

**والرطوبة منخفضة**

**لبنان: الطقس معتدل والرياح شمالية غربية خفيفة السرعة**

**والرطوبة متوسطة**



**نشاط (٢)** من خلال ملاحظة الصور التالية :-

تعرف على عناصر المناخ في المخطط السهمي :




الرياح



الرطوبة



الأمطار



درجة الحرارة



**نشاط (٣)**

استعن بمكتبة المدرسة في كتابة تقرير عن الضغط الجوي كأحد عناصر المناخ .



**الضغط الجوي هو وزن عمود الهواء على**

**قطعة من الأرض ووحدة قياسه هي البار**





اقرأ وتعلم

## ب - العوامل التي تؤثر في مُناخ الوطن العربي

### ١ - الموقع بالنسبة لدوائر العرض :

يؤثر القرب أو البعد عن خط الاستواء في مُناخ الإقليم\* فالأماكن القريبة من خط الاستواء تتميز بارتفاع في درجة حرارتها على مدار أيام السنة (علل) .

لأن أشعة الشمس تسقط عمودية عليها

### ٢ - القرب أو البعد عن المسطحات المائية :

يؤثر القرب أو البعد عن المسطحات المائية في المُناخ ، فالمدن الساحلية أكثر اعتدالاً في المُناخ صيفاً ، وأدفاً نسبياً شتاءً ؛ لأن البحر يلطف من درجة حرارتها .

### ٣ - التضاريس :

تؤثر التضاريس في المُناخ بصورة مباشرة من ناحية درجة الحرارة وتوزيع كمية الأمطار ، فعلى سبيل المثال : ترتفع درجة الحرارة في بعض المدن مثل : الرياض والقاهرة ، بينما تنخفض درجة الحرارة في الفصل نفسه في المناطق المرتفعة مثل جبال سوريا ولبنان والطائف في السعودية .

### ٤ - الرياح :

تؤثر الرياح في مُناخ الدول العربية من ناحية ارتفاع وانخفاض درجة الحرارة وكمية الأمطار ونسبة الرطوبة .

فعلى سبيل المثال إذا كان هبوب الرياح من منطقة باردة فسوف تنخفض درجة الحرارة ، وإذا كان هبوب الرياح من منطقة حارة فسوف ترتفع درجة الحرارة .

\* الإقليم: يعني أنه منطقة أو مكان ، مثال : عندما تقول : إقليم صناعي يعني منطقة صناعية ، أو هو إقليم صحراوي أي منطقة صحراوية .



مدرستي

الكويتية

school-kw.com

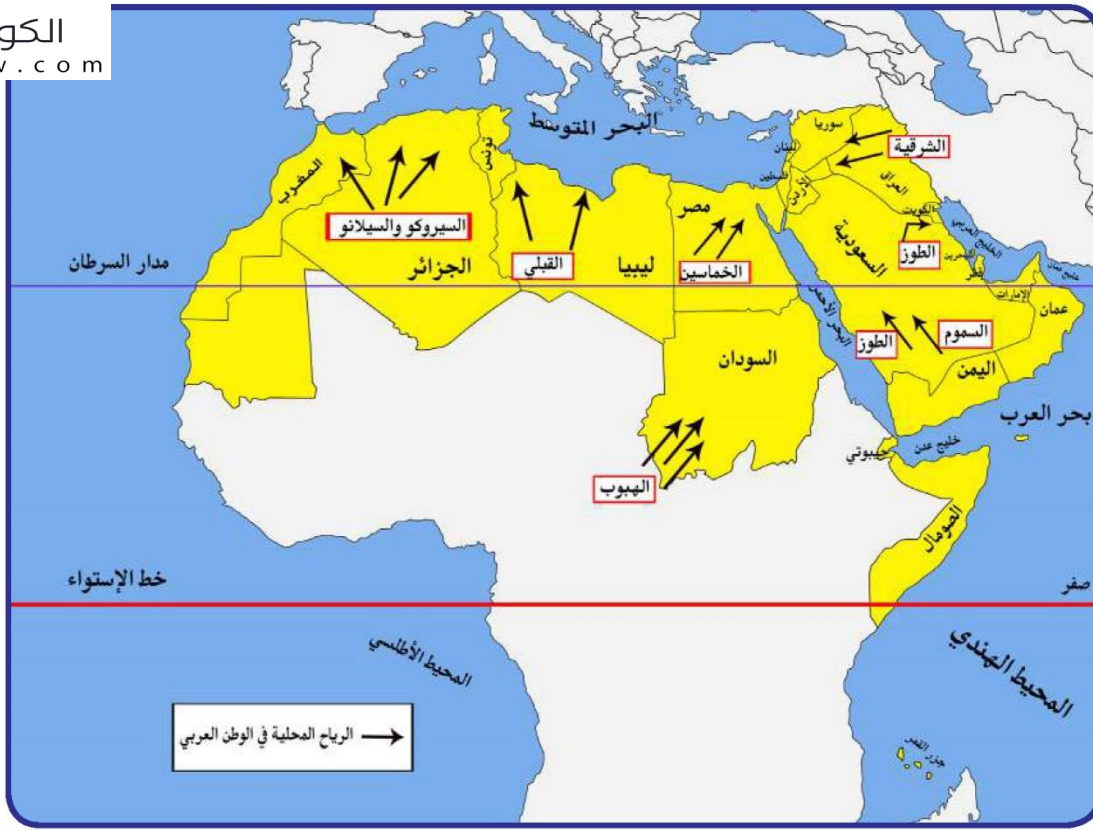




مدرستي

الكويتية

school-kw.com



شكل (١٣) خريطة توضح الرياح المحلية في الوطن العربي

**نشاط (١)** شارك زملاءك في التعرف إلى أسماء الرياح المحلية التي تهب على دول الوطن العربي مستعيناً بالخريطة شكل (١٣) ثم أكمل الجدول التالي :

الدولة	اسم الرياح المحلية
الكويت السعودية	الطوز
العراق	الشرقية
مصر	الخماسين
السودان	الهبوب
ليبيا	القبلي
الجزائر	السيروكو والسيلانو



مدرستي

الكويتية

school-kw.com



اقرأ وتعلم

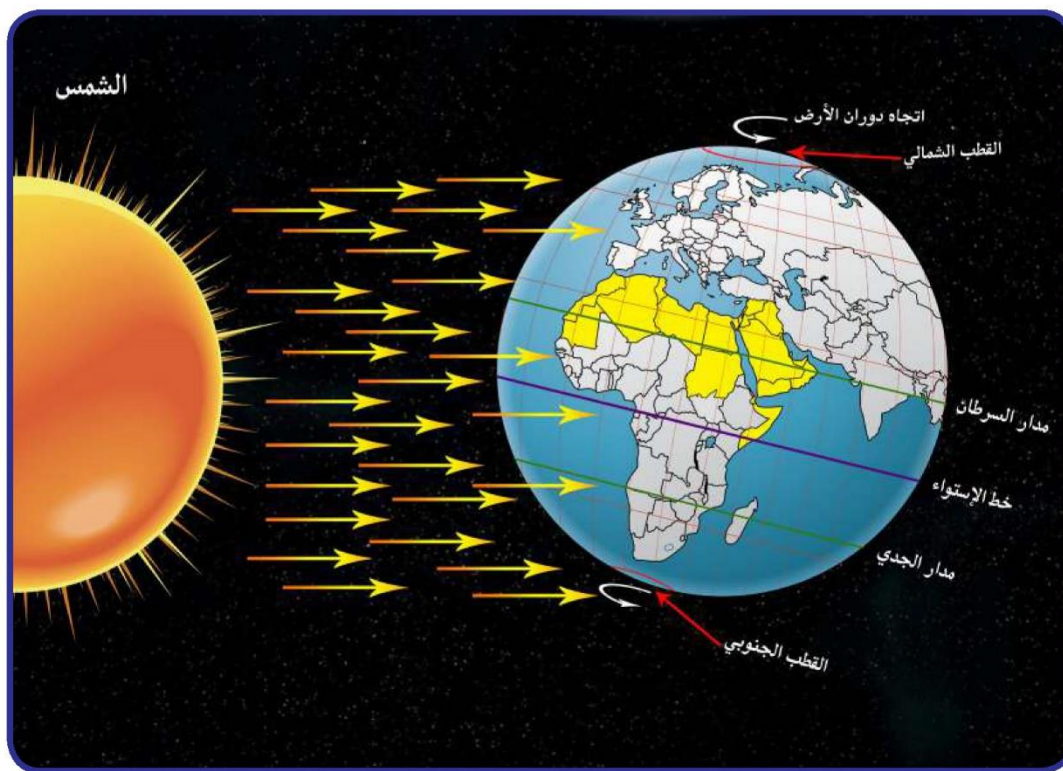
## ج - مُناخ الوطن العربي في فصل الصيف والشتاء

### في فصل الصيف :

تكون الشمس عمودية على المنطقة الواقعة بين خط الاستواء ومدار السرطان (انظر شكل ١٤) ، وترتفع الحرارة أكثر في وسط الوطن العربي (صحراء) ، وتكون معتدلة على سواحل البحر المتوسط وشمال الوطن العربي .

### في فصل الشتاء :

تكون الشمس عمودية على المنطقة الواقعة بين خط الاستواء ومدار الجدي (انظر شكل ١٤) ، وترتفع الحرارة في جنوب الوطن العربي ، وتقل كلما اتجهنا شمالاً .



شكل (١٤) أشعة الشمس و مُناخ الوطن العربي





مدرستي

الكويتية

school-kw.com

## النبات الطبيعي في الوطن العربي

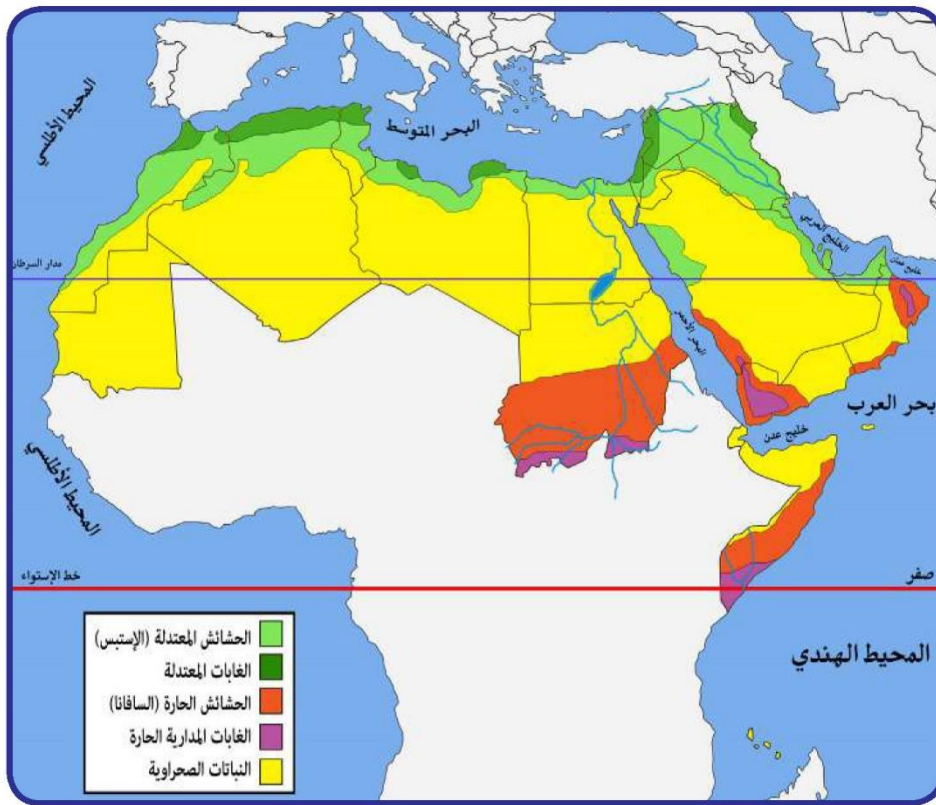
الدرس الخامس

### أ - العوامل الرئيسية المؤثرة في تنوع النبات الطبيعي في الوطن العربي



اقرأ وتعلم

**النبات الطبيعي:** هو النبات الذي ينمو تلقائياً عقب سقوط المطر دون تدخل من الإنسان .



شكل (١٥) خريطة توضح توزيع النبات الطبيعي في الوطن العربي

العوامل الرئيسية المؤثرة في تنوع النبات الطبيعي في الوطن العربي :

- ١ - نوع التربة : التربة هي التي تمد النبات بالغذاء وهي متنوعة .
- ٢ - المُنَاخ : يؤثر في تنوع النبات نتيجة لاختلاف درجات الحرارة واختلاف كمية الأمطار ومواسمها .



## ب - الحياة النباتية في الوطن العربي

### النباتات الصحراوية

**النباتات الصحراوية**  
تقاوم الجفاف من خلال عدة وسائل جذورها طويلة (لماذا؟)  
- القدرة على تخزين المياه (علل) .  
- تحمي نفسها بلحاء سميك وأوراق إبرية .



### الحشائش

**الحشائش المعتدلة (الأسبس) :**  
وهي حشائش قصيرة نوعاً ما ، تنمو في الشتاء خلال موسم سقوط الأمطار وتعرف في بلاد المغرب باسم الحلفا .  
**تستخدم** في صناعة الورق والحبال والحصر .  
**وتربى عليها** الأغنام والإبل والخيول والحمير .



**الحشائش الحارة (السافانا)**  
وهي حشائش طويلة ، يختلف نوعها حسب كمية الأمطار .

**وتنقسم السافانا إلى :**  
- طويلة  
- متوسطة  
- قصيرة

**تربى عليها** الماشية .



### الغابات

**الغابات المعتدلة**  
تتم هذه الغابات بعدم كثافتها وبعضها يكون دائم الخضرة وبعضها الآخر تتساقط أوراقه في فصل الشتاء .  
**من أهم أشجارها** الأرز والعرعر والصنوبر الحلبي والبلوط والسنديان كما تنمو أشجار الزيتون والتفاح والحمضيات والفواكه الأخرى البرية .  
**يستخدم لحاء** البلوط والسنديان في صناعة الفلين .



**الغابات المدارية الحارة**  
تمتاز ب ضخامة أشجارها وجذوعها وتشابك أغصانها وأوراقها العريضة وارتفاعها الكبير .  
**من أهم أشجارها** الساج والماهوجني والتاك والأبنوس والسدر والأثل والسنت .  
**تستخدم أخشابها** في البناء وصناعة الأثاث .





مدرستي

الكويتية

school-kw.com

## نشاط (١)

لاحظ خريطة شكل (١٥) ثم أكمل الجدول التالي :

التوزيع الجغرافي ( أين تنتشر؟ )	نوع
جنوب السودان والصومال	الغابات المدارية (الحارة)
الأجزاء الشمالي للوطن العربي وحوض البحر المتوسط	الغابات المعتدلة
جنوب السودان والصومال جنوب شرق وجنوب غرب شبه الجزيرة العربي	الحشائش الحارة (السافانا)
حوض الخليج العربي والعراق والشام وشمال الوطن العربي	الحشائش المعتدلة (الاستبس)
الأجزاء الوسطى من الوطن العربي	نباتات صحراوية

## نشاط (٢)

بعد النظر إلى المخطط السهمي السابق ص ٥٢ وقراءته ، فرق بين الغابات المدارية الحارة و الغابات

المعتدلة .

الغابات المعتدلة	الغابات المدارية الحارة	وجه المقارنة
الأرز الصنوبر الحلبي الزيتون والحمضيات	الساج والماهونجي والأبنوس والأثل والسدر	أهم أشجارها
قلة الكثافة وبعضها دائمة الخضرة	ضخامة الأشجار و الجذوع وتشابك الأغصان	مميزات أشجارها
لحاء البلوط والسنديان في صناعة الفلين	البناء وصناعة الأثاث	استخداماتها



### نشاط (٣)

من خلال ملاحظة الشكل (١٦) و (١٧) استنتج أهم الخصائص النباتية للنباتات الصحراوية :



شكل (١٧) نبات الصبار



شكل (١٦) نبات النخيل

**يتحمل الحرارة الشديدة**

**يتحمل العطش**

### نشاط (٤)

ألصق صوراً لبعض النباتات الصحراوية الموجودة في بلادك ، و حدد نوعها (معمرة أو حولية) .

--	--	--	--



مدرستي

الكويتية

school-kw.com

أهم الحيوانات السائدة في المنطقة الصحراوية : الإبل-الماعز-الضب-البرية ، وأنواع من الطيور كالصقور والبوم والحبارى ، وأنواع من الحشرات والعقارب والخنافس ، كما تكثر الزواحف كالأفاعي والحيوانات القارضة كالفئران والجربوع .



اقرأ وتعلم



الضب



الحبارى



العقرب



الجربوع

شكل (١٨) يمثل الحياة الحيوانية في الصحراء

### نشاط (١)

ألصق صوراً تمثل الحياة الحيوانية الصحراوية في الوطن العربي بالمكان المناسب :

قوارض	زواحف	حشرات	طيور



مدرستي

الكويتية

school-kw.com



## نشاط (٢)

لاحظ الصورة التي أمامك ثم ساعد خالداً على الإجابة .



ما اسم هذا الحيوان ؟

..... **الجمل** .....

ما لقب هذا الحيوان ؟

..... **سفينة الصحراء** .....

ما الصفات التي يمتاز بها ؟

..... **يتحمل العطش** .....



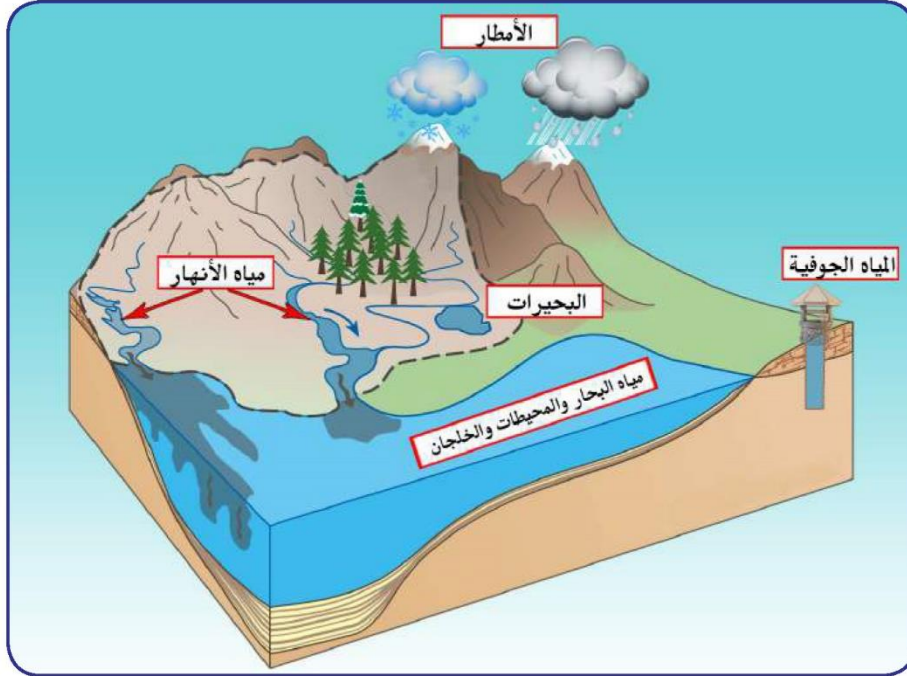
مدرستي

الكويتية

school-kw.com

## الدرس السادس

### الثروة المائية في الوطن العربي

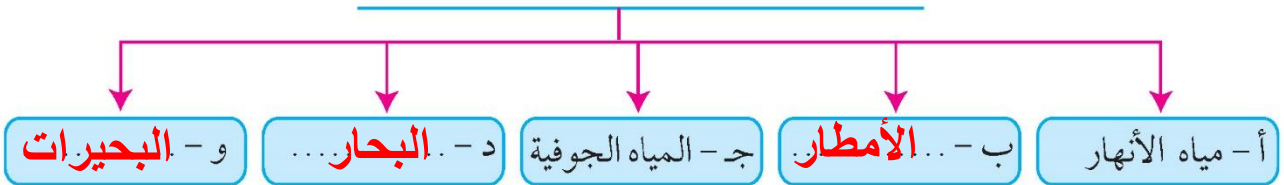


شكل (١٩) يوضح أهم مصادر المياه في الوطن العربي

### نشاط (١)

أكمل المخطط السهمي مستعيناً بشكل (١٩)

#### ١ - مصادر المياه في الوطن العربي



أ - مياه الأنهار :

الأنهار من أهم مصادر المياه في الوطن وتمتاز بأنها مياه عذبة .



اقرأ وتعلم

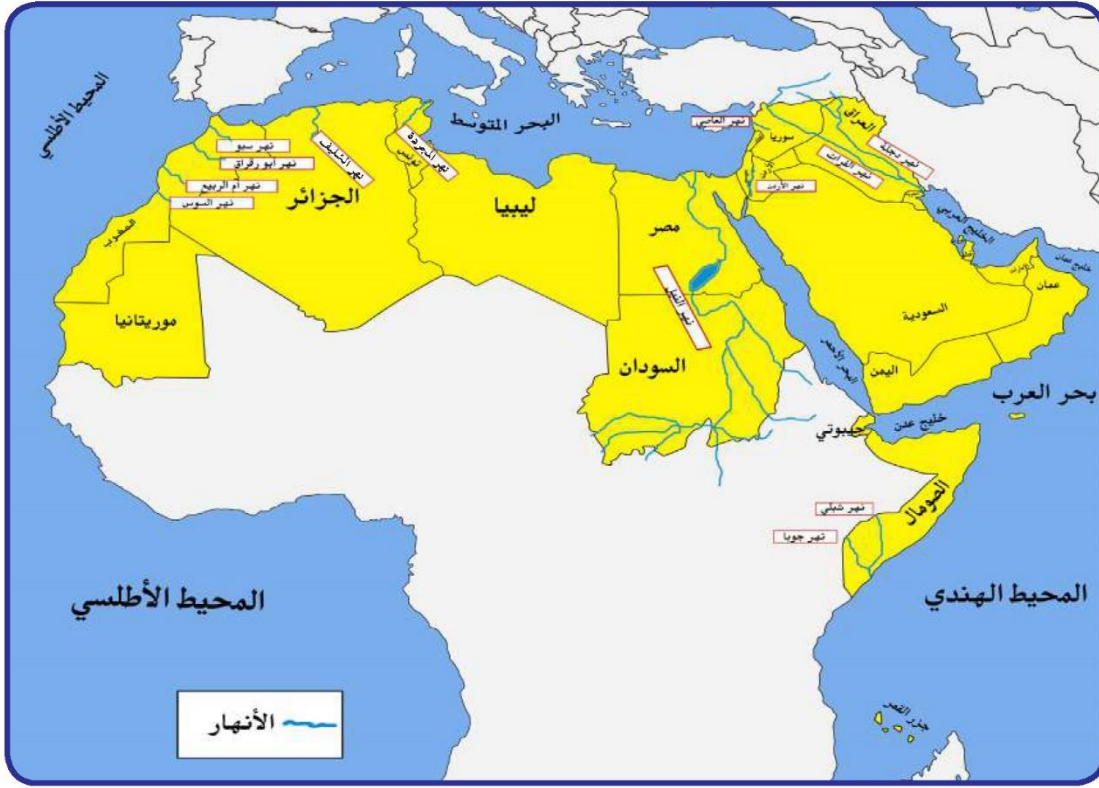


مدرستي

الكويتية

school-kw.com

**النهر** : مجرى مائي عذب ينحدر على الدوام لينتهي إلى بحر أو إلى نهر آخر تدريجياً في الصحراء .



شكل (٢٠) خريطة توضح أهم الأنهار في الوطن العربي

**نشاط (١)** لاحظ الخريطة شكل (٢٠) ثم أجب .

- أين يصب نهر دجلة والفرات؟

..... **الخليج العربي** .....

- ما الدول العربية التي يمر بها نهر النيل؟

..... **مصر والسودان** .....





مدرستي

الكويتية

school-kw.com

## نشاط (٢)



تعرف على أسماء أهم الأنهار في الوطن العربي ، مستعيناً بالخريطة شكل ( ٢٠ ) ثم أكمل الجدول التالي :

أهم أنهار الوطن العربي في الجناح الآسيوي		أهم أنهار الوطن العربي في الجناح الأفريقي	
اسم النهر	الدول العربية التي يمر بها	اسم النهر	الدول العربية التي يمر بها
دجلة والفرات	سوريا والعراق	النيل	مصر والسودان
		شبلي	الصومال
الأردن	الأردن	جوبا	الصومال
		المجردة	تونس
العاصي	لبنان	الشليف	الجزائر
		سدو	المغرب
		أم الربيع / السوس	

### ب - الأمطار :

يتصف المطر في الوطن العربي بالصفات التالية :

- ١ - تذبذب كمية الأمطار بين عام وآخر ، كما أنها تسقط في أيام معدودة .
- ٢ - الأمطار في الوطن العربي تكاد تقتصر على الأطراف الشمالية والأطراف الجنوبية منها .
- ٣ - تتصف الأمطار بأنها قليلة بصفة عامة ، ولا يستثنى من ذلك سوى المناطق التي تقع من ورائها الجبال ، كما هي الحال في سواحل المغرب وساحل لبنان .

### ج- المياه الجوفية في الوطن العربي (الآبار العميقة) :

المياه الجوفية تظهر بأشكال مختلفة من أهمها :

- الآبار الجوفية ، العيون والينابيع ، والأفلاج ، وتنتشر في مناطق مختلفة في الوطن العربي ، وتكثر الآبار الجوفية حيث توجد الواحات التي تنتشر في المناطق الصحراوية .



اقرأ وتعلم



مدرستي

الكويتية

school-kw.com

**المياه الجوفية:** هي المياه التي توجد في جوف الأرض (باطن الأرض)

**الأفلاج:** الماء الجاري (وهو مجرى صغير مائي في الأرض).

## نشاط (١)

فكر ثم أجب :

- ما مصادر المياه الجوفية؟

.....**الأمطار**.....

- أين تكثر الآبار الجوفية؟

.....**في المناطق الصحراوية**.....

د - البحيرات :

**البحيرة:** مسطح مائي تحيط به اليابسة من جميع الاتجاهات .

## نشاط (١)

مستعيناً بالمكتبة المدرسية اكتب تقريراً عن أهم البحيرات في الوطن العربي .



.....

.....

.....



مدرستي

الكويتية

school-kw.com

## هـ - مياه البحار :

- تتم الاستفادة من مياه البحار المالحة بعد تحليتها ، وهذه الطريقة تتبعها الدول التي تقل المياه العذبة مثل : دول الخليج العربية وبعض الدول العربية مثل ليبيا .
- أصبحت دولة الكويت تعتمد اعتماداً كاملاً على تحلية مياه البحر منذ بداية ١٩٥٣م (محطة الشويخ) ، حيث أنشأت محطات كبيرة لتحلية مياه البحر .
- كما تنتشر في المملكة العربية السعودية محطات لتحلية المياه أهمها منطقة الأحساء ، كذلك قطر كمحطة رأس عبود وأبو فنتاس ، كما انتشرت في الإمارات العربية المتحدة وليبيا .



شكل (٢١) محطة الدوحة لتحلية المياه بالكويت



## نشاط (١) أجب عن ما يلي :

عدد أهم محطات تحلية المياه في دولة الكويت .

**الدوحة - الزور - الصبية - الشويخ**



أي مصدر من مصادر المياه تعتمد عليه دولة الكويت؟ ولماذا؟

**البحر، لعدم وجود مصدر آخر**

ما المسطحات المائية التي تعتمد عليها دول الخليج العربية في تحلية المياه؟

**الخليج العربي - البحر الأحمر**

## نشاط (٢) قام خالد بزيارة محطة لتحلية المياه واطلع هناك على بعض الإحصائيات

لاستخدام بعض الدول العربية للمياه المحلاة .

وكانت له بعض التساؤلات . . . أجب عنها مستعيناً بإطلاعات خارجية بمساعدة

معلمك .

١ - ما أكثر الدول إنتاجاً للمياه المحلاة؟ ولماذا؟

**الكويت، لكثرة الاستهلاك وعدم وجود**

**مصدر آخر**

٢ - بماذا تفسر اتجاه عدد من الدول العربية إلى البحار

لتأمين حاجاتها من المياه العذبة؟

**لأنه لا يوجد لديها مصادر أخرى**

الكويت	٥٥%
قطر	٣٨%
البحرين	٣١%
الإمارات	٢٧%
السعودية	٨%
ليبيا	٥%

شكل (٢٢)

نسبة استخدام المياه المحلاة



مدرستي

الكويتية

school-kw.com



مدرستي

الكويتية

school-kw.com

## ٢ - ترشيد استخدام المياه

كيف نحافظ على ثروة المياه ونخفف من المشكلة :

- ١ - ترشيد استخدام المياه والحد من التبذير في المنازل .
- ٢ - الحد من هدر المياه في عمليات الري ، وذلك باستخدام الوسائل الحديثة كالرش بالتنقيط والمحوري .
- ٣ - تنظيم عملية الاستفادة من المياه الجوفية ومنع تسرب الأملاح الملوثة إليها واستثمارها على الوجه الأمثل .
- ٤ - تطوير استعمال مياه الصرف الصحي المعالجة في الزراعة .
- ٥ - إقامة البحيرات والسدود لتجميع مياه الأمطار والسيول للاستفادة منها في فصل الجفاف .
- ٦ - توقيع اتفاقيات مع الدول المشاركة ودول المنبع لتحقيق مصالح الدول العربية المعنية .



اقرأ وتعلم

### نشاط (١)

**عمل تعاوني:** شارك زملاءك في تخطيط حملة تحث على ترشيد استخدام المياه .

- اسم الحملة :
- صمم بطاقة نصائح تحث على ترشيد استخدام المياه .



- ارسم شعاراً مناسباً للحملة .





مدرستي

الكويتية

school-kw.com



## نشاط (٢)

أعد مع زملائك معرضاً عن كيفية المحافظة على الثروة المائية باستخدام الصور والبطاقات التوعوية :

البطاقة التوعوية	الصورة المناسبة لها



مدرستي

الكويتية

school-kw.com

## تقويم الوحدة الأولى

أولاً - أكمل الفراغات التالية :

- ١ - يمتد الوطن العربي في قارة آسيا وقارة **إفريقيا**
  - ٢ - أكبر دولة عربية في الجناح الآسيوي هي **السعودية**
  - ٣ - الدائرة العرضية الرئيسية التي تقسم الكرة الأرضية إلى قسمين متساويين شمالي وجنوبي تسمى **خط الاستواء**
  - ٤ - تشرف على قناة السويس دولة تسمى **مصر**
  - ٥ - المسطح المائي الذي يحد الوطن العربي من الغرب يسمى **المحيط الأطلسي**
  - ٦ - وصف حالة الجو في مكان ما لمدة قصيرة تتراوح بين يوم وعدة أيام يسمى **الطقس**
  - ٧ - من عناصر المناخ درجة الحرارة والرياح والضغط الجوي وعنصر آخر يسمى **الأمطار**
  - ٨ - سفينة الصحراء تطلق على حيوان يسمى **الجمال**
  - ٩ - تنتشر حشائش الأستبس في دولة عربية تسمى **المغرب - تونس - الجزائر - ليبيا - سوريا - العراق**
- ثانياً - اكتب المصطلح العلمي المناسب فيما يلي :

- ١ - مساحة واسعة من الأرض تمتد ضمن قارتين من أكبر قارات العالم مساحة ( **الوطن العربي** )
- ٢ - مجرى مائي صناعي ضيق يشق لأغراض الري أو النقل . ( **قناة** )
- ٣ - نقطة من الكرة الأرضية يتحدد موقعها بخطوط الطول ودوائر العرض . ( **الموقع الفلكي** )
- ٤ - كل ما ارتفع عن الأرض له قمة لا يقل ارتفاعها عن ١٠٠٠ متر . ( **جبل** )
- ٥ - وزن الهواء فوق أي مكان . ( **الضغط الجوي** )
- ٦ - مسطح مائي تحيط به اليابسة من جميع الاتجاهات . ( **بحيرة** )

ثالثاً - أجب عما يلي كما هو بين الأقواس :

- ١ - أهمية الوطن العربي (اذكر نقطتين) .  
• **يتحكم بمسطحات مائية**  
• **مهبط الديانات السماوية الثلاث**
- ٢ - تركيز السكان في مناطق السهول الفيضية في الوطن العربي . (علّل)  
• **بسبب خصوبة التربة واستواء الأرض**

٣ - للمسطحات المائية تأثير في المناخ . (دلل)

**لأن المدن الساحلية أكثر اعتدالاً في المناخ صيفاً وأدفاً شتاءً**

٤ - العوامل المؤثرة على توزيع النبات الطبيعي في الوطن العربي (اذكرها)

**التربة - الرياح**

٥ - أهمية المياه في حياة الإنسان . (استشهد بآية قرآنية)

**(وجعلنا من الماء كل شيء حي)**

رابعاً - قارن بين المفاهيم التالية من حيث التعريف :

القناة	المضيق
مجري مائي صناعي ضيق يشق لأغراض النقل	ممر مائي ضيق يصل بين بحرين أو محيطين أو أي مساحتين كبيرتين نسبياً من الماء
الهضاب	السهول
أرض مرتفعة سطحها مستوي تمتد على مساحة كبيرة	مساحة كبيرة من الأرض تتميز بإستوائها وقلة ارتفاعها
المياه الجوفية	الأفلاج
هي المياه التي توجد في جوف الأرض	الماء الجاري وهو مجرى صغير في الأرض

خامساً - أجب عما يلي :

- عدد أسماء أربع دول عربية تنتهي بحرف النون :

لبنان	السودان	البحرين	الأردن
-------	---------	---------	--------



مدرستي

الكويتية

school-kw.com



مدرستي

الكويتية

school-kw.com

- صنف المسطحات المائية في الوطن العربي حسب الجدول التالي :

المحيطات	الخلجان	البحار
المحيط الأطلسي المحيط الهندي	الخليج العربي خليج عمان خليج عدن	بحر العرب البحر الأحمر البحر الأبيض المتوسط

لاحظ العلم الذي أمامك فهو لدولة عربية تقع في الجناح الآسيوي :



- اسم هذه الدولة العربية؟ ..... **لبنان** .....

- ما اسم النبات المرسوم على علم هذه الدولة؟ ..... **الأرز** .....

- ما دورك في المحافظة على النبات الطبيعي؟ .....

.. **المشاركة في التشجير والاهتمام بالأشجار** ..

بالاستعانة بالصورة التالية اذكر أهم مصادر المياه الرئيسية المتوافرة في الوطن العربي .

..... <b>الأنهار</b> .....	..... <b>الأمطار</b> .....	..... <b>البحار والمحيطات</b> .....

**مشروع**

- صمم حملة توعوية في المدرسة للمحافظة على البيئة النباتية والحيوانية .



مدرستي


الكويتية

school-kw.com



سنتعرف في هذه الوحدة على ما يلي :

- ١ - ثقافة الوطن العربي في عصوره المختلفة .
- ٢ - دور حضارات الوطن العربي في خدمة الإنسان .
- ٣ - ما قدمته حضارات الوطن العربي من إنجازات .
- ٤ - كيفية تطبيق المفاهيم التي درستها في الوحدة .



مدرستي  
الكويتية

school-kw.com

# الوحدة الأولى

الوطن العربي  
مهد الحضارات  
والديانات السماوية



- الدرس الأول : الأهمية الحضارية للوطن العربي
- الدرس الثاني : نماذج من الحضارات القديمة في الوطن العربي
- الدرس الثالث : الوطن العربي مهد الديانات السماوية الثلاث
- الدرس الرابع : الحضارة العربية الإسلامية
- التقويم



مدرستي

الكويتية

school-kw.com



مدرستي

الكويتية

school-kw.com

## الدرس الأول

### الأهمية الحضارية للوطن العربي



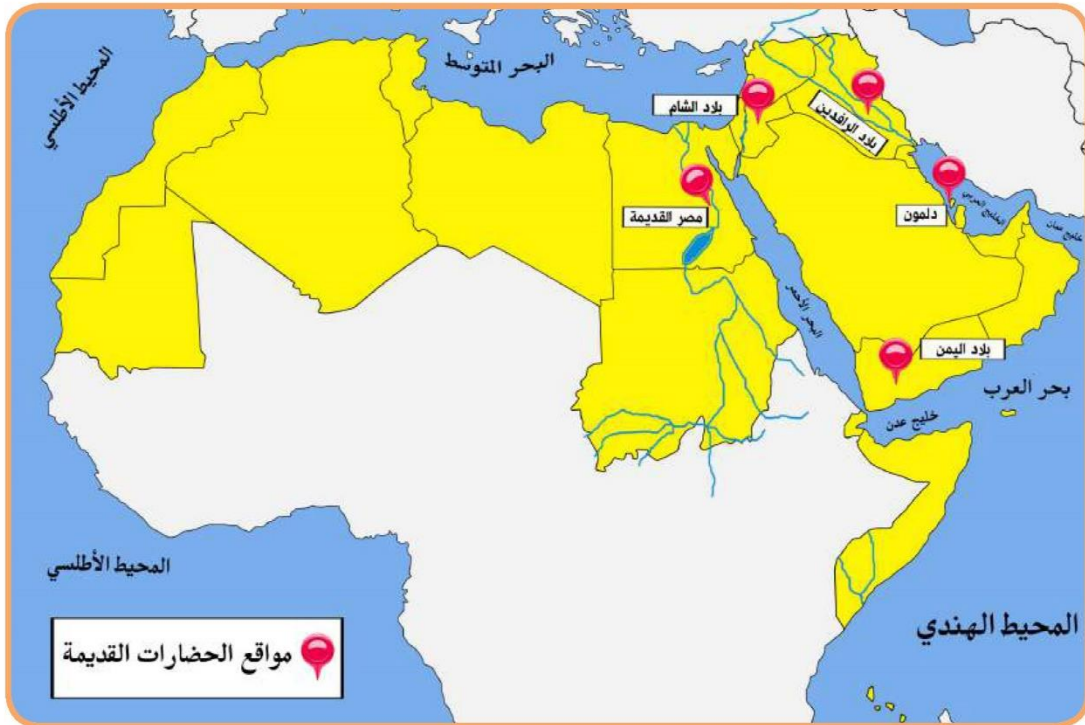
اقرأ وتعلم

توفرت في الوطن العربي كما درست في الفصل الأول من هذا الكتاب مجموعة من المقومات الجغرافية والطبيعية التي كان لها دور كبير في ازدهار العديد من الحضارات الإنسانية التي استقرت في ربوع الوطن العربي الكبير .

هذه الحضارات بلغت درجة كبيرة من الرقي والتقدم حيث برعت في الفنون والآداب والعلوم ، وتقدمت في مجالات الزراعة والصناعة والتجارة ، وتشمل عدة حضارات .

#### الحضارة :

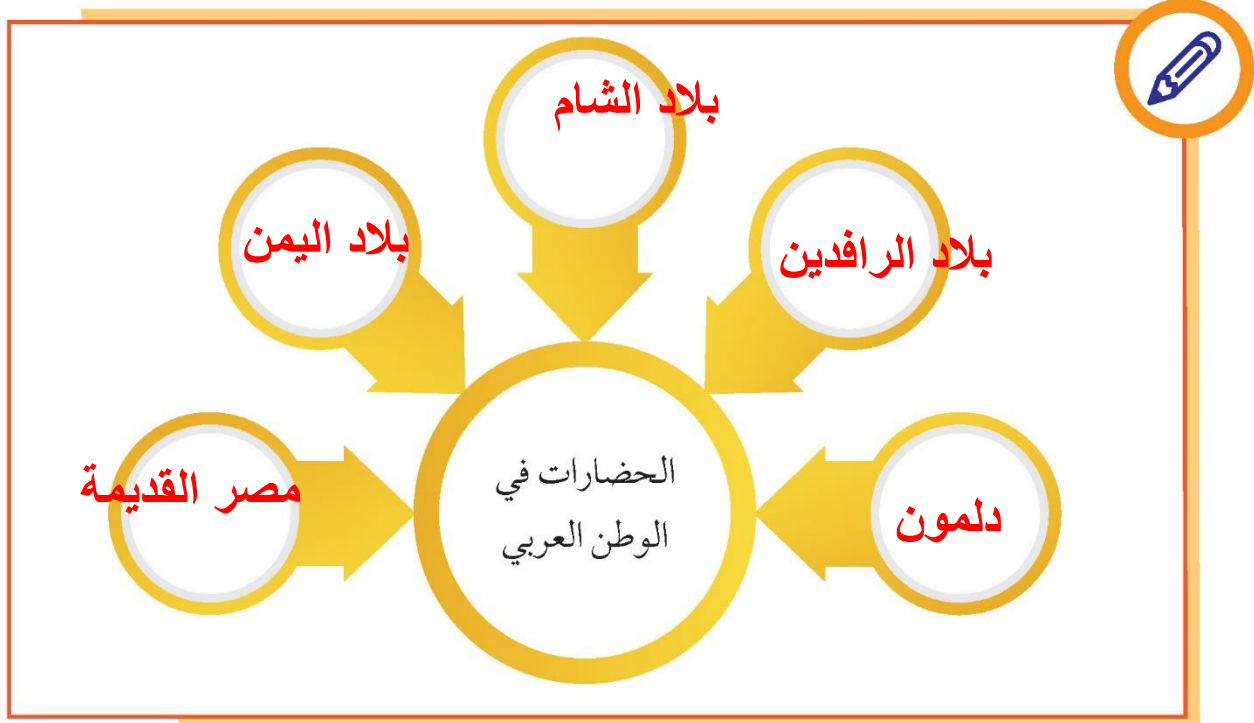
كل ما يطرأ على المجتمع من تقدم وتطور ورقي في جميع نواحي الحياة الدينية والسياسية والاقتصادية والاجتماعية والفكرية .



شكل (٢٣) خريطة الحضارات في الوطن العربي



نشاط (١) استعن بالخريطة شكل (٢٣) ، ثم دون أهم الحضارات التي قامت في الوطن  
الشكل الذي أمامك .



## نشاط (٢)

أمامك مجموعة من الآثار لمجموعة من الحضارات في الوطن العربي ، اكتب اسم الحضارة التابعة لها  
أسفل كل صورة .



اسم المَعْلَم الحضاري : أسد بابل  
الحضارة : ... **بلاد الرافدين** ...




اسم المَعْلَم الحضاري : الأهرامات  
الحضارة : ... **مصر القديمة** ...



مدرستي

الكويتية

school-kw.com




اسم المَعْلَم الحضاري : سد مأرب .

الحضارة : **بلاد اليمن** .....



اسم المَعْلَم الحضاري : معبد باربار .

الحضارة : **دلمون** .....



اسم المَعْلَم الحضاري : آثار تدمر

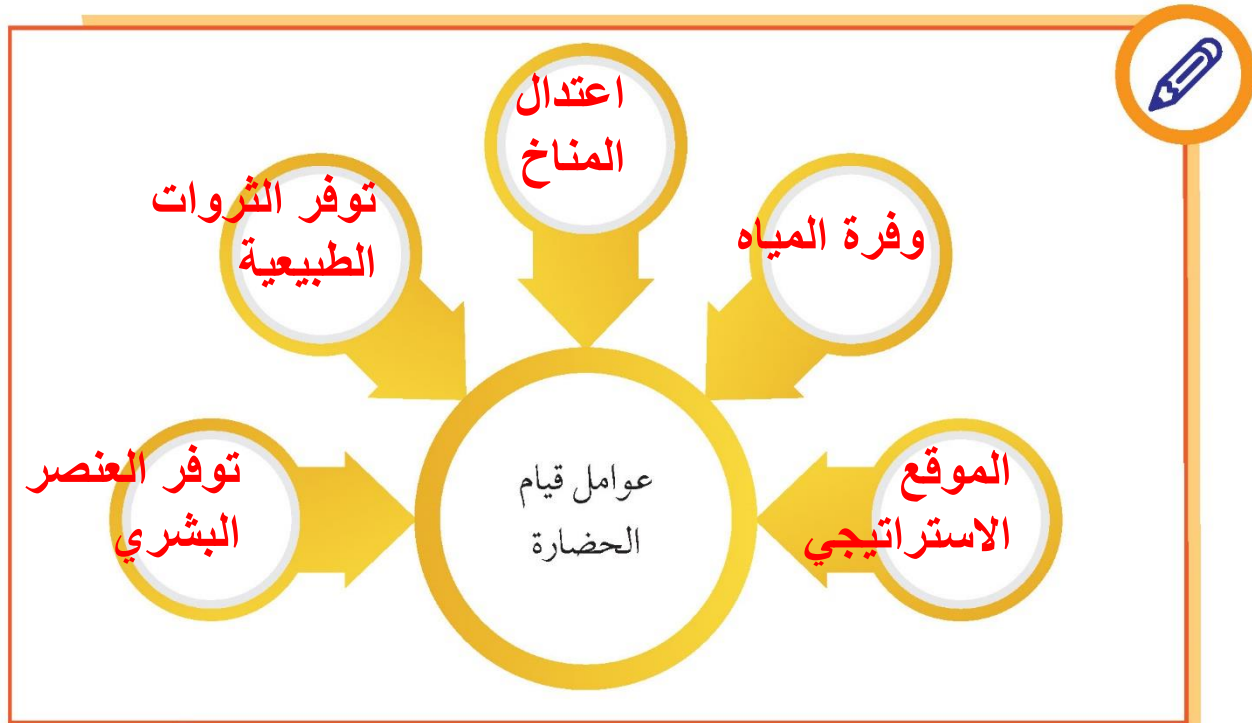
الحضارة : **بلاد الشام** .....

للحضارة مقومات أساسية لا بد من توفرها ، منها :

الموقع الإستراتيجي وتوافر مصادر المياه العذبة واعتدال المناخ وتوافر الثروات الطبيعية وتوافر العنصر

البشري .


نشاط (٣)





## نماذج من الحضارات القديمة في الوطن العربي

### ١ - الحضارة المصرية القديمة



تتبع الحوار الذي دار بين خالد وبين المرشد السياحي أثناء زيارته للمتحف المصري ، ثم ساعد خالداً في إتمام المهمة .

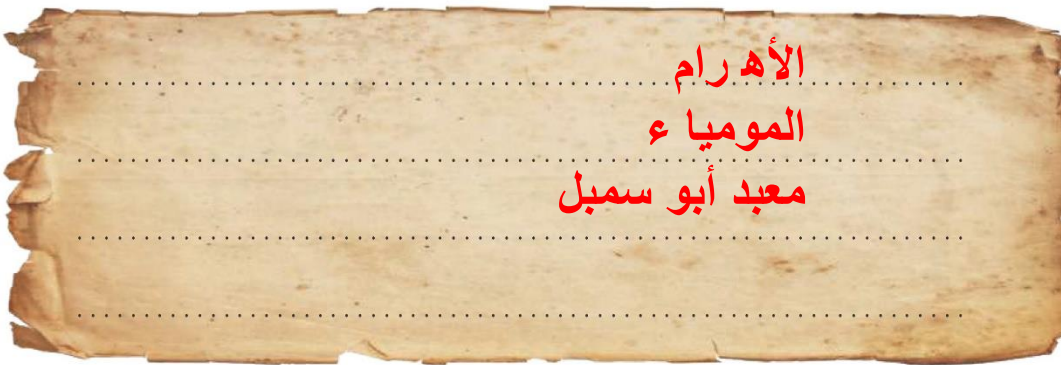
**خالداً :** يا لجمال هذه القطعة المعروضة ، هل هي قديمة؟ كم لها من العمر؟

**المرشد السياحي :** نعم يا بني هي قديمة ولها من العمر آلاف السنين ، فالحضارة المصرية من الحضارات القديمة في العالم والأكثر آثاراً ، ولا تزال بعض آثارها قائمة حتى وقتنا الحاضر .

**خالداً :** يا للعجب بعد مرور كل هذه السنوات ولا تزال آثار تلك الحضارة باقية إلى الآن؟

**المرشد السياحي :** لقد كان للعوامل الطبيعية دور مهم في قيام الحضارة المصرية القديمة وتطورها وحمايتها من الغزوات ، لسهولة الدفاع عنها واستقرار سكانها وممارستهم للأنشطة المختلفة .

**نشاط (١)** اكتب أهم الآثار المصرية الموجودة حتى وقتنا الحاضر على ورقة البردي .





مدرستي


الكويتية

school-kw.com

## العوامل التي ساعدت على قيام الحضارة المصرية القديمة

(تنوع الصخور والمعادن - امتداد الصحراء - نهر النيل - اعتدال المناخ وجفافه)

نشاط (٢) صنف الكلمات التالية في مكانها المناسب؟



المحافظة على الآثار من التلف .

.....

**اعتدال المناخ**

.....

**وجفافه**

.....

ربط بين أجزاء البلاد من الشمال إلى الجنوب وساعد على الاستقرار .

.....

**نهر النيل**

.....

.....

جعل الحضارة المصرية في أمن وحماية طبيعية .

.....

**امتداد الصحراء**

.....

.....

ساعدت المصريين على نحت التماثيل وبناء المعابد .

.....

**تنوع الصخور**

.....

**والمعادن**

.....



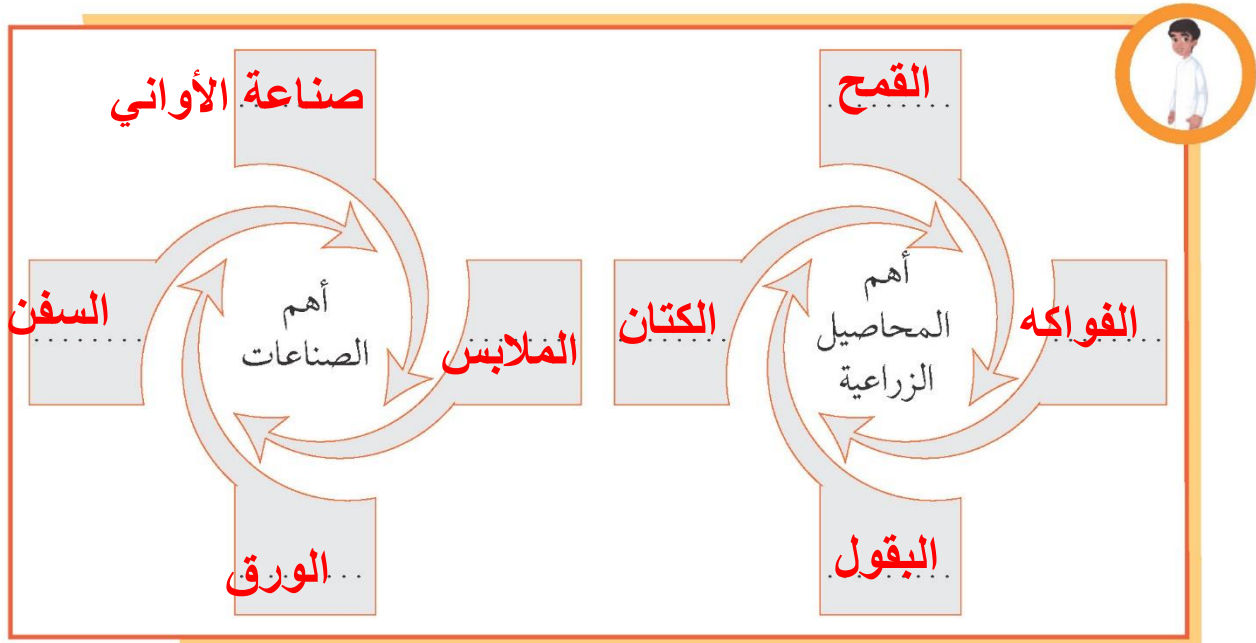
## أهم مظاهر الحضارة المصرية القديمة

### أ - الحياة الاقتصادية :

نشطت الحياة الاقتصادية في مصر القديمة بجميع نواحيها ، حيث تقدمت الزراعة وتطورت أساليبها وتنوعت المحاصيل كالقمح والفواكه والبقول والكتان وتربية الماشية ، وقد مهر المصريون القدماء في الصناعة أيضاً وخاصة صناعة الأواني الفخارية والمعدنية والملابس الكتانية والسفن والورق .

### نشاط (١)

ساعد خالداً في معرفة أهم المحاصيل الزراعية ، وأهم الصناعات الموجودة في الحضارة المصرية القديمة .



شكل (٢٤) مراحل تحنيط

### ب - المعتقدات الدينية :

اعتقد المصريون القدماء أن الحياة تعود إلى الجسم بعد الموت ، أي أنهم اعتقدوا في «البعث والخلود» ولذلك حرصوا على تحنيط جثث موتاهم ، واهتموا ببناء القبور وإقامة المعابد الفخمة للآلهة .



مدرستي

الكويتية

school-kw.com


## نشاط (١)

ما سبب حرص المصريين القدماء على تحنيط جثث موتاهم؟


لأنهم اعتقدوا بأن الحياة تعود بعد الموت (البعث والخلود)

### ج - العلوم والفنون :

أحرز المصريون القدماء تقدماً كبيراً في مجال العلوم والفنون كالفلك والكيمياء والتحنيط والنحت والبناء والكتابة التي عرفت عندهم بالكتابة الهيروغليفية .



شكل (٢٦) فن النحت



شكل (٢٥) بناء الأهرامات



## نشاط (١)

استعن بالشكل (٢٧) ثم اكتب الآتي بالكتابة الهيروغليفية

أ	ب	ج	د
و	ز	ح	ط
ش	ل	م	ذ
س	ع	ف	ص
ث	غ	ن	ض
د	ه	ي	ك
ن	ظ	ق	ر

شكل (٢٧) الكتابة الهيروغليفية

١ - اسمك :

.....

٢ - اسم دولتك :

.....



مدرستي

الكويتية

school-kw.com

## ٢ - حضارة بلاد الرافدين

أضف إلى معلوماتك :

بلاد الرافدين : وتعني بلاد ما بين النهرين ، ويطلق عليها حالياً اسم العراق .



شكل ( ٢٨ ) خريطة توضح الممالك التي قامت في بلاد الرافدين

### نشاط (١)

لاحظ الخريطة شكل (٢٨) ثم استخراج اسم النهرين في بلاد الرافدين .

١ - نهر دجلة

٢ - نهر الفرات

تمتاز بلاد الرافدين بموقع ممتاز وبخصوبة تربتها ووفرة مياهها العذبة ، حيث كانت موطناً للعديد من الحضارات القديمة .

وقد سيطر على بلاد الرافدين خلال تاريخها القديم خمسة شعوب متتالية ، أقامت دولاً وحكومات وحضارات على فترات متتالية ، وسميت تلك الحضارات بأسماء المناطق والمدن التي قامت فيها . واشتهرت تلك الحضارات بالتقدم والرقى بما قدمته للإنسانية من إنجازات .



مدرستي

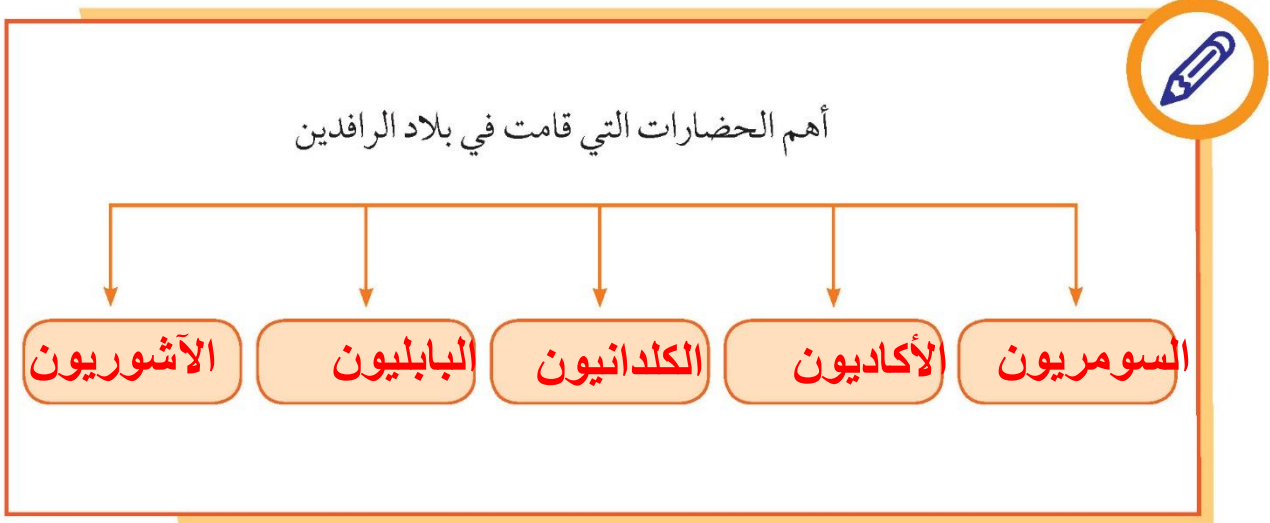
الكويتية

school-kw.com



## نشاط (٢)

اكتب أسماء الحضارات التي قامت في بلاد الرافدين ، في المخطط السهمي الذي أمامك من خلال الاستعانة بالخريطة شكل (٢٨) .





مدرستي


الكويتية

school-kw.com

## أهم المظاهر الحضارية في بلاد الرافدين

أولاً - الحياة الاقتصادية :

١ - الزراعة :



شكل (٢٩) طبيعة بلاد الرافدين

عرف سكان بلاد الرافدين الزراعة بسبب خصوبة تربتها وسعة سهولها ووفرة مياهها، فأقاموا السدود على الأنهار وجففوا المستنقعات واستصلحوا الأراضي .

نشاط (١)

- ما العوامل التي ساهمت في ازدهار الزراعة في بلاد الرافدين؟

**خصوبة المياه - سعة السهول - وفرة المياه**



٢ - التجارة :

كان لبلاد الرافدين نشاط تجاري مع بلدان الأقاليم المجاورة ، حيث استوردوا المعادن والأحجار والأخشاب ، وصدروا المنتجات الزراعية والمنسوجات وخاصة الصوفية منها .

نشاط (١) صنف المنتجات التجارية الواردة والمصدرة من وإلى بلاد الرافدين حسب الجدول التالي :


الواردات	الصادرات
المعادن	المنتجات الزراعية
الأحجار	المنسوجات
الأخشاب	



تنوعت الصناعات في بلاد الرافدين ، واشتهروا بصناعة الحلي والأواني الفخارية وغيرها .



شكل (٣١) عقد بابلي



شكل (٣٠) آنية فخارية تعود للعصر الأكادي

### ثانياً - العلوم والفنون :

تطورت العلوم لدى سكان بلاد الرافدين ، فقد برعوا في الهندسة والحساب والفلك والطب ، ومن أهم الفنون لديهم : فن النحت والبناء والرسم والأواني الفخارية .



شكل (٣٣) فن النحت



شكل (٣٢) حدائق بابل المعلقة



مدرستي

الكويتية

school-kw.com

## ثالثاً - الحياة الفكرية :

اخترع السومريون نوعاً من الكتابة عرفت باسم الكتابة المسمارية ، وتعد هذه الكتابة من أقدم أنواع الكتابة .  
الكتابة في العالم وحروفها تشبه المسمار ، وتكتب على ألواح من الطين الطري بواسطة أقلام تشبه المسمار ، وعدد حروفها ٦٠٠ حرف .

𐎠	𐎡	𐎢	𐎣
خ	ج	ب	أ
𐎥	𐎦	𐎧	𐎨
ط	ح	ز	و
𐎩	𐎪	𐎫	𐎬
ذ	م	ل	ش
𐎭	𐎮	𐎯	𐎰
ص	ف	ع	س
𐎱	𐎲	𐎳	𐎴
ض	ت	غ	ث
𐎵	𐎶	𐎷	𐎸
ك	ي	ه	د
𐎹	𐎺	𐎻	𐎼
ر	ق	ظ	ن

شكل ( ٣٤ ) أحرف الكتابة المسمارية

### نشاط (١)

من خلال الفقرة السابقة ساعد خالداً في الإجابة عن التساؤلات التالية :

١ - ماذا تشبه حروف الكتابة المسمارية؟

**المسمار**

٢ - ما الأدوات المستخدمة في الكتابة المسمارية؟

**ألواح من الطين الرمي وأقلام تشبه المسمار**

٣ - كم يبلغ عدد حروفها؟

**٦٠٠ حرف**

### نشاط (٢)

لاحظ الشكل (٣٤) ثم نفذ المطلوب منك .

١ - اكتب اسمك بالخط المسماري .



.....



مدرستي

الكويتية

school-kw.com

٢ - ظهرت في بلاد الرافدين شرائع قانونية قديمة عدة من أهمها شريعة حمورابي ، وهو ملك احتوت هذه الشريعة على ٢٨٢ مادة قانونية اعتمدت على مبدأ «السن بالسن والعين بالعين» تطبيقها ، مما أدى إلى انتشار الأمن والأمان في البلاد . **بسبب تطبيق شريعة حمورابي**



شكل (٣٦) حمورابي

من خلال النص السابق ، ما النتيجة التي حققتها شريعة حمورابي في بلاد الرافدين؟

**انتشار الأمن والأمان  
في البلاد**



شكل (٣٥) مسلة حمورابي



مدرستي

الكويتية

school-kw.com

### ٣ - حضارة جنوب غرب شبه الجزيرة العربية (بلاد اليمن)

تُعدُّ منطقة جنوب غرب شبه الجزيرة العربية من أكثر مناطق شبه الجزيرة العربية ملاءمة لقيام الحضارة؛ بسبب توافر المياه العذبة والمناخ المناسب لقيام الزراعة، أيضاً الموقع الذي يسمح بقيام النشاط التجاري فيها، وقد تأسست منذ الألف الثالث (ق. م) دويلات عدة في هذه المنطقة، من أهمها:



شكل (٣٧) خريطة حضارات بلاد اليمن

نشاط (١) من خلال الخريطة شكل (٣٧) والصور (٣٨ - ٤٠)، أجب عن الأسئلة التالية.



شكل (٣٨) مدينة بثل الدينية في معين



شكل (٣٩) نقش سبأ بالخط المسند



شكل (٤٠) مائدة قرابين تعود لمملكة حمير.

١ - حضارة معين: (١٣٠٠ - ٦٥٠ ق. م.)

أين تقع حضارة معين؟ وما عاصمتها وأهم معالمها؟

**تقع شمال بلاد اليمن - عاصمتها**

**قرناو - أهم معالمها مدينة يثل**  
٢ - حضارة سبأ: (٩٥٠ - ١١٥ ق. م.)

أين تقع حضارة سبأ؟ وما أهم مدنها وأهم معالمها؟

**تقع وسط بلاد اليمن - عاصمته مارب -**

**أهم معالمها سد مارب**

٣ - حضارة حمير: (١١٥ - ٥٢٥ م.)

أين تقع حضارة حمير؟ وما أهم مدنها وأهم معالمها؟

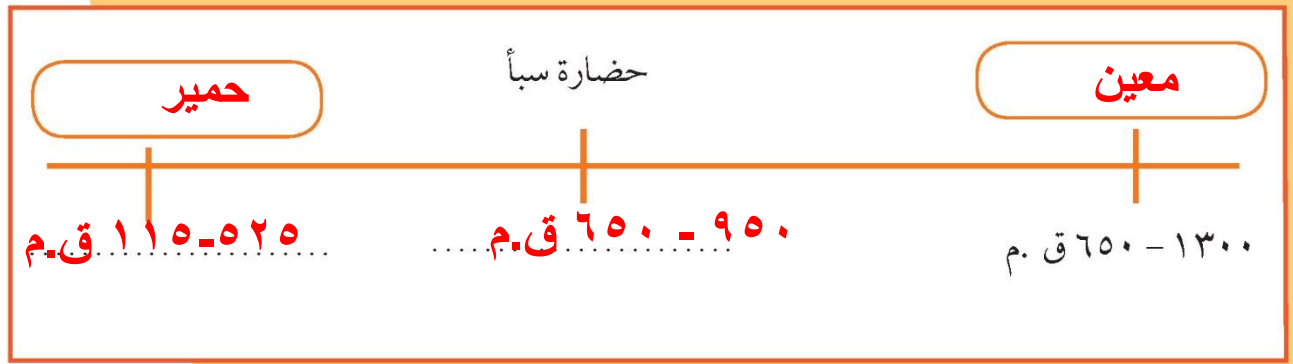
**تقع جنوب بلاد اليمن - عاصمته ريدان**

**- أهم معالمها مائدة القرابين**



## نشاط (٢)

أكمل الخط الزمني لحضارات بلاد اليمن ، وقم بترتيبها زمنياً من الأقدم إلى الأحدث .



اقرأ وتعلم :  
عظم شأن سبأ ، وأصبحت أشهر ممالك اليمن القديمة ، وورد ذكرها في القرآن الكريم ، وأشهر ملوكها : الملكة بلقيس هي بنت شراحيل بن مالك بن الريان . وكان أبوها ملك اليمن ، وقد انحدر من سلالة ملكية ممتدة عبر أربعين جيلاً من الملوك ، ولم يكن له أبناء غيرها ، فأصبحت هي الملكة . قال تعالى : ﴿ إِنِّي وَجَدْتُ امْرَأَةً تَمْلِكُهُمْ وَأُوتِيَتْ مِنْ كُلِّ شَيْءٍ وَلَهَا عَرْشٌ عَظِيمٌ ﴾ سورة النمل : الآية ٢٣ .



### المظاهر الحضارية لحضارة جنوب غرب شبه الجزيرة العربية :

اشتهر سكان جنوب غرب شبه الجزيرة العربية بالمشاريع الزراعية من خلال تنظيم عملية الري عن طريق بناء السدود والخزانات ، وأشهرها سد مأرب ، ومن أشهر منتجاتها الزراعية (الموز - اللبان - القرفة) .



شكل (٤١) بقايا مأرب



شكل (٤٢) الطبيعة في اليمن

### نشاط (١)

ابحث مع زملائك في أحد محركات البحث عن سد مأرب ، واكتب تقريراً عنه من ٤ أسطر .

بني في القرن العاشر ق.م ، وبلغ طوله ٥٧٧ م وعرضه ٩١٥ م تقريباً ، بني من الحجارة المقطوعة من الجبال ويقوم بجمع مياه الأمطار وتجميعها ويروي ما يقارب ٩٨ كم تقريباً ومزود بثقوب تتحكم بكمية الأمطار



مدرستي

الكويتية

school-kw.com

أما بالنسبة للتجارة فقد كان أهل اليمن أسياذ التجارة العربية ، حيث سيطروا على الطر  
وامتدت تجارتهم بين شمال شبه الجزيرة العربية وجنوبها ، وكان هناك تبادل تجاري مع الحضارات  
المجاورة لها ، وخاصة حضارة بلاد مصر القديمة وحضارة بلاد الرافدين وحضارة بلاد الشام ، كما عرفوا  
الأبجدية التي كانت تتألف من ٢٩ حرفاً ، وكانت تكتب بالخط المسند .



مدرستي

الكويتية

school-kw.com



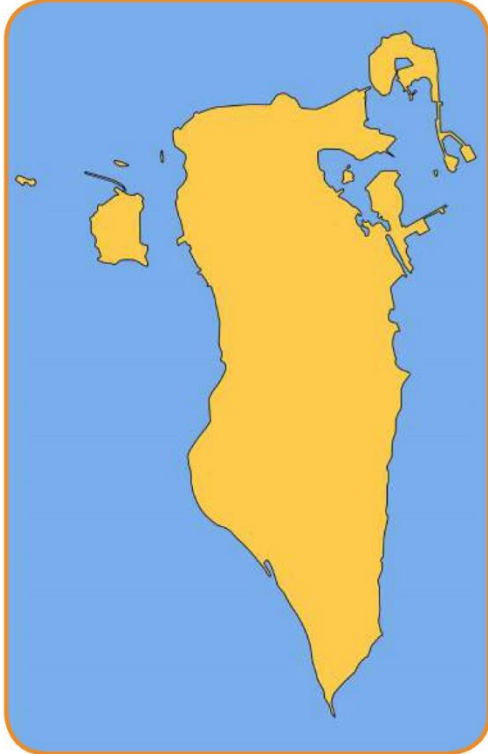
## ٤ - حضارة دلمون (البحرين)

قامت دلمون وسط حضارات الشرق القديم ، وبحكم موقعها وسط الخليج العربي فقد كانت مركزاً مهماً للمواصلات والتجارة البحرية بين البلدان المطلة على الخليج العربي والحضارات المجاورة لها .

- اذكر حضارتين من هذه الحضارات :

١ - بلاد الرافدين .....

٢ - بلاد اليمن .....



شكل (٤٣) خريطة توضح مملكة البحرين

ازدهر العمران في دلمون ، وتنوع نشاط السكان الاقتصادي ، فمارسوا الزراعة وصيد الأسماك والغوص على اللؤلؤ ، وكانت تسمى قبل الفتح الإسلامي باسم «أوال» .



شكل (٤٥) ختم يعود لحضارة دلمون



شكل (٤٤) رأس الثور



مدرستي

الكويتية

school-kw.com

## نشاط (١)

ألصق مجموعة من الصور لآثار حضارة دلمون .



اقرأ وتعلم : أوال : اسم أطلق على البحرين قديماً نسبة إلى صنم اسمه أوال كانت تعبده قبيلة وائل التي حكمت البحرين آنذاك .





## الوطن العربي مهد الديانات السماوية الثلاث

يعتبر الوطن العربي مهد الديانات السماوية الثلاث التي انتشرت في أنحاء العالم ، مما أكسبه مكانة

روحية مقدسة وهي كالتالي :

١ - **الديانة اليهودية:** وهي التي نزلت على سيدنا موسى - ﷺ - وكتابها التوراة .

٢ - **الديانة المسيحية:** وهي التي نزلت على سيدنا عيسى بن مريم - ﷺ - وكتابها الإنجيل .

### نشاط (١)

١ - ما اسم الكتاب الذي أنزل على سيدنا موسى - ﷺ - ؟

**التوراة**

٢ - متى ولد سيدنا عيسى بن مريم - ﷺ - ؟ وأين ؟

**١ ميلادي في بيت لحم في فلسطين**

٣ - **الديانة الإسلامية:** يعتبر الإسلام خاتم الرسالات السماوية جميعاً ، ونزل القرآن الكريم على سيدنا

محمد - ﷺ - عام ٦١٠ م في مكة المكرمة ، وقد دون على يد كُتَّاب الوحي ، وتكفل الله - سبحانه

وتعالى - بحفظه من التحريف والتغيير .

١ - متى نزل الوحي على الرسول - ﷺ - ؟ وأين ؟

**نزل عام ٦١٠ م في مكة**

٢ - دلل على أن الله - ﷻ - تكفل بحفظ القرآن الكريم من التحريف والتغيير .

**قوله تعالى: (إنا نحن نزلنا الذكر وإنا له لحافظون)**



مدرستي

الكويتية

school-kw.com

نشاط (٢) اكتب أسماء الأماكن المقدسة الموجودة في الصور التالية :



..... المسجد الأقصى



..... المسجد الحرام

..... المسجد النبوي



## الحضارة العربية الإسلامية



اقرأ وتعلم:

قامت الحضارة العربية الإسلامية على الإسلام وتعاليمه ، وكان هذا التنظيم الإسلامي أهم الأسس التي بنيت عليها حضارة العرب في ظل الإسلام ، فالصلاة في نظامها ومواقيتها وما يترتب عليها من نظافة البدن والروح ، والصوم والزكاة التي تحقق التكافل الاجتماعي ، فضلاً عن مبادئ الإسلام المتمثلة في الشورى والعدل والمساواة ، ومع انتشار الإسلام بالفتوحات الإسلامية انتشرت اللغة العربية وأصبحت الرابطة الأساسية التي ربطت أجزاء الدولة بعضها ببعض .

## أثر الحضارة العربية الإسلامية في الحضارة الأوروبية:

قامت في بلاد العرب حضارة مزدهرة ، وكان لابد لها من أن تنير أرجاء العالم مثلها في ذلك مثل كل حضارة إنسانية متفوقة ، وكان للحضارة العربية الإسلامية فضل كبير وأثر واضح في إثراء الحضارة الأوروبية منذ القرن العاشر الميلادي ، حيث كانت أوروبا تعيش آنذاك في عصور الظلام ، وذلك بسبب سيطرة الكنيسة على عقول الناس ، وقد انتقلت الحضارة العربية الإسلامية إلى أوروبا بفضل مراكز الإشعاع التي انتشرت بالقرب منها مثل بلاد الأندلس وصقلية ، أو عن طريق الاحتلال الصليبي لبلاد الشام .

## نشاط (١) أكمل المخطط السهمي بالمناقشة مع معلمك :

انتقال الحضارة العربية الإسلامية إلى أوروبا عن طريق

بلاد الشام


جزيرة صقلية

بلاد الأندلس

أشكال توضح الجانب المعماري من الحضارة الإسلامية التي برع فيها العرب المسلمون



شكل (٤٨) جامع المنصور



شكل (٤٧) قصر الحمراء



شكل (٤٦) مسجد قرطبة



مدرستي

الكويتية

school-kw.com

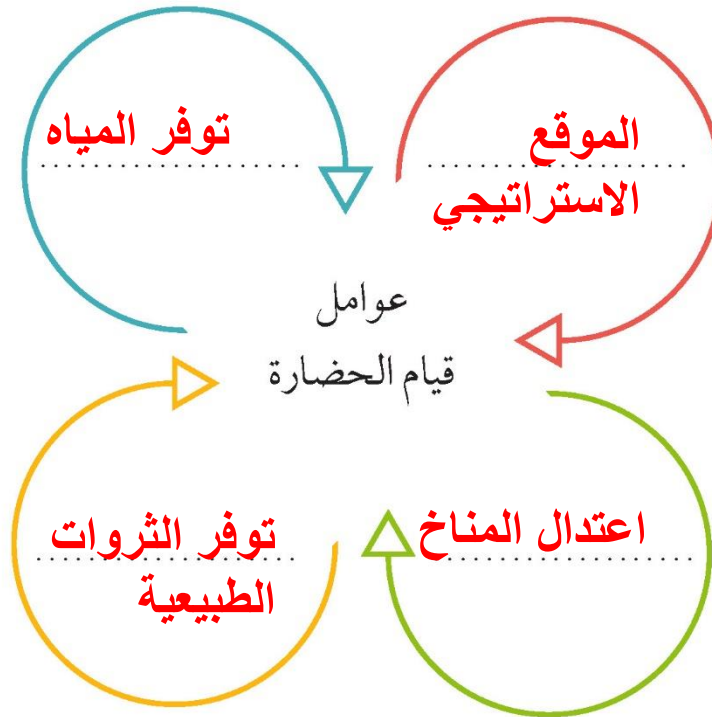
تقويم

## الوحدة الثانية

أولاً - أكمل الفراغات التالية بكلمات مناسبة :

- ١ - كل ما يطرأ على المجتمع من تقدم وتطور في جميع نواحي الحياة الدينية والسياسية والاقتصادية والاجتماعية والفكرية يسمى ..... **الحضارة**
- ٢ - تعتبر الأهرامات مظهراً من مظاهر الحضارة ..... **مصر القديمة**
- ٣ - عرفت الكتابة المصرية القديمة باسم ..... **الهيروغليفية**
- ٤ - يطلق اسم بلاد الرافدين أو بلاد ما بين النهرين على دولة عربية تسمى ..... **العراق**
- ٥ - من أشهر ملوك الحضارة البابلية في العراق ملك يسمى ..... **حمورابي**
- ٦ - يطلق على البحرين قديماً اسم ..... **أوال**

ثانياً - أكمل المخطط التالي :



ثالثاً - اذكر أشهر المعالم الدينية حسب الصور في الجدول التالي :

اسم الدولة ... <b>السعودية</b> ... اسم المَعْلَم الديني <b>مكة المكرمة</b>	
اسم الدولة ... <b>فلسطين</b> ... اسم المَعْلَم الديني <b>المسجد الأقصى</b>	

رابعاً - لاحظ الصورة التالية ثم أجب عما يلي :



١ - اسم الشخصية التي في الصورة .

**حمورابي**

٢ - ما أهم ما اشتهر به؟

**شريعة حمورابي**

٣ - ما المبدأ الذي اعتمد عليه؟

**العين بالعين والسن بالسن**

خامساً - علل لما يأتي :

- كان الوطن العربي مركزاً للحضارات المختلفة عبر التاريخ .
- **لأنه يتمتع بمقومات طبيعية وجغرافية تساعد على الاستقرار وبناء الحضارة**
- اهتمام المصريين القدماء بتحنيط جثث موتاهم .
- **لأنهم اعتقدوا أن الحياة تعود بعد الموت (البعث والخلود)**
- ازدهار الزراعة في بلاد الرافدين .
- **خصوبة التربة وسعة السهول ووفرة المياه**



مدرستي

الكويتية

school-kw.com



مدرستي

الكويتية

school-kw.com

- اقتصر ظهور المجتمعات الحضارية على الجزء الجنوبي الغربي من شبه الجزيرة العربية  
- لأنه توفر بها مقومات الحضارة أكثر من غيرها

سادساً - صنف الأسماء التالية في مكانها الصحيح في الجدول التالي :

- (الإنجيل - موسى ﷺ - القرآن الكريم - عيسى ﷺ - التوراة - محمد ﷺ) .

الديانة	الكتاب	النبى
الإسلام	القرآن الكريم	محمد صلى الله عليه وسلم
المسيحية	الإنجيل	عيسى عليه السلام
اليهودية	التوراة	موسى عليه السلام

سابعاً - أجب عن الأسئلة التالية كما هو مطلوب بين القوسين :

- تُعدُّ حضارة (دلمون) مركزاً مهماً للمواصلات البحرية . (علّل)

لأنها تقع وسط الخليج العربي

- انتقلت الحضارة العربية الإسلامية إلى قارة أوروبا بفضل مراكز الإشعاع (عددها)

١ - الأندلس

٢ - صقلية

٣ - بلاد الشام

مشروع :

- شارك زملاءك في إعداد متحف مصغر يحتوي على صور ومجسمات وبعض الآثار للحضارات القديمة في الوطن العربي بمساعدة معلمك .



سنتعرف في هذه الوحدة على ما يلي :

- ١- أثر البيئة الطبيعية على نمو وتوزيع السكان .
- ٢- أثر البيئة الطبيعية اقتصادياً .
- ٣- كيفية تطبيق المفاهيم التي درستها في الوحدة .



مدرستي  
الكويتية

school-kw.com

# الوحدة الـ

## الوطن العربي

### ملاع

### بشرية واقتصادية



- الدرس الأول : نمو السكان وتوزيعهم في الوطن العربي .
- الدرس الثاني : الموارد الاقتصادية في الوطن العربي .
  - أولاً - إنتاج الغذاء في الوطن العربي .
    - ثانياً - الإنتاج الحيواني .
    - ثالثاً - الطاقة والثروة المعدنية .
    - رابعاً - الإنتاج الصناعي .
  - خامساً - النقل والتبادل التجاري في الوطن العربي .
- التقويم .



مدرستي

الكويتية

school-kw.com



مدرستي

الكويتية

school-kw.com

الدرس الأول

## نمو السكان وتوزيعهم في الوطن العربي

### نمو السكان وتوزيعهم في الوطن العربي


درست في الوحدة الأولى من هذا الكتاب أن الوطن العربي يغطي مساحة كبيرة من الأرض تبلغ ١٣,٥ مليون كم<sup>٢</sup> تقريباً . ويتألف من ٢٢ دولة ، تضم حوالي ٣٨٢,٠٠٩ مليون نسمة تقريباً ، يتوزعون بنسبة ٧٠٪ في القارة الأفريقية و ٣٠٪ في القارة الآسيوية .



اقرأ وتعلم :

### توزيع السكان في الوطن العربي :

تعتمد دراسة السكان بصورة عامة على الإحصاءات السكانية وأهم هذه الإحصاءات :  
أ - التعداد السكاني : تقوم الدولة من حين إلى آخر بإجراء تعداد لسكانها (كل ٥ سنوات أو ١٠ سنوات) ، ونتيجة لهذا التعداد تحصل الدولة على معلومات وافية عن أوضاع سكانها : عددهم الإجمالي - عدد كل جنس (ذكور ، إناث) أعمارهم ، وغير ذلك من المعلومات .  
ب - الإحصاء الحيوي : تسجيل المواليد والوفيات وحالات الزواج والطلاق ، ونحصل على بياناتها من واقع السجلات الرسمية للدولة .

**نشاط (١)** بالاستعانة بالإنترنت  قم بزيارة موقع الإدارة المركزية للإحصاء [WWW.CSB.GOV.KW](http://WWW.CSB.GOV.KW) ، ثم أجب عما يلي :

متى أنشئت الإدارة المركزية للإحصاء في الكويت؟

.....

متى أُجري أول تعداد سكاني في الكويت؟ وما الجهة المسؤولة عن ذلك؟

.....





## ١ - التوزيع الجغرافي للسكان في الوطن العربي

يقدر عدد سكان الوطن العربي بنحو (٣٨٢٠٠٠٩) مليون نسمة حسب إحصائية ٢٠١٤ موزعة على

النحو التالي :

م	الدولة العربية	المساحة كم <sup>٢</sup>	تقديرات عدد السكان (ألف نسمة)	م	الدولة العربية	المساحة كم <sup>٢</sup>	تقديرات عدد السكان (ألف نسمة)
١	السعودية	٢٠٢٥٠,٠٠٠	٣٠,٧٧٠	١	مصر	١,٠٠٩,٤٥٠	٨٦,٨١٤
٢	العراق	٤٣٥,٠٥٢	٣٦,٠١٥	٢	السودان	١,٨٨٢,٠٠٠	٣٧,٤٠٢
٣	سوريا	١٨٥,١٨٠	٢٢,٧١٤	٣	الجزائر	٢,٣٨١,٧٤١	٣٩,٤٠٢
٤	فلسطين	٢٧,٠٠٠	٤,٥٥٠	٤	المغرب	٧١٠,٨٥٠	٣٣,٣٠٤
٥	الأردن	٨٩,٣١٨	٦,٦٧٥	٥	تونس	١٦٤,١٥٠	١٠,٩٨٣
٦	لبنان	١٠,٤٥٢	٤,٠٧٢	٦	ليبيا	١,٦٦٥,٠٠٠	٥,٩١٢
٧	الكويت	١٧,٨١٨	٣,٧١٥	٧	الصومال	٦٣٧,٦٥٧	١٢,٣١٧
٨	الإمارات	٧١,٠٢٣	٨,٥٢٥	٨	موريتانيا	١,٠٣٠,٧٠٠	٣,٥٤٦
٩	البحرين	٧١٢	١,٣٩٩	٩	جيبوتي	٢٣,٢٠٠	٩٣٩
١٠	قطر	١١,٦٠٦	٢,٠٥١	١٠	جزر القمر	٢,٢٣٦	٧٦٥
١١	اليمن	٥٥٥,٠٠٠	٢٥,٩٥٦				
١٢	عمان	٣٠٩,٥٠٠	٤,١٨٣				
	مجموع الجناح العربي الآسيوي	٣,٩٦٢,٦٦١	١٥٠,٩٢٥		مجموع الجناح العربي الأفريقي	٩,٥٠٦,٩٨٤	٢٣١٣٨٤

شكل (٤٩) إحصائية تبين مساحة الدول العربية وتقديرات عدد السكان في عام (٢٠١٤م)



مدرستي

الكويتية

school-kw.com

## نشاط (١)

ادرس الجدول السابق شكل (٤٩) ثم أكمل الجدول الآتي :

	عدد سكان الوطن العربي في الجناح الأفريقي
	عدد سكان الوطن العربي في الجناح الآسيوي
..... + ..... = ..... مليون نسمة	إجمالي عدد سكان الوطن العربي
	أكثر الدول العربية سكاناً
	الدول العربية التي يزيد عدد سكانها على (٢٠) مليون نسمة
	الدول العربية التي يقل عدد سكانها عن (٥) مليون نسمة

نشاط (٢) ادرس الجدول شكل رقم (٤٩) ، ثم قارن بين مساحة الدول التالية بعدد سكانها :

دولة	مساحة الدولة	عدد سكانها
دولة الكويت		
مصر		
ليبيا		

ماذا تستنتج من الجدول السابق؟

.....  
.....

### أضف إلى معلوماتك :

يختلف عدد السكان بين دولة عربية وأخرى اختلافاً كبيراً ، ويعود هذا التفاوت ليس فقط للمساحة الكلية وإنما للعوامل الطبيعية والبشرية .



مدرستي

الكويتية

school-kw.com

١٠٢



## ٢- الكثافة السكانية في الوطن العربي

يقصد بكثافة السكان نسبة عدد السكان الكلي في دولة ما ، أو منطقة ما ، إلى المساحة الكلية لهذه الدولة أو المنطقة ، ولكن هذه الكثافة لا تعطي صورة واضحة عن توزيع السكان داخل الدولة أو المنطقة أو الإقليم ، حيث تعاني بعض الدول وفي مقدمتها جمهورية مصر العربية من سوء توزيع السكان فيها ، حيث يتركز السكان على مساحة صغيرة جداً (وادي النيل و دلتاه) ، لماذا برأيك؟

### الكثافة السكانية العامة :

عدد السكان الكلي

المساحة الكلية

### نشاط (٣)

استخرج الكثافة السكانية العامة للدول العربية التي بالجدول مستعيناً بشكل (٤٩) .

الدولة	الكثافة السكانية العامة
الكويت	
موريتانيا	
مملكة البحرين	

ماذا تستنج من الجدول السابق؟

.....

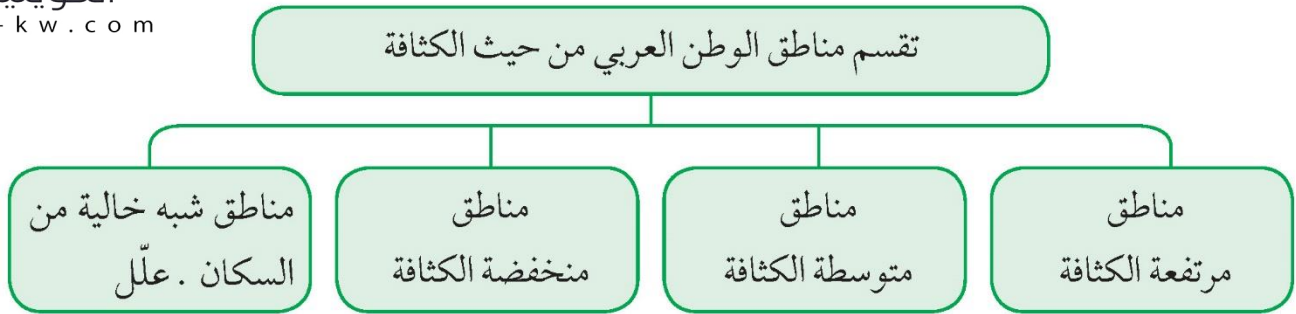


مدرستي

الكويتية

school-kw.com

ويمكن تقسيم الوطن العربي إلى الأقسام التالية :



شكل (٥٠) تقسيم مناطق الوطن العربي من حيث الكثافة السكانية

ما أسباب هذا الاختلاف؟

لاحظ المخطط السهمي شكل (٥٠) والصور شكل (٥١) وتعرّف على العوامل المؤثرة في توزيع السكان .



لماذا يتجمع السكان حول مصادر المياه؟



لماذا يصعب العيش في المناطق الجبلية؟



لماذا يفضل السكان العيش في المناطق السهلية ذات المناخ المعتدل؟



هل الصحراء مناطق جاذبة للسكان؟

شكل (٥١) صور توضح العوامل المؤثرة في توزيع السكان



## نشاط (٤) لاحظ شكل (٥١) ، ثم أجب عما يلي؟

ما المناطق المُناخية التي يقل فيها السكان؟

.....

ما المناطق التي يجذب السكان للعيش فيها؟

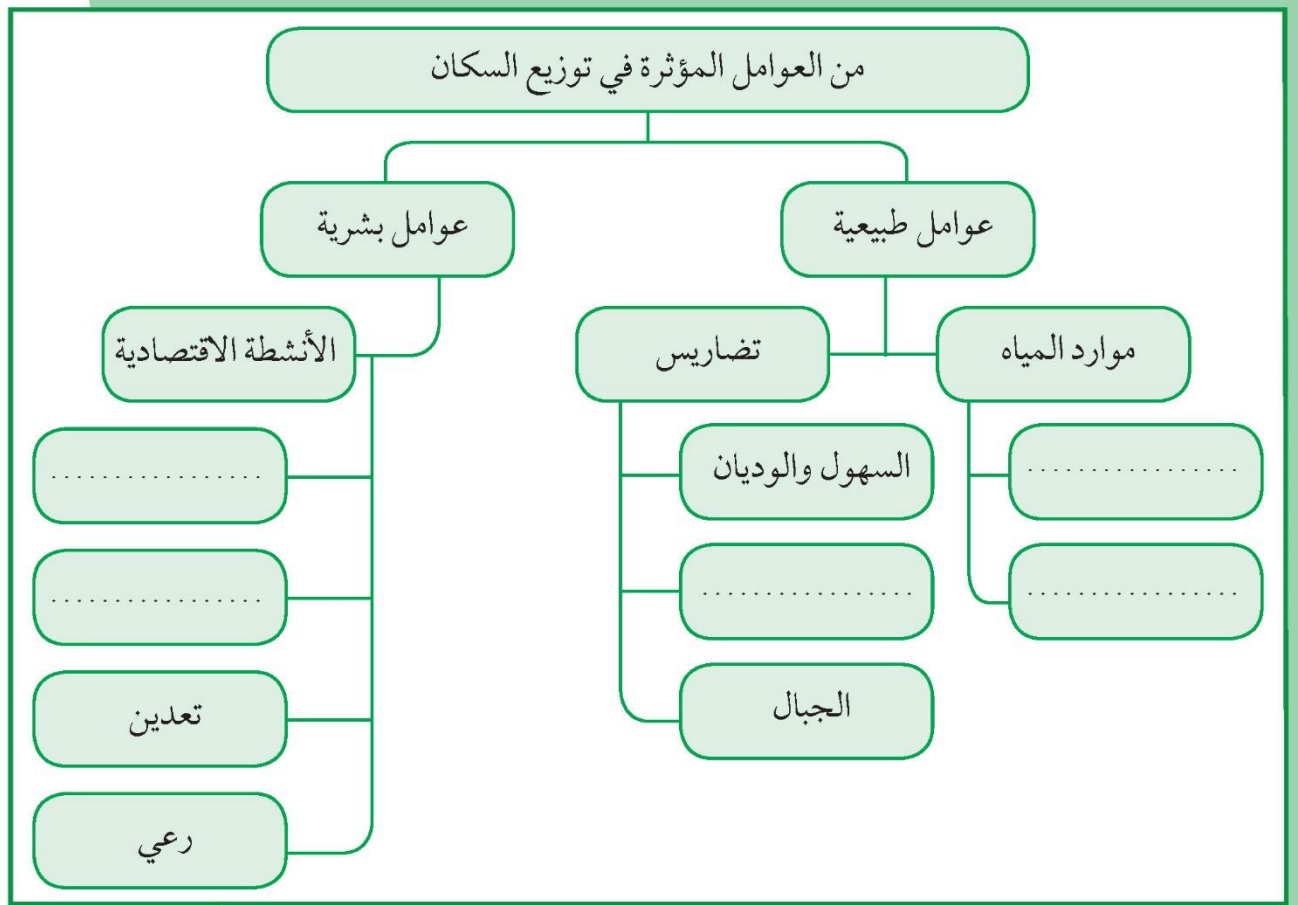
.....

ما المناطق التي لا يرغب السكان العيش فيها؟

.....



## نشاط (٥) من خلال دراستك السابقة أكمل مخطط العوامل المؤثرة في توزيع السكان .



شكل (٥٢) مخطط العوامل المؤثرة في توزيع السكان



## نشاط (١) للتعرف أكثر على توزيع الكثافة السكانية أقرأ النص ، ثم ساعد خالداً في الإجابة عن



شكل (٥٣) الزراعة على المدرجات الجبلية في اليمن

ترتفع الكثافة السكانية في المناطق التي تتمتع بمقومات طبيعية ومناخية ملائمة وثروات طبيعية وطرق مواصلات ، وتنخفض الكثافة في المناطق التي لا تتوفر فيها هذه المقومات .

فرغم الصعوبات التي تواجه السكان في بعض أنواع التضاريس ، وبفضل التطور العلمي فقد استطاع الإنسان التغلب عليها والعيش في تلك المناطق ، فحول الجبال إلى مدرجات وزرعها ، وشق العديد من الطرقات ، كذلك استطاع أن يواجه ظروف العيش في الصحراء ويستغل ثرواتها الطبيعية .

• كيف تغلب الإنسان على صعوبة العيش والزراعة في الجبال؟  
.....

• ما أسماء المدن ، والدول التي نشأت ونمت في الصحراء؟  
.....

• كيف استطاع الإنسان أن يتغلب على بعض صعوبات المناخ ويسكن في المناطق الباردة؟  
.....

• كيف تمكن الإنسان من العيش في الصحراء؟  
.....

### نستخلص من السابق ما يلي :

- يستقر الإنسان في المناطق التي توفر له إمكانية استغلال مواردها .
- أكبر تجمع للسكان يكون حول الأنهار والبحار ومصادر المياه .
- المناخ المعتدل عامل جذب للسكان .



### ٣- النمو السكاني في الوطن العربي

يقدر معدل النمو السنوي للسكان في الوطن العربي بحوالي ٢,٢٠ حسب إحصائيات عام ٢٠٠٦م، وهو معدل مرتفع للغاية إذ يفوق المعدل العالمي والذي يقدر بحوالي ١,٧٪. وتختلف هذه الزيادة من دولة إلى أخرى، ويتوقف تأثير هذه الزيادة على مساحة الدولة من جهة ومواردها من جهة أخرى.

#### لماذا تهتم الدول بمعرفة معدلات النمو؟

للإجابة عن هذا السؤال يجب أن نلقي الضوء على مكونات هذا النمو.

#### • الزيادة السكانية :

##### الزيادة السكانية نوعان :

٢- زيادة غير طبيعية : هي الزيادة الناتجة عن الهجرة .

١- زيادة طبيعية : هي الفرق بين معدل المواليد ومعدل الوفيات .

#### • الهجرة :

##### الهجرة نوعان :

هجرة خارجية من دولة إلى دولة أخرى .

هجرة داخلية من القرى إلى المدن .

• يرجع النمو السكاني بالوطن العربي إلى عاملين هما الزيادة الطبيعية، والهجرة .

شكل (٥٤) مكونات النمو السكاني في الوطن العربي

#### يقصد بالنمو السكاني :

تزايد عدد السكان من عام لآخر نتيجة للزيادة الطبيعية للسكان (معدل المواليد - معدل الوفيات) والهجرة .



مدرستي

الكويتية

school-kw.com

نشاط (١) ناقش مع معلمك كلاً من :



- أسباب هجرة الأيدي العاملة من دول آسيا إلى بعض دول الوطن العربي .

.....

- أسباب هجرة الأيدي العاملة من بعض الدول العربية إلى منطقة الخليج العربية .

.....

نشاط (٢)

فكر واستنتج مع خالد ، ماذا يحدث لو : زاد عدد السكان بكثرة عن عدد موارد الدولة الاقتصادية؟

.....



مما سبق فيما يتعلق بتوزيع السكان ، والكثافة السكانية ، والنمو السكاني في الوطن العربي .

هل يمكننا القول إن :

هناك مشكلة سكانية في الوطن العربي؟ ناقش هذا الموضوع مع معلمك .



مدرستي

الكويتية

school-kw.com

١٠٨



نشاط (٣) مشروع عمل تعاوني



ارتفاع معدل نمو السكان في بعض دول الوطن العربي مشكلة :

**المشكلة :**

**اقتراحات حل المشكلة :**





مدرستي

الكويتية

school-kw.com

## الدرس الثاني

### الموارد الاقتصادية في الوطن العربي

وهب الله منطقتنا العربية ثروات اقتصادية وموارد طبيعية مهمة .

**نشاط (١)** لاحظ الصور التالية ثم اكتب الثروات الطبيعية وأهميتها بالنسبة لوطننا العربي :



الثروة :  
الأهمية :



الثروة :  
الأهمية :



الثروة :  
الأهمية :



الثروة :  
الأهمية :

شكل (٥٥)

#### الموارد البشرية :

الموارد البشرية هي التي ترتبط بالسكان من حيث أعدادهم وتوزيعهم ومناسبة أعدادهم لمساحة الأرض التي يستغلونها .

#### الموارد الطبيعية هي :

الثروات التي منحها الله لإقليم من دون أن يكون للإنسان أي دور في وجودها .  
مثل : الثروات المعدنية والغابات والمراعي والموارد المائية وموقع الإقليم .



مدرستي

الكويتية

school-kw.com

١١٠



## أولاً - إنتاج الغذاء في الوطن العربي

### أ - الإنتاج الزراعي :

يأتي القطاع الزراعي في المرتبة الأولى ، حيث إنه يشكل نسبة ٥٠٪ من الاقتصاد العربي مقارنة بالقطاع الصناعي (٢٠٪) والخدمات العامة (٣٠٪) خاصة في الأقطار غير المنتجة للنفط ، حيث توفر الغذاء والعمل والمادة الأولية لكثير من الصناعات الغذائية ، وتختلف أنواع هذه المنتجات من دولة عربية إلى أخرى بسبب اختلاف المناخ والتربة ومدى توافر المياه في هذه الدول ، كما أن إنتاج الوطن العربي من بعض هذه المنتجات كالقطن والزيتون والصمغ العربي والحمضيات يصدّر إلى الخارج بكميات مناسبة مما يكسب الوطن العربي أهمية كبيرة .

### نشاط (١)

استتج ثلاث فوائد أساسية للنشاط الزراعي في الوطن العربي :

١ -
٢ -
٣ -



### نشاط (٢)

من خلال دراستك السابقة تعرف على المناطق الزراعيّة في الكويت ، ثم دونها في الجدول التالي :

في الجنوب	في الشمال





مدرستي

الكويتية

school-kw.com

نشاط (٣) هل تستطيع رسم دائرة بيانية لأهمية القطاع الزراعي بالنسبة لبقية القطاعات في العربي؟



نشاط (٤) من خلال الاستدلال بالصور ساعد خالداً في إكمال مخطط مقومات الإنتاج الزراعي .

### ب - مقومات الإنتاج الزراعي



شكل (٥٦) مقومات الإنتاج الزراعي

عزيزي المتعلم :

بالرجوع إلى الوحدة الأولى من هذا الكتاب

ما هي مصادر المياه الرئيسية في الوطن العربي؟



مدرستي

الكويتية

school-kw.com



نشاط (٥)

اكتب رسالة لزميلك تنصحه فيها بالمحافظة على النباتات في مدرستك ، وتوضح له كيفية الاعتناء بها .



مدرستي

الكويتية

school-kw.com

## ج - المحاصيل الزراعية في الوطن العربي

### الفواكه والثمار

تتطلب ظروفاً مُناخية خاصة تتركز معظمها في حوض البحر المتوسط وتزرع منها أنواع كثيرة .

### الغلات الصناعية والتجارية

وتشمل الغلات التي تدخل في الصناعة وتزرع بغرض التجارة والحصول على نقد ، ولذلك تسمى (الغلات النقدية) .

### الحبوب الغذائية

تُعدُّ من أهم المزروعات في الوطن العربي حيث تشغل مساحة كبيرة من الأراضي المزروعة ، وتؤثر كمية الأمطار في إنتاجها من عام إلى آخر ، ويأتي في مقدمتها القمح والأرز والذرة والشعير .

قام خالد بزيارة (سوق المباركية) للتعرف على بعض المحاصيل والمنتجات الزراعية المستوردة من الوطن العربي .



شكل (٥٧) سوق المباركية بالكويت

**خالد** : السلام عليكم ، العم صالح كيف حالك ؟

ما هي أنواع المحاصيل الزراعية التي يمكن ان أجدها عندك ؟

**العم صالح** : تتوفر لدينا **حبوب غذائية** : مثل الشعير والأرز والقمح والذرة و**غلات صناعية وتجارية** : مثل البن والشمندر والزيتون وقصب السكر أيضاً ، و**فواكه وثمار** : مثل العنب والتفاح والحمضيات والموز .

**خالد** : ومن أين تستورد كل هذه المحاصيل يا عم ؟

**العم صالح** : نستوردها من جميع دول الوطن العربي فهي جميعها منتجات يتم زراعتها في الوطن العربي .

**نشاط (١)** هل تستطيع مساعدة خالد في تصنيف المحاصيل الزراعية حسب نوعها من خلال الحوار الذي

دار بين خالد والعم صالح في الجدول التالي ؟

الفواكه والخضار	الغلات الصناعية والتجارية	الحبوب الغذائية



## نشاط (٢)

مدرستي  
الكويتية

school-kw.com

تعرف على الدول التي تحتل المراكز الأولى في إنتاج جميع أنواع المحاصيل الغذائية، ثم

لبعض المحاصيل :

### أ - الحبوب الغذائية :

الأرز	الذرة (الشامية)	الشعير	القمح	الغلة الزراعية
مصر	مصر	المغرب	مصر	الدول العربية
العراق	المغرب	سوريا	السعودية	
المغرب	السودان	الجزائر	المغرب	

### ب - الغلات الصناعية :

قصب السكر	البن	القطن	الغلة الزراعية
مصر	اليمن	مصر	الدول العربية
السودان	-	السودان	
المغرب	-	سوريا	

### ج - الفواكه والأشجار :


الموز	الموالمح	التمور	العنب	الغلة الزراعية
الصومال	مصر	السعودية	سوريا	الدول العربية
-	لبنان	مصر	مصر	
-	سوريا	العراق	الجزائر	



فواكه وثمار



غلات نقدية



حبوب غذائية



مدرستي

الكويتية

school-kw.com

### نشاط (٣)

لاحظ الصور في المخطط السهمي التالي لتتعرف على المشكلات التي تعاني منها الزراعة العربي .

#### د - المشكلات التي تعاني منها الزراعة في الوطن العربي



شكل (٥٨) المشكلات التي تعاني منها الزراعة في الوطن العربي

### نشاط (٤) لاحظ الصور التالية ، ثم عرّف المفاهيم التالية :



..... : الزراعة الحديثة


..... : الزراعة التقليدية

شكل (٥٩)



## نشاط (٥)

تبلغ المساحة المزروعة في الوطن العربي حوالي ٥٦٪ من المساحة القابلة للزراعة ،  
رسم دائرة بيانية لهذه النسبة؟



المساحة المزروعة ■

المساحة القابلة للزراعة ■

## نشاط (٦)

ابحث مع زملائك عن أسباب عدم استغلال الأراضي الصالحة للزراعة ، مستخدماً مراجع خارجية من  
مكتبة المدرسة :



.....

.....

.....



مدرستي

الكويتية

school-kw.com

## ثانياً - الإنتاج الحيواني

يمتلك الوطن العربي أعداداً متنوعة من الثروة الحيوانية التي تساهم في موارد الدخل لكثير من الدول العربية ، وهي ثروة قابلة للزيادة والنمو إذا ما تدخل الإنسان بعمله واجتهاده ووسائله الحديثة لرعايتها وتنظيم استغلالها وتحسين أنواعها وإعداد الغذاء الكافي لها ، وتتربى هذه الحيوانات في المراعي وبعضها في الأراضي الزراعية .



اقرأ وتعلم :

### أ - الثروة الرعوية

نشاط (١)

يمتلك الوطن العربي أنواعاً كثيرة من الثروة الرعوية ، فهل تستطيع لصق صور لهذه الثروة .




## نشاط (٢)

لاحظ الجدول التالي ، ثم قم بعملية حسابية لإنتاج الوطن العربي من الثروة الرعوية :

أبقار	أغنام	ماعز	إيل
٤٥	١١٦,٦٦	٦٤	٤٩

..... + ..... + ..... = ..... مقدر بمليون رأس



شكل (٦٠)

- تحتل الأغنام العربية مكاناً مهماً ضمن الثروة الرعوية ، ويرجع ذلك إلى الأسباب التالية :
- ١- الأكثر انتشاراً في المراعي العربية .
  - ٢- أكثر الحيوانات المستأنسة والملائمة لمراعي الوطن العربي ؛ وذلك لتحملها الجفاف والانتقال .
  - ٣- لأهمية منتجاتها بالنسبة للسكان .
  - ٤- لأنها مصدر أساسي من مصادر الثروة القومية .

الرقم	أغنام	نسبة الإنتاج	الماعز	نسبة الإنتاج	الأبقار	نسبة الإنتاج	الإبل	نسبة الإنتاج
١	المغرب	١٥,٧	مصر	٣,٨	السودان	٢٢	الصومال	٦,٦
٢	السودان	١٨,٥	المغرب	٥,٨	مصر	٦,٧	السعودية	٠,٨٥٠
٣	العراق	٩,٢	السودان	١٣,٥	المغرب	٣,٣	السودان	٢,٨



مدرستي

الكويتية

school-kw.com




مدرستي

الكويتية

school-kw.com

### نشاط (٣)

لاحظ الجدول السابق (لأعداد الثروة الرعوية) ، ثم أجب عن الأسئلة التي تليه ، فهل تستطيع أن تحدد الدول التي تصدر المراكز الأولى بما تملكه من الثروة الرعوية حسب الصور التالية؟



شكل (٦١) الثروة الرعوية

### نشاط (٤)

فكر واستنتج : لماذا تمتلك الصومال ٦, ٦٪ من ثروة الوطن العربي من الإبل؟





مدرستي

الكويتية

school-kw.com

١٢٠




## ب - تربية الدواجن والطيور

تنتشر تربية الدواجن والطيور في جميع الدول العربية ، ويكفي الإنتاج فيها حاجة السكان المحلية في معظم الأقطار .

### نشاط (١)

ابحث مع معلمك عن العوامل التي ساعدت على انتشار مزارع الدواجن في الوطن العربي .

.....



### نشاط (٢)

شارك زملاءك في تحديد أهم المشكلات التي تواجه تربية الدواجن في الوطن العربي ، مع اقتراح حلول لهذه المشكلة (تعلم تعاوني) .

**المشكلة :**

.....



.....

**اقتراحات حل المشكلة :**

.....

.....

.....





مدرستي

الكويتية

school-kw.com

### نشاط (٣)

التقط صورة لأحد أنواع الطيور والدواجن في دولة الكويت ثم ألقها في المربع :





مدرستي

الكويتية

school-kw.com

## ج - الثروة المائية



شكل (٦٢)

دول الوطن العربي دولٌ بحرية لها سواحل  
ومسطحات مائية واسعة منها المالحة ومنها العذبة ،  
لذلك تتنوع الثروة المائية في الوطن العربي .

قام خالد بزيارة للمركز العلمي حيث تعرف على  
الثروة المائية في بلده الكويت والوطن العربي ، فهل  
تستطيع عزيزي المتعلم الإجابة عن تساؤلات خالد؟

**نشاط (١)** ألصق صوراً لبعض أنواع الأسماك في مياه الخليج العربي .

هل هناك ثروات مائية أخرى في المركز العلمي؟ اذكرها .






وما أهميتها الاقتصادية؟

.....

شكل (٦٣) الثروة المائية



## نشاط (٢) اقرأ الجدول جيداً، ثم أجب :

الرقم	الدولة	الإنتاج (ألف طن)
١	اليمن	١٥٧
٢	مصر	١٣٧٤
٣	موريتانيا	٦٤٤
٤	المغرب	١٢٤٦
٥	تونس	١٢٣
٦	الجزائر	١٢٢
٧	عُمان	٢٠٦
٨	الإمارات	٧٣

شكل (٦٤) الإنتاج السمكي في بعض دول الوطن العربي

١ - رتب الدول الخمس الأولى في الإنتاج السمكي ترتيباً تنازلياً .

.....

٢ - عدد ثلاث دول عربية تحتل المراكز الأولى في الإنتاج .

.....

٣ - فكر واستنتج :

- لماذا تساهم مصر بأكثر من ثلث الإنتاج العربي من الأسماك؟

.....

## نشاط (٣) اكتب بعض المقترحات التي تساعد في تنمية الثروة السمكية .

.....

.....





## ثالثاً - الطاقة والثروة المعدنية

### نشاط (١)

ساعد خالداً في تحديد أهم الصناعات في الوطن العربي ، مستعيناً بالصورة التالية :



يملك الوطن العربي ثروة معدنية كبيرة لها أهميتها محلياً وعالمياً ، حيث ينتج العديد من الخامات المعدنية ومصادر الطاقة الأساسية لقيام الصناعة بكافة أنواعها .

شكل (٦٥)

### نشاط (٢) هل نستفيد من الثروة المعدنية؟

ما دليلك؟

تستخرج الثروة المعدنية من



مدرستي

الكويتية

school-kw.com

## أ - النفط والغاز الطبيعي

يعد النفط والغاز الطبيعي من أهم مصادر الطاقة التي تقوم عليها صناعات مهمة لا غنى عنها  
فهما مهمّان بالنسبة لاقتصاد الدول العربية :

### نشاط (١)



بمناقشة زملائك ، ما أهمية النفط والغاز الطبيعي بالنسبة للدول العربية؟

- ١ - .....
- ٢ - .....
- ٣ - .....
- ٤ - .....

نشاط (٢) ارسم أو ألصق صورة تدل على المفهوم .

الرسم أو الصورة

المفهوم

**النفط** : بقايا عضوية على هيئة نباتات وحيوانات دقيقة ترسبت في عصور قديمة وانطمرت تحت رواسب سميكة ، وتحولت بالضغط والحرارة إلى صورتها الحالية .

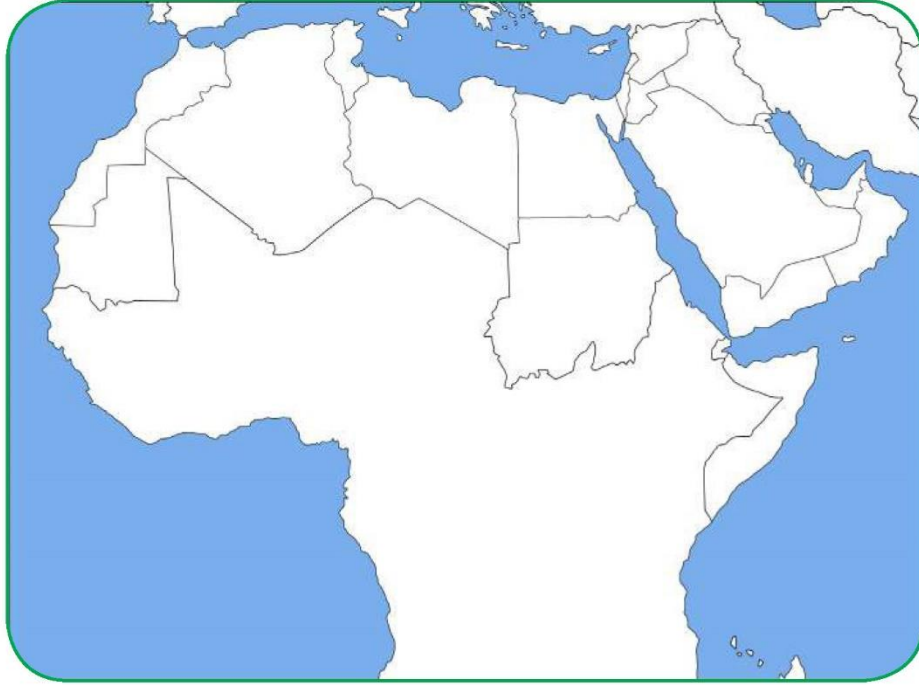
**الغاز الطبيعي** : غاز مصاحب للنفط الخام ، أو يوجد منفرداً ، تتم إسالته لاستخدامات عديدة .

**الطاقة** : قوى محرّكة للآلات ، وعنصر مهم للتقدم والتطور الاقتصادي في جميع المجالات .





يأتي وطننا العربي في المراكز الأولى في مجال إنتاج النفط واحتياطيه والغاز الطبيعي على مسد



شكل (٦٦) خريطة الوطن العربي الصماء

**نشاط (١)** لاحظ الخريطة شكل (٦٦)، ثم حدد المناطق الرئيسية الثلاث التي تتركز فيها معظم الحقول النفطية في الوطن العربي .

- منطقة دول الخليج وسهول دجلة والفرات ، ويوازي إنتاجها ٨٠٪ .
- منطقة الصحراء الكبرى ، ويوازي إنتاجها ١٨٪ .
- منطقة خليج السويس ، ويوازي إنتاجها ٤,٧٪ .

**نشاط (٢)** حول نسب المناطق الرئيسية الثلاث إلى دائرة بيانية .





مدرستي

الكويتية

school-kw.com

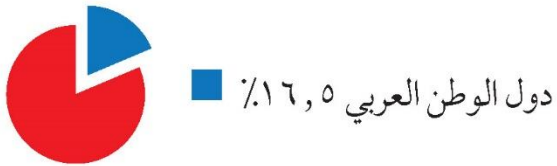
### احتياط الغاز الطبيعي



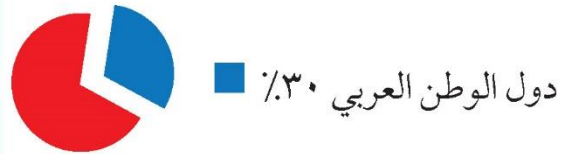
### احتياط النفط الخام



### إنتاج الغاز الطبيعي



### إنتاج النفط الخام



شكل (٦٧) يوضح نسب إنتاج واحتياط النفط والغاز الطبيعي في الوطن العربي بالنسبة للعالم.



## نشاط (٣)




مدرستي

الكويتية

school-kw.com

قارن بين الجناح الآسيوي والجناح الأفريقي ، أكثر/ أقل مستعيناً بالشكل (٦٨) حسب مع

التالي :



شكل (٦٨) يوضح نسب إنتاج واحتياطي النفط والغاز الطبيعي في الجناح الآسيوي  
والجناح الأفريقي في الوطن العربي

- نستنتج من الشكل (٦٨) أن الجناح ..... يتفوق على الجناح ..... في إنتاج  
النفط واحتياطه والغاز الطبيعي .



## نشاط (٤) اقرأ الجدول ثم ساعد خالدًا في الإجابة عن التساؤلات التالية :

عدد :



الرقم	الدولة العربية	إنتاج النفط الخام ألف برميل / يوم	احتياط النفط الخام مليار برميل	إنتاج الغاز الطبيعي مليار متر مكعب	احتياط الغاز الطبيعي مليار متر مكعب
١	الإمارات	٢٧٩٤	٩٧,٨	٥٤,٢	٦٠٩١
٢	البحرين	٢٠٢	٠,١	١٥,٤	٩٢
٣	تونس	٥٥,٥	٠,٤	٢,٦	٦٥
٤	الجزائر	١١٩٣	١٢,٢	٨١,٧	٤٥٠٥
٥	السعودية	٩٧٠١	٢٦٥,٨	١٠٢,٤	٨٣١٦
٦	سوريا	١٠	٢,٥	٥,٣	٢٨٥
٧	العراق	٣١١٠	١٤٥,٣	٩	٣٦٩٤
٨	قطر	٧٠٣	٢٥,٢	٢٠٤,٦	٢٤٤٠٠
٩	الكويت	٢٨٦٦,٨	١٠١,٥	١٥	١٧٨٤
١٠	ليبيا	٤٨٠	٤٨,٤	١٥,٨	١٥٣٢
١١	مصر	٥٩٣,٤	٤,٢	٤٨,٨	٢١٨٦
١٢	السودان	١٢٢	١,٥	-	٨٥
١٣	عمان	٨٥٦,٥	٥,١٥١	٢٩	٧٠٥
١٤	اليمن	١٤٠,٤	٢,٦٧	٩,٦	٤٧٩

إنتاج واحتياط دول الوطن العربي حسب إحصاء ٢٠١٤

شكل (٦٩)

١ - أسماء ثلاث دول عربية أولى في إنتاج النفط .

..... /..... /.....

٢ - أسماء ثلاث دول عربية أولى في احتياطي النفط .

..... /..... /.....

٣ - أسماء ثلاث دول عربية أولى في إنتاج الغاز الطبيعي .

..... /..... /.....

٤ - أكثر الدول العربية إنتاجاً واحتياطياً للنفط .

.....

٥ - ترتيب الكويت بين الدول العربية في إنتاج النفط .

.....

٦ - الدولة العربية الأولى في إنتاج الغاز الطبيعي .

.....

الدول العربية تصدر معظم إنتاجها من النفط والغاز الطبيعي إلى خارج الوطن العربي .

• هل تؤيد كلام خالد؟ مع ذكر الأسباب .

.....





مدرستي

الكويتية

school-kw.com



## نشاط (٥)

اجمع صوراً توضح كيف يتم تصدير النفط ، ثم ألصقها في المربعات التالية :

--	--



مدرستي

الكويتية

school-kw.com

## ب - أهمية النفط العربي

يتمتع النفط العربي بمكانة مهمة على المستوى العالمي ، نظراً لأهميته للدول الصناعية  
أوروبا واليابان والولايات المتحدة الأمريكية .

نشاط (١) استعن بالمراجع الخارجية لإكمال الشكل التالي .



الأسباب التي أعطت النفط العربي أهمية عالمية

نشاط (٢) أجب عما يلي .



- لماذا يطلق على الغاز الطبيعي اسم الطاقة النظيفة؟

.....

نشاط (٣) لاحظ الصور التالية ثم اكتب استخدامات الغاز الطبيعي .



.....



.....



.....

شكل (٧٠)



## ج - التعدين في الوطن العربي

مدرستي  
الكويتية

school-kw.com

يملك الوطن العربي مجموعة من المعادن المهمة ، تتفاوت كميات إنتاجها من دولة لأخرى



شكل (٧٥)  
معدن المنجنيز



شكل (٧٤)  
معدن الفوسفات



شكل (٧٣)  
معدن الحديد



شكل (٧٢)  
معدن النحاس



شكل (٧١)  
معدن الرصاص

- تحتل موريتانيا المرتبة الأولى عربياً في إنتاج معدن الحديد .
- تصدر المغرب المرتبة الأولى في إنتاج المعادن التالية : (الفوسفات - النحاس - الرصاص - المنجنيز) .



اقرأ وتعلم :

المنجنيز	النحاس	الرصاص	الحديد	الفوسفات
٣,٣ %	١٣,٠ %	٦,٦ %	١,٢ %	٢٥ %

شكل (٧٦) نسب إنتاج الوطن العربي من المعادن بالنسبة للعالم

**نشاط (١)** هل هناك معادن أخرى ثمينة يملكها الوطن العربي؟ ابحث في ذلك ثم اكتب تقريراً بحدود خمسة أسطر مع ذكر المصدر .

.....

.....

.....

.....

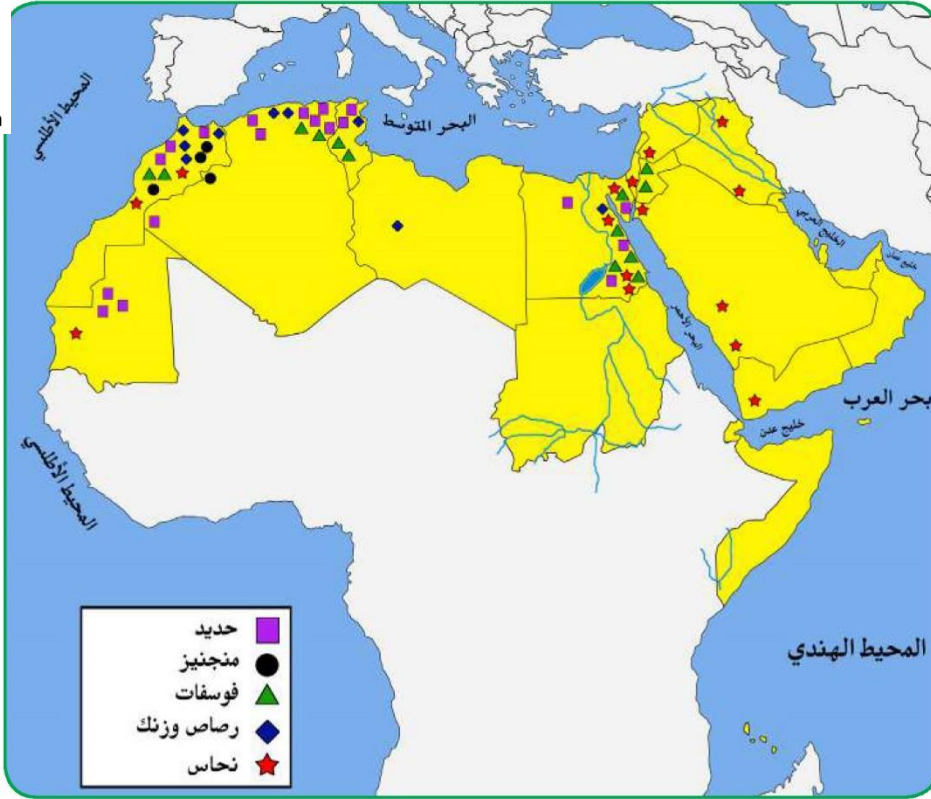
.....



مدرستي

الكويتية

school-kw.com



شكل (٧٧) خريطة توزيع المعادن في الدول العربية

## نشاط (٢)

لاحظ الخريطة شكل (٧٧) ثم أكمل الجدول التالي :

الدول العربية المنتجة للمعدن	المعدن
	الفوسفات
	الحديد
	النحاس
	الزئبق





## د - المنظمات الاقتصادية الإقليمية والدولية

### أ - منظمة الدول المصدرة للنفط (أوبك OPEC)

مع زيادة الإنتاج النفطي واحتكار الشركات العالمية المستغلة له في إنتاجه ونقله وتكريره ، وحفاظاً على حقوق الدول المصدرة للنفط ، تم التفكير في إنشاء منظمات عربية وعالمية تكفل ذلك . وهي منظمة عالمية تعتمد على صادراتها النفطية اعتماداً كبيراً لتحقيق مدخولها ، وقد تأسست في بغداد عام ١٩٦٠م من خمس دول وهي (الكويت ، السعودية ، العراق ، إيران ، فنزويلا) تضم منظمة الأوبك بالإضافة إلى الدول المؤسسة (قطر ، الإمارات ، الجزائر ، نيجيريا ، أنغولا ، الأكوادور) ومقرها الحالي فيينا ، والهدف الأساسي للمنظمة هو الحرص على استقرار أسعار النفط في الأسواق العالمية ، وتعمل المنظمة من خلال أجهزتها .

١ - المؤتمر      ٢ - مجلس المحافظين      ٣ - الأمانة العامة .

### نشاط (١) اقرأ القطعة السابقة لتساعد خالداً في الإجابة عن التساؤلات التالية :

- ١- ما المدينة التي يقع فيها مقر المنظمة؟ .....
- ٢- ما أسماء الدول الخمس المؤسسة للمنظمة؟ ..... /..... /.....
- ٣- كم عدد الدول الأعضاء حالياً؟ ..... دولة .
- صنف الدول الأعضاء تبعاً للقارة التي تنتمي إليها كل دولة حسب الجدول :

أمريكا الجنوبية	أفريقيا	آسيا



مدرستي

الكويتية

school-kw.com

## نشاط (٢)

ابحث عن شعار منظمة أوبك من خلال زيارتك لموقع منظمة أوبك [www.opec.org](http://www.opec.org)

بلصق صورة الشعار بالمربع التالي :

### ب- منظمة الأقطار العربية المصدرة للنفط (أوبك)

أنشئت منظمة الدول العربية المصدرة للنفط (أوبك) باتفاقية أبرمت في عام ١٩٦٨م بين كل من الكويت والسعودية وليبيا ، وتم اختيار الكويت مقراً للمنظمة .  
يعد إنشاء المنظمة إنجازاً مهماً نظراً لحاجة الدول العربية المنتجة للنفط إلى تعميق التعاون فيما بينها في مختلف أوجه النشاط الاقتصادي في صناعة النفط ، وتأمين وصول النفط إلى الأسواق الاستهلاكية بشروط وأسعار عادلة ، وكذلك تسهم في تطوير الصناعات البترولية في جميع المجالات وتبادل الخبرات ولها علاقة تعاون مع منظمة الأوبك .  
وتعمل أوبك من خلال أجهزتها الثلاثة : ١ - المجلس الوزاري ٢ - المكتب التنفيذي ٣ - الأمانة العامة .

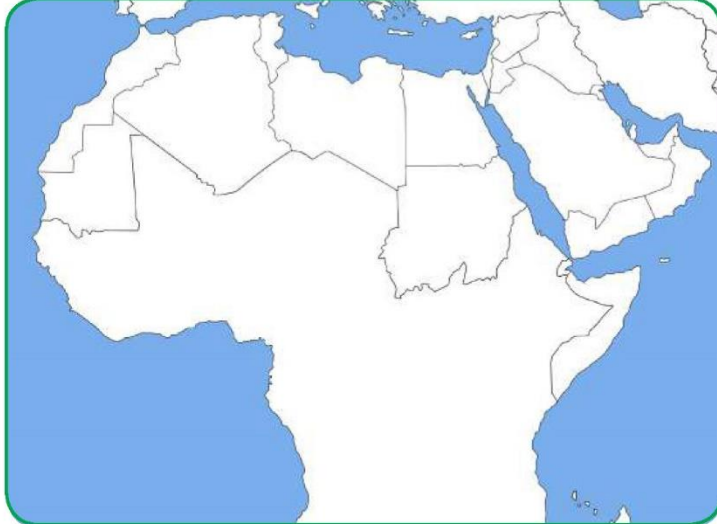


نشاط (١) لون الدول العربية الأعضاء بمنظمة الأوبك على الخريطة شكل (٧٨) باللون

أضف إلى معلوماتك :

أعضاء منظمة أوبك

السعودية - الكويت - قطر -  
الإمارات - البحرين - العراق -  
سوريا - مصر - ليبيا  
تونس - الجزائر .



شكل (٧٨) خريطة الوطن العربي الصماء

نشاط (٢) ابحث عن شعار منظمة أوبك من خلال زيارتك لموقع منظمة أوبك [www.opec.org](http://www.opec.org)

ثم قم ب لصق صورة الشعار بالمرجع التالي :

نشاط (٣) شارك زملاءك في التفكير لإثبات وجود تعاون بين منظمة الأوبك ومنظمة الأوبك .



مدرستي

الكويتية

school-kw.com

## رابعاً - الإنتاج الصناعي

في المنزل في الشارع وفي المدرسة نستخدم أدوات وآلات متنوعة كلها مصنوعة من خامات متعددة تم تصنيعها كي نستخدمها أو نستهلكها لتسهل علينا حياتنا .

**نشاط (١)** استعن بالصور التالية لتحدد الصناعات التي نستخدمها في حياتنا .



شكل (٧٩)

تم عملية التصنيع على ثلاث مراحل :

توزيع	تحويل وتصنيع	مواد أولية	مراحل الصناعة
الأسواق	آلات ومعدات مواد غذائية أثاث	حديد نحاس حليب خشب	



## نشاط (٢) قدم فكرة صناعة منتج ، متبعاً خطوات مراحل الصناعة في الجدول السابق



اسم المنتج : .....

توزيع

تحويل وتصنيع

مواد أولية

من النشاط السابق استنتج مفهوم الصناعة .

.....



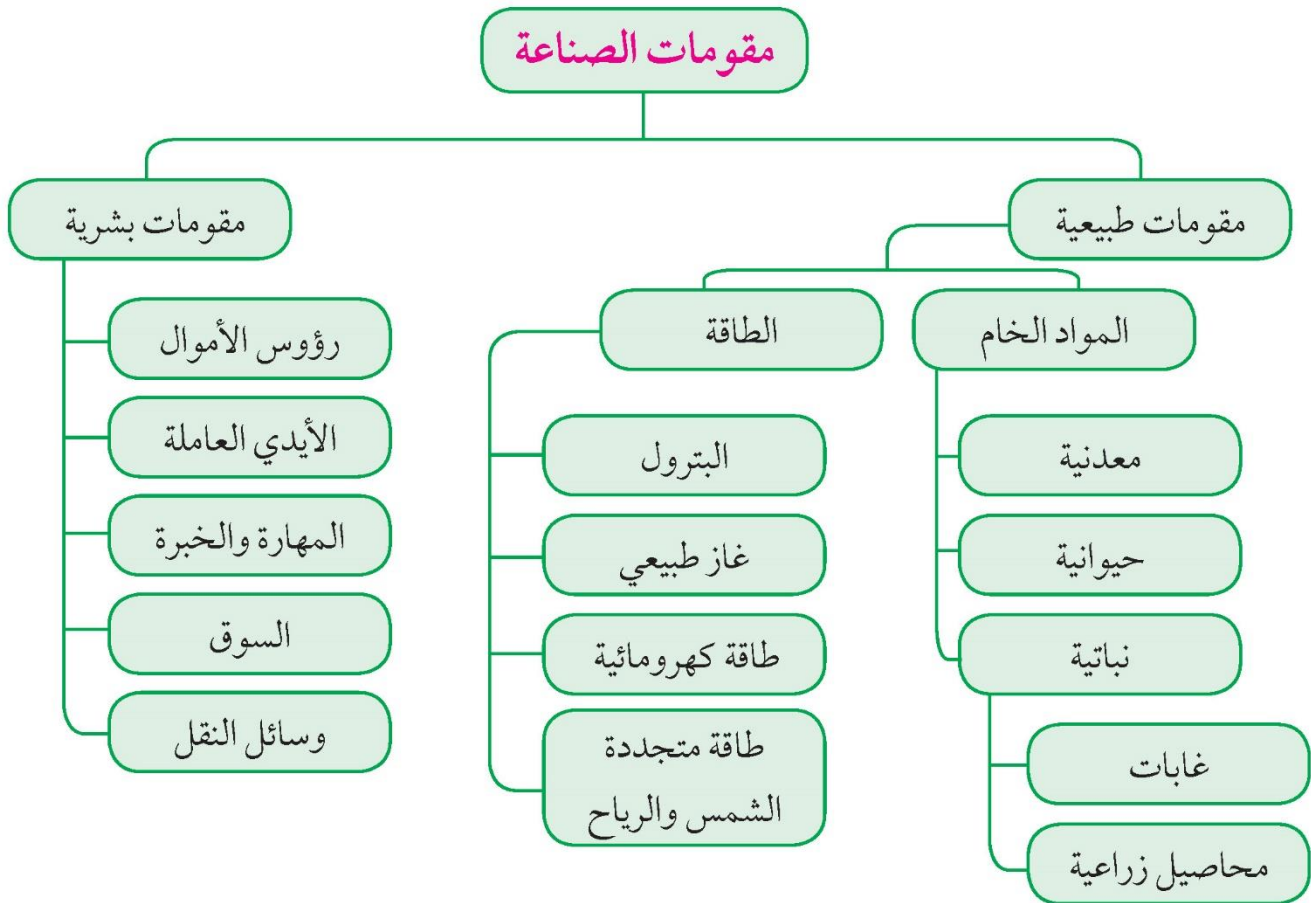
مدرستي

الكويتية

school-kw.com

تقوم الصناعة على مجموعة من المقومات الطبيعية والبشرية الأساسية التي تساعد صناعة حديثة وناجحة .

## أ - مقومات الصناعة في الوطن العربي



شكل (٨٠) مقومات الصناعة

يقصد بمقومات الصناعة العوامل التي تساعد على تحويل المادة الخام إلى سلع استهلاكية .



نشاط (١) ساعد خالداً في كتابة مقومات الصناعة الطبيعية والبشرية في الشكل (٨١)





شكل (٨١) شكل توضيحي لمقومات الصناعة الطبيعية والبشرية



مدرستي

الكويتية


school-kw.com




## ب - أنواع الصناعة في الوطن العربي

### ١ - الصناعات الاستخراجية :

وتقتصر على استخراج مصادر الطاقة كالنفط والغاز والفحم وخامات المعادن والأملاح وغيرها من باطن الأرض ، وإعدادها لتصبح جاهزة للتصنيع .

**نشاط (١)** لاحظ الصور ، ثم اكتب نوع الصناعة أسفلها .




		
<div style="border: 1px solid green; border-radius: 15px; height: 40px; width: 100%;"></div>	<div style="border: 1px solid green; border-radius: 15px; height: 40px; width: 100%;"></div>	<div style="border: 1px solid green; border-radius: 15px; height: 40px; width: 100%;"></div>

شكل (٨٢) أنواع الصناعات في الوطن العربي

**٢ - الصناعات التعدينية :** تهدف إلى تنقية الخامات المعدنية وتحويلها إلى صفائح أو سبائك صالحة لتنفيذ صناعات معدنية مختلفة .

**نشاط (٢)** ناقش معلمك في جمع المعلومات التالية :



١ - بماذا ترتبط الصناعات التعدينية؟  
.....

٢ - هل توجد في كل البلدان العربية؟  
.....

٣ - ما أهم الدول العربية في الصناعات التعدينية؟  
.....



### ٣ - الصناعات التحويلية :

وهي تقوم على تحويل المواد الأولية من معدنية نباتية وحيوانية إلى سلع استهلاكية صالحة للاستعمال ،  
حيث تؤمن حاجات الإنسان من مسكن وغذاء ولباس وأدوات وآلات ، وتشمل :  
الصناعة الغذائية - صناعات المنسوجات - صناعة الخشب والورق - صناعة مشتقات النفط المكررة -  
الصناعات البتروكيمياوية - الصناعات الإنشائية .

### نشاط (١) ساعد خالداً في تصميم معرض مصور لأنواع الصناعات التحويلية :



		صناعات تحويلية غذائية
		صناعات تحويلية كيميائية
		صناعات تحويلية أخرى



مدرستي

الكويتية

school-kw.com



مدرستي

الكويتية

school-kw.com

#### ٤ - الصناعات التجميعية :

هي عملية تركيب وجمع المواد المصنعة ، على اختلاف مصادرها كي نحصل على سلع متنوعة .



شكل (٨٣) صناعة تجميع السيارات

#### ٥ - الصناعات الحرفية :

تُعَدُّ هذه الصناعات الأولى في العالم ، وتستخدم مواد أولية محلية وتعتمد على المجهود البشري ، وتختص بعض العائلات باحتراف بعض منها حيث يتوارث فيها الأبناء الخبرة عن آبائهم .

نشاط (١) اكتب رسالة شكر لأصحاب الصناعات الحرفية :

.....

.....

.....



نشاط (٢) حدد أنواع الصناعات في الصور التالية .



شكل (٨٤)



مدرستي

الكويتية

school-kw.com

## ٦ - الصناعات البتروكيماوية :

يستخرج الوطن العربي كميات كبيرة من النفط والغاز ، يستخدم قسماً كبيراً منها في صناعات بتروكيماوية متعددة .

**نشاط (١)** هل تستطيع معرفة مشتقات النفط مستعيناً بمحطة تعبئة الوقود الموجودة في منطقتك؟

..... / ..... / ..... / .....

**نشاط (٢)** لاحظ الصور التالية ثم اكتشف بعض أنواع الصناعات البتروكيماوية .



شكل (٨٥)

أهداف الصناعات البتروكيماوية :

- تنوع مصادر الدخل للدولة المنتجة .
- توفير المواد الأولية للصناعات التحويلية لتأمين حاجات القطاعات الاستهلاكية (خاصة مجال البناء) .
- تطوير الصناعات البتروكيماوية إلى تقنيات متخصصة وعالية .



مدرستي

الكويتية

school-kw.com



### نشاط (٣)

اذهب إلى مكتبة المدرسة لتجيب عن التساؤلات التالية :



١ - ما الصناعات البتروكيماوية التي تقوم على الغاز الطبيعي؟

.....

٢ - أين تتركز صناعة البتروكيماويات في الوطن العربي؟

.....

٣ - اذكر بعض الصناعات التحويلية التي تستخدمها في حياتك وترتكز على صناعة البتروكيماويات .

.....



مدرستي

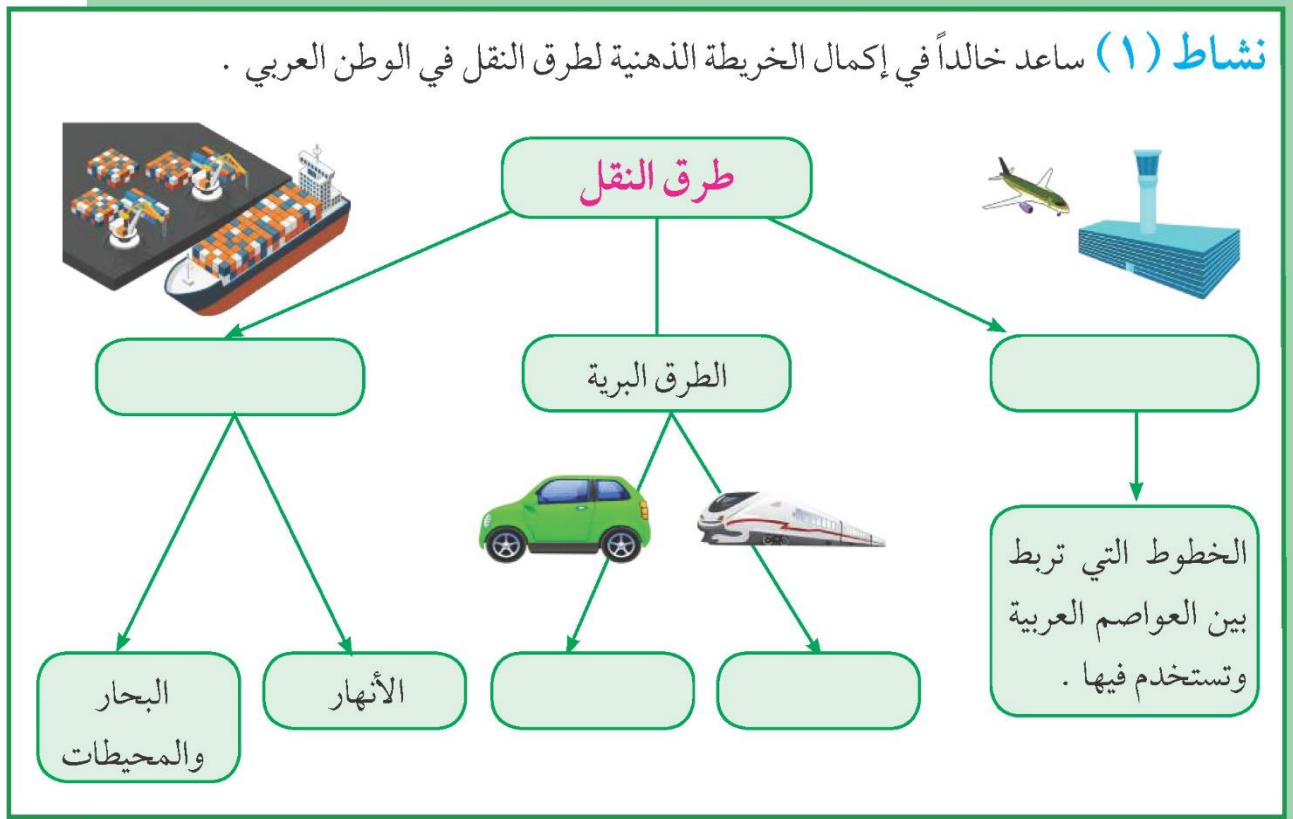
الكويتية

school-kw.com

## خامساً - النقل والتبادل التجاري في الوطن العربي أ - طرق النقل

تعد وسائل النقل والمواصلات من المقومات الأساسية التي تسهم في استغلال وتنمية الموارد الاقتصادية ، فالتبادل التجاري ودرجة نشاطه يعتمد على مدى توافر وسهولة سبل النقل ووسائله الثلاث .

**نشاط (١)** ساعد خالداً في إكمال الخريطة الذهنية لطرق النقل في الوطن العربي .



شكل (٨٦)

**نشاط (٢)** هل سافرت إلى دولة عربية مؤخراً ، صِفْ لنا رحلتك في حدود خمسة أسطر ، موضحاً فيها وسيلة النقل التي استخدمتها في الرحلة والطرق التي سلكتها ، مع إبداء رأيك بخدمات النقل التي تقدمها الدولة التي زرتها .

.....

.....

.....

.....

.....





## أ - طرق النقل البرية :

تشتمل على طرق السكك الحديدية (القطارات) والسيارات والشاحنات .

يمتلك الوطن العربي سككاً حديدية قليلةً منفصلةً عن بعضها ، تسهم في نقل البضائع بكميات قليلة إذا ما قورنت بوسائل النقل الأخرى مثل السيارات والشاحنات التي تحتل أهمية كبرى في البلاد العربية .



شكل (٨٧) طرق النقل البرية في الوطن العربي



مَنْ يساعديني في حل الأسئلة؟

١ - ما الدول العربية التي تتوافر لديها سكك حديدية؟

.....

٢ - ما الطرق الممهدة لعبور السيارات والشاحنات بين الدول العربية؟

.....

٣ - ما نوع البضائع التي تنتقل براً بين دول الوطن العربي؟

.....

٤ - برأيك ما أهمية نقل البضائع بوسائل حديثة ومتطورة؟

.....



مدرستي

الكويتية

school-kw.com

## ب - طرق النقل المائية :

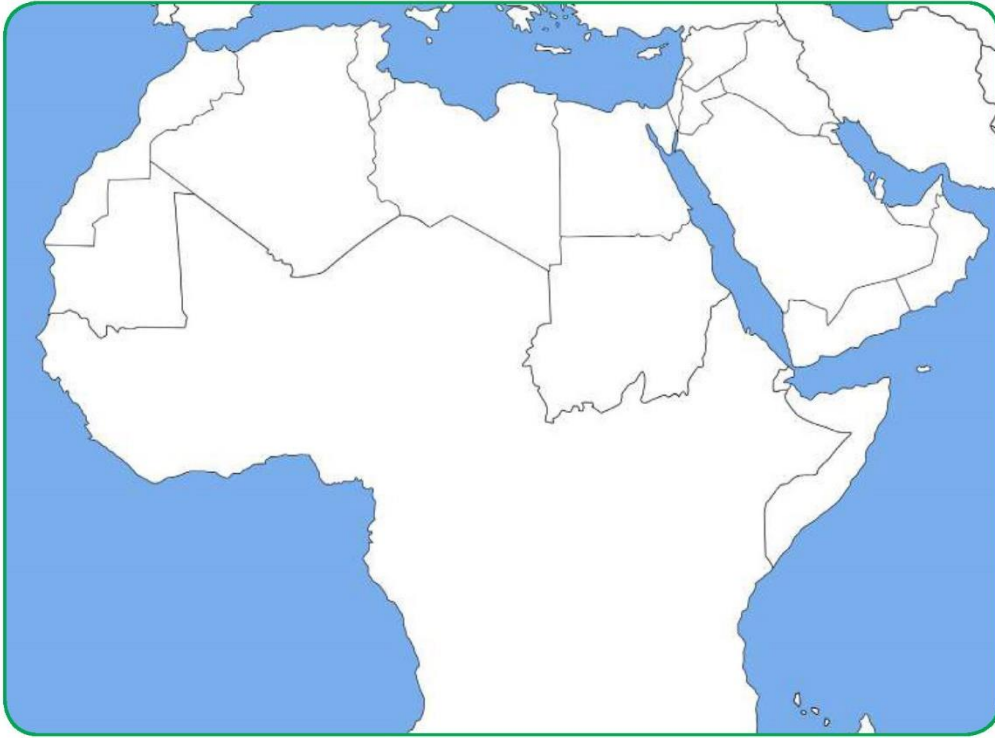
وتشتمل على طرق النقل المائي بواسطة الأنهار ، وطرق النقل المائي الخارجي والمحيطات .

### ١- النقل النهري :

يقتصر على نهر النيل ونهري دجلة والفرات .

## نشاط (١)

أرسم الأنهار السابقة ، وأكتب أسماء الدول التي تقع فيها على الخريطة شكل (٨٨) .



شكل (٨٨) خريطة الوطن العربي الصماء



مدرستي  
الكويتية

school-kw.com

١٥٠



## ٢ - النقل البحري :

يتمتع الوطن العربي بسواحل ومنافذ بحرية طويلة ساعدت على إنشاء العديد من الموانئ والنفطية .

## نشاط (٢)

حدد على الخريطة السابقة شكل (٨٨) دولة عربية لها سواحل بحرية متعددة .

## ج - طرق النقل الجوي :

- برأيك . . . ما مميزات طرق النقل الجوي؟



.....

.....

.....



مدرستي

الكويتية

school-kw.com

## ب - التبادل التجاري

- يقصد بالتبادل التجاري عمليتا التصدير والاستيراد بين الدول .  
هناك علاقات تجارية بين كافة الدول العربية ، حجمها وقيمتها محدودة .

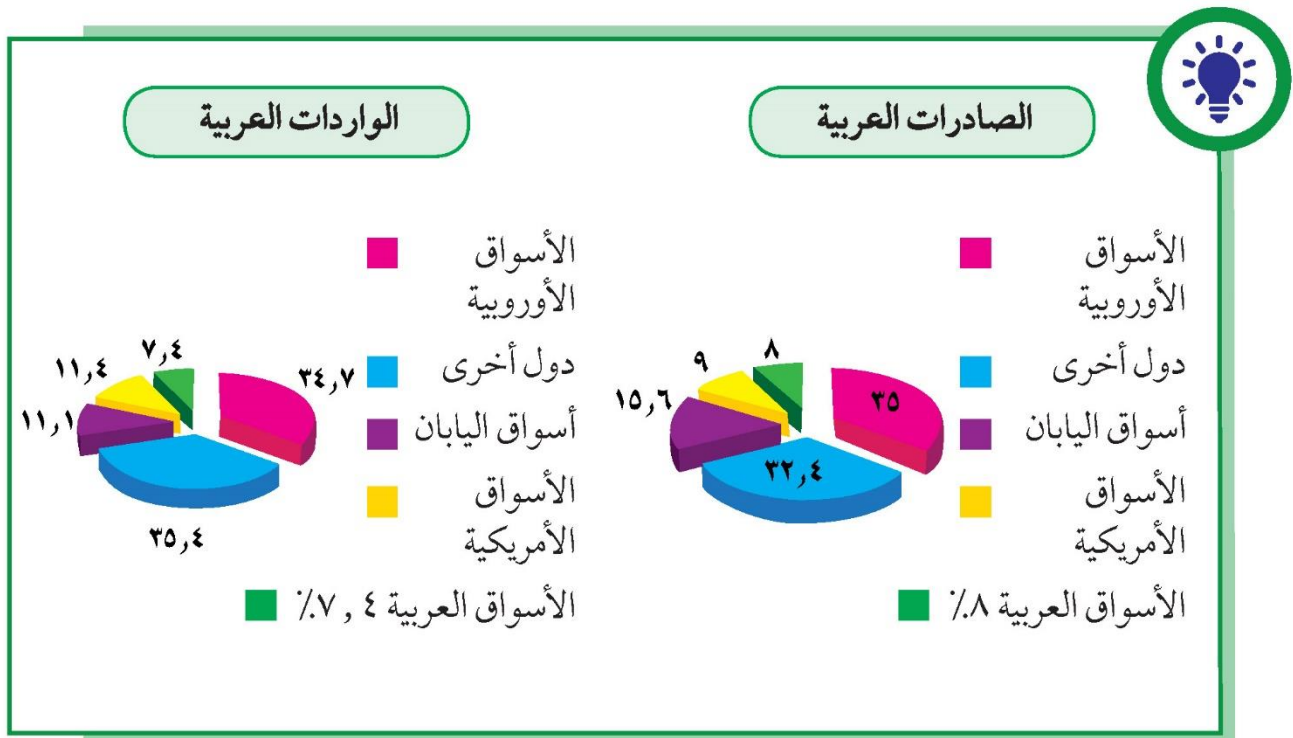
### نشاط (١)

ما السلع التي يتم استيرادها أو تصديرها بين الدول العربية؟

.....

### نشاط (٢)

لاحظ الرسوم البيانية شكل (٨٩) ثم أجب عما يلي :



شكل (٨٩) الصادرات والواردات العربية



- ١ - الأسواق التي تحتل المكانة الأولى بالنسبة لتجارة الواردات العربية هي .....
- ٢ - الأسواق التي تحتل المكانة الأولى بالنسبة لتجارة الصادرات العربية هي .....
- ٣ - نسبة الصادرات بين الدول العربية .....% ونسبة الواردات .....%

## نشاط (٢)

ساعد خالدًا من خلال دراستك السابقة ليفرق بين المفاهيم التالية :

### التجارة البينية : التبادل التجاري بين الدول العربية

الواردات :	الصادرات :
.....	.....
.....	.....
.....	.....
.....	.....



مدرستي

الكويتية

school-kw.com

## تقويم الوحدة الثالثة

أولاً : أكمل الفراغات في العبارات التالية :

- ١ - تتنوع المحاصيل الزراعية في الوطن العربي بتنوع .....
- ٢ - تعتمد زراعة المحاصيل الزراعية في الوطن العربي على مياه الأنهار ومياه .....
- ٣ - تفرد اليمن بزراعة محصول ..... والصومال بزراعة محصول .....
- ٤ - تتنافس مصر والسعودية على احتلال المركز الأول في زراعة نوع من أنواع الحبوب يعرف باسم .....
- ٥ - يطلق اسم الغلات الصناعية والتجارية على محصول قصب السكر و .....
- ٦ - الصناعة هي تحويل المواد الخام إلى .....
- ٧ - لقيام صناعة ناجحة لابد من توافر المقومات ..... و .....

ثانياً : علّل لما يلي :

- ١ - تتركز زراعة الحمضيات والموالح في حوض البحر المتوسط .

.....  
.....

- ٢ - انتشار زراعة النخيل بكثرة في السعودية :

.....  
.....

ثالثاً : أ- عرف المصطلحات التالية :

- ١- الزراعة التقليدية :

- ٢- الزراعة الحديثة :

ب - اكتب تقريراً مختصراً عن أهمية الزراعة في حياتنا:

.....

.....

.....

ج - كيف يمكن تنمية الثروة السمكية؟

.....

.....

د - عدد الصناعات التي تقوم على المحاصيل الزراعية في الوطن العربي:

.....

.....

رابعاً - أجب عن الأسئلة التالية :

١ - بماذا يمتاز النفط العربي؟

.....

.....

٢ - ما الدول الأكثر استيراداً للنفط العربي؟

.....

.....

٣ - ما أثر العائدات النفطية على الاقتصاد العربي بوجه عام والخليجي بوجه خاص؟

.....

.....

٤ - ما الفرق بين مفهوم الصادرات ومفهوم الواردات؟

.....

.....



مدرستي

الكويتية

school-kw.com



مدرستي

الكويتية

school-kw.com

## خامساً - علّل لما يلي :

١ - يطلق على الغاز الطبيعي الطاقة النظيفة :

.....  
.....

٢ - قلة حجم النقل النهري بالنسبة لباقي وسائل النقل في الوطن العربي .

.....  
.....

٣ - السيارات والشاحنات أكثر وسائل طرق النقل البري إنتشاراً .

.....  
.....

٤ - اهتمام الدول العربية بتحديث شبكة المواصلات .

.....  
.....

٥ - قلة التبادل التجاري بين دول الوطن العربي .

.....  
.....

٦ - معظم صادرات دول الخليج العربية من النفط الخام .

.....  
.....

## سادساً - صنف الصناعات حسب أنواعها في الجدول التالي :

(تعليب الفواكه والخضار - الأثاث - استخراج المعادن - زجاج - أنسجة صوفية - قطع الأخشاب -  
أسمنت - صيد الأسماك - الرخام - زيوت وبلاستيك - صهر الحديد) .

صناعات تحويلية	صناعات استخراجية



مدرستي

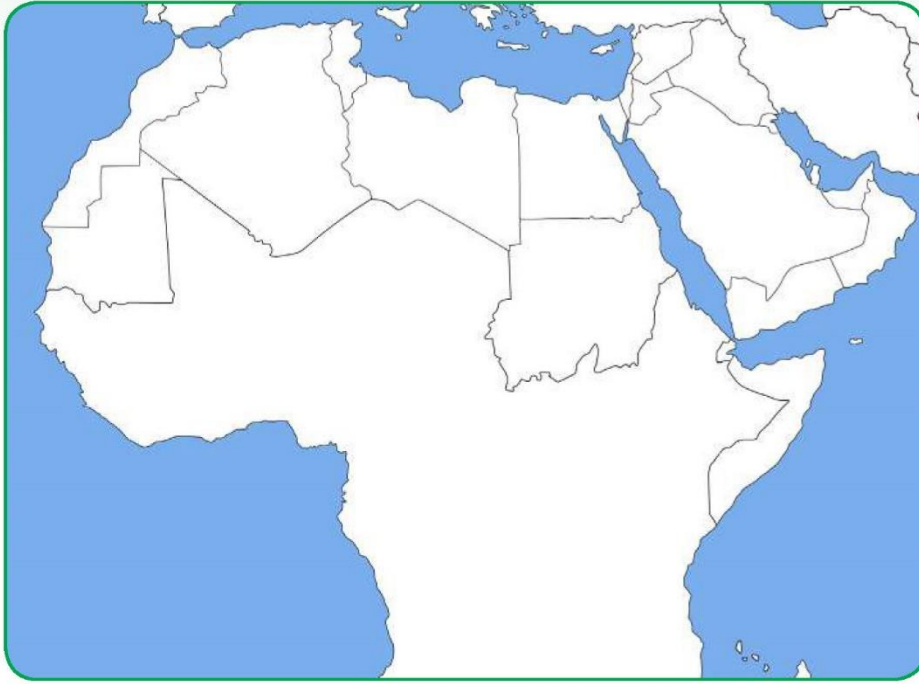
الكويتية

school-kw.com

سابعاً - استعن بالأطلس المدرسي لحل ما يلي :

توجهت باخرة محملة بالنفط من مدينة الظهران بالسعودية إلى مدينة الدار البيضاء في طريق البحر الأحمر .

- ارسم خط سير الباخرة مع ذكر المنافذ البحرية التي يجب أن تمر بها أثناء الرحلة :



اقترح وسائل لتنمية التجارة بين الدول العربية .

.....

.....

.....

.....

مشروع

صمم مع زملائك مجلة ، اجمع فيها صوراً تمثل الثروة الحيوانية في الوطن العربي مع ذكر أهميتها ومناطق وجودها .



مدرستي

الكويتية

school-kw.com



مدرستي

الكويتية

school-kw.com

سنتعرف في هذه الوحدة على ما يلي :

- ١ - المشكلات والتحديات التي تواجه الوطن العربي .
- ٢ - أهمية التضامن والتعاون بين دول الوطن العربي وأسس ومبادئ التضامن .
- ٣ - مساهمات دولة الكويت في مساعدة دول الوطن العربي .
- ٤ - كيفية تطبيق المفاهيم التي درستها في الوحدة .



مدرستي  
الكويتية

school-kw.com

# الوحدة الـ

الوطن العربي قضايا  
وتحديات  
وحلول نحو مستقبل  
عربي أفضل



● الدرس الأول : المشكلات الأساسية في الوطن العربي

● الدرس الثاني : نحو مستقبل عربي أفضل

١ - التنمية في الوطن العربي

٢ - التعاون والتضامن العربي لتحقيق التقدم والتنمية

٣ - الصندوق الكويتي للتنمية الاقتصادية العربية .

٤ - استضافة دولة الكويت لأضخم وأهم المؤتمرات الاقتصادية العربية



مدرستي

الكويتية

school-kw.com



مدرستي

الكويتية

school-kw.com

الدرس الأول

## المشكلات الأساسية في الوطن العربي

### أ - المشكلات المرتبطة بالزراعة

- عدم استغلال الأراضي القابلة للزراعة لندرة مياه الري أو تذبذب الأمطار أو قلة الأيدي العاملة
- اتباع طرق الزراعة التقليدية في معظم أجزاء الوطن العربي
- زحف الرمال ( التصحر ) وانجراف التربة
- تلوث التربة نتيجة للإسراف في استخدام المبيدات الحشرية وارتفاع نسبة الملوحة بالتربة
- الرعي الجائر



نشاط (١) هل تستطيع مساعدة خالد في اقتراح حلول لبعض مشاكل الزراعة في الوطن العربي؟



---

---

---

---

---

---

---

---

---

---



نشاط (٢) عزيزي المتعلم اكتب حول « اهتمام دولة الكويت بالقطاع الزراعي من الموقع الإلكتروني للهيئة العامة للزراعة والثروة السمكية » .



.....

.....

## مشكلة التصحر

موقع الوطن العربي في المناطق الجافة وشبه الجافة يعرضه بشكل أساسي لمشكلة التصحر .

**التصحر:** زحف رمال الصحراء على المناطق الجافة وشبه الجافة .

### أسباب التصحر

طبيعية

بشرية



شكل (٩٠)

### فكر واستنتج :



- السودان والصومال وموريتانيا أكثر الدول العربية تهديداً بالتصحر . لماذا؟
- كيف تتحول الأراضي الزراعية إلى أراضٍ صحراوية غير منتجة؟
- ما الآثار الناتجة عن الرعي الجائر؟
- أين تقع الأراضي غير المعرضة للتصحر في الوطن العربي؟ ولماذا؟



مدرستي


الكويتية

school-kw.com

مكافحة التصحر ضرورة ملحة لعلاج مشاكل الزراعة

### نشاط (٣)

أبحث عن مراجع بالمكتبة المدرسية لكتابة تقرير في علاج مشكلة التصحر في الوطن العربي .



.....

.....

.....

.....

.....

عالجت الدول العربية المشكلات السابقة بسياسة تنمية ، واعتمدت خططاً إستراتيجية تهدف إلى تكثيف العمل الزراعي وتطويره باعتماد التكنولوجيا الحديثة وتأصيل البذور واستعمال الأسمدة المناسبة ، وقد حققت التالي :

١ - زيادة الإنتاج عن طريق الأساليب العلمية .

٢ - زيادة المساحات المزروعة .

٣ - إقامة مشروعات الري .

### لاحظ أن :

غياب سياسة زراعية على صعيد العالم العربي أدى إلى تشابه المحاصيل وتنافسها في الأسواق العربية ، وغياب محاصيل أخرى أساسية يمكن إنتاجها محلياً .



نشاط (٤) اكتب أنواع المحاصيل الزراعية في الجدول التالي :

محاصيل زراعية يتتجها الوطن العربي	محاصيل زراعية يستوردها الوطن العربي من الخارج



### ب - مشاكل استثمار المياه

أسباب تدني وفرة المياه في الوطن العربي :

- النمو السريع للسكان الذي يشكل ضغطاً متزايداً على المياه المتوفرة لكل فرد .
- ٥٠٪ من الموارد المائية في العالم العربي تأتي من خارج حدوده ، وتتحكم فيها دول المنبع في غياب تشريعات دولية تضمن حقوقنا .
- الطرق التقليدية المستخدمة في استغلال المياه في معظم مناطق العالم العربي مسؤولة عن تدني نسبة المياه (استخدام الري بالغمر والاستهلاك غير المسؤول في مجالات المياه) .
- الشبكات المؤهلة لنقل المياه شبكات قديمة .
- افتقار الدول العربية إلى برامج لإدارة المياه ، كما أنها لا تستخدم الأدوات الاقتصادية اللازمة لترشيد الاستخدام المتزايد من المياه .

أجب عن ما يلي :

<ul style="list-style-type: none"> <li>• ما مصدر المياه المستخدم في منزلك؟ .....</li> </ul>	
<ul style="list-style-type: none"> <li>• هل هي معرضة لخطر النقصان؟ ولماذا؟ ..... .....</li> </ul>	



مدرستي

الكويتية

school-kw.com

## كيف نحافظ على ثروة المياه ونخفف من المشكلة :

- ترشيد استخدام المياه والحد من التبذير في المنازل .
- الحد من هدر المياه في عمليات الري ، وذلك باستخدام الوسائل الحديثة كالرش بالتنقيط والمحوري .
- تنظيم عملية الاستفادة من المياه الجوفية ومنع تسرب الأملاح الملوثة إليها واستثمارها على الوجه الأمثل .
- تطوير استعمال مياه الصرف الصحي المعالجة في الزراعة .
- إقامة البحيرات والسدود لتجميع مياه الأمطار والسيول للاستفادة منها في فصل الجفاف .
- توقيع اتفاقيات مع الدول المشاركة ودول المنبع لتحقيق مصالح الدول العربية المعنية .



## ج - التلوث البيئي



اقرأ وتعلم :

**التلوث** : هو الضرر الذي يلحق بالتربة والهواء والماء ، ويصيب التلوث عناصر البيئة من عدة مصادر للملوثات .

يصيب التلوث عناصر البيئة من عدة مصادر للملوثات : صناعية ، زراعية ، منزلية ، ومن أكثر هذه الملوثات انتشاراً التلوث الكيميائي مثل الغازات السامة (الصادرة من محطات التحلية ودخان المصانع وعوادم السيارات وغيرها . . .) .  
وكذلك الملوثات الصادرة عن البقايا الصلبة وتراكم النفايات والمواد البلاستيكية .

**نشاط (١)** ساعد خالدًا في الحصول على إجابات للأسئلة التي تدور في ذهنه :



• ما المقصود بالتلوث البيئي؟ وما أسبابه؟

.....  
.....

• ما أهم مظاهر التلوث؟

.....  
.....

• ما أثر التلوث على الإنسان والنبات والحيوان؟

.....  
.....

• ما الحلول المناسبة لمواجهة مشكلة التلوث البيئي برأيك؟

.....  
.....



مدرستي

الكويتية

school-kw.com

## نشاط (٢) حدد أسباب التلوث في الصور التالية :



تلوث المياه



تلوث الهواء



تلوث التربة

شكل (٩١)

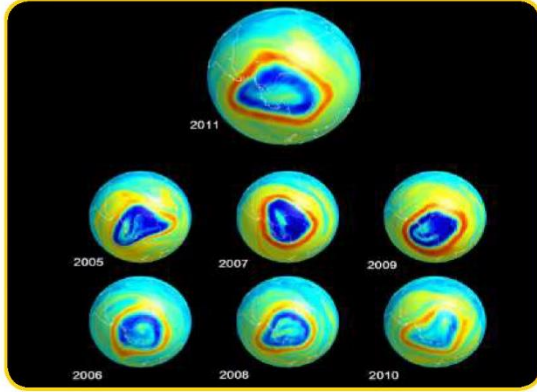
## نشاط (٣) ارسم مخططاً سهمياً لأنواع التلوث في المربع التالي .

### تلوث البيئة مشكلة عالمية :

التلوث البيئي من أهم وأخطر المشاكل التي تواجه شعوب العالم اليوم ، ويتم مواجهتها على مستوى عالمي ، حيث عقد أكبر مؤتمر للأمم المتحدة في مدينة ريودي جانيرو بالبرازيل عام ١٩٩٢ ، وعرف باسم «قمة الأرض» وحضره أكثر من ١٠٠ رئيس دولة .



نشاط (٤) لاحظ الصور التالية واكتب تعليقاً مناسباً تحت كل منها .



ثقب في طبقة الأوزون

نتيجة: .....



شاطئ ملوث بالنفايات

نتيجة: .....



مصنع لفرز النفايات ومعالجتها

نتيجة: .....



حرق آبار النفط في دولة الكويت عام ١٩٩١م

نتيجة: .....



مدرستي

الكويتية

school-kw.com

اقرأ النص التالي :



- إن بعض المواد الغازية لاسيما الكلورية الموجودة في وسائل التبريد وتكرير النفط تؤدي إلى ثقب في طبقة الأوزون التي تحمي الأرض من الإشعاعات فوق البنفسجية الضارة .
- والتلوث بأوكسيد الكربون الناتج بصورة خاصة عن عوادم السيارات يؤدي إلى ارتفاع متزايد في حرارة الأرض ، وإلى تغيير مناخي يهدد بإغراق بعض المدن .
- الدخان المتصاعد من المصانع يصيب الهواء والتربة والماء ، ويهدد الحياة على الأرض .

## نشاط (٥)

هل للإنسان دور في المحافظة على التوازن البيئي؟ أجب مستعيناً بالصور التالية :



مصنع بعيد عن المناطق السكنية



أطفال يغرسون الأشجار

- لماذا نسعى إلى وطن أخضر؟
- ما أهمية الأشجار للهواء؟



## نشاط (٦)

استعن بمهارة خالد في الإنترنت لمعرفة المحميات الطبيعية في دول الخليج العربية مدعماً بالصور .

الإمارات	سلطنة عُمان	البحرين	الكويت	الدولة
www.ead.ae	www.omantourism.gov.om	www.alareen.org	www.beatona.net	الموقع
				اسم المحمية
				صور

– ما الفائدة من إنشاء هذه المحميات؟

.....

.....

التوازن البيئي يعني بقاء عناصر الطبيعية في حالة من التوازن لتؤدي وظائفها على أكمل وجه ، حيث تعمل عناصر البيئة كمنظومة واحدة ، مثل جسم الإنسان ، وأي خلل في أي عضو سيؤثر في الجسم بأكمله ، وكذلك الخلل في عنصر من عناصر نظام بيئي معين ، يؤدي إلى اضطراب في وجود بقية العناصر فيه .

– ما الأعمال السلبية التي يقوم بها بعض الناس وتؤدي إلى الإخلال بالتوازن البيئي؟

.....

– ما مظاهر الإخلال بالتوازن البيئي في دولتك الكويت؟

.....



مدرستي

الكويتية

school-kw.com

## نحو سياسة بيئية فاعلة :

تنمية الوعي البيئي	توليد طاقة نظيفة	حماية الموارد الطبيعية
<p>- كيف ننمي الوعي البيئي؟</p> <p>.....</p> <p>.....</p> <p>.....</p> <p>.....</p> <p>.....</p>	<p>- إعادة تجديد محطات الطاقة القديمة.</p> <p>- الاعتماد على مصادر الطاقة البديلة كالشمس والرياح والمياه؛ للتخفيف من تلوث البيئة.</p>	<p>- الاستخدام السليم للموارد بعيداً عن الاستغلال السيئ للثروات الطبيعية وتلويثها بالنفايات.</p> <p>- المحافظة على نظافة هذه الموارد بحيث تصبح قادرة على تجديد مواردها والتخلص من مخاطر التصحر وتلاشي تلوث الشواطئ.</p>



شكل (٩٤) صورة توضح مصادر الطاقة المتجددة الشمس والرياح

تُعَدُّ الرياح والشمس من مصادر الطاقة .....



## نحو مستقبل عربي أفضل ١ - التنمية في الوطن العربي

حققت الدول العربية خلال العقود الثلاثة الماضية إنجازات عديدة في مجالات التنمية الاقتصادية والاجتماعية والبشرية ، هذه التنمية انطلقت من التعاون بين الدول العربية كوسيلة لمواجهة التحديات وتحقيق الطموحات .



شكل (٩٥) صورة توضح التعاون العربي

**التنمية:** تعني التطور والتطوير ، وهي عملية تتطلب التخطيط والمشاركة من الجميع .

الدول العربية لديها القدرة على أن تحقق التنمية والتقدم ، ويكون لها وزن عالمي اقتصادياً وسياسياً .



### نشاط (١)

هل تؤيد كلام خالد؟ أذكر السبب .

.....

.....



مدرستي

الكويتية

school-kw.com

كيف نواجه هذه التحديات :

وسائل وأساليب التنمية في الوطن العربي :


ارتكزت عملية التنمية في الوطن العربي على ثلاثة محاور رئيسية وهي :



أ - التنمية الاقتصادية :



شكل (٩٧) صناعة الزيوت النباتية في المملكة المغربية



شكل (٩٦) استخدام التكنولوجيا في صناعة الأقمار الصناعية

**نشاط (١)** للتخطيط من أجل التنمية الاقتصادية يجب الإجابة عن التساؤلات التالية :

- كيف نستثمر الأراضي الزراعية ونستغل المساحات الصالحة للزراعة؟ .....
- كيف نحسن إنتاجنا الصناعي؟ .....
- كيف نستثمر مواردنا المعدنية بدلاً من تصديرها خاماً؟ .....





## أهداف التنمية الاقتصادية :

- استخدام العلم في زيادة الإنتاج .
- تحقيق التكامل بين الدول العربية في الإمكانيات والحاجات .



شكل (٩٨)

## ب - التنمية البشرية :

المجتمعات لا يمكن أن تتقدم أو تنمو اقتصادياً أو سياسياً أو اجتماعياً بدون إعداد للقوى البشرية ، فالبشر هم الثروة الحقيقية للأوطان .

## أهداف التنمية البشرية :

- كيف يتم توظيف قدرات الإنسان العربي لبناء مجتمع المعرفة؟
- الاهتمام بالطفل العربي ورعايته في مرحلة الطفولة المبكرة (قبل المدرسة) .
- توفير فرص العمل ، والرعاية الصحية والقضاء على الفقر .
- رفع كفاءة الثروة البشرية علمياً وفكرياً وروحياً .
- تعميق المشاركة في الرأي والحوار في ظل الديمقراطية .

## نشاط (٢)

اذكر بعض البرامج التوعوية التي تحقق أهداف التنمية في دولة الكويت .

.....

.....

.....

.....



مدرستي

الكويتية

school-kw.com

## المشكلات التي تواجه التنمية البشرية :

١- ضعف الاستفادة من القدرات البشرية في المنطقة العربية .

- ما الأسباب التي تدعو الشباب والعلماء العرب للهجرة إلى الخارج؟ وما الحل برأيك؟

.....

٢- مشكلة الأمية .

- ما أثر التعليم في المجتمع ثقافياً ، نفسياً ، اجتماعياً؟

- كيف تتصور مجتمعك من دون وجود متعلمين ومثقفين؟

٣- نقص ومحدودية مشاركة المرأة في المنظمات السياسية .

٤- الاختلاف الكبير في مستويات المعيشة بين دولة وأخرى ، وفي داخل الدولة الواحدة .

## ج- التنمية المستدامة :

التنمية المستدامة : هي عبارة عن برامج تحسين نوعية الحياة ، ولا تتحقق إلا بمشاركة جميع المواطنين .

## أهداف التنمية المستدامة



شكل ( ٩٩ ) أهداف التنمية المستدامة



مدرستي

الكويتية

school-kw.com

## جوهر التنمية المستدامة :

الحرية ، المعرفة ، العمل الجماعي ، الإبداع ، الكفاءة لا المحسوية ، حقوق المرأة ، حقوق الطفل .

### نشاط (١)

بالاستعانة بالشكل رقم (٩٩) استخلص أهداف التنمية المستدامة .



.....

.....

### نشاط (٢)

ابحث وساعد خالداً في التعرف على تخصصات أشهر علماء العرب في الخارج .

من أشهر علماء العرب في الخارج :

١- الدكتور فاروق الباز.....

التخصص : .....

٢- الدكتور أحمد زويل.....

التخصص : .....



مدرستي

الكويتية

school-kw.com

## ٢ - التعاون والتضامن العربي لتحقيق التقدم والتنمية



شكل (١٠٠) اجتماع وزراء الخارجية العرب

**التضامن العربي**: هو العمل على توثيق الصلات بين الدول والشعوب العربية ، و حماية مصالحها السياسية والاقتصادية والثقافية .

## أ - دور الجامعة العربية في تحقيق التكامل بين الدول العربية

تهدف جامعة الدول العربية إلى توثيق العلاقات بين الدول الأعضاء وتنسيق التعاون في ما بينها ، للحفاظ على استقلالها وسيادتها ، والنظر بصفة عامة في شئون ومصالح الدول العربية ، قد أنشأت عدداً من المؤسسات الاقتصادية ، وعقدت المؤتمرات المختلفة لتحقيق التعاون العربي والتكامل الاقتصادي بين الدول العربية .

ومن أبرز هذه المؤسسات :

- ١ - مجلس الوحدة الاقتصادية العربية .
- ٢ - المنظمة العربية للتنمية الزراعية .



نشاط (١) تعرف على منظمة جامعة الدول العربية عن طريق زيارة موقع جامعة الدول

www.lasportal.org



جامعة الدول العربية

منظمة إقليمية للدول العربية ، وقد تم تشكيلها  
في مدينة .....  
في ٢٢ مارس ..... م ،  
وضمت ٦ أعضاء مؤسسين هم : مصر ، ..  
.....  
الأردن ، .....  
السعودية ، ..... وانضمت  
إليها اليمن في ٥ مايو ١٩٤٥ م ، كما انضمت  
إليها الكويت في عام ..... م ،  
والآن تضم جامعة الدول العربية .....  
..... عضواً .



شكل (١٠١)

## ب - مؤسسات التعاون العربي المشترك

تعددت صيغ التعاون العربي في مختلف الميادين ، كما تعددت مستويات هذا التعاون سواء على مستوى ثنائي بين دولتين أو بين مجموعة من الدول ذات الانتماء الجغرافي لمنطقة معينة .

### الصناديق الإنمائية العربية علامات مضيئة للتعاون العربي :

تعد هذه الصناديق أهم المصادر لتوفير التمويل الميسر ، وقد تمكنت بفضل من الله ثم بفضل رؤوس أموالها من مساندة الجهود الإنمائية الاقتصادية والاجتماعية في عدد كبير من الدول العربية .



مدرستي

الكويتية

school-kw.com



الصندوق الكويتي للتنمية الاقتصادية العربية  
KUWAIT FUND FOR ARAB ECONOMIC DEVELOPMENT

شكل (١٠٢)



صندوق أبوظبي للتنمية  
ABU DHABI FUND FOR DEVELOPMENT

شكل (١٠٣)



الصندوق السعودي للتنمية

شكل (١٠٤)

أهم الصناديق الوطنية (على مستوى الدول) :

١ - الصندوق الكويتي للتنمية الاقتصادية العربية  
والذي تم إنشاؤه عام ١٩٦١ م .

٢ - صندوق أبوظبي للتنمية ١٩٧١ م .

٣ - الصندوق السعودي للتنمية ١٩٧٤ م .

ساهمت هذه الصناديق بشكل إيجابي في مشاريع التنمية العربية عن طريق تقديم القروض والتمويل المشترك وتقديم المنح للتمويل وتقديم المساعدات الاقتصادية للدول العربية تديماً لنموها الاقتصادي .



مدرستي

الكويتية

school-kw.com

١٨٠



نشاط (١)

اجمع صوراً للمشاريع العربية التي ساهمت فيها الصناديق التالية :

الصندوق الكويتي للتنمية الاقتصادية

صندوق أبوظبي للتنمية

الصندوق السعودي للتنمية



مدرستي

الكويتية

school-kw.com



## ج - نموذج التعاون العربي المشترك بين دول ذات انتماء جغرافي

### مجلس التعاون الخليجي :

مظهر جديد ومتقدم من مظاهر دعم التضامن بين الدول العربية وفق مبادئ

مدروسة .

**نشاط (١)** قم بالتعاون مع زملائك بزيارة موقع الأمانة العامة لمجلس التعاون لدول الخليج العربية [www.gcc-sg.org](http://www.gcc-sg.org) للتعرف على أهم أهداف مجلس التعاون الخليجي .

أعلن قيام مجلس التعاون الخليجي  
في ٢٥ مايو من عام .....م في  
مدينة ..... ويضم المجلس  
٦ دول عربية مطلة على الخليج العربي  
وهي :

..... / .....

..... / .....

..... / .....



شكل (١٠٥) قادة دول مجلس التعاون الخليجي



شكل (١٠٦) اجتماعات قادة دول مجلس التعاون الخليجي



## د - دور دولة الكويت في العمل العربي المشترك

المساهمات الكويتية في العمل العربي المشترك :

انطلاقاً من مبادئ ديننا الإسلامي الحنيف قدمت دولة الكويت الكثير من المساعدات المادية وغيرها للدول العربية والإسلامية للمساهمة في مشاريع التنمية الضرورية لها .  
واتخذت هذه المساهمات أشكالاً سياسية وثقافية واقتصادية ودينية وغيرها .

المساهمات الاقتصادية :

قال تعالى في سورة البقرة الآية ٢٦٢ :

﴿ الَّذِينَ يُنْفِقُونَ أَمْوَالَهُمْ فِي سَبِيلِ اللَّهِ ثُمَّ لَا يُتَّبِعُونَ مَا أَنْفَقُوا مَنْنَا وَلَا أَدَىٰ لَهُمْ أَجْرُهُمْ عِنْدَ رَبِّهِمْ وَلَا خَوْفٌ عَلَيْهِمْ وَلَا هُمْ يَحْزَنُونَ ﴾

نشاط (٢)

اكتب نبذة مختصرة عن عمل كل منظمة .



مشاركة دولة الكويت في تنفيذ العديد من المشاريع التنموية العربية :

أ - كان نجاح سياسة دولة الكويت في المجال العربي عاملاً

مهماً بمشاركتها في عدة منظمات عربية منها :

أ - المنظمة العربية للتنمية الزراعية .



المنظمة العربية  
للتنمية الصناعية والتعدين

ب - المنظمة العربية للتنمية الصناعية والتعدين .



مدرستي

الكويتية

school-kw.com



ج - ألكسو (ALECSO) . ما المقصود بها؟

.....

.....

.....

• بالرجوع إلى ما تمت دراسته . ما أهم المساهمات التي قدمها الصندوق الكويتي للتنمية الاقتصادية العربية؟

.....

.....



### ٣ - الصندوق الكويتي للتنمية الاقتصادية العربية



الصندوق الكويتي للتنمية الاقتصادية العربية  
KUWAIT FUND FOR ARAB ECONOMIC DEVELOPMENT

يُعدُّ الصندوق الكويتي للتنمية الاقتصادية العربية أول مؤسسة للتنمية في الوطن العربي ، حيث يقوم بالمساهمة في تحقيق مشاريع التنمية الضرورية الخاصة بالمجالات الصحية والاجتماعية ، وكذلك تقديم المساعدات اللازمة في حالات الكوارث والنكبات ودعم قضايا الأمة العربية الإسلامية .



شكل (١٠٨) صاحب السمو الراحل الشيخ / جابر الأحمد الصباح



شكل (١٠٧) صاحب السمو الراحل الشيخ / عبد الله السالم الصباح

#### نشاط (١)

أكمل الفقرة التالية من خلال زيارتك لموقع الصندوق الكويتي للتنمية الاقتصادية العربية  
[www.kuwait-fund.org](http://www.kuwait-fund.org)

تأسس الصندوق الكويتي للتنمية الاقتصادية العربية في عهد الشيخ .....  
- رحمه الله - في تاريخ ٣١ ديسمبر من عام .....م بفكرة ودعم من صاحب السمو .....  
..... - رحمه الله - حيث كان سموه وزيراً للمالية آنذاك ، ويتبع الصندوق  
الكويتي للتنمية الاقتصادية العربية حالياً وزارة الخارجية .



مدرستي

الكويتية

school-kw.com

نشاط (٢) ابحث عن هدف الصندوق الكويتي للتنمية الاقتصادية العربية .



نشاط (٣)

بالاستعانة بالمصادر المتوفرة لديك وبالتعاون مع زملائك اكتب تقريراً مختصراً لإنجازات الصندوق الكويتي للتنمية الاقتصادية العربية في الدول العربية .





مدرستي

الكويتية

school-kw.com

## ٤ - استضافة دولة الكويت لأضخم وأهم المؤتمرات الاقتصادية الع

أ- القمة العربية الاقتصادية والتنمية والاجتماعية (١٩-٢٠ يناير ٢٠٠٩).



شكل (١٠٩) عقد أكبر وأهم مؤتمر قمة عربية منذ تاريخ نشأة جامعة الدول العربية

في دولة الكويت يومي ١٩-٢٠ يناير ٢٠٠٩ م .

ولقد كان صاحب السمو أمير البلاد الشيخ صباح الأحمد الجابر الصباح - حفظه الله ورعاه - هو صاحب المبادرة لعقد القمة ، مؤكداً أن هذه القمة ستكون «بوابة الخير» للعمل الاقتصادي العربي ، إيماناً منه بأن العالم العربي يمر بمرحلة حرجة وتحديات خطيرة ، لم تعد تقتصر في تهديدها على أمن وسلامة واستقلال الدول العربية ووحدة ترابها الوطني ، بل تجاوزت تلك الأخطار لتمس الأوضاع الاقتصادية والتنمية والاجتماعية والثقافية التي تحيط بحياة وكرامة المواطن العربي ، وحقه في العيش الآمن واللائق .

### أهم أهداف القمة الاقتصادية والتنمية العربية :

- ١ - إنشاء بنك عربي لتمويل شتى المشاريع التنموية للتقليل من معدلات الفقر .
- ٢ - القضاء على البطالة والفقر بتوفير فرص العمل .
- ٣ - الاستثمار الاقتصادي بين الدول العربية ، وتقوية التبادل التجاري .
- ٤ - الاعتناء بالعنصر البشري والتنمية المستدامة .

تأتي أولويات هذا المؤتمر بإعادة تعمير قطاع غزة بعد تعرّضه للغزو الإسرائيلي الغاشم في بداية شهر يناير ٢٠٠٩م والذي أسفر عن قتل الآلاف من الأبرياء (معظمهم من الأطفال والنساء) وتدمير البنية التحتية لقطاع غزة بالكامل .



مدرستي

الكويتية

school-kw.com

نشاط (١) اقرأ الفقرة السابقة ثم أجب عما يلي :

من صاحب مبادرة عقد القمة العربية الاقتصادية والتنمية الاجتماعية عام ٢٠٠٩؟

.....



ما سبب عقد هذا المؤتمر؟

.....

.....



## ب - المؤتمر الدولي للمانحين لدعم الوضع الإنساني في سوريا (الأول - الثاني - الثالث)

حظيت المبادرة التي أعلنها حضرة صاحب السمو أمير البلاد الشيخ صباح الأحمد الجابر الصباح -حفظه الله ورعاه- لاستضافة الكويت المؤتمر الدولي الأول لمانحي سورية في نهاية يناير ٢٠١٣م بترحيب عربي ودولي كبيرين ، نظراً لأهميته الكبيرة في هذا الوقت الذي يعاني فيه الشعب السوري من ظروف معيشية بالغة السوء والتعقيد .



شكل (١١٠) كلمة صاحب السمو أمير البلاد الشيخ صباح الأحمد الجابر الصباح -حفظه الله ورعاه- في افتتاح المؤتمر.

### نشاط (١)

انظر الشكل (١١٠) ثم قم بتحليل الشعار مع زملائك للإجابة عن الأسئلة التالية :

- ١ - أين عقد أول مؤتمر للمانحين لدعم الوضع الإنساني في سوريا؟ .....
- ٢ - ماذا تمثل صورة اليد التي في الشعار شكل (١١٠)؟ .....

.....



مدرستي

الكويتية

school-kw.com



مدرستي

الكويتية

school-kw.com

## نشاط (٢)

بالاستعانة بالإنترنت  قم بزيارة موقع الديوان الأميري [www.da.gov.kw](http://www.da.gov.kw)

أ - ساعد خالدًا في إكمال المخطط السهمي .



المؤتمر الدولي للمانحين لدعم الوضع الإنساني في سوريا

المؤتمر الثالث:

- تاريخ الانعقاد (.....)  
- الدولة التي عقد فيها المؤتمر  
(.....)

المؤتمر الثاني:

- تاريخ الانعقاد (.....)  
- الدولة التي عقد فيها المؤتمر  
(.....)

المؤتمر الأول:

- تاريخ الانعقاد (.....)  
- الدولة التي عقد فيها المؤتمر  
(.....)

ب - اكتب ملخصاً عن أهم القرارات والتوصيات التي صدرت في مؤتمر المانحين الثاني والثالث من خلال زيارتك لموقع الديوان الأميري [www. da. gov. kw](http://www.da.gov.kw) .

.....

.....

.....

## نشاط (٣)

ماذا تستنج من استضافة دولة الكويت لمؤتمر المانحين (الأول - الثاني - الثالث)؟

.....

.....



مدرستي  
الكويتية

school-kw.com

١٩٠



## نشاط (٤)


اكتب رسالة شكر لصاحب السمو أمير البلاد الشيخ صباح الأحمد الجابر الصباح - حفظه  
على دوره في إبراز دور الكويت الإنساني .



.....  
.....  
.....  
.....  
.....



.....  
.....  
.....  
.....  
.....





مدرستي

الكويتية

school-kw.com

## تقويم الوحدة الرابعة

١ - كيف نحافظ على نعمة المياه؟ وما دورك كمواطن في ذلك؟

صنف ثلاثة أعمال على الأقل يمكن أن تقوم بها للحد من الإسراف .

أفعل	أفعل	أفعل	الأعمال التي أقوم بها للحد من الإسراف في المياه

٢ - ما أثر سوء استهلاك المياه على هذه الثروة مستقبلاً؟

.....

.....

.....

.....

٣ - ماذا نقصد بترشيد الاستهلاك؟

.....

.....

.....

٤ - بالتعاون مع زملائك خطط لحملة تحث على ترشيد استخدام المياه ، سجل الخطة في مجموعة من الخطوات .

.....

.....

.....

.....



مدرستي

الكويتية

school-kw.com

٥- هل استطاع الإنسان العربي مواجهة مشكلة المياه في الوقت الراهن؟ كيف؟ وما الأتبعها؟

.....

.....

.....

.....

٦- هل استطاع الإنسان العربي الاستفادة من مياه البحار المالحة؟ كيف؟ ما الآثار الإيجابية والسلبية لذلك؟

.....

.....

.....

.....

٧- ما أثر التصحر والزحف العمراني على تلوث البيئة؟

.....

.....

.....

.....

٨- ما دورك في المحافظة على البيئة؟

.....

.....

.....

.....



مدرستي

الكويتية

school-kw.com

٩ - كيف تتعامل مع النفايات المنزلية للمساعدة في المحافظة على البيئة؟

.....

.....

.....

١٠ - ما أهم مخاطر التدهور البيئي في العالم؟

.....

.....

.....

١١ - ما أهم الأمراض الناتجة عن تلوث البيئة؟

.....

.....

.....

- في الجدول التالي أكمل المطلوب :

وسائل تحقيقه	مفهوم التضامن العربي

## أكمل الفراغات في العبارات التالية :

- ١ - عملية تتطلب التخطيط والمشاركة من الجميع تسمى .....
- ٢ - عقد أكبر مؤتمر قمة عربية اقتصادية منذ نشأة جامعة الدول العربية في دولة تسمى .....
- ٣ - تقع المنظمة العربية للتنمية الزراعية في دولة تسمى .....
- ٤ - أعلن عن قيام مجلس التعاون الخليجي في ٢٥ مايو عام .....
- ٥ - ارتكزت عملية التنمية في الوطن العربي على ثلاثة محاور هي : التنمية الاقتصادية  
و..... و.....
- ٦ - تأسس الصندوق الكويتي للتنمية الاقتصادية العربية في عهد الشيخ .....
- ٧ - تم إنشاء الصندوق الكويتي للتنمية الاقتصادية العربية ٣١ ديسمبر عام .....

## أجب عمّا يلي :

- ١ - ما مفهوم التنمية المستدامة؟  
.....  
.....  
.....  
.....  
.....
- ٢ - هل يمكن أن تشارك كمواطن عربي في مشاريع التنمية المستدامة؟ كيف؟ اذكر أمثلة على ذلك؟  
.....  
.....  
.....  
.....  
.....
- ٣ - كيف يمكن تحقيق تنمية اقتصادية عربية لمستقبل أفضل من وجهة نظرك؟  
.....  
.....  
.....  
.....  
.....



مدرستي

الكويتية

school-kw.com



مدرستي  
الكويتية

school-kw.com

٤ - ما أهم المشكلات التي تواجه عمليات التنمية الاقتصادية في الوطن العربي؟

.....

.....

.....

٥ - ما الهدف من تطوير قطاع الزراعة والصناعة في الوطن العربي؟

.....

.....

.....

٦ - تتبّع أحد مجالس التعاون لدول مجلس التعاون الخليجي ، واذكر أهم قراراته .

.....

.....

.....

٧ - اقترح بعض المشروعات الاقتصادية التي يمكن تحقيقها بواسطة منظمة الوحدة العربية .

.....

.....

.....

٨ - عدد أهداف التنمية الاقتصادية .

.....

.....

.....



مدرستي

الكويتية

school-kw.com

٩ - ما التحديات التي تواجه التنمية البشرية؟

.....

.....

.....

١٠ - ما أهداف التنمية المستدامة؟

.....

.....

.....

١١ - ما الإنجازات التي قدمها الصندوق الكويتي للتنمية للدول العربية؟

.....

.....

.....

١٢ - عدد أهداف الصندوق الكويتي للتنمية .

.....

.....

.....



مدرستي

الكويتية

school-kw.com

## مشروع :

• بالتعاون مع زملائك اختر أحد المشروعات التالية :

- ١- اجمع بعض الصور التي تعبّر عن التلوّث ثم صنّفها واكتب تعليقاً عليها .
- ٢- اكتب بعض العبارات على لافتات صغيرة لتعليقها في أماكن بارزة من المدرسة وفي محيطك السكني ، تحث على المحافظة على البيئة .
- ٣- صمّم مجلة توضح عملية تدوير النفايات وأهميتها في المحافظة على البيئة .

## المراجع

### مراجع الوحدة الأولى :

- ١- الصياد (محمد محمود) ، معالم جغرافية الوطن العربي ، لبنان : دار النهضة العربية .
- ٢- سعودي (محمد عبد الغني) ، الوطن العربي ، القاهرة : مكتبة الأنجلو المصرية ٢٠٠٢ .
- ٣- الزوكة (محمد خميس) ، جغرافية العالم العربي ، مصر : دار المعرفة الجامعية ، ١٩٩٦ .
- ٤- منيمنة (سارة حسن) ، في جغرافية الوطن العربي ، القاهرة : دار النهضة العربية .
- ٥- عبد الحكيم (محمد صبحي) ، وآخرون ، الوطن العربي (أرضه - سكانه - موارده) ، القاهرة : مكتبة الأنجلو المصرية .
- ٦- حميدة (عبدالرحمن) ، جغرافية الوطن العربي ، بيروت : دار الفكر المعاصر ، ١٩٩٧ .
- ٧- الغريبي (عبدالعباس فضيخ) ، وآخرون ، جغرافية الوطن العربي ، عمان (الأردن) : دار صفاء للنشر والتوزيع ، ١٩٩٩ .
- ٨- فريق خبراء مؤسسة «جيوبروجكتس» - كتاب المواد الاجتماعية للصف الخامس الابتدائي دولة البحرين ١٩٩٧ - ص ١٨ .

### مراجع الوحدة الثانية :

- ١- حمادة (حسين فهد) ، موسوعة الآثار التاريخية ، الطبعة الأولى ، ٢٠٠٨ .
- ٢- الملقوث (سامي بن عبدالله) ، أطلس تاريخ الأنبياء والرسل ، الطبعة السابعة ، ٢٠٠٦ .
- ٣- عاشور (سامي عبدالفتاح) ، تاريخ الحضارة العربية الإسلامية ، ١٩٩٨ .
- ٤- شاكر (محمود) ، موسوعة الحضارات القديمة والحديثة وتاريخ الأمم ، الطبعة الأولى ، ٢٠٠٨ .



مدرستي

الكويتية

school-kw.com

## مراجع الوحدة الثالثة :

- ١- عبدالحكيم (محمد صبحي) ، وآخرون ، الوطن العربي (أرضه - سكانه - موارده) ، القاهرة : مكتبة الأنجلو المصرية .
- ٢- التقرير الاقتصادي لمنظمة المدن العربية ، ٢٠٠٧ .

## مراجع الوحدة الرابعة :

- ١ - بعلبكي (أحمد) ، تنمية الموارد العربية ، الناشر : دار الفارابي ، ج ١ ، ج ٢ .
- ٢ - التقرير الاقتصادي العربي الموحد ، ٢٠٠٢ / ٢٠٠٧ .
- ٣ - تقرير الأمم المتحدة للتنمية البشرية ، ٢٠٠٥ .
- ٤ - الأمية في الوطن العربي ، مكتب اليونسكو الإقليمي للتربية في الدول العربية ، ٢٠٠٧ .
- ٥ - حسن (عدنان سيد) ، مجلة المستقبل العربي ، العدد (٢٢٤) .
- ٦ - غنيمة (محمد متولي) ، الوضع الراهن في الوطن العربي واحتمالات المستقبل ، الدار المصرية اللبنانية .
- ٧ - متولي (محمد) ، القيمة الاقتصادية للتعليم في الوطن العربي ، الدار المصرية .
- ٨ - مجلة العالم ، العدد (١٦) ، ٢٠٠١ .
- ٩ - مؤسسة الكويت للتقدم العلمي ، مجلة العلوم ، يناير - مارس - مايو - يوليو ٢٠٠٨ .
- ١٠ - تقرير الصندوق الكويتي للتنمية الاقتصادية العربية ، ٢٠٠٨ .
- ١١ - موقع الديوان الأميري [www.da.gov.kw](http://www.da.gov.kw) .
- ١٢ - خرائط الكتاب تصميم الأستاذ / عدنان مشري معتق الظفيري .



مدرستي

الكويتية

school-kw.com