



الدرس الثاني

الموارد الاقتصادية في الوطن العربي

وهب الله منطقتنا العربية ثروات اقتصادية وموارد طبيعية مهمة .

نشاط (١) لاحظ الصور التالية ثم اكتب الثروات الطبيعية وأهميتها بالنسبة لوطننا العربي :



الثروة :

الأهمية :



الثروة :

الأهمية :



الثروة :

الأهمية :



الثروة :

الأهمية :

شكل (٥٥)

الموارد البشرية :

الموارد البشرية هي التي ترتبط بالسكان من حيث أعدادهم وتوزيعهم ومناسبة أعدادهم لمساحة الأرض التي يستغلونها .

الموارد الطبيعية هي :

الثروات التي منحها الله لإقليم من دون أن يكون للإنسان أي دور في وجودها .
مثل : الثروات المعدنية والغابات والمراعي والموارد المائية وموقع الإقليم .



أولاً - إنتاج الغذاء في الوطن العربي

أ - الإنتاج الزراعي :

يأتي القطاع الزراعي في المرتبة الأولى ، حيث إنه يشكل نسبة ٥٠٪ من الاقتصاد العربي مقارنة بالقطاع الصناعي (٢٠٪) والخدمات العامة (٣٠٪) خاصة في الأقطار غير المنتجة للنفط ، حيث توفر الغذاء والعمل والمادة الأولية لكثير من الصناعات الغذائية ، وتختلف أنواع هذه المنتجات من دولة عربية إلى أخرى بسبب اختلاف المناخ والتربة ومدى توافر المياه في هذه الدول ، كما أن إنتاج الوطن العربي من بعض هذه المنتجات كالقطن والزيتون والصمغ العربي والحمضيات يصدّر إلى الخارج بكميات مناسبة مما يكسب الوطن العربي أهمية كبيرة .

نشاط (١)

استتج ثلاث فوائد أساسية للنشاط الزراعي في الوطن العربي :

١ -	
٢ -	
٣ -	


نشاط (٢)

من خلال دراستك السابقة تعرف على المناطق الزراعيّة في الكويت ، ثم دونها في الجدول التالي :

في الجنوب	في الشمال



نشاط (٣) هل تستطيع رسم دائرة بيانية لأهمية القطاع الزراعي بالنسبة لبقية القطاعات في الاقتصاد العربي؟



نشاط (٤) من خلال الاستدلال بالصور ساعد خالدًا في إكمال مخطط مقومات الإنتاج الزراعي .

ب - مقومات الإنتاج الزراعي



شكل (٥٦) مقومات الإنتاج الزراعي

عزيزي المتعلم :

بالرجوع إلى الوحدة الأولى من هذا الكتاب

ما هي مصادر المياه الرئيسية في الوطن العربي؟

.....



نشاط (٥)

اكتب رسالة لزميلك تنصحه بالمحافظة على النباتات في مدرستك ، وتوضح له كيفية الاعتناء بها .



ج - المحاصيل الزراعية في الوطن العربي

الفواكه والثمار

تتطلب ظروفاً مُناخية خاصة تتركز معظمها في حوض البحر المتوسط وتزرع منها أنواع كثيرة .

الغلات الصناعية والتجارية

وتشمل الغلات التي تدخل في الصناعة وتزرع بغرض التجارة والحصول على نقد ، ولذلك تسمى (الغلات النقدية) .

الحبوب الغذائية

تُعدُّ من أهم المزروعات في الوطن العربي حيث تشغل مساحة كبيرة من الأراضي المزروعة ، وتؤثر كمية الأمطار في إنتاجها من عام إلى آخر ، ويأتي في مقدمتها القمح والأرز والذرة والشعير .

قام خالد بزيارة (سوق المباركية) للتعرف على بعض المحاصيل والمنتجات الزراعية المستوردة من الوطن العربي .



شكل (٥٧) سوق المباركية بالكويت

خالد: السلام عليكم ، العم صالح كيف حالك؟

ما هي أنواع المحاصيل الزراعية التي يمكن ان أجدّها عندك؟

العم صالح: تتوفر لدينا حبوب غذائية : مثل الشعير والأرز والقمح والذرة وغلّات صناعية وتجارية : مثل البن والشمندر والزيتون وقصب السكر أيضاً ، وفواكه وثمار : مثل العنب والتّمور والحمضيات والموز .

خالد: ومن أين تستورد كل هذه المحاصيل يا عم؟

العم صالح: نستوردها من جميع دول الوطن العربي فهي جميعها منتجات يتم زراعتها في الوطن العربي .

نشاط (١) هل تستطيع مساعدة خالد في تصنيف المحاصيل الزراعية حسب نوعها من خلال الحوار الذي

دار بين خالد والعم صالح في الجدول التالي؟

الفواكه والخضار	الغلات الصناعية والتجارية	الحبوب الغذائية

نشاط (٢)



تعرف على الدول التي تحتل المراكز الأولى في إنتاج جميع أنواع المحاصيل الغذائية ، ثم اجمع صوراً لبعض المحاصيل :

أ - الحبوب الغذائية :

الأرز	الذرة (الشامية)	الشعير	القمح	الغلة الزراعية
مصر	مصر	المغرب	مصر	الدول العربية
العراق	المغرب	سوريا	السعودية	
المغرب	السودان	الجزائر	المغرب	

ب - الغلات الصناعية :

قصب السكر	البن	القطن	الغلة الزراعية
مصر	اليمن	مصر	الدول العربية
السودان	-	السودان	
المغرب	-	سوريا	

ج - الفواكه والأشجار :

الموز	الموالمح	التمور	العنب	الغلة الزراعية
الصومال	مصر	السعودية	سوريا	الدول العربية
-	لبنان	مصر	مصر	
-	سوريا	العراق	الجزائر	



فواكه وثمار



غلات نقدية



حبوب غذائية



نشاط (٣)

لاحظ الصور في المخطط السهمي التالي لتتعرف على المشكلات التي تعاني منها الزراعة في الوطن العربي .

د - المشكلات التي تعاني منها الزراعة في الوطن العربي



شكل (٥٨) المشكلات التي تعاني منها الزراعة في الوطن العربي

نشاط (٤) لاحظ الصور التالية ، ثم عرّف المفاهيم التالية :



..... : الزراعة الحديثة


..... : الزراعة التقليدية

شكل (٥٩)



نشاط (٥)

تبلغ المساحة المزروعة في الوطن العربي حوالي ٥٦٪ من المساحة القابلة للزراعة ، فهل تستطيع رسم دائرة بيانية لهذه النسبة؟



المساحة المزروعة ■

المساحة القابلة للزراعة ■

نشاط (٦)

ابحث مع زملائك عن أسباب عدم استغلال الأراضي الصالحة للزراعة ، مستخدماً مراجع خارجية من مكتبة المدرسة :



.....

.....

.....

ثانياً - الإنتاج الحيواني

يمتلك الوطن العربي أعداداً متنوعة من الثروة الحيوانية التي تساهم في موارد الدخل لكثير من الدول العربية ، وهي ثروة قابلة للزيادة والنمو إذا ما تدخل الإنسان بعمله واجتهاده ووسائله الحديثة لرعايتها وتنظيم استغلالها وتحسين أنواعها وإعداد الغذاء الكافي لها ، وتتربى هذه الحيوانات في المراعي وبعضها في الأراضي الزراعية .



اقرأ وتعلم :

أ - الثروة الرعوية

نشاط (١)

يمتلك الوطن العربي أنواعاً كثيرة من الثروة الرعوية ، فهل تستطيع لصق صور لهذه الثروة .

نشاط (٢)



لاحظ الجدول التالي ، ثم قم بعملية حسابية لإنتاج الوطن العربي من الثروة الرعوية :

أبقار	أغنام	ماعز	إبل
٤٥	١١٦,٦٦	٦٤	٤٩

..... + + = مقدر بمليون رأس



شكل (٦٠)

- تحتل الأغنام العربية مكاناً مهماً ضمن الثروة الرعوية ، ويرجع ذلك إلى الأسباب التالية :
- ١- الأكثر انتشاراً في المراعي العربية .
 - ٢- أكثر الحيوانات المستأنسة والملائمة لمراعي الوطن العربي ؛ وذلك لتحملها الجفاف والانتقال .
 - ٣- لأهمية منتجاتها بالنسبة للسكان .
 - ٤- لأنها مصدر أساسي من مصادر الثروة القومية .

الرقم	أغنام	نسبة الإنتاج	الماعز	نسبة الإنتاج	الأبقار	نسبة الإنتاج	الإبل	نسبة الإنتاج
١	المغرب	١٥,٧	مصر	٣,٨	السودان	٢٢	الصومال	٦,٦
٢	السودان	١٨,٥	المغرب	٥,٨	مصر	٦,٧	السعودية	٠,٨٥٠
٣	العراق	٩,٢	السودان	١٣,٥	المغرب	٣,٣	السودان	٢,٨



نشاط (٣)

لاحظ الجدول السابق (لأعداد الثروة الرعوية) ، ثم أجب عن الأسئلة التي تليه ، فهل تستطيع أن تحدد الدول التي تتصدر المراكز الأولى بما تملكه من الثروة الرعوية حسب الصور التالية؟



شكل (٦١) الثروة الرعوية

نشاط (٤)

فكروا واستنتج : لماذا تمتلك الصومال ٦, ٦٪ من ثروة الوطن العربي من الإبل؟

.....





ب - تربية الدواجن والطيور

تنتشر تربية الدواجن والطيور في جميع الدول العربية ، ويكفي الإنتاج فيها حاجة السكان المحلية في معظم الأقطار .

نشاط (١)


ابحث مع معلمك عن العوامل التي ساعدت على انتشار مزارع الدواجن في الوطن العربي .



.....

نشاط (٢)

شارك زملاءك في تحديد أهم المشكلات التي تواجه تربية الدواجن في الوطن العربي ، مع اقتراح حلول لهذه المشكلة (تعلم تعاوني) .



المشكلة :

.....

.....

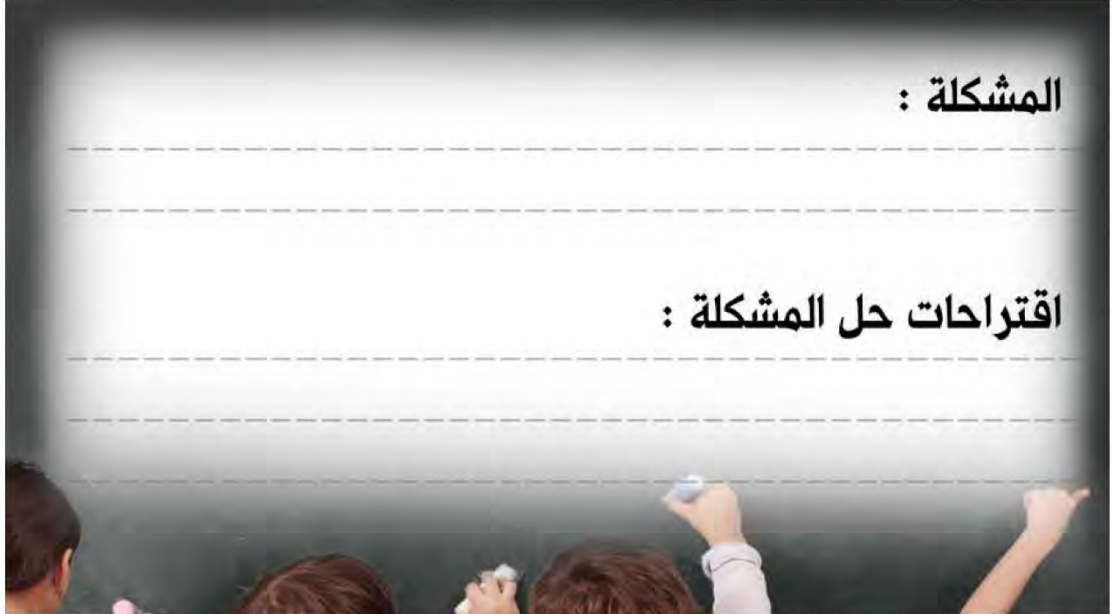
.....

اقتراحات حل المشكلة :

.....

.....

.....





نشاط (٣)

التقط صورة لأحد أنواع الطيور والدواجن في دولة الكويت ثم ألقها في المربع :





ج - الثروة المائية



شكل (٦٢)

دول الوطن العربي دولٌ بحرية لها سواحل ومسطحات مائية واسعة منها المالحة ومنها العذبة ، لذلك تتنوع الثروة المائية في الوطن العربي .

قام خالد بزيارة للمركز العلمي حيث تعرف على الثروة المائية في بلده الكويت والوطن العربي ، فهل تستطيع عزيزي المتعلم الإجابة عن تساؤلات خالد؟

نشاط (١) ألصق صوراً لبعض أنواع الأسماك في مياه الخليج العربي .

هل هناك ثروات مائية أخرى في المركز العلمي؟ اذكرها .






وما أهميتها الاقتصادية؟

.....

.....

شكل (٦٣) الثروة المائية



نشاط (٢) اقرأ الجدول جيداً ، ثم أجب :

الرقم	الدولة	الإنتاج (ألف طن)
١	اليمن	١٥٧
٢	مصر	١٣٧٤
٣	موريتانيا	٦٤٤
٤	المغرب	١٢٤٦
٥	تونس	١٢٣
٦	الجزائر	١٢٢
٧	عُمان	٢٠٦
٨	الإمارات	٧٣

شكل (٦٤) الإنتاج السمكي في بعض دول الوطن العربي

١ - رتب الدول الخمس الأولى في الإنتاج السمكي ترتيباً تنازلياً .

.....

٢ - عدد ثلاث دول عربية تحتل المراكز الأولى في الإنتاج .

.....

٣ - فكر واستنتج :

- لماذا تساهم مصر بأكثر من ثلث الإنتاج العربي من الأسماك؟

.....

نشاط (٣) اكتب بعض المقترحات التي تساعد في تنمية الثروة السمكية .



.....

.....



ثالثاً - الطاقة والثروة المعدنية

نشاط (١)

ساعد خالداً في تحديد أهم الصناعات في الوطن العربي ، مستعيناً بالصورة التالية :



يملك الوطن العربي ثروة معدنية كبيرة لها أهميتها محلياً وعالمياً ، حيث ينتج العديد من الخامات المعدنية ومصادر الطاقة الأساسية لقيام الصناعة بكافة أنواعها .

شكل (٦٥)

نشاط (٢) هل نستفيد من الثروة المعدنية؟

ما دليلك؟

تستخرج الثروة المعدنية من

أ - النفط والغاز الطبيعي

يعد النفط والغاز الطبيعي من أهم مصادر الطاقة التي تقوم عليها صناعات مهمة لا غنى عنها في حياتنا ،
فهما مهمّان بالنسبة لاقتصاد الدول العربية :

نشاط (١)




بمناقشة زملائك ، ما أهمية النفط والغاز الطبيعي بالنسبة للدول العربية؟

- ١ -
- ٢ -
- ٣ -
- ٤ -

نشاط (٢) ارسم أو ألصق صورة تدل على المفهوم .

الرسم أو الصورة



المفهوم

النفط : بقايا عضوية على هيئة نباتات وحيوانات دقيقة ترسبت في عصور قديمة وانطمرت تحت رواسب سميكة ، وتحولت بالضغط والحرارة إلى صورتها الحالية .

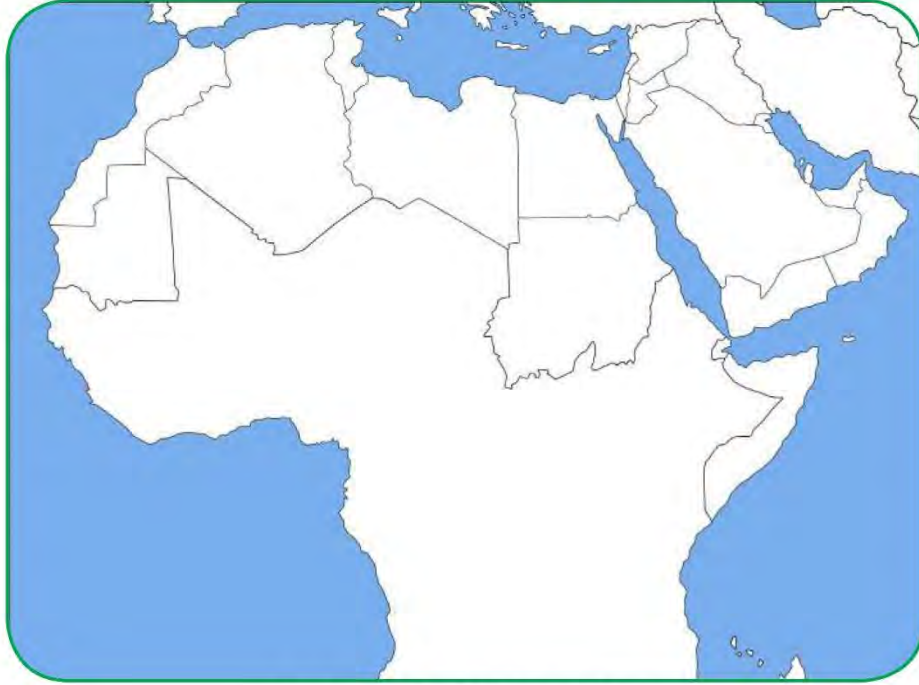
الغاز الطبيعي : غاز مصاحب للنفط الخام ، أو يوجد منفرداً ، تتم إيسالته لاستخدامات عديدة .

الطاقة : قوى محرّكة للآلات ، وعنصر مهم للتقدم والتطور الاقتصادي في جميع المجالات .





يأتي وطننا العربي في المراكز الأولى في مجال إنتاج النفط واحتياطيه والغاز الطبيعي على مستوى العالم .



شكل (٦٦) خريطة الوطن العربي الصماء

نشاط (١) لاحظ الخريطة شكل (٦٦) ، ثم حدد المناطق الرئيسية الثلاث التي تتركز فيها معظم الحقول النفطية في الوطن العربي .

- منطقة دول الخليج وسهول دجلة والفرات ، ويوازي إنتاجها ٨٠٪ .
- منطقة الصحراء الكبرى ، ويوازي إنتاجها ١٨٪ .
- منطقة خليج السويس ، ويوازي إنتاجها ٤,٧٪ .

نشاط (٢) حول نسب المناطق الرئيسية الثلاث إلى دائرة بيانية .






احتياط الغاز الطبيعي



احتياط النفط الخام



إنتاج الغاز الطبيعي




إنتاج النفط الخام



شكل (٦٧) يوضح نسب إنتاج واحتياط النفط والغاز الطبيعي في الوطن العربي بالنسبة للعالم.



قارن بين الجناح الآسيوي والجناح الأفريقي ، أكثر/ أقل مستعيناً بالشكل (٦٨) حسب معايير الجدول التالي :



شكل (٦٨) يوضح نسب إنتاج واحتياطي النفط والغاز الطبيعي في الجناح الآسيوي والجناح الأفريقي في الوطن العربي

- نستنتج من الشكل (٦٨) أن الجناح يتفوق على الجناح في إنتاج النفط واحتياطه والغاز الطبيعي .



نشاط (٤) اقرأ الجدول ثم ساعد خالدًا في الإجابة عن التساؤلات التالية :

عدد :



الرقم	الدولة العربية	إنتاج النفط الخام ألف برميل / يوم	احتياط النفط الخام مليار برميل	إنتاج الغاز الطبيعي مليار متر مكعب	احتياط الغاز الطبيعي مليار متر مكعب
١	الإمارات	٢٧٩٤	٩٧,٨	٥٤,٢	٦٠٩١
٢	البحرين	٢٠٢	٠,١	١٥,٤	٩٢
٣	تونس	٥٥,٥	٠,٤	٢,٦	٦٥
٤	الجزائر	١١٩٣	١٢,٢	٨١,٧	٤٥٠٥
٥	السعودية	٩٧٠١	٢٦٥,٨	١٠٢,٤	٨٣١٦
٦	سوريا	١٠	٢,٥	٥,٣	٢٨٥
٧	العراق	٣١١٠	١٤٥,٣	٩	٣٦٩٤
٨	قطر	٧٠٣	٢٥,٢	٢٠٤,٦	٢٤٤٠٠
٩	الكويت	٢٨٦٦,٨	١٠١,٥	١٥	١٧٨٤
١٠	ليبيا	٤٨٠	٤٨,٤	١٥,٨	١٥٣٢
١١	مصر	٥٩٣,٤	٤,٢	٤٨,٨	٢١٨٦
١٢	السودان	١٢٢	١,٥	-	٨٥
١٣	عمان	٨٥٦,٥	٥,١٥١	٢٩	٧٠٥
١٤	اليمن	١٤٠,٤	٢,٦٧	٩,٦	٤٧٩

إنتاج واحتياط دول الوطن العربي حسب إحصاء ٢٠١٤

شكل (٦٩)

١ - أسماء ثلاث دول عربية أولى في إنتاج النفط .

..... /..... /.....

٢ - أسماء ثلاث دول عربية أولى في احتياطي النفط .

..... /..... /.....

٣ - أسماء ثلاث دول عربية أولى في إنتاج الغاز الطبيعي .

..... /..... /.....

٤ - أكثر الدول العربية إنتاجاً واحتياطياً للنفط .

.....

٥ - ترتيب الكويت بين الدول العربية في إنتاج النفط .

.....

٦ - الدولة العربية الأولى في إنتاج الغاز الطبيعي .

.....

الدول العربية تصدر معظم إنتاجها من النفط والغاز الطبيعي إلى خارج الوطن العربي .

• هل تؤيد كلام خالد؟ مع ذكر الأسباب .

.....





نشاط (٥)

اجمع صوراً توضح كيف يتم تصدير النفط ، ثم ألصقها في المربعات التالية :

--	--

ب - أهمية النفط العربي

يتمتع النفط العربي بمكانة مهمة على المستوى العالمي ، نظراً لأهميته للدول الصناعية المتقدمة في أوروبا واليابان والولايات المتحدة الأمريكية .

نشاط (١) استعن بالمراجع الخارجية لإكمال الشكل التالي .



الأسباب التي أعطت النفط العربي أهمية عالمية

نشاط (٢) أجب عما يلي .



- لماذا يطلق على الغاز الطبيعي اسم الطاقة النظيفة؟

.....

نشاط (٣) لاحظ الصور التالية ثم اكتب استخدامات الغاز الطبيعي .



.....



.....



.....

شكل (٧٠)



ج - التعدين في الوطن العربي

يملك الوطن العربي مجموعة من المعادن المهمة ، تتفاوت كميات إنتاجها من دولة لأخرى .



شكل (٧٥)
معدن المنجنيز



شكل (٧٤)
معدن الفوسفات



شكل (٧٣)
معدن الحديد



شكل (٧٢)
معدن النحاس



شكل (٧١)
معدن الرصاص

- تحتل موريتانيا المرتبة الأولى عربياً في إنتاج معدن الحديد .
- تصدر المغرب المرتبة الأولى في إنتاج المعادن التالية : (الفوسفات - النحاس - الرصاص - المنجنيز) .



اقرأ وتعلم :

المنجنيز	النحاس	الرصاص	الحديد	الفوسفات
٣,٣ %	٠,١٣ %	٦,٦ %	١,٢ %	٢٥ %

شكل (٧٦) نسب إنتاج الوطن العربي من المعادن بالنسبة للعالم

نشاط (١) هل هناك معادن أخرى ثمينة يملكها الوطن العربي؟ ابحث في ذلك ثم اكتب تقريراً بحدود خمسة أسطر مع ذكر المصدر .

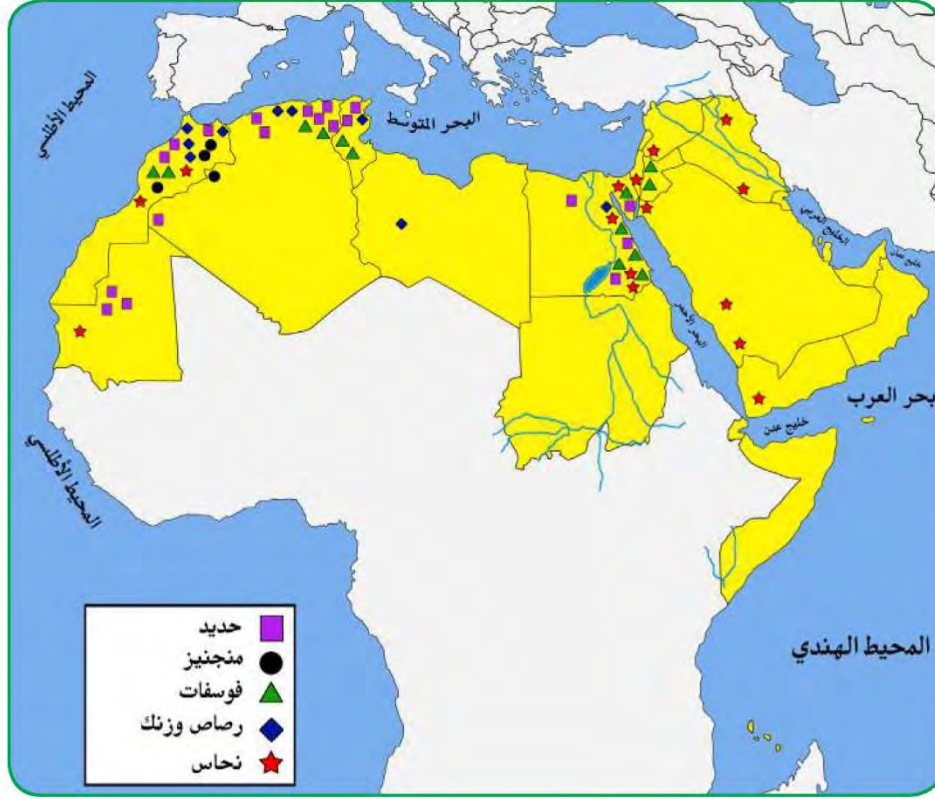
.....

.....

.....

.....

.....



شكل (٧٧) خريطة توزيع المعادن في الدول العربية

نشاط (٢)

لاحظ الخريطة شكل (٧٧) ثم أكمل الجدول التالي :

الدول العربية المنتجة للمعدن	المعدن
	الفوسفات
	الحديد
	النحاس
	الرصاص





د - المنظمات الاقتصادية الإقليمية والدولية

أ - منظمة الدول المصدرة للنفط (أوبك OPEC)

مع زيادة الإنتاج النفطي واحتكار الشركات العالمية المستغلة له في إنتاجه ونقله وتكريره ، وحفاظاً على حقوق الدول المصدرة للنفط ، تم التفكير في إنشاء منظمات عربية وعالمية تكفل ذلك . وهي منظمة عالمية تعتمد على صادراتها النفطية اعتماداً كبيراً لتحقيق مدخولها ، وقد تأسست في بغداد عام ١٩٦٠م من خمس دول وهي (الكويت ، السعودية ، العراق ، إيران ، فنزويلا) تضم منظمة الأوبك بالإضافة إلى الدول المؤسسة (قطر ، الإمارات ، الجزائر ، نيجيريا ، أنغولا ، الأكوادور) ومقرها الحالي فيينا ، والهدف الأساسي للمنظمة هو الحرص على استقرار أسعار النفط في الأسواق العالمية ، وتعمل المنظمة من خلال أجهزتها .

- ١ - المؤتمر ٢ - مجلس المحافظين ٣ - الأمانة العامة .

نشاط (١) اقرأ القطعة السابقة لتساعد خالداً في الإجابة عن التساؤلات التالية :

- ١- ما المدينة التي يقع فيها مقر المنظمة؟
- ٢- ما أسماء الدول الخمس المؤسسة للمنظمة؟ / /
- ٣- كم عدد الدول الأعضاء حالياً؟ دولة .
- صنف الدول الأعضاء تبعاً للقارة التي تنتمي إليها كل دولة حسب الجدول :

أمريكا الجنوبية	أفريقيا	آسيا



نشاط (٢)

ابحث عن شعار منظمة أوبك من خلال زيارتك لموقع منظمة أوبك www.opec.org ، ثم قم بملصق صورة الشعار بالمربع التالي :



ب- منظمة الأقطار العربية المصدرة للنفط (أوبك)

أنشئت منظمة الدول العربية المصدرة للنفط (أوبك) باتفاقية أبرمت في عام ١٩٦٨م بين كل من الكويت والسعودية وليبيا ، وتم اختيار الكويت مقراً للمنظمة .
يعد إنشاء المنظمة إنجازاً مهماً نظراً لحاجة الدول العربية المنتجة للنفط إلى تعميق التعاون فيما بينها في مختلف أوجه النشاط الاقتصادي في صناعة النفط ، وتأمين وصول النفط إلى الأسواق الاستهلاكية بشروط وأسعار عادلة ، وكذلك تسهم في تطوير الصناعات البترولية في جميع المجالات وتبادل الخبرات ولها علاقة تعاون مع منظمة الأوبك .
وتعمل أوبك من خلال أجهزتها الثلاثة : ١ - المجلس الوزاري ٢ - المكتب التنفيذي ٣ - الأمانة العامة .



نشاط (١) لون الدول العربية الأعضاء بمنظمة الأوبك على الخريطة شكل (٧٨) باللون الأخضر .

أضف إلى معلوماتك :

أعضاء منظمة أوبك

السعودية - الكويت - قطر -
الإمارات - البحرين - العراق -
سوريا - مصر - ليبيا
تونس - الجزائر .



شكل (٧٨) خريطة الوطن العربي الصماء

نشاط (٢) ابحث عن شعار منظمة أوبك من خلال زيارتك لموقع منظمة أوبك www.opec.org

ثم قم ب لصق صورة الشعار بالمربع التالي :

نشاط (٣) شارك زملاءك في التفكير لإثبات وجود تعاون بين منظمة الأوبك ومنظمة الأوبك .

.....

رابعاً - الإنتاج الصناعي

في المنزل في الشارع وفي المدرسة نستخدم أدوات وآلات متنوعة كلها مصنوعة من خامات متعددة تم تصنيعها كي نستخدمها أو نستهلكها لتسهل علينا حياتنا .

نشاط (١) استعن بالصور التالية لتحدد الصناعات التي نستخدمها في حياتنا .



شكل (٧٩)

تم عملية التصنيع على ثلاث مراحل :

توزيع	تحويل وتصنيع	مواد أولية	مراحل الصناعة
الأسواق	آلات ومعدات مواد غذائية أثاث	حديد نحاس حليب خشب	



نشاط (٢) قدم فكرة صناعة منتج ، متبعاً خطوات مراحل الصناعة في الجدول السابق .



اسم المنتج :

توزيع

تحويل وتصنيع

مواد أولية

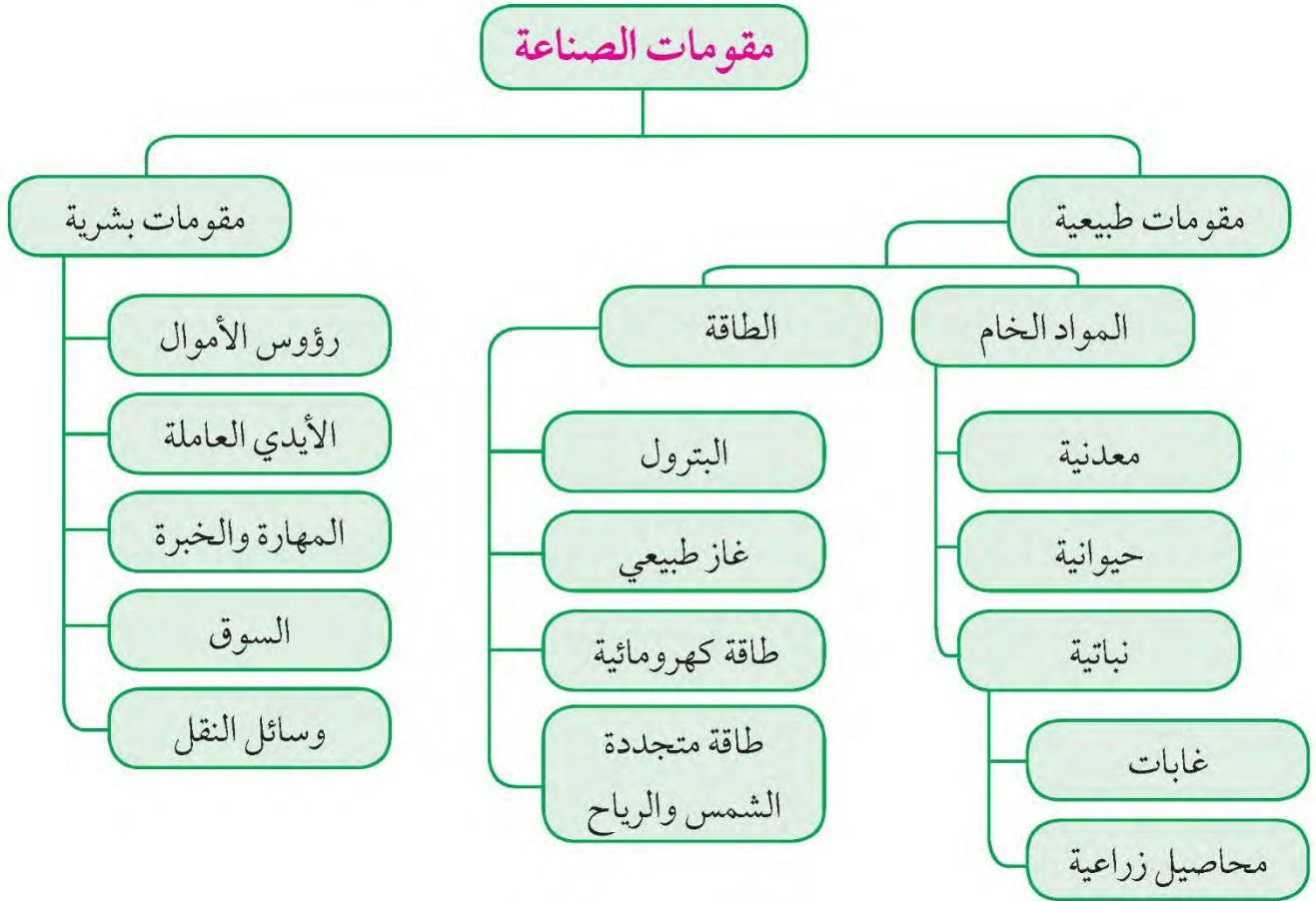
من النشاط السابق استنتج مفهوم الصناعة .

.....



تقوم الصناعة على مجموعة من المقومات الطبيعية والبشرية الأساسية التي تساعد على قيام صناعة حديثة وناجحة .

أ - مقومات الصناعة في الوطن العربي



شكل (٨٠) مقومات الصناعة

يقصد بمقومات الصناعة العوامل التي تساعد على تحويل المادة الخام إلى سلع استهلاكية .



نشاط (١) ساعد خالداً في كتابة مقومات الصناعة الطبيعية والبشرية في الشكل (٨١) .




شكل (٨١) شكل توضيحي لمقومات الصناعة الطبيعية والبشرية


ب - أنواع الصناعة في الوطن العربي


١ - الصناعات الاستخراجية :


وتقتصر على استخراج مصادر الطاقة كالنفط والغاز والفحم وخامات المعادن والأملاح وغيرها من باطن الأرض ، وإعدادها لتصبح جاهزة للتصنيع .

نشاط (١) لاحظ الصور ، ثم اكتب نوع الصناعة أسفلها .









شكل (٨٢) أنواع الصناعات في الوطن العربي

٢ - الصناعات التعدينية : تهدف إلى تنقية الخامات المعدنية وتحويلها إلى صفائح أو سبائك صالحة لتنفيذ صناعات معدنية مختلفة .

نشاط (٢) ناقش معلمك في جمع المعلومات التالية :



١ - بماذا ترتبط الصناعات التعدينية؟
.....

٢ - هل توجد في كل البلدان العربية؟
.....

٣ - ما أهم الدول العربية في الصناعات التعدينية؟
.....



٣- الصناعات التحويلية :

وهي تقوم على تحويل المواد الأولية من معدنية نباتية وحيوانية إلى سلع استهلاكية صالحة للاستعمال ، حيث تؤمن حاجات الإنسان من مسكن وغذاء ولباس وأدوات وآلات ، وتشمل :

الصناعة الغذائية - صناعات المنسوجات - صناعة الخشب والورق - صناعة مشتقات النفط المكررة - الصناعات البتروكيماوية - الصناعات الإنشائية .

نشاط (١) ساعد خالداً في تصميم معرض مصور لأنواع الصناعات التحويلية :



		صناعات تحويلية غذائية
		صناعات تحويلية كيميائية
		صناعات تحويلية أخرى



٤ - الصناعات التجميعية :

هي عملية تركيب وجمع المواد المصنعة ، على اختلاف مصادرها كي نحصل على سلع متنوعة .



شكل (٨٣) صناعة تجميع السيارات

٥ - الصناعات الحرفية :

تُعَدُّ هذه الصناعات الأولى في العالم ، وتستخدم مواد أولية محلية وتعتمد على المجهود البشري ، وتختص بعض العائلات باحتراف بعض منها حيث يتوارث فيها الأبناء الخبرة عن آبائهم .

نشاط (١) اكتب رسالة شكر لأصحاب الصناعات الحرفية :

.....

.....

.....





نشاط (٢) حدد أنواع الصناعات في الصور التالية .



شكل (٨٤)



٦ - الصناعات البتروكيمياوية :

يستخرج الوطن العربي كميات كبيرة من النفط والغاز ، يستخدم قسماً كبيراً منها في صناعات بتروكيمياوية متعددة .

نشاط (١) هل تستطيع معرفة مشتقات النفط مستعيناً بمحطة تعبئة الوقود الموجودة في منطقتك؟

..... / / /

نشاط (٢) لاحظ الصور التالية ثم اكتشف بعض أنواع الصناعات البتروكيمياوية .

.....

.....

.....

شكل (٨٥)

أهداف الصناعات البتروكيميائية :

- تنوع مصادر الدخل للدولة المنتجة .
- توفير المواد الأولية للصناعات التحويلية لتأمين حاجات القطاعات الاستهلاكية (خاصة مجال البناء) .
- تطوير الصناعات البتروكيميائية إلى تقنيات متخصصة وعالية .



نشاط (٣)

اذهب إلى مكتبة المدرسة لتجيب عن التساؤلات التالية :



١ - ما الصناعات البتروكيماوية التي تقوم على الغاز الطبيعي؟

.....

٢ - أين تتركز صناعة البتروكيماويات في الوطن العربي؟

.....

٣ - اذكر بعض الصناعات التحويلية التي تستخدمها في حياتك وترتكز على صناعة البتروكيماويات .

.....

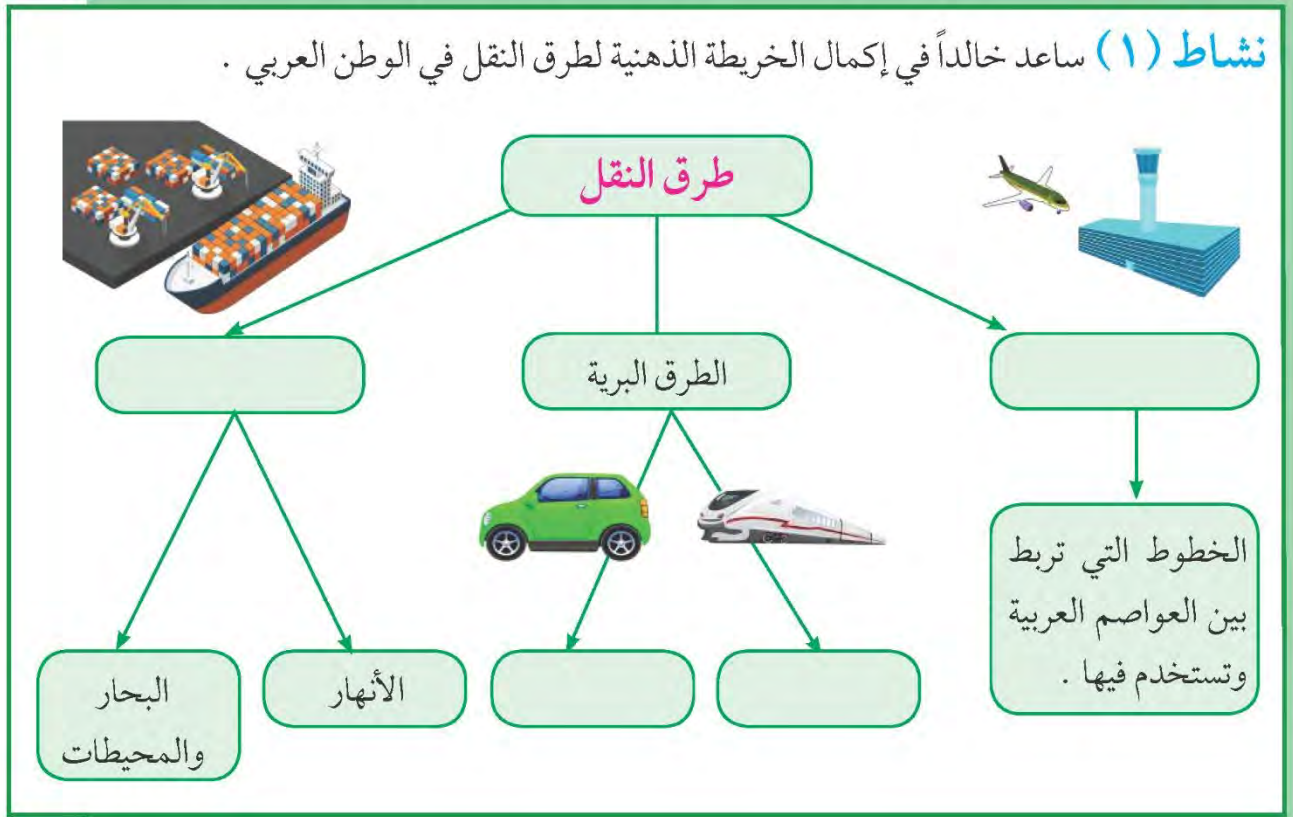


خامساً - النقل والتبادل التجاري في الوطن العربي

أ - طرق النقل

تعد وسائل النقل والمواصلات من المقومات الأساسية التي تسهم في استغلال وتنمية الموارد الاقتصادية ، فالتبادل التجاري ودرجة نشاطه يعتمد على مدى توافر وسهولة سبل النقل ووسائله الثلاث .

نشاط (١) ساعد خالداً في إكمال الخريطة الذهنية لطرق النقل في الوطن العربي .



شكل (٨٦)

نشاط (٢) هل سافرت إلى دولة عربية مؤخراً ، صِفْ لنا رحلتك في حدود خمسة أسطر ، موضحاً فيها وسيلة النقل التي استخدمتها في الرحلة والطرق التي سلكتها ، مع إبداء رأيك بخدمات النقل التي تقدمها الدولة التي زرتها .

.....

.....

.....

.....



أ - طرق النقل البرية :

تشتمل على طرق السكك الحديدية (القطارات) والسيارات والشاحنات .
يمتلك الوطن العربي سككاً حديدية قليلة منفصلة عن بعضها ، تسهم في نقل البضائع بكميات قليلة إذا ما قورنت بوسائل النقل الأخرى مثل السيارات والشاحنات التي تحتل أهمية كبرى في البلاد العربية .



شكل (٨٧) طرق النقل البرية في الوطن العربي



مَنْ يساعديني في حل الأسئلة؟

١ - ما الدول العربية التي تتوافر لديها سكك حديدية؟

.....

٢ - ما الطرق الممهدة لعبور السيارات والشاحنات بين الدول العربية؟

.....

٣ - ما نوع البضائع التي تنتقل براً بين دول الوطن العربي؟

.....

٤ - برأيك ما أهمية نقل البضائع بوسائل حديثة ومتطورة؟

.....



ب - طرق النقل المائية :

وتشتمل على طرق النقل المائي بواسطة الأنهار ، وطرق النقل المائي الخارجي في البحار والمحيطات .

١ - النقل النهري :

يقتصر على نهر النيل ونهري دجلة والفرات .

نشاط (١)

أرسم الأنهار السابقة ، وأكتب أسماء الدول التي تقع فيها على الخريطة شكل (٨٨) .



شكل (٨٨) خريطة الوطن العربي الصماء



٢ - النقل البحري :

يتمتع الوطن العربي بسواحل ومنافذ بحرية طويلة ساعدت على إنشاء العديد من الموانئ التجارية والنفطية .

نشاط (٢)

حدد على الخريطة السابقة شكل (٨٨) دولة عربية لها سواحل بحرية متعددة .

ج - طرق النقل الجوي :

- برأيك . . . ما مميزات طرق النقل الجوي؟



.....

.....

.....

ب - التبادل التجاري

- يقصد بالتبادل التجاري عمليتا التصدير والاستيراد بين الدول .
- هناك علاقات تجارية بين كافة الدول العربية ، حجمها وقيمتها محدودة .

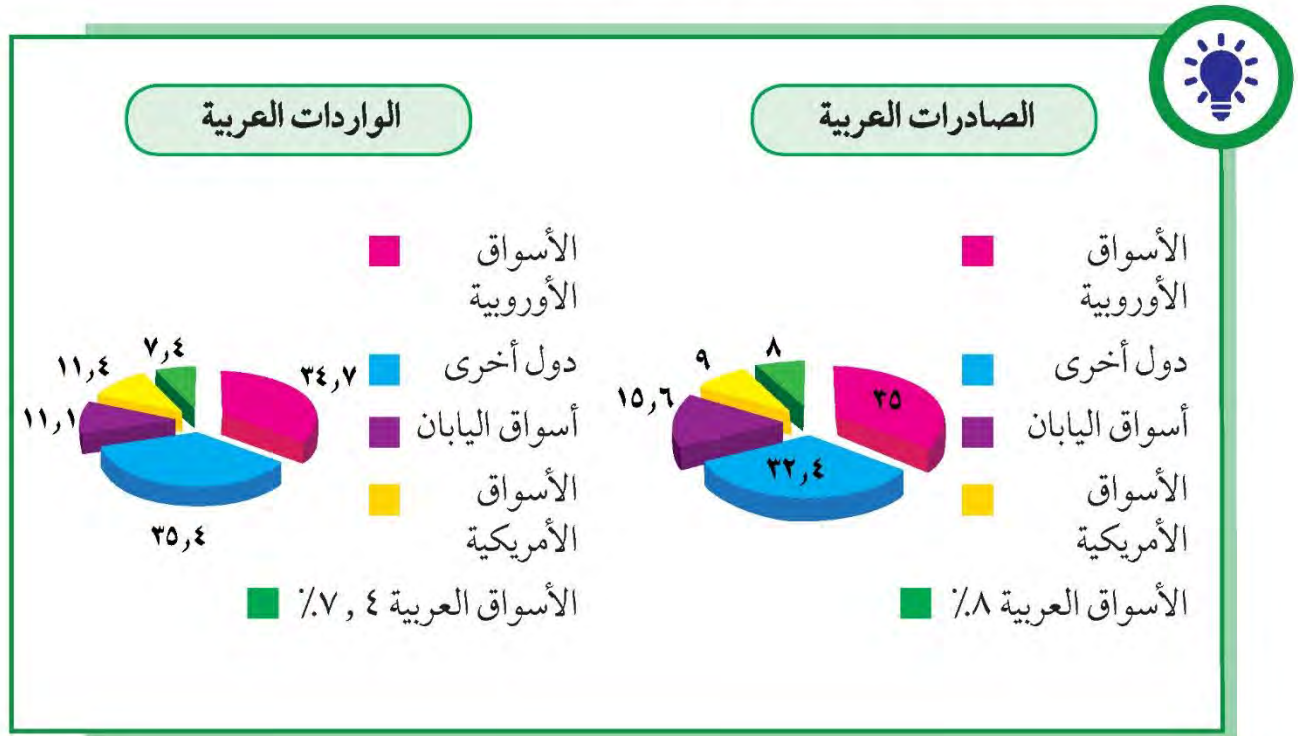
نشاط (١)

ما السلع التي يتم استيرادها أو تصديرها بين الدول العربية؟

.....

نشاط (٢)

لاحظ الرسوم البيانية شكل (٨٩) ثم أجب عما يلي :



شكل (٨٩) الصادرات والواردات العربية



- ١ - الأسواق التي تحتل المكانة الأولى بالنسبة لتجارة الواردات العربية هي
- ٢ - الأسواق التي تحتل المكانة الأولى بالنسبة لتجارة الصادرات العربية هي
- ٣ - نسبة الصادرات بين الدول العربية% ونسبة الواردات%

نشاط (٢)

ساعد خالداً من خلال دراستك السابقة ليفرق بين المفاهيم التالية :

التجارة البينية : التبادل التجاري بين الدول العربية

الواردات :	الصادرات :
.....
.....
.....

أولاً : أكمل الفراغات في العبارات التالية :

- ١ - تتنوع المحاصيل الزراعية في الوطن العربي بتنوع
- ٢ - تعتمد زراعة المحاصيل الزراعية في الوطن العربي على مياه الأنهار ومياه
- ٣ - تفرد اليمن بزراعة محصول والصومال بزراعة محصول
- ٤ - تتنافس مصر والسعودية على احتلال المركز الأول في زراعة نوع من أنواع الحبوب يعرف باسم
- ٥ - يطلق اسم الغلات الصناعية والتجارية على محصول قصب السكر و
- ٦ - الصناعة هي تحويل المواد الخام إلى
- ٧ - لقيام صناعة ناجحة لابد من توافر المقومات و

ثانياً : علّل لما يلي :

- ١ - تتركز زراعة الحمضيات والموالح في حوض البحر المتوسط .

.....
.....

- ٢ - انتشار زراعة النخيل بكثرة في السعودية :

.....
.....

ثالثاً : أ- عرف المصطلحات التالية :

- ١- الزراعة التقليدية :

- ٢- الزراعة الحديثة :

ب - اكتب تقريراً مختصراً عن أهمية الزراعة في حياتنا:

.....

.....

.....

.....

ج - كيف يمكن تنمية الثروة السمكية؟

.....

.....

د - عدد الصناعات التي تقوم على المحاصيل الزراعية في الوطن العربي:

.....

.....

رابعاً - أجب عن الأسئلة التالية :

١ - بماذا يمتاز النفط العربي؟

.....

.....

٢ - ما الدول الأكثر استيراداً للنفط العربي؟

.....

.....

٣ - ما أثر العائدات النفطية على الاقتصاد العربي بوجه عام والخليجي بوجه خاص؟

.....

.....

٤ - ما الفرق بين مفهوم الصادرات ومفهوم الواردات؟

.....

.....

خامساً - علّل لما يلي :

١ - يطلق على الغاز الطبيعي الطاقة النظيفة :

.....

.....

٢ - قلة حجم النقل النهري بالنسبة لباقي وسائل النقل في الوطن العربي .

.....

.....

٣ - السيارات والشاحنات أكثر وسائل طرق النقل البري إنتشاراً .

.....

.....

٤ - اهتمام الدول العربية بتحديث شبكة المواصلات .

.....

.....

٥ - قلة التبادل التجاري بين دول الوطن العربي .

.....

.....

٦ - معظم صادرات دول الخليج العربية من النفط الخام .

.....

.....

سادساً - صنف الصناعات حسب أنواعها في الجدول التالي :

(تعليب الفواكه والخضار - الأثاث - استخراج المعادن - زجاج - أنسجة صوفية - قطع الأخشاب - أسمنت - صيد الأسماك - الرخام - زيوت وبلاستيك - صهر الحديد) .

صناعات تحويلية	صناعات استخراجية

سابعاً - استعن بالأطلس المدرسي لحل ما يلي :

توجهت باخرة محملة بالنفط من مدينة الظهران بالسعودية إلى مدينة الدار البيضاء في المغرب عن طريق البحر الأحمر .

- ارسم خط سير الباخرة مع ذكر المنافذ البحرية التي يجب أن تمر بها أثناء الرحلة :



اقترح وسائل لتنمية التجارة بين الدول العربية .

.....

.....

.....

.....

مشروع

صمم مع زملائك مجلة ، اجمع فيها صوراً تمثل الثروة الحيوانية في الوطن العربي مع ذكر أهميتها ومناطق وجودها .



سنتعرف في هذه الوحدة على ما يلي :

١ - المشكلات والتحديات التي تواجه الوطن العربي .

٢ - أهمية التضامن والتعاون بين دول الوطن العربي وأسس ومبادئ التضامن .

٣ - مساهمات دولة الكويت في مساعدة دول الوطن العربي .

٤ - كيفية تطبيق المفاهيم التي درستها في الوحدة .