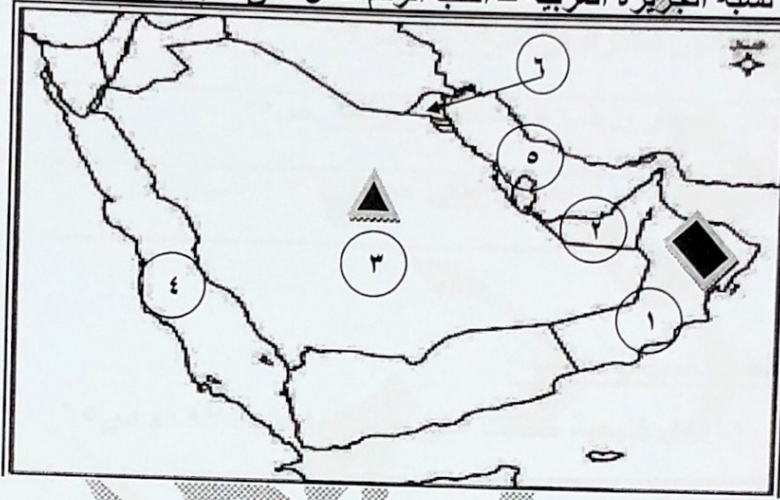




نعوذ بحج
الإجابة

(الكويت ودول الخليج العربية)
(درجة لكل سؤال)

السؤال الأول (موضوعي) يتكون من (أ - ب) :

(أ) أمامك خريطة لشبه الجزيرة العربية - أكتب الرقم الدال على العبارات التالية :



- ١- صدرت وثيقة الدستور في عام ١٩٦٢م في دولة يمثلها على الخريطة الرقم (٦) ص ٦٤
- ٢- هضبة نجد يمثلها على الخريطة الرمز () . ص ٢٣
- ٣- الجبل الأخضر يمثلها على الخريطة الرمز () . ص ٢٣
- ٤- المدينة التي أعلن فيها قيام مجلس التعاون لدول الخليج العربية يمثلها الرقم (٢) . ص ٧٠
- ٥- الخليج العربي يمثلها على الخريطة الرقم (٥) . ص ٢٣
- ٦- البحر الأحمر يمثلها على الخريطة الرقم (٤) . ص ٢٣

(ب) اكمل العبارات التالية بما يناسبها مما درست :

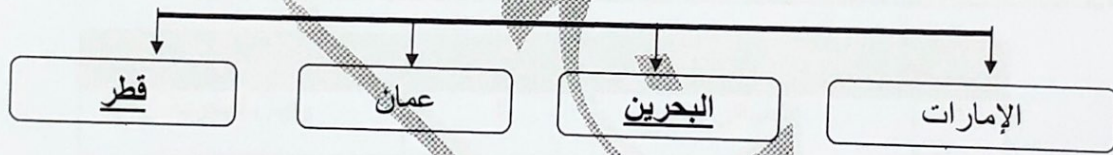
- ١- من أشهر البضائع التي تنقل من الخليج إلى الهند واليمن واللؤلؤ و التمور . ص ٣٤
- ٢- تقع منطقة الخليج العربي بالنسبة لقارة آسيا في الجهة الجنوبية الغربية . ص ١٩
- ٣- كل مرتفع له قمة لا يقل ارتفاعه عن ١٠٠٠ متر يسمى الجبل ص ٢٣
- ٤- صهر المعادن من الأعمال التي اشتهرت بها حضارة تسمى مجان . ص ٤٨
- ٥- العام الذي تم فيه عقد اتفاقية الحماية بين دولة الكويت و بريطانيا هو ١٨٩٩ م . ص ٦٢
- ٦- بحر شروق الشمس تسمية قديمة لمسطح مائي يسمى الخليج العربي . ص ٤٧

امتحان نهاية الفترة الدراسية الأولى للصف السادس لمادة الاجتماعيات (الكويت ودول الخليج العربية) ٢٠٢٢/٢٠٢١ م
 السؤال الثاني (موضوعي) يتكون من (أ - ب) :
 (أ) صوب ما تحته خط في العبارات التالية :

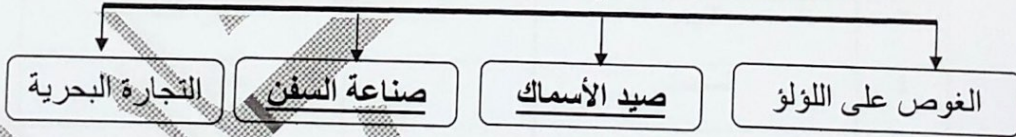
م	العبرة	التصويب
١	الدولة الخليجية الوحيدة التي لم تتعرض للاستعمار البريطاني هي البحرين . ص ٦٥	السعودية
٢	أفضل أنواع السفن المستعملة في السفر هي الشوعي. ص ٣٤	البغلة
٣	سميت القمة الخليجية السابعة والعشرون سنة ٢٠٠٦م بقمة الشيخ صباح الأحمد . ص ٧٤	جابر الأحمد
٤	تم انطلاق السوق الخليجي المشترك في عام ٢٠٠٥م. ص ٧٧	٢٠٠٨م
٥	فصل الصيف يمتاز بأنه جاف ورطب على المناطق المرتفعة . ص ٢٥	الساحلية
٦	الموقع بالنسبة للماء واليابس يعرف بالموقع الفلكي. ص ٢٠	النسبي

(ب) اكمل المخططات السهمية التالية :

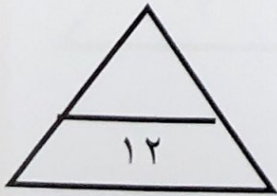
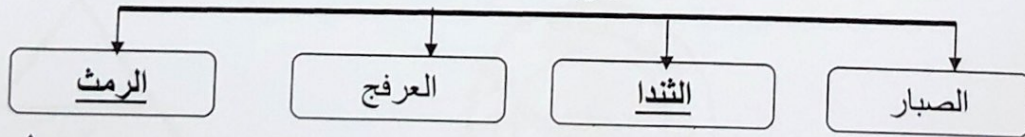
١- دول خليجية حصلت على استقلالها عام ١٩٧١م ص ٦٥



٢- الأنشطة البحرية في منطقة الخليج العربي قديماً ص ٣١-٣٤



٣- أنواع النباتات المعمرة ص ٢٦



امتحان نهاية الفترة الدراسية الأولى للصف السادس لمادة الاجتماعيات (الكويت ودول الخليج العربية) ٢٠٢٢/٢٠٢١ م

(درجة لكل سؤال)

السؤال الثالث (موضوعي) يتكون من (أ - ب - ج):

(أ) اذكر الرابط المشترك بين العناصر التالية:

١- حظرة - ميدار - قرقور

٢- مجان - هليستية - دلمون

٣- الخبيزة - العنصيل - الحويذان

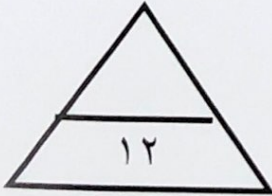
(ب) صنف الكلمات التالية في مكانها المناسب حسب الجدول التالي:

الماعز - الغزال - الذئب - الثعلب - الإبل ص ٢٦

حيوانات برية	حيوانات مستأنسة
الغزال	الإبل
الذئب	الماعز
الثعلب	

(ج) اختر للمجموعة (أ) ما يرتبط بها من المجموعة (ب) بوضع الرقم المناسب: ص ٣٢

م	المجموعة (أ)	الرقم المناسب	المجموعة (ب)
١	الطواش	٤	رئيس البحرية
٢	النوخدة	٣	مطرب السفينة
٣	النهام	٢	ربان السفينة
٤	المجدمي	-	صانع السفينة
		١	تاجر اللؤلؤ



امتحان نهاية الفترة الدراسية الأولى للصف السادس لمادة الاجتماعيات (الكويت ودول الخليج العربية) ٢٠٢٢/٢٠٢١ م
السؤال الرابع (مقالتي) يتكون من (أ - ب - ج) :
(أ) اقرأ الفقرة التالية ثم أجب عن الأسئلة:

تعددت العوامل المؤثرة في نشأة الحضارات بمنطقة الخليج العربية ، حيث ساعد موقع الخليج العربي المتميز على إنشاء علاقات تجارية واسعة مع المناطق المجاورة ، كما توافرت آبار مياه الشرب الناتجة عن سقوط الأمطار وحفر الآبار (القليب) ، وقد امتازت بعض مناطق الخليج العربية بملائمة بيئتها الطبيعية للاستقرار وقيام الحضارات .

١- عرف ما تحته خط:

القليب (الجليب) يطلق على البئر عند سكان منطقة الخليج العربية ص ٥١

٢- عدد العوامل المؤثرة في نشأة الحضارات بمنطقة الخليج العربية . ص ٥١-٥٢

- موقع الخليج العربي المتميز .

- توفر مياه الشرب .

- ملائمة البيئة الطبيعية للاستقرار .



(ب) لاحظ الصورة التي أمامك ثم أجب عن المطلوب:

١- ما اسم المنظمة التي تمثلها صورة الشعار المقابل ؟ ص ٧٧

- مجلس التعاون لدول الخليج العربية

٢- في أي عام أعلن قيام هذه المنظمة ؟ ص ٧٠

- ١٩٨١ م

٣- أذكر أجهزة الهيكل التنظيمي لهذه المنظمة. ص ٧٠ (يكتفى بنقطتين)

- المجلس الأعلى

- المجلس الوزاري

- الأمانة العامة

(ج) علل لما يلي :

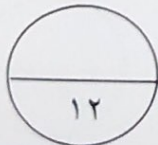
١- انصراف سكان منطقة الخليج العربية عن حرفة الغوص على اللؤلؤ . ص ٣١

- اكتشاف النفط .

- ظهور اللؤلؤ الصناعي .

٢- تعرضت منطقة الخليج العربي للاستعمار الأوربي منذ القرن الخامس عشر. ص ٦٠

- لاستغلال الموقع الجغرافي إدراكا منهم لأهميته .



امتحان نهاية الفترة الدراسية الأولى للصف السادس لمادة الاجتماعيات (الكويت ودول الخليج العربية) ٢٠٢١/٢٠٢٢ م
السؤال الخامس (مقالى) يتكون من (أ - ب - ج) :
(درجة لكل سؤال)

(أ) عرف ما يلى:

- ١- دوائر العرض : خطوط وهمية أي غير موجودة على سطح الأرض ترسم على الكرة الأرضية و تقسم الكرة الأرضية إلى قسمين شمالي وجنوبي وعددها ١٨٠ دائرة . ص ٢١
- ٢ - هضبة : أرض مرتفعة سطحها مستوي وتمتد مساحة كبيرة. ص ٢٣
- ٣ - مناخ : حالة الجو في مكان ما خلال فترات زمنية طويلة . ص ٢٥
- ٤ - السيب : الشخص الذي يسحب الغاصة من أعماق البحر. ص ٣٢



(ب) اكتب فيما يلى وفق ما درست:

- ١- أنواع الرياح التي تهب على منطقة الخليج العربية . ص ٢٥
 - الرياح الشمالية
 - الرياح الجنوبية الشرقية (الكوس)
 - الزوابع (العواصف الترابية)

٢- أهداف مجلس التعاون لدول الخليج العربية . ص ٧٦

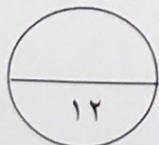
- تحقيق التعاون بين الدول الأعضاء في جميع المجالات.
- تحقيق الترابط و الصلات بين دول مجلس التعاون.
- العمل على تقدم دول مجلس التعاون في المجال العلمي.

٣- عدد الأنشطة البرية لدول الخليج العربية قديماً. ص ٢٨

- الرعي
- الزراعة
- الحرف اليدوية
- التجارة البرية

(ج) فرق بين كلاً مما يلى من حيث المفهوم :

القفال	الدشة
نهاية موسم الغوص (شهر سبتمبر) ص ٣٢	بداية موسم الغوص (شهر يونيو) ص ٣٢



انتهت الأسئلة