



منطقة العاصمة التعليمية

الاجابة
التمودن جية

<p>العام الدراسي ٢٠٢١ / ٢٠٢٢ م الزمن : ساعة و خمس و أربعون دقيقة عدد أوراق الأسئلة : (٦)</p>	<p>الإجابة النموذجية لامتحان نهاية الفترة الدراسية الأولى لمقرر دولة الكويت و العالم الإسلامي الصف الثامن المتوسط</p>	<p>وزارة التربية التوجيه الفني العام للاجتماعيات الإدارة العامة لمنطقة العاصمة التعليمية</p>
--	---	--

أجب عن جميع الأسئلة

السؤال الأول و يتكون من (أ - ب - ج - د - هـ) : (٣٠ × ١ = ٣٠ درجة)

أ) أكمل العبارات التالية بما يناسبها مما درست : (٦ × ١ = ٦ درجات)

١- الصورة المقابلة لإحدى أنواع الصناعات الخشبية في الدولة الإسلامية تسمى الأرابيسك ص ٢٧

٢- مجموعة من مكعبات الزجاج الملون والشفاف وقطع من الحجر الأبيض والأسود تثبت فوق طبقة من الجص أو الإسمنت بشكل منظم لتعطي منظرًا جميلاً يسمى الفسيفساء.
ص ٣٠

٣- الخليفة الذي اجتمع المسلمون على اختياره كأول حاكم للمسلمين بعد وفاة الرسول- ص- اسمه أبو بكر الصديق ص ٢٥

٤- انشأ ديوان الماء في مدينة تسمى مرو
ص ٢٧

٥- الصدقة التي يوقفها المرء في حياته لوجه الخير ، ويكون أجرها ونفعها حتى بعد وفاته يسمى الوقف الإسلامي ص ٢٩

٦- ضريبة الأرض الزراعية التي تخرج مبلغاً معيناً من ناتج المحصول الزراعي يسمى الخراج
ص ٢٨

ب) صوب ما تحته خط في العبارات التالية : (٦ × ١ = ٦ درجات)

العبارة	التصويب
١- المسجد الذي يعد أكبر مساجد العالم ، وأول القبلتين يسمى <u>المسجد النبوي</u> . ص ٣٣	المسجد الأقصى
٢- يبلغ نسبة إنتاج العالم الإسلامي من الحبوب حوالي <u>٢٠٪</u> . ص ٧٢	١٤٪
٣- مجريط هي مدريد الحالية عاصمة <u>إيطاليا</u> . ص ٤٣	إسبانيا
٤- الدولة الإسلامية التي احتلت المركز الثاني على مستوى العالم في الإنتاج البحري عام ٢٠١٤ م <u>ماليزيا</u> . ص ٧٤	إندونيسيا
٥- أصغر دول العالم الإسلامي مساحة جمهورية <u>اوزباكستان</u> . ص ٥٢	المالديف
٦- عدد الدول الإسلامية في قارة آسيا <u>٢٦ دولة</u> . ص ٥١	٢٧ دولة

ج) ضع خطأً تحت الخيار الصحيح الذي يلي كل عبارة : (٦ × ١ = ٦ درجات)

١ - حاكم دولة الكويت الذي لقب بقائد العمل الإنساني : ص ٢٤

عبدالله السالم	صباح السالم	صباح الأحمد	جابر الأحمد
----------------	-------------	-------------	-------------

٢ - الدولة الإسلامية الوحيدة في قارة أمريكا الجنوبية . ص ٥١

سورينام	البوسنة والهرسك	ألبانيا	جزر القمر
---------	-----------------	---------	-----------

٣ - العالم المسلم الذي ألف كتاب (الحيوان) : ص ٤٠

الرازي	الجاحظ	البكري	الخوارزمي
--------	--------	--------	-----------

٤ - يقع المسجد الأموي في مدينة : ص ٣٣

القاهرة	الرياض	تونس	دمشق
---------	--------	------	------

٥ - المحاصيل التي تزرع من أجل التصدير : ص ٧٣

موارد معدنية	موارد صناعية	الغلات النقدية	فواكه وثمار
--------------	--------------	----------------	-------------

٦ - المنصب الإداري الجديد الذي تم استحداثه في عهد الخليفة عمر بن الخطاب - رضي الله عنه - : ص ٢٥

الوزير	القاضي	المحتسب	الحاجب
--------	--------	---------	--------

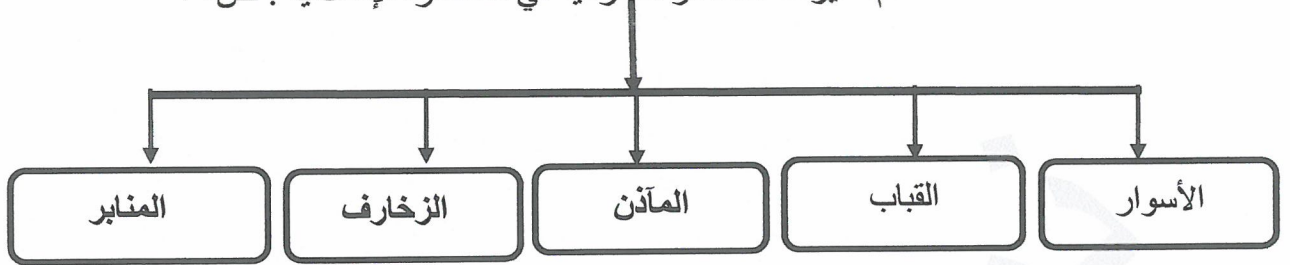
د) ظلل الحرف (أ) إذا كانت العبارة صحيحة وظلل (ب) إذا كانت العبارة خاطئة: (٦ × ١ = ٦ درجات)

م	العبارات	(أ)	(ب)
١	يعتبر يوم ٢٥ فبراير من كل عام يوم الاحتفال باللغة العربية . ص ٢١	أ	ب
٢	المساجد تقام فيها الصلوات وخطبة الجمعة والتعليم الديني . ص ٣٢	أ	ب
٣	استخدم المسلمون قديماً الحمام الزاجل في نقل الرسائل ص ٤٣	أ	ب
٤	يبلغ نسبة إنتاج العالم الإسلامي من النفط الخام ٢٠٪. ص ٦٧	أ	ب
٥	مراكز الإشعاع الحضاري تتمثل في بلاد الشام والأندلس وجزيرة صقلية . ص ٤١	أ	ب
٦	محطة الشجي (الشقايا حالياً) كانت استراحة قوافل الحجاج في العصر الإسلامي . ص ٢٨	أ	ب

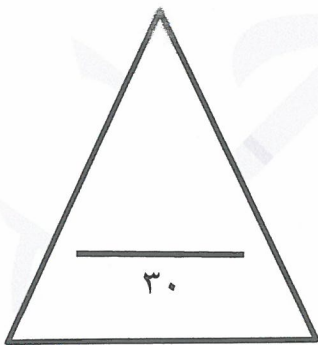
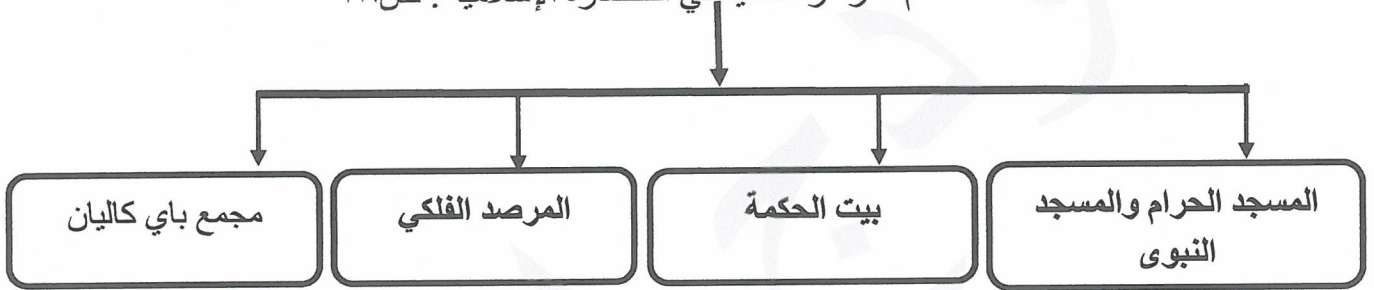
(٦ × ١ = ٦ درجات)

هـ) أكمل المخططات السهمية التالية :

١- أهم مميزات المظاهر العمرانية في الحضارة الإسلامية : ص ٣٠



٢- أهم المراكز العلمية في الحضارة الإسلامية : ص ٣٨



درجة السؤال الأول بالحروف

السؤال الثاني و يتكون من (أ - ب - ج) :

(أ) قارن بين كل من : (٤ × ١ = اربع درجات)

أوجه المقارنة	أبو بكر الرازي ص ٤٠	الخوارزمي ص ٣٩
المجال الذي اشتهر به	الطب	الجبر
أهم مؤلفاته	الحاوي في الطب	الجبر والمقابلة

(ب) عرف المفاهيم أو المصطلحات التالية : (٢ × ١ = درجتان)

١- الجوت : نبات ينمو في المناطق الاستوائية والموسمية تؤخذ اغصانه وتوضع تحت الماء وتطمر بالطين وبعد أيام تستخرج وتغزل ويصنع منها الحبال و الأحذية والحقائب والأقمشة. ص ٧٣

٢- أهل الذمة : هم النصارى واليهود الذين ظلوا على دينهم مع دفع الجزية ص ٣٦

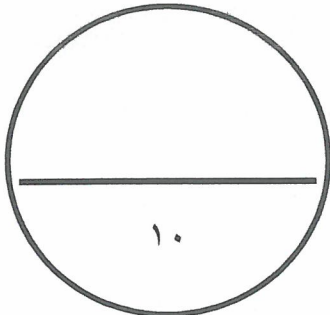
(ج) اكتب اثنان في كل مما يلي :: (٢ × ٢ = ٤ درجات)

١- المعادن المهمة التي ينتجها العالم الإسلامي . ص ٧٠

- اليورانيوم - الذهب - الفضة - النحاس - القصدير - الفوسفات - الحديد .

٢- أهم الصادرات في العالم الإسلامي . ص ٢٨

- التمور - الفواكه - اللبان - الخيول العربية



درجة السؤال الثاني بالحروف

السؤال الثالث: يتكون من (أ - ب - ج):

(أ) فرق بين كل مما يلي : (٢ × ١ = درجتان)

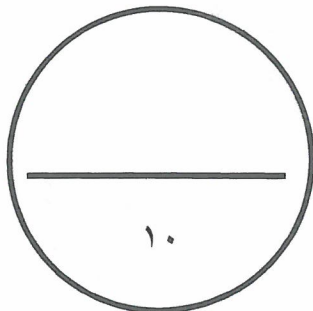
الجزية ص ٢٩	الزكاة ص ٢٨
مبلغ مالي يدفعه غير المسلمين من (أهل الذمة) ممن هم قادرين على حمل السلاح نظير حماية الدولة لهم .	ركن من أركان الإسلام يخرجها المسلمون الأغنياء للمستحقين من الفقراء .

ب - علل لما يلي : (٥ درجات)

- ١- اهتمام الدولة الإسلامية بالصناعة اهتماماً كبيراً . ص ٢٧ (درجة)
- من أجل استثمار الموارد الطبيعية المتوفرة بها .
 - ٢- لقيت التجارة تشجيعاً كبيراً في الحضارة الإسلامية . (٢ × ١ = درجتان) ص ٢٨
- لدورها الكبير في التبادل التجاري مع المناطق المجاورة .
- يمتلك موقع العالم الإسلامي الاستراتيجي العديد من الخطوط التجارية البرية والبحرية مما انعكس على ازدهار صادراته و وارداته .
 - ٣- ازدهار العلم وظهور العلماء . (٢ × ١ = درجتان) ص ٣٧
- تشجيع العلماء ورعاية وتمويل القيادات السياسية لهم من خلفاء وملوك وسلطين وأمرء .
- التنافس العلمي بين الدول الإسلامية
- حركة التعريب (الترجمة) للكتب القديمة اليونانية والهندية والفارسية
- الرخاء الاقتصادي
- ج) دال على صحة العبارة التالية :**

(هناك عوامل ساعدت على زيادة الإنتاج الزراعي في دول العالم الإسلامي) . ص ٧٢ (٣ × ١ = ثلاث درجات)

- التربة الخصبة .
- المناخ .
- وجود البحيرات والأنهار والآبار .
- سقوط الأمطار .
- كثرة السكان والأيدي العاملة .



..... درجة السؤال الثالث

السؤال الرابع : و يتكون من (أ – ب) :-

أ) اقرأ الفقرة التالية ثم أجب عما يليها من أسئلة :

(اتصفت الحضارة الإسلامية عندما بلغت ذروتها بالتقدم بأنها العصر الذهبي للإسلام وشهدت خلال هذه الفترة تقدماً في المجالات العلمية والاقتصادية وغيرها من المجالات الأخرى ، حيث انفردت الحضارة الإسلامية بجملتها من الخصائص التي تميزها عن غيرها من الحضارات المتعاقبة على مر العصور ، فهي حضارة تسامح وحضارة إيمان وعمل وحضارة إنسانية وهي عالمية وشمولية .)

١- عرف ما تحته خط .

- هي كل ما يطرأ على المجتمع من تقدم وتطور ورقي سواء في الجانب المادي أو الجانب الروحي. (درجة) ص ١٨

٢- استخرج من الفقرة السابقة خصائص الحضارة الإسلامية . ص ٢٢-٢٣ (٣ درجات)

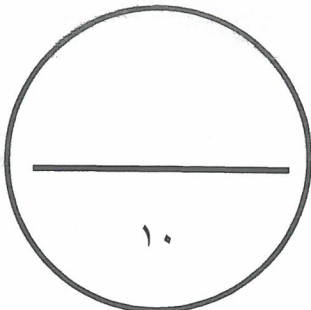
- حضارة تسامح – حضارة إيمان وعمل – حضارة إنسانية – حضارية عالمية – حضارة شمولية.

٣- اذكر جهود المسلمين في الزراعة . (٢ درجات) ص ٢٦

- شق القنوات المائية والترع - إقامة السدود - تنظيم وسائل الري

ب) فرق بين كل من : ص ٥٣ (٤ درجات)

الهضبة	الجبل
أرض مرتفعة سطحها مستو ، وتمتد لمساحة واسعة .	هو قمة لا يقل ارتفاعها عن ١٠٠٠ متر تقريباً .
التل	الوادي
يشبه الجبل ولكن ارتفاعها أقل من ١٠٠٠ متر	حوض أو منخفض طبيعي على سطح الأرض



درجة السؤال الرابع بالحروف.....

انتهت الأسئلة

مع تمنياتنا لكم بالتوفيق ،،،،،،