



مدرسة طارق السيد رجب

العام الدراسي: ٢٠٢١ / ٢٠٢٢ م

الفصل الدراسي الأول



وزارة التربية
MINISTRY OF EDUCATION



قسم الاجتماعيات

الصف الثامن

اسم الطالب: الفصل:

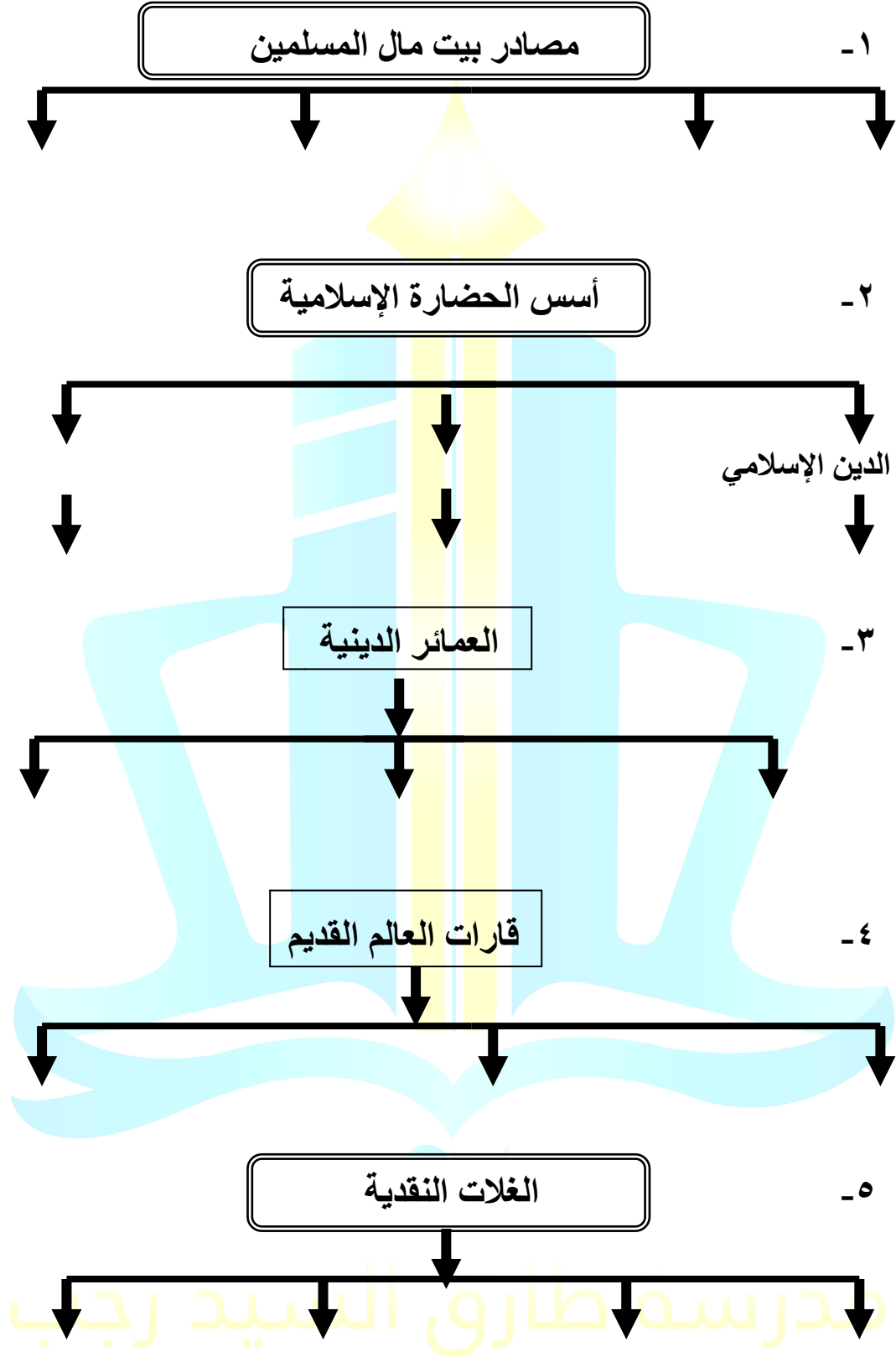
ملحوظة : هذه التدريبات والشروحات لا تغني عن الكتاب المدرسي

السؤال الأول:- عرف المفاهيم التالية:-

	الحضارة	1
	الزكاة	2
	الخراج	3
	الجزية	4
	الوقف الإسلامي	5
	الفسيفساء	6
	المساجد	7
	أهل الذمة	8
	مجريط	9
	الأرابيسك	10
	التضاريس	11
	الوادي	12
	السهول	13
	الهضبة	14
	الجبل	15
	التل	16
	الطقس	17
	احتياطي النفط	18
	الغلات النقدية	19
	الجوت	20
	يورانيوم	21

مدرسة طارق السيد رجب

السؤال الثاني: - أكمل المخططات السهمية التالية :-



السؤال الثالث:- اختر من المجموعة (أ) ما يناسبها من المجموعة (ب):-

الدولة الحالية التي تمثلها	مراكز إشعاع الحضارة الإسلامية إلى أوروبا	
() إيطاليا	بلاد الأندلس	-١
() أسبانيا و البرتغال	بلاد الشام	-٢
() سوريا - لبنان - الأردن - فلسطين	صقلية	-٣

المجموعة (أ)	المجموعة (ب)	
الدولة الإسلامية الأولى في إنتاج اليورانيوم .	() تركيا	-١
الدولة الإسلامية الأولى في إنتاج الذهب .	() كازخستان	-٢
الدولة الإسلامية الأولى إنتاج الفضة .	() أوزباكستان	-٣

مدرسة طارق السيد رجب

السؤال الرابع : - أجب على الاسئلة التالية : -

- ١ - عدد الشعوب التي كونت الحضارة الإسلامية ؟
العرب و الفرس و الترك و الأفارقة و الآسيويين و الهنود و الأوروبيين .
٢ - ما خصائص الحضارة الإسلامية ؟
١ - ٢ - ٣ -
٤ - ٥ -
٣ - ما أهم المراكز العلمية في الحضارة الإسلامية ؟
١ - ٢ - ٣ -

٤ - كيف انعكس أثر خصائص الحضارة الإسلامية على دولة الكويت ؟

- ١ - عدد أهم المؤسسات الخيرية في دولة الكويت و التي تهتم بالعمل الإنساني؟
١ - ٢ -
٢ - اذكر أهم المناصب السياسية في الحضارة الإسلامية ؟
٣ - ١ - ٢ - ٣ - 4 -
رتب الخلفاء الراشدين ترتيبا تصاعديا من حيث فترة توليهم الخلافة ؟
١ -
٢ -
٣ -
4 -

٤ - عدد جهود المسلمين في الزراعة ؟

- ١ -
٢ -
٣ -

٥ - كيف اهتمت الدولة الإسلامية في الصناعة ؟

أهتمت الدولة الإسلامية في العديد من الصناعات مثل :

- ١ -
٢ -
٣ -
٤ -

10- ما هي العوامل التي أدت إلى ازدهار العلم و ظهور العلماء ؟

- ١ -
٢ -
٣ -
٤ -
٥ -

11 - كيف انتقلت الحضارة الإسلامية إلى أوروبا و الاستفادة منها ؟

-

12- اذكر أسماء القارات التي يمتد بها العالم الإسلامي ؟

.....

١٣ - ما الفرق بين إنتاج النفط و احتياطي النفط ؟

- إنتاج النفط :

- احتياطي النفط :

١٤ - ما هي الصناعات التي يمكن إنتاجها من النفط الخام ؟

.....

.....

.....

١٥ - ما هي انعكاسات إنتاج النفط على صحة الانسان ؟

.....

١٦ - عدد بعض المعادن في دول العالم الإسلامي ؟

.....

.....

.....

.....

.....

.....

.....

١٧ - اذكر اهم استخدامات معدن اليورانيوم ؟

.....

.....

١٨ - اذكر العوامل التي تساعد على الإنتاج الزراعي ؟

.....

.....

.....

.....

.....

١٩ - عدد أهم مصادر الإنتاج في دول العالم الإسلامي ؟

أ-

ب-

٢٠ - اذكر أسماء الدول الإسلامية التي تطل على أكثر من مسطح مائي ؟

.....

٢١ - اذكر أسماء الدول الإسلامية التي لا تطل على مسطح مائي (مغلقة) ؟

.....

مدرسة طارق السيد رجب

السؤال الخامس : - علل لما يأتي: -

١- تركّز زراعة الأرز في ماليزيا و باكستان و إندونيسيا و بنغلادش ؟

السؤال السادس : - أكمل ما يأتي: -

- ١- قامت الدولة الإسلامية في القرن _____ الميلادي .
- ٢- تميز المسلمون في تجارتهم حيث وصلوا إلى _____ .
- ٣- عالم ألف كتاب الصيدلة في الطب يسمى _____ .
- ٤ -ألف البيروني _____ مؤلفاً بينما الجاحظ ألف ٣٥٠ كتاباً.
- ٢- دخلت اللغة العربية ضمن اللغات الرسمية في ديسمبر عام _____ .
- ٣- اعتبار ١٨ _____ من كل عام ، يوم الاحتفال باللغة العربية .
- ٤- العالم اليوناني الذي اخترع جدول الضرب يسمى _____ .
- ٥- لقب سمو الأمير الشيخ صباح الأحمد الجابر الصباح بقائد العمل الإنساني من قبل الأمم المتحدة في _____ م.
- ٦- اجتمع المسلمين بعد وفاة الرسول صلى الله عليه و سلم في ١٢ من ربيع الأول عام ١١ هـ في سقيفة _____ .
- ١٠ - بعد وفاة الرسول صلى الله عليه وسلم ظهر منصب إداري جديد يسمى _____ .
- ١١ - الخليفة الذي استحدث منصب المحتسب هو _____ رضي الله عنه .
- ١٢ - من مظاهر إهتمام الحضارة الإسلامية بالزراعة إنشاء ديوان الماء في مدينة _____ الواقعة في خرسان " إيران حالياً " .
- ١٣- اسهمت _____ في نشر الدين الإسلامي .
- ١٤ - صادرات العالم الإسلامي في التبادل التجاري : _____ و _____ و _____ .
- ١٥ - واردات العالم الإسلامي في التبادل التجاري : _____ و _____ و _____ .
- ١٦ - محطة تم اكتشافها في دولة الكويت كانت استراحة لقوافل الحجاج تسمى محطة _____ .
- ١٧ - من الطرق التجارية البحرية قريتان في جزيرة فيلكا تعودان للعصر الإسلامي هما قرية القرنية و _____ .
- ١٨ - الجهة المسؤولة عن الوقف في دولة الكويت هي وزارة _____ .
- ١٩ - من أهم المظاهر العمرانية في دولة الكويت هو _____ .
- ٢٠ - تم افتتاح المسجد الكبير في عهد الشيخ جابر الأحمد الصباح في عام و _____ م .

- ٢١- صمم المسجد الكبير وفق الطراز _____ .
- ٢٢- مسجد يقع في المدينة المنورة أنشئ خلال شهرين من الهجرة هو _____ .
- ٢٣- مسجد يشمل قبة الصخرة و المسجد القبلي يقع في القدس هو _____ .
- ٢٤ - تقع جامعة الزيتونة في _____ و جامع قرطبة في _____ .
- ٢٥ - تميز المجتمع الإسلامي بسماع القصص و الحكايات في مجالس تسمى _____ و _____ .
- ٢٦- عالم مسلم يرجع له الفضل في تطوير فكرة الكامرة يسمى _____ .
- ٢٧- ألف ٣٥٠ كتاباً و أهمها " كتاب الحيوان " يسمى _____ .
- ٢٨- عالم مسلم أهتم في مجال الفلسفة و أثر في العالم الإنجليزي روجير بيكون يسمى _____ .
- ٢٩ عالم مسلم أهتم في مجال الجغرافيا و كان يؤمن بكروية الأرض يسمى _____ .
- ٣٠- استفاد الأوروبيون من طريقة نقل الرسائل جواً عن طريق _____ .
- ٣١- تضم قارة آسيا ٢٧ دولة إسلامية و إفريقيا تضم _____ .
- ٣٢- تضم قارة أوروبا دولتين اسلاميتين هما البوسنة و الهرسك و ألبانيا و أمريكا الجنوبية دولة واحدة هي _____ .
- ٣٣- أن العالم الإسلامي يقع بين خطي طول ١٨ غرباً إلى _____ .
- ٣٤ - جمهورية كازاخستان أكبر الدول الإسلامية من حيث المساحة و اصغر دول العام الإسلامي هي _____ .
- ٣٥ - أهم مصادر الطاقة في العالم هما النفط و _____ .
- ٣٦ - ينتج العالم الإسلامي من النفط الخام _____ % من اجمالي الإنتاج العالمي .
- ٣٧ - احتلت _____ المركز الثاني على مستوى العالم في الإنتاج البحري في عام ٢٠١٤ م .
- ٣٨ - يبلغ انتاج العالم الإسلامي للحبوب حوالي _____ % من اجمالي الإنتاج العالمي .

مدرسة طارق السيد رجب

السؤال السابع : - ضع خط تحت الخيار الصحيح من بين الخيارات التي تلي كل عبارة :

١- المسجد الأموي يقع في :

١- القاهرة ٢- دمشق ٣- إسطنبول ٤- تونس

٢- جامع عمرو بن عاص يقع في :

١- الفسطاط ٢- الأندلس ٣- تونس ٤- القاهرة

٣- الجامع الأزهر يقع في :

١- إسطنبول ٢- تونس ٣- القاهرة ٤- دمشق

٤- مسجد السلطان أحمد يقع في :

١- دمشق ٢- القاهرة ٣- تونس ٤- إسطنبول

٦- حوض او منخفض طبيعي على سطح الأرض هو :

١- السهول

٢- الوادي

٣- التل

٤- الهضبة

٧- تبلغ مساحة العالم الإسلامي حوالي..... مليون كم٢.

١- ٢٢

٢- ٣٢

٣- ٤٥

٤- ٤٢

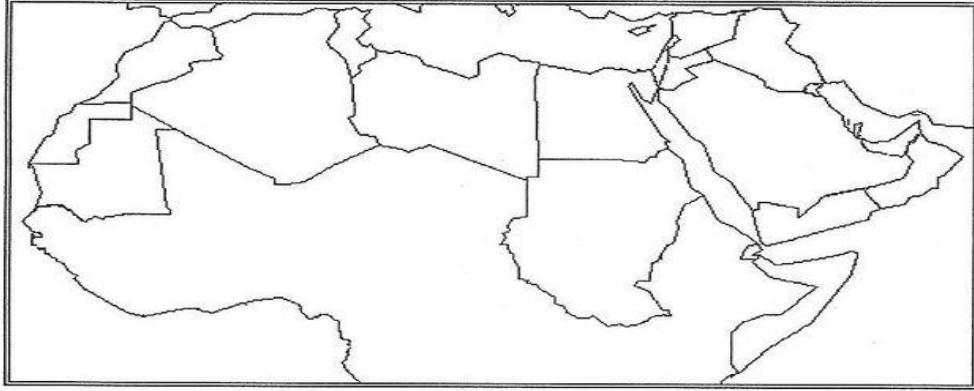
السؤال الثامن :- قارن بين :

وجه المقارنة	الجبل	التل
التعريف		

مدرسة طارق السيد رجب

السؤال التاسع :- على خريطة الوطن العربي الصماء حدد ما يأتي :-

- ١- مكة المكرمة بوضع الإشارة Δ
- ٢- المدينة النورة بوضع الإشارة \circ
- ٣- بيت الحكمة في بغداد بوضع الإشارة \square

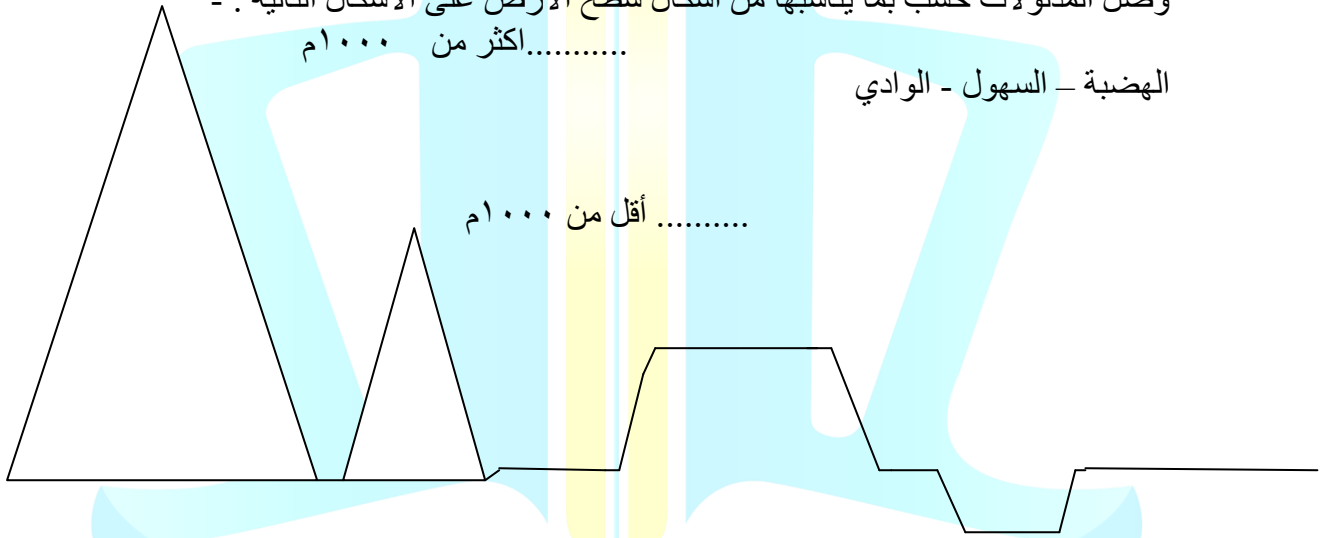


وصّل المدلولات حسب بما يناسبها من أشكال سطح الأرض على الأشكال التالية :-

..... أكثر من ١٠٠٠م

الهضبة - السهول - الوادي

..... أقل من ١٠٠٠م



مدرسة طارق السيد رجب