



اختبار نهاية الفترة الدراسية الأولى

العام الدراسي 2022/2021م

الصف التاسع

نموذج إجابة اختبار مادة

الاجتماعيات

الأربعاء – 2021 / 12 / 29



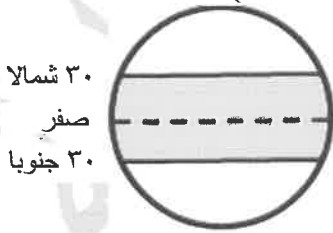
وزارة التربية  
الإدارة العامة لمنطقة حولي التعليمية  
التوجيه الفني للاجتماعيات  
إجابة امتحان نهاية الفترة الدراسية الأولى  
مقرر: الكويت والعالم  
للف التاسع المتوسط  
العام الدراسي: ٢٠٢١ / ٢٠٢٢ م  
الزمن: ساعة و ٤٥ دقيقة  
عدد الأوراق: ٥

## أجب عن جميع الأسئلة

السؤال الأول (موضوعي) : ويتكون من ( أ - ب - ج ) :

( أ ) ضع خطأ تحت الخيار الصحيح من بين الخيارات التي تلي كل عبارة : ( ٥ درجات )

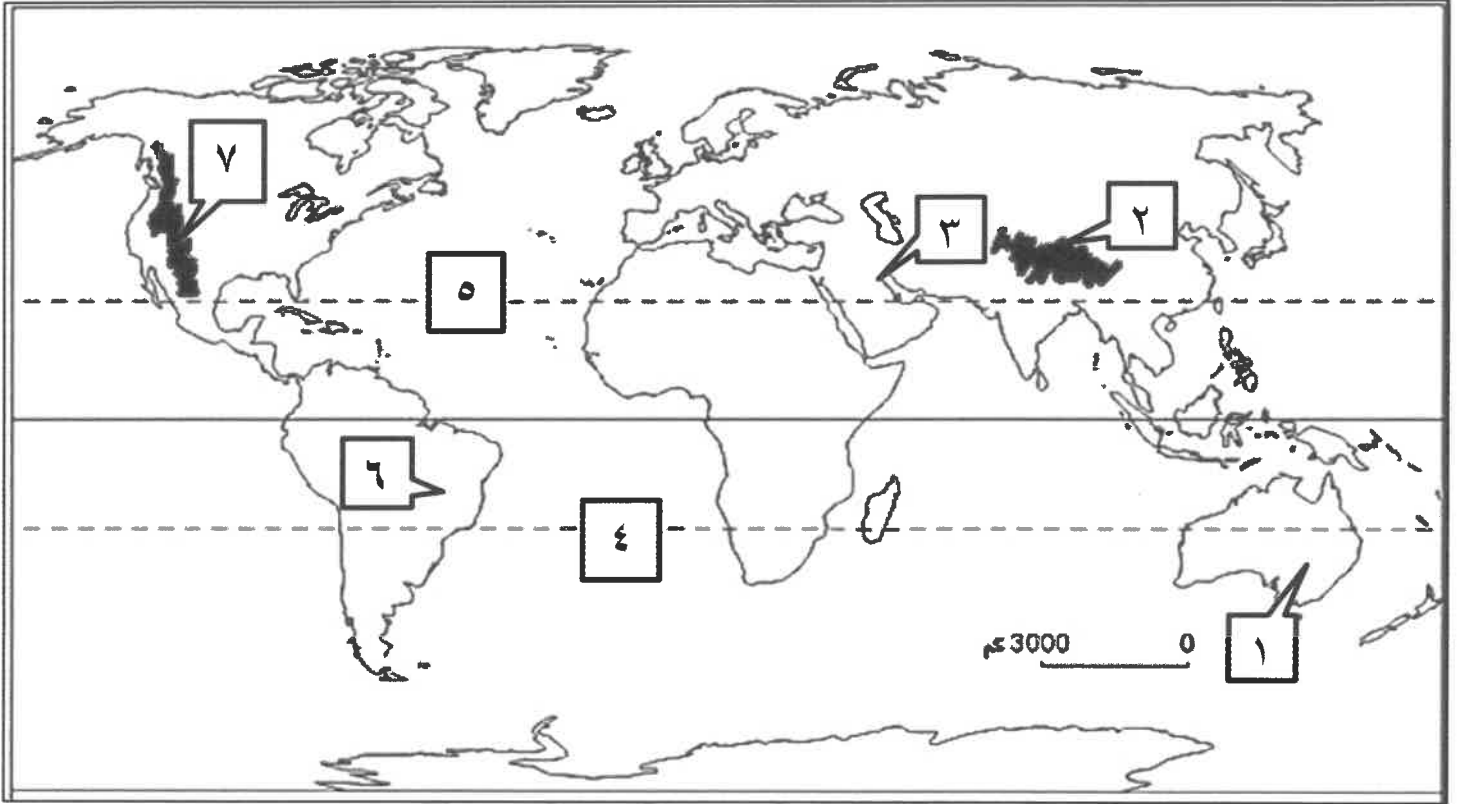
- ١- الاطار الذي يعيش فيه الانسان ويحصل فيه على مقومات حياته ويتفاعل فيها : ص ١٥  
( المناخ - البيئة - الموقع - الاقليم )
  - ٢- مصدر من المصادر الميكانيكية لتلوث التربة : ص ٦٧  
( الرعي الجائر - المبيدات الحشرية - آفة زراعية - الأسمدة الكيماوية )
  - ٣- يحتفل العالم كل عام باليوم العالمي لمكافحة الجفاف والتصحر بتاريخ : ص ٧٢  
( ١٧ مارس - ١٧ أبريل - ١٧ مايو - ١٧ يونيو )
  - ٤- سبب طبيعي من أسباب الاحتباس الحراري بكوكب الأرض : ص ٨٠  
( إزالة الغابات - استعمال الوقود الاحفوري - الانفجارات البركانية - الأنشطة الصناعية )
  - ٥- أرسلت حكومة الكويت لرسائل التهئة والتعزية للدول المختلفة شكل من أشكال العلاقات : ص ١٠٤  
( السياسية - الاجتماعية - الاقتصادية - الثقافية )
- ( ب ) أكمل العبارات التالية بما يناسبها فيما درست : ( ٦ درجات )



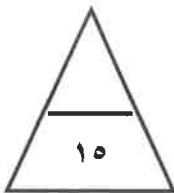
١- الأقاليم المناخية المظلمة في شكل الكرة الأرضية الموضحة تسمى المنطقة الحارة ص ٢٨

- ٢- النسبة المئوية لمساحة البحار والمحيطات من مساحة الكرة الأرضية تبلغ حوالي ٧١ % ص ٣٠
- ٣- حادثة المفاعل النووي (تشرنوبل) في الاتحاد السوفيتي السابق مثال لدرجة من درجات التلوث المدمر ص ٦٢
- ٤- تم إطفاء آخربئر نفطي كويتي محترق في السادس من نوفمبر عام ١٩٩١ م ص ٦٣
- ٥- حدوث تلف أو تدمير طفيف جدا في الغطاء النباتي والتربة درجة من درجات التصحر طفيف ص ٧٣
- ٦- منظمة الأمم المتحدة للتربية والعلوم والثقافة تسمى اليونسكو ص ١٠٦

( ج ) أمامك خريطة العالم أكتب الأرقام الدالة على العبارات التالية : ( ٤ درجات )



- دولة الكويت يمثلها على الخريطة الرقم ( ٣ ) ص ٢٠
- مدار الجدي يمثله على الخريطة الرقم ( ٤ ) ص ١٩
- هضبة البرازيل يمثلها على الخريطة الرقم ( ٦ ) ص ٢٥
- جبال الهمالايا يمثلها على الخريطة الرقم ( ٢ ) ص ٢٥



درجة السؤال الأول .....

السؤال الثاني ( موضوعي ) : ويتكون من ( أ - ب - ج ) :  
( أ ) صوب ما تحته خط في العبارات التالية : ( ٥ درجات )

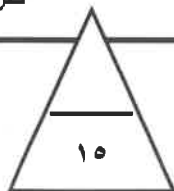
م	العبارة	التصويب
١	تقع دولة الكويت ما بين دائرتي عرض ٢٨,٤٥ - ٣٠,٠٥ ° شمال خط <u>جرنتش</u>	الاستواء ص ١٩
٢	أفضل البيئات المناخية على وجه الكرة الأرضية البيئة <u>الحارة</u>	المعتدلة ص ٣١
٣	أشد أنواع التلوث خطراً التلوث <u>الهوائي</u>	المائي ص ٦٤
٤	ضجيج الأماكن المزدهمة الغير دائم من نوع التلوث الضوضائي <u>المزمن</u>	الموقت ص ٦٩
٥	التخيم الموسمي من اسباب <u>التصحّر الطبيعيّة</u>	البشرية ص ٧٤

( ب ) أكمل المخططات السهمية التالية : ( ٥ درجات )  
١ - عناصر المناخ : ص ٢٧



( ج ) اكتب المفاهيم أو المصطلحات الدالة على العبارات التالية : ( ٥ درجات )

م	المفهوم أو المصطلح	العبارة
١	التضاريس	الملامح الرئيسية لشكل سطح الأرض من مرتفعات ومنخفضات وأودية وسهول. ص ٢٣
٢	الاحتباس الحراري	الزيادة في متوسط حرارة الأرض والذي نتج عن التغيرات المناخية واضطراب الأنظمة البيئية بسبب زيادة كمية غاز ثاني أكسيد الكربون والميثان . ص ٨٠
٣	السياسة الدولية	علاقات الدول مع بعضها بعضا على شكل وحدات أو تنظيمات دولية لتحقيق المصالح السياسية بأكبر قدر من الفاعلية أو بأقل الخسائر الممكنة . ص ٩٤
٤	أوبك	منظمة الدول المصدرة للنفط . ص ١٠٢
٥	العلاقات الاجتماعية الدولية	سلسلة المبادلات المادية والمعنوية يكون مضمونها وطنيا ، وتتم في وسط اجتماعي يطلق عليه المجتمع الدولي . ص ١٠٤



درجة السؤال الثاني .....

السؤال الثالث ( مقال ) : ويتكون من ( أ - ب - ج ) :

( أ ) علل لما يلي : ( ٤ درجات )

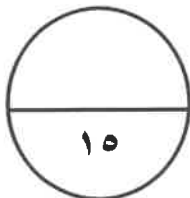
- ١- نشأة الحركة التجارية بين الدول . يكتفى بنقطتين ( درجتان ) ص ٩٩
  - \* لحاجة الدول المنتجة الى أسواق لتصريف منتجاتها ليعود بالنفع عليها وعلى سكانها .
  - \* لحاجة الدول المستهلكة لاستيراد السلع والخدمات وموارد الخام التي لا تتوفر في أراضيها .
- ٢- حدوث مشكلة التصحر في دولة الكويت طبيعياً . يكتفى بنقطتين ( درجتان ) ص ٧٤
  - \* الظروف المناخية القاسية والموقع الجغرافي .
  - \* فقر البيئة من حيث نوعية التربة وندرة المياه السطحية والجوفية والجفاف .
  - \* عدم انتظام معدل هطول الأمطار .

( ب ) اكتب الحلول والمقترحات للمشكلات التالية مستعينا في ما بين الأقواس : ( ٥ درجات )

- ١- ندرة المياه في العالم (كيفية المحافظة على المياه) . ص ٧٧ ( يكتفى بثلاث نقاط / ٣ درجات )
  - \* بناء محطات معالجة مياه الصرف .
  - \* الحد من الإفراط في سحب المياه الجوفية .
  - \* بناء السدود لتخزين مياه الأمطار .
  - \* استخدام أساليب ري حديثة .
  - \* التوعية بوسائل الإعلام المختلفة .
  - \* سن قوانين وتشريعات للحد من الهدر .
- ٢- ظاهرة الاحتباس الحراري ( الحلول ) . ص ٨١ ( يكتفى بنقطتين / درجتان )
  - \* عمل الغيوم الصناعية لها القدرة على عكس أشعة الشمس ينشر رذاذ الماء بواسطة السفن .
  - \* نثر كميات من غاز الكبريت .
  - \* تغذية النباتات البحرية بضخ المغذيات لها .
  - \* تسريع دورة ثاني أكسيد الكربون وزراعة الاشجار للتخلص من غاز ثاني أكسيد الكربون وتلطيف الجو .

( ج ) عدد ما يلي : ( ٦ درجات )

- ١- أنواع السهول . ص ٢٤ (درجتان)
  - \* الساحلية .
  - \* الفيضية ( النهرية )
- ٢- مميزات البيئة الجبلية . ص ٣٠ ( يكتفى بنقطتين / درجتان )
  - \* تخزين المياه الطبيعية والثروات المعدنية المهمة .
  - \* تعتبر بيئة طبيعية للحياة البرية .
  - \* بيئة للسياحة .
- ٣- أساليب التواصل بين البلدان . ص ٩١ (درجتان)
  - \* بشكل مباشر عن طريق الدولة وسياسات الدولة وحكومتها والقادة المفوضين من الدولة .
  - \* التواصل غير المباشر عن طريق المنظمات الدولية كالشركات والجمعيات الخيرية والرأي العام .



درجة السؤال الثالث .....

**السؤال الرابع (مقالى) : ويتكون من ( أ - ب - ج ) :**  
**( أ ) فرق بين كل مما يلي : ( ٦ درجات )**

مميزات الاقاليم المناخية المعتدلة الدفينة ص ٢٧	مميزات الاقاليم المناخية الباردة ص ٢٧
- الاعتدال مع الميل الى ارتفاع درجة الحرارة صيفا والدفء شتاء .	- انخفاض درجة الحرارة إلى ما دون الصفر معظم أشهر السنة.

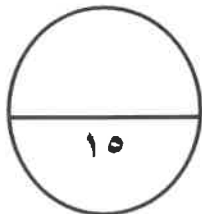
أضرار التلوث الهوائي يكتفى بنقطتين ص ٦٣	أضرار تلوث التربة يكتفى بنقطتين ص ٦٧
- التأثير على عملية التنفس لدى الإنسان والكائنات الحية . - نشر كثير من الأمراض . - الشعور بالإرهاق والتعب وعدم القدرة على بذل مجهود كبير .	- قلة الإنتاج الزراعي - انقراض بعض النباتات والحيوانات - ازدياد الطفيليات والبكتيريا ومسببات الأمراض - تلوث المياه الجوفية ومياه البحار

**( ب ) اكتب فيما يلي : ( ٥ درجات )**

- ١- أدوات تنفيذ السياسة الخارجية . ص ٩٥ ( يكتفى بثلاث نقاط / ٣ درجات )  
\* الدبلوماسية . \* استخدام القوة السياسية . \* استخدام وسائل الاعلام في شرح وجهات نظر الدولة .  
\* المعونات الخارجية . \* المقاطعة الاقتصادية . \* توقيع المعاهدات والاتفاقيات .
- ٢- الأشكال الأساسية للتعاون الدولي والمساعدات لتعزيز التنمية الاجتماعية . ص ١٠٥ ( يكتفى بنقطتين / درجتان )  
\* مساعدات مالية . \* مساعدات طارئة \* مساعدات فنية

**( ج ) عرف المفاهيم أو المصطلحات التالية : ( ٤ درجات )**

- ١- البيئة الطبيعية : كل ما يحيط بالإنسان من ظاهرات حية وغير حية وليس للإنسان أي دخل في وجودها وتتمثل في بنية الأرض والمناخ والنبات الطبيعي والحيوانات . ص ١٥
- ٢- الموقع النسبي : موقع الدولة بالنسبة لليابس والماء . ص ٢٠
- ٣- الجبال : كل مرتفع من الأرض وله قمة لا يقل ارتفاعها عن ١٠٠٠ متر . ص ٢٤
- ٤- العلاقات الاقتصادية الدولية : الانفتاح العالمي على التجارة الدولية وتبادل السلع والخدمات وانسياب رؤوس الأموال . ص ٩٩



درجة السؤال الثالث  
.....  
انتهت الأسئلة  
مع تمنياتنا لكم بالتوفيق