



نموذج الإجابة

امتحان نهاية الفترة الدراسية الأولى
للفصل الثامن المتوسط
العام الدراسي
٢٠٢١ - ٢٠٢٢ م

وزارة التربية
الإدارة العامة لمنطقة الأحمدية التعليمية
التوجيه الفني للاجتماعيات

المجال الدراسي: الاجتماعيات
(دولة الكويت والعالم الإسلامي)
الزمن: ساعة وخمس وأربعون دقيقة
عدد الأوراق: ٤

kykuwait



أجب على جميع الأسئلة
السؤال الأول: موضوعي يتكون من (أ- ب- ج) (١٥ نقطة × درجة واحدة = ١٥ درجة)

أجب على جميع الأسئلة

(أ) اختر البديل المناسب من بين البدائل التي تلي كل عبارة وضع تحتها خط:

١. قامت الدولة الإسلامية على يد سيدنا محمد ﷺ في: ص ١٧
أ- المدينة المنورة ب- مكة المكرمة ج- الرياض د- جدة
٢. النبات الذي يصنع منه الحبال والأحذية والحقائب والأقمشة الخشنة يسمى: ص ٧٣
أ- قصب السكر ب- الجوت ج- المطاط د- القطن
٣. أصغر دول العالم الإسلامي مساحة: ص ٥٢
أ- كازاخستان ب- المالديف ج- ألبانيا د- بنغلادش
٤. لقب سمو أمير البلاد الراحل الشيخ صباح الأحمد الصباح بقائد العمل الإنساني في ٩ سبتمبر عام: ص ٢٤
أ- ٢٠١١ م ب- ٢٠١٢ م ج- ٢٠١٣ م د- ٢٠١٤ م
٥. أنشأ ديوان الماء في مدينة تسمى: ص ٢٧
أ- بخارى ب- القاهرة ج- مرو د- بغداد

(ب) أكمل العبارات التالية بما يناسبها مما درست:

١. الداعية الكويتي البارز في العمل الإنساني والخيري اسمه عبدالرحمن السميّط ص ٢٤
٢. انطلقت الحضارة الإسلامية من شبه الجزيرة العربية إلى بقاع الأرض في القرن الثامن الميلادي ص ١٧
٣. المكان الذي اجتمع فيه المسلمون بعد وفاة الرسول ﷺ لاختيار خليفة لهم، يُسمّى سقيفة بني ساعدة ص ٢٥
٤. الدولة الإسلامية الأكثر إنتاجاً لمعدن الذهب لعام ٢٠١٤ م تسمى أوزباكستان ص ٧٠
٥. تم افتتاح المسجد الكبير في دولة الكويت في عهد الشيخ جابر الأحمد الصباح ص ٣١

(ج) اكتب المفاهيم أو المصطلحات الدالة على العبارات التالية:


م	المفهوم	العبارة
١	أهل الذمة ص ٣٦	هم النصارى واليهود الذين ظلوا على دينهم مع دفع الجزية.
٢	الزكاة ص ٢٨	ركن من أركان الإسلام يخرجها المسلمون الأغنياء للمستحقين الفقراء.
٣	الحضارة ص ١٨	كل ما يطرأ على المجتمع من تقدم وتطور ورقي في الجانب المادي أو الجانب الروحي.
٤	الوادي ص ٥٣	حوض أو منخفض طبيعي على سطح الأرض.
٥	الغلات النقدية ص ٧٣	محاصيل تزرع من أجل التصدير.

تابع نموذج إجابة امتحان نهاية الفترة الدراسية الأولى - للصف الثامن - اجتماعيات (دولة الكويت والعالم الإسلامي) للعام الدراسي (2021-2022م)

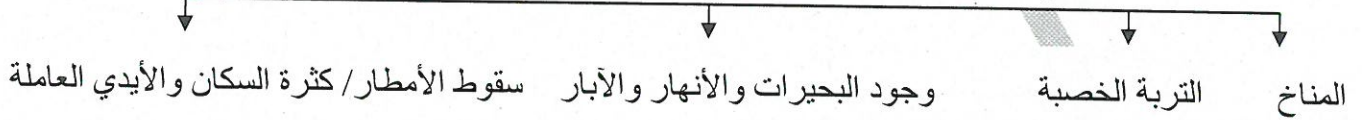
السؤال الثاني: موضوعي يتكون من (أ - ب - ج) (١٥ نقطة × درجة واحدة = ١٥ درجة)

(أ) أكمل المخططات السهمية التالية بما يناسبها مما درست:

١. المناصب الإدارية التي ظهرت في الدولة الإسلامية: ص ٢٥



٢. العوامل التي ساعدت على زيادة الإنتاج الزراعي في دول العالم الإسلامي: ص ٧٢

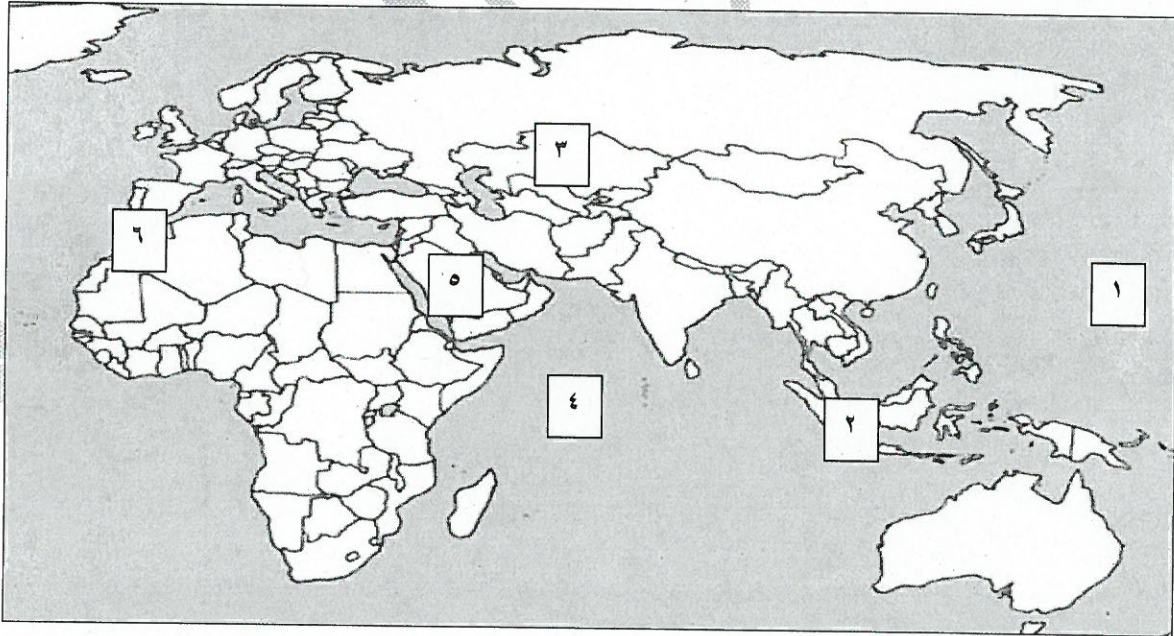


(ب) صنف أسماء العلماء حسب الجدول الذي يليها:

(الجاحظ - الكندي - أبو بكر الرازي - الإدريسي - البيروني)

نزهة المشتاق في اختراق الآفاق	ألف كتاباً في الهندسة	الحيوان	الصيدلة في الطب	الحاوي في الطب
الإدريسي ص ٤٢	الكندي ص ٤٠	الجاحظ ص ٤٠	البيروني ص ١٨	أبو بكر الرازي ص ٤٠

(ج) لاحظ خريطة العالم الإسلامي، وكتب الأرقام الدالة على العبارات التي تليها:



- المسجد الحرام يوجد في دولة إسلامية يمثلها على الخريطة الرقم (٥) ص ٣٨
- الدولة الإسلامية التي تحتل المركز الثاني على مستوى العالم في الإنتاج البحري لعام ٢٠١٤م تمثلها على الخريطة الرقم (٢) ص ٦٨+٥١+٧٤
- أكبر دولة إسلامية من حيث المساحة يمثلها على الخريطة الرقم (٣) ص ٥٢+٦٨+٧٤+٥١
- المحيط الهندي يمثل على الخريطة الرقم (٤) ص ٧٤

السؤال الثالث: مقالي يتكون من (أ- ب - ج) (١٥ نقطة × درجة واحدة = ١٥ درجة)

(أ) عرف المفاهيم والمصطلحات التالية :

١. الفسيفساء: مجموعة من مكعبات الزجاج الملون والشفاف وقطع من الحجر الأبيض والأسود وكذلك القطع الخزفية تثبت فوق طبقة من الجص والإسمنت بشكل منظم لتعطي منظرًا جميلاً متناسقاً في اللون والشكل. ص ٣٠
٢. التضاريس: أشكال سطح الأرض ص ٥٣
٣. المساجد: تقام فيها الصلوات والخطبة والتعليم الديني ص ٣٢
٤. الوقف الإسلامي: صدقة جارية يوقفها المرء في حياته لوجوه الخير والبر ويكون أجرها ونفعها ما دامت باقية ويستمر الأجر حتى بعد وفاته. ص ٢٩
٥. احتياطي النفط: هو كمية النفط المخزونة في باطن الأرض ولم تستخرج بعد ص ٦٨

(ب) اكتب في كل ممّا يلي:

(مطلوب النقاط الثلاث)

١. أسس الحضارة الإسلامية. ص ٢٠

- الدين الإسلامي

- اللغة العربية

- الحضارات الأخرى

٢. أهم المحاصيل الزراعية في العالم الإسلامي. ص ٧٢ (مطلوب النقطتين).

- الحبوب

- الغلات النقدية

(ج) علل لما يلي :

١. تسمية الحضارة الإسلامية بهذا الاسم. ص ١٨

تمثل اللغة العربية وسيلة للتعبير عنها والذي يمثل روحها وجوهرها الدين الإسلامي.

٢. ازدهار العلم وظهور العلماء في الحضارة الإسلامية. ص ٣٧ (يكتفي بنقطتين)

- تشجيع العلماء ورعاية وتمويل القيادات السياسية لهم من خلفاء وملوك وسلطين وأمراء / التنافس العلمي

بين الدول الإسلامية / حركة التعريب الترجمة للكتب القديمة اليونانية والهندية والفارسية.

- الرخاء الاقتصادي.

٣. لقيت التجارة تشجيعاً كبيراً في الحضارة الإسلامية. ص ٢٨ (يكتفي بنقطة واحدة)

- دورها في التبادل التجاري مع المناطق المجاورة / أسهمت في نشر الإسلام / يمتلك موقع العالم الإسلامي

إستراتيجي لخطوط التجارة البرية والبحرية ممّا انعكس على صادراته ووارداته.

٤. اهتمام الدولة الإسلامية بالصناعة اهتماماً كبيراً. ص ٢٧

استثمار الموارد الطبيعية المتوفرة فيها

السؤال الرابع: مقالي يتكون من (أ- ب - ج) (١٥ نقطة × درجة واحدة = ١٥ درجة)

(أ) فرق بين كل من:

١. موقع العالم الإسلامي بالنسبة لخطوط الطول	موقع العالم الإسلامي بالنسبة لدوائر العرض
بين خطي طول ١٨ غرباً إلى ١٤١ شرقاً	بين دائرتي عرض ١٣ جنوب خط الاستواء، و ٥٥ شمال خط الاستواء ص ٥٢
٢. العلوم العقلية	العلوم النقلية
رياضيات / فيزياء / كيمياء / الفلسفة / الفلك (نقطة واحدة فقط)	علوم الدين من حديث وفقه وتفسير وتاريخ (نقطة واحدة فقط) ص ١٧
٣. المصادر الطبيعية لإنتاج الأسماك في دول العالم الإسلامي	المصادر غير الطبيعية لإنتاج الأسماك في دول العالم الإسلامي
- المحيطات والبحار - المياه العذبة (نقطة واحدة) ص ١٧	الاستزراع السمكي ص ٧٤

(ب) لاحظ الجدول الذي أمامك ثم أجب عن ما يلي: ص ٧٠

الدولة	نسبة إنتاج اليورانيوم في دول العالم الإسلامي لعام ٢٠١٤م
كازاخستان	٤١%
أوزباكستان	٤,٣%
النيجر	٧,٢%
باكستان	٠,١%

١. استخراج حقيقة من الجدول.

متروك للطالب

٢. ما أسم أقل دولة منتجة لليورانيوم حسب

الجدول؟ باكستان

٣. حول نسبة إنتاج كازاخستان من اليورانيوم إلى

دائرة بيانية وظللها.



(ج) دلل على صحة العبارات التالية

١. بذل المسلمون جهوداً حثيئةً في تطوير الزراعة. ص ٢٦

- شق القنوات المائية والترع
- إقامة السدود / تنظيم وسائل الري

٢. تضمّ قارة أوروبا دولتين إسلاميتين.
- ألبانيا - البوسنة والهرسك.

٣. للمظاهر العمرانية في الدولة الإسلامية مميزات. ص ٣٠

- الأسوار - القباب - المآذن
- المنابر - الزخارف.

(يكتفي بنقطتين)

(يكتفي بنقطتين)

ykuwait_3

