

# دليل اختبار مقرر تاريخ الكويت



إعداد المعلمات

أ. منى الصباغ أ. إيمان العمران أ. رؤى العمر

مديرة المدرسة  
أ. منال المطيري

ملاحظة: المذكرة لا تغني عن الكتاب المدرسي



## الفصل الأول الموقع والمساحة

١- فسرمفهوم القيمة الفعلية ( ص١٩ )

\*

٢- حدد الموقع النسبي لدولة الكويت

\*

\*

٣- حدد الدول التي تحد دولة الكويت

\*

\*

٤- حدد الموقع الفلكي لدولة الكويت

\*

\*

٥- اذكر مساحة دولة الكويت

\*

٦- دلل على أهمية الموقع الاستراتيجي لدولة الكويت بين دول العالم

٦- اذكر خصائص الموقع الجغرافي لدولة الكويت

٦- علل أهمية موقع الكويت في الشمال الغربي للخليج العربي

\*

\*

\*

\*

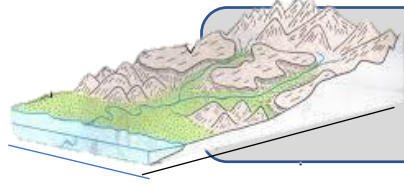
\*

\*

٧- فسرمفهوم الترانزيت

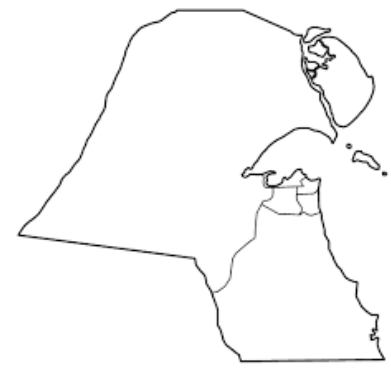
\*

ملاحظة: المذكرة لا تغني عن الكتاب المدرسي



## الفصل الأول التضاريس

١- دلي يتمع سطح دولة الكويت بتنوع التضاريس



\*  
\*  
\*  
\*  
\*

٢- قارن بين التلال الشمالية والجنوبية لدولة الكويت

التلال الجنوبية	التلال الشمالية	موقع التلال
		اعلى ارتفاع
* * * *	* *	امثلة

٣- اذكراهم المظاهر التضاريسية بدولة الكويت التي تأخذ الشكل الطولي وتمتد باتجاه شمالي جنوبي ويصل ارتفاعها حوالي ١٣٧ م فوق سطح البحر

\*



ملاحظة: المذكورة لا تغني عن الكتاب المدرسي





## الفصل الأول التضاريس

٤- دلت على وجود حدود طبيعية تفصل دولة الكويت عن جمهورية العراق  
٤- اذكر الوادي الفاصل بين دولة الكويت والجمهورية العراقية من جهة الغرب

\*

٥- اذكر السهل الموازي للخليج العربي ويتخلل تلال وارة وبرقان والقرين

\*

٦- قارن بين السهول الشمالية والجنوبية لدولة الكويت

السهول الجنوبية	السهول الغربية	السهول الشمالية	موقع التلال
			امثلة



ملاحظة: المذكرة لا تغني عن الكتاب المدرسي





## الفصل الأول التضاريس

٧- اذكر السهل الذي ينحدر من جنوب الجون نحو الجنوب ويتراوح منسوبه بين الصفر عند الساحل و ١٠٠ م في الداخل \*

٧- اذكر اسم المنطقة التضاريسية التي تحتوي على سهول وتلال وتم اكتشاف النفط بها \*

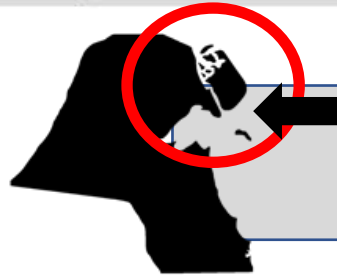
٨- اذكر السهل الذي يتميز بوجود ارض منبسطة وينحدر من في شمال والشمال الشرقي دولة الكويت \*

٩- دلل على وجود أراضي صالحة للزراعة بدولة الكويت \*

١٠- علل وجود مناطق صالحة للزراعة بدولة الكويت \*

١١- دلل على ان جيولوجية دولة الكويت جزء من الكتلة العربية \*

ملاحظة: المذكرة لا تغني عن الكتاب المدرسي



## الفصل الأول الجزر

١- دلل على ان دولة الكويت تنتشر في مياها الإقليمية عدة جزر تختلف في تكوينها وخصائصها ومساحاتها



\*

٢- اذكر اكبر الجزر الكويتية مساحة


\*

٣- ارسم دائرة بيانية توضح مساحة جزيرة بوبيان ٥%

\*

٤- علل اختفاء جزيرة الشويخ

\*



ملاحظة: المذكرة لا تغني عن الكتاب المدرسي



## الفصل الأول الجزر

٥- دلة على وجود صراع بين الكويت والعراق على جزر الكويتية

\*

٦- دلة على وجود أهمية تاريخية للجزر

\*

٧- اذكر الاسم القديم لجزيرة فيلكا

\*

٨- اذكر المميزات الجغرافية للجزر بدولة الكويت

\*

\*

\*

٩- علل لم تعد جزيرة فيلكا مأهولة بالسكان بعد عام ١٩٩٠ م

\*

ملاحظة: المذكورة لا تغني عن الكتاب المدرسي



## الفصل الأول المناخ

١- اذكر المميزات المناخية لدولة الكويت

\*  
\*  
\*

٢- دلل على أن منطقة الكويت تصنف من المناطق المتميزة جغرافيا ومناخيا بمنطقة الخليج

\*

٣- علل الموارد المائية بدولة الكويت شحيحة

٣- علل يعاني سكان دولة الكويت من قلة مصادر المياه

\*

٤- دلل على وجود مناطق في الكويت تحتوي على مياه صالحة للاستخدام الآدمي

\*

٥- فسرمفهوم الرياح الشمالية الغربية (ص٣٢)

\*

٦- اكمل العبارة التالية بما يناسبها :

- يطلق على الرياح الجافة القادمة من المرتفع السيبيري من قارة آسيا اسم -----

\*

٧- فسرمفهوم الرياح الجنوبية الشرقية (ص٣٢)

\*

٨- اكمل العبارة التالية بما يناسبها :

- يطلق على الرياح الدافئة الرطبة القادمة من المنخفض السوداني اسم -----

\*

٩- اكمل العبارة التالية بما يناسبها :

- يطلق على الرياح الجنوبية الشرقية اسم -----

\*

ملاحظة: المذكرة لا تغني عن الكتاب المدرسي





## الفصل الأول المناخ

١٠- فسر مفهوم رياح الشمالية الشرقية ( السموم )

\*

١١- اكمل العبارة التالية بما يناسبها : ي

١\_ تطلق على الرياح الشمالية الشرقية الحارة الجافة المحملة بالأتربة اسم .....

٢- يطلق على الرياح الحارة الجافة التي تثير الغبار اسم .....

١٢- فسر مفهوم العواصف الترابية ( السرايات )

\*

١٣- اكمل العبارة التالية بما يناسبها :

يطلق على العواصف الرعدية المحملة بالأمطار تهب في أواخر الربيع وأوائل الصيف اسم .....

١٤- اذكر وجه الشبه بين رياح السرايات ورياح الكوس

\*

ملاحظة: المذكرة لا تغني عن الكتاب المدرسي



## الفصل الأول المنام



### ١٥- قارن بين الرياح الشمالية الغربية والجنوبية الشرقية

 الرياح الجنوبية الشرقية	 الرياح الشمالية الغربية	أوجه المقارنة
		القارة
		فصل الصيف
		فصل الشتاء

### ١٦- قارن بين رياح الكوس والسموم

 رياح السموم	 رياح الكوس	أوجه المقارنة
		اتجاه الرياح
		فصل الصيف
		فصل الشتاء

### ١٧- فرق بين رياح السرايات والكوس

 رياح الكوس	 رياح السرايات

ملاحظة: المذكرة لا تغني عن الكتاب المدرسي



## الفصل الأول السكان

١- اذكر العناصر السياسية التي افتقدتها منطقة الكويت قبل نزول العتوب؟

\*

٢- دلي على وجود البشري في الكويت لأكثر من أربعة آلاف سنة قبل الميلاد

\*

٣- فسر مفهوم حضارة العبيد

\*

٤- دلي على اقتصر المعلومات السكانية في دولة الكويت منذ عام ١٩٥٧ م؟

\*

٥- اكمل العبارة التالية بما يناسبها:

أ- اجري أول تعداد سكاني لدولة الكويت في عهد الشيخ عبدالله السالم عام -----

\*

ب- الدائرة الحكومية التي جرى بها أول تعداد سكاني بدولة الكويت عام ١٩٥٧ م

تسمى -----

\*

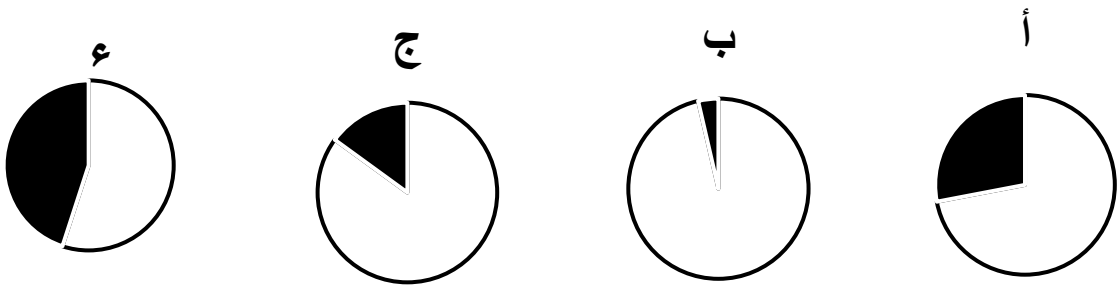
ملاحظة: المذكرة لا تغني عن الكتاب المدرسي



## الفصل الأول السكان

٦- اختار الإجابة الصحيحة من بين البدائل:

أ- الجزء المضلل في الدائرة البيانية التي تمثل نسبة الغير كويتيين  
( الوافدين ) بدولة الكويت حتى عام ١٩٩٠ م .....



٧- علل قلة عدد الوافدين بعد عام ١٩٩٠ م؟

\*

٨- اكمل العبارة التالية بالتكملة المناسبة:

أ- بلغ إجمالي عدد سكان دولة الكويت حتى عام ١٩٩٠ م حوالي .....

ملاحظة: المذكرة لا تغني عن الكتاب المدرسي



## الفصل الأول المعالم الحضارية

١- دلي دور الحضاري الذي لعبته منطقة الكويت ؟

\*

\*

٢- اكمل العبارة التالية بما يناسبها :

- أ- يقع تل الصليبخات جنوباً محاذي .....
- ب- الجزيرة التي تحتوي على آثار حضارية تسمى .....
- ج- تقع منطقتي كاظمة والصبية الحضاريتين في الكويت .....
- د- عثرت الاكتشافات الأثرية على قرى سكنية في منطقتي ..... و.....
- هـ- عثر على منطقة الآثار القديمة في منطقة في شمال الكويت تسمى .....
- و- المنطقة التي عثر بها على مباني ترجع تسمى للفترة الإسلامية تسمى .....
- ي- عثر على مستوطنات ترجع تسمى للفترة الإسلامية في منطقتي ..... و.....

٣- اختار الإجابة الصحيحة من بين البدائل:

أ- المنطقة التي لها قيمة أثرية وبها أقدم الحفريات تسمى -----

( فيلكا - برقان - الصبية - وارة )

ب- تحتضن منطقة العبيد آثار مستقلة عن حضارة بلاد الرافدين من حوالي

( ٥٠٠ : ٥٤٠ قبل الميلاد - ٥٥٠ : ٥٤٠ قبل الميلاد - ٥٤٠ : ٤٥٠ قبل الميلاد )  
( الميلاد )

ج- بدأ التنقيب الأثري في الكويت عام :

( ١٩٨٥ م - ١٨٩٥ م - ١٩٥٨ م - ١٥٨٩ م )

د- ترجع الآثار في جزيرة فيلكا إلى العصر:

( اليوناني - الفرعوني - البرتغالي - الدلمونية )

هـ- حدثت معركة ذات السلاسل عام :

( ١٢ هـ - ١٤ هـ - ١٣ هـ - ٢١ هـ )



ملاحظة: المذكرة لا تغني عن الكتاب المدرسي



## الفصل الأول المعالم الحضارية



٤- دلل على وجود أنواع من الأثار في منطقة الصبية ؟

\*

٥- اذكر أنواع الأثار التي وجدت في جزيرة أم النمل ؟

٦- دلل على وجود أثار ترجع للعصور القديمة في جزيرة فيلكا؟

\*

٧- علل لعبت جزيرة فيلكا دور رئيسي في منطقة الخليج العربي؟

\*

٨- دلل على وظيفة الاختام قديما ؟

\*

٩- دلل على أن منطقة كاظمة لها دور في انتشار الإسلام ؟

\*

١٠- دلل على أن منطقة كاظمة تضم أثار إسلامية ؟

\*

١١- علل تعدد منطقة الكويت حلقة وصل بين الهند وبلاد الرافدين ؟

\*

ملاحظة: المذكرة لا تغني عن الكتاب المدرسي



## الفصل الثاني نشأة الكويت



(١) أكمل العبارة التالية بما يناسبها :

- ١- يطلق على الحصن او القلعة قديما اسم .....
- ٢- يطلق على الاسم شائع التل الصغير في شبة الجزيرة العربية قديما اسم .....
- ٣- اطلقت كلمة القرين على مرتفع بهيته القريب من قصر .....
- ٤- نشأت الكويت في عام .....
- ٥- تقع منطقة الكويت تحت حماية قبيلة .....
- ٦- أول حكام دولة الكويت هو الشيخ .....
- ٧- المنطقة الت نزح منها العتوب تسمى .....
- ٨- يطلق على القبائل كثيرة الترحال اسم .....

(٢) فسر مفهوم العتوب .

ملاحظة: المذكرة لا تغني عن الكتاب المدرسي



## الفصل الثاني نشأة الكويت



(٣) علل : هاجر العتوب من موطنهم الأصلي الهدار واستقروا في منطقة الفريجة في قطر؟

(٤) علل : اضطرت قبائل العتوب للهجرة من منطقة الفريجة؟

(٥) علل : اختيار الشيخ صباح الأول حاكماً للكويت؟

ملاحظة: المذكرة لا تغني عن الكتاب المدرسي





## الفصل الثاني نشأة الكويت



(٦) أكمل المخطط السهمي :

تقسيم المهام بين  
الأسر الثلاث

ال جلاهمة

.....

ال خليفة

.....

ال صباح

.....

(٧) رتب مراحل تأسيس دولة الكويت :

- ١.
- ٢.
- ٣.

(٨) دلل على أن منطقة الكويت تمتعت بالأمن والاستقرار منذ نشأتها .

\*

(٩) اذكر أهم إنجازات الشيخ صباح الأول .

- ١-
- ٢-
- ٣-
- ٤-

(١٠) أكمل العبارة التالية بما يناسبها :

- ١- الحاكم الثاني لدولة الكويت هو الشيخ .....
- ٢- وقعت معركة الرقة عام .....
- ٣- تم بناء السور الأول للكويت عام .....
- ٤- تم بناء السور الثاني لدولة الكويت عام .....
- ٥- يطلق على موظف شركة الهند الشرقية الذي شار إلى وجود ثلاثة عوائل بالكويت هو .....

ملاحظة: المذكرة لا تغني عن الكتاب المدرسي



## الفصل الثاني نشأة الكويت



(١١) اكتب ما تعرفه عن معركة الرقة :

	اسم المعركة
	العام
	الموقع
	الاطراف
	السبب
	النتيجة

(١٢) علل بناء السور الأول للكويت ؟

\*

(١٣) اذكر أهم أعمال الشيخ جابر الأول .

\*

\*

\*

ملاحظة: المذكرة لا تغني عن الكتاب المدرسي



## الفصل الثاني نشأة الكويت



١٤) فند صحة العبارة التالية :  
( لم تزدهر الكويت اقتصاديا فترة حكم الشيخ جابر الأول )

\*

١٥) اذكراهم الاحداث في عهد الشيخ صباح الثاني .

\*

\*

١٦) دلل على صحة العبارة التالية : ( كان للشيخ عبدالله بن صباح دور في  
حملة مدحت باشا عام ١٨٧١ م )

\*

ملاحظة: المذكرة لا تغني عن الكتاب المدرسي



## الفصل الثاني نشأة الكويت



(١٧) أكمل العبارة بما يناسبها :

- ١- الحاكم السادس لدولة الكويت هو الشيخ .....
- ٢- تولى الشيخ جراح بن صباح خلال فترة حكم الشيخ محمد .....
- ٣- تولى الشيخ مبارك بن صباح خلال فترة حكم الشيخ محمد .....
- ٤- استقرت أسرة الأمير عبدالرحمن ال سعود في الكويت عام .....

(١٨) فند صحة العبارة التالية :

( لم يكن لحكام الكويت أي رأي في اتخاذ قرارات ذات أبعاد اقتصادية ساعدت على النمو التجاري والاقتصادي للكويت )



(١٩) اذكر عوامل نمو وازدهار دولة الكويت تحت حكم ال صباح .

ملاحظة: المذكرة لا تغني عن الكتاب المدرسي



## الفصل الثالث

### التنافس الأوروبي على منطقة الخليج العربي

(١) اذكر دوافع الدول الاستعمارية الأوروبية في السيطرة على منطقة الخليج العربي

\*

\*

\*

\*

(٢) علل اعتبار الاستعمار البرتغالي من أسوأ النظم الاستعمارية ؟

\*

(٣) دلل تعرض الوجود البرتغالي في المنطقة للانحيار التدريجي ؟

\*

(٤) دلل مظاهر الوجود الهولندي في منطقة الخليج العربي .

\*

(٥) علل انحيار النفوذ الهولندية في منطقة الخليج العربي .

\*

ملاحظة: المذكرة لا تغني عن الكتاب المدرسي



الفصل الثالث  
التنافس الأوروبي على منطقة  
الخليج العربي



(٦) اذكر النتائج المترتبة على :

(١) انهيار النفوذ الهولندي في منطقة الخليج )

\*

(٧) علل اهتمام بريطانيا بمنطقة الخليج العربي ؟

\*



(٨) علل نقل بريطانيا مركز البريد والتجارة من البصرة الى الكويت عام ١٧٧٥م ؟

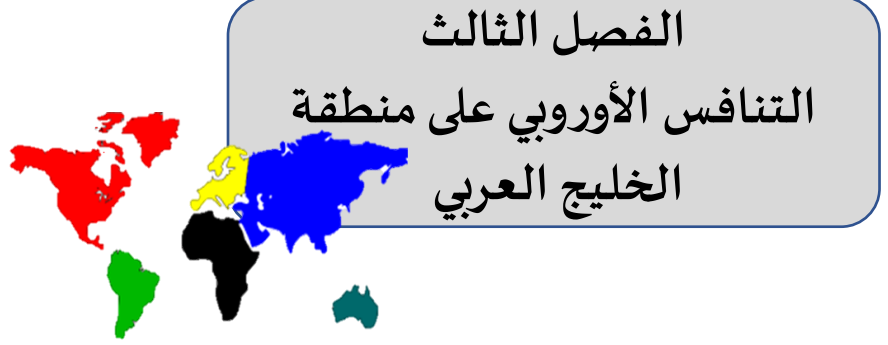
\*

(٩) علل نقل بريطانيا مركز البريد والتجارة من البصرة الى الكويت مرة أخرى ١٧٩٣ ؟

\*



ملاحظة: المذكرة لا تغني عن الكتاب المدرسي



### الفصل الثالث

## التنافس الأوروبي على منطقة الخليج العربي

١٠- دال على أن علاقة الكويت بالدولة العثمانية هي علاقة اسمية

\*  
\*  
\*  
\*

١١- اذكر الأسس الفرمان العثماني لدولة الكويت .

### فرمان الدولة العثمانية ( مدحت باشا )

.....	.....	.....	.....
.....	.....	.....	.....
.....	.....	.....	.....

ملاحظة: المذكرة لا تغني عن الكتاب المدرسي



## الفصل الرابع

### الحاكم السابع الشيخ مبارك الكبير



١- اكمل العبارة بما يناسبها:

١- تولى الشيخ مبارك الصباح الحكم عام .....

٢. اول مدرسة نظامية أنشأت في دولة الكويت في عهد الشيخ مبارك .....

٣. اول مستشفى تأسس في دولة الكويت عام ١٩١١ م .....

٤. المنطقة التي تم استقبال البعثة الألمانية عام ١٩٠٠ م في دولة الكويت هي .....

٥. يطلق على المشروع الذي ارادت الدولة العثمانية اقامته في الكويت هو .....

٦. عقدت اتفاقية الحماية بين الكويت وبريطانيا عام .....

٧. استمر حكم الشيخ مبارك الصباح قرابة .....

٨. توفي الشيخ مبارك الصباح عام .....

٩. يطلق على مشروع المانيا الذي حاولت إقامته في دولة الكويت اسم .....







## الفصل الرابع

### الحاكم السابع الشيخ مبارك الكبير



١- دلل على أن فترة حكم الشيخ مبارك الصباح تميز بالأمن والأمان وازدهار التجارة .

\*

٢- دلل على اهتمام الشيخ مبارك الصباح بجانب الصحة في دولة الكويت.

\*

٣. دلل على اهتمام الشيخ مبارك الصباح بجانب التعليم في دولة الكويت.

\*

٤. دلل على اهتمام الشيخ مبارك الصباح على تطور الأوضاع الداخلية في دولة الكويت.

\*

٥. دلل على مساندة الشيخ مبارك الصباح الأمير عبدالعزيز آل سعود لقيام الدولة السعودية عام ١٩٠٢ م

\*

٦. من قائل هذه العبارة وما المناسبة :

( لقد قاومت هذا طيلة عمري وأنت تطالبني بالموافقة على ذلك )

\*من القائل

\* المناسبة

ملاحظة: المذكرة لا تغني عن الكتاب المدرسي



## الفصل الرابع الحاكم السابع الشيخ مبارك الكبير

٣- علل لما يأتي:

١. رفض الشيخ مبارك الصباح كافة المشاريع التجارية الروسية في الكويت \*

٢. رفض الشيخ مبارك الصباح المشروع التجاري الألماني في دولة الكويت \*

٣. رفض الشيخ مبارك الصباح مشروع الدولة المانيا والدولة العثمانية \*

٤. عقد الشيخ مبارك الصباح اتفاقية الحماية مع بريطانيا عام ١٨٩٩ م \*

٥. حرصت بريطانيا على ان تبقي اتفاقية الحماية بشكل سري \*

٦. اهتمت بريطانيا في فرض سيطرتها على الخليج \*

٧- دلل على نتائج تقرب بريطانيا من الشيخ مبارك \*

٨- اذكري إيجابيات وسلبيات اتفاقية الحماية البريطانية مع الكويت \*

ملاحظة: المذكرة لا تغني عن الكتاب المدرسي



## الفصل الرابع الحاكم السابع الشيخ مبارك الكبير

١. اذكر اهم مشاريع الروس في دولة الكويت.

.١

.٢

.٣

٢. اذكر اهم مشاريع المانيا المقترحة في دولة الكويت.

\*

٣. ددل على أهمية اتفاقية الحماية بين الكويت وبريطانيا.

\*

٤. اذكر بنود اتفاقية الحماية ١٨٩٩ م.

.١

.٢

٥. ددل على دور الشيخ مبارك الصباح في قيام الدولة السعودية الثالثة عام ١٩٠٢ م.

\*

٦. اذكر اهم المعارك التي قادها الشيخ مبارك الصباح.

\*

\*

٧. ددل على استقلالية سياسة الشيخ مبارك الصباح الخارجية دولة الكويت الخارجية

\*

٨. اذكر اهم التطورات الداخلية في الكويت في عهد الشيخ مبارك

\*

ملاحظة: المذكرة لا تغني عن الكتاب المدرسي



## الفصل الرابع الحاكم السابع الشيخ مبارك الكبير



١٠- فسر ما يلي:

١. مشروع كابنيست.

\*

١١- فرق بين:

١. سياسة الدولة العثمانية قبل معاهدة الحماية ١٨٩٩ م وبعد معاهدة الحماية ١٨٩٩ م مع دولة الكويت.

يعد معاهدة الحماية ١٨٩٩ م	قبل معاهدة الحماية ١٨٩٩ م
١- .....	.....
٢- .....	.....
٣- .....	.....

ملاحظة: المذكرة لا تغني عن الكتاب المدرسي



مستعددين



وزارة التربية

الإدارة العامة لمنطقة حولي التعليمية  
مدرسة ماريتا القطيف الثانوية بنات



## خرائط ذهنية منهج تاريخ الكويت



مع تمنياتنا للجميع بالتوفيق والنجاح

ملاحظة: المذكرة لا تغني عن الكتاب المدرسي