



اختبار نهاية الفترة الدراسية الأولى

العام الدراسي 2022/2021م

الصف الثامن

نموذج إجابة اختبار مادة

الاجتماعيات

الثلاثاء - 4 / 1 / 2022



وزارة التربية

الإدارة العامة لمنطقة حولي التعليمية

التوجيه الفني للاجتماعيات

امتحان نهاية الفترة الدراسية الأولى

مقرر/ دولة الكويت والعالم الإسلامي

للسف الثامن المتوسط

العام الدراسي: ٢٠٢٢/٢٠٢١م

الزمن: ساعة و ٤٥ دقيقة

عدد الصفحات: (٥)

السؤال الأول الموضوعي يتكون من (أ - ب - ج - د - هـ) : (٣٠ درجة لكل نقطة درجة واحدة)

(أ) ظل الخيار الصحيح من بين الخيارات التي تلي كل عبارة :

١- أشهر علماء الطب ألف كتاب الحاوي في الطب : ص ٤٠

البكري	ابن الهيثم	الرازي	الجاحظ
--------	------------	--------	--------

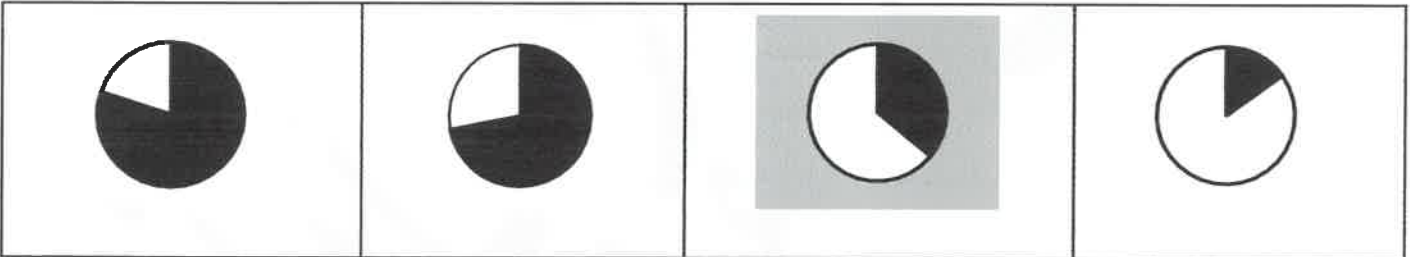
٢- المدينة التي انطلقت منها الحضارة الإسلامية في القرن الثامن الميلادي : ص ١٧

دمشق	بخارى	بغداد	المدينة المنورة
------	-------	-------	-----------------

٣- العام الذي توفي فيه الرسول ﷺ : ص ٢٥

١١هـ	١٢هـ	١٣هـ	١٤هـ
------	------	------	------

٤- نسبة ما ينتج العالم الإسلامي من الغاز الطبيعي يمثله الجزء المظلل من الدائرة البيانية : ص ٦٧



٥- الخليفة الأموي الذي ضم حجرات الرسول ﷺ للمسجد النبوي : ص ٣٣

يزيد بن الوليد	عبدالمك بن مروان	الوليد بن عبدالمك	مروان بن الحكم
----------------	------------------	-------------------	----------------

٦- الخليفة الراشدي الذي استحدث منصب المحتسب : ص ٢٥

أبو بكر الصديق	عمر بن الخطاب	عثمان بن عفان	علي بن أبي طالب
----------------	---------------	---------------	-----------------

(ب) صنف المساجد التالية حسب المنطقة التي تقع فيها : ص ٣٢ - ٣٣

جامع قرطبة - المسجد الأقصى - مسجد السلطان أحمد - المسجد الأموي - المسجد النبوي - الجامع الأزهر

المدينة المنورة	دمشق	القاهرة	اسطنبول	الأندلس	فلسطين
<u>المسجد النبوي</u>	<u>المسجد الأموي</u>	<u>الجامع الأزهر</u>	<u>مسجد السلطان أحمد</u>	<u>جامع قرطبة</u>	<u>المسجد الأقصى</u>

(ج) اكتب المفاهيم أو المصطلحات الدالة على العبارات التالية :

١- <u>الغلات النقدية</u>	المحاصيل التي تزرع من أجل التصدير مثل (القطن - الجوت -المطاط الطبيعي). ص ٧٣
٢- <u>المساجد</u>	تقام فيها الصلوات وخطبة الجمعة والتعليم الديني . ص ٣٢
٣- <u>احتياطي النفط</u>	كمية النفط المخزونة في باطن الأرض ولم تستخرج بعد . ص ٦٨
٤- <u>الوادي</u>	حوض أو منخفض طبيعي على سطح الأرض . ص ٥٣
٥- <u>الحضارة</u>	كل ما يطرأ على المجتمع من تقدم وتطور ورقي سواء من الجانب المادي أو الجانب الروحي. ص ١٨
٦- <u>أهل الذمة</u>	هم النصارى واليهود الذين ظلوا على دينهم مع دفع الجزية . ص ٣٦

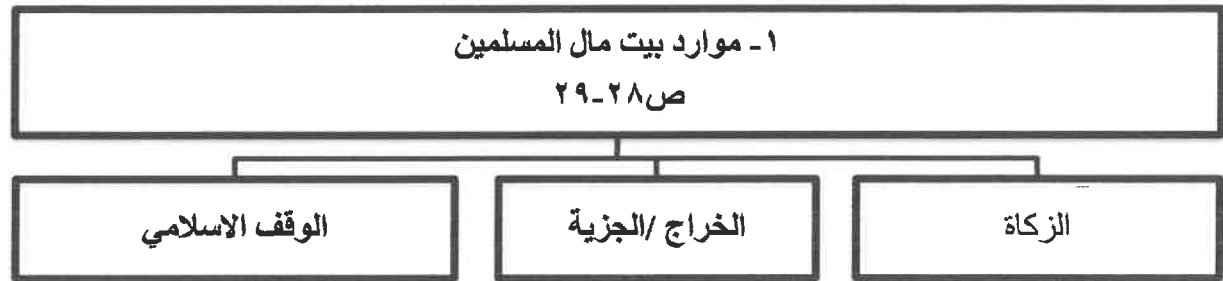
(د) اكمل العبارات التالية بما يناسبها :

- ١- الشيخ الذي افتتح المسجد الكبير في عام ١٩٨٦م هو الشيخ جابر الاحمد الصباح رحمه الله ص ٣١
- ٢- الكاميرا كلمة اشتقت من كلمة أخرى هي قمرية ص ٣٩
- ٣- أصغر الدول الإسلامية مساحة اسمها جمهورية المالديف ص ٥٢
- ٤- السقيفة التي اجتمع فيها المسلمون لاختيار خليفة رسول الله ﷺ اسمها بني ساعدة ص ٢٥
- ٥- المركز العلمي الإسلامي في مدينة بغداد اسمه بيت الحكمة ص ٣٨
- ٦- الدولة الإسلامية الوحيدة في قاره أمريكا الجنوبية اسمها سورينام ص ٥١

ykwait_3



(هـ) اكمل المخططات السهمية التالية :



السؤال الثاني مقالي ويتكون من (أ - ب - ج - د)

(أ) فرق بين كل من : (أربع درجات)

السهول ص ٥٣	السهول ص ٥٣
أجزاء فسيحة من سطح الأرض تتميز باستوائها وقلة ارتفاعها .	هو كل قمة لا يقل ارتفاعها عن ١٠٠٠ متر تقريباً .
الأرابيسك ص ٢٧	الفسيفساء ص ٣٠
صناعان خشبية ، سميت بهذا الاسم نسبة إلى العرب .	مجموعة من مكعبات الزجاج الملون والشفاف وقطع من الحجر الأبيض والأسود وكذلك القطع الخزفية تثبت فوق طبقة من الجص أو الأسمنت بشكل منظم لتعطي منظرًا جميلاً متناسقاً في اللون والشكل

(ب) علل لما يلي : (أربع درجات)

١- ازدهار العلم وظهور العلماء في الدول الإسلامية . (يكتفى بنقطتين) ص ٣٧

* تشجيع العلماء ورعاية وتمويل القيادات السياسية لهم من خلفاء وملوك وسلطين وأمراء
* التنافس العلمي بين الدول الإسلامية

* حركة التعريب (الترجمة) للكتب القديمة اليونانية والهندية والفارسية وغيرها / * الرخاء الاقتصادي

٢- لقيت التجارة تشجيعاً كبيراً في الحضارة الإسلامية . (يكتفى بنقطتين) ص ٢٨

* لدورها الكبير في التبادل التجاري مع المناطق المجاورة / * الاسهام في نشر الدين الإسلامي .

* امتلاك العالم الإسلامي موقعاً استراتيجياً للعديد من الخطوط التجارية البرية والبحرية مما انعكس على ازهار صادراته ووارداته .

(ج) اقرأ الفقرة التالية ، ثم أجب عما يليها من أسئلة : (أربع درجات)

نشأ الشعب الكويتي على الحب والتراحم والعدل والتسامح والمساواة ، ومد يد العون سواءً للمسلمين أو غير المسلمين من خلال تأسيس المؤسسات والهيئات الخيرية مثل بيت الزكاة الكويتي ، الهيئة الخيرية الإسلامية العالمية . وبرزت العديد من الشخصيات في مجال العمل الخيري والإنساني وعلى قمة هذه الشخصيات الشيخ صباح الأحمد الصباح رحمه الله ، والداعية الدكتور عبدالرحمن السميطة رحمه الله .

١- ضع عنواناً مناسباً للفقرة السابقة .

* العمل الخيري والإنساني في دولة الكويت . (أو ما يراه المصحح مناسباً)

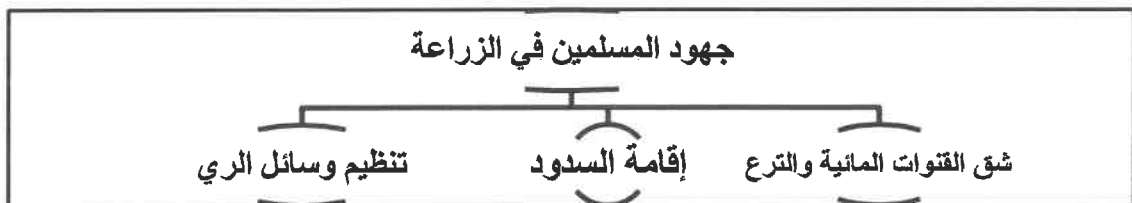
٢- استخرج من الفقرة السابقة المؤسسات و الهيئات الخيرية في دولة الكويت . ص ٢٤

* بيت الزكاة الكويتي * الهيئة الخيرية الإسلامية العالمية .

٣- ما اللقب الذي حصل عليه الشيخ صباح الأحمد الصباح رحمه الله من قبل الأمم المتحدة ؟

* قائد العمل الإنساني .

(د) صمم مخططاً سهماً يوضح جهود المسلمين في الزراعة ص ٢٦ : (درجة للتصميم ودرجتين للنقطتين)



السؤال الثالث مقالي ويتكون من (أ - ب - ج)

(أ) أكتب فيما يلي : (ست درجات)

١- خصائص الحضارة الإسلامية . ص ٢٢-٢٣ (يكتفى بنقطتين)

* حضارة تسامح . * - حضارة إنسانية . * حضارة إيمان وعمل * حضارة عالمية . * حضارة شمولية .

٢- العوامل التي ساعدت على الإنتاج الزراعي في دول العالم الإسلامي . ص ٧٢ (يكتفى بنقطتين)

* التربة الخصبة . * وجود البحيرات والآبار والأنهار * المناخ * كثرة السكان والأيدي العاملة * سقوط الأمطار .

٣- عدد أهم المصادر الطبيعية لإنتاج الأسماك . ص ٧٤ (يكتفى بنقطتين) .

* المحيطات والبحار * المياه العذبة .

(ب) لاحظ الجدول الذي أمامك ، ثم اجب عن الأسئلة التي تليه : (خمس درجات)

اليورانيوم		الذهب		الفضة	
كازاخستان	٤١%	إندونيسيا	٢,٣%	إندونيسيا	٣,٦%
أوزباكستان	٤,٣%	أوزباكستان	٣,٤%	المغرب	٠,٧%
باكستان	٠,١%	السودان	٢,٤%	تركيا	٠,٧%

نسبة إنتاج اليورانيوم والذهب والفضة من جملة إنتاج العالم الإسلامي حسب إحصاء ٢٠١٤ م


١- استخرج الدول الأولى في نسبة إنتاج المعادن المذكورة بالجدول الذي أمامك :

اليورانيوم	الذهب	الفضة
كازاخستان	أوزباكستان	إندونيسيا

٢- الدولة الأقل إنتاجاً لمعدن اليورانيوم .

*باكستان

٣- حول نسبة كازاخستان في اليورانيوم لدائرة بيانية .



(ج) قارن بين كل من : (أربع درجات)

أوجه المقارنة	الادريسي ص ٤٢	الخوارزمي ص ٣٩
المجال	الجغرافيا	الجبر
أهم مؤلفاته	نزهة المشتاق في اختراق الآفاق	الجبر والمقابلة

انتهت الأسئلة