



العام الدراسي : ٢٠٢٠ / ٢٠٢١ م
الزمن : ساعة وخمسة وأربعون دقيقة
عدد الأوراق : (٦)

امتحان نهاية الفترة الدراسية الأولى
للسنة الثامن
دولة الكويت والعالم الإسلامي

وزارة التربية
الإدارة العامة لمنطقة الجواء التعليمية
التوجيه الفني للاجتماعيات

أجب عن جميع الأسئلة التالية :-

السؤال الأول: (موضوعي) يتكون من (أ - ب - ج - د - هـ - و) :-

أ) أكمل العبارات التالية بما يناسبها فيما درست :-

- ١ - الشيخ الذي لقب بقائد العمل الإنساني عام ٢٠١٤ م اسمه.....صباح الأحمد الصباح (ص ٢٤)
- ٢ - العام الذي توفي فيه الرسول (عليه الصلاة والسلام) هو١١ هـ.. (ص ٢٥)
- ٣ - العاصمة العربية التي يوجد فيها المسجد الأموي تسمى ...دمشق (ص ٣٣)
- ٤ - المؤلف لكتاب " نزهة المشتاق في اختراق الآفاق " اسمه الشريف الإدريسي (ص ٤٣)
- ٥ - نسبة إنتاج العالم الإسلامي من الغاز الطبيعي ...٣٦% (ص ٦٧)


ب) صوب ما تحته خط في العبارات التالية :-

التصويب	العبرة
البيروني (ص ١٩)	١ - مؤلف كتاب " الصيدلة في الطب " الخوارزمي.
أبو بكر الصديق (ص ٢٥)	٢ - أول الخلفاء الراشدين هو عمر بن الخطاب .
المدينة المنورة (ص ٣٨)	٣ - يقع المسجد النبوي في مكة المكرمة .
١٤ % (ص ٧٢)	٤ - نسبة إنتاج العالم الإسلامي من الحبوب (٢٠ %) .
الاستزراع السمكي (ص ٧٤)	٥ - المصادر الغير الطبيعية لإنتاج الأسماك البحار والمحيطات .

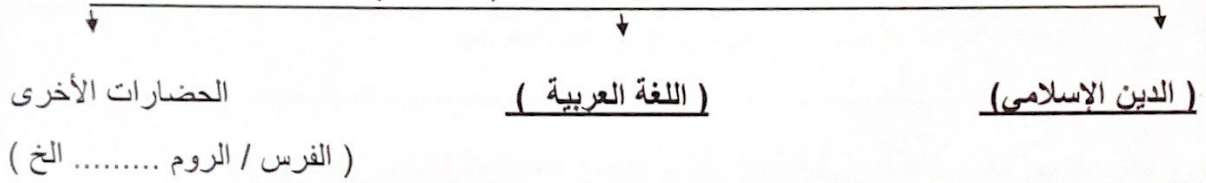
تابع السؤال الاول : (الموضوعي) -

د) أكمل المخطط السهمي التالي :-

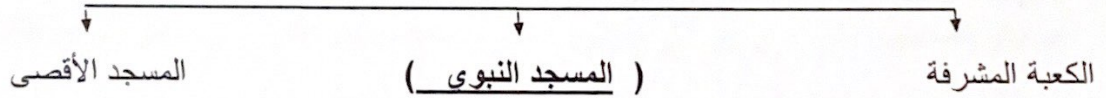
١ - المناصب القيادية التي ظهرت في الدولة الإسلامية (ص ٢٥)



٢ - أسس الحضارة الإسلامية (ص ٢٠)



٣ - أشهر المساجد التاريخية في العالم الإسلامي (ص ٣٢/٣٣)



هـ) اختر من المجموعة (أ) ما يناسبها من المجموعة (ب) بوضع الرقم في المكان المناسب : (ص ٥٣)

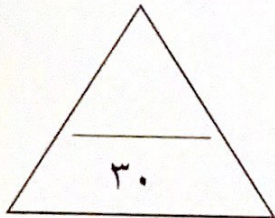
م	المجموعة (أ)	الرقم المناسب	المجموعة (ب)
١-	أرض مرتفعة سطحها مستوي لمساحة واسعة .	-	تضاريس
٢-	حوض أو منخفض طبيعي على سطح الأرض .	٤	التل
٣-	أجزاء فسيحة من سطح الأرض تتميز بإستوائها وقلّة ارتفاعها .	٣	السهول
٤-	يشبه الجبل ولكن ارتفاعه أقل من ١٠٠ م .	٢	الوادي
٥-	كل قمة لا يقل ارتفاعها عن ١٠٠٠ متر تقريبا	١	الهضبة
		٥	الجبل

ج) أكتب المفاهيم أو المصطلحات الدالة على العبارات التالية :-

م	المفهوم	العبرة
١	أهل الذمة (٣٦)	النصارى واليهود الذين ظلوا على دينهم مع دفع الجزية .
٢	الزكاة (ص ٢٩)	ركن من أركان الإسلام يخرجها المسلمون الأغنياء للمستحقين من الفقراء .
٣	أرابيسك (ص ٢٧)	الصناعات الخشبية التي سميت نسبة إلى العرب .
٤	التضاريس (ص ٥٣)	أشكال سطح الأرض .
٥	الغلات النقدية (ص ٧٣)	المحاصيل التي تزرع من أجل التصدير .

و) اختر الإجابة الصحيحة من بين البدائل التالية بوضع خطا تحت العنصر المناسب :-

- ١ - الخليفة الراشدي الذي استحدث في عهده منصب المحتسب :- (٢٥)
- أبو بكر الصديق - عمر بن الخطاب - عثمان بن عفان - علي بن أبي طالب
- ٢ - الحاكم الذي في عهده تم افتتاح المسجد الكبير الشيخ :- (ص ٣١)
- صباح السالم الصباح - جابر الأحمد الصباح - صباح الأحمد الصباح - نواف الأحمد الصباح
- ٣ - يبلغ عدد الدول الإسلامية في قارة آسيا :- (ص ٥١)
٢٥ - ٢٦ - ٢٧ - ٢٨
- ٤ - الدولة الإسلامية الوحيدة التي تقع في قارة أمريكا الجنوبية :- (ص ٥١)
- سورينام - البرازيل - فنزويلا - الأرجنتين
- ٥ - يبلغ نسبة إنتاج الوطن العربي من النفط :- (ص ٦٧)
٤٠,٥ - ٤١,٥ - ٤٢,٥ - ٤٣,٥ %



السؤال الثاني :-

تكون من (أ / ب / ج) :-

أ (ما الفرق بين كل من :-

الخراج (٢٨)	الجزية (٢٩)
ضريبة الأرض الزراعية التي تخرج مبلغا ماليا معينا من ناتج المحصول الزراعي . (درجة)	مبلغ مالي يدفعه الرجال غير المسلمين من أهل الذمة ممن هم قادرين على حمل السلاح نظير حماية الدولة لهم (درجة)
الحضارة ص ١٨	الحضارة الإسلامية ص ١٨
كل ما يطرأ على المجتمع من تقدم وتطور ورقي في الجانب المادي أو الجانب الروحي . (درجة)	تمثل اللغة العربية وسيلة للتعبير عنها والذي يمثل روحها وجوهرها الدين الإسلامي . (درجة)

ب (دلل على صحة العبارات التالية :-

١ - ازدهار العلم وظهور العلماء في الحضارة الإسلامية . (ص ٣٧) (يكتفى بعاملين) درجتين

- تشجيع العلماء ورعاية وتمويل القيادات السياسية لهم من خلفاء وملوك وسلاطين وأمراء .

- التنافس العلمي بين الدول الإسلامية .

- حركة التعريب (الترجمة) للكتب القديمة اليونانية والهندية والفارسية وغيرها .

- الرخاء الاقتصادي .

٢ - زيادة الإنتاج الزراعي في دول العالم الإسلامي . (ص ٧٢) (يكتفى بعاملين) درجتين

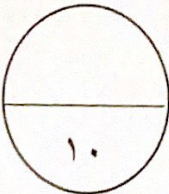
- التربة الخصبة . - المناخ . - وجود البحيرات والأنهار والآبار .

- سقوط الأمطار . - كثرة السكان والأيدي العاملة .

ج (عدد ما يلي :-

١ - موارد بيت المال . (ص ٢٨) (يكتفى بعاملين) درجتين

- الزكاة - الخراج - الجزية - الوقف الإسلامي



السؤال الثالث :-

يتكون من (أ / ب / ج) :-

أ) أذكر ما يلي :-

١ - جهود المسلمين في الزراعة . (ص ٢٦) (يكتفى بعاملين) درجتين

- شق القنوات المائية والترع . - إقامة السدود . - تنظيم وسائل الري .

٢ - مميزات المظاهر العمرانية في الحضارة الإسلامية . (ص ٣٠) (يكتفى بعاملين) درجتين

- الأسوار . - القباب . - المآذن . - المنابر . - الزخارف .

ب) علل لما يأتي :-

١ - تشجيع الدولة الإسلامية على النشاط التجاري . (ص ٢٨) (يكتفى بعاملين) درجتين

- لدورها الكبير في التبادل التجاري مع المناطق المجاورة .

- يمتلك موقع العالم الإسلامي الإستراتيجي العديد من الخطوط التجارية البرية البحرية .

٢ - تدين أوروبا بالفضل الكبير للحضارة الإسلامية . (ص ٤٢) درجة

- لأنها كانت السبب في النهضة الصناعية والعلمية الأوروبية الحديثة .

ج) نفذ ما بين الأقواس :-

١ - الوقف الإسلامي . (التعريف) (ص ٢٩) درجة

عبارة عن صدقة جارية يوقفها المرء في حياته لوجوه الخير والبر ويكون أجرها ونفعها ما دامت باقية ويستمر الأجر حتى بعد وفاته .

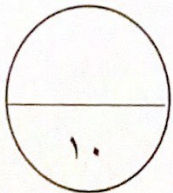
٢ - أهم المراكز العلمية في الحضارة الإسلامية . (عدد) (٣٨) (يكتفى بعاملين) درجتين

- المسجد الحرام في مكة المكرمة والمسجد النبوي في المدينة المنورة .

- بيت الحكمة .

- المرصد الفلكي في مراغة في أذربيجان .

- مجمع باي كايان في مدينة بخارى في أوزباكستان .



السؤال الرابع :-

يتكون من (أ / ب / ج) :-

(أ) أذكر ما يلي :-

١- الشعوب التي كونت الحضارة الإسلامية . (ص ١٨) (يكتفى بعاملين) درجتين

- العرب . - الفرس . - الترك . - الأفارقة . - الآسيويين . - الهنود . - الأوربيين .

٢ - خصائص الحضارة الإسلامية . (ص ٢٢) (يكتفى بعاملين) درجتين

- حضارة تسامح . - حضارة إيمان وعمل . - حضارة إنسانية .

- حضارة عالمية . - حضارة شمولية .

(ب) اكتب مثالا على كل مما يأتي :-

العلوم العقلية (١٧)	العلوم العقلية (١٧)
حديث / فقه / تفسير / تاريخ . درجة	الرياضيات / الفيزياء / الكيمياء / الفلسفة / الفلك . درجة
واردات العالم الإسلامي (٢٨)	صادرات العالم الإسلامي (ص ٢٨)
- الأخشاب - التوابل - الذهب درجة	التمور - الفواكه - اللبان - الخيول درجة

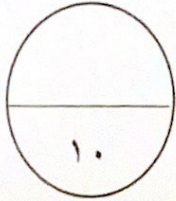
(ج) علل لما يأتي :-

١ - اهتمام الدولة الإسلامية بقطاع الصناعة . (ص ٢٧) درجة

من أجل استثمار الموارد الطبيعية المتوفرة بها .

٢ - تنوع الثروات الطبيعية في العالم الإسلامي . (ص ٦٧) درجة

- لان العالم الإسلامي يمتد على مساحات شاسعة من اليابسة وذو تنوع تضاريسي ومناخي .



" انتهت الإجابة "