





### أجب عن جميع الأسئلة التالية :

**السؤال الأول : ( موضوعي ) ويتكون من ( أ - ب - ج - د - هـ - و ) :- ( درجة لكل إجابة )**

**( أ ) أكمل العبارات التالية بما يناسبها فيما درست :-**

١- تقع دولة الكويت بالنسبة لقارة آسيا في الجهة الجنوبية الغربية . ص ٢٠

٢- كل مرتفع من الأرض وله قمة لا يقل ارتفاعها عن ١٠٠٠ متر يسمى جبل ( الجبال ) . ص ٢٤

٣- حالة الجو خلال فترة زمنية طويلة يسمى المناخ . ص ٢٧

٤- الصورة المقابلة توضح اعتماد دول مجلس التعاون الخليجي على المياه المحلاة بنسبة ٥٢ % .

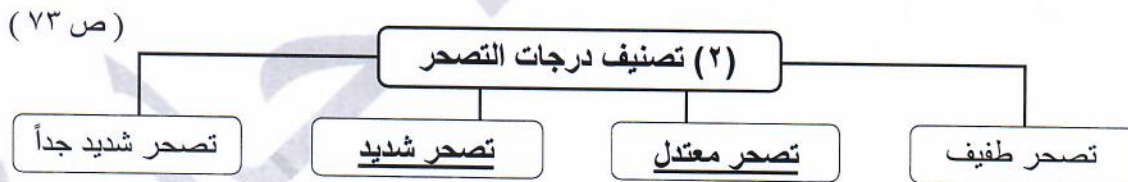
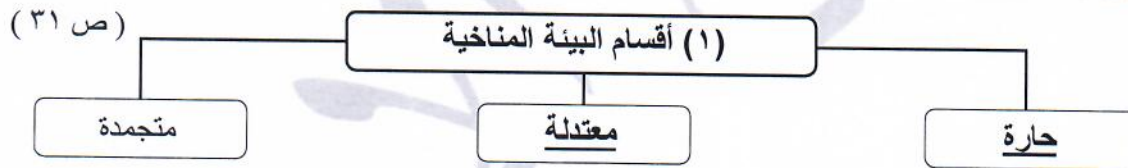
ص ٧٨



٥- تم إطفاء آخر بئر نفطي عند تحرير الكويت من الغزو العراقي الغاشم في السادس من نوفمبر عام ١٩٩١ م . ص ٦٣

٦- يُطلق على منظمة الأمم المتحدة للتربية والعلوم والثقافة اسم اليونسكو . ص ١٠٦

**( ب ) أكمل المخططات السهمية الآتية :-**

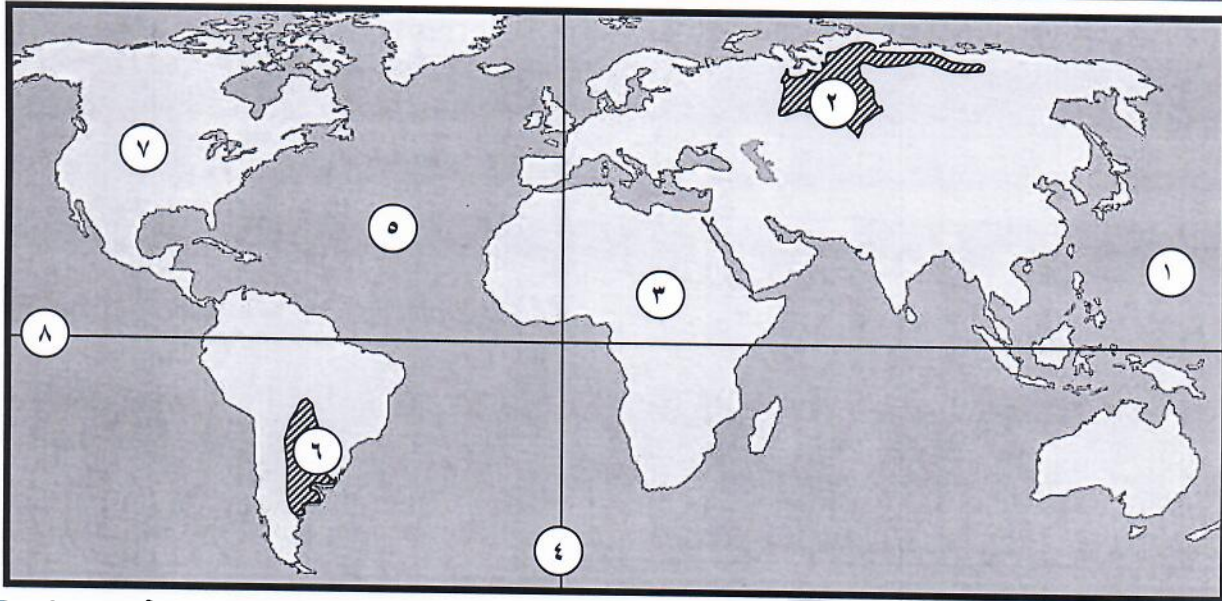


**( ج ) صنّف مميزات وعيوب التجارة الدولية الآتية حسب المطلوب في الجدول التالي :-** ص ٩٩

(( دعم النمو الاقتصادي - انتشار التلوث البيئي - تعزز العلاقات بين الدول - اختلاف العملات - توافر فرص العمل ))

| عيوب التجارة الدولية                   | مميزات التجارة الدولية  |
|--|---|
| انتشار التلوث البيئي<br>اختلاف العملات | دعم النمو الاقتصادي<br>تعزز العلاقات بين الدول<br>توافر فرص العمل |

(د) لاحظ الخريطة التي أمامك ثم أجب عن الأسئلة التالية :-



yk Kuwait 3



- المحيط الهادي يمثل على الخريطة الرقم ١ . ص ٢٠
- قارة أفريقيا يمثلها على الخريطة الرقم ٣ . ص ٢٠
- سهول سيبيريا يمثلها على الخريطة الرقم ٢ . ص ٢٥
- خط الاستواء يمثل على الخريطة الرقم ٨ . ص ١٩

(هـ) اختر من المجموعة (أ) ما يناسبها من المجموعة (ب) بوضع الرقم المناسب أمامها :

| المجموعة (ب)    | الرقم | المجموعة (أ)  |
|-----------------|-------|---|
| التلوث الهوائي  | ٤     | ١- ضجيج أعمال البناء وآلات المصانع . ( ص ٦٩ )                               |
| التلوث المائي   | ٣     | ٢- قطع الأشجار والرعي الجائر . ( ص ٦٧ )                                     |
| التلوث الحراري  |       | ٣- التسريب النفطي أثناء تصدير البترول وغسل خزانات ناقلات البترول . ( ص ٦٤ ) |
| التلوث الضوضائي | ١     | ٤- ذرات الرماد والأتربة المؤثرة على عملية التنفس . ( ص ٦٣ )                 |
| تلوث التربة     | ٢     |   |

( و ) اختر البديل المناسب من بين البدائل التي تلي كل عبارة وضع تحته خط :-



١- الصورة المقابلة لعالم استخدم مصطلح علم البيئة الطبيعية يسمى : ص ١٦

\* نوبل \* وانجاري ماثي \* هنري ديفيد \* مايكل فالون \*

٢- تقع الأقاليم المناخية الحارة في العالم بين دائرتي عرض : ص ٢٧

\* خط الاستواء ( صفر ) - ٣٠ شمالاً وجنوباً \* ٣٠ - ٤٠ شمالاً وجنوباً \*

\* ٤٠ - ٦٠ شمالاً وجنوباً \* ٦٠ - ٩٠ شمالاً وجنوباً \*

٣- نسبة ما تغطيه البحار والمحيطات من مساحة الكرة الأرضية حوالي : ص ٣٠

\* ٤١ % \* ٥١ % \* ٦١ % \* ٧١ % \*

٤- عدد الآبار النفطية التي تعرضت لعمليات تفجير وحرق عند تحرير دولة الكويت من الغزو العراقي الغاشم عام ١٩٩١م :

\* ٧٣٧ بئر \* ٧٥٧ بئر \* ٧٧٧ بئر \* ٧٩٧ بئر \* ص ٦٣

٥- تُعرف وحدة قياس ضغط الصوت باسم : ص ٦٩

\* تشرنوبل \* التندرا \* الديسيبل \* GPS \*

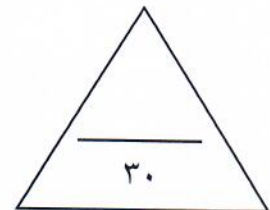
٦- الغاز الذي أدت زيادة كميته إلى اضطراب الأنظمة البيئية وحدثت ظاهرة الاحتباس الحراري يسمى : ص ٨٠

\* الأكسجين \* الكبريت \* ثاني أكسيد الكربون \* النتروجين \*

٧- الصورة المقابلة تمثل أحد المشكلات المؤثرة في العلاقات الاقتصادية الدولية هي : ص ١٠١



\* مشكلة الاحتباس الحراري \* مشكلة الهجرة الدولية \* مشكلة الغذاء \* مشكلة الطاقة \*



**السؤال الثاني : (مقالى) ويتكون من ( أ - ب ) :-**

**( أ ) إقرأ الفقرة التالية ثم أجب عما يليها من أسئلة :**

للبيئة الطبيعية أهمية كبيرة في حياتنا ، فهي محيطنا الذي نعيش فيه ، وتنقسم البيئة إلى قسمين هامين لا غنى لهما عن بعضهما ، وتعتبر أحد أضلاع مثلث الحياة ، حيث يجب أن يحافظ كل ضلع على العلاقة التبادلية والاعتمادية بينه وبين بقية أضلاع المثلث ، أما إذا تحولت العلاقة بينهم إلى علاقة تنافسية فإن ذلك يعني الموت للإنسان .

١- ماذا نقصد بالبيئة ؟ (درجة) ص ١٥

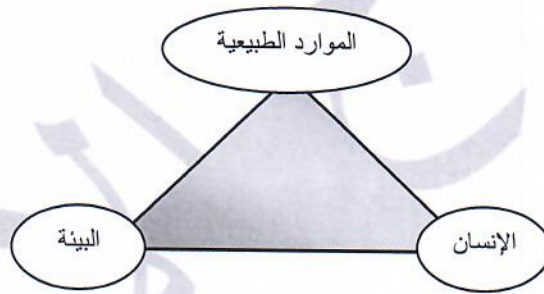
هي الإطار الذي يعيش فيه الإنسان ويحصل فيه على مقومات حياته ويتفاعل فيها مع عناصر البيئة الأخرى .

٢- عدد - أقسام البيئة . (درجتان - ويكتفى بكتابة المصطلحين فقط دون التعريف) ص ١٥

\* البيئة غير الحية : تمثل (التربة والماء والضوء والحرارة والرطوبة والرياح) حيث تساعد هذه القوى الجسم على التكيف .

\* البيئة الحية : وتمثل الكائنات الحية التي تعيش في تلك البيئة .

٣- ارسم مثلث توضح من خلاله أضلاع مثلث الحياة . (٣ درجات) ص ١٧



**( ب ) عرف ما يلي :**

١- التضاريس : يقصد بها الملامح الرئيسية لشكل سطح الأرض من مرتفعات ومنخفضات وأودية وسهول . (درجة) ص ٢٣

٢- التلوث البيئي : أي تغير غير مرغوب فيه في الخواص الطبيعية أو الكيميائية أو البيولوجية للبيئة المحيطة والذي قد

يتسبب في إضرار الحياة والكائنات الأخرى . (درجة) ص ٦٢

٣- العلاقات الدولية : هي كافة التفاعلات الدولية وحركات الشعوب وتبادل السلع والأفكار وتشمل العلاقات السياسية

والاقتصادية والاجتماعية والثقافية . (درجة) ص ٩١

٤- المساعدات المالية : هي عبارة عن تقديم قروض أو منح مالية أو تبادل دين . (درجة) ص ١٠٥

**السؤال الثالث : ( مقال ) ويتكون من ( أ - ب ) :-**

**( أ ) علل لما يأتي :-**

١- تعد السهول من أفضل مناطق الاستقرار البشري . (درجتان - يكتفى بإجابتين) ص ٢٤

\* تعتبر موانئ طبيعية . \* سهولة بناء المساكن عليها .

\* تركز السكان فيها لسهولة التنقل .

٢- ندرة المياه في دول مجلس التعاون لدول الخليج العربية . (درجتان - يكتفى بإجابتين) ص ٧٨

\* زيادة النمو السكاني . \* التوسع العمراني والتنموي . \* الموقع الجغرافي ذو المناخ الصحراوي .

\* عدم وجود أنهار دائمة . \* قلة سقوط الأمطار . \* ارتفاع نسبة الملوحة بالمياه الجوفية .

٣- حدوث ظاهرة الاحتباس الحراري بكوكب الأرض . (درجتان - يكتفى بإجابتين) ص ٨٠

\* التغيرات التي تحدث لمدار الأرض حول الشمس وما نتج عنها من تغير كمية الاشعاع الشمسي الذي يصل للأرض .

\* التغير في نسب مكونات الغلاف الجوي . \* الانفجارات البركانية . \* إزالة الغابات بمساحات كبيرة .

\* استعمال الوقود الأحفوري ( نפט - فحم - غاز ) ساهم في زيادة تركيز غاز ثاني أكسيد الكربون في الجو ، ونجم عنه

زيادة درجة حرارة الجو .

**( ب ) فرّق بين كل من :-**

| الموقع النسبي   | الموقع المكاني   |
|---|--|
| موقع الدولة بالنسبة لليابس والماء .<br>( درجة ) ص ٢٠  | موقع الدولة في مكان معين .<br>( درجة ) ص ٢٠                              |
| التلوث الضوضائي المؤقت  | التلوث الضوضائي المزمّن  |
| يكون غير دائم ويستمر لفترات محدودة فقط ، مثل ضجيج الأماكن المزدحمة ، ويؤدي لحدوث بعض الأضرار البسيطة كالتعرض لضعف السمع المؤقت .<br>( درجة ) ص ٦٩ | يكون بشكل مستمر وبدون توقف وينتج عنه خلل مستديم في السمع . ( درجة ) ص ٦٩ |

السؤال الرابع : (مقالى) ويتكون من ( أ - ب ) :-

( أ ) أجب عن الأسئلة الآتية :-

١- عدّد - عناصر المناخ . ( درجتان - يكتفى بإجابتين ) ص ٢٧

- \* الرياح .  
\* درجة الحرارة .  
\* الرطوبة .  
\* الضغط الجوي .  
\* الأمطار .

٢- ما هي مقترحاتك للمحافظة على المياه في دول العالم ؟ ( درجتان - يكتفى بإجابتين ) ص ٧٧

- \* بناء محطات لتحلية مياه البحر .  
\* بناء محطات لمعالجة مياه الصرف .  
\* الحد من الإفراط في سحب المياه الجوفية .  
\* بناء السدود لتخزين مياه الأمطار .  
\* التوعية بوسائل الإعلام المختلفة بأهمية المياه .  
\* سن القوانين للحد من هدر المياه .  
( أو أي إجابة يراها المصحح مناسبة ) .

٣- عدّد - أشكال العلاقات الدولية . ( درجتان - يكتفى بإجابتين ) ص ٩١

- \* علاقات سياسية .  
\* علاقات اقتصادية .  
\* علاقات اجتماعية .  
\* علاقات ثقافية .

( ب ) قارن بين كل مما يلي :-

| أوجه المقارنة | خطوط الطول ص ١٨   | دوائر العرض ص ١٩  |
|---------------|---|---|
| عددها         | ١٨٠ خط شرقاً - ١٨٠ خط غرباً<br>أو ٣٦٠ خطاً<br>( درجة )                          | ٩٠ شمالاً - ٩٠ جنوباً<br>أو ١٨٠ دائرة<br>( درجة )               |
| أهميتها       | • تساعد على تعيين الزمن ( معرفة الوقت )<br>بين الأماكن على سطح الأرض . ( درجة ) | • تساعد على تقسيم الكرة الأرضية إلى أقاليم<br>مناخية . ( درجة ) |



انتهت الأسئلة ونرجو لك التوفيق