



وزارة التربية

الإدارة العامة لمنطقة العاصمة التعليمية

مفرد

الاجابة



إجابة امتحان نهاية الفترة الدراسية الثانية مقرر الكويت والوطن العربي للفص السابع	وزارة التربية الإدارة العامة لمنطقة العاصمة التعليمية التوجيه الفني للاجتماعيات	العام الدراسي : ٢٠١٨ / ٢٠١٩ م الزمن : ساعة و ٤٥ دقيقة عدد الأوراق (٦)
--	---	---

السؤال الأول ويتكون من: (أ - ب - ج - د - هـ) : (٣٠ درجة - درجة لكل إجابة)

(أ) أكمل العبارات التالية بما يناسبها فيما درست:

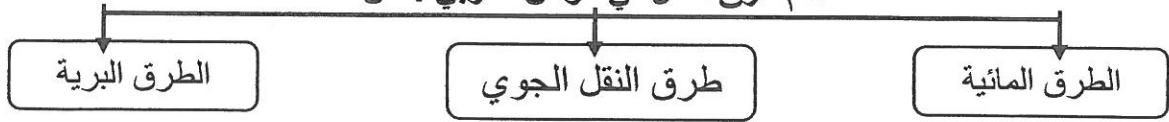
- ١- أكبر الدول العربية من حيث المساحة في الجناح الأفريقي تسمى...الجزائر.....ص ١٠٠
- ٢- تبلغ نسبة احتياط النفط الخام في الوطن العربي حوالي%٥٥ ص ١٢٧
- ٣- الطبقة الجوية التي تحمي الأرض من الإشعاعات فوق البنفسجية الضارة تسمى...الأوزون... ص ١٦٩
- ٤- الدولة العربية التي تحتل المركز الأول في إنتاج الإبل تسمىالصومال..... ص ١١٨
- ٥- المؤتمر الذي عقد في البرازيل عام ١٩٩٢م لمناقشة مشكلة التلوث البيئي عرف باسم ... قمة الأرض.... ص ١٦٧
- ٦- الثروات التي منحها الله لإقليم دون أن يكون للإنسان دور في وجودها تسمى...الموارد الطبيعية..... ص ١٠٩

(ب) ظلل (أ) إذا كانت العبارة صحيحة و ظلل (ب) إذا كانت العبارة خاطئة :

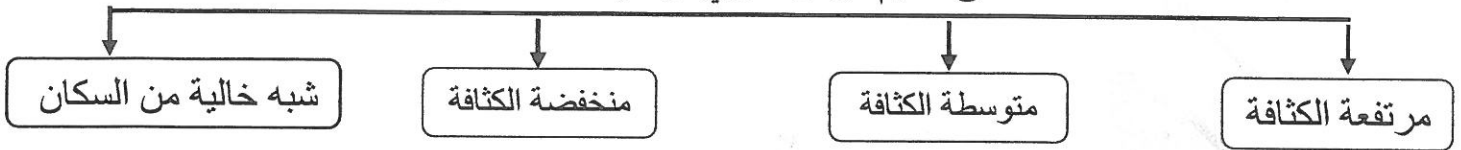
م	العبارة	صحيحة	خاطئة
١	عمليات التصدير والاستيراد بين الدول تسمى الصناعة .	أ	ب
٢	الضرر الذي يلحق بالتربة والهواء والماء يعرف بالوعي البيئي .	أ	ب
٣	أكبر تجمع للسكان يكون حول الأنهار والبحار ومصادر المياه.	أ	ب
٤	تعتبر الرياح من مصادر الطاقة المتجددة . ص ١٧١	أ	ب
٥	تتصدر دولة البحرين المرتبة الأولى في إنتاج أربع معادن هي (الفوسفات - النحاس - الرصاص - المنجنيز) . ص ١٣٢	أ	ب
٦	يتألف الوطن العربي من ٢٢ دولة . ص ٩٩	أ	ب
٧	يعد الصندوق الكويتي للتنمية الاقتصادية العربية أول مؤسسة للتنمية في الوطن العربي. ص ١٨٤	أ	ب

(ج) أملأ الفراغات في المخططات السهمية التالية :

١- أهم طرق النقل في الوطن العربي : ص ١٤٧



٢- مناطق تقسيم الوطن العربي من حيث الكثافة : ص ١٠٣



٣- أسباب التصحر في الوطن العربي : ص ١٦٢




(د) صنف المحاصيل الزراعية التالية حسب موقعها في الجدول التالي :

(شعير - زيتون - شمندر - تمور - أرز - موز) ص ١١٣

الفواكه والثمار	الغلات الصناعية والتجارية	الحبوب الغذائية
- موز - تمور	- شمندر - زيتون	- أرز - شعير

(هـ) لاحظ الصور والرسومات التالية ثم أجب عن ما يليها من عبارات :




٢- عملية تركيب وجمع المواد المصنعة على اختلاف مصادرها كي نحصل على سلع متنوعة تسمى: ص ١٤٣

(.صناعات تجميعية. أو. تجميع السيارات..)



١- الشيخ الذي عقد في عهده أكبر وأهم مؤتمر قمة عربية منذ نشأة جامعة الدول العربية اسمه :

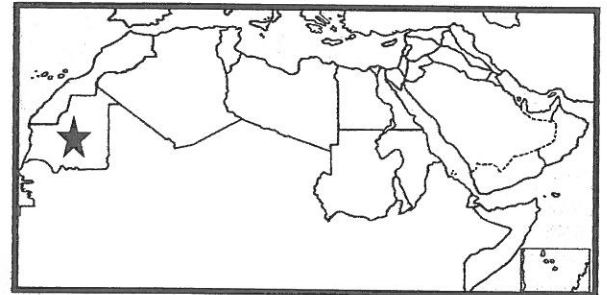
(الشيخ صباح الأحمد الصباح) ص ١٨٦



٤- شعار أحد المنظمات العربية تسمى :


(المنظمة العربية للتنمية الزراعية)

ص ١٨٢



٣- الدولة التي تحمل الشكل ★ تحتل المرتبة الأولى عربياً في إنتاج معدن الحديد تسمى :

(..... موريتانيا) ص ١٣٢



٦- الثروة الأكثر انتشاراً في المراعي العربية تسمى:

(.....الأغنام) ص ١١٨

عدد السكان الكلي
المساحة الكلية

٥- القانون الذي أمامك يمثل مفهوم يسمى :

(...الكثافة السكانية العامة ..) ص ١٠٢

السؤال الثاني يتكون من (أ - ب - ج) :-

(أ) علل لما يلي : (٢×١ = درجتان)

١- اختلاف المنتوجات الزراعية من دولة عربية لأخرى . ص ١١٠ (يكتفي بنقطة واحدة)

بسبب اختلاف *المناخ *التربة *مدى توافر المياه في هذه الدول .

٢- تنوع الثروة المائية في الوطن العربي . ص ١٢٢

* لأنها دول بحرية لها سواحل ومسطحات مائية واسعة منها المالحة ومنها العذبة .

(ب) اكتب فيما يلي مما درست : (٢×٢ = ٤ درجات) (يكتفي بنقطتين لكل إجابة)

١- المناطق الرئيسية التي تتركز فيها معظم حقول النفط في الوطن العربي . ص ١٢٦

* دول الخليج وسهول دجلة والفرات . * منطقة خليج السويس . * منطقة الصحراء الكبرى .

٢- المقومات البشرية للصناعة في الوطن العربي . ص ١٣٩

*رؤوس الأموال *المهارة والخبرة *السوق *وسائل النقل *الأيدي العاملة

(ج) فرق بين كل من : (٤×١ = ٤ درجات)

الزيادة الطبيعية للسكان	الزيادة الطبيعية للسكان ص ١٠٦
الزيادة الناتجة عن الهجرة	الفرق بين معدل المواليد ومعدل الوفيات
الغاز الطبيعي	الطاقة ص ١٢٥
غاز مصاحب للنفط الخام أو يوجد منفرداً تتم إسلته لاستخدامات عديدة	قوى محرّكة للألات وعنصر مهم للتقدم والتطور الاقتصادي في جميع المجالات .

السؤال الثالث : ويتكون من (أ - ب - ج) :-

(أ) عرف المفاهيم التالية : (٢×١ = درجتان)

- ١- التجارة البينية : التبادل التجاري بين الدول العربية . ص ١٥٢
- ٢- التضامن العربي : العمل على توثيق الصلات بين الدول والشعوب العربية وحماية مصالحها السياسية والاقتصادية والثقافية . ص ١٧٧

(ب) عدد أهداف ما يلي : (٢×٢ = ٤ درجات) (يكفي بنقطتين لكل إجابة)

- ١- أهداف الصناعات البتروكيميائية . ص ١٤٥
 - * تنوع مصادر الدخل للدولة المنتجة .
 - * توفير المواد الأولية للصناعات التحويلية لتأمين حاجات القطاعات الاستهلاكية (خاصة مجال البناء)
 - * تطوير الصناعات البتروكيميائية إلى تقنيات متخصصة وعالية .
- ٢- أهداف القمة الاقتصادية التنموية العربية . ص ١٨٦
 - * إنشاء بنك عربي لتمويل شتى المشاريع التنموية لتقليل من معدلات الفقر .
 - * القضاء على البطالة والفقر بتوفير فرص العمل .
 - * الاستثمار الاقتصادي بين الدول العربية وتقوية التبادل التجاري .
 - * الاعتناء بالعنصر البشري والتنمية المستدامة .

(ج) قارن بين المنظمات التالية حسب ما هو مطلوب في الجدول التالي : (٤×١ = ٤ درجات) ص ١٣٤

أوجه المقارنة	منظمة الأوبك	منظمة الأوابك
سنة التأسيس	١٩٦٠م	١٩٦٨م
المقر	فيينا	الكويت

