

# المرشد الشامل (غير محلول) للفصل الثامن

## الفصل الدراسي الثاني



### مذكرة تفصيلية لأسئلة الكتاب



برهن

وزارة التربية  
الإدارة العامة لمنطقة الفروانية التعليمية  
توجيه الفني للاجتماعيات

د. فهد العبدوي  
الموجه العام للاجتماعيات

1439  
موجه فني اول اجتماعيات

## فريق الاعداد:

الوحدة الثالثة : تغريد العنزي / عهد النمشان  
الوحدة الرابعة والخامسة : مرام المعصب

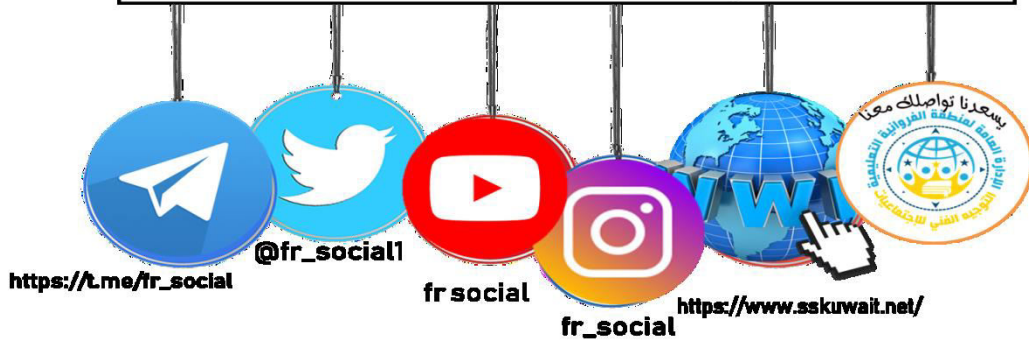
## مراجعة وتدقيق:

رئيسة قسم الاجتماعيات في مدرسة رقية بنت محمد : جليله الدغيم  
رئيسة قسم الاجتماعيات في مدرسة عمرة الانصارية : فاطمة الصفران

اشراف عام : الموجه الفني : حمد ابراهيم البحوه

تصميم وتنسيق : جليله الدغيم

مكتب التوجيه الفني للاجتماعيات منطقة الفروانية التعليمية





# الوحدة الثالثة



## العالم الإسلامي تحديات وحلول

### الوحدة الثالثة

أولاً	المشكلات البيئية في دول العالم الإسلامي:
1- التلوث البيئي:	1- التلوث الهوائي . ب- التلوث المائي . ج- التلوث لسطحي . دخول القرية .
2- تحديات بيئية أخرى:	أ- الاحتباس الحراري . ب- التصحر .
3- العالم الإسلامي في مواجهة التحديات البيئية .	
ثانياً	التحديات الاقتصادية التي تواجه دول العالم الإسلامي
1- الاتجار البشري . 2- الفقر . 3- البطالة الاقتصادية . 4- الفساد الاقتصادي .	
ثالثاً	التحديات الأمنية التي تواجه دول العالم الإسلامي
1- مشكلة الحدود لمساهمة .	
2- مشكلة الأقليات الإسلامية .	
3- مشكلة الحروب والتمرد (الناج من دول العالم الإسلامي) .	
رابعاً	المشكلات الاجتماعية والثقافية التي تواجه دول العالم الإسلامي
1- مشكلة إيمان الخدورات .	
2- مشكلة الأمة .	
الخاتمة	

## الأسئلة الموضوعية

### الوحدة الثالثة

#### ١. أكمل العبارات التالية بما يناسبها فيما درست :

١. الثورة التي ظهر معها الخطر البيئي تسمى .....
٢. ترجع مصادر التلوث البيئي إما مصدر طبيعي أو مصدر .....
٣. العام الذي أنشأت فيه دولة الكويت شرطة البيئة .....
٤. نسبة التلوث الهوائي في باكستان بسبب عوادم السيارات بلغت .....
٥. تعرضت دولة الكويت لتلوث بيئي خطير في عام .....
٦. حدثت ظاهرة نفوق الاسماك بدولة الكويت نتيجة ضخ مياه المجاري في جون الكويت في عام .....
٧. عانت موريتانيا من تلوث مائي شديد في .....
٨. إحدى ملوثات البيئة عرفت أنها الإزعاج أو الضجيج وتسمى بالتلوث الضوضائي .....
٩. العاصمة العربية الاسلامية التي تعتبر نموذجاً للتلوث الضوضائي تسمى .....
١٠. من عناصر البيئة الطبيعية وتعد المصدر الرئيسي لإنتاج الغذاء تسمى .....
١١. انجراف التربة على المدن والمناطق الزراعية يسمى .....
١٢. عقد مؤتمر الأمم المتحدة للتصحر في عام .....
١٣. الدولة الخليجية التي لا تعاني من مشكلة التصحر تسمى .....
١٤. تصل نسبة التصحر في كل من مصر وجيبوتي ودول الخليج العربية ما عدا سلطنة عمان الى .....
١٥. ارتفاع درجات حرارة الأرض عن معدلها الطبيعي .....
١٦. الغاز المسبب لظاهرة الاحتباس الحراري يسمى .....
١٧. الاعصار الذي ضرب سواحل سلطنة عمان والإمارات وايران يسمى .....
١٨. حدث اعصار جونو ( غونو) نتيجة لظاهرة الاحتباس الحراري في عام .....
١٩. أي مواد زائدة وغير مرغوبة من مخلفات البيئة أو الفضلات تسمى .....
٢٠. إعادة استخدام المخلفات لإنتاج منتجات أخرى أقل جودة من المنتج الأصلي يسمى .....
٢١. تحسين نوعية الحياة وفق بيئة صحية آمنة ومستقرة ومتقدمة يسمى .....
٢٢. يبلغ عدد سكان دولة الكويت حوالي .....
٢٣. أعلى نسبة فقر في دول العالم الاسلامي لعام ٢٠١٥ دولة تسمى .....
٢٤. تبلغ نسبة الفقر في دولة بنغلادش حوالي .....
٢٥. نسبة السكان الذين يعيشون تحت مستوى خط الفقر في العالم الاسلامي يبلغ .....
٢٦. تنقسم الحدود السياسية بين الدول الى حدود بحرية وحدود .....
٢٧. عقد مؤتمر العقير في عام .....
٢٨. الحاكم العراقي الذي ادعى أن الكويت تابعة لولاية البصرة يسمى .....
٢٩. هاجمت القوات العراقية مركز الصامتة الكويتي في عام .....
٣٠. اجتاحت قوات النظام العراقي على دولة الكويت في تاريخ ٢ أغسطس .....
٣١. انسحاب القوات العراقية بالقوة العسكرية من أراضي دولة الكويت في تاريخ .....
٣٢. اصدرت الامم المتحدة عام ١٩٩١ م عن طريق مجلس الأمن قرار رقم .....
٣٣. قرار ٦٧٨ يهدف لترسيم الحدود بين دولتين الكويت .....



٣٤. اصدر مجلس الأمن قرار ٨٣٣ لترسيم الحدود بين الكويت والعراق عام .....
٣٥. تم توقيع اتفاقية الحماية بين الشيخ مبارك الصباح والحكومة البريطانية .....
٣٦. الشيخ الذي وقع على اتفاقية الحماية عام ١٨٩٩ مع بريطانيا يسمى .....
٣٧. أول ترسيم للحدود بين الكويت والعراق في عام .....
٣٨. اعترفت العراق بترسيم الحدود بينها وبين الكويت بقرار ٨٣٣ عام .....
٣٩. بدأت القضية الفلسطينية عقب الحرب العالمية .....
٤٠. توسع المحتل الصهيوني الإسرائيلي في أراضي فلسطين بعد حرب .....
٤١. احتل المعتدي الصهيوني من الأراضي الفلسطينية) بعد حرب ١٩٤٨ م حوالي .....
٤٢. تشرد سبعمائة وخمسين ألفا من الفلسطينيين ما بين نازح، ومهاجر في حرب .....
٤٣. أصدرت الجمعية العامة للأمم المتحدة قرارها رقم ١٨١ عام ١٩٤٧ م لتقسيم فلسطين إلى قسمين عربي و .....
٤٤. اطلق على مؤتمر القمة العربية في القاهرة عام ٢٠٠٠ م اسم .....
٤٥. عقدت قمة التضامن مع الشعب الفلسطيني في غزة عام ٢٠٠٩ م في دولة تسمى .....
٤٦. الملك الذي اقترح إنشاء صندوق انتفاضة القدس و صندوق الأقصى يسمى .....
٤٧. مجموعة من المسلمين تعيش تحت سلطة دولة غير مسلمة في وسط اقليمية غير مسلمة تسمى .....
٤٨. من نماذج الاقليات الإسلامية حول العالم منطقة شينجيانغ أوريغور ومنطقة تسمى .....
٤٩. تقع منطقة أراكان (بورما) في دولة .....
٥٠. تقع منطقة شينجيانغ أوريغور على الحدود الغربية لجمهورية تسمى .....
٥١. واجهت العديد من المسلمين تمييزا في العمل منذ أحداث .....
٥٢. اندلعت حرب البوسنة والهرسك على يد القوات الصربية من عام ١٩٩٢ الى عام .....
٥٣. المعسكر الذي كان مركزا لاعتقال وتعذيب المدنيين البوسنيين والكروات يسمى .....
٥٤. اندلعت الحرب الاهلية في الصومال في عام .....
٥٥. بطلة من ابطال إطفاء حرائق النفط الناجمة عن الغزو العراقي الغاشم تسمى .....
٥٦. بلغ عدد الابار المشتعلة في الكويت اثناء الغزو العراقي .....
٥٧. أطفأت الابار المشتعلة خلال .....
٥٨. أطفأ أذرباين نفطي في تاريخ .....
٥٩. أطفأت أبار النفط المشتعلة في عهد الشيخ .....
٦٠. شنت قوات التحالف حرب عاصفة الصحراء في تاريخ .....
٦١. اطلق على حرب تحرير دولة الكويت اسم .....
٦٢. تحررت دولة الكويت في تاريخ .....
٦٣. مكان يحتوي على أسماء وصور شهداء الكويت يسمى .....
٦٤. ظاهرة ثقافية متفشية في معظم دول العالم الإسلامي ومختلف البلدان تسمى .....
٦٥. الدولة التي سجلت أعلى معدل من إمام البالغين بالقراءة والكتابة حيث بلغ ٩٧٪ تسمى .....
٦٥. تقدمت دول العالم الإسلامي في مجال محو الأمية خلال عامي (١٩٩٠ م و ٢٠١٢ م) من نسبة ٥٥٪ إلى .....
٦٦. أقل نسبة محو أمية الكبار في الدول الأعضاء في منظمة التعاون الإسلامي لعام 2015 م. تسمى .....
٦٧. أعلى نسبة محو أمية الكبار في الدول الأعضاء في منظمة التعاون الإسلامي لعام 2015 م تسمى .....

## ٢ ) اكتب المفاهيم أو المصطلحات الدالة على العبارات التالية :

الرقم	المفهوم	العبرة
١	.....	أي تغيير غير مرغوب به في الخواص الطبيعية أو الكيميائية أو البيولوجية للبيئة المحيطة (الهواء - الماء التربة) والذي قد يتسبب في الإضرار بحياة الإنسان والكائنات الأخرى
٢	.....	انجراف التربة على المدن والمناطق الزراعية.
٣	.....	ارتفاع درجات حرارة الأرض عن معدلها الطبيعي مما يؤدي إلى تغيرات مناخية.
٤	.....	أي مواد زائدة وغير مرغوبة من مخلفات البيئة أو الفضلات.
٥	.....	إعادة استخدام المخلفات لإنتاج منتجات أخرى أقل جودة من المنتج الأصلي.
٦	.....	عبرة عن برامج تحسين نوعية الحياة،
٧	.....	الزيادة الكبيرة في أعداد السكان.
٨	.....	الحالة الاقتصادية التي يفتقد فيها الفرد إلى الدخل الكافي للحصول على المستويات الدنيا من الغذاء والملبس عد والتعليم والرعاية الصحية وكل ما ي من الاحتياجات الضرورية لتأمين مستوى لائق في الحياة».
٩	.....	أدنى مستوى من الدخل يحتاجه المرء أو الأسرة حتى يكون بالإمكان توفير مستوى معيشة ملائم في بلد ما.
١٠	.....	نظام عالمي جديد يقوم على الإبداع العلمي، والتطور التقني، والتكنولوجي، وثورة الاتصالات بحيث تزول الحدود الثقافية بين الشعوب بالعالم ويصبح العالم كقرية واحدة.
١١	.....	عملية اقتصادية، واجتماعية يتم بموجبها إزالة جميع الحواجز بين الوحدات المختلفة، وتؤدي إلى تحقيق تكافؤ الفرص أمام جميع عناصر الإنتاج في دول التكامل.
١٢	.....	الدول التي مازالت أقل في ميادين الاقتصاد تقدما والعلم والتكنولوجي.
١٣	.....	مجموع الدخل المكتسب في بلد ما خلال فترة زمنية ما تكون سنة معينة، عادة واحدة.
١٤	.....	الفرق بين قيمة الصادرات وقيمة الواردات بالدول.
١٥	.....	خطوط حددت بواسطة الإنسان ورسمت حتى تفصل بين سيادة دولة ودولة أخرى .
١٦	.....	يطلق لفظ الأقلية على مجموعة من سكان دولة أو إقليم ما يختلفون عن غالبية سكان تلك الدولة بخاصية من الخصائص المتمثلة في العرف أو الثقافة أو الدين.
١٧	.....	مجموعة من المسلمين تعيش تحت سلطة دولة غير مسلمة في وسط اغلبية غير مسلمة.
١٩	.....	ظاهرة ثقافية متفشية في معظم دول العالم الإسلامي ومختلف البلدان وخاصة البلدان النامية منها .

### ٣) ظلل الخيار الصحيح من بين الخيارات التي تلي كل عبارة :

١. انشأت دولة الكويت شرطة البيئة في عام :			
٢٠١٨ م	٢٠١٧ م	٢٠١٦ م	٢٠١٥ م
٢. النسبة التي بلغها التلوث الهوائي في باكستان بسبب عوادم السيارات :			
٦٠ %	٥٠ %	٤٠ %	٣٠ %
٣. تعرضت دولة الكويت لتلوث بيئي خطير في عام :			
١٩٩٣ م	١٩٩٢ م	١٩٩١ م	١٩٩٠ م
٤. حدثت ظاهرة نفوق السمك في دولة الكويت بسبب ضخ مياه المجاري في جون الكويت في عام :			
٢٠٠٣ م	٢٠٠٢ م	٢٠٠١ م	٢٠٠٠ م
٥. العاصمة العربية الاسلامية التي تعتبر نموذج للتلوث الضوضائي تسمى :			
السعودية	باكستان	القاهرة	ماليزيا
٦. الدولة الخليجية التي لا تعاني من مشكلة التصحر تسمى :			
الكويت	البحرين	قطر	عمان
٧. تصل نسبة التصحر في كل من مصر وجيبوتي ودول الخليج العربية الى :			
٩٠ %	٨٠ %	٧٠ %	٦٠ %
٨. الغاز المسبب لظاهرة الاحتباس الحراري يسمى :			
النيوتروجين	أول أكسيد الكربون	الأكسجين	ثاني أكسيد الكربون
٩. أعلى الدول نسبة فقر لدول العالم الاسلامي في عام ٢٠١٥ تسمى :			
النيجر	باكستان	مالي	بنغلادش
١٠. نسبة السكان الذين يعيشون تحت مستوى خط الفقر في العالم الاسلامي يبلغ :			
٣٨ %	٣٧ %	٣٦ %	٣٥ %



١١. عقد مؤتمر العقير في عام :			
١٩٢٥ م	١٩٢٤ م	١٩٢٣ م	١٩٢٢ م
١٢. اجتاحت قوات النظام العراقي على دولة الكويت في تاريخ ٢ أغسطس:			
١٩٩١ م	١٩٩٠ م	١٩٨٩ م	١٩٨٨ م
١٣. اصدرت الامم المتحدة عام ١٩٩١ م عن طريق مجلس الأمن قرار رقم :			
٦٧٩	٦٧٨	٦٧٧	٦٧٦
١٤. الشيخ الذي وقع على اتفاقية الحماية عام ١٨٩٩ مع بريطانيا يسمى :			
جابر الأحمد	صباح الأحمد	عبد الله السالم	مبارك الصباح
١٥. تقع منطقة شينجيانغ أوريغور على الحدود الغربية لجمهورية :			
اليابان	كوريا	الصين	تايلند
١٦. بلغ عدد الابار المشتعلة في الكويت اثناء الغزو العراقي :			
٧٣٨ بئرا	٧٣٧ بئرا	٧٣٦ بئرا	٧٣٥ بئرا
١٧. أطفأت آبار النفط المشتعلة بدولة الكويت في عهد الشيخ:			
صباح الأحمد الصباح	جابر الأحمد الصباح	مبارك الصباح	سعد العبدالله الصباح
١٨. الدولة التي سجلت أعلى معدل من إمام البالغين بالقراءة والكتابة حيث بلغ ٩٧٪ من اجمالي السكان تسمى :			
قطر	الامارات	البحرين	عمان
١٩. الدولة التي حصلت على أعلى نسبة محو أمية الكبار لعام 2015 م تسمى:			
بنغلادش	مالي	كازاخستان	اوزباكستان
١. تقدمت دول العالم الإسلامي في مجال محو الأمية خلال عامي ١٩٩٠ م و ٢٠١٣ م من نسبة ٥٥ ٪ إلى:			
٧٨٪	٧٩٪	٨٠٪	٨١٪



٤) صوب ما تحته خط في العبارات التالية :

الرقم	العبارة	التصويب
١.	انشأت دولة الكويت شرطة البيئة في عام ٢٠١٦م	
٢.	النسبة التي بلغها التلوث الهوائي في باكستان بسبب عوادم السيارات ٥٠٪	
٣.	بسبب ضخ مياه المجاري في جون الكويت أدى الى نفوق الاسماك عام ٢٠٠٢م	
٤.	إحدى ملوثات البيئة عرفت أنها الإزعاج أو الضجيج وتسمى بالتلوث الهوائي	
٥.	العاصمة العربية الاسلامية التي تعتبر نموذج للتلوث الضوضائي تسمى دمشق	
٦.	الدولة الخليجية التي لا تعاني من مشكلة التصحر تسمى السعودية	
٧.	الغاز المسبب لظاهرة الاحتباس الحراري يسمى أول أكسيد الكربون	
٨.	حدث اعصار جونو ( غونو) نتيجة لظاهرة الاحتباس الحراري في عام ٢٠٠٨م	
٩.	أي مواد زائدة وغير مرغوبة من مخلفات البيئة أو الفضلات تسمى التدوير	
١٠.	منطقة في الكويت سيتم بها اكتمال مشروع توليد ٧٠ ميجاوات من الكهرباء تسمى العبدلي	
١١.	أعلى الدول نسبة فقر لدول العالم الاسلامي في عام ٢٠١٥ تسمى باكستان	
١٢.	نسبة السكان الذين يعيشون تحت مستوى خط الفقر في العالم الاسلامي يبلغ ٢٥٪	
١٣.	هاجمت القوات العراقية على مركز الصامتة الكويتي في عام ١٩٧٠م	
١٤.	الشيخ الذي وقع على اتفاقية الحماية عام ١٨٩٩ مع بريطانيا يسمى عبد الله السالم	
١٥.	بدأت القضية الفلسطينية عقب الحرب العالمية الثانية	

٥) ضع علامة (✓) أمام العبارة الصحيحة، وعلامة (x) أمام العبارة الخاطئة مع التصويب:

الرقم	العبارة	أ	ب	التصويب
١	اطلق على مؤتمر القمة العربية في القاهرة عام ٢٠٠٠ م اسم قمة الأرض.			
٢	عقدت قمة التضامن مع الشعب الفلسطيني في غزة عام ٢٠٠٩ م في دولة الكويت.			
٣	الملك الذي اقترح إنشاء صندوق انتفاضة القدس و صندوق الأقصى يسمى فهد بن عبدالعزيز.			
٤	تقع منطقة شينجيانغ أوريجور على الحدود الغربية لجمهورية مصر.			
٥	المعسكر الذي كان مركزا لاعتقال وتعذيب المدنيين البوسنيين والكروات يسمى (أومارسكا).			
٦	اندلعت الحرب الاهلية في الصومال في ١٩٩٢ م.			
٧	بطلة من ابطال إطفاء حرائق النفط الناجمة عن الغزو العراقي الغاشم تسمى سارة اكبر.			
٨	بلغ عدد الابار المشتعلة في الكويت اثناء الغزو العراقي ٧٣٧ بئرا.			
٩	تم إطفاء آبار النفط المشتعلة في عهد الشيخ صباح الأحمد الصباح.			
١٠	اطلق على حرب تحرير دولة الكويت اسم عاصفة الصحراء.			
١١	مكان يحتوي على أسماء وصور شهداء الكويت يسمى حديقة الشهيد.			
١٢	ظاهرة ثقافية متفشية في معظم دول العالم الإسلامي ومختلف البلدان تسمى المخدرات.			
١٣	سجلت قطر أعلى معدل من إمام البالغين بالقراءة والكتابة حيث بلغ ٩٧٪ من اجمالي السكان			
١٤	أعلى نسبة محو أمية الكبار في الدول الأعضاء في منظمة التعاون الإسلامي لعام 2015 م تسمى كازاخستان			

٦) استنتج الرابط بين العناصر التالية:

- ١/ النفايات + الاستخدام المفرط للأسمدة + الحروب + الانفجارات النووية (.....)
- ٢/ التلوث الهوائي + التلوث المائي + التلوث الضوضائي + تلوث التربة (.....)
- ٣/ عمليات البناء + الهدم + أصوات آلات الحفر (.....)
- ٤/ الانفجار السكاني + الفقر + العولمة الاقتصادية + التكامل الاقتصادي (.....)



( ٧ ) من أنا أو ماذا أمثل أو من نحن أو من نكون :



بطلة من أبطال إطفاء  
حرائق النفط الناجمة  
عن الغزو العراقي  
الغاشم انا .....



قضية لم تنتهي  
بدأت بعد الحرب  
العالمية الاولى  
أنا دولة .....

أنا معلم من معالم الكويت يوجد لدي (جدار الشهداء)  
أنا .....

( ٨ ) صنف الكلمات التالية إلى مكانها المناسب في الجدول الذي يليها :

١ / مصادر التلوث البيئي

البراكين - الاستخدام المفرط للأسمدة - رش المبيدات الحشرية على المزروعات - الحروب - الانفجارات النووية - النفايات - الغبار

مصادر بشرية	مصادر طبيعية

٢ / أسباب تلوث كل من التربة والضوضاء :

وسائل النقل - الأمطار الحمضية - النفايات - عمليات الهدم والحفر - المبيدات الحشرية - اصوات الات الحفر

اسباب تلوث الضوضاء	اسباب تلوث التربة

٣ / نسبة التصحر في الدول إسلامية

مصر - لبنان - سوريا - السودان - العراق - السنغال - جيبوتي - الصومال - دول الخليج العربي عدا سلطنة عمان

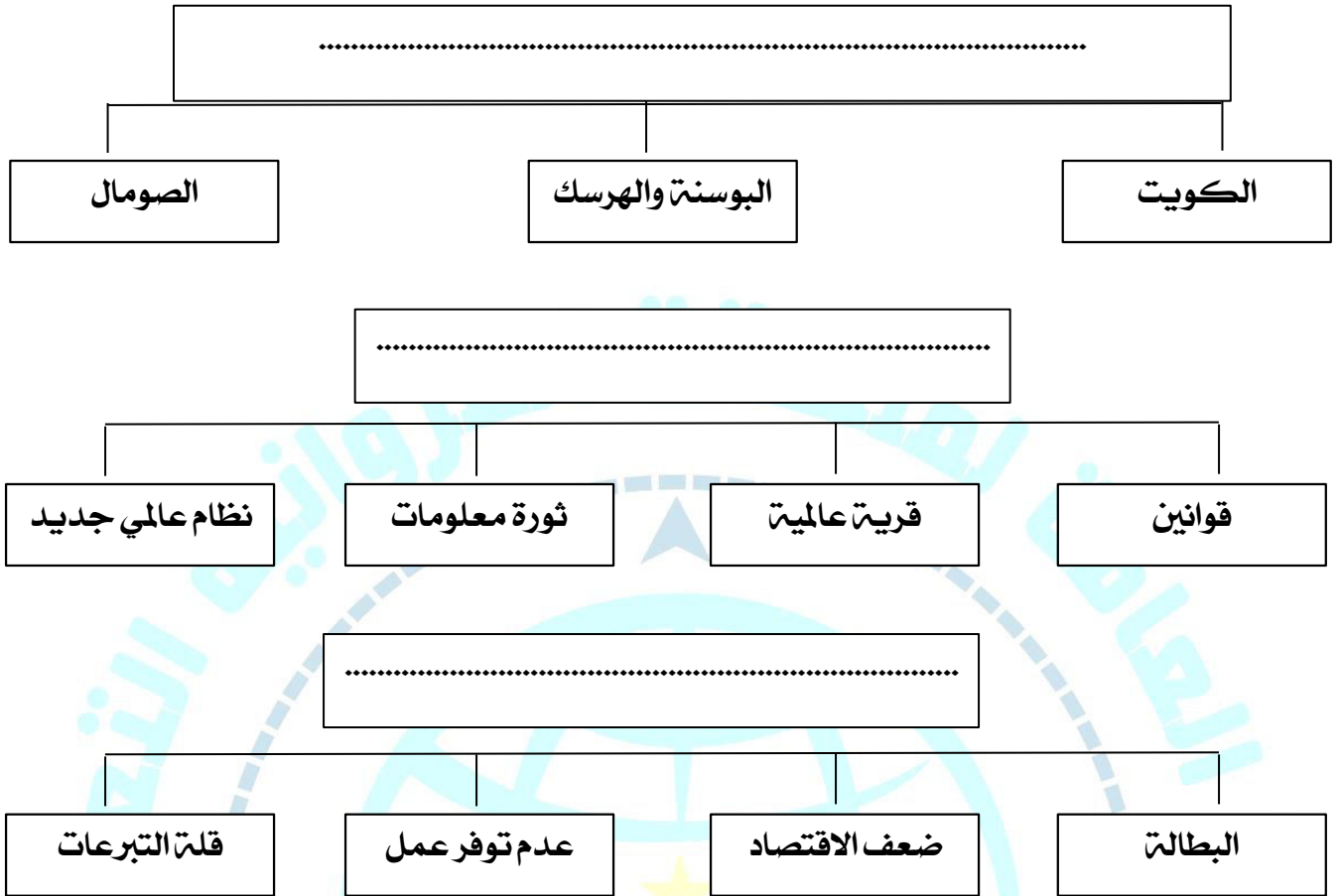
دول إسلامية تصل نسبة التصحر فيها ما بين ١٠٪ - ٥٠٪	دول إسلامية تصل نسبة التصحر الى ٩٠٪

## ( ٩ ) أكمل المخططات السهمية التالية :



## ( ١٠ ) اكتب عنوانا للمخططات السهمية التالية :





١١) اختر للمجموعة (أ) ما يرتبط بها من المجموعة (ب) بوضع الرقم في المكان المناسب.

م	المجموعة (أ)	الرقم المناسب	المجموعة (ب)
١	١٨٩٩م		مؤتمر العقير
٢	١٩٩١م		اتفاقية الحماية بين الكويت وبريطانيا
٣	١٩٢٢م		تحرير دولة الكويت من المعتدي العراقي
٤	١٩٩٣م		قرار مجلس الامن لترسيم حدود الكويت والعراق

١٢ / أعد ترتيب الأحداث التالية ترتيبا تصاعديا من الاقدم إلى الأحدث بوضع الرقم الصحيح في المربع

الأحداث	ترتيب الأحداث
الاعتداء على مركز الصامتة الحدودي	
قرار مجلس الامن رقم ٨٣٣ لترسيم الحدود بين الكويت والعراق	
ادعاءات عبدالكريم قاسم	
قرار مجلس الامن رقم ٦٧٨	
الغزو العراقي على دولة الكويت	

الأسئلة المقالية :

( ١ ) عرف المفاهيم أو المصطلحات التالية :

- ١- التلوث البيئي ::
- ٢- التصحر ::
- ٣- الاحتباس الحراري ::
- ٤- النفايات ::
- ٥- التدوير ::
- ٦- التنمية المستدامة ::
- ٧- الانفجار السكاني ::
- ٨- الفقر ::
- خط الفقر ::
- ٩- العولمة ::
- ١٠- التكامل الاقتصادي ::
- ١١- البلدان النامية ::
- ١٢- الدخل القومي ::
- ١٣- الميزان التجاري ::
- ١٤- الحدود ::
- ١٥- الاقليات ::
- ١٦- الأقليات الاسلامية ::
- ١٧- الامية ::

( ٢ ) علل / اذكر السبب .



١. يعتبر تلوث الهواء من أخطر أنواع التلوث البيئي .

٢. التلوث المائي اخطر أشكال التلوث البيئي .

٣. تعتبر التربة عنصر مهم من عناصر البيئة الطبيعية .

٤. حدوث اعصار جونو او غونو في سواحل عمان والامارات وايران عام ٢٠٠٧م

٥. حدوث ظاهرة الاحتباس الحراري

٦. زيادة كمية المخلفات الصناعية والمنزلية والزراعية والبنائية

٧. زيادة عدد السكان

٨. انعقاد مؤتمر العقير عام ١٩٢٢م

٩. بدأت القضية الفلسطينية عقب الحرب العالمية الاولى .

١٠. إصدار الجمعية العامة للأمم المتحدة قرار رقم ١٨١

١١. اضطرار أكثر من مليوني مسلم إلى الفرار من ميانمار والعيش كلاجئين في الدول المجاورة

١٢. مواجهة العديد من المسلمين تمييزا في العمل

١٣. انخفاض المستوى التعليمي للأقليات الاسلامية

١٤. سوء الظروف الاجتماعية والمادية التي تعيش فيها معظم الجاليات المسلمة

١٥. ظهور المشكلة السكانية .

٣) اكتب ما تعرفه عن:

١/ موقف الملك عبدالله بن عبدالعزيز في قضية فلسطين

- ..... \*
- ..... \*

٢/ الآثار السيئة التي خلفها الغزو العراقي على دولة الكويت

- ..... \*
- ..... \*

٣/ دور الجيش الكويتي في الغزو العراقي

- ..... \*
- ..... \*

٤/ الغيوم السوداء التي حلت بسماء دولة الكويت نتيجة العدوان العراقي الغاشم.

- ..... \*
- ..... \*

٥/ أسباب الإدمان

- ..... \*
- ..... \*
- ..... \*
- ..... \*

٤ عدد مائلي :

١- نماذج من الدول الإسلامية التي تعاني من التلوث الهوائي :

أ/.....  
ب/.....

٢- آثار تلوث الهواء على الانسان والبيئة .

أ/.....  
ب/.....

٣- نماذج من الدول الإسلامية التي تعاني من التلوث المائي :

أ/.....  
ب/.....

٤- انواع الزيادة السكانية .

أ/.....  
ب/.....

٥- أسباب الفقر في الدول الإسلامية

أ/.....  
ب/.....

ج/.....  
د/.....

٦- العوامل التي أثرت على انخفاض مستوى نصيب الفرد من الدخل القومي

أ/.....  
ب/.....

٧- اهم المناطق التي احتلها الكيان الصهيوني بفلسطين بعد حرب ١٩٦٧م :

أ/.....  
ب/.....

٨- الشخصيات الكويتية التي بذلت العطاء في مساعدة الدول والمجتمعات التي تعرضت للكوارث والحروب .

أ/.....  
ب/.....

٩- التحديات التي تواجه الأقليات الإسلامية حول العالم

أ/.....  
ب/.....

ج/.....  
د/.....



### ٥) أجب عن الأسئلة التالية

١. كيف واجهت دول العالم الإسلامي التحديات والمشكلات البيئية؟

.....  
.....

٢- ماهي المشكلات الناتجة عن الانفجار السكاني؟

.....  
.....

٣- ما الهدف من مؤتمر عقير ١٩٢٢م؟

.....

٤- ما أوضاع التي عانا منها المسلمين المقيمين في منطقة شينجيانغ أوريجور الواقعة على الحدود الغربية للصين؟

.....

٥- كيف تكونت الأقليات الإسلامية؟

.....

٦- اين تتواجد الأقليات الإسلامية؟

أ/.....  
ب/.....

٦- ما النتائج المترتبة بعد حرب ١٩٤٨م بين المحتل الصهيوني الإسرائيلي وفلسطين؟

.....  
.....

٧- ماهي الحلول الإسلامية والدولية المقترحة للتحديات التي تواجه الأقليات الإسلامية؟

أ/.....  
ب/.....

٨- كيف يتم تفعيل الوجود الإسلامي للأقليات الإسلامية؟

أ/.....  
ب/.....

٩- ما هو الدور التثقيفي للمؤسسات الإسلامية اتجاه الأقليات الإسلامية؟

أ/.....  
ب/.....

١٠- ما هو دور دولة الكويت اتجاه دولة الصومال؟

.....

١١/ ما الآثار المترتبة على ادمان المخدرات؟

أ/.....  
ب/.....

٦) دليل

١- دليل على عدم تبعية دولة الكويت للعراق:

- ..... \*
- ..... \*

٧) برهن على صحة العبارة التالية:

تعرضت دولة الكويت لتلوث بيئي خطير

- ..... \*
- ..... \*

٨) اذكر ما تعرفه عن مراحل ازمة الحدود السياسية بين الكويت والعراق: ص ١٠٣-١٠٤

* مراحل أزمة الحدود	* أهم الأحداث
* ادعاءات مؤتمر عبد الكريم قاسم / ٢٥ يونيو / ١٩٦١م بأن الكويت تابعة الى ولاية البصرة	* ..... *
* ..... *	* رفض الحكومة الكويتية للمشروع العراقي للحصول على منفذ بحري ١٩٧٣. الهجوم على مركز الصامتة الكويتي. انسحاب القوات العراقية من الصامتة بعد نصيحيه موسكو للعراق
* غزو النظام العراقي على دولة الكويت ١٩٩٠م	* ..... *
* ..... *	* اصدرت هيئة الأمم المتحدة قرار ٦٧٨ بترسيم الحدود عام ١٩٩١م * اصدار قرار ٨٢٣ ليرسم الحدود بين الدولتين عام ١٩٩٢م

٩/ أقرأ الفقرة التالية ثم أجب على الأسئلة التي تليها :

يرى علماء البيئة ان اعصار جونو او غونو عام ٢٠٠٧م الذي ضرب سواحل سلطنة عمان الشرقيه باتجاه سواحل الامارات الشرقيه وسواحل ايران الجنوبيه الشرقيه نتيجته لظاهرة الاحتباس الحراري.

١- عرف المفهوم الذي تحته خط:

..... \*

ب- ما اسباب حدوث هذه الظاهرة

..... \*

ج- ما النتائج المتوقعة لهذه الظاهرة

..... \*

..... \*

أعلنت دولة الكويت عن خطط لتوليد ١٥٪ من احتياجاتها من الطاقة و بحلول عام ٢٠١٧ تم تشغيل أول محطة كهرباء تعمل بالطاقة الشمسية. ومن المتوقع اكتمال مشروع رائد لإنتاج ٧٠ ميجاوات من الكهرباء في منطقة الشقيا في غرب الكويت.

١. في أي عام تم تشغيل أول محطة كهرباء تعمل بالطاقة الشمسية في دولة الكويت ؟

٢. ما اسم المنطقة التي سيتم اكتمال مشروع إنتاج ٧٠ ميجاوات من الكهرباء بها ؟

٣. اذكر نماذج أخرى من الدول الإسلامية سعت لتحقيق التنمية

أ/ ..... ب/ .....

١٠/ من القائل :

ان الكويت دولة عربية ذات سيادة ومن ورائها يقف شعب الكويت بدعم قيادتها . ص ١٠٣

١/ من القائل؟ الشيخ .....

٢/ المناسبة؟ .....

➤ الناس تموت هنا، ويجب على العالم أن يتحرك الآن لوقف هذا < ص ١١٧

١/ من القائل ؟ .....

٢/ المناسبة؟ .....

٣/ ما هو دور منظمة التعاون الإسلامي ؟

..... \*

..... \*



١١ / قارن بين كل من :

١ / انواع التلوث حسب الجدول :

تلوث التربة	التلوث الضوضاء	التلوث المائي	التلوث الهوائي	أوجه المقارنة الاسباب
..... ✓ ..... ✓	..... ✓ ..... ✓	..... ✓ ..... ✓	..... ✓ ..... ✓	
..... ..... .....	..... ..... .....	..... ..... .....	..... ..... .....	النتائج
	.....	.....	.....	نماذج من دول تعرضت للتلوث

٢ / الاحتباس الحراري و النفايات من حيث المطلوب :

التنقيات	الاحتباس الحراري:	أوجه المقارنة التعريف
.....	.....	
.....	.....	الاسباب
..... *	..... *	النتائج
..... *	..... *	نماذج من دول تعرضت للتلوث

٣ / حرب البوسنة والهرسك وحرب الصومال من حيث المطلوب :

أوجه المقارنة	البوسنة والهرسك	الصومال
الأطراف		
العام		
النتائج		

١ / حرب ١٩٤٨ م حرب يونيو ١٩٦٧ م من حيث النتائج المترتبة :

حرب ١٩٤٨ م	حرب يونيو ١٩٦٧ م	النتائج المترتبة
.....	.....	.....
.....	.....	.....
.....	.....	.....

(١٢) فرق

١٢ عرف الامية حسب مفهوم الدول الإسلامية :

البلدان المتقدمة	البلدان النامية	مفهوم الامية
.....	.....	.....
.....	.....	.....
.....	.....	.....

١٣ / لاحظ الشكل المقابل ، ثم أجب عن الأسئلة التالية :

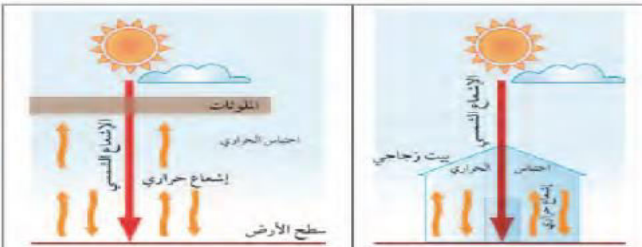


(١) أكمل العبارات التالية بما يناسبها :

أ) الشكل المقابل يمثل أحد الآثار التي تآكلت وأتلفت بسبب التلوث .....  
ب) اذكر آثار أخرى لهذا التلوث .

\*

\*



(٢) أكمل العبارات التالية بما يناسبها :

أ) الشكل المقابل يمثل ظاهرة تسمى : .....  
ب) الغاز الأول المسؤول عن الظاهرة هو .....  
ج) ظهر نتيجة له اعصار يسمى .....



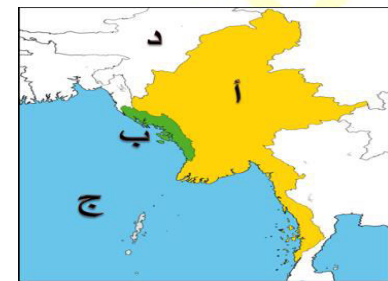
(٣) أكمل العبارات التالية بما يناسبها :

أ) - الصورة المقابلة تمثل شخصية ملك يسمى .....  
ب) شارك في مؤتمر القمة العربية في القاهرة عام .....  
ج) ما أسماء الصناديق التي اقترحها لكي تخدم القضية الفلسطينية ؟  
١. ....  
٢. ....



(٤) أكمل العبارات التالية بما يناسبها :

- الشكل المقابل يمثل : .....  
في أي دولة حدث ؟ .....  
في أي عام ؟ .....



(٥) لاحظ الخريطة التي أمامك ثم أجب على الأسئلة التي تليها :

١. منطقة أركان يمثلها على الخريطة الحرف : .....  
٢. الحرف (د) يمثل على الخريطة دولة تسمى : .....  
٣. الحرف (ج) على الخريطة يمثل سطح مائي يسمى : .....  
٤. ارسم على الخريطة اتجاه دولة الصين بالنسبة لأركان باستخدام →



(١) لاحظ الخريطة التي أمامك ثم أجب على الأسئلة التي تليها :

١. إقليم شينجيانغ أوريغور يمثلها على الخريطة الحرف .....  
٢. بحر الصين الشرقي يمثلها على الخريطة الحرف .....



## الوحدة الرابعة

### منظمة التعاون الإسلامي ودور دولة الكويت في التعايش الإنساني

#### أولاً: منظمة التعاون الإسلامي، والأجهزة التابعة لها.

- 1- ذمور الإغاثة منظمة تجمع الدول الإسلامية.
- 2- لقاء منظمة التعاون الإسلامي.
- 3- أهداف ومبادئ منظمة التعاون الإسلامي.
- 4- أجهزة منظمة التعاون الإسلامي: اللجنة الإسلامية - مجلس وزراء الخارجية - اللجنة العلمية - محكمة العدل الإسلامية الدولية.
- 5- تبادل من بعض اللجان المتخصصة (الأوقاف الأولى - الأوقاف الخيرية - الأوقاف العلمية).

#### ثانياً: دور المنظمات والمؤسسات الإسلامية في مواجهة التحديات التي تفرزها بالعالم الإسلامي.

- 1- القضايا والمؤسسات الإسلامية (سنة قطيس - لقر - الأعداء).
- 2- دور المنظمات والمؤسسات الإسلامية في مواجهة التحديات.
- أ- البنك الإسلامي للتنمية.
- ب- وكالة الأنباء الإسلامية الدولية (اين).
- ج- اللجنة الإسلامية للتربية والعلوم والثقافة (الإيسيسكو).
- د- مجمع الفقه الإسلامي.
- هـ- اللجنة الإسلامية للمهادنة الدولي.



# الوحدة الرابعة الراجعية والخامسة

## الوحدة الخامسة

### دور دولة الكويت في التعايش الإنساني

#### أولاً: التنوع اللغوي والتعايش الحضاري.

- التنوع اللغوي والتعايش الحضاري.
- التعايش بين العالم الإسلامي والديانات والثقافات المختلفة.

#### ثانياً: دور الكويت في مساعدة دول العالم الإسلامي.



## الوحدة الرابعة والخامسة :

## الأسئلة الموضوعية

### ١- أكمل العبارات التالية بما يناسبها فيما درست :

١. الملك الذي دعا الى انشاء تجمع يضم الدول الاسلامية يسمى .....
٢. عقد مؤتمر القمة العربية الثالثة في عام .....
٣. تم احراق المسجد الاقصى في عام .....
٤. دولة يكون فيها نسبة المسلمين ٥٠٪ أو أكثر ويحكمها حاكم مسلم تسمى الدولة .....
٥. نسبة المسلمين تبلغ في الدولة الاسلامية الى .....
٦. تضم منظمة التعاون الاسلامي في عضويتها .....
٧. يقع مقر منظمه التعاون الاسلامي بالملكة العربية السعودية في مدينه تسمى .....
٨. أنشأت منظمه التعاون الاسلامي في تاريخ .....
٩. تغير اسم منظمة المؤتمر الاسلامي الي اسم منظمه التعاون الاسلامي في عام .....
١٠. تغير اسم منظمه المؤتمر الاسلامي الي اسم .....
١١. يعقد مؤتمر القمة الاسلامية مرة كل .....
١٢. المدة التي يتراس فيها الامين العام لمنظمة التعاون الاسلامي .....
١٣. الهيئة التنفيذية لمنظمة المؤتمر الاسلامي تسمى .....
١٤. انعقد المؤتمر الاسلامي الاول في عام .....
١٥. انعقد المؤتمر الاسلامي الاول بمملكة المغرب بمدينة تسمى .....
١٦. انعقد المؤتمر الاسلامي الخامس في دولة تسمى .....
١٧. انعقد المؤتمر الاسلامي الخامس في دولة الكويت عام .....
١٨. انعقد المؤتمر الاسلامي الرابع في عام .....
١٩. انعقد المؤتمر الاسلامي الرابع في مدينه تسمى .....
٢٠. الشيخ الذي دعا الى اقامة المؤتمر الاسلامي الخامس في دولة الكويت يسمى الشيخ .....
٢١. انعقد المؤتمر الاسلامي الثالث عشر في عام .....
٢٢. انعقد المؤتمر الاسلامي الثالث عشر في مدينه تسمى .....
٢٣. يطلق على وكالة الانباء الاسلامية اسم .....
٢٤. يقع مقر وكالة الانباء الاسلامية (اينا) بالملكة العربية السعودية في مدينه تسمى .....
٢٥. تأسست وكالة الانباء الاسلامية اينا في عام .....
٢٦. تأسس البنك الاسلامي للتنمية في عام .....
٢٧. يقع مقر البنك الاسلامي للتنمية بالملكة العربية السعودية في مدينه تسمى .....
٢٨. يطلق على المنظمة الاسلامية للتربية والعلوم والثقافة .....
٢٩. تأسست المنظمة الاسلامية للتربية والعلوم والثقافة ( ايسيسكو ) في عام .....
٣٠. تأسس مجمع الفقه الاسلامي في عام .....
٣١. يقع مقر مجمع الفقه الاسلامي بالملكة العربية السعودية في مدينه تسمى .....
٣٢. تأسست اللجنة الاسلامية للهلال الدولي في عام .....
٣٣. يقع مقر اللجنة الاسلامية للهلال الدولي في مدينه تسمى .....



٣٤. استقلت دولة الكويت في عام .....
٣٥. صاحب فكرة انشاء الصندوق الكويتي للتنمية هو الشيخ .....
٣٦. تأسس الصندوق الكويتي للتنمية في عهد الشيخ .....
٣٧. تأسس الصندوق الكويتي للتنمية في عام .....
٣٨. أول مؤسسة تنموية في المنطقة يسمى .....
٣٩. تأسست جمعية الهلال الاحمر الكويتي عام .....
٤٠. الهيئة المساعدة للسلطات الرسمية في الجانب الانساني تسمى .....
٤١. تأسست الهيئة الخيرية الاسلامية العالمية .....
٤٢. تأسست الهيئة الخيرية الاسلامية في عهد الشيخ .....
٤٣. أكبر المؤسسات العالمية في المجال الانساني تسمى .....
٤٤. هيئة حكومية مستقلة تخضع لإشراف وزير الاوقاف والشؤون الاسلامية تسمى .....
٤٥. تأسس بيت الزكاة عام .....
٤٦. الدولة التي استضافت المؤتمرات الأول والثاني والثالث للمانحين لدعم الوضع الانساني في سوريا تسمى .....
٤٧. عقدت القمة الخليجية الثالثة و الثلاثون في ٢٠١٢ في مدينة تسمى .....
٤٨. عقد أول مؤتمر للمانحين لدعم الوضع الانساني في سوريا عام .....
٤٩. اختير الشيخ صباح الاحمد الصباح قائدا للعمل الانساني في تاريخ .....

٢) اكتب المفاهيم أو المصطلحات الدالة على العبارات التالية :

المفهوم	العبارة
.....	الدولة التي يكون فيها نسبة المسلمين ٥٠٪ أو أكثر من نسبة مجموع سكانها ويحكمها حاكم مسلم
.....	منظمة تضم في عضويتها ٥٧ دولة اسلامية مستقلة مقرها مدينة جدة
.....	مؤتمر ملوك ورؤساء الدول والحكومات ويعقد مرة كل ثلاث سنوات.
.....	الهيئة التنفيذية لمنظمة التعاون الاسلامي والتي تقوم بمباشرة الشؤون الموكلة إليها من المؤتمر يرأسها امين عام
.....	وكالة الانباء الاسلامية الدولية
.....	المنظمة الاسلامية للتربية والعلوم والثقافة
.....	صندوق مالي كويتي تأسس في ٣١ ديسمبر ١٩٦١ م، ويعد أول مؤسسة تنموية في المنطقة.
.....	هيئة مساعدة للسلطات الرسمية في الجانب الانساني تأسست عام ١٩٦٦ م تمارس عملها استنادا الى اتفاقيات جنيف الأربع والقوانين والمعاهدات الدولية التي تشكل القانون الدولي الانساني
.....	هيئة حكومية مستقلة تخضع لإشراف وزير الاوقاف والشؤون الاسلامية تأسست عام ١٩٨٢ م
.....	هيئة مستقلة متعددة الأنشطة ومن أكبر المؤسسات العالمية في المجال الانساني تأسست في عهد الشيخ جابر الاحمد الصباح عام ١٩٨٤ م



### ٣) ظلل الخيار الصحيح من بين الخيارات التي تلي كل عبارة :

١) احرق المسجد الأقصى في عام			
أ. ١٩٤٩	ب. ١٩٥٩	ج. ١٩٦٩	د. ١٩٧٩
٢) الدولة الإسلامية التي يكون فيها نسبة المسلمين			
أ. ٥٠٪	ب. ٦٠٪	ج. ٧٠٪	د. ٨٠٪
٣) عدد الدول الإسلامية التي انضمت الى منظمة التعاون الإسلامي يبلغ			
أ. ٥٥	ب. ٥٦	ج. ٥٧	د. ٥٨
٤) يقع مقر منظمة التعاون الإسلامي في مدينته تسمى			
أ. الرياض	ب. الكويت	ج. المنامة	د. جدة
٥) تم تغيير اسم منظمة المؤتمر الإسلامي الى اسم منظمته التعاون الإسلامي في عام			
أ. ٢٠١١	ب. ٢٠١٢	ج. ٢٠١٣	د. ٢٠١٤
٦) عقد المؤتمر الإسلامي الاول في عام			
أ. ١٩٦٨	ب. ١٩٦٩	ج. ١٩٧٠	د. ١٩٧١
٧) عقد المؤتمر الإسلامي الاول بمدينته تسمى			
أ. جدة	ب. الرياض	ج. الرباط	د. الدار البيضاء
٨) عقد المؤتمر الإسلامي الخامس في دولة تسمى			
أ. الكويت	ب. السعودية	ج. المغرب	د. تركيا
٩) عقد المؤتمر الإسلامي الرابع في مدينته تسمى			
أ. الرياض	ب. الدمام	ج. الدار البيضاء	د. الرباط
١٠) الشيخ الذي دعا الى اقامة المؤتمر الإسلامي الخامس في دولة الكويت			
أ. أحمد الجابر الصباح	ب. صباح الاحمد الصباح	ج. جابر الاحمد الصباح	د. عبد الله السالم الصباح
١١) اطلق اسم إينا على			
أ. مجمع الفقه الإسلامي	ب. وكالة الانباء الإسلامية	ج. الصندوق الكويتي	د. البنك الإسلامي للتنمية
١٢) أنشأ مجمع الفقه الإسلامي عام			
أ. ١٩٨٠	ب. ١٩٨١	ج. ١٩٨٢	د. ١٩٨٣
١٣) استقلت دولة الكويت عام			
أ. ١٩٦٠	ب. ١٩٦١	ج. ١٩٦٢	د. ١٩٦٣
١٤) صاحب فكرة انشاء الصندوق الكويتي لتنمية هو الشيخ			
أ. جابر الاحمد الصباح	ب. عبد الله السالم الصباح	ج. صباح الاحمد الصباح	د. نواف الاحمد الصباح
١٥) انشأ الصندوق الكويتي للتنمية في عهد الشيخ			
أ. جابر الاحمد الصباح	ب. عبد الله السالم الصباح	ج. صباح الاحمد الصباح	د. نواف الاحمد الصباح
١٦) استضافت دولة الكويت المؤتمر الاول والثاني والثالث للمانحين لدعم الوضع الإنساني في دولة			
أ. اليمن	ب. السودان	ج. سوريا	د. الصومال
١٧) عقدت القمة الخليجية الثالثة والثلاثون عام ٢٠١٢ في مدينته			
أ. الرياض	ب. جدة	ج. الرباط	د. المنامة

٤) ضع علامة (✓) أمام العبارة الصحيحة ، وعلامة (x) أمام العبارة الخاطئة مع التصويب:

الرقم	العبارة	أ	ب	التصويب
١	المدة التي يتراس فيها الامين العام لمنظمة التعاون الاسلامي ٣ سنوات			
٢	اقيم المؤتمر الاسلامي الخامس في دولة الكويت			
٣	انعقد المؤتمر الاسلامي الرابع في مدينة جدة			
٤	يطلق على المنظمة الاسلامية للتربية والعلوم والثقافة ايسيسكو			
٥	تأسس مجمع الفقه الاسلامي في عام ١٩٨٠م			
٦	يقع مقر المنظمة الاسلامية للتربية والعلوم ايسيسكو في مدينة الرباط			
٧	يقع مقر اللجنة الاسلامية للهلال الدولي في مدينة جدة			
٨	تبلغ نسبة دعم البنك الاسلامي للتنمية والتعليم في الدولة الاسلامية ٨,٥٪			
٩	يتكلم من ٢٠-٣٠٪ اللغة العربية في العالم الاسلامي وتليها اللغات الاخرى.			
١٠	صاحب فكرة انشاء الصندوق الكويتي لتنمية هو الشيخ جابر الاحمد			
١١	تأسس الصندوق الكويتي للتنمية في عام ١٩٦٦			
١٢	تأسست جمعية الهلال الاحمر عام ١٩٦٦م.			
١٣	تأسست الهيئة الخيرية الاسلامية العالمية عام ١٩٨٥			
١٤	تأسست الهيئة الخيرية الاسلامية في عهد الشيخ جابر الاحمد الصباح			
١٥	استضافت دولة الكويت المؤتمر الاول والثاني والثالث للمانحين لدعم الوضع الانساني في دولة تسمى سوريا			
١٦	عقدت القمة الخليجية الثالثة والثلاثون في ٢٠١٢ في مدينة تسمى الرياض			

( ٥ ) صنف الكلمات التالية إلى مكانها المناسب في الجدول الذي يليها :

أ. ( البنيا - كازاخستان - السنغال - سورينام )

القاره	قاره آسيا	قارة افريقيا	قاره اوروبا	قارة امريكا الجنوبية
اسم الدولة				

ب. ( اسطنبول - الكويت - الرباط )

المؤتمرات	المؤتمر الاسلامي الاول	المؤتمر الاسلامي الخامس	المؤتمر الاسلامي الثالث عشر
اسم المدينة			

ج. ( الملك فيصل بن عبد العزيز / الشيخ جابر الأحمد الصباح / الشيخ صباح الاحمد الصباح )

الشخصية	الحدث
	دعا الى انشاء تجمع يضم الدول الاسلامية
	دعا الى عقد القمة الخامسة في الكويت
	أعلن عن استضافة الكويت للمؤتمر الاول للمانحين

( ٦ ) استنتج الرابط بين العناصر التالية :

١ / القمة الاسلامية + مجلس وزراء الخارجية + الامانة العامة + محكمة العدل الاسلامية الدولية  
(.....)

٢ / المساعدات الزراعية + المساعدات الصناعية + المساعدات الصحية + المساعدات التعليمية  
(.....)

٣ / جمعية الهلال الأحمر الكويتي + الهيئة الخيرية الاسلامية العالمية + بيت الزكاة  
(.....)



## ( ٧ ) أكمل المخططات السهمية التالية :



٨) اختر للمجموعة (أ) ما يرتبط بها من المجموعة (ب) بوضع في المكان المناسب.

م	المجموعة (أ)	الرقم المناسب	المجموعة (ب)
١	مجمع الفقه الاسلامي		بنغازي
٢	ايسيسكو		جدة
٣	اللجنة الاسلامية للهلال الدولي		الرباط
			الرياض

م	المجموعة (أ)	الرقم المناسب	المجموعة (ب)
١	المؤتمر الاسلامي الاول		الكويت
٢	المؤتمر الاسلامي الخامس		الرباط
٣	المؤتمر الاسلامي الثالث عشر		الدار البيضاء
			اسطنبول

٩) لاحظ الصورة التي أمامك ، ثم أكتب الحدث التاريخي الدال عليها :



الحدث :  
الدولة :  
العام :  
المعتدى :

(١٠) لاحظ الأشكال والصور المقابلة ، ثم أجب عن الأسئلة التالية :



(١) أكمل العبارات التالية بما يناسبها :

- الشعار المقابل يمثل .....  
تم انشائه في عام .....  
يقع مقره في مدينة .....



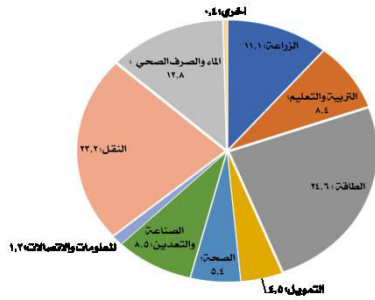
(٢) أكمل العبارات التالية بما يناسبها :

- الشكل المقابل يمثل .....  
اذكر اثنين من اهدافها .....  
١- .....  
٢- .....



(٢) أكمل العبارات التالية بما يناسبها :

- أر ما اسم الشخصية في الصورة المقابلة ؟ .....  
بد في أي عام عقد المؤتمر الاسلامي الخامس بدولة الكويت .....  
اذكر اثنين من قرارات المؤتمر الاسلامي الخامس .....  
١- .....  
٢- .....



(٣) أكمل العبارات التالية بما يناسبها

- ١- أعلى نسبة دعم قدمها البنك الاسلامي للتنمية في الدول الاسلامية في مجال .....  
٢- كم تبلغ نسبة النقل ؟ .....



(٤) أكمل العبارات التالية بما يناسبها :

١. الشعار المقابل يمثل ؟ .....  
٢. متى تم تأسيسه ؟ .....  
٣. صاحب الفكرة ؟ .....  
٤. اكتب اثنين من أهداف الصندوق .....  
أ .....  
ب .....



(٤) أكمل العبارات التالية بما يناسبها :

- ٣- ما اسم الشخصية في الصورة المقابلة ؟ .....  
٤- بماذا لقب ؟ .....  
١- ما هو تاريخ حصوله على هذا اللقب؟ .....



## الأسئلة المقالية :

### (١) علل / اذكر السبب.

١) إنشاء منظمة التعاون الاسلامي

..... \*

٢) انعقاد المؤتمر الاسلامي الخامس

..... \*

٣) اعتبر خطاب الشيخ جابر الأحمد من الوثائق الرسمية في منظمة التعاون الاسلامي

.....

٤) دعم المنظمة الاسلامية للتربية والعلوم والثقافة للمؤسسات العلمية داخل الدول الاسلامية

.....

٥) تأسيس بيت الزكاة الكويتي

.....

### (٢) اكتب ما تعرفه عن :

١- جمعية الهلال الأحمر

..... \*

..... \*

٢- الهيئة الخيرية الاسلامية العالمية

..... \*

..... \*

٣- بيت الزكاة

..... \*

..... \*

(٣) عدد ما يلي :

١) أهداف منظمة التعاون الاسلامي

- أ) .....
- ب) .....

أ) أهداف الجانب السياسي لمنظمة التعاون الاسلامي.

- ب) .....
- ج) .....

أ) أهداف الجانب الاقتصادي لمنظمة التعاون الاسلامي.

- أ) .....
- ب) .....

٢) أهداف الجانب الثقافي والاجتماعي لمنظمة التعاون الاسلامي.

- أ) .....
- ب) .....

٣) مبادئ منظمة التعاون الاسلامي

- أ) .....
- ب) .....

٤) المنظمات والمؤسسات الاسلامية

- أ) .....
- ب) .....

٥) أهداف الصندوق الكويتي للتنمية

- أ) .....
- ب) .....

٦) نطاقات عمل الصندوق الكويتي للتنمية

- أ) .....
- ب) .....

٧) الجمعيات والهيئات الخيرية في دولة الكويت

- أ) .....
- ب) .....

( ٤ ) أقرأ الفقرات التالية ثم أجب مما يليها من أسئلة :

دعا عاهل المملكة العربية السعودية الملك فيصل بن عبدالعزيز آل سعود في مؤتمر القمة العربية الثالثة في عام ١٩٦٥ م إلى إنشاء تجمع يضم الدول الإسلامية، ولكن هذه الدعوة لم تر النور إلا بعد إحراق المسجد الأقصى في عام ١٩٦٩ م.

١/ عرف ما تحته خط

ج ١٢ من صاحب الدعوة لإنشاء تجمع يضم الدول الإسلامية ؟  
أ ١٣ ما سبب هذه الدعوة ؟

دعا سمو أمير دولة الكويت الراحل الشيخ/ جابر الأحمد الجابر الصباح من مدينة الدار البيضاء في نهاية الجلسة الختامية لمؤتمر القمة الإسلامي الرابع عام ١٩٨٤ م لعقد القمة المقبلة في الكويت في عام ١٩٨٧ م، وانتخب سمو الأمير رئيساً للمؤتمر بحضور ٤٤ دولة، حيث استعرض سموه عدة قضايا تواجه أمتنا الإسلامية، ومنها دعم القضية الفلسطينية. واعتبر خطابه من الوثائق الرسمية للمؤتمر لما فيه من أهمية للعالم الإسلامي، والدول الأعضاء في المنظمة.

١- في أي عام أقيم المؤتمر الإسلامي الرابع ؟

٢- في أي مدينة تمت استضافة مؤتمر القمة الإسلامي الرابع ؟

٣- أين أقيم المؤتمر الإسلامي الخامس ؟

٤- ما أهم قرارات المؤتمر الإسلامي الخامس ؟

★

★



( ٥ ) قارن بين كل من :






١- جوانب منظمة التعاون الاسلامي من حيث الأهداف :

وجه المقارنة	الجانب السياسي	الجانب الاقتصادي	الجانب الثقافي والاجتماعي
الأهداف			




٢- الجمعيات والهيئات الخيرية في دولة الكويت والصندوق الكويتي من حيث سنة التأسيس والهدف من التأسيس

وجه المقارنة	الهلال الاحمر الكويتي	الهيئة الخيرية الاسلامية العالمية	بيت الزكاة	الصندوق الكويتي
سنة التأسيس				
الهدف من المؤسسة				

### ٣- المنظمات والمؤسسات الاسلامية:-

الشعار	الاسم	سنة التأسيس	المقر	الأهداف	دورها
	.....	.....	.....	.....	.....
	.....	.....	.....	.....	.....
	.....	.....	.....	.....	.....
	.....	.....	.....	.....	.....
	.....	.....	.....	.....	.....

#### ٤- المؤتمرات الاسلامية:-

وجهه المقارنة	المؤتمر الاسلامي الاول	المؤتمر الاسلامي الخامس	المؤتمر الاسلامي الثالث عشر
السنة	.....	.....	.....
سبب الانعقاد	.....	.....	.....
مقر الانعقاد	 .....	 .....	 .....
أهم القرارات	..... ..... .....	..... ..... .....	..... ..... .....

#### ملحق الأحداث :

العام	الحدث	العام	الحدث
١٩٦١م		١٩٨٣م	❖
١٩٦٥م		١٩٨٤م	❖
١٩٦٦م		١٩٨٧م	❖
١٩٦٩م		٢٠١٢م	❖
١٩٧٢م		٢٠١٣م	❖
١٩٧٥م		٢٠١٤م	❖
١٩٨٢م		٢٠١٦م	❖