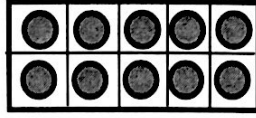


الصف : ١ /

الاسم :






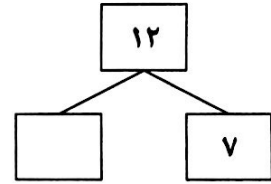
(١) اكتب رمز العدد :



(٣) استكمل رسم العناصر :




(٢) أكمل :



(٤) اتبع النمط . حوِّط ما يأتي تالياً لإكمال النمط :



(٥) استخدم القاعدة لتجمع :-



(٦) قارن بوضع رمز العلاقة المناسب < , > , = :

١٠ ○ ٦

٥ ○ ٨

(٧) أكمل سلسلة الاعداد :

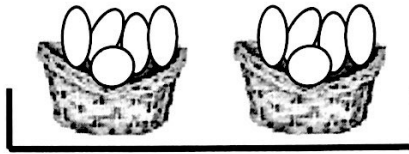
		٨			٥	٤	
--	--	---	--	--	---	---	--

(٨) صل بالعبارة المناسبة :

$$10 = 0 + 0$$

$$9 = 1 + 8$$

$$7 = 1 - 8$$



(٩) حل المسألة التالية:



لدى أحمد ٧



و مع أخيه ٢

كم عدد كل السيارات مع الاثنين ؟



$$\text{_____} = \text{_____} \square \text{_____}$$

(١٠) أوجد الناتج :

$$\begin{array}{r} 12 \\ 9 - \\ \hline \square \end{array}$$

$$\begin{array}{r} 3 \\ 8 + \\ \hline \square \end{array}$$

$$\text{_____} = 5 - 11$$

$$\text{_____} = 4 + 4$$

اسم المدرسة :

نتائج تحليل اختبار مسح لمادة الرياضيات

وزارة التربية

عدد المتعلمين : ، عدد المتقدمين :

العام الدراسي 2018 - 2019 م

الإدارة العامة لمنطقة التعليمية

التوجيه الفني للرياضيات

رقم السؤال	المهارة	عدد الإجابات الصحيحة	عدد الإجابات نصف الصحيحة	عدد الإجابات الخاطئة	عدد الأسئلة المتروكة	نسبة تحقق المهارة
1	كتابة رمز العدد					
2	مكونات العدد					
3	استكمال رسم العناصر					
4	إكمال النمط					
5	القاعدة					
6	المقارنة					
7	إكمال سلسلة أعداد					
8	توصيل العبارة المناسبة					
9	حل مسألة حياتية تتضمن الجمع					
10	الجمع					
	الطرح					

✘ تحسب نسبة تحقق المهارات بقسمة مجموع عدد الإجابات الصحيحة وعدد الإجابات النصف صحيحة على عدد جميع الإجابات مضروباً في 100

مدير المدرسة :
توقيعه :

ختم المدرسة

رئيس القسم :
توقيعه :

م	رقم السؤال	اسم المتعلم	1	2	3	4	5	6	7	8	9	10	نسبة تحقق المهارات	التقدير	
			كتابة رمز العدد	مكونات العدد	استكمال رسم العناصر	إكمال النمط	القاعدة	المقارنة	إكمال سلسلة أعداد	توصيل العبارة المناسبة	حل مسألة حياتية تتضمن الجمع	الجمع			الطرح
1															
2															
3															
4															
5															
6															
7															
8															
9															
10															
11															
12															
13															
14															
15															
16															
17															
18															
19															
20															
21															
22															
23															
		المجموع	عدد الإجابات الصحيحة												
			عدد الإجابات نصف الصحيحة												
			عدد الإجابات الخاطئة												
			عدد الأسئلة المتروكة												

تستخدم العلامات التالية (✓ للإجابة الصحيحة ، ✗ للإجابة نصف الصحيحة ، ✖ للإجابة الخاطئة ، - للسؤال المتروك)

تحتسب نسبة تحقق المهارات بقسمة مجموع عدد الإجابات الصحيحة وعدد الإجابات النصف صحيحة على عدد جميع الإجابات مضروباً في 100

مدير المدرسة :
توقيعه

ختم المدرسة

رئيس القسم :
توقيعه

