

المجال الدراسي : اجتماعيات
الزمن : ساعة وخمس وأربعون
عدد الأوراق : ٦ أوراق

نموذج اجابة امتحان نهاية الفترة الدراسية الثانية
الصف السابع (الكويت والوطن العربي)
العام الدراسي (٢٠١٧-٢٠١٨م)

وزارة التربية
الإدارة العامة لمنطقة الاحمدى التعليمية
التوجيه الفني للاجتماعيات

الامتحان يتكون من خمس أسئلة ، أجب على جميع الأسئلة : لكل نقطة درجة واحدة=٥ درجة

السؤال الاول (موضوعي) يتكون من (أ - ب -) :

(أ) اختر من المجموعة (أ) ما يناسبها من المجموعة (ب) بوضع الرقم في مكانة الصحيح :-

ص ١٤١، ١٤٢، ١٤٣، ١٤٤، ١٤٥

الرقم	المجموعة (أ)	الرقم المناسب	المجموعة (ب)
١-	الصناعات التجميعية	٣	صناعة الأسمدة
٢-	الصناعات التعدينية	١	قطع السيارات
٣-	الصناعات البتروكيماوية	٢	صفائح النحاس
٤-	الصناعات التحويلية	٤	الصناعات الغذائية
٥-	الصناعات الحرفية	٥	صناعة المنسوجات
		صناعات زراعية

(ب) اكتب المفاهيم أو المصطلحات الدالة على العبارات التالية :

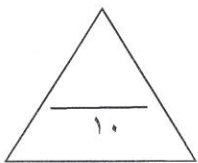
١- (مقومات الصناعة) العوامل التي تساعد على تحويل المادة الخام إلي سلع استهلاكية . ص ١٥٢

٢- (تنمية) التطور والتطوير . ص ١٧٢

٣- (تلوث) الضرر الذي يلحق بالتربة والهواء والماء ويصيب عناصر البيئة من عدة مصادر . ص ١٦٦

٤- (الصناعات التعدينية) تركيب وجمع المواد المصنعة على اختلاف مصادرها كي نحصل على سلع متنوعة . ص ١٤٣

٥- (احصاء حيوي) تسجيل المواليد والوفيات وحالات الزواج والطلاق وتحصل على بياناتها من واقع السجلات الرسمية للدولة . ص ٩٩



الدرجة بالحروف:

نموذج اجابة امتحان نهاية الفترة الدراسية الثانية لمادة الاجتماعيات الصف السابع (الكويت والوطن العربي) للعام الدراسي ٢٠١٧-٢٠١٨ م

لكل نقطة درجة واحدة ١٠ درجات

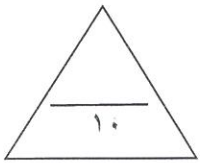
السؤال الثاني : يتكون من (أ - ب - ج) :

(أ) استنتج المفهوم الأكبر للعبارة التالية:

- ١- حبوب غذائية - فواكة - غلات تجارية وصناعية ← محاصيل زراعية ص ١١٣
- ٢- إبل - أغنام - ماعز ← ثروة رعوية ص ١١٨
- ٣- مجلس وزاري - مكتب تنفيذي - الأمانة ← أجهزة منظمة أوابك ص ١٣٥

(ب) اختر الإجابة الصحيحة من بين البدائل التالية وضع خطاً تحتها:

- ١- النسبة المئوية للموارد المائية التي تأتي من خارج حدود الوطن العربي تبلغ: ص ١٦٤
أ- ٢٠% ب- ٣١% ج- ٤٣% د- ٥٠%
- ٢- أنشئت جامعة الدول العربية في عام: ص ١٧٨
أ- ١٩٤٠م ب- ١٩٤٥م ج- ١٩٤٦م د- ١٩٤٨م
- ٣- الدولة التي استضافت القمة العربية الاقتصادية عام ٢٠٠٩م هي دولة: ص ١٨٦
أ- البحرين ب- الكويت ج- مصر د- السعودية
- ٤- استخدام التكنولوجيا في صناعة الأقمار الصناعية تمثل تنمية: ص ١٧٣
أ- مستدامة ب- بشرية ج- اقتصادية د- اجتماعية
- ٥- تحتل سوريا المركز الأول في إنتاج فاكهة: ص ١١٤
أ- الموز ب- الموالح ج- التمور د- العنب
- ٦- تتركز حقول النفط بنسبة ٨٠% بالنسبة للوطن العربي في منطقة: ص ١٢٦
أ- خليج السويس ب- الخليج العربي ج- الصحراء الكبرى د- هضبة نجد
- ٧- عقد المؤتمر الدولي الأول لمانحي سوريا عام ٢٠١٣م بمبادرة الشيخ:
أ- جابر الأحمد ب- عبدالله السالم ج- صباح الأحمد د- صباح السالم



الدرجة بالحروف:

نموذج اجابة امتحان نهاية الفترة الدراسية الثانية لمادة الاجتماعيات الصف السابع (الكويت والوطن العربي) للعام الدراسي ٢٠١٧-٢٠١٨ م

لكل نقطة درجة واحدة=١٥ درجة

السؤال الثالث : يتكون من (أ - ب -) :

(أ) ظلل الاجابة الصحيحة المقابلة للعبارات التالية :

م	العـــــــــبارة	(أ)	(ب)
١	أبرز أولويات مؤتمر القمة العربية الاقتصادية والتنمية الاجتماعية سنة ٢٠٠٩ هي ص١٨٦	منح تأشيرة السفر	اعادة تعمير غزة
٢	بقاء عناصر الطبيعة في حالة من التوازن لتؤدي وظائفها. ص١٧٠	تلوث بيئي	توازن بيئي
٣	تبلغ نسبة انتاج الوطن العربي من الأبقار ص١١٨	%٤٥	%٤٩
٤	يتوزع سكان الوطن العربي في القارة الأفريقية بنسبة ص٩٩	%٣٠	%٧٠
٥	الدول العربية التي تمثل المرتبة الأولى في انتاج المنجنيز هي. ص١٣٣	المغرب	موريتانيا

(ب) ضع رقم كل عبارة بالمكان المناسب لها بالدائرة الموجودة في الخريطة :



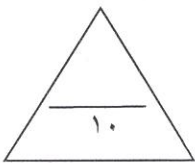
الرقم ١- الدولة العربية الأولى في انتاج الرصاص . ص١٣٢

الرقم ٢- الدولة العربية الأولى في الانتاج السمكي . ص١٢٣

الرقم ٣- الدولة العربية الأولى في انتاج الحديد . ص١٣٣

الرقم ٤- الدولة العربية الأولى في انتاج البن . ص١١٤

الرقم ٥- الدولة العربية التي تحتل المركز الأول في انتاج النفط الخام. ص١٢٩



الدرجة بالحروف:.....

السؤال الرابع : يتكون من (أ - ب)

لكل نقطة درجة واحدة = ١٥ درجة

(أ) عرف المفاهيم التالية :

- ١- التجارة البينية : التبادل التجاري بين الدول العربية . ص ١٥٢
- ٢- الطاقة : قوي محركه للآلات وعنصر مهم للتقدم والتطور الاقتصادي في جميع المجالات . ص ١٢٥
- ٣- أوبك : منظمة القطار العالمية المصدرة للنفط. ص ١٣٤
- ٤- التضامن العربي : هو العمل علي توثيق الصلات بين الدول والشعوب العربية وحماية مصالحها. ص ١٧٧
- ٥- النمو السكاني : تزايد عدد السكان من عام لآخر نتيجة الزيادة الطبيعية والهجرة. ص ١٠٧
- ٦- هجرة داخلية : انتقال من القرى إلى المدن . ص ١٠٦

(ب) اقرأ الفقرة التالية جيدا ثم اجب عما يليها من أسئلة :-

عانت الدول العربية الجافة وشبه الجافة من مشكلة التصحر في أراضيها مما اثر علي الحياة النباتية وانعكاسه علي الوضع الاقتصادي للدول وتعود المشكلة لعدة عوامل طبيعية وبشرية وللتغلب عليها لابد من وضع الخطط العلاجية لها.

١- عرف ما تحته خط : ص ١٦٢

- زحف رمال الصحراء علي المناطق الجافة وشبه الجافة .

٢- علل حدوث مشكلة التصحر . ص ١٦٢

أ- بشرية

ب- طبيعية

٣- عدد الخطط الاستراتيجية التي اعتمدها الدول العربية لعلاج المشكلات الزراعية . ص ١٦٣

أ- زيادة الانتاج عن طريق الساليب العلمية .

ب- زيادة المساحات المزروعة .

ج- اقامة مشروعات الري .

٤- التصحر أحد المشكلات المرتبطة بالزراعة . أذكر المشكلات الأخرى . ص ١٦١

أ- عدم استغلال الاراضى القابلة للزراعة لندرة المياه او تذبذب الامطار أو قلة الايدي العاملة.

ب- اتباع طرق الزراعة التقليدية .

ج- الرعى الجائر .

• تلوث التربة نتيجة للإسراف في استخدام المبيدات الحشرية وارتفاع نسبة الملوحة بالتربة.

الدرجة بالحروف:.....

١٥



تم تحميل الملف من

موقع مدرستي الكويتية

www.q8-online.com

هنا تحت كل ما تحتاجه من ملفات

نموذج اجابة امتحان نهاية الفترة الدراسية الثانية لمادة الاجتماعيات الصف السابع (الكويت والوطن العربي) للعام الدراسي ٢٠١٧-٢٠١٨م

لكل نقطة درجة واحدة=٥ ادرجة

السؤال الخامس : يتكون من (أ - ب) :
(أ) فرق بين كلا من :

الموارد البشرية ص ١٠٩	الموارد الطبيعية ص ١٠٩
هي الثروات التي منحها الله لإقليم من دون أن يكون للإنسان أي دور في وجودها .	هي التي ترتبط بالسكان من حيث أعدادهم وتوزيعهم ومناسبة أعدادهم لمساحة الأرض التي يستغلونها .
الغاز الطبيعي ص ١٢٥	النفط ص ١٢٥
غاز مصاحب للنفط الخام ، أو يوجد منفرداً تتم غسالته لإستخدامات عديدة .	بقايا عضوية على هيئة نباتات وحيوانات دقيقة ترسبت في عصور قديمة وانطمرت تحت رواسب سميكة وتحولت بالضغط والحرارة إلى صورتها الحالية .

(ب) علل لما يأتي :

١. عدم استغلال الأراضي الصالحة للزراعة في الوطن العربي . ص ١٦١
- بسبب ندرة مياه الري
- تذبذب كمية الأمطار
• قلة الأيدي العاملة

٢. الأغنام العربية تحتل مكانا مهما ضمن الثروة الرعوية . ص ١١٨
- لأنها الأكثر انتشارا في المراعي العربية
- أكثر الحيوانات المستأنسة والملائمة لمراعي الوطن العربي
- أهمية منتجاتها بالنسبة للسكان
• مصدر أساسي من مصادر الثروة القومية

٣- تدني وفرة المياه في الوطن العربي . ص ١٦٤
-النمو السريع

- ٥٠% من الموارد المائية من الخارج
• الطرق التقليدية في الري • عدم وجود برامج لإدارة المياه • الشبكات قديمة

(ب) قارن بين كلا من :

وجه المقارنة	التنمية البشرية	التنمية المستدامة . ص ١٢٥
الأهداف	• كيف يتم توظيف قدرات الانسان العربي لبناء مجتمع المعرفة • الاهتمام بالطفل العربي ورعايته في مرحلة الطفولة المبكرة • توفير فرص العمل • رفع كفاءة الثروة البشرية علميا وفكريا وروحياً • تعميق المشاركة في الرأي في ظل الديمقراطية .	• القضاء على الفقر • القضاء على الجوع • الصحة الجيدة • التعليم الجيد • المساواة بين الجنسين • المياه النظيفة • العمل اللائق ونمو الاقتصاد • الصناعة الابتكار • مدن ومجتمعات • الحد من أوجه عدم المساواة • الانتاج والاستهلاك • العمل المناخي • الحياة تحت الماء • الحياة في البر • محلية مستدامة • السلام والعدل