



وسائل الوحدة (١٣)

للمصف الأول

المعلمة : أمل الموسى

إعداد

رئيسة القسم : شيماء المطيري

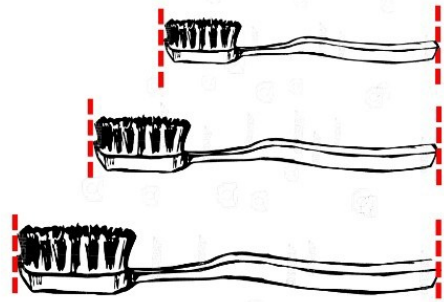
إشراف

حوظ ما يأتي تاليا لإكمال النمط



قارن بين الأطوال ثم لون :


الأطول باللون  والأقصر باللون 



الطول

بند (١٣ - ١)

حوظ الأطول



حل المسألة

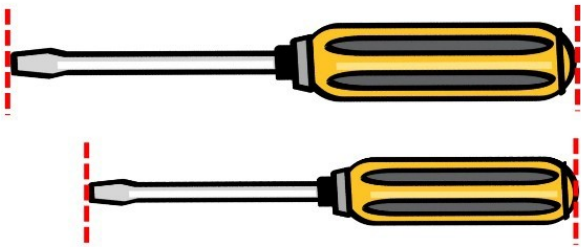
صل كل بطاقة بالشخصية المناسبة :




إذا كانت مي أطول من مها
ومها أقصر من رغد
ورغد أطول من مي



حوظ الأقصر



قارن بين وزن الأشياء باستخدام اليدين



لون الأثقل

• الوزن

بند (١٣ - ٣)



قارن بين وزن الأشياء باستخدام اليدين



صل (أخف ، أثقل)



أثقل

أخف


حوط الأثقل



قارن بين وزن الأشياء باستخدام اليدين



صل (أخف ، أثقل)




أثقل

أخف

حوط أيهما أخف وزناً ، كوب القهوة قبل الشرب أو بعده



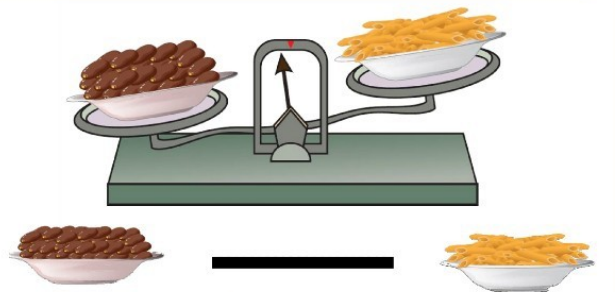
قارن بين وزن الأشياء باستخدام اليدين



لون الأخف



لون الكلمة المناسبة




أثقل من

يساوي

أخف من

لون الوعاء الذي سعته أكثر




• قياس الوزن







بند (١٣-٤)



لون الوعاء الذي سعته أكثر



استخدم  و  . قدر ثم قس .







القياس	التقدير	الأشياء
تقريباً  _____	تقريباً  _____	
تقريباً  _____	تقريباً  _____	

حوط الوعاء الذي سعته أقل



استخدم  و  . قدر ثم قس .

إلى كم  تقريباً تحتاج للحصول على تكافؤ الميزان

القياس	التقدير	الأشياء
تقريباً  _____	تقريباً  _____	
تقريباً  _____	تقريباً  _____	

حوط الوعاء الذي سعته أقل



• السعة

بند (١٣-٥)



صل كل وعاء بالكلمة المناسبة

أقل سعة

أكثر سعة



• النقود

بند (٩-١٣)



• قياس السعة

بند (٦-١٣)



ارسم قطع النقود التي ستستخدمها

لشراء الأشياء التالية

لائحة أسعار كل قطعة

ارسم قطع النقود التي ستستخدمها		لائحة أسعار كل قطعة	
لشراء الأشياء التالية		السعر	القطعة
		٢٥ فلس	
		٣٥ فلس	
		٣٠ فلس	

استخدم . قدر ثم قس .



القياس	التقدير	الأشياء
تقريباً	تقريباً	
تقريباً	تقريباً	
تقريباً	تقريباً	

حوظ كم شيئاً يمكن شراؤه من المحل :

لديك ١٥ دينار

حوظ كم شيئاً يمكن شراؤه من المحل :

لدى أخاك ٥٢ دينار

• إيجاد الوحدات الناقصة

بند (١٣ - ٧)




إذا كان يسع ٦

لون المناسبة لملء من نفس النوع



و



إذا كان

فحوظ عدد المشابك التي تدل على طول الكتاب




إذا كانت تنتج

فإن عدد التي يتم إنتاجها من

تقريباً

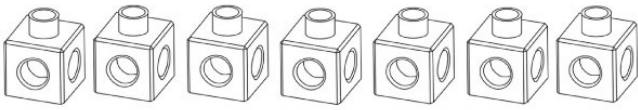


— =

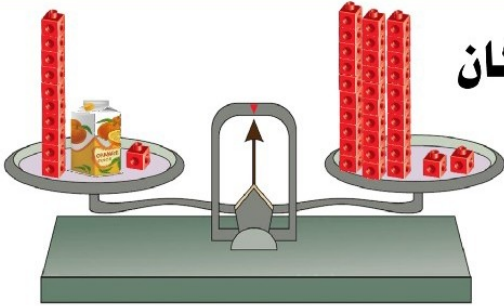


إذا كان

فلون عدد المكعبات التي تساوي وزن



إذا كان



فإن وزن = تقريباً

من خلال الرزنامة أجب عما يلي :

فبراير						
السبت	الجمعة	الخميس	الأربعاء	الثلاثاء	الاثنين	الأحد
٤	٣	٢	١			
١١	١٠	٩	٨	٧	٦	٥
١٨	١٧	١٦	١٥	١٤	١٣	١٢
٢٥	٢٤	٢٣	٢٢	٢١	٢٠	١٩
				٢٨	٢٧	٢٦

ما هو اليوم الأول الذي يبدأ به هذا الشهر ؟

من خلال الرزنامة أجب عما يلي :

فبراير						
السبت	الجمعة	الخميس	الأربعاء	الثلاثاء	الاثنين	الأحد
٤	٣	٢	١			
١١	١٠	٩	٨	٧	٦	٥
١٨	١٧	١٦	١٥	١٤	١٣	١٢
٢٥	٢٤	٢٣	٢٢	٢١	٢٠	١٩
				٢٨	٢٧	٢٦

كم يوم سبت في هذا الشهر ؟

• قياس الوقت



من خلال الرزنامة أجب عما يلي :

فبراير						
السبت	الجمعة	الخميس	الأربعاء	الثلاثاء	الاثنين	الأحد
٤	٣	٢	١			
١١	١٠	٩	٨	٧	٦	٥
١٨	١٧	١٦	١٥	١٤	١٣	١٢
٢٥	٢٤	٢٣	٢٢	٢١	٢٠	١٩
				٢٨	٢٧	٢٦

كم يوماً في هذا الشهر ؟

من خلال الرزنامة أجب عما يلي :

فبراير						
السبت	الجمعة	الخميس	الأربعاء	الثلاثاء	الاثنين	الأحد
٤	٣	٢	١			
١١	١٠	٩	٨	٧	٦	٥
١٨	١٧	١٦	١٥	١٤	١٣	١٢
٢٥	٢٤	٢٣	٢٢	٢١	٢٠	١٩
				٢٨	٢٧	٢٦

كم يوم أحد في هذا الشهر ؟

من خلال الرزنامة أجب عما يلي :

فبراير						
السبت	الجمعة	الخميس	الأربعاء	الثلاثاء	الاثنين	الأحد
٤	٣	٢	١			
١١	١٠	٩	٨	٧	٦	٥
١٨	١٧	١٦	١٥	١٤	١٣	١٢
٢٥	٢٤	٢٣	٢٢	٢١	٢٠	١٩
				٢٨	٢٧	٢٦

في أي يوم من أيام الأسبوع يوافق ٢٦ فبراير (يوم التحرير) ؟

من خلال الرزنامة أجب عما يلي :

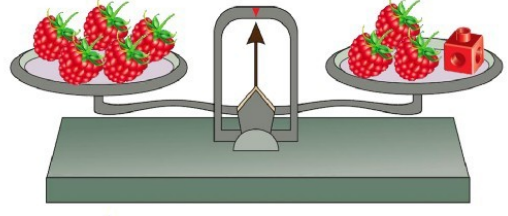
فبراير						
السبت	الجمعة	الخميس	الأربعاء	الثلاثاء	الاثنين	الأحد
٤	٣	٢	١			
١١	١٠	٩	٨	٧	٦	٥
١٨	١٧	١٦	١٥	١٤	١٣	١٢
٢٥	٢٤	٢٣	٢٢	٢١	٢٠	١٩
				٢٨	٢٧	٢٦

في أي يوم من أيام الأسبوع يوافق ٦ فبراير ؟

• مراجعة الوحدة (١٣)

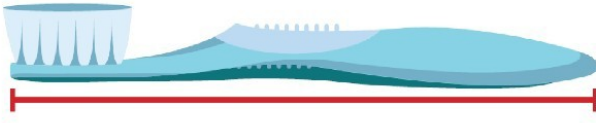
بند (١٣ - ١٠)

أكمل



وزن  =  تقريباً

كم  تقريباً طول الفرشاة :



طول الفرشاة =  تقريباً

حوظ أيهما استخدم أكثر؟

استخدم ناصر  في القياس واستخدم سالم  في القياس



حوظ أيهما استخدم أكثر؟  

حوظ الإجابة الصحيحة


الوعاء ذو السعة الأصغر .



حوظ الإجابة الصحيحة


عدد الأسابيع بالشهر الواحد

أسابيع تقريباً _____



حوظ الإجابة الصحيحة

المزهرة الأخف .



ارسم قطع النقود التي قيمتها ٣٥ فلس

