



وزارة التربية
MINISTRY OF EDUCATION



دليل الاجتماعيات الإلكتروني

للمرحلة المتوسطة

إعداد

الصف السادس

أ. إيمان فهد العجمي
أ. أسامة عبدالله بكري
أ. أسرار محمد الشمري
أ. أسارة مبارك المعصب
أ. حصة ناصر المطيرات
أ. مريم فهد المطيري
أ. مها خالد البيدان
أ. موضي سعد العتيبي
أ. نورة عماد العنزي
أ. وديان عبدالله المطيري

الصف السابع

أ. غدیر ناصر العازمي
أ. فاطمة مخلف المويزي
أ. مساعد ردن المطيري
أ. أنوار الرشیدی
أ. جلال عبد الحافظ
أ. زينب علي الأشوك
أ. شهد علي النومس
أ. وضحة الروقي

تحت إشراف

الموجه الفني الأول للاجتماعيات

أ. دلال محمد الأنصاري

إشراف ومراجعة

الصف السابع

الموجه الفني: أ. محمد إبراهيم البحوه
الموجه الفني: أ. عبد الرحمن العنزي
الموجه الفني: أ. نوير سعد الخالدي
المعلمة: أ. غدیر ناصر العازمي

الصف السادس

الموجه الفني: أ. شريفة خلف عويد الطواله الشمري
الموجه الفني: أ. عهود لافي المطيري
الموجه الفني: أ. أميمة محمد عبدالعزيز
المعلمة: أ. غدیر ناصر العازمي

طباعة وتنسيق

أ. زينب علي الأشوك



الاقتراحات والملاحظات

ssfarkuwait@gmail.com

جميع الحقوق محفوظة

Fr_Social

الوحدة الأولى



السؤال الأول : اكمل العبارات التالية بما يناسبها فيما درست :-

- ١- يمتد الوطن العربي شمال قاره افريقيا وجنوب غربي لقاره **اسيا** ص ٢١
- ٢- يضم الوطن العربي **٢٢** دولة عربية ص ٢١
- ٣- مساحات الجانب الافريقي اكبر من مساحات الجانب **الاسيوي** ص ٢١
- ٤- تبلغ مساحة الوطن العربي حوالي **١٣,٥٠٠** مليون كم ٢ ص ٢٣
- ٥- تمثل مساحة الوطن العربي بالنسبة لمساحة العالم نحو **١٠%** ص ٢٣
- ٦- تتكون جمهوريه جزر القمر من اتحاد اربع جزر وعاصمتها تسمى **موروني** ص ٢٣
- ٧- البحر الفاصل بين الجناح الاسيوي والجناح الافريقي لدول الوطن العربي يسمى **البحر الاحمر** ص ٢٤
- ٨- الدائرة العرضية التي تقسم الكره الأرضية الى قسمين شمالي وجنوبي يسمى **خط الاستواء** ص ٣١
- ٩- اشكال سطح الارض تسمى **التضاريس** ص ٣٧
- ١٠- تمتد جبال أطلس في دولتين عربيتين هما الجزائر و **المغرب** ص ٣٨
- ١١- القارة المجاورة للوطن العربي من جهة الشمال **أوروبا** ص ٣٣
- ١٢- يمتد الوطن العربي من المحيط الاطلسي غربا الى بحر العرب والخليج العربي **شرقا** ص ٣١
- ١٣- يقع الوطن العربي بالنسبة لقارة اسيا في **الجنوب الغربي** ص ٣٤
- ١٤- يقع الوطن العربي بالنسبة لقارة أفريقيا في **الشمال** ص ٣٤
- ١٥- يشكل سكان الوطن العربي من سكان العالم تقريبا حوالي **٥%** ص ٣٥
- ١٦- اكثر الاشكال التضاريسية انتشارا في الوطن العربي تسمى **الهضاب** ص ٤٠
- ١٧- تقع هضبه نجد في **شبه الجزيرة العربية** ص ٤٠
- ١٨- اكبر هضبه عربية تقع في الجناح الافريقي تسمى **هضبه أفريقية الشمالية أو الصحراء الكبرى** . ص ٤٠
- ١٩- يمر خط الاستواء بدولة عربية تسمى **الصومال** ص ٣٢
- ٢٠- الدولة العربية التي يمر بها خط جرينتش تسمى **الجزائر** ص ٣٢

- ٢١- وزن الهواء فوق أي مكان يسمى **الضغط الجوي** . ص ٤٤
- ٢٢- حالة الجو خلال فترة زمنية طويلة يسمى **المناخ** . ص ٤٤
- ٢٣- حالة الجو في مكان لمدة قصيرة تتراوح بين يوم او عدة ايام يسمى **الطقس** . ص ٤٤
- ٢٤- الرياح المحلية التي تهب على دولة العراق تسمى **الشرقية** . ص ٤٨
- ٢٥- الرياح المحلية التي تهب على دولة الكويت تسمى **الطوز** . ص ٤٨
- ٢٦- الرياح المحلية التي تهب على دولة السعودية تسمى **السموم** . ص ٤٨
- ٢٧- الرياح المحلية التي تهب على دولة مصر تسمى **الخماسين** . ص ٤٨
- ٢٨- الرياح المحلية التي تهب على دولة ليبيا تسمى **القبلي** . ص ٤٨
- ٢٩- الرياح المحلية التي تهب على دولة الجزائر تسمى **السيروكو والسيلاو** ص ٤٨
- ٣٠- الرياح المحلية التي تهب على دولة السودان تسمى **الهبوب** ص ٤٨
- ٣١- النبات الذي ينمو تلقائيا عقب سقوط المطر دون تدخل من الانسان يسمى **النبات الطبيعي** ص ٥١
- ٣٢- الغابات التي تمتاز بضخامة اشجارها وجذوعها وتشابك اغصانها تسمى **الغابات المدارية الحارة** ص ٥٢
- ٣٣- الغابات التي تتسم بعدم كثافتها وبعضها يكون دائم الخضرة وبعضها الاخر تتساقط اوراقه في فصل الشتاء تسمى **الغابات المعتدلة** ص ٥٢
- ٣٤- حشائش طويلة يختلف نوعها حسب كمية الامطار تسمى **الحشائش الحارة أو السافانا** ص ٥٢
- ٣٥- حشائش قصيرة نوعا ما تنمو في الشتاء خلال موسم سقوط الامطار تسمى **الحشائش المعتدلة أو الاستبس** ص ٥٢
- ٣٦- تعرف حشائش الاستبس في بلاد المغرب باسم **الحلفا** ص ٥٢
- ٣٧- نباتات تقاوم الجفاف من خلال عدة وسائل جذورها طويلة هي **النباتات الصحراوية** ص ٥٢
- ٣٨- حشائش قصيرة نوعا ما وتربي عليها الأغنام والماعز والخيول تسمى **الاستبس** ص ٥٢
- ٣٩- حشائش طويلة تربي عليها الماشية وتنتشر في جنوب السودان والصومال تسمى **السافانا** ص ٥٢
- ٤٠- تعتبر أشجار الساج والماهو جنى والتاك من أشجار **الغابات المدارية الحارة** ص ٥٢
- ٤١- تعتبر أشجار الأرز والعرعر والصنوبر من أشجار **الغابات المعتدلة** ص ٥٢

- ٤٢- الحيوان الذي لقب بسفينة الصحراء يسمى **الجمل** ص ٥٦
- ٤٣- من اهم مصادر المياه العذبة في الوطن العربي هي **الانهار** ص ٥٧
- ٤٤- مجرى مائي عذب ينحدر على الدوام لينتهي الى البحر او نهر اخر او ينتهي تدريجيا بالصحراء هو **النهر** ص ٥٨
- ٤٥- الدولة العربية التي يصب بها نهر النيل هي **مصر** ص ٥٨
- ٤٦- الدولة العربية التي يصب بها نهري دجلة والفرات هي **العراق** ص ٥٨
- ٤٧- الدولة العربية التي يصب بها نهر العاصي هي **سوريا** ص ٥٨
- ٤٨- الدولة العربية التي يصب بها نهر شبلي هي **الصومال** ص ٥٨
- ٤٩- الدولة العربية التي يصب بها نهر جوبا هي **الصومال** ص ٥٨
- ٥٠- الدولة العربية التي يصب بها نهر المجردة هي **تونس** ص ٥٨
- ٥١- الدولة العربية التي يصب بها نهر الشليف هي **الجزائر** ص ٥٨
- ٥٢- الدولة العربية التي يصب بها نهر سبو هي **المغرب** ص ٥٨
- ٥٣- الدولة العربية التي يصب بها نهر ابو رقرق هي **المغرب** ص ٥٨
- ٥٤- الدولة العربية التي يصب بها نهر ام الربيع هي **المغرب** ص ٥٨
- ٥٥- الدولة العربية التي يصب بها نهر السوس هي **المغرب** ص ٥٨
- ٥٦- المياه التي توجد في جوف الارض تسمى **المياه الجوفية** ص ٦٠
- ٥٧- مجرى صغير مائي في الارض تسمى **الافلاج** ص ٦٠
- ٥٨- مصدر المياه الجوفية هو **المطر أو الجليد** ص ٦٠
- ٥٩- تكثر الابار الجوفية في **الواحات** ص ٦٠
- ٦٠- مسطح مائي تحيط به اليابسة من جميع الاتجاهات يسمى **البحيرة** ص ٦٠
- ٦١- بدأت دولة الكويت تعتمد اعتمادا كاملا على تحلية مياه البحر منذ عام **١٩٥٣** م ص ٦١
- ٦٢- اول محطة تحلية مياه في دولة الكويت هي محطة **الشويخ** ص ٦١

٦٣- أكثر الدول استخداما للمياه المحلاة هي **الكويت** ص ٦٢

٦٤- تبلغ نسبة استخدام المياه المحلاة في دولة الكويت الى **٥٥%** ص ٦٢

٦٥- من عناصر المناخ : درجة الحرارة والرياح والضغط الجوي وعنصر اخر يسمى **الامطار** ص ٤٥

صحح ما تحته خط في العبارات التالية واكتب العبارة الصحيحة بين الاقواس :-

- ١- المسطح المائي الذي يحد الوطن العربي من الغرب يسمى **البحر الأحمر** . المحيط الاطلسي ص ٣٤
- ٢- الدولة العربية التي تتكون من مجموعة جزر هي **اليمن** جزر القمر ص ٢٣
- ٣- يربط مضيق هرمز بين الخليج العربي وخليج **العقبة** خليج عمان ص ٢٩
- ٤- يربط مضيق باب المندب بين البحر الاحمر **والبحر المتوسط** خليج عدن ص ٢٩
- ٥- يربط مضيق جبل طارق بين البحر المتوسط **والمحيط الهندي** المحيط الاطلسي ص ٢٩
- ٦- تمتد جبال الأطلس في دولتين هما **الجزائر والسعودية** المغرب ص ٣٩
- ٧- وزن الهواء فوق أي مكان يسمى **الرياح** . الضغط الجوي ص ٤٤
- ٨- حالة الجو خلال فترة زمنية طويلة **الطقس** . المناخ ص ٤٤
- ٩- حالة الجو في مكان لمدة قصيرة تتراوح بين يوم او عدة ايام **المناخ** . الطقس ص ٤٤
- ١٠- الرياح المحلية التي تهب على دولة العراق تسمى **الطوز** الشرقية ص ٨
- ١١- الرياح المحلية التي تهب على دولة الكويت تسمى **الشرقية** . الطوز ص ٨
- ١٢- الرياح المحلية التي تهب على دولة السعودية تسمى **الهبوب** السموم أو الطوز ص ٨
- ١٣- الرياح المحلية التي تهب على دولة مصر تسمى **القبلي** الخماسين ص ٨
- ١٤- الرياح المحلية التي تهب على دولة ليبيا تسمى **الخماسين** القبلي ص ٨
- ١٥- الرياح المحلية التي تهب على دولة الجزائر تسمى **التجارية** السيروكو والسيلانو ص ٨
- ١٦- الرياح المحلية التي تهب على دولة السودان تسمى **الطوز** الهبوب ص ٨

- ١٧- النباتات الذي ينمو تلقائيا عقب سقوط المطر دون تدخل من الانسان يسمى النبات المزروع **النبات الطبيعي** ص ٥١
- ١٨- الغابات التي تمتاز بضخامة اشجارها وجذوعها وتشابك اغصانها تسمى الغابات المعتدلة **الغابات المدارية الحارة** ص ٥٢
- ١٩- الغابات التي تتسم بعدم كثافتها وبعضها يكون دائم الخضرة وبعضها الاخر تتساقط اوراقه في فصل الشتاء تسمى الغابات المدارية الحارة **الغابات المعتدلة** ص ٥٢
- ٢٠- حشائش طويلة يختلف نوعها حسب كمية الامطار تسمى الحشائش المعتدلة **الحشائش الحارة** ص ٥١
- ٢١- حشائش قصيرة نوعا ما تنمو في الشتاء خلال موسم سقوط الامطار تسمى الحشائش الحارة **الحشائش المعتدلة** ص ٥١
- ٢٢- تعرف حشائش الاستبس في بلاد المغرب باسم الساج **الحلفا** ص ٥٢
- ٢٣- نباتات تقاوم الجفاف من خلال عدة وسائل جذورها طويلة هي النباتات الطبيعية **النباتات الصحراوية** ص ٥٢
- ٢٤- حشائش قصيرة نوعا ما وتربى عليها الأغنام والماعز والخيول هي الساافانا **الاستبس** ص ٥٢
- ٢٥- حشائش طويلة تربى عليها الماشية وتنتشر في جنوب السودان والصومال هي الاستبس **الساافانا** ص ٥٢
- ٢٦- تعتبر أشجار الساج والماهوجنى والتاك من أشجار الغابات المعتدلة **الغابات المدارية الحارة** ص ٥٢
- ٢٧- تعتبر أشجار الأرز والعرعر والصنوبر من أشجار الغابات المدارية الحارة **الغابات المعتدلة** ص ٥٢
- ٢٨- الحيوان الذي لقب بسفينة الصحراء هو الماعز **الجمال** ص ٥٦
- ٢٩- من اهم مصادر المياه العذبة في الوطن العربي هي البحيرة **الانهار** ص ٥٧
- ٣٠- مجرى مائي عذب ينحدر على الدوام لينتهي الى البحر او نهر اخر او ينتهي تدريجيا بالصحراء هو الافلاج **النهر** ص ٥٨
- ٣١- الدولة العربية التي يصب بها نهر النيل هي العراق **مصر** ص ٥٨
- ٣٢- الدولة العربية التي يصب بها نهري دجلة والفرات هي الاردن **العراق** ص ٥٨
- ٣٣- الدولة العربية التي يصب بها نهر العاصي هي لبنان **سوريا** ص ٥٨
- ٣٤- الدولة العربية التي يصب بها نهر شبلي هي جيبوتي **الصومال** ص ٥٨
- ٣٥- الدولة العربية التي يصب بها نهر جوبا هي موريتانيا **الصومال** ص ٥٨

- ٣٦- الدولة العربية التي يصب بها نهر المجردة هي الجزائر تونس ص ٥٨
- ٣٧- الدولة العربية التي يصب بها نهر الشليف هي اليمن الجزائر ص ٥٨
- ٣٨- الدولة العربية التي يصب بها نهر سبو هي الجزائر المغرب ص ٥٨
- ٣٩- الدولة العربية التي يصب بها نهر ابو رقراق هي تونس المغرب ص ٥٨
- ٤٠- الدولة العربية التي يصب بها نهر ام الربيع هي مصر المغرب ص ٥٨
- ٤١- الدولة العربية التي يصب بها نهر السوس هي ليبيا المغرب ص ٥٨
- ٤٢- المياه التي توجد في جوف الارض تسمى الافلاج المياه الجوفية ص ٦٠
- ٤٣- مجرى صغير مائي في الارض تسمى النهر الافلاج ص ٦٠
- ٤٤- مسطح مائي تحيط به اليابسة من جميع الاتجاهات يسمى النهر البحيرة ص ٦٠
- ٤٥- بدأت دولة الكويت تعتمد اعتمادا كاملا على تحلية مياه البحر منذ عام ١٩٥٩ م. ١٩٥٣م ص ٦١
- ٤٦- اول محطة تحلية مياه في دولة الكويت هي محطة الزور محطة الشويخ ص ٦١
- ٤٧- اكثر الدول استخداما للمياه المحلاة هي ليبيا الكويت ص ٦٢
- ٤٨- تبلغ نسبة استخدام المياه المحلاة في دولة الكويت الى ٤٦% ٥٥% ص ٦٢
- ٤٩- تصل قناة السويس بين البحر المتوسط و بحر العرب البحر الأحمر ص ٢٩
-

السؤال الثالث : اكتب المصطلح الدال على العبارات التالية :-

الوطن العربي	مجموعة من الدول العربية التي يجمعها عدد من السمات المشتركة ويمتد ضمن قارتين من اكبر قارات العالم مساحة ص ٢٢
الفتاه	مجرى مائي صناعي ضيق يشق لأغراض الري او النقل ص ٢٨
المضيق	ممر مائي ضيق يصل بين بحرين او محيطين او مساحتين كبيرتين نسبيا من الماء ص ٢٨
المسطحات المائية	جميع اشكال المياه على سطح الأرض مثل البحار والخلجان والمحيطات و البحيرات والانهار الخ ص ٢٨
خطوط الطول	عبارة عن خطوط وهمية ترسم على الكره الأرضية وتقسمها الى قسمين شرقي وغربي وعددها ٣٦٠ خطا والخط الرئيسي خط جرينتش. ص ٣٢
دوائر العرض	عبارة عن خطوط وهمية ترسم على الكره الأرضية وتقسمها الى قسمين شمالي وجنوبي وعددها ١٨٠ خطا و الخط الرئيسي خط الاستواء ص ٣٢
الموقع الفلكي	نقطه من الكره الأرضية يتحدد موقعها بخطوط الطول ودوائر العرض ص ٣١
الموقع النسبي	موقع الدولة بالنسبة لليابس والماء ص ٣٣
الجبال	كل ما ارتفع من الارض له قمه لا يقل ارتفاعها عن ١٠٠٠ متر ص ٣٨
الهضاب	ارض مرتفعة سطحها مستوي وتمتد على مساحه كبيره ص ٤٠
السهول	مساحه كبيره من سطح الارض تتميز باستوائها وقله ارتفاعها ص ٤٢
الإقليم	منطقة أو مكان ما ص ٤٦

صنف الكلمات التالية الى مكانها المناسب في الجدول :- ص ٣٨

(جبال مره _ جبال اطلس _ جبال الاحجار _ جبال عسير _ جبال الحجاز _ الجبل الاخضر - سلسلة جبال البحر الاحمر _ جبل شيخادار)

جبال الوطن العربي في الجناح الافريقي	جبال الوطن العربي في الجناح الاسيوي
جبل مره	جبل قاسيون
جبال اطلس	جبل الشيخ
جبال الأحجار	الجبل الأخضر (عمان)
الجبل الاخضر (ليبيا)	جبال عسير
سلسلة جبال البحر الاحمر	جبال الحجاز
	جبل شيخا دار

٢- اكتب اسماء الرياح المحلية التالية في مكانها المناسب في الجدول : ص ٤٨

(الهبوب - الخماسين - القبلي - السيروكو والسيلانو - السموم - الشرقية)

السعودية	مصر	السودان	ليبيا	الجزائر	العراق
السموم	الخماسين	الهبوب	القبلي	السيروكو والسيلانو	الشرقية

٣- صنف الاشجار التالية اسمائهم في مكانهم حسب الجدول التالي : ص ٥٢

(الأثل - السدر-الساج- الارز -التاك - الابنوس - الزيتون - السنط -التفاح -الماهونجي - العرعر- الصنوبر الحلبي- السنديان -البلوط)

الغابات المعتدلة	الغابات المدارية الحارة
الارز - العرعر	الساج - الماهونجي
التفاح - البلوط	التاك - الاثل
الزيتون - الصنوبر الحلبي	التاك - الابنوس
السنديان	السدر - السنط

٤- انسب الحيوانات الى الحشائش التي تتغذى عليها في مكانها المناسب حسب الجدول : ص ٥٢

(الماشية - الاغنام - الابل - الخيول - الحمير)

الحشائش المعتدلة	الحشائش الحارة
الاغنام - الابل الخيول - الحمير	الماشية

٥- صنف الحياة النباتية في الوطن العربي حسب توزيعها الجغرافي في المكان المناسب حسب الجدول : ص ٥١

(الغابات المدارية الحارة - الغابات المعتدلة - الحشائش الحارة - الحشائش المعتدلة - النباتات الصحراوية)

العراق	الجزائر	السودان	الصومال	السعودية
الحشائش المعتدلة	الغابات المعتدلة	الحشائش الحارة	الغابات المدارية الحارة + الحشائش الحارة	النباتات الصحراوية +الحشائش الحارة

٦- صنف الحياة الحيوانية الصحراوية في الوطن العربي التالية في مكانها المناسب بالجدول: ص ٥٥

(الابل - الصقور - البوم - الجراد - الماعز - الافاعي - الفنران - الضب - الحباري - الجراد- الجربوع - العقارب-
الخنافس - الارانب)

الحيوانات البرية	الطيور	الحشرات	القوارض	الزواحف
الارانب الابل الماعز الضب	الصقور البوم الحباري	العقارب الخنافس الجراد	الفنران الجربوع	الافاعي

٧- ضع الاتهار التالية اسمائهم كلا في مكانه حسب الجدول التالي : ص ٥٨

(النيل – دجلة والفرات – العاصي –المجردة –الشليف –سبو – ابو رقرق – شبلي – جوبا – ام الربيع –السوس)

تونس	مصر	المغرب	الصومال	الجزائر	العراق	سوريا
المجردة	النيل	سبو ابو رقرق ام الربيع السوس	شبلي جوبا	الشليف	دجلة والفرات	العاصي

٨- اكتب اسماء محطات تحلية المياه في مكانها المناسب حسب الجدول التالي : ص ٦١

(الشويخ – الاحساء – راس عبود – الفنطاس)

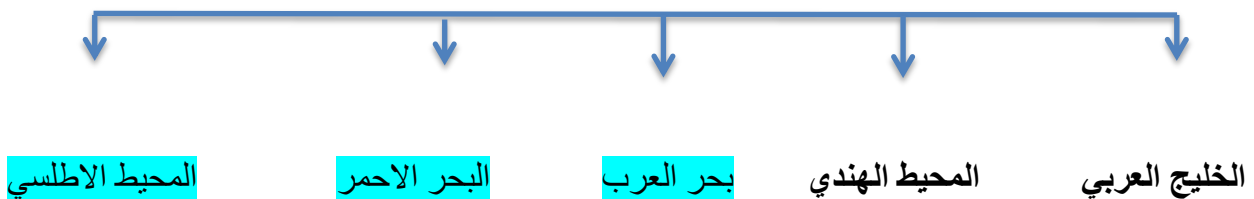
السعودية	قطر	الكويت
الاحساء	راس عبود ابو فنطاس	الشويخ

السؤال الرابع : اكمل المخططات السهمية التالية :

مقومات الهوية العربية ص ٢٦



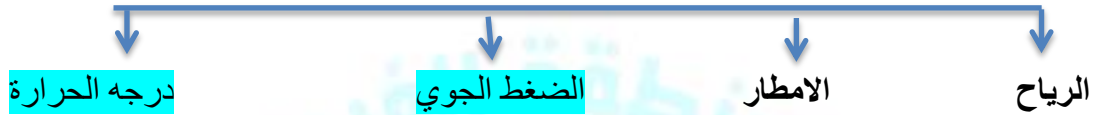
المسطحات المائية التي يطل عليها الوطن العربي ص ٢٨



تنقسم الهضاب في الوطن العربي ص ٤٠




عناصر المناخ ص ٤٥



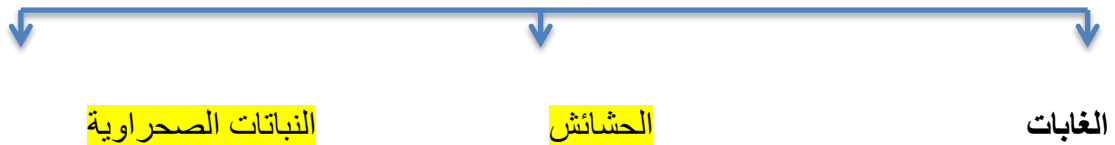
العوامل التي تؤثر في مناخ الوطن العربي ص ٤٦



الرياح المحلية في الوطن العربي ص ٤٨



الحياة النباتية في الوطن العربي ص ٥٢



الحياة الحيوانية الصحراوية في الوطن العربي ص ٥٥



مصادر المياه في الوطن العربي ص ٥٧



الخامس : اختر للمجموعة (أ) ما يرتبط بها من المجموعة (ب) بوضع الرقم المناسب :


م	مجموعة (أ) ص ٤٨	الرقم المناسب	المجموعة (ب)
١	الخماسين	٥	ليبيا
٢	السموم	٤	السودان
٣	الشرقية	١	مصر
٤	الهبوب	٢	السعودية
٥	القبلي	٣	العراق

م	مجموعة (أ) ص ٥٨	الرقم المناسب	المجموعة (ب)
١	النيل	٥	سوريا
٢	دجلة والفرات	٢	العراق
٣	الشليف	١	مصر
٤	جوبا	٣	الجزائر
٥	العاصي	٤	الصومال

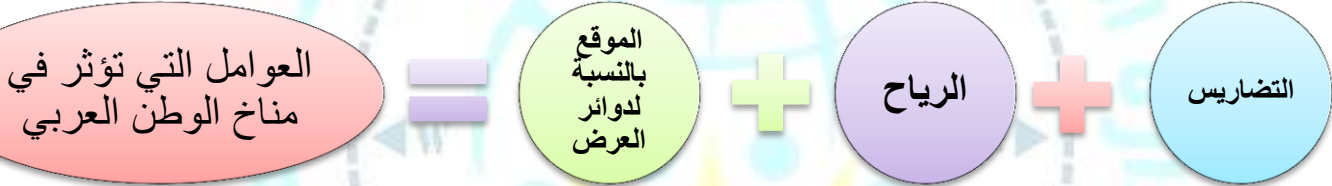
م	المجموعة (أ) ص ٦١	الرقم المناسب	المجموعة (ب)
١	الاحساء	٢	الكويت
٢	محطة الشويخ	-	البحرين
٣	راس عبود	٣	قطر
٤		١	السعودية

السؤال السادس : استنتج الرابط المشترك بين العناصر التالية :

ص ٤٥



ص ٤٦



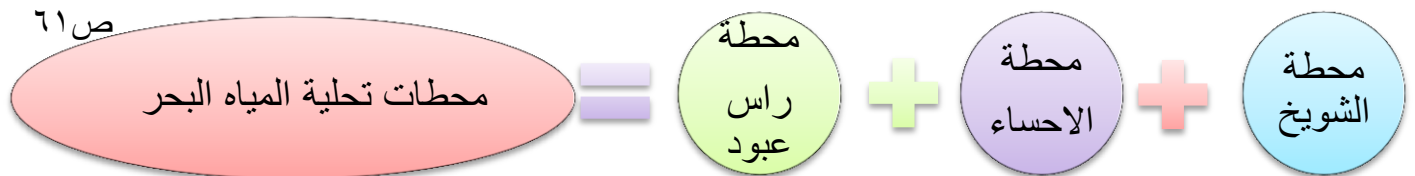
ص ٥٢



ص ٤٨



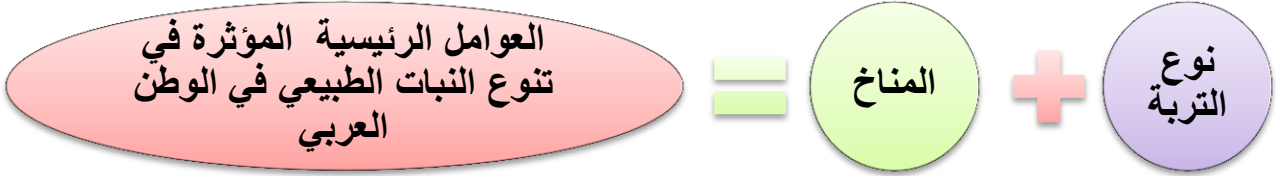
ص ٦١



ص ٤٨



ص ٥١



ص ٥٧



ص ٥٨



ص ٦٠



السؤال السابع: ضع خطا تحت الخيار الصحيح من بين الخيارات التي تلي كل عبارة :

١- الرياح المحلية التي تهب على دولة السعودية : ص ٤٨

(الشرقية - السموم - الهبوب - القبلي)

٢- الرياح المحلية التي تهب على دولة العراق : ص ٤٨

(الشرقية - السموم - الهبوب - القبلي)

٣- الرياح المحلية التي تهب على دولة ليبيا : ص ٤٨

(الشرقية - السموم - الهبوب - القبلي)

٤- الرياح المحلية التي تهب على دولة السودان : ص ٤٨

(الشرقية - السموم - الهبوب - القبلي)

٦- الرياح المحلية التي تهب على دولة الكويت : ص ٤٨

(السيروكو والسيلانو - الخماسين - الهبوب - الطوز)

٧- الرياح المحلية التي تهب على دولة مصر : ص ٤٨

(السيروكو والسيلانو - الخماسين - الهبوب - الطوز)

٨- الرياح المحلية التي تهب على دولة الجزائر : ص ٤٨

(السيروكو والسيلانو - الخماسين - الهبوب - الطوز)

٩- حالة الجو في فترة زمنية طويلة : ص ٤٤

(الطقس - المناخ - الضغط - الرطوبة)

١٠- حالة الجو في فترة زمنية قصيرة: ص ٤٤

(المناخ - الطقس - الرطوبة - الضغط الجوي)

١١- وزن الهواء فوق أي مكان : ص ٤٤

(الرياح - الضغط الجوي - الأمطار - الرطوبة)

١٢- الغابات التي تمتاز بضخامة اشجارها وجذوعها وتشابك اغصانها : ص ٥٢

(الغابات المعتدلة - الغابات المدارية الحارة - الغابات الاستوائية - الغابات شبه استوائية)

١٣- الغابات التي تتسم بعدم كثافتها وبعضها يكون دائم الخضرة وبعضها الاخر تتساقط اوراقه في فصل الشتاء:

ص ٥٢

(الغابات المعتدلة - الغابات المدارية الحارة - الغابات الاستوائية - الغابات شبه استوائية)

١٤- نباتات تقاوم الجفاف من خلال عدة وسائل جذورها طويلة : ص ٥٢

(النبات المزروع - النبات الصناعي - النبات الصحراوي - النباتات البحرية)

١٥- حشائش قصيرة نوعا ما وتربي عليها الأغنام والماعز والخيول: ص ٥٢

(الاستبس - السافانا - الصحراوية - المزروع)

١٦- حشائش طويلة تربي عليها الماشية وتنتشر في جنوب السودان والصومال : ص ٥٢

(الاستبس - السافانا - النباتات الصحراوية - النبات المزروع)

١٧- تعتبر أشجار الساج والمانوجنى والتاك من أشجار: ص ٥٢

(الغابات المعتدلة - الغابات المدارية الحارة - الغابات الاستوائية - الغابات شبه استوائية)

١٨- - تعتبر أشجار الأرز والعرعر والصنوبر من أشجار: ص ٥٢

(الغابات المعتدلة - الغابات المدارية الحارة - الغابات الاستوائية - الغابات شبه استوائية)

١٩- الحيوان الذي لقب بسفينة الصحراء: ص ٥٦

(الماعز - الضب - الابل - الارنب البري)

٢٠ - من اهم مصادر المياه العذبة في الوطن العربي : ص ٥٧

(المياه الجوفية - مياه الانهار - الامطار - مياه البحار)

٢١ - مجرى مائي عذب ينحدر على الدوام لينتهي الى البحر او نهر اخر او ينتهي تدريجيا بالصحراء : ص ٥٨

(البحر - النهر - الافلاج - الينابيع)

٢٢ - الدولة العربية التي يصب بها نهر النيل: ص ٥٨

(سوريا - العراق - مصر - تونس)

٢٣ - الدولة العربية التي يصب بها نهري دجلة والفرات : ص ٥٨

(سوريا - العراق - مصر - تونس)

٢٤ - الدولة العربية التي يصب بها نهر العاصي : ص ٥٨

(سوريا - العراق - مصر - تونس)

٢٥ - الدولة العربية التي يصب بها نهر المجردة: ص ٥٨

(سوريا - العراق - مصر - تونس)

٢٦ - الدولة العربية التي يصب بها نهر شبلي: ص ٥٨

(الاردن - الصومال - المغرب - الجزائر)

٢٧ - الدولة العربية التي يصب بها نهر جوبا: ص ٥٨

(الاردن - الصومال - المغرب - الجزائر)

٢٨ - الدولة العربية التي يصب بها نهر الشليف: ص ٥٨

(الاردن) -الصومال -المغرب -الجزائر

٢٩ - الدولة العربية التي يصب بها نهر سبو: ص ٥٨

(الاردن) -الصومال -المغرب -الجزائر

٣٠ - الدولة العربية التي يصب بها نهر ابو رقرق: ص ٥٨

(الاردن) -الصومال -المغرب -الجزائر

٣١ - الدولة العربية التي يصب بها نهر ام الربيع: ص ٥٨

(الاردن) -الصومال -المغرب -الجزائر

٣٢ -- الدولة العربية التي يصب بها نهر السوس : ص ٥٨

(الاردن) -الصومال -المغرب -الجزائر

٣٣ - - المياه التي توجد في جوف الارض : ص ٦٠

(الافلاج) - المياه الجوفية - البحيرة - مياه البحار

٣٤ - مجرى صغير مائي في الارض : ص ٦٠

(الافلاج) - المياه الجوفية - البحيرة - مياه البحار

٣٥ - مسطح مائي تحيط به اليابسة من جميع الاتجاهات : ص ٦٠

(الافلاج) - المياه الجوفية - البحيرة - مياه البحار

٣٦- الدولة التي تستفيد من تحلية مياه البحر : ص ٦١

(دول الخليج العربية) - مصر - سوريا - الاردن)

٣٧- بدأت دولة الكويت تعتمد اعتمادا كاملا على تحلية مياه البحر منذ عام : ص ٦١

(١٩٥٠ م - ١٩٥١ م - ١٩٥٢ م - ١٩٥٣ م)

٣٨- اول محطة تحلية مياه في دولة الكويت : ص ٦١

(محطة الدوحة) - محطة الشويخ - محطة الزور - محطة شعيبية)

٣٩- توجد محطة الاحساء لتحلية مياه البحر في دولة عربية : ص ٦١

(قطر) - الامارات - السعودية - ليبيا)

٤٠- توجد محطة راس عبود لتحلية مياه البحر في دولة عربية : ص ٦١

(قطر) - الامارات - السعودية - ليبيا)

٤١- توجد محطة ابو فنتاس لتحلية مياه البحر في دولة عربية : ص ٦١

(قطر) - الامارات - السعودية - ليبيا)

٤٢- المصدر الذي تعتمد عليه دولة الكويت بحلية لمياه : ص ٦٢

(البحر الاحمر - خليج عمان - الخليج العربي - نهر دجلة)

٤٣- اكثر الدول العربية انتاجا للمياه المحلاة : ص ٦٢

(قطر) - الامارات - الكويت - ليبيا)

٤٤ - تبلغ نسبة استخدام المياه المحلاة في دولة الكويت الى : ص ٦٢

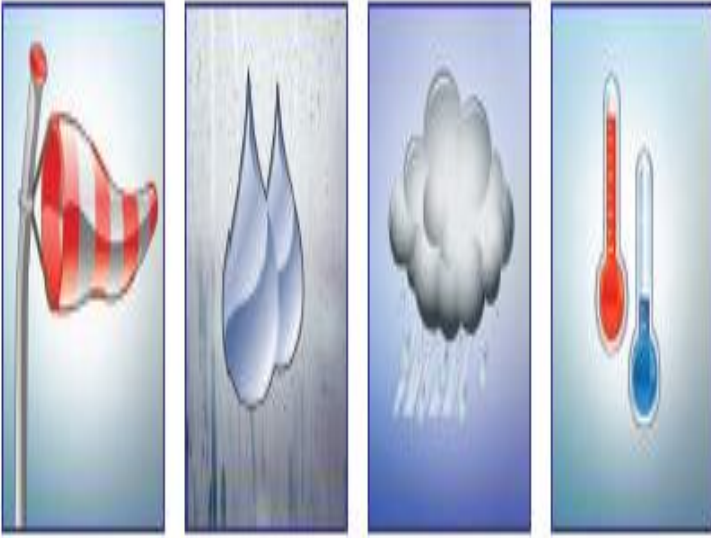
٨٥%-

٧٥%-

٦٥%-

٥٥%-

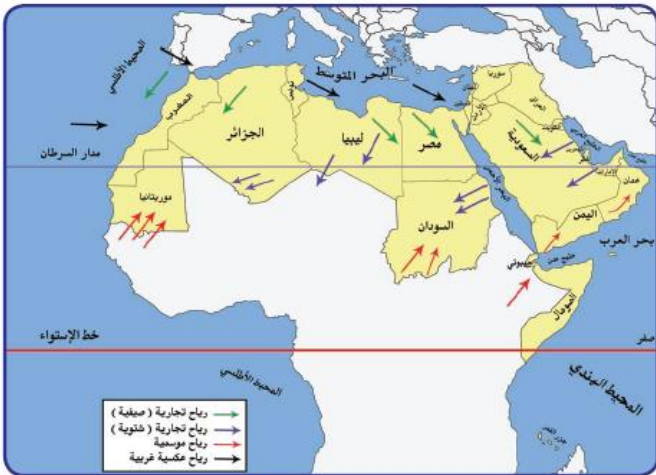
السؤال الثامن : ضع عنوان مناسب للصورة، الخريطة، الشكل التالية :



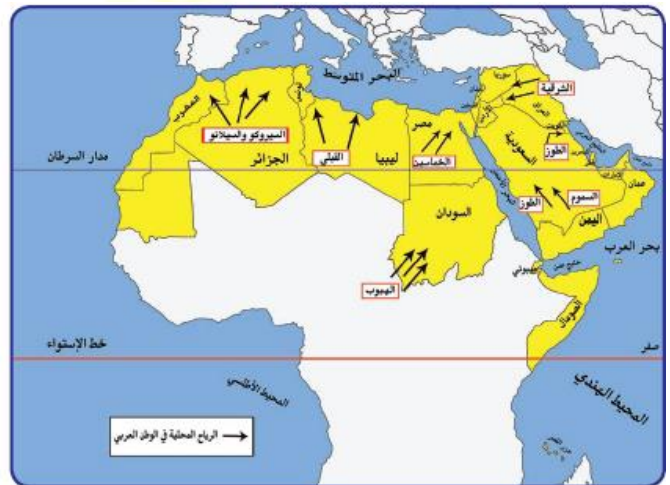
عناصر المناخ ص ٤٥



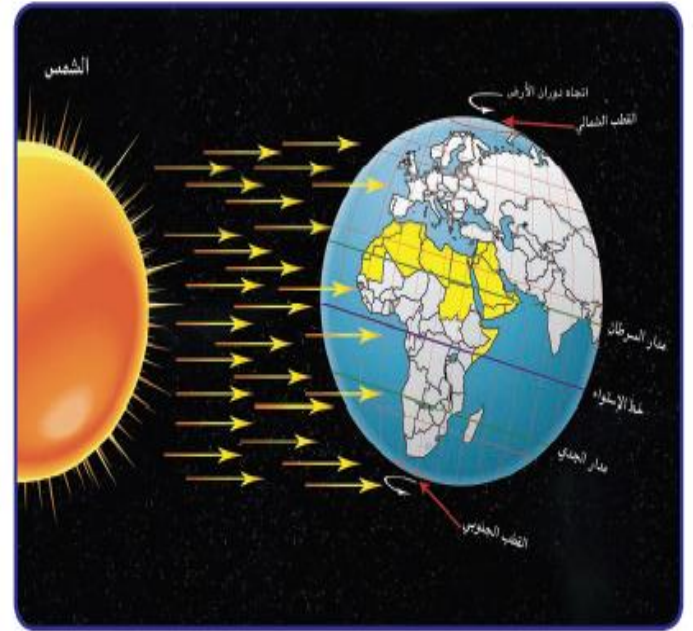
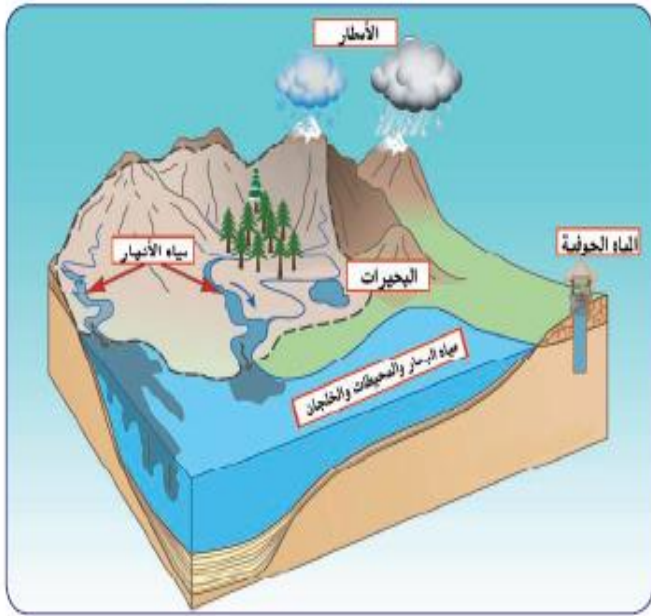
أشكال سطح الارض ص ٣٧



الرياح الصيفية والشتوية في الوطن العربي ص ٤٧

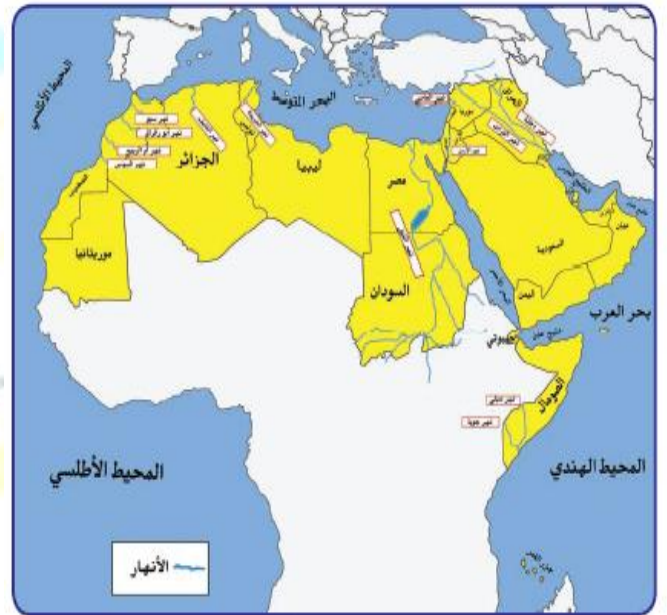


الرياح المحلية في الوطن العربي ص ٤٨



اهم مصادر المياه في الوطن العربي ص ٥٧

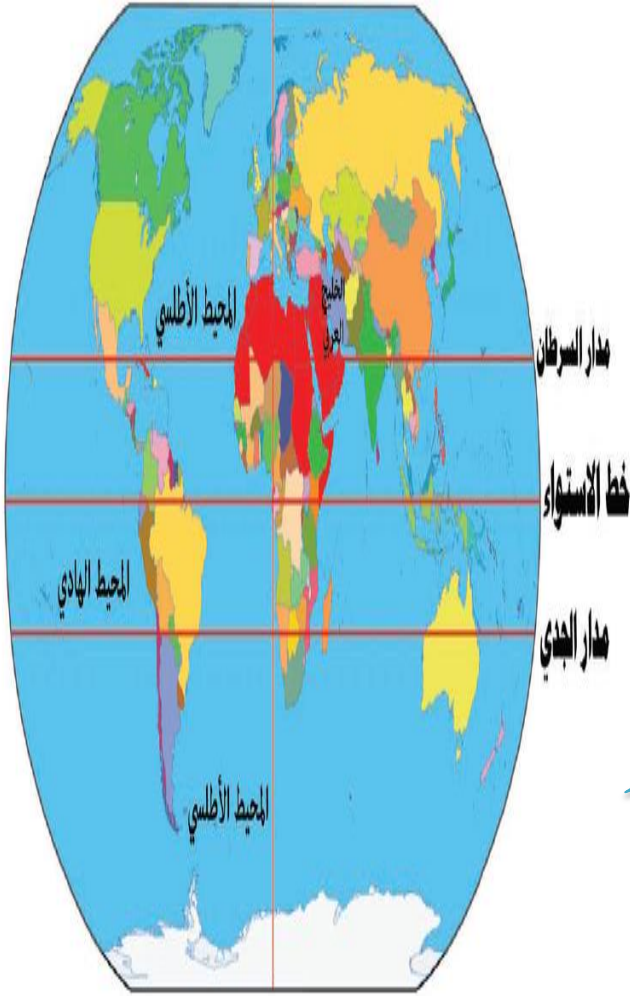
المناخ الوطن العربي في فصل الصيف والشتاء ص ٤٩



محطة تحلية مياه البحر ص ٦١

اهم الانهار في الوطن العربي ص ٥٨

السؤال التاسع: لاحظ الشكل المقابل ثم اجب عن الأسئلة التالية :



١- ما هو الخط الاساسي لخطوط الطول ؟ ص ٣١

خط جرينتش

٢- ما الدولة العربية التي يمر بها خط الاستواء ؟

الصومال

٣- كم يبلغ عدد دوائر العرض ؟

١٨٠



١- ما المقصود بالطقس ؟ ص ٤٤

هو حالة الجو في مكان لمدة زمنية قصيرة تتراوح بين يوم او عدة ايام .

٢- ما هي عناصر المناخ ؟

١- درجة الحرارة ٢- الرطوبة ٣- الامطار ٤- الرياح
٥- الضغط الجوي

٣- كم تبلغ درجة الحرارة في دولة الكويت في يوم الاحد ؟

٤٢ درجة



١- ما اسم اول محطة تحلية مياه في دولة الكويت ؟ ص ٦١

محطة الشويخ

٢- في اي عام تم انشاء اول محطة تحلية مياه في دولة الكويت ؟

في عام ١٩٥٣ م

٤- اي مصدر من مصادر المياه تعتمد عليه دولة الكويت ؟

تحلية مياه الخليج العربي

٥٥%	الكويت
٣٨%	قطر
٣١%	البحرين
٢٧%	الامارات
٨%	السعودية
٥%	ليبيا

نسبة استخدام المياه المحلاة

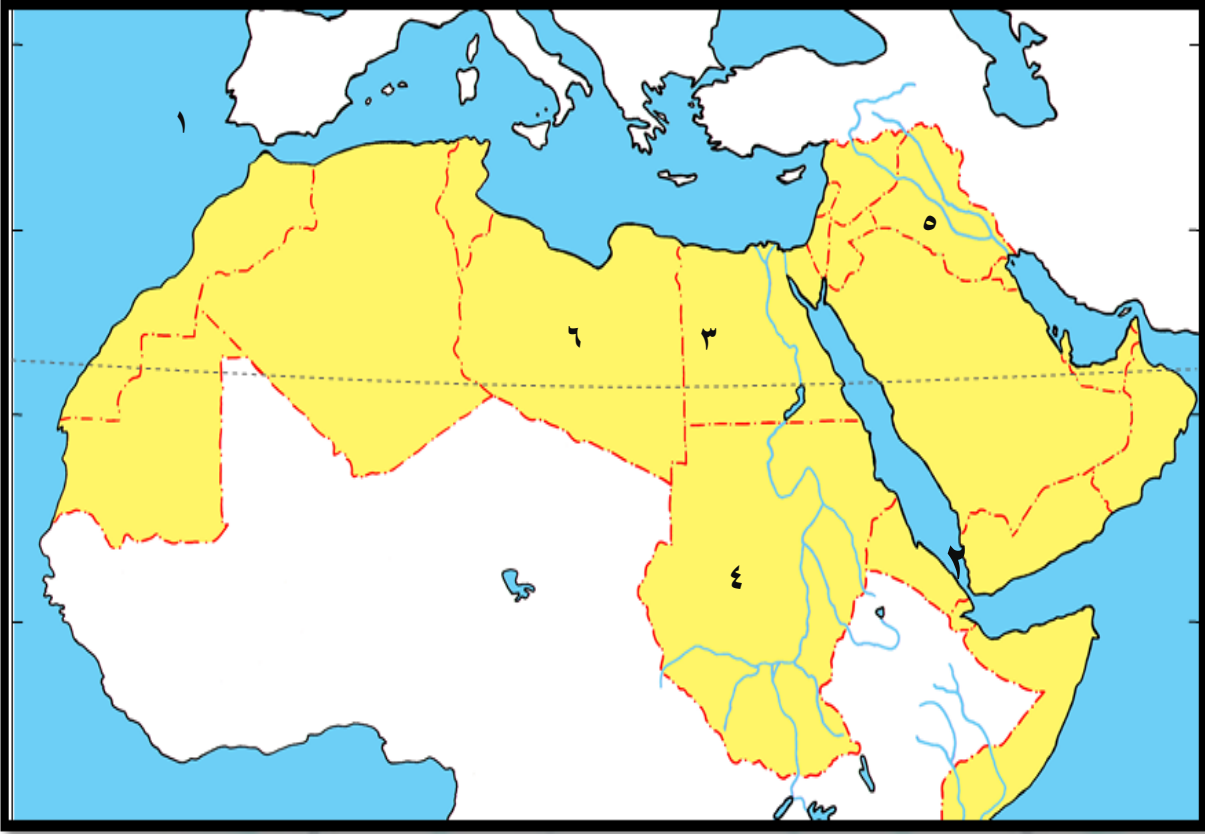
١- ما اكثر الدول استخداما للمياه المحلاة ؟ ص ٦٢

الكويت

٢- كم تبلغ نسبة استخدام المياه المحلاة في دولة قطر ؟

٣٨%

السؤال العاشر: امامك خريطة الوطن العربي الصماء نفذ المطلوب عليها :



_ يشير الرقم (١) الى مسطح مائي يسمى ...المحيط الاطلسي . ص ٢٨

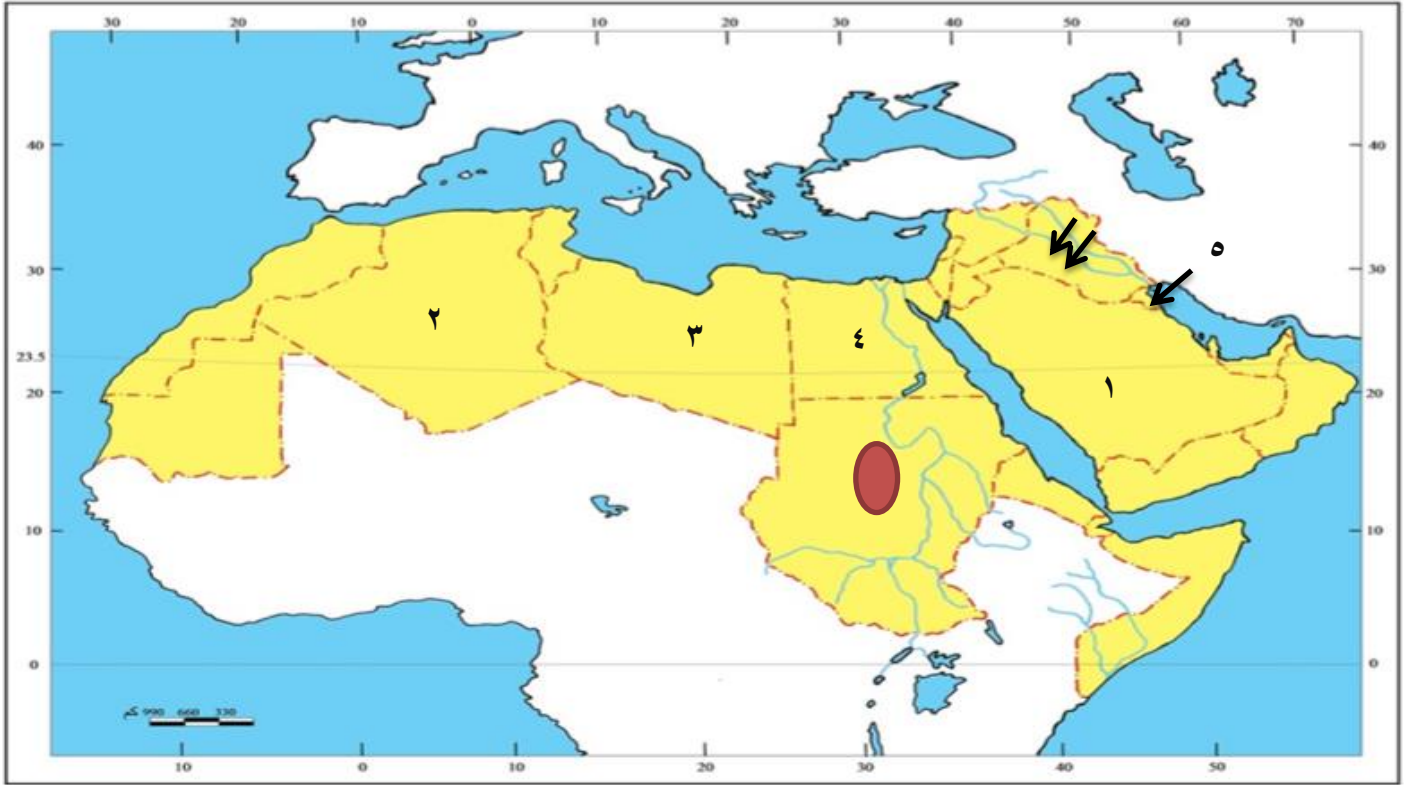
_ يشير الرقم (٢) الى مضيق يسمى ...باب المنذب ... ص ٢٩

_ يشير الرقم (٣) الى دولة عربيه تسمى .. مصر ص ٢١

_ يشير الرقم (٤) الى جبل يسمى ...مره ... ص ٣٩

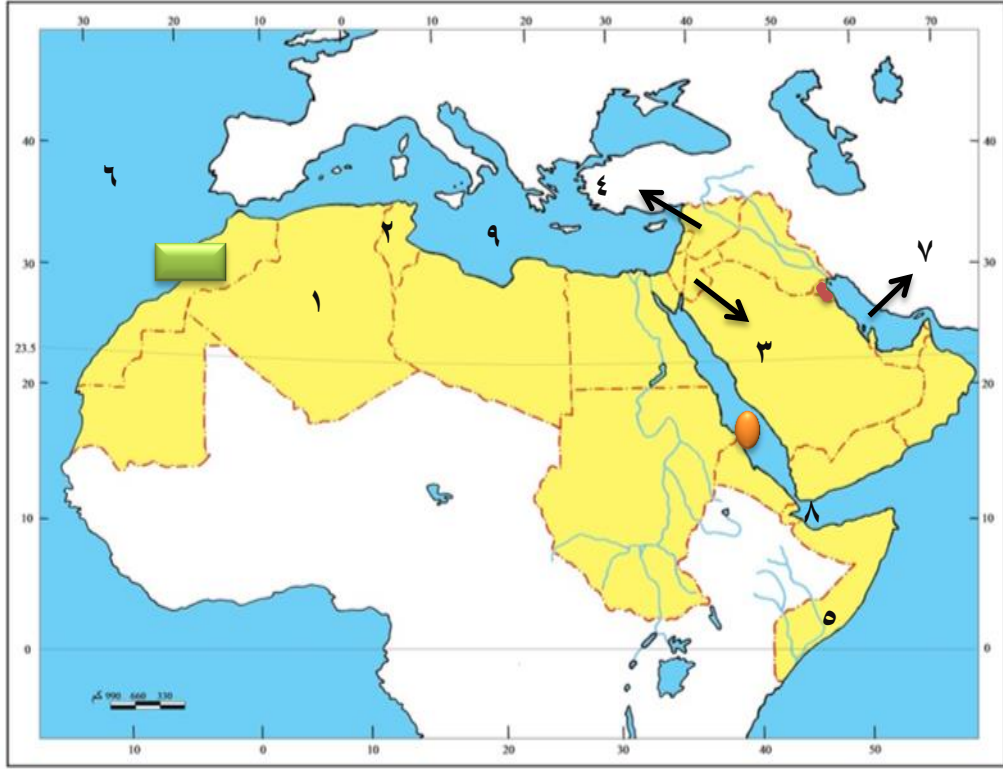
_ يشير الرقم (٥) الى نهريين ..دجله والفرات ... ص ٢٨

_ يشير الرقم (٦) الى دولة تسمى ..ليبيا... ص ٢٨



ص ٤٨

- الدولة العربية التي تهب فيها رياح الخماسين تمثل الرقم (٤)
- الدولة العربية التي تهب فيها رياح القبلي تمثل الرقم (٣)
- الدولة العربية التي تهب فيها رياح السموم تمثل الرقم (١)
- الدولة العربية التي تهب فيها رياح السيروكو و سيلانو تمثل الرقم (٢)
- الدولة العربية التي تهب فيها رياح الطوز تمثل الرقم (٥)
- ارسم رياح الشرقية على الخريطة مستخدما الرمز ↗ ↘
- يمثل الرمز ● رياح محلية تسمى الهبوب



ص ٤٢

- ظلل الدولة العربية التي توجد بها محطة الشويخ باللون الاحمر
- الدولة العربي التي يوجد بها نهر العاصي تمثل الرقم (٤)
- الدولة العربي التي يوجد بها نهر جوبا تمثل الرقم (٥)
- الدولة العربي التي يوجد بها نهر الشليف تمثل الرقم (١)
- الدولة العربي التي يوجد بها نهر المجردة تمثل الرقم (٢)
- ضع رمز على الدولة العربية التي يوجد بها نهر السوس
- مسطح المائي الخليج العربي يمثل الرقم (٧)
- مسطح المائي البحر المتوسط يمثل الرقم (٩)
- ضع رمز على المسطح المائي الذي يمثل البحر الاحمر

السؤال الاول : قارن بين الجداول التالية :-

دوائر العرض	خطوط الطول ص ٣٢	معايير المقارنة
عبارة عن خطوط وهمية ترسم على الكره الأرضية وتقسّمها الى قسمين جنوبي وشمالى	عبارة عن خطوط وهمية ترسم على الكره الأرضية وتقسّمها الى قسمين شرقي وغربي	المفهوم
معرفة احوال مناخ العالم	معرفة التوقيت الزمني في العالم	المميزات
١٨٠ خطا	٣٦٠ خطا	العدد

المضيق	القناة	ص ٢٨
ممر مائي ضيق يصل بين بحرين او محيطين او إلى مساحتين كبيرتين نسبيا من الماء	مجرى مائي صناعي ضيق يشق لأغراض الري أو النقل	المفهوم

السهول الساحلية	السهول الفيضية ص ٤٢	
الاراضي المنبسطة التي تجاور سواحل البحار والمحيطات	الاراضي المنخفضة التي تكونت من التربة التي حملتها مياه الانهار	المفهوم
سهول الساحلية للمحيط الاطلسي	سهول دجله والفرات	امثله عليها

المعيار	الطقس ص ٤٤	المناخ
التعريف	حالة الجو في مكان لمدة قصيرة تتراوح بين يوم او عدة ايام من حيث درجة الحرارة والرطوبة والامطار والرياح والضغط الجوي	حالة الجو خلال فترة زمنية طويلة من حيث درجة الحرارة والرطوبة والامطار

المعيار	فصل الصيف ص ٤٩	فصل الشتاء
المنطقة التي تتعامد مع الشمس	تكون الشمس عامودية على المنطقة الواقعة بين خط الاستواء ومدار السرطان	تكون الشمس عامودية على المنطقة الواقعة بين خط الاستواء ومدار الجدي
مميزات المناخ	ترتفع الحرارة اكثر في وسط الوطن العربي وتكون معتدلة على سواحل البحر المتوسط وشمال الوطن العربي	ترتفع الحرارة في جنوب الوطن العربي وتقل كلما اتجهنا شمالا

المعيار	الغابات المدارية الحارة ص ٥٢	الغابات المعتدلة
اهم اشجارها	الساج - الماهونجي - التاك - الابنوس - السدر - الاثل - السنط	الارز - العرعر - الصنوبر - البلوط - السنديان - الزيتون - التفاح - الحمضيات
مميزات اشجارها	تمتاز بضخامة اشجارها وجذوعها وتشابك اغصانها واوراقها العريضة وارتفاعها الكبير	تتسم بعدم كثافتها وبعضها يكون دائم الخضرة وبعضها الاخر تتساقط اوراقه في فصل الشتاء

المعيار	الحشائش الحارة	الحشائش المعتدلة
التعريف	هي حشائش طويلة يختلف نوعها حسب كمية الامطار وتنقسم الى : طويلة - متوسطة - قصيرة	هي حشائش قصيرة نوعا ما تنمو في الشتاء خلال موسم سقوط الامطار
الاستخدام	تتربى عليها الماشية	تتربى عليها الاغنام والابل والخيول والحمير

السؤال الثاني : على لما يلي :-

أ- اهمية الوطن العربي ؟ ص ٣٥ - ٣٦

١_ الهمية الجغرافية

٢_ الهمية الاقتصادية

٣_ الهمية الحضارية وثقافيه

ب- تنافس الدول الاستعمارية في الاستيلاء على الوطن العربي منذ القرن (١٨م)؟ ص ٣٥

١_ بسبب الهمية الجغرافية والموقع الاستراتيجي المهم

٢_ يطل على مسطحات مائية هامة

٣_ ذات اهمية كبيرة للملاحة والتجارة العالمية

ج- يتمتع الوطن العربي بأهمية اقتصادية كبيرة منذ القدم ؟ ص ٣٥

١_ يعتبر منطقة عبور لحركة الملاحة والتجارة العالمية

٢_ يعتبر الجسر الذي يربط قارات العالم الثلاث

٣_ ظهور النفط بكميات كبيرة

د - تتميز الاماكن القريبة من خط الاستواء بارتفاع في درجة حرارتها على مدار الايام ؟ ص ٤٩

- بسبب سقوط اشعة الشمس عاموديا

هـ - مرور الرياح على البحار محملة ببخار الماء قد يسبب سقوط امطار او ارتفاع نسبة الرطوبة ؟ ص ٤٧

- لان الرياح تأخذ صفة المنطقة التي تمر فيها .

ر- قدرة النباتات الصحراوية على تخزين المياه ؟ ص ص ٥٢

- لأنها تمتلك لحاء سميك واوراق وبرية

ز- تنوع النبات الطبيعي في الوطن العربي ؟ ص ٥١

- بسبب المناخ ونوع التربة

ب- المدن الساحلية أكثر اعتدالا في درجة الحرارة؟ ص ٤٦

- لان البحر يلطف من درجة حرارتها .

ح - ماهي عناصر المناخ ؟ ص ٤٥

١- درجة الحرارة ٢- الرطوبة ٣- الامطار ٤- الضغط الجوي ٥- الرياح

ج- ماهي العوامل الرئيسية في تنوع النبات الطبيعي في الوطن العربي ؟ ص ٥١

١- نوع التربة ٢- المناخ

ع - بماذا تتصف الامطار في الوطن العربي ؟ ص ٥٩

١- تذبذب كمية الامطار من عام الى اخر، كما انها تسقط في ايام معدودة

٢- الامطار في الوطن العربي تكاد تقتصر على الاطراف الشمالية والاطراف الجنوبية منها.

٣- تتصف الامطار بانها قليلة بصفة عامة ، ولا يستثنى من ذلك سوى المناطق التي تقع من ورائها الجبال، كما هي الحال

في سواحل المغرب وساحل لبنان

غ - ما هي اشكال المياه الجوفية : ص ٥٩

١- الابار الجوفية ٢- العيون والينابيع ٣- الافلاج

ب - كيف نحافظ على ثروة المياه ؟ ص ٦٣

١- ترشيد استخدام المياه والحد من التبذير في المنازل

٢- الحد من هدر المياه في عمليات الري ، وذلك باستخدام الوسائل الحديثة كالرش بالتنقيط والمحوري .

٣- تطوير استعمال مياه الصرف الصحي المعالجة في الزراعة .

٤- تنظيم عملية الاستفادة من المياه الجوفية ومنع تسرب الاملاح الملوثة اليها واستثمارها على الوجه الامثل

٥- اقامة البحيرات والسدود لتجميع مياه الامطار والسيول للاستفادة منها في فصل الصيف

٦- توقيع اتفاقيات مع الدول المشاركة ودول المنبع لتحقيق مصالح الدول العربية المعنية

السؤال الثالث : عرف المفاهيم التالية :

١- الطقس : حالة الجو في مكان لمدة قصيرة تتراوح بين يوم او عدة ايام من حيث درجة الحرارة والرطوبة والامطار والرياح والضغط الجوي. ص ٤٤

٢- المناخ: حالة الجو خلال فترة زمنية طويلة من حيث درجة الحرارة والرطوبة والامطار. ص ٤٤

٣- الضغط الجوي : وزن الهواء فوق اي مكان ص ٤٤

٤- الاقليم : يعني اي منطقة او مكان ص ٤٦

٥- النبات الطبيعي : هو نبات الذي ينمو تلقائيا عقب سقوط المطر دون تدخل الانسان ص ٥١

٦- السافانا : هي حشائش طويلة يختلف نوعها حسب كمية الامطار ص ٥٢

٧- الاستبس :هي حشائش قصيرة نوعا ما تنمو في الشتاء خلال موسم سقوط الامطار ص ٥٢

٨- النهر: مجرى مائي عذب ينحدر على الدوام لينتهي الى بحر او الى نهر اخر او ينتهي تدريجيا في الصحراء ص ٥٨

٩- المياه الجوفية : هي المياه التي توجد في جوف الارض ص ٦٠

١٠- الافلاج : هو مجرى مائي صغير في الارض ص ٦٠

١١- البحيرة : مسطح مائي تحيط به اليابسة من جميع الاتجاهات ص ٦٠

١٢- الوطن العربي : هو مجموعة الدول العربية التي يجمعها عدد من السمات المشتركة ويمتد ضمن قارتين من اكبر

قارات العالم مساحة . ص ٢٢

١٣- جمهورية جزر القمر : هي جمهورية تقع خارج نطاق موقع الوطن العربي حيث تتكون من اتحاد اربع جزر مستقلة

تقع شمال غرب جزيرة مدغشقر في المحيط الهندي . ص ٢٣

١٤- الموقع الاستراتيجي : اي موقع ذي مكانة مهمة بين دول العالم . ص ٢٨

١٥- المسطحات المائية : جميع اشكال المياه على سطح الارض مثل البحار والخلجان والمحيطات والبحيرات والانهار .

ص ٢٨

١٦- القناة : مجرى مائي صناعي ضيق يشق لأغراض الري او النقل . ص ٢٨

١٧- المضيق : ممر مائي ضيق يصل بين مساحتين كبيرتين نسبيا من الماء . ص ٢٨

١٨- الموقع الفلكي : هو نقطة من الكرة الارضية يتحدد موقعها بخطوط الطول ودوائر العرض . ص ٣١

١٩- الموقع النسبي : هو موقع الدولة بالنسبة لليابسة والماء . ص ٣٣

٢٠- الجبل : هو كل ما ارتفع من الارض وله قمة لا يقل ارتفاعها عن ١٠٠٠ متر . ص ٣٨


٢١- التل : هو كل ما ارتفع من الارض وله قمة يقل ارتفاعها عن ١٠٠٠ متر . ص ٣٨

٢٢- الهضبة : ارض مرتفعة سطحها مستو ويمتد على مساحة كبيرة . ص ٤٠

٢٣- السهول : مساحة كبيرة من سطح الارض تتميز باستوائها وقلة ارتفاعها . ص ٤٢

٢٤- السهول الفيضية (النهرية) : هي الاراضي المنخفضة التي تكونت من التربة التي تحملها مياه الانهار . ص ٤٢

٢٥- السهول الساحلية : هي الاراضي المنبسطة التي تجاور سواحل البحار والمحيطات . ص ٤٢



الوحدة الثانية



السؤال الاول : اكتب المفاهيم او المصطلحات الدالة على العبارات التالية :

- ١- (الحضارة) كل ما يطرأ على المجتمع من تقدم وتطور في جميع نواحي الحياة الدينية والسياسية والاقتصادية والاجتماعية والفكرية ص ٧١
- ٢- (البعث والخلود) اعتقد المصريون القدماء ان الحياة تعود الى الجسم بعد الموت ص ٧٦
- ٣- (بلاد الرافدين) بلاد ما بين النهرين ، ويطلق عليها حالياً اسم العراق. ص ٧٩
- ٤- (أوال) اسم أطلق على البحرين قديماً نسبة إلى صنم اسمه أوال كانت تعبده قبيلة وائل التي حكمت البحرين آنذاك ص ٨٩.
- ٥- (الديانة اليهودية) الديانة التي نزلت على سيدنا موسى عليه السلام وكتابها التوراة . ص ٩٠
- ٦- (الديانة المسيحية) الديانة التي نزلت على سيدنا عيسى بن مريم عليه السلام وكتابها الإنجيل . ص ٩٠
- ٧- (الديانة الإسلامية) الديانة التي نزلت على سيدنا محمد صلى الله عليه وسلم عام ٦١٠ م في مكة المكرمة وكتابها القرآن الكريم . ص ٩٠

السؤال الثاني : أكمل العبارات التالية بما يناسبها فيما درست :

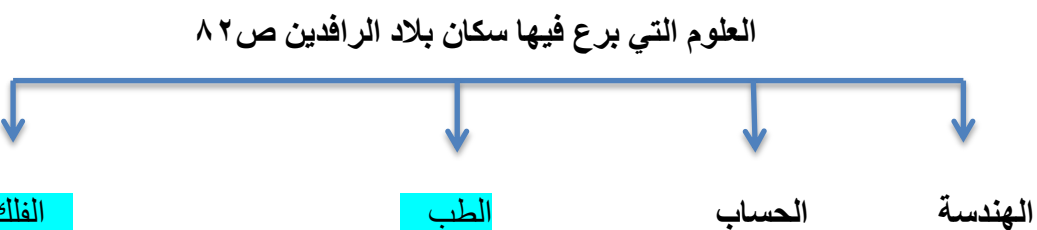
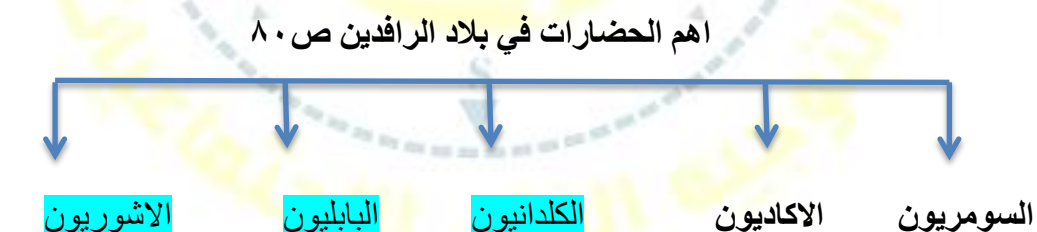
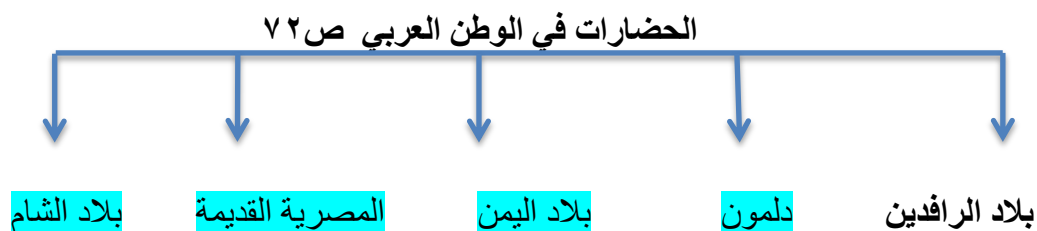
١. يطلق اسم بلاد الرافدين أو بلاد ما بين النهرين على دولة عربية حالياً تسمى **العراق** ص ٧٩
٢. من العوامل التي ساعدت في ازدهار الحياة الاقتصادية في بلاد الرافدين هي الزراعة والتجارة و **الصناعة** ص ٨١ - ٨٢
٣. الكتابة التي اخترعها السومريون قديماً تسمى **المسمارية** ص ٨٣
٤. حروف الكتابة المسمارية تشبه **المسمار** ص ٨٣
٥. الكتابة المسمارية تكتب على ألواح من **الطين** ص ٨٣
٦. عدد حروف الكتابة المسمارية يبلغ **٦٠٠** ص ٨٣
٧. أشهر ملوك الحضارة البابلية في بلاد الرافدين ملك يسمى **حمورابي** ص ٨٤
٨. ظهرت شرائع قانونية قديمة من أهمها شريعة حمورابي في بلاد **الرافدين** ص ٨٤

٩. يبلغ عدد المواد القانونية لشريعة حمورابي التي ظهرت في بلاد الرافدين هي **٢٨٢ مادة** ص ٨٤
١٠. تقع حضارة حمير بالنسبة لليمن في جهة تسمى **الجنوب** ص ٨٥
١١. تقع حضارة معين بالنسبة لليمن في جهة تسمى **الشمال** ص ٨٥
١٢. أهم مدن حضارة سبأ مدينة اسمها تسمى **مأرب** ص ٨٥
١٣. أشهر ملوك سبأ التي ورد ذكرها في القرآن الكريم تسمى **بلقيس** ص ٨٦
١٤. أشهر ممالك اليمن القديمة التي ورد ذكرها في القرآن الكريم مملكة تسمى **سبأ** ص ٨٦
١٥. أشهر سدود جنوب غرب شبه الجزيرة العربية يسمى **سد مأرب** ص ٨٦
١٦. الخط الذي كانت تكتب به الأبجدية في حضارة جنوب غرب شبه الجزيرة العربية هو **الخط المسند** ص ٨٧
١٧. عدد حروف الأبجدية في حضارة جنوب غرب شبه الجزيرة العربية تتألف من **٢٩ حرفاً** ص ٨٧
١٨. الاسم الذي أطلق على البحرين قديماً قبل الفتح الإسلامي تسمى **أوال** ص ٨٩
١٩. نزل القرآن الكريم على سيدنا محمد صلى الله عليه وسلم عام **٦١٠ م** ص ٩٠
٢٠. نزل القرآن الكريم على سيدنا محمد صلى الله عليه وسلم في مدينة تسمى **مكة المكرمة** ص ٩٠
٢١. الكتاب الذي أنزل على سيدنا موسى - عليه السلام - يسمى **التوراة** ص ٩٠
٢٢. الكتاب الذي أنزل على سيدنا محمد صلى الله عليه وسلم يسمى **القرآن الكريم** ص ٩٠
٢٣. الكتاب الذي أنزل على سيدنا عيسى بن مريم - عليه السلام - يسمى **الانجيل** ص ٩٠
٢٤. الدولة التي ولد فيها سيدنا عيسى بن مريم - عليه السلام - تسمى **فلسطين** ص ٩٠
٢٥. ولد سيدنا عيسى بن مريم - عليه السلام - في عام **١ ميلادي** ص ٩٠
٢٦. كان للحضارة العربية الإسلامية فضل كبير في إثراء الحضارة الأوروبية منذ القرن **العاشر الميلادي** ص ٩٢

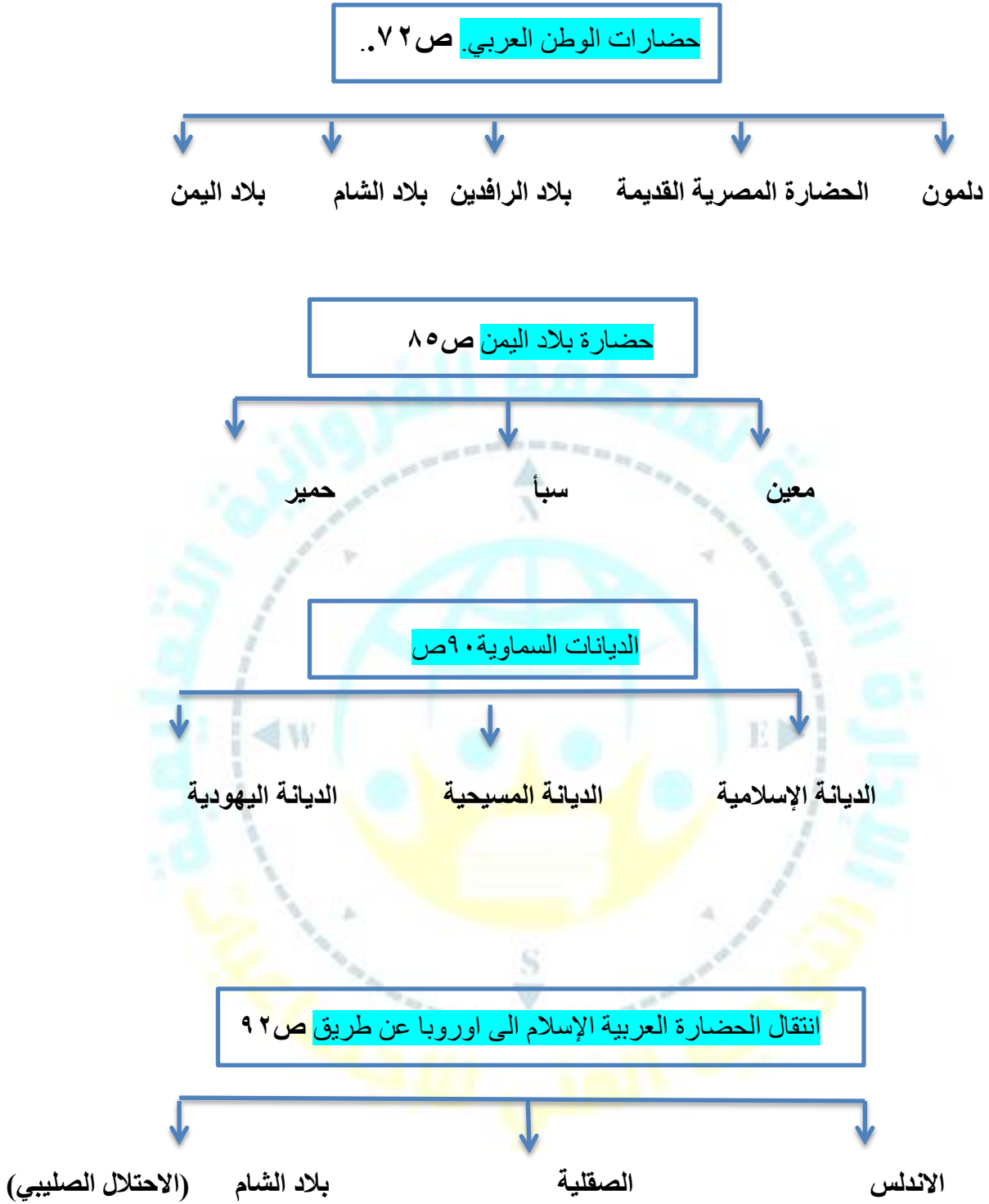
السؤال الثالث : ضع خطأ تحت الخيار الصحيح من بين الخيارات التي التالية :

١. يطلق اسم بلاد الرافدين أو بلاد ما بين النهرين على دولة عربية حالياً : ص ٧٩
- العراق** - سوريا - الصومال - المغرب
٢. عدد حروف الكتابة المسمارية يبلغ : ص ٨٣
- ٥٠٠ - **٦٠٠** - ٧٠٠ - ٨٠٠
٣. أشهر ملوك الحضارة البابلية في العراق ملك : ص ٨٤
- حمورابي** - سرجون - أشور بنيبال - نبوخذ نصر
٤. ظهرت شرائع قانونية قديمة من أهمها شريعة حمورابي في : ص ٨٤
- بلاد اليمن - بلاد الشام - **بلاد الرافدين** - دلمون
٥. يبلغ عدد المواد القانونية لشريعة حمورابي : ص ٨٤
- مادة ٢٥٢ - مادة ٢٦٢ - مادة ٢٧٢ - **مادة ٢٨٢**
٦. أشهر ملوك سبأ التي ورد ذكرها في القرآن الكريم ملكة اسمها : ص ٨٦
- بليقيس** - شجرة الدر - كليوباترا - نفرتيتي
٧. حروف الأبجدية في حضارة جنوب غرب شبه الجزيرة العربية تتألف من : ص ٨٧
- ١٩ حرفاً - **٢٩ حرفاً** - ٣٩ حرفاً - ٤٩ حرفاً
٨. نزل القرآن الكريم على سيدنا محمد صلى الله عليه وسلم في عام : ص ٩٠
- ٦١٠ م** - ٦٢٠ م - ٦٣٠ م - ٦٤٠ م
٩. نزل القرآن الكريم على سيدنا محمد صلى الله عليه وسلم في مدينة : ص ٩٠
- المدينة المنورة - الطائف - **مكة المكرمة** - الرياض

السؤال الرابع : أكمل المخطط السهمي التالي :



اكتب عنوانا مناسباً للمخطط السهمي التالي :





السؤال الخامس : صوب ما تحته خط في العبارات التالية:

- ١- احرز المصريون القدماء تقدما كبيرا في مجال العلوم والفنون والتحنيط والبناء والكتابة التي عرفت عندهم بالكتابة المسمارية ص ٧٧ الكتابة الهيروغليفية
- ٢- من المعتقدات التي سادت بين المصريون القدماء ان الحياة تعود الى الجسم بعد الموت وسمي ذلك ببناء القبور ص ٧٦ البعث والخلود
- ٣- يطلق اسم بلاد الرافدين أو بلاد ما بين النهرين على دولة عربية تسمى الجزائر العراق ص ٧٩
- ٤- الكتابة التي اخترعها السومريون قديماً تسمى الهيروغليفية المسمارية ص ٨٣
- ٥- عدد حروف الكتابة المسمارية يبلغ ٥٠٠ ٦٠٠ ص ٨٣
- ٦- أشهر ملوك الحضارة البابلية في العراق ملك يسمى أشور بنبيال حمورابي ص ٨٤
- ٧- ظهرت شرائع قانونية قديمة من أهمها شريعة حمورابي في بلاد الشام الرافدين ص ٨٤
- ٨- يبلغ عدد المواد القانونية لشريعة حمورابي ٢٦٢ مادة ٢٨٢ ص ٨٤
- ٩- تقع حضارة حمير بالنسبة لليمن في جهة الشمال الجنوب ص ٨٥
- ١٠- تقع حضارة معين بالنسبة لليمن في جهة الجنوب الشمال ص ٨٥
- ١١- أهم مدن حضارة سبأ مدينة اسمها قرناو مأرب ص ٨٥
- ١٢- أشهر ملوك سبأ التي ورد ذكرها في القرآن الكريم ملكة اسمها نفرتي بلييس ص ٨٦

- ١٣- أشهر ممالك اليمن القديمة ورد ذكرها في القرآن الكريم تسمى **حمير** **سبأ** ص ٨٦
- ١٤- أشهر سدود جنوب غرب شبه الجزيرة العربية سد **الخائق** **مأرب** ص ٨٦
- ١٥- الخط الذي كانت تكتب به الأبجدية في حضارة جنوب غرب شبه الجزيرة العربية هو **الخط النسخ** **المسند** ص ٨٧
- ١٦- حروف الأبجدية في حضارة جنوب غرب شبه الجزيرة العربية تتألف من **٤٩** **٢٩** ص ٨٧
- ١٧- نزل القرآن الكريم على سيدنا محمد صلى الله عليه وسلم عام **٦٢٠** م **٦١٠** م ص ٩٠
- ١٨- نزل القرآن الكريم على سيدنا محمد صلى الله عليه وسلم في **المدينة المنورة** **مكة المكرمة** ص ٩٠
- ١٩- الكتاب الذي أنزل على سيدنا موسى - عليه السلام - هو **الإنجيل** **التوراة** ص ٩٠
- ٢٠- الكتاب الذي أنزل على سيدنا عيسى بن مريم - عليه السلام - هو **التوراة** **الإنجيل** ص ٩٠
- ٢١- ولد سيدنا عيسى بن مريم - عليه السلام - في عام **٢٣** م **١** م ص ٩٠
- ٢٢- كان للحضارة العربية الإسلامية فضل كبير في إثراء الحضارة الأوروبية منذ **القرن الخامس الميلادي** **العاشر الميلادي** ص ٩٢

السؤال الخامس : استنتج الرابط المشترك بين العناصر التالية :

- ١- (تنوع الصخور والمعادن + امتداد الصحراء نهر النيل + اعتدال المناخ وجفافه) **=** (عوامل ساعدت على قيام الحضارة المصرية القديمة) ص ٧٥
- ٢- (توافر العنصر البشري + اعتدال المناخ + توافر الثروات الطبيعية + توافر مصادر المياه العذبة + الموقع الاستراتيجي) **=** (عوامل قيام الحضارة) ص ٧٣
- ٣- (السومريون + الأكاديون + الكلدانيون + البابليون + الآشوريون) **=** (أهم الحضارات التي قامت في بلاد الرافدين) ص ٨٠
- ٤- (معين + سبأ + حمير) **=** (حضارات بلاد اليمن) ص ٨٥
- ٥- (الديانة الإسلامية + الديانة اليهودية + الديانة المسيحية) **=** (الديانات السماوية) ص ٩٠

٦- (الأندلس + صقلية + بلاد الشام) = (انتقال الحضارة العربية الإسلامية إلى

أوروبا) ص ٩٢

السؤال السادس : ضع علامة صح امام العبارة الصحيحة وعلامة خطأ امام العبارة الخاطئة :

م	العبارة	العلامة
١	اهم الاثار للحضارة المصرية القديمة الموجودة في وقتنا الحاضر هي الاهرامات وابو الهول ص ٧٤	✓
٢	تنوع الصخور والمعادن لن تساعد المصريين القدامى على نحت التماثيل وبناء المعابد ص ٧٥	✗
٣	تعتبر الاهرامات من مظاهر الحضارة المصرية القديمة ص ٧٢	✓
٤	سيطر على بلاد الرافدين خلال تاريخها القديم ثلاثة شعوب متتالية . ص ٧٩	✗
٥	سميت الحضارات التي قامت في بلاد الرافدين بأسماء المناطق والمدن التي قامت فيها. ص ٧٩	✓
٦	تنوعت الصناعات في بلاد الرافدين واشتهرت بصناعة الحلي . ص ٨٢	✓
٧	تطورت العلوم لدى سكان بلاد الرافدين . ص ٨٢	✓
٨	عدد حروف الكتابة المسمارية يبلغ ٥٠٠ حرف . ص ٨٣	✗
٩	يبلغ عدد المواد القانونية لشريعة حمورابي ٢٦٢ مادة ص ٨٤	✗
١٠	كان أهل اليمن أسياد التجارة العربية . ص ٨٧	✓
١١	امتدت تجارة أهل اليمن بين شمال شبه الجزيرة العربية وجنوبها ص ٨٧	✓
١٢	قامت دلمون وسط حضارات الشرق القديم . ص ٨٨	✓
١٣	نزل القرآن الكريم على سيدنا محمد صلى الله عليه وسلم عام ٦٢٠ م	✗

	ص ٩٠	
✓	ص ٩٠	١٤ نزل القرآن الكريم على سيدنا محمد صلى الله عليه وسلم في مكة المكرمة
✓	ص ٩٠	١٥ يعتبر الإسلام خاتم الرسالات السماوية جميعاً .
✗	ص ٩٠	١٦ الكتاب الذي أنزل على سيدنا عيسى بن مريم - عليه السلام - اسمه التوراة
✓	ص ٩٢	١٧ كان للحضارة العربية الإسلامية فضل كبير في إثراء الحضارة الأوروبية منذ القرن العاشر الميلادي

السؤال السابع : صنف الكلمات التالية الى مكانها المناسب في الجدول التالي :

(نهر النيل - تنوع الصخور والمعادن - اعتدال المناخ وجفافه) ص ٧٥

ربط بين اجزاء البلاد من الشمال الى الجنوب وساعدت على الاستقرار	المحافظة على الاثار من التلف	ساعدت المصريين على نحت التماثيل وبناء المعابد
نهر النيل	اعتدال المناخ وجفافه	تنوع الصخور والمعادن

السؤال الثامن : من أنا :

- أنا ملك بابل .

- احتوت شريعتي على ٢٨٢ مادة .

حمورابي ص ٨٤

- أنا ملكة .

- حكمت مملكة سبأ .

- أشير لي بالقرآن الكريم

بلقيس ص ٨٦

السؤال التاسع اختر للمجموعة (أ) ما يناسبها من المجموعة (ب) وذلك بوضع الرقم المناسب : ص ٨٥

ب	الرقم	أ	
حمير	٣	قرناو	١
معين	١	مأرب	٢
سبأ	٢	ريدان	٣
دلمون	-		

ص ٩٠

ب	الرقم	أ	
الانجيل	٢	الاسلام	١
التوراه	٣	المسيحية	٢
القران الكريم	١	اليهودية	٣
الزبور	-		

السؤال العاشر : أعد ترتيب حضارات بلاد اليمن تصاعدياً من الأقدم إلى الأحدث : ص ٨٥

(سبأ - حمير - معين)

معين
سبأ
حمير

الإسئلة المقالية :

السؤال الاول : على لما يلي :

١- حرص المصريين القدماء على تحنيط جثث موتاهم . ص ٧٦

أ-اعتقد المصريون القدماء ان الحياة تعود الى الجسم بعد الموت.

٢-عرف سكان بلاد الرافدين الزراعة . ص ٨١

ب - سعة سهولها

أخصوبة تربتها

د- إقامة السدود / تجفيف المستنقعات / استصلاح الأراضي

ج - وفرة مياهها

٣-انتشار الأمن والأمان في بلاد الرافدين . ص ٨٤

أ- بسبب ظهور الشرائع القانونية القديمة من أهمها شريعة حمورابي .

٤- تعد منطقة جنوب غرب شبه الجزيرة العربية من أكثر مناطق شبه الجزيرة العربية ملائمة لقيام الحضارة . ص

٨٥

أ-توافر المياه العذبة

ب-المناخ المناسب لقيام الزراعة

ج - الموقع الذي يسمح بقيام النشاط التجاري فيها .

٥- تعد حضارة (دلمون) مركزاً مهماً للمواصلات والتجارة البحرية . ص ٨٨

أ-بحكم موقعها وسط الخليج العربي .

٦- كانت أوروبا تعيش في عصور الظلام . ص ٩٢

أ- سيطرة الكنيسة على عقول الناس .

السؤال الثاني : أجب عن الأسئلة التالية :

١- ما اسم النهرين في بلاد الرافدين . ص ٧٩

أ- نهر دجلة ب - نهر الفرات .

٢- ما هي مميزات بلاد الرافدين . ص ٧٩

أ - الموقع الممتاز

ب - خصوبة تربتها

ج - وفرة مياهها العذبة .

٣- أهم ما اشتهرت به الحضارات التي قامت في بلاد الرافدين . ص ٧٩

أ - التقدم ب - الرقي بما قدمته للإنسانية من إنجازات .

٤- ما أهم الحضارات التي قامت في بلاد الرافدين . ص ٨٠

أ- السومريون ب- الأكاديون

ج - الكلدانيون د - البابليون

هـ - الآشوريون .

٥- ما هي الحضارات الموجودة في الوطن العربي : ص ٧٢

أ- بلاد اليمن . ب - المصرية القديمة

ج - بلاد الشام. د - دلمون

هـ - بلاد الرافدين.

٦- ما هي أهم الصناعات التي اشتهرت بها بلاد الرافدين . ص ٨٢

أ - صناعة الحلي

ب-الأواني الفخارية .

٧- ما هي العلوم التي برع فيها سكان بلاد الرافدين . ص ٨٢

أ-الهندسة ب- الحساب ج - الفلك د - الطب .

٨- ما أهم الفنون لدى بلاد الرافدين . ص ٨٢

أ-فن النحت ب - البناء ج - الرسم د - الأواني الفخارية .

٩- ما هي النتيجة التي حققتها شريعة حمورابي في بلاد الرافدين ؟ ص ٨٤

أ-انتشار الأمن والأمان في بلاد الرافدين .

١٠- ما أهم ما أشتهر به سكان جنوب غرب شبه الجزيرة العربية . ص ٨٦

أ - المشاريع الزراعية من خلال تنظيم عملية الري عن طريق بناء السدود والخزانات .

١١- ما أشهر المنتجات الزراعية لحضارة جنوب غرب شبه الجزيرة العربية . ص ٨٦

أ - الموز ب - اللبان ج - القرفة .

١٢- ما هي الحضارات المجاورة لحضارة جنوب غرب شبه الجزيرة العربية والتي تبادلت معها التجارة . ص ٨٧

أ-حضارة بلاد مصر القديمة ب- حضارة بلاد الرافدين ج - حضارة بلاد الشام .

١٣- أذكر حضارتين من الحضارات المجاورة لحضارة دلمون . ص ٨٨

أ - حضارة بلاد الرافدين ب - حضارة بلاد اليمن .

١٤- ما أهم الأنشطة الاقتصادية لحضارة دلمون . ص ٨٨

أ-الزراعة ب- صيد الأسماك ج- الغوص على اللؤلؤ .

١٥- ما هي الديانات السماوية التي أكسبت الوطن العربي مكانة روحية مقدسة . ص ٩٠

أ - الديانة اليهودية ب - الديانة المسيحية ج- الديانة الإسلامية .

١٦- ما أهم الأسس التي بنيت عليها حضارة العرب في ظل الإسلام . ص ٩٢

أ-الإسلام وتعاليمه : الصلاة - الصوم - الزكاة

ب-مبادئ الإسلام المتمثلة في الشورى والعدل والمساواة

ج - اللغة العربية : انتشرت اللغة العربية وأصبحت الرابطة الأساسية التي ربطت أجزاء الدولة بعضها ببعض .

د- تحقق التكافل الاجتماعي

١٧- عدد مراكز الإشعاع التي انتقلت الحضارة العربية الإسلامية إلى أوروبا بفضلها . ص ٩٢

أ - الاندلس - ب - صقلية - ج - عن طريق الاحتلال الصليبي لبلاد الشام

١٨ - ما عوامل قيام الحضارة (للحضارة مقومات اساسيه لايد من توافرها اذكريها : ص ٧٣

١- اعتدال المناخ ٢-الموقع الاستراتيجي. ٤-توافر العنصر البشري

٣-توافر مصادر المياه. ٥-توافر الثروات الطبيعية

السؤال الثالث : دلي على ما يلي :

١- أن الله - سبحانه وتعالى - تكفل بحفظ القرآن الكريم من التحريف والتغيير . ص ٩٠

• قال الله تعالى في كتابه الحكيم ((إنا نحن نزلنا الذكر وإنا له لحافظون)

السؤال الرابع : عرف المفاهيم التالية:

١- الحضارة: كل ما يطرأ على المجتمع من تقدم وتطور في جميع نواحي الحياة الدينية والسياسية والاقتصادية

والاجتماعية والفكرية ص ٧١

٢- البعث والخلود: اعتقد المصريون القدماء ان الحياة تعود الى الجسم بعد الموت ص ٧٦

٣-بلاد الرافدين : وتعني بلاد ما بين النهرين ، ويطلق عليها حالياً اسم العراق ص ٧٩

٤-أوال : اسم أطلق على البحرين قديماً نسبة إلى صنم اسمه أوال كانت تعبده قبيلة وائل التي حكمت البحرين آنذاك . ص ٨٩

٥-الديانة اليهودية : وهي التي نزلت على سيدنا موسى عليه السلام وكتابها التوراة . ص ٩٠

٦-الديانة المسيحية : هي التي نزلت على سيدنا عيسى بن مريم عليه السلام وكتابها الإنجيل . ص ٩٠

السؤال الخامس : اقرأ الفقرة التالية ثم اجب عما يليها من اسئلة:

نشطت الحياة في مصر القديمة بجميع نواحيها حيث تقدمت الزراعة وتطورت اساليبها وتنوعت المحاصيل الزراعية كالبقول والقمح والفواكه والكتان وتربية الماشية و قد مهر المصريين القدماء في الصناعة ايضا وخاصة صناعة الاواني الفخارية والمعدنية والملابس الكتانية والسفن والورق ص ٧٦

١- ضعي عنوانا مناسباً للفقرة :

الحياة الاقتصادية في الحضارة المصرية القديمة

٢- اذكرى اهم الصناعات في الحضارة المصرية القديمة :

الاوراق الفخارية والمعدنية-الملابس الكتانية -السفن - الورق

٢- عددي اهم المحاصيل الزراعية :

القمح-الفواكه -البقول-الكتان



اختراع السومريون نوعاً من الكتابة عرفت باسم الكتابة المسمارية ، وتعد هذه الكتابة من أقدم أنواع الكتابة في العالم وحروفها تشبه المسمار ، وتكتب على ألواح من الطين الطري بواسطة أقلام تشبه المسامير ، وعدد حروفها

٦٠٠ حرف . ص ٨٣

أ	ب	ج	د
هـ	و	ز	ح
ط	ي	ك	ل
م	ن	س	ع
ف	غ	ث	ص
ض	ظ	ق	ر

١ - اقترح عنواناً مناسباً للفقرة .

• الحياة الفكرية في بلاد الرافدين .

٢ - ماذا تشبه حروف الكتابة المسمارية ؟

• المسمار .

٣- ما الأدوات المستخدمة في الكتابة المسمارية ؟

• ألواح من الطين - أقلام تشبه المسامير .

٤- كم يبلغ عدد حروف الكتابة المسمارية ؟

• ٦٠٠ حرف

السؤال السادس : لاحظ الصورة التي أمامك ثم أجب عن الأسئلة التالية : ص ٨٤



١- ما اسم الشخصية التي في الصورة ؟

-حمورابي .

٢- كم يبلغ عدد المواد القانونية لشريعته ؟

- ٢٨٢ مادة .

٣- ما أهم ما أشتهر به ؟

-شريعة حمورابي .

٤- ما المبدأ الذي أعتمد عليه ؟

-السن بالسن والعين بالعين

السؤال السابع : قارن بين كل من : حسب الجدول التالي : ص ٩٠

أوجه المقارنة	اسم الكتاب	اسم النبي
الديانة الإسلامية	القرآن الكريم	محمد صلى الله عليه وسلم
الديانة اليهودية	التوراة	موسى عليه السلام

٢- اكتب الأسماء التالية في مكانها المناسب في الجدول التالي : ص ٩٠

(الإنجيل – موسى عليه السلام – القرآن الكريم – عيسى عليه السلام – التوراة – محمد صلى الله عليه وسلم)

الكتاب	النبي
القران الكريم	محمد صل الله عليه وسلم
التوراة	موسى عليه السلام
الانجيل	عيسى عليه السلام

٣- صنف المنتجات التجارية التالية من وإلى بلاد الرافدين حسب الدول التالي ص ٨١

(المنتجات الزراعية - المنسوجات - المعادن - الأحجار - الأخشاب)

الواردات	الصادرات
المعادن	المنتجات الزراعية
الاحجار	المنسوجات
الاخشاب	

السؤال الثامن : لاحظ الصور التي امامك ثم اكتب اسم الحضارة التابعة لها : ص ٧٢-٧٣



اسم المعلم الحضاري معبد باربار
الحضارة:.....دلمون.....



اسم المعلم الحضاري سد مأرب
الحضارة: .. بلاد اليمن



اسم المعلم الحضاري الاهرامات
الحضارة:.....المصرية القديمة




اسم المعلم الحضاري اثار تدمر
الحضارة:.....بلاد الشام.....

اسم المعلم الحضاري أسد بابل
الحضارة:.. بلاد الرافدين..



السؤال التاسع : ضع عنواناً مناسباً للصور التالية:



طبيعة بلاد الرافدين ص ٨١



حدائق بابل المعلقة ص ٨٢



أنية فخارية تعود للعصر الأكادي ص ٨٢



عقد بابلي ص ٨٢



حمورابي ص ٨٤



مسلة حمورابي ص ٨٤



نقش سبأ بالخط المسند ص ٨٥



مدينة يثل الدينية في معين ص ٨٥



فن النحت ص ٨٢



بقايا مأرب ص ٧٦



الطبيعة في اليمن ص ٨٦



راس الثور ص ٨٨



مائدة قرابين تعود لمملكة حمير ص ٨٥

ختم يعود لحضارة دلمون ص ٨٨

٢- اكتب اسماء الاماكن المقدسة الموجودة في الصور : ص ٩١

..... مسجد قباء



..... مكة المكرمة

..... المدينة المنورة



٣- ضع عنواناً مناسباً للخريطة التالية :

خريطة توضح الممالك التي قامت في بلاد
الرافدين ص ٧٩



خريطة توضح مملكة البحرين ص ٨٨




السؤال العاشر : أمامك خريطة حضارات بلاد اليمن الصماء نفذ المطلوب عليها : ص ٨٥

• حضارة معين يمثلها على الخريطة الرقم (٢) .

• حضارة سبأ يمثلها على الخريطة الرقم (١) .

• حضارة حمير يمثلها على الخريطة الرقم (٣) .

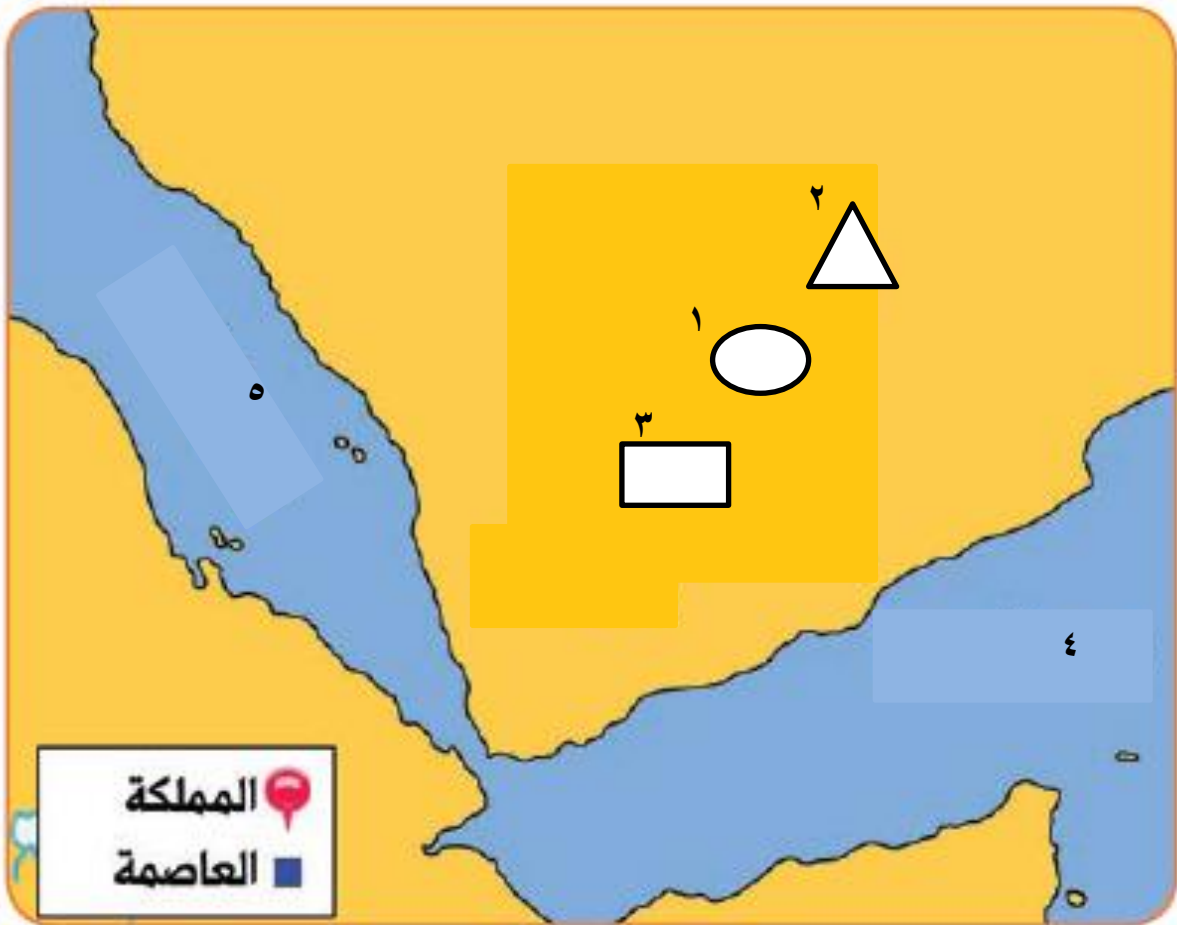
• الشكل  يرمز إلى عاصمة اسمها قرناو .

• الشكل  يرمز إلى مدينة اسمها مأرب .

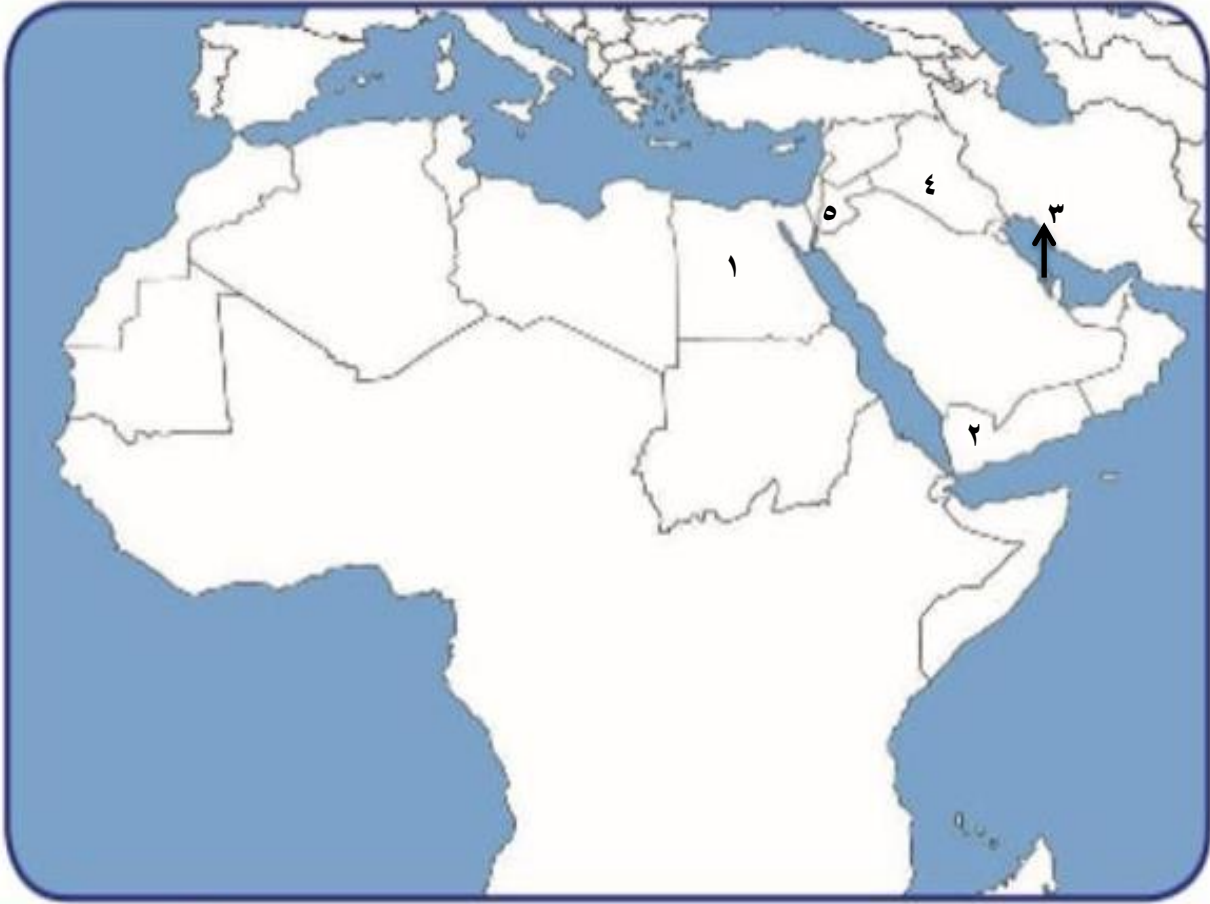
• الشكل  يرمز إلى مدينة اسمها ريدان .

• بحر القلزم يمثلها على الخريطة الرقم (٥) .

• بحر العرب يمثلها على الخريطة الرقم (٤) .



امامك خريطة الوطن العربي اكتب الرقم الدال على العبارات التالية: ص ٧١



- حضارة دلمون تمثل رقم ٣.....
- حضارة مصر القديمة تمثل رقم ١.....
- حضارة بلاد الشام تمثل رقم ٥.....
- حضارة بلاد اليمن تمثل رقم ٢.....
- حضارة بلاد الرافدين تمثل رقم ٤.....



الوحدة الثالثة الثالثة



السؤال الاول : أكملی العبارات التالية:

- ١- يبلغ عدد سكان الوطن العربي حوالي **٣٨٢ مليون نسمة** ص ٩٩
- ٢- تبلغ مساحة الوطن العربي حوالي **١٣،٥ مليون كم** ص ٩٩
- ٣- يبلغ عدد دول الوطن العربي من **٢٢ دولة** ص ٩٩
- ٤- يتوزع سكان الوطن العربي بين قارتي آسيا و **أفريقيا** ص ٩٩
- ٥- يتوزع سكان الوطن العربي بنسبة **٧٠%** في القارة الافريقية ونسبة **٣٠%** في **القارة الآسيوية** ص ٩٩
- ٦- تم اجراء أول تعداد سكاني في دولة الكويت عام **١٩٥٧** ص ٩٩
- ٧- أنشأت الإدارة المركزية للإحصاء في الكويت عام **١٩٦٣** ص ٩٩
- ٨- أكبر الدول العربية من حيث المساحة في الجناح الافريقي هي **الجزائر** ص ١٠٠
- ٩- أصغر الدول العربية مساحة في الجناح الافريقي هي **جزر القمر** ص ١٠٠
- ١٠- أكبر الدول العربية مساحة في الجناح الآسيوي هي **السعودية** ص ١٠٠
- ١١- أصغر الدول العربية مساحة في الجناح الآسيوي هي **البحرين** ص ١٠٠
- ١٢- أكثر الدول العربية من حيث عدد السكان في الجناح الافريقي هي **مصر** ص ١٠٠
- ١٣- أقل الدول العربية من حيث عدد السكان في الجناح الافريقي هي **جزر القمر** ص ١٠٠
- ١٤- أكثر الدول العربية من حيث عدد السكان في الجناح الآسيوي هي **العراق** ص ١٠٠
- ١٥- أقل الدول العربية من حيث عدد السكان في الجناح الآسيوي هي **البحرين** ص ١٠٠
- ١٦- يبلغ عدد السكان في الجناح الآسيوي حوالي **١٥٠،٩٢٥ مليون نسمة** ص ١٠٠
- ١٧- يبلغ عدد السكان في الجناح الافريقي حوالي **٢٣١٣٨٤ مليون نسمة** ص ١٠٠
- ١٨- الدولة التي تعاني من سوء توزيع السكان في الوطن العربي هي **مصر** ص ١٠٢
- ١٩- القطاع الذي يمثل المرتبة الأولى من اقتصاد الوطن العربي **القطاع الزراعي** ص ١١٠
- ٢٠- من أهم المزروعات في الوطن العربي **الحبوب الغذائية** ص ١١٣

٢١- تمتلك الصومال من ثروة الوطن العربي الرعوية {الابل} حوالي ٦,٦% ص ١١٨

٢٢- المزروعات التي تتطلب ظروف مناخية خاصة وتتركز معظمها في حوض البحر المتوسط الفواكه والثمار ص ١١٣

٢٣- الدولة العربية التي تحتل المركز الأول في إنتاج محصول الذرة هو مصر ص ١١٤

٢٤- الدولة العربية التي تحتل المركز الأول في إنتاج محصول الأرز هو مصر ص ١١٤

٢٥- الدولة العربية الأولى في إنتاج محصول قصب السكر هو مصر ص ١١٤

٢٦- الدولة العربية الأولى في إنتاج القطن والموايح هو مصر ص ١١٤

٢٧- تبلغ مساحة الأراضي المزروعة في الوطن العربي حوالي ٥٦% ص ١١٦

٢٨- أكثر أنواع الثروة الرعوية انتشارا في الوطن العربي هي الأغنام ص ١١٨

٢٩- الدولة العربية الأولى في إنتاج الأغنام والماعز والأبقار هي السودان ص ١١٨

٣٠- الدولة العربية الأولى في إنتاج الابل هي الصومال ص ١١٨

٣١- الدولة العربية الأولى في إنتاج الثروة السمكية هي مصر ص ١٢٣

٣٢- الدولة العربية الأولى في إنتاج النفط واحتياطه هي السعودية ص ١٢٩

٣٣- أولى الدول العربية في إنتاج واحتياط الغاز الطبيعي هي قطر ص ١٢٩

٣٤- الدولة التي تحتل المركز الثالث بإنتاج واحتياط النفط هي الكويت ص ١٢٩

٣٥- الدولة التي تحتل المركز الثاني في إنتاج واحتياط النفط هي العراق ص ١٢٩

٣٦- الدولة العربية التي تحتل المركز الأول في إنتاج المعادن {فوسفات- نحاس- رصاص- منجنيز} هي المغرب ص ١٣٢

٣٧- الدولة العربية التي تحتل المركز الأول في إنتاج معدن الحديد هي موريتانيا ص ١٣٣

٣٨- الأوبك هي منظمة عالمية مصدرة للنفط تأسست عام ١٩٦٠ ص ١٣٤

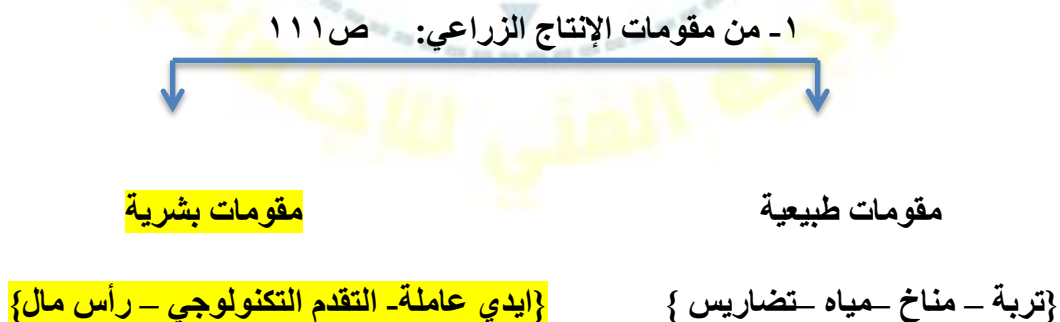
٣٩- الأوبك هي منظمة عربية مصدرة للنفط تأسست عام ١٩٦٨ ص ١٣٥

٤٠- صناعات تقتصر على استخراج مصادر الطاقة هي الصناعات الاستخراجية ص ١٤١

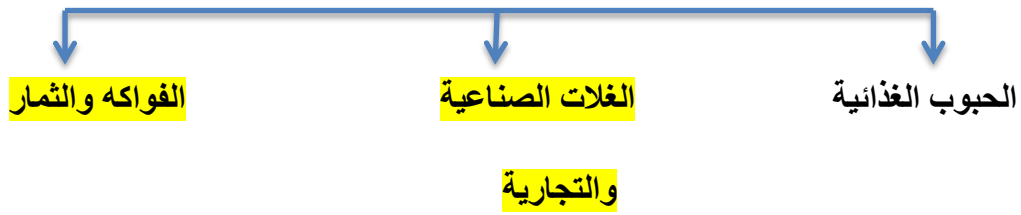
٤١- تعتبر من الصناعات الأولى في العالم هي الصناعات الحرفية ص ١٤٣

- ٤٢- نسبة الصادرات بين الدول العربية ٨% أما الواردات ٧,٤% ص ١٥١
- ٤٣- الأسواق التي تحتل المكانة الأولى بالنسبة للصادرات العربية هي الأسواق الأوروبية ص ١٥٢
- ٤٤- يتفوق الجناح الاسيوي على الجناح الافريقي بإنتاج النفط واحتياطيه والغاز الطبيعي ص ١٢٨
- ٤٥- أكبر تجمع لسكان يكون حول الانهار والبحار و مصادر المياه ص ١٠٥
- ٤٦- يقدر معدل النمو السكاني في الوطن العربي بحوالي ٢,٢٠ حسب إحصائيات ٢٠٠٦ عام ص ١٠٦
- ٤٥- يرجع النمو السكاني بالوطن العربي الى عاملين هما الزيادة الطبيعية والزيادة الغير طبيعية /الهجرة ص ١٠٦
- ٤٦- يشكل القطاع الزراعي حوالي ٥٠% من الاقتصاد العربي ص ١١٠
- ٤٧- المدينة التي يقع فيها مقر منظمة الدول المصدرة لنفط اوبك هي فيينا ص ١٣٤
- ٤٨- المدينة التي يقع فيها مقر منظمة اوبك هي الكويت ص ١٣٥
- ٤٩- تبلغ نسبة انتاج النفط في منطقة دول الخليج العربية وسهول دجلة والفرات ب ٨٠% ص ١٢٦
- ٥٠- تبلغ نسبة انتاج النفط في منطقة الصحراء الكبرى ب ١٨% ص ١٢٦
- ٥١- تبلغ نسبة انتاج النفط في منطقة خليج السويس ب ٤,٧% ص ١٢٦

السؤال الثاني : أكمل المخطط السهمي التالي:



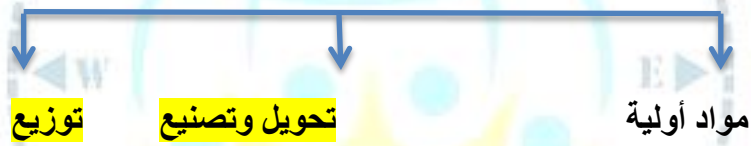
٢- المحاصيل الزراعية في الوطن العربي ص ١١٣



٣- يمتلك الوطن العربي أنواع كثيرة من الثروة الرعوية ص ١١٧



٤- من مراحل الصناعة ص ١٣٧



٥- من مقومات الصناعة: ص ١٣٩



{رؤوس أموال - وسائل النقل

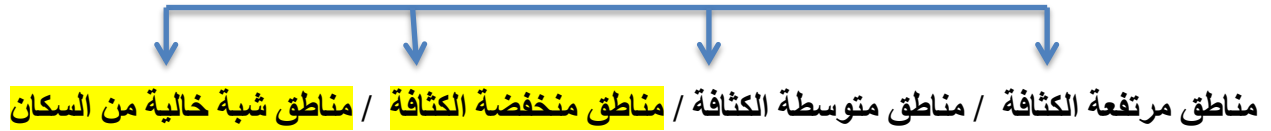
(مواد خام - الطاقة)

{السوق - أيدي عاملة - المهارة والخبرة}

٦- أنواع الصناعات في الوطن العربي ص ١٤١



٧- تقسم مناطق الوطن العربي من حيث الكثافة : ص ١٠٣



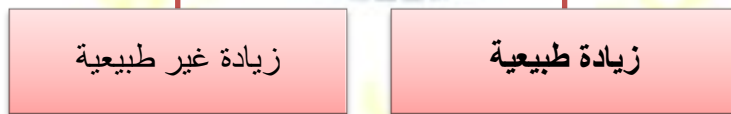
٨- العوامل المؤثرة في توزيع السكان : ص ١٠٤



٩- من أنواع الإنتاج الحيواني: ص ١١٧



الزيادة السكانية ص ١٠٦



د- المشكلات التي تعاني منها الزراعة في الوطن العربي ص ١١٥





- السؤال الثالث: ضع خطاً تحت الخيار الصحيح بين الخيارات التي تلي كل عبارة :

١- يأتي القطاع الزراعي في المرتبة الأولى من اقتصاد الوطن العربي بنسبه ص ١١٠

- ٢٠% - ٣٠% - ٤٠% - **٥٠%**

٢- يقدر معدل النمو السنوي السكاني في الوطن العربي حوالي ص ١٠٦

- **٢,٢٠%** - ٢,٢١- - ٢,٢٢- - ٢,٢٣-

٢- يقدر معدل النمو السنوي العالمي للسكان حوالي ص ١٠٦

- ١,٦% - **١,٧%** - ١,٨% - ١,٩%

٤- الدولة التي تحتل المركز الثالث بإنتاج واحتياط النفط ص ١٢٩

- السعودية - **الكويت** - العراق - الامارات

٥- يحتل الجناح الاسيوي من انتاج النفط بنسبة ص ١٢٨

- **٨٨** - ٨٩- - ٩٠- - ٩١-

السؤال الرابع : قارن بين كلا من : ص ٩٩

الإحصاء الحيوي	التعداد السكاني	أوجه المقارنة
تسجيل المواليد والوفيات وحالات الزواج والطلاق ونحصل على بياناتها من واقع السجلات الرسمية للدولة	حصول الدولة على معلومات واقفية عن اوضاع سكانها : عددهم – عدد كل جنس – اعمارهم وغير ذلك من معلومات	التعريف

ص ١٠٠

الجناح الافريقي	الجناح الآسيوي	أوجه المقارنة
السودان	السعودية	الدولة الأكثر مساحة
جزر القمر	البحرين	الدولة الأقل مساحة
مصر	العراق	الدولة الأكثر عدد سكان
جزر القمر	البحرين	الدولة الأقل عدد سكان

ص ١٠٩

الموارد البشرية	الموارد الطبيعية	أوجه المقارنة
الموارد التي ترتبط بالسكان من حيث اعدادهم وتوزيعهم ومناسبة اعدادهم لمساحة الارض التي يستغلونها	الثروات التي منحها الله تعالى لإقليم ما دون تدخل الانسان {الثروات المعدنية - الموارد المائية الغابات – موقع الإقليم}	التعريف

-نسبة الجناح الآسيوي والجناح الافريقي من انتاج واحتياط النفط والغاز الطبيعي: ص ١٢٨

أوجه المقارنة	انتاج النفط	احتياط النفط	انتاج الغاز الطبيعي	احتياط الغاز الطبيعي
الجناح الآسيوي	%٨٨	%٩٠	%٦٦,٥	%٨٢
الجناح الافريقي	%١٢	%١٠	%٣٣,٥	%١٨

-نسبة الوطن العربي بالنسبة للعالم من انتاج واحتياط النفط والغاز الطبيعي: ص ١٢٧

احتياط النفط	احتياط الغاز الطبيعي	انتاج النفط	انتاج الغاز الطبيعي
%٥٥	%٢٧,٥	%٣٠	%١٦,٥

-نسبة الوطن العربي من المعادن بالنسبة للعالم : ص ١٣٢

الفوسفات	الحديد	الرصاص	النحاس	المنجنيز
%٢٥	%١,٢	%٦,٦	%٠,١٣	%٣,٣

منظمة الأوبك	منظمة الأوبك	أوجه المقارنة
منظمة الأقطار عربية مصدرة للنفط	منظمة الدول مصدرة للنفط	التعريف
١٩٦٨	١٩٦٠	سنة التأسيس
الكويت	فيينا	مقرها الحالي
١١ دولة الكويت - السعودية - ليبيا - قطر - الامارات - البحرين - العراق - سوريا - مصر - تونس - الجزائر	١١ دولة الكويت - السعودية - العراق - ايران - فنزويلا - قطر الامارات - الجزائر - نيجيريا - أنغولا - الأكوادور	الدول الاعضاء
المجلس الوزاري - المكتب التنفيذي الأمانة العامة	المؤتمر مجلس المحافظين - الأمانة العامة	الأجهزة
تعميق التعاون الاقتصادي في صناعة النفط - تطوير الصناعات البترولية - تأمين وصول - النفط للأسواق الاستهلاكية - بشروط واسعار عادلة	الحرص على استقرار اسعار النفط في الاسواق - العالمية	الأهداف

الزيادة الغير طبيعية	الزيادة الطبيعية	أوجه المقارنة ص ١٠٦
الزيادة الناتجة عن الهجرة	الفرق بين معدل المواليد ومعدل الوفيات	التعريف

الهجرة الخارجية	الهجرة الداخلية	أوجه المقارنة ص ١٠٦
هجرة خارجية من دولة الى دولة اخرى	هجرة داخلية من القرى الى المدن	التعريف

الواردات	الصادرات	أوجه المقارنة ص ١٥٢
هي السلع التي تشتريها الدولة من الخارج لسد حاجة السكان	هي السلع التي تبيعها الدولة للخارج	التعريف

السؤال الخامس : صنف الكلمات التالية بما يناسبها في الجدول:

ص ١٣٧ حديد-نحاس-خشب-الات ومعدات-مواد غذائية-اثاث-الاسواق - الحليب

مراحل الصناعة	مواد أولية	تحويل وتصنيع	توزيع
	حديد - نحاس - خشب - الحليب	الات ومعدات مواد غذائية اثاث	الاسواق

{ الشعير - القطن - البن - العنب - الموز - الأرز - التمور - القمح - قصب السكر - الذرة الشامية - الموالح } ص ١١٤

الحبوب الغذائية	الغلات النقدية	الفواكه والثمار
الأرز - الذرة الشامية	قصب السكر	الموز
الشعير	القطن	التمور
القمح	البن	العنب - الموالح

من مقومات قيام الزراعة : { التربة - المناخ - التقدم العلمي - جهد الانسان - رأس المال - التضاريس - المياه }

ص ١١١

مقومات طبيعية	مقومات بشرية
التربة - المناخ - التضاريس - المياه	جهد الانسان - رأس المال - التقدم العلمي

{السعودية - اليمن - الصومال - المغرب - مصر - سوريا} ص ١١٤

التمور	البن	الموز	الشعير	القمح	العنب	الغلة الزراعية
السعودية	اليمن	الصومال	المغرب	مصر	سوريا	الدولة العربية

{تعليب الفواكه والخضروات - الأثاث - استخراج المعادن - زجاج - صهر حديد - قطع أخشاب} ص ١٤١

صناعات تحويلية	صناعات استخراجية
تعليب فواكه - أثاث - صهر حديد	استخراج معادن - زجاج - قطع أخشاب

{الأسمدة - البشوت - الفخار - السجاد - الاسمنت - السيارات - الأجهزة الكهربائية أنابيب بلاستيك} ص ١٤٦

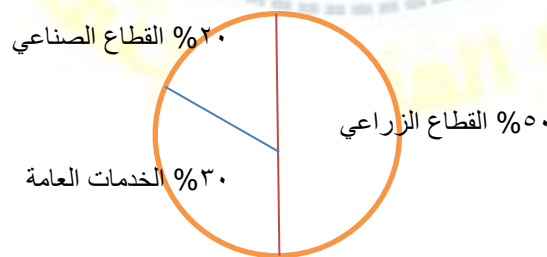
صناعات تجميعية	صناعات بتروكيماوية	صناعات حرفية
الأجهزة الكهربائية - السيارات - أنابيب بلاستيك	الاسمنت - الاسمدة	البشوت - الفخار - السجاد

السؤال السادس : صل عبارات المجموعة { أ } بما يناسبها من المجموعة { ب } : ص ١٢٦

الرقم	المجموعة { أ }	المجموعة { ب }
١	- نسبة انتاج دول الخليج العربي وسهول دجلة والفرات من النفط ص ١٢٦	٥
٢	- نسبة انتاج الصحراء الكبرى من النفط ص ١٢٦	٢
٣	- نسبة انتاج منطقة خليج السويس من النفط ص ١٢٦	٦
٤	- نسبة انتاج النفط في الجناح الافريقي ص ١٢٨	٣
٥	يبلغ نسبة انتاج الجناح الاسيوي من الغاز الطبيعي ص ١٢٨	٤
٦	يبلغ نسبة احتياط الجناح الاسيوي من النفط ص ١٢٨	١

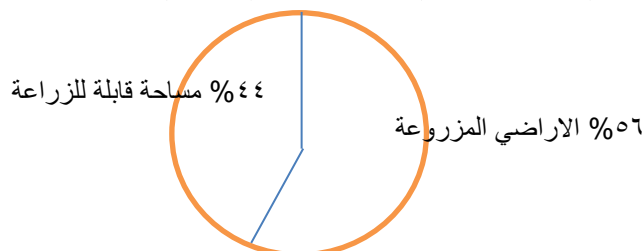
السؤال السابع : حدد على الدائرة البيانية القطاعات التي تشكل الاقتصاد في الوطن العربي: ص ١١٠

{- القطاع الصناعي بنسبة ٢٠% - القطاع الزراعي بنسبة ٥٠% - الخدمات العامة ٣٠%}




حدد على الدائرة البيانية مساحة الأراضي المزروعة في الوطن العربي حوالي ٥٦% من المساحة القابلة للزراعة

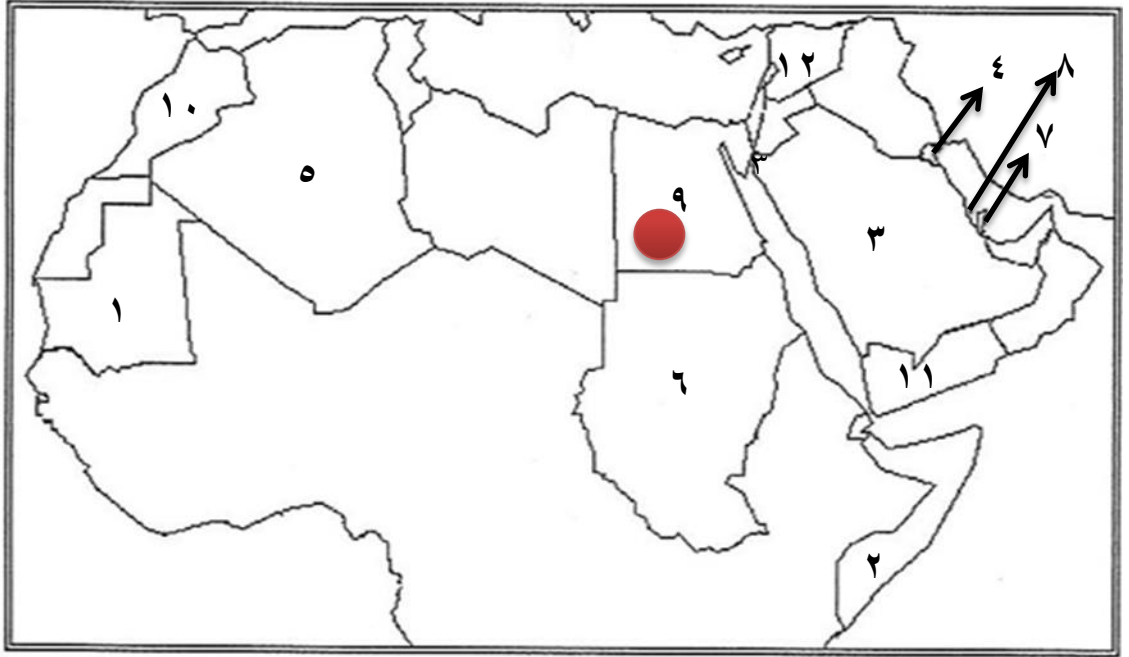
ص ١١٦



-حدد على الدائرة البيانية نسب المناطق الرئيسية الثلاث التي تتركز فيها معظم حقول النفط العربي {منطقة الصحراء الكبرى ١٨% - منطقة الخليج وسهول دجلة والفرات ٨٠%- خليج السويس ٤,٧%} ص ١٢٦



-السؤال الثامن : حدد على خريطة الوطن العربي الصماء ما يلي :



- الرقم (١) على الخريطة يمثل دولة عربية تحتل المرتبة الاولى في انتاج معدن الحديد تسمى **موريتانيا** ص ١٣٢
- الرقم (٩) على الخريطة يمثل دولة عربية تحتل المرتبة الاولى من حيث عدد السكان تسمى **مصر** ص ١٠٠
- الرقم (٦) على الخريطة يمثل الدولة العربية الاولى في انتاج الأغنام تسمى **السودان** ص ١١٨
- الرقم (٤) على الخريطة يمثل مقر منظمة الاوابك في دولة تسمى **الكويت** ص ١٣٥
- الدولة العربية الاولى في انتاج النفط واحتياطه يمثلها على الخريطة رقم (٣) ص ١٢٩
- الدولة العربية الاولى في انتاج محصول الموز يمثلها على الخريطة رقم (٢) ص ١١٤
- دولة عربية التي تحتل المرتبة الاولى من حيث المساحة يمثلها على الخريطة رقم (٥) ص ١٠٠
- الدولة العربية التي تحتل المرتبة الاولى في إنتاج الغاز الطبيعي واحتياطه يمثلها على الخريطة رقم (٧) ص ١٢٩
- دولة عربية بالجنح الاسيوي تحتل المرتبة الاخيرة من حيث المساحة يمثلها على الخريطة رقم (٨) ص ١٠٠
- الدولة العربية الاولى في انتاج الشعير يمثلها على الخريطة رقم (١٠) ص ١١٤
- الدولة العربية الاولى في انتاج البن يمثلها على الخريطة رقم (١١) ص ١١٤
- الدولة العربية الاولى في انتاج العنب يمثلها على الخريطة رقم (١٢) ص ١١٤

السؤال التاسع : عرف المفاهيم التالية:

١-التعداد السكاني: حصول الدولة على معلومات وافية عن اوضاع سكانها : عددهم – عدد كل جنس – اعمارهم وغير ذلك من معلومات . ص ٩٩

٢-الإحصاء الحيوي : تسجيل المواليد والوفيات وحالات الزواج والطلاق ونحصل على بياناتهم من واقع السجلات الرسمية للدولة . ص ٩٩

٣-الكثافة السكانية: عدد السكان الكلي ص ١٠٢
المساحة الكلية

٤- النمو السكاني : تزايد عدد السكان من عام لآخر نتيجة الزيادة الطبيعية (معدل المواليد – معدل الوفيات) والهجرة ص ١٠٦

٥- الزيادة الطبيعية : الفرق بين معدل المواليد - معدل الوفيات . ص ١٠٦

٦- الزيادة الغير طبيعية : هي الزيادة الناتجة عن الهجرة . ص ١٠٦

٧- الهجرة الداخلية : هي الهجرة من القرى إلى المدن . ص ١٠٦

٨- الهجرة الخارجية : هي الهجرة من دولة إلى دولة أخرى . ص ١٠٦

٩- الغلات الصناعية والتجارية: تشمل الغلات التي تدخل في الصناعة وتزرع بغرض التجارة والحصول على نقد تسمى {الغلات النقدية} مثل البن –الشمندر –الزيتون –قصب السكر . ص ١١٣

١٠- الزراعة التقليدية : هي زراعة المحاصيل الزراعية بمعدات قديمة غير متطورة ص ١١٦

١١- الزراعة الحديثة : هي زراعة المحاصيل الزراعية باستخدام الآلات الحديثة والتكنولوجيا . ص ١١٥

١٢- النفط: بقايا عضوية على هيئة نباتات وحيوانات ترسبت في عصور قديمة وانطمرت تحت رواسب سميكة وتحولت بفعل الضغط والحرارة لصورتها الحالية . ص ١٢٥

١٣- الطاقة: قوى محركة للآلات وعنصر مهم للتقدم الاقتصادي في جميع المجالات . ص ١٢٥

١٤- الغاز الطبيعي : هو غاز مصاحب للنفط الخام أو يوجد منفردا تتم إسالته لاستخدامات عديدة . ص ١٢٥

- ١٥- منظمة الأوبك: منظمة عالمية مصدرة للنفط. ص ١٣٤
- ١٦- منظمة الأوبك: منظمة عربية مصدرة للنفط. ص ١٣٥
- ١٧- الصناعة: تحويل المواد الأولية إلى سلع ومنتجات تباع بالسوق. ص ١٣٨
- ١٨- مقومات الصناعة: العوامل التي تساعد على تحويل المادة الخام إلى سلع استهلاكية. ص ١٣٨
- ١٩- الصناعات التحويلية: هي تحويل المواد الأولية من معدنية نباتية وحيوانية لسلع استهلاكية صالحة للاستعمال. ص ١٤٢
- ٢٠- الصناعات التجميعية: هي تركيب وجمع المواد المصنعة للحصول على سلع منوعة. ص ١٤٣
- ٢١- الصناعات التعدينية: هي الصناعات الهادفة لتنقية الخامات المعدنية وتحويلها إلى صفائح أو سبائك لتنفيذ صناعات معدنية مختلفة. ص ١٤١
- ٢٢- التبادل التجاري: عملية التصدير والاستيراد بين الدول. ص ١٥١
- ٢٣- الغلات النقدية: الغلات الزراعية التي تدخل في الصناعة وتزرع بغرض التجارة والحصول على النقد. ص ١١٣
- ٢٤- الموارد الطبيعية: هي الثروات التي منحها الله لإقليم من دون أن يكون للإنسان أي دور في وجودها. ص ١٠٩
- ٢٥- الموارد البشرية: هي التي ترتبط بالسكان من حيث أعدادهم وتوزيعهم ومناسبة أعدادهم لمساحة الأرض التي يستغلونها. ص ١٠٩
- ٢٦- الصناعات الاستخراجية: هي استخراج مصادر الطاقة كالنفط والغاز و الفحم وخامات المعادن والاملاح وغيرها من باطن الارض واعادها لتصبح جاهزة للتصنيع. ص ١٤١
- ٢٧- الصناعات الحرفية: تعد هذه الصناعات الاولى في العالم وتستخدم مواد اولية محلية وتعتمد على المجهود البشري. ص ١٤٣

السؤال العاشر: أجب عن الأسئلة التالية:

١- ما المناطق المناخية التي يقل فيها السكان؟ ص ١٠٤

-المناخ الصحراوي -المناخ البارد -المناخ الاستوائي

٢- ما المناطق التي يجذب السكان للعيش فيها؟ ص ١٠٤

-المناطق السهلية لتمتعها بمقومات طبيعية ومناخية وسهولة القيام بالانشطة الاقتصادية

٣- كيف تغلب الانسان على صعوبة العيش والزراعة في الجبال؟ ص ١٠٥

-عن طريق التطور العلمي وتحويل الجبال لمدرجات وزرعها وشق الطرق

٤- اذكر أسباب النمو السكاني في الوطن العربي؟ ص ١٠٦

-الزيادة الطبيعية - الزيادة الغير طبيعية {الهجرة}

٥- ما أسباب هجرة الايدي العاملة من دول آسيا الى بعض دول الوطن العربي؟ ص ١٠٧

توفر فرص العمل - ارتفاع الأجور - توفر الخدمات الصحية

٦- لماذا تختلف أنواع المنتجات من دولة عربية الى أخرى؟ ص ١١٠

-اختلاف المناخ - اختلاف التربة -مدى توفر المياه

٧- اذكر أهم المنتجات التي يصدرها الوطن العربي للخارج؟ ص ١١٠

قطن - زيتون - صمغ - الحمضيات

٨- عدد مقومات قيام الانتاج الزراعي؟ ص ١١١

-مقومات طبيعية - مقومات بشرية

٩- عدد المشكلات التي تعاني منها الزراعة في الوطن العربي؟ ص ١١٥

-نقص موارد المياه - الاعتماد على مياه الامطار - ارتفاع نسبة الملوحة -

-قلة الايدي العاملة - الاعتماد على الآلات القديمة التقليدية

١٠- عدد أنواع الثروة الرعوية في الوطن العربي؟ ص ١١٨

-أغنام - ماعز - الابل - الابقار

١١- أمثلة للصناعات الحرفية في الوطن العربي؟ ص ١٤٣-١٤٤

-البشوت - الفخار - السجاد - الخزف

١٢ - عدد أنواع الثروة المائية في الوطن العربي ؟ ص ١٢٢

مرجان - اسفنج - لؤلؤ - قواقع

١٣ - ما الأسباب التي جعلت الأغنام تحتل المكانة الهامة ضمن الثروة الرعوية؟ صفحته ١١٨

- الأكثر انتشارا في المراعي العربية - أكثر الحيوانات المستأنسة والملائمة للمراعي العربية وتحمل الجفاف - أهمية منتجاتها - مصدر للثروة القومية

١٤ - ما العوامل التي ساعدت على انتشار مزارع الدواجن في الوطن العربي ؟ صفحته ١٢٠

-توفير المياه -توفر المنتجات الزراعية {القمح -الشعير }

-توفير اللقاح والدواء والتطعيم اللازم-ملائمة المناخ -قلة التكلفة.

١٥ - ما أهمية النفط والغاز الطبيعي بالنسبة لاقتصاد الدول العربية؟ ص ١٢٥

-قوى محركة للآلات والمصانع - مصدر لرؤوس الأموال - مادة خام للعديد من الصناعات - أساس لمشاريع التنمية وال عمران

١٦ - ما أهمية الثروة المعدنية في الوطن العربي؟ ص ١٢٤

-انتاج الخامات المعدنية - مصادر الطاقة الأساسية لقيام الصناعة

١٧ - اذكر مناطق تركيز الحقول النفطية في الوطن العربي ؟ ص ١٢٦

-دول الخليج العربية وسهول دجلة والفرات - منطقة الصحراء الكبرى - منطقة خليج السويس

١٨ - اذكر أسباب تصدير الدول العربية معظم انتاجها من النفط والغاز الطبيعي لخارج الوطن العربي ؟

ص ١٢٩

-لقلة المصانع العربية - ضخامة الإنتاج وتزايد - انخفاض تكلفة الإنتاج

١٩ - عدد الصناعات التحويلية في دول الوطن العربي ؟ ص ١٤٢

-صناعات غذائية - صناعة المنسوجات - صناعة الخشب - صناعة مشتقات النفط

٢٠ - ما أهداف الصناعات البتروكيميائية ؟ ص ١٤٥

-تنويع مصادر دخل الدولة المنتجة -توفير مواد أولية لصناعات تحويلية - لتأمين حاجة القطاعات الاستهلاكية {البناء} - تطوير الصناعات البتروكيميائية لتقنيات متخصصة

٢١- ما أهمية طرق النقل و المواصلات لدول الوطن العربي ؟ ص ١٤٧

-من المقومات الأساسية لاستغلال وتنمية موارد الاقتصاد وربطها بمناطق الإنتاج والأسواق

٢٢- ما أنواع طرق النقل في الوطن العربي ؟ ص ١٤٧

-الطرق البرية - الطرق المائية - الطرق الجوية

٢٣- ما أهمية نقل البضائع بوسائل حديثة ومتطورة ؟ ص ١٤٨

-سرعة الوصول - ضمان سلامة البضائع - أكثر أمانا

٢٤- ما مميزات طرق النقل الجوي ؟ ص ١٥٠

-سرعة الوصول - ضمان سلامة البضائع - أكثر أمانا

٢٥- لماذا يفضل السكان العيش في المناطق السهلية ذات المناخ المعتدل ؟ ص ١٠٣

- سهولة التنقل والحركة

- لسهولة قيام الأنشطة الاقتصادية

- توفر مقومات الحياة

٢٦- لماذا يصعب العيش في المناطق الجبلية . ص ١٠٣

- لأنها تمتاز بالانخفاض بدرجات الحرارة وارتفاع بالضغط الجوي

- صعوبة المواصلات والتنقل

- لصعوبة قيام بالأنشطة الاقتصادية وعدم توفر مقومات الحياة

٢٧- لماذا يتجمع السكان حول مصادر المياه ؟ ص ١٠٣

- لأهميتها في حياة الانسان والزراعة

- لسهولة القيام بالأنشطة الاقتصادية

٢٨- اسباب هجرة الايدي العاملة من بعض الدول العربية الى منطقة الخليج العربية ؟ ص ١٠٧

- حاجة الدولة لبعض التخصصات النادرة

- ارتفاع دخل

- توفر فرص العمل

- تقدير الكفاءات

٢٩- فوائد اساسية لنشاط الزراعي في الوطن العربي ؟ ص ١١٠

- توفر الغذاء

- توفر فرص العمل

- مادة اولية لكثير من الصناعات الغذائية

- مصدر دخل

٣٠- ماهي مصادر المياه الرئيسية في الوطن العربي ؟ ص ١١١

- الانهار - البحيرات - البحار - الانهار - المياه الجوفية

٣١- ما هي اسباب عدم استغلال الاراضي الصالحة لزراعة ؟ ص ١١٦

- نقص موارد المياه

- اعتماد بعض الاراضي على مياه الامطار فتصبح مناطق شبه جافة

- ارتفاع نسبة الملوحة في تربة الواحات والسهول

- اتباع بعض الدول الاساليب التقليدية في الزراعة

- قلة الايدي العاملة في الزراعة نظرا للهجرة من الريف الى المدن

٣٢- لماذا يمتلك الصومال ٦,٦% من ثروة الوطن العربي من الابل ؟ ص ١١٩

- تحمل الابل للمناخ الصحراوي القاسي وقدرته على تحمل الجفاف بسبب طبيعة البيئة

- وجود حشائش الاستبس كمصدر غذاء للابل

٣٣- لماذا تساهم مصر بأكثر من ثلث الانتاج العربي من الاسماك ؟ ص ١٢٣

- بسبب امتداد سواحلها وتنوع المصائد البحرية فيها

٣٤- اقترح بعض المقترحات التي تساعد في تنمية الثروة السمكية ؟ ص ١٢٣

- استخدام التقنية الحديثة

- تحسين مستوى العاملين بمهنة الصيد

- وضع اماكن خاصة للزراعة وتنمية الاسماك

٣٥- الاسباب التي اعطت النفط العربي اهمية عالمية ؟ ص ١٣١

- قوة محركه للألات و المصانع

- مصدر لرؤوس الاموال

- مادة خام للعديد من الصناعات المهمة

- اساس المشاريع التنموية والعمران

٣٦- لماذا يطلق على الغاز الطبيعي باسم الطاقة النظيفة ؟ ص ١٣١

- لأنه لا ينتج عن احتراقه ظهور ملوثات التي تنتج عن احتراق المنتجات النفطية لذلك يدخل في استخدامات عديدة

٣٧- ماهي استخدامات الغاز الطبيعي ؟ ص ١٣١

- الاستعمال المنزلي

- تحلية المياه

- توليد الكهرباء

٣٨- ماهي مقومات الصناعة ؟ ص ١٣٩

- مقومات طبيعة (المواد الخام - الطاقة)

- مقومات بشرية (رؤوس أموال - الأيدي العاملة - المهارة والخبرة - السوق - وسائل النقل)



الوحدة الرابعة



القُصْدُوفُ الكُوَيْتِيُّ لِلتَّعْمِيرِ الاقتصاديَّةِ العربيَّةِ
KUWAIT FUND FOR ARAB ECONOMIC DEVELOPMENT

السؤال الأول : املئ العبارات التالية :

- ١- الجهة المسؤولة في دولة الكويت بالقطاع الزراعي تسمى الهيئة العامة لزراعة والثروة السمكية . ص ١٦٢
- ٢- موقع الوطن العربي في المناطق الجافة وشبه جافة يعرضه لمشكلة التصحّر ص ١٦٢
- ٣- من أكثر الدول العربية تهديداً بالتصحّر السودان وموريتانيا و الصومال . ص ١٦٢
- ٤- الموارد المائية في العالم العربي التي تأتي من خارج حدوده تبلغ ٥٠% ص ١٦٤
- ٥- يصيب التلوّث عناصر البيئة من عدة مصادر للملوثات صناعية وزراعية و منزلية . ص ١٦٦
- ٦- من أكثر الملوثات انتشاراً في الوطن العربي التلوّث الكيميائي . ص ١٦٦
- ٧- عقد أكبر مؤتمر للأمم المتحدة لمواجهة تلوّث البيئة في مدينة ريودي جانيرو في البرازيل ص ١٦٧
- ٨- عقد أكبر مؤتمر للأمم المتحدة لمواجهة تلوّث البيئة عام ١٩٩٢ . ص ١٦٧
- ٩- عقد أكبر مؤتمر للأمم المتحدة في البرازيل و عرف باسم قمة الأرض وحضره أكثر من ١٠٠ رئيس دولة . ص ١٦٧
- ١٠- المواد الغازية الموجودة في وسائل التبريد وتكرير المياه تؤدي الى ثقب في طبقة الاوزون . ص ١٦٩
- ١١- بقاء عناصر الطبيعة في حالة من التوازن يسمى التوازن البيئي ص ١٧٠
- ١٢- تعد الرياح والشمس من مصادر الطاقة المتجددة . ص ١٧١
- ١٣- الدول العربية لديها القدرة على تحقيق التنمية والتقدم ويكون لها وزن عالمي اقتصادي و سياسي . ص ١٧٢
- ١٤- العام الذي تأسس فيه الصندوق السعودي لتنمية في عام ١٩٧٤ . ص ١٧٩
- ١٥- العام الذي تأسس فيه صندوق أبوظبي لتنمية في عام ١٩٧١ . ص ١٧٩
- ١٦- العام الذي تأسس فيه الصندوق الكويتي لتنمية الاقتصادية العربي في عام ١٩٦١ . ص ١٧٩
- ١٧- أعلن قيام مجلس التعاون الخليجي في عام ١٩٨١ . ص ١٨١
- ١٨- يضم مجلس التعاون الخليجي ٦ دول . ص ١٨١
- ١٩- عقد أكبر و أهم مؤتمر قمة عربية منذ تاريخ نشأة جامعة الدول العربية في دولة الكويت . ص ١٨٦
- ٢٠- عقد أكبر و أهم مؤتمر قمة عربية منذ تاريخ نشأة جامعة الدول العربية في يومي ١٩ و ٢٠ يناير . ص ١٨٦

٢١- أول مؤسسة لتنمية في الوطن العربي تسمى **الصندوق الكويتي لتنمية الاقتصادية** . ص ١٨٦

٢٢- أكد صاحب السمو أمير البلاد الشيخ صباح الأحمد الصباح بأن مؤتمر القمة العربية الاقتصادية والتنمية والاجتماعية

ستكون **بوابة خير** . ١٨٦

السؤال الثاني : اكتب المصطلحات والمفاهيم الدالة على العبارات التالية:

- زحف رمال الصحراء على المناطق الجافة وشبه جافة يسمى **التصحّر** . ص ١٦٢
- الضرر الذي يلحق بالتربة والهواء والماء ويصيب عناصر البيئة يسمى **التلوث** . ص ١٦٦
- بقاء عناصر الطبيعية في حالة من التوازن لتؤدي وظائفها على أكمل وجه يسمى **التوازن البيئي** . ص ١٧٠
- التطور والتطوير وهي عملية تتطلب التخطيط والمشاركة من الجميع تسمى **التنمية** . ص ١٧٢
- برامج تحسين نوعية الحياة ولا تتحقق إلا بمشاركة جميع المواطنين تسمى **التنمية المستدامة** . ص ١٧٥
- العمل على توثيق الصلات بين الدول والشعوب العربية وحماية مصالحها السياسية والاقتصادية والثقافية يسمى **التضامن العربي** . ص ١٧٧
- المنظمة العربية لتربية والثقافة والعلوم (ألكسو) مقرها **تونس** ص ١٧٧

السؤال الثالث : ضع خطا تحت الخيار الصحيح من بين الخيارات التي تلي كل عبارة :

- التلوث بأكسيد الكربون الناتج عن عوادم السيارات يؤدي إلى : ص ١٦٩
(ارتفاع في درجة حرارة الأرض - اعتدال المناخ - ثقب طبقة الأوزون)
- أكثر الملوثات انتشارا في الوطن العربي التلوث : ص ١٦٦
(**الكيميائي** - الفيزيائي - ضوضائي - المائي)
- المنظمة العربية لتربية والثقافة والعلوم (ألكسو) مقرها في : ص ١٨٣
(ليبيا - جزائر - مصر - **تونس**)

السؤال الرابع : املئ المخطط السهمي :




السؤال الخامس : صححي ماتحته خط في العبارات التالية :

- عقد أكبر مؤتمر للأمم المتحدة في مدينة ريو دي جانيرو بالبرازيل عام ١٩٩٠ (١٩٩٢) ص ١٦٧
- منظمة إقليمية لدول العربية تم تشكيلها في مدينة الدوحة (القاهرة) ص ١٧٨
- انضمت اليمن لجامعة الدول العربية ف ٤ ابريل ١٩٤٦ (٥ مايو ١٩٤٥) ص ١٧٨
- تضم جامعة الدول العربية ٢٤ عضواً . (٢٢ عضواً) ص ١٧٨
- أعلن قيام مجلس التعاون الخليجي في ٢٥ مايو ١٩٨٢ (٢٥ مايو ١٩٨١) ص ١٨١
- أنشأت المنظمة العربية لتنمية الزراعة في عام ١٩٨٠ . (١٩٧٠) ص ١٨٢
- تأسس الصندوق الكويتي لتنمية الاقتصادية العربية في عهد الشيخ جابر الأحمد (عبدالله السالم) ص ١٨٤
- يتبع الصندوق الكويتي لتنمية الاقتصادية العربية حالياً وزارة الداخلية (وزارة الخارجية) ص ١٨٤
- تأسس الصندوق الكويتي لتنمية الاقتصادية العربية بفكرة ودعم من صاحب السمو عبدالله السالم (جابر الأحمد الصباح) ص ١٨٤
- صاحب مبادرة عقد القمة العربية الاقتصادية والتنمية الاجتماعية عام ٢٠٠٥ الشيخ جابر الأحمد الصباح (صباح الأحمد الجابر الصباح) . ص ١٨٧
- عقد أول مؤتمر للمانحين لدعم الوضع الإنساني في سوريا في السعودية . (الكويت) ص ١٨٨
- عقد المؤتمر الأول الدولي للمانحين لدعم الوضع الإنساني في سوريا عام ٢٠١٢ . (٢٠١٣) ص ١٨٩
- عقد المؤتمر الثاني الدولي للمانحين لدعم الوضع الإنساني في سوريا عام ٢٠١٥ . (٢٠١٤) ص ١٨٩
- عقد المؤتمر الأول والثاني والثالث الدولي للمانحين لدعم الوضع الإنساني في سوريا في دولة قطر . (الكويت) ص ١٨٩
- تتم صناعة الزيوت النباتية في المملكة السعودية . (المغربية) ص ١٧٣

السؤال السادس : لاحظ الصور التالية ثم اكتب تعليقا مناسبيا :

أنواع التلوث ص ١٦٧



تلوث الماء



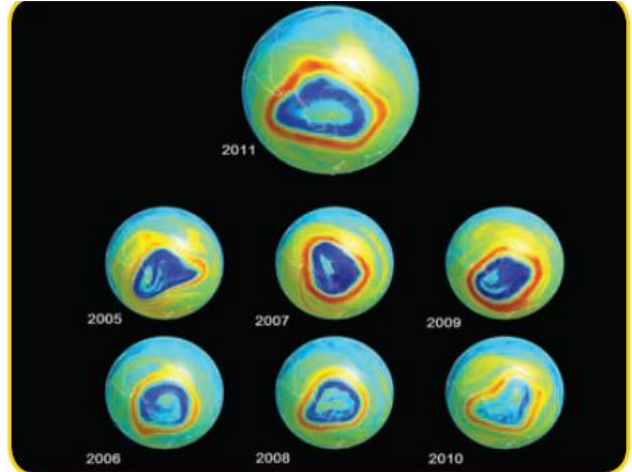
تلوث الهواء



تلوث التربة



حرق آبار النفط في دولة الكويت عام ١٩٩١ م
نتيجة : تلوث هوائي ومائي وارضى ص ١٦٨



ثقب في طبقة الأوزون
نتيجة : وسائل التبريد وتكرير المياه ص ١٦٨



مصنع لفرز النفايات ومعالجتها
نتيجة: علاج مشكلة النفايات ص ١٦٨




شاطئ ملوث بالنفايات
نتيجة: تلوث مائي ص ١٦٨



الرياح احد مصادر الطاقة المتجددة ص ١٧١



الشمس احد مصادر الطاقة المتجددة ص ١٧١



استخدام التكنولوجيا في صناعة الأقمار الصناعية
ص ١٧٣



التعاون العربي ص ١٧٢



اجتماع وزراء الخارجية العرب لتحقيق التقدم
والتنمية ص ١٧٧



صناعة الزيوت النباتية في المملكة المغربية
ص ١٧٣



من خلال الصور التي امامك ، أملئ الفقرة التالية بما يناسبها :

تأسس الصندوق الكويتي لتنمية الاقتصادية العربية في عهد الشيخ عبدالله في تاريخ ٣١- ديسمبر ١٩٦١
بفكرة و دعم من صاحب السمو جابر الاحمد الصباح حيث كان وزيرا للمالية آنذاك . ص ١٨٤



١- من صاحب المبادرة لعقد القمة العربية الاقتصادية والتنمية والاجتماعية ؟

الشيخ صباح الاحمد الجابر الصباح ص ١٨٦

٢- متى عقدت القمة العربية الاقتصادية والتنمية والاجتماعية ؟

في تاريخ ١٩- ٢٠ يناير ٢٠٠٩ م



١- أين عقد مؤتمر للماتحين لدعم لوضع الإنساني في سوريا ؟ ص ١٨٨

الكويت

٢- صورة اليد في الشعار تمثل

يد بيد لمساعدة الشعب السوري



جامعة الدول العربية

منظمة إقليمية للدول العربية ، وقدمت تشكيلها

في مدينة

في ٢٢ مارس ١٩٤٥ م ،

وضمّت ٦ أعضاء مؤسسين هم : مصر ،

الأردن ،

السعودية ،

إليها اليمن في ٥ مايو ١٩٤٥ م ، كما انضمت

إليها الكويت في عام

والآن تضم جامعة الدول العربية

عضواً .

ص ١٧٨



صندوق أبوظبي للتنمية ١٩٧١م



الصندوق الكويتي للتنمية الاقتصادية العربية
KUWAIT FUND FOR ARAB ECONOMIC DEVELOPMENT



صندوق أبوظبي للتنمية
ABU DHABI FUND FOR DEVELOPMENT

صندوق السعودية للتنمية ١٩٧٤م

صندوق الكويتي للتنمية الاقتصادية

العربية والذي تم إنشاؤه في ١٩٦١



الصندوق السعودي للتنمية



لاحظ الصور التالية تم اكمال المطلوب منك ص ١٨١:

أعلن قيام مجلس التعاون الخليجي
في ٢٥ مايو من عام ١٩٨١ م في
مدينة أبو ظبي ويضم المجلس
٦ دول عربية مطلة على الخليج العربي
وهي :

..... الكويت / السعودية
..... البحرين / قطر
..... الامارات / عمان



١- ما اسم المنظمة ؟ ص ١٨٢

المنظمة العربية لتنمية الزراعة

٢- متى تم أنشاؤها ؟

في عام ١٩٧٠

٣- اين يقع مقرها ؟

الخرطوم

٤- ما هي أهدافها ؟

- تطوير الأنشطة المرتبطة بالزراعة

- رفع الكفاءة الانتاجية الزراعية والحيوانية





المنظمة العربية للتنمية الصناعية والتعدين

١- ما اسم المنظمة؟ ص ١٨٢

المنظمة العربية لتنمية الصناعة والتعدين

٢- متى تم أنشائها؟

في عام ١٩٨٨

٣- اين يقع مقرها؟

الرباط

٤- ما هي أهدافها؟

- تطوير وتنمية الصناعة في الوطن العربي.

- وضع مواصفات لجودة الصناعة

١- ما اسم المنظمة؟ ص ١٨٣

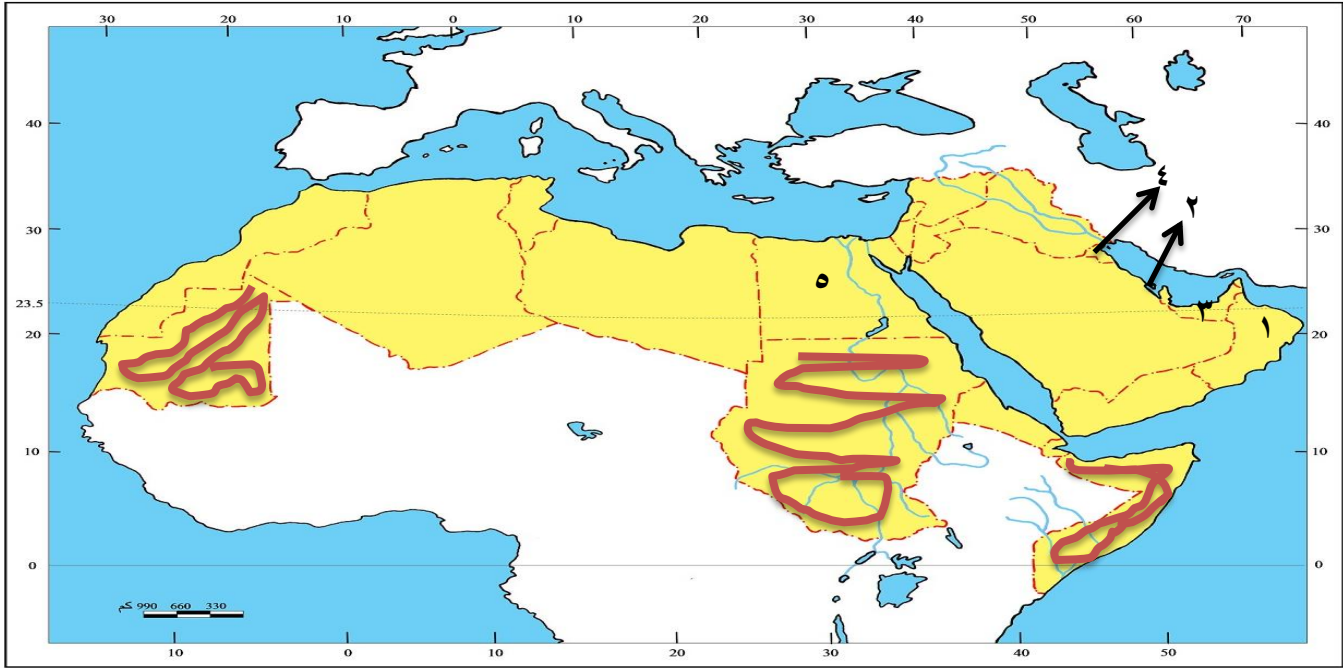
ألكسو (المنظمة العربية لتربية والثقافة والعلوم

٢- اين يقع مقرها؟

تونس



السؤال السابع : لاحظ خريطة الوطن العربي التي امامك ثم نفذ المطلوب :



- ظلل باللون الاحمر أكثر الدول العربية المهددة بالتصحر ص ١٦٢.
- محمية العرين توجد في دولة عربية يمثلها الرقم (٢) ص ١٧٠
- محمية المها توجد في دولة عربية يمثلها الرقم (١) ص ١٧٠
- محمية رأس الخيمة توجد في دولة عربية يمثلها الرقم (٣) ص ١٧٠
- مقر جامعة الدول العربية في دولة عربية يمثلها الرقم (٥) ص ١٧٨
- الدولة التي عقد فيها المؤتمر الدولي للماتحين لدعم الوضع الانساني في سوريا (٤) ص ٨٢

السؤال الأول : عرف مايلي :

- ١- التصحر : زحف رمال الصحراء على المناطق الجافة وشبه الجافة . ص ١٦٢
- ٢- التلوث : هو الضرر الذي يلحق بالتربة والهواء والماء ويصيب التلوث عناصر البيئة من عدة مصادر للملوثات . ص ١٦٦
- ٣- التنمية : تعني التطور والتطوير وهي عملية تتطلب التخطيط والمشاركة من الجميع . ص ١٧٢
- ٤- التنمية المستدامة : عبارة عن برامج تحسن نوعية الحياة ولا تتحقق إلا بمشاركة جميع المواطنين . ص ١٧٥
- ٥- التضامن العربي : هو العمل على توثيق الصلات بين دول و الشعوب العربية وحماية مصالحها السياسية والاقتصادية والثقافية . ص ١٧٧

السؤال الثاني : أجب عن مايلي :

- ١- ما هي العقبات التي تواجه الإنتاج الزراعي في الوطن العربي ؟ ص ١٦١
 - أ- عدم استغلال الاراضي القابلة للزراعة لندرة مياه الري أو تذبذب الأمطار أو قلة الأيدي العاملة
 - ب- اتباع طرق الزراعة التقليدية في معظم أجزاء الوطن العربي .
 - ج- زحف الرمال (التصحر) وانجراف التربة
 - د- تلوث التربة نتيجة للإسراف في استخدام المبيدات الحشرية وارتفاع نسبة الملوحة بالتربية .
 - و- الرعي الجائر
- ٢- اقترح حلول لبعض مشاكل الزراعة في الوطن العربي ؟ ص ١٦١
 - أ- استصلاح التربة
 - ب- الزراعة في البيوت البلاستيكية
 - ج- استخدام اساليب حديثة في الري كالري بالتنقيط
 - د- البحث عن مصادر مياه عذبة

٣- الأثار الناجمة عن الرعي الجائر ؟ ص ١٦٢

أ- تحول المناطق الزراعية والمراعي الى اراضى صحراوية

٤- ما النتائج المترتبة على معالجة الدول العربية للمشكلات المرتبطة بالزراعة ؟ ص ١٦٣

أ- زيادة الانتاج عن طريق الأساليب العلمية

ب- زيادة المساحات المزروعة

ج- إقامة مشروعات الري

٥- ما اسباب تدني وفرة المياه في الوطن العربي : ص ١٦٤

أ- النمو السريع للسكان الذي يشكل ضغطا متزايدا على المياه المتوفرة لكل فرد

ب- ٥٠% من الموارد المائية في العالم العربي تأتي من خارج حدوده ، وتتحكم فيها دول المنبع في غياب تشريعات دولية تضمن حقوقنا .

ج- الطرق التقليدية في استغلال المياه في معظم مناطق العالم مسؤولة عن تدني نسبة المياه

د- الشبكات المؤهلة لنقل المياه شبكات قديمة

و- افتقار الدول العربية إلى برامج لإدارة المياه ، كما أنها لا تستخدم الأدوات الاقتصادية اللازمة لترشيد الاستخدام المتزايد من المياه

٦- ما أهم مظاهر التلوث ؟ ص ١٦٦

أ- الاحتباس الحراري

ب- ثقب في طبقة الأوزون

ج- انتشار الأمراض وموت الكائنات الحية

٧- ما هي الخطوات نحو سياسة بيئية فاعلة ؟ ص ١٧١

أ- حماية الموارد الطبيعية

ب- توليد طاقة نظيفة

ج- تنمية الوعي البيئي

٨- ما هي طرق لحماية الموارد الطبيعية ؟ ص ١٧١

أ- استخدام السليم للموارد بعيدا عن الاستغلال السيئ للثروات الطبيعية وتلويثها بالنفايات .

ب- المحافظة على نظافة هذه الموارد بحيث تصبح قادرة على تجديد مواردها والتخلص من مخاطر التصحر

وتلاشي تلوث الشواطئ

٩- ما هي الطرق المتبعة لتوليد طاقة نظيفة؟ ص ١٧١

أ- إعادة تجديد محطات الطاقة القديمة .

ب- الاعتماد على مصادر الطاقة البديلة كالشمس والرياح والمياه للتخفيف من تلوث البيئة .

١٠- كيف تنمي الوعي البيئي؟ ص ١٧١

أ- الاستعمال الأمثل للموارد من ماء وكهرباء

ب- فرز النفايات المنزلية و الابتعاد عن الأوعية البلاستيكية

ج- الحرص على نظافة الأماكن العامة والشواطئ

د- فحص محركات السيارات وصيانتها

و- التوقف عن تدمير أو قطع النباتات

١١- ارتكزت عملية التنمية في الوطن العربي على ثلاثة محاور رئيسية؟ ص ١٧٣

أ- التنمية الاقتصادية

ب- التنمية المستدامة

ج- التنمية البشرية

١٢- ما أهداف التنمية الاقتصادية؟ ص ١٧٤

أ- استخدام العلم في زيادة الإنتاج.

ب- تحقيق التكامل بين الدول العربية في الامكانيات والحاجات

١٣- ما أهداف التنمية البشرية؟ ص ١٧٤

أ- كيف يتم توظيف قدرات الانسان العربي لبناء مجتمع المعرفة .

ب- الاهتمام بالطفل العربي ورعايته في مرحلة الطفولة المبكرة .

ج- توفير فرص العمل والرعاية الصحية والقضاء على الفقر

د- رفع كفاءة الثروة البشرية علميا وفكريا وروحيا

و- تعميق المشاركة في الرأي والحوار في ظل الديمقراطية

١٤- ما المشكلات التي تواجه التنمية البشرية؟ ص ١٧٥

أ- ضعف الاستفادة من القدرات البشرية في المنطقة العربية

ب- مشكلة الأمية

ج- نقص و محدودية مشاركة المرأة في المنظمات السياسية

د- الاختلاف الكبير في مستويات المعيشة بين دولة وأخرى وفي داخل الدولة الواحدة .

١٥- ما أهداف التنمية المستدامة . ص ١٧٥

أ- القضاء على الفقر

ب- القضاء التام على الجوع

ج- الصحة الجيدة والرفاة

د- التعليم الجيد

هـ- المساواة بين الجنسين

و- المياه النظيفة والنظافة الصحية

ز- طاقة نظيفة وبأسعار معقولة

١٦- عددي جوهر التنمية المستدامة ؟ ص ١٧٦

أ- الحرية

ب- المعرفة

ج- العمل الجماعي

ح- الابداع

د- الكفاءة لا المحسوبية

هـ- حقوق المرأة

و- حقوق الطفل

١٧- أنشأت الجامعة العربية عددا من المؤسسات الاقتصادية والاجتماعية وعقدت المؤتمرات المختلفة لتحقيق التعاون العربي والتكامل الاقتصادي بين الدول العربية ومن ابرز هذه المؤسسات ؟ ص ١٧٧

أ- مجلس الوحدة الاقتصادية العربية

ب- المنظمة العربية للتنمية الزراعية

١٨- ما أهم الصناديق الوطنية على مستوى الدول التابعة للجامعة العربية ؟ ص ١٧٩

أ- الصندوق الكويتي للتنمية الاقتصادية العربية والذي تم إنشاؤه عام ١٩٦١ .

ب- صندوق أبوظبي للتنمية ١٩٧١م

ج- الصندوق السعودي للتنمية ١٩٧٤ م .

١٩- كان نجاح سياسة الكويت في المجال العربي عاملا مهما باتخاذها مقرا لعدة منظمات عربية منها؟ ص ١٨٢

أ- المنظمة العربية للتنمية الزراعية .

ب- المنظمة العربية للتنمية الصناعية والتعدين

ج- المنظمة العربية لتربية والثقافة والعلوم (ألكسو)

٢٠- ما أهم أهداف القمة الاقتصادية التنموية العربي؟ ص ١٨٦

أ- إنشاء بنك عربي لتمويل شتى المشاريع التنموية للتقليل من معدلات الفقر .

ب- القضاء على البطالة والفقر بتوفير فرص العمل

ج- الاستثمار الاقتصادي بين الدول العربية وتقوية التبادل التجاري

د- الاعتناء بالعنصر البشري والتنمية المستدامة

٢١- ما سبب عقد مؤتمر القمة العربية الاقتصادية والتنموية والاجتماعية عام ٢٠٠٩ م؟ ص ١٨٧

أ- إعادة تعمير قطاع غزة بعد تعرضها للغزو الاسرائيلي الغاشم في بداية يناير ٢٠٠٩ م

ب- الذي أسفر عن قتل الآلاف من الابرياء وتدمير البنية التحتية لقطاع غزة بالكامل

٢٢- من صاحب مبادرة عقد القمة العربية الاقتصادية والتنموية والاجتماعية عام ٢٠٠٩؟ ص ١٨٧

أ- صاحب السمو أمير البلاد الشيخ صباح الأحمد الجابر الصباح

٢٣- لماذا تعتبر السودان والصومال وموريتانيا أكثر الدول العربية تهديدا بالتصحر؟ ص ١٦٢

أ- لأنها تقع في مناطق جافه وشبه جافة

٢٤- كيف تتحول الأراضي الزراعية إلى أراضي صحراوية غير منتجة؟ ص ١٦٢

أ- فقدان التربة لخصوبتها

ب- تناقص كميات المطر

ج- الضغط السكاني

٢٥- ما علاج مشكلة التصحر في الوطن العربي؟ ص ١٦٣

أ- يتطلب تشجير بعض المناطق

ب- مصدات للرياح لحماية المزروعات من زحف الرمال .

ج- تثبيت الكثبان الرملية

د- إقامة المحميات الطبيعية

٢٦- ما هي مصادر الملوثات التي تصيب عناصر البيئة بالتلوث؟ ص ١٦٦

أ- صناعية ب- زراعية ج- منزلية

٢٧- ما أكثر الملوثات انتشارا؟ ص ١٦٦

أ- هو التلوث الكيميائي مثل الغازات السامة الصادرة من محطات التحلية ودخان المصانع وعوادم السيارات

٢٨- ما اسباب التلوث البيئي؟ ص ١٦٦

أ- انتشار الدخان من عوادم السيارات والمصانع

ب- القاء المخلفات الصناعية والبشرية في المياه

ج- استخدام المبيدات الحشرية والاسمدة الكيميائية

٢٩- ما أثر التلوث على الإنسان والنبات والحيوان؟ ص ١٦٦

أ- انتشار الامراض بين البشر والحيوانات

ب- القضاء على الغطاء النباتي الطبيعي

٣٠- ما الاسباب التي تدعو الشباب والعلماء للهجرة إلى الخارج؟ ص ١٧٥

أ- انعدام العدالة في توزيع فرص العمل

ب- الريادة العلمية والتكنولوجية للبلدان الجاذبة ومناخ الاستقرار والتقدم الذي تتمتع به هذه البلدان

ج- توافر الثروات المادية الضخمة التي تمكنها من توفير فرص عمل هامة ومجزية ماديا .

د- إتاحة الفرص لأصحاب الخبرات في مجال البحث العلمي والتجارب التي تثبت كفاءتهم وتطورها من جهة

أخرى .

٣١- ساهمت صناديق التنمية العربية بشكل ايجابي في مشاريع التنمية العربية عن طرق؟ ص ١٧٩

أ- تقديم القروض والتمويل المشترك

ب- تقديم المنح للتمويل

ج- تقديم المساعدات الاقتصادية للدول تدعيما لنموها الاقتصادي .

٣٢- ما هي اهداف مجلس التعاون الخليجي؟ ص ١٨١

أ- تحقيق التعاون بين الدول الاعضاء في جميع المجالات

ب- تحقيق الترابط والصلات بين دول مجلس التعاون الخليجي

ج- العمل على تقدم دول مجلس التعاون الخليجي في المجال العلمي

٣٣- ما اهم انجازات الصندوق الكويتي لتنمية الاقتصادية العربية ؟ ص ١٨٥

أ- مشروع ضخ لمياه نبع السن في سوريا

ب- صيانة وتدعيم ري الرهد في السودان

ج-مصنع للأسمدة الفوسفاتية في الاردن

٣٤- ما اهداف الصندوق الكويتي للتنمية الاقتصادية العربية ؟ ص ١٨٥

أ- تقديم القروض المسيرة للدول المحتاجة .

ب- تقديم كافة المساعدات المادية لقضايا العالم العربي والاسلامي

ج- المساهمة في تطوير التنمية في الوطن العربي والعالم الاسلامي

٣٥- ما اهم القرارات والتوصيات التي صدرت في مؤتمر المانحين الثاني والثالث ؟ ص ١٨٩

أ- التخفيف من المعاناة الانسانية والوضع المأساوي للشعب السوري

ب- توفير أكبر قدر من المساعدات والموارد المالية لمواجهة هذه الكارثة الانسانية التي يمر بها الشعب السوري

ج- تكاتف الجهود المجتمع الدولي وتوحيد صفوفه لإيجاد حل لتجاوز هذا الوضع المأساوي لسوريا .

٣٦- كيف نحافظ على ثروة المياه ؟ ص ١٦٥

أ- ترشيد استخدام المياه والحد من التبذير في المنازل

ب- الحد من هدر المياه في عمليات الري ، وذلك باستخدام الوسائل الحديثة كالرش بالتنقيط والمحوري .

ت- تطوير استعمال مياه الصرف الصحي المعالجة في الزراعة .

ج- تنظيم عملية الاستفادة من المياه الجوفية ومنع تسرب الاملاح الملوثة اليها واستثمارها على الوجه الامثل

ح- اقامة البحيرات والسدود لتجميع مياه الامطار والسيول للاستفادة منها في فصل الصيف

د- توقيع اتفاقيات مع الدول المشاركة ودول المنبع لتحقيق مصالح الدول العربية المعنية

مع تُمْنِيَاتِنَا لَكُمْ بِالنَّجَاحِ وَالتَّوْفِيقِ

الفهرس

رقم الصفحة	عنوان الوحدة	اسم المعلم/ه
٤٢ الى ٢١	الوحدة الاولى (الوطن العربي مقومات وملامح جغرافية)	شهد النومس
٦٣ الى ٤٤	الوحدة الاولى (الوطن العربي مقومات وملامح جغرافية)	زينب الأشوك
٧٨ الى ٧١	الوحدة الثانية (الوطن العربي مهد الحضارات والديانات السماوية)	غدير العازمي
٩٢ الى ٧٩	الوحدة الثانية (الوطن العربي مهد الحضارات والديانات السماوية)	جلال عبد الحافظ
١٥٢ الى ٩٩	الوحدة الثالثة (الوطن العربي ملامح بشريه واقصاديه)	فاطمه المويصري
١٧٦ الى ١٦١	الوحدة الرابعة (الوطن العربي قضايا وتحديات وحلول نحو مستقبل افضل)	وضحه الروقي + زينب الأشوك + غدير العازمي
١٨٦ الى ١٧٧	الوحدة الرابعة (الوطن العربي قضايا وتحديات وحلول نحو مستقبل افضل)	انوار الرشيدى + زينب الأشوك + غدير العازمي

تنسيق المعلمة : زينب الاشوك