



وزارة التربية

الإدارة العامة لمنطقة الجهاد التعليمية

اختبار نهاية الفصل الدراسي الثاني

٢٠١٨ / ٢٠١٧

الصف	السابع
المادة	الاجتماعيات

نموذج إجابته



وزارة التربية
مكتب المدير العام
الإدارة العامة لمنطقة الجهاد التعليمية



وزارة التربية
مكتب المدير العام
الإدارة العامة لمنطقة الجهاد التعليمية



المجال الدراسي : الكويت والوطن العربي
الزمن : ساعة ونصف
عدد الصفحات : (٥)

امتحان الفترة الدراسية الثانية
للفصل السابع (نموذج الإجابة)
العام الدراسي ٢٠١٧ - ٢٠١٨ م

وزارة التربية
الإدارة العامة لمنطقة الجاهز التعليمية
التوجيه الفني للإجتماعيات

أجب عن جميع الأسئلة التالية:
السؤال الأول (موضوعي) يتكون من (أ - ب - ج - د - هـ) (درجة لكل نقطة)
أ- صوب ما تحته خط في العبارات التالية :

م	العبارة	التصويب
١	أكثر الدول العربية في عدد السكان دولة الجزائر .	مصر ص ١٠٠
٢	معدل النمو السنوي للسكان في الوطن العربي عام ٢٠٠٦ م يبلغ ٣ % .	٢.٢٠ % ص ١٠٦
٣	العام الذي عقد فيه مؤتمر قمة الأرض للأمم المتحدة في البرازيل ١٩٨٢ م .	١٩٩٢ م ص ١٦٧
٤	المجلس الذي يضم ست دول عربية مطلة على الخليج العربي الجامعة العربية .	مجلس التعاون الخليجي ص ١٨١
٥	الأسواق التي تحتل المكانة الأولى بالنسبة لتجارة الصادرات العربية أسواق اليابان .	الأسواق الأوروبية ص ١٥١
٦	تبلغ نسبة المساحة المزروعة في الوطن العربي حوالي ٧٠ % .	٥٦ % ص ١١٦

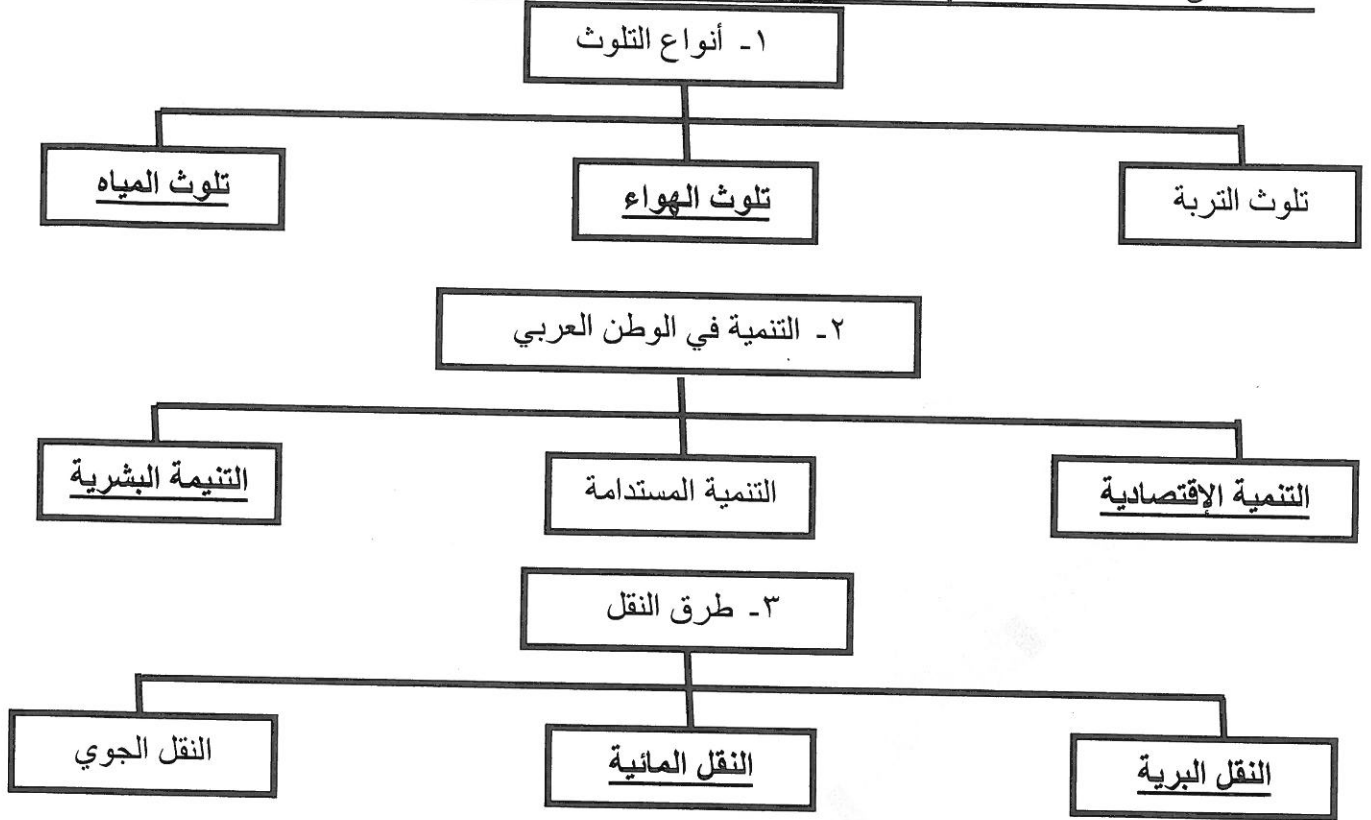
ب - صنف المحاصيل الزراعية حسب نوعها في الجدول التالي : ص ١١٣
(عنب - شعير - أرز - البن - التمور - الزيتون)

الحبوب الغذائية	الغلات الصناعية والتجارية	الفواكه والخضار
• شعير • أرز	• البن • زيتون	• عنب • التمور

ج - اكتب المفاهيم الدالة على العبارات التالية :

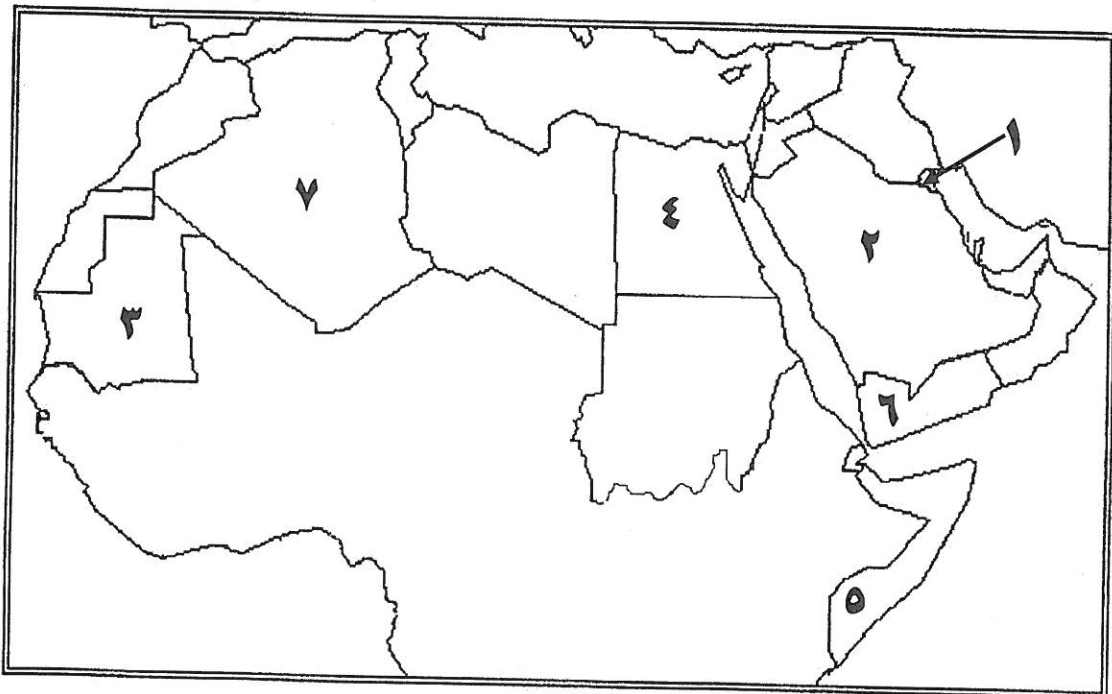
م	المفهوم	العبارة
١	التلوث	هو الضرر الذي يلحق بالتربة والهواء والماء . ص ١٦٦
٢	التنمية	التطور والتطوير وهي عملية تتطلب التخطيط والمشاركة من الجميع . ص ١٧٢
٣	الكثافة السكانية	عدد السكان الكلي للدولة على المساحة الكلية لهذه الدولة . ص ١٠٢
٤	التضامن العربي	العمل على توثيق الصلات بين الدول والشعوب العربية وحماية مصالحها السياسية والإقتصادية والثقافية . ص ١٧٧
٥	الطاقة	قوى محركة للألات وعنصر مهم للتقدم والتطور الإقتصادي في جميع المجالات . ص ١٢٥
٦	الصناعات التجميعية	هي عملية تركيب وجمع المواد المصنعة على اختلاف مصادرها لنحصل على سلع متنوعة . ص ١٤٣

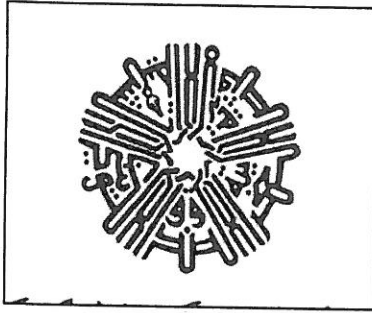
د - أكمل المخططات السهمية التالية : ص ١٤٧ + ١٦٧ + ١٧٣



هـ - أمامك خريطة الوطن العربي اكتب الرقم الدال على العبارات التالية :

- ١- الدولة الأولى في إنتاج الإبل يمثلها على الخريطة الرقم ٥ ص ١١٨
- ٢- الدولة التي يوجد بها مقر مجلس التعاون الخليجي يمثلها على الخريطة الرقم ٢ ص ١٨١
- ٣- الدولة الأولى في إنتاج الحديد يمثلها على الخريطة الرقم ٣ ص ١٣٢
- ٤- الدولة التي عقد فيها مؤتمر القمة العربية عام ٢٠٠٩م يمثلها على الخريطة الرقم ١ ص ١٨٦
- ٥- الدولة الأولى في إنتاج القطن يمثلها على الخريطة الرقم ٤ ص ١١٤
- ٦- الدولة العربية المنتجة للبن يمثلها على الخريطة الرقم ٦ ص ١١٤





الأسئلة المقالية:

السؤال الثاني يتكون من (أ- ب- ج)

أ- لاحظ الصورة التي أمامك ثم أجب عما يليها من أسئلة:

١- ما اسم الصندوق التابع لهذا الشعار؟ (درجة)

الصندوق الكويتي للتنمية الاقتصادية العربية ص ١٨٤

٢- متى تم إنشاء هذا الصندوق؟ (درجة)

٣١ ديسمبر ١٩٦١م ص ١٨٤

٣- كيف ساهمت الصناديق الوطنية في مشاريع التنمية العربية؟ (درجة)

• تقديم القروض والمنح للتمويل وتقديم المساعدات الاقتصادية للدول العربية . ص ١٧٩

ب) علل لما يلي:

١- تحتل الأغنام العربية مكاناً مهماً ضمن الثروة الرعوية . (درجتان) يكتفي بنقطتين ص ١١٨

* الأكثر انتشاراً في المراعي العربية * أكثر الحيوانات المستأنسة والملائمة لمراعي الوطن

العربي وتحملها الجفاف والانتقال * أهمية منتجاتها بالنسبة للسكان

* لأنها مصدر أساسي من مصادر الثروة القومية .

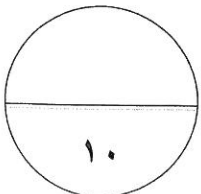
٢- تزايد عدد السكان في الوطن العربي من عام لآخر . (درجة لكل نقطة نصف درجة) ص ١٠٦

• الزيادة الطبيعية

• الهجرة (الزيادة الغير طبيعية)

ج) فرق بين كل من : (٤ درجات) ص ١٢٥ + ص ١٤١

<u>الغاز الطبيعي :</u> غاز مصاحب للنفط الخام أو يوجد منفرداً تتم إسالته لاستخدامات عديدة .	<u>النفط :</u> بقايا عضوية على هيئة نباتات وحيوانات دقيقة ترسبت في عصور قديمة وانظمرت تحت رواسب سميكة وتحولت بالضغط والحرارة إلى صورتها الحالية .
<u>الصناعات التعدينية :</u> تنقية الخامات المعدنية وتحويلها إلى صفائح أو سبائك صالحة لتنفيذ صناعات معدنية مختلفة .	<u>الصناعات الإستخراجية :</u> استخراج مصادر الطاقة كالنفط والغاز والفحم وخامات المعادن والأملاح وغيرها من باطن الأرض وإعدادها لتصبح جاهزة للتصنيع .



السؤال الثالث: يتكون من (أ - ب - ج)

أ - اقرأ الفقرة التالية ثم أجب عما يليها من أسئلة :

" موقع الوطن العربي في المناطق الجافة وشبه الجافة يعرضه بشكل أساسي لمشكلة التصحر والتي من أسبابها بشرية وطبيعية وعالجت الدول العربية المشكلة بوضع خطأ استراتيجية تهدف إلى تكثيف العمل الزراعي، واعتماد التكنولوجيا الحديثة ، واستعمال الأسمدة المناسبة "

١- عرف ما تحته خط . (درجة) ص ١٦٢

التصحر: زحف رمال الصحراء على المناطق الجافة وشبه الجافة .

٢- ما أسباب مشكلة التصحر ؟ (درجة) ١٦٢

• بشرية * طبيعية

٣- كيف عالجت الدول العربية مشكلة التصحر ؟ (درجتان) ص ١٦٣

*اعتمدت خطأ استراتيجية * تكثيف العمل الزراعي وتطويره * اعتماد التكنولوجيا

الحديثة * تأصيل البذور واستعمال الأسمدة المناسبة * زيادة الإنتاج عن طريق الأساليب

العلمية * زيادة المساحات المزروعة * إقامة مشروعات الري .

(ب) اكتب مما درست حول :

١- النتائج السلبية للتلوث بأوكسيد الكربون الناتج من عوادم السيارات . (درجتان) ص ١٦٩

* يؤدي إلى ارتفاع متزايد في حرارة الأرض

* تغيير مناخي يهدد بإغراق المدن

٢- الهدف الأساسي لمنظمة الدول العالمية المصدرة للنفط (الأوبك) . (درجة) ص ١٣٤

• الحرص على استقرار أسعار النفط في الأسواق العالمية .

(ج) عرف المفاهيم التالية : (٣ درجات) ص ٩٩ + ١٠٩ + ١٥٢

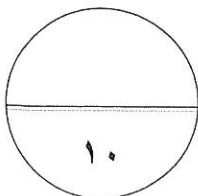
١- الإحصاء الحيوي : تسجيل المواليد والوفيات وحالات الزواج والطلاق ونحصل على

بياناتها من واقع السجلات الرسمية للدولة .

٢- الموارد الطبيعية : الثروات التي منحها الله لإقليم من دون أن يكون للإنسان دور في

وجودها .

٣- التجارة البينية : التبادل التجاري بين الدول العربية .



السؤال الرابع: يتكون من (أ - ب - ج)
أ- لاحظ الجدول التالي للإنتاج السمكي في بعض دول الوطن العربي ثم أجب عن الأسئلة التالية:

الدول	النسبة
اليمن	١٥٧
مصر	١٣٧٤
موريتانيا	٦٤٤
المغرب	١٢٤٦
تونس	١٢٣
عمان	٢٠٦

١- ما أكثر الدول إنتاجاً للأسماك؟ (درجة) ص ١٢٣
• مصر

٢- رتب تنازلياً الدول المنتجة للأسماك . (درجة)

مصر	المغرب	موريتانيا	عمان	اليمن	تونس
-----	--------	-----------	------	-------	------

٣- كيف نحافظ على ثروة المياه ؟ (درجتان يكتفي بنقطتين) ص ١٦٥

- * ترشيد استخدام المياه والحد من التبذير في المنازل.
- * الحد من هدر المياه في عمليات الري باستخدام الوسائل الحديثة كالرش بالتنقيط والمحوري .
- * تنظيم عملية الاستفادة من المياه الجوفية ومنع تسرب الأملاح الملوثة.
- * تطوير استعمال مياه الصرف الصحي المعالجة في الزراعة .
- * إقامة البحيرات والسدود لتجميع مياه الأمطار والسيول للاستفادة منها في فصل الجفاف .
- * توقيع اتفاقيات مع الدول المشاركة ودول المنبع لتحقيق مصالح الدول العربية المعنية.

ب- أجب عن الأسئلة التالية : (درجتان يكتفي بنقطتين) ص ١٦١

- ١ - عدد العقبات التي تواجه الإنتاج الزراعي في الوطن العربي ؟
* عدم استغلال الأراضي القابلة للزراعة لندرة مياه الري أو تذبذب الأمطار أو قلة الأيدي العاملة
* اتباع طرق الزراعة التقليدية في معظم أجزاء الوطن العربي . * زحف الرمال التصحر وانجراف التربة
* تلوث التربة نتيجة للإسراف في استخدام المبيدات الحشرية وارتفاع نسبة الملوحة بالتربة
* الرعي الجائر .

٢- أذكر أهداف الصناعات البتروكيميائية ؟ (درجتان يكتفي بنقطتين) ص ١٤٥

- * تنويع مصادر الدخل للدولة المنتجة * توفير المواد الأولية للصناعات التحويلية
- * تطوير الصناعات البتروكيميائية إلى تقنيات متخصصة وعالية .

ج - ما هي مقترحاتك :

* - نحو سياسة بيئية فاعلة لتوليد طاقة نظيفة . (درجتان أو أي اجابة يراها المعلم صحيحة) ص ١٧١

- ١ . * إعادة تجديد محطات الطاقة القديمة
- ٢ . * الإعتماد على مصادر الطاقة البديلة كالشمس والرياح والمياه للتخفيف من تلوث البيئة .

انتهت الإجابة مع تمنياتنا لكم بالنجاح والتوفيق،،،

