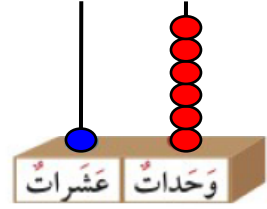






اكتب رمز العدد

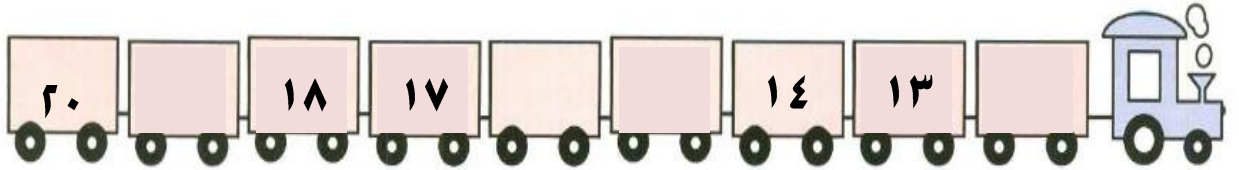




قارن بوضع رمز العلاقة المناسب < أو > أو = :



أكمل سلسلة الأعداد :



اشطب



$$= 14 - 4$$

اوجد الناتج

$$\begin{array}{r} 9 \\ 2 \\ 1 \\ \hline + \\ \square \end{array}$$

اجمع .

$$\underline{\quad} = 5 + 6$$

صل عبارة الجمع بعبارة الطرح ذات الصلة ...

$$= 9 - 12$$

$$= 8 + 8$$

$$= 8 - 16$$

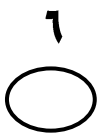
$$= 3 + 9$$

اختار الإجابة الصحيحة

تمثل العدد



علامات العدد في الشكل التالي



$$13 = \square + 10$$