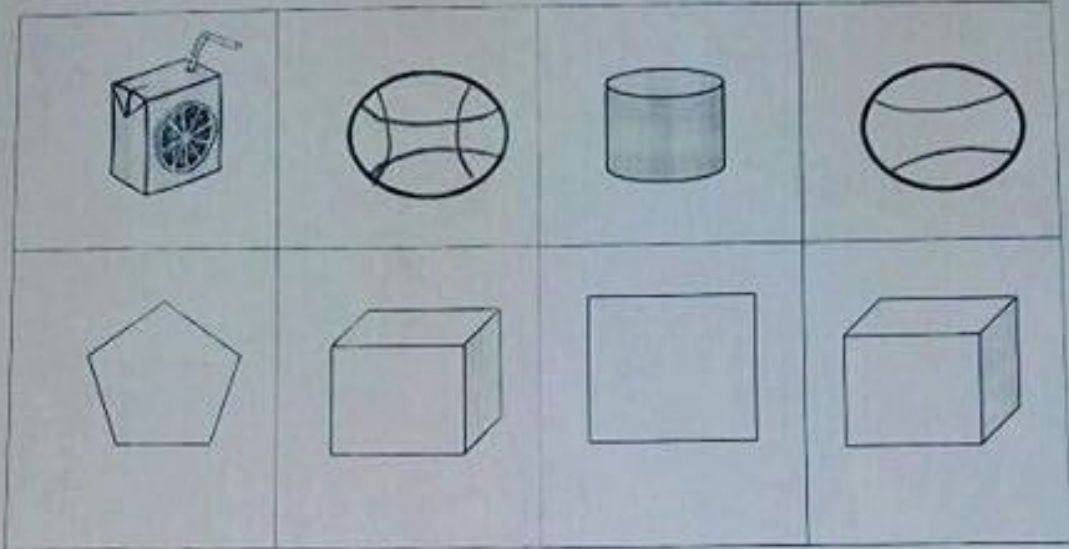


الصف الأول

ورقة عمل

قسم الرياضيات

السؤال الأول: حوِّط ما يشبه المجسم



س ٢ : حوِّط الاجابة الصحيحة


(أ) الطبق الأثقل



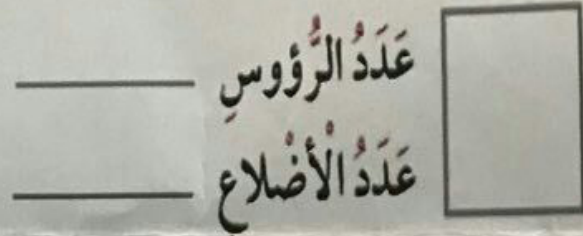
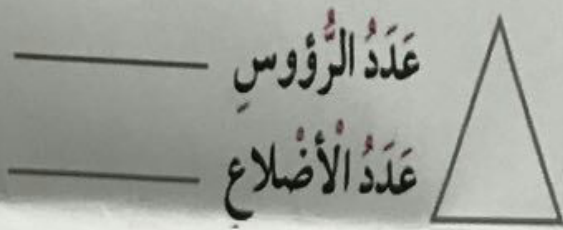
(ب) الوعاء ذو السعة الأقل



السؤال الأول: حوِّط مايشبهه الجسم



السؤال الثاني: اذكر عدد الرؤوس وعدد الأضلاع



ب. حوِّط الأقصر



السؤال الثالث:- أ. حوِّط الطبق الأثقل



السؤال الرابع: وصل كل وعاء بالكلمة المناسبة


أقل سعة

أكثر سعة



الوحدة الثالثة عشرة
درس (١٣-١٠) نموذج (١)

السؤال الاول : (أ) حوط الاثقل :




(ب) حوط الاخف :



السؤال الثاني : (أ) حوط الاطول :



(ب) حوط السعة الاقل :



السؤال الثالث : حوط الاجابة الصحيحة :

نحتفل بالعيد الوطني و عيد التحرير في شهر

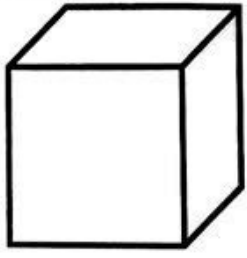
فبراير مارس ابريل

٣٠ فلسا ٢٥ فلسا ٢٠ فلسا

٥ فلسا

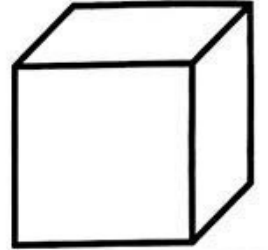
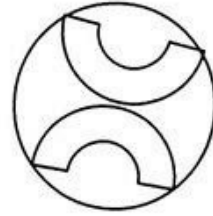
١٠ فلسا

١٠ فلسا



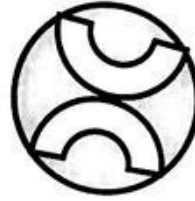
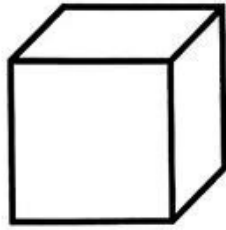
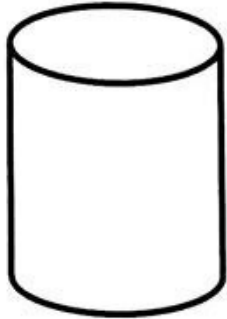
صل

السؤال الأول :
لون الكرة باللون الأحمر
والمكعب باللون الأخضر




كرة

مكعب




السؤال الثاني : صل



تتدرج

لا تتدرج

صل (أخف ، أثقل)

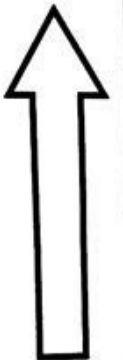



حوط الأقصر



السؤال الثالث :

حوط الأطول



السؤال الأول:

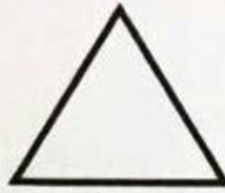
(أ) حوط ما يشبه المجسم



(أ) أكمل


عدد الرؤوس _____

عدد الأضلاع _____



عدد الرؤوس _____

عدد الأضلاع _____



السؤال الثاني:

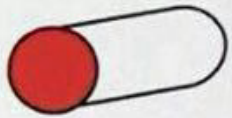
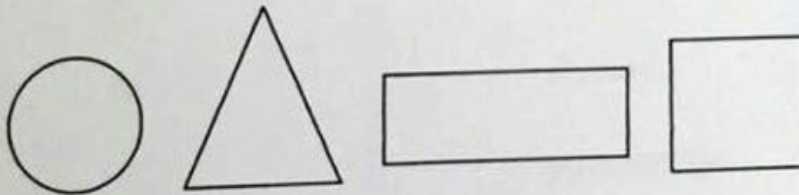
(أ) حوط الوعاء الذي سعته أكثر




(ب) حوط الأقصر

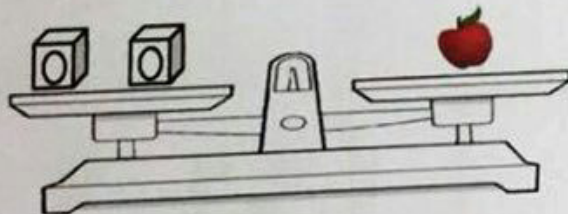


(ج) لون الشكل لتحصل على منطقه ملونه للمجسم



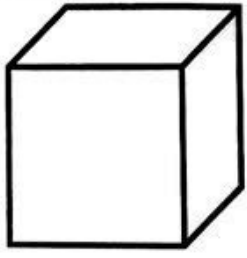
السؤال الثالث

(أ) كم (٥) يكافئ وزن 



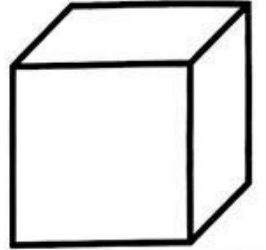
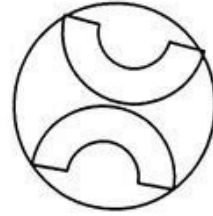
(ب) أختار الاجابه الصحيحه .

كم أسبوع في الشهر الواحد _____ أسابيع تقريبا



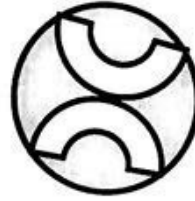
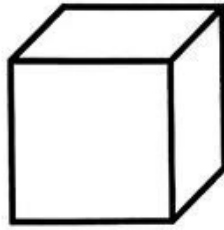
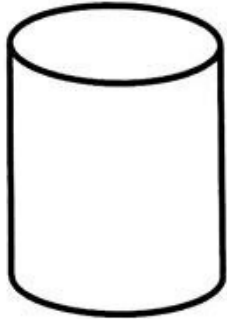
صل

السؤال الأول :
لون الكرة باللون الأحمر
والمكعب باللون الأخضر




كرة

مكعب



السؤال الثاني : صل



تتدرج

لا تتدرج

صل (أخف ، أثقل)





حوط الأقصر






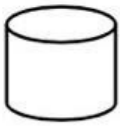







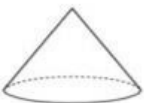




السؤال الثالث :

حوط الأطول


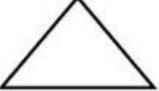




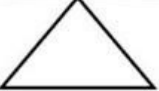









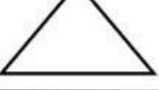





الوحدة الثانية عشرة
درس (١٢ - ٥) نموذج (١)

السؤال الاول : حوِّط ما يشبه المجسم :

السؤال الثاني : لون الشكل الذي يمثل المنطقة الامامية للمجسم :

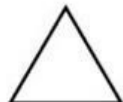
السؤال الثالث : حوِّط الإجابة الصحيحة :

عدد أوجه المكعب ؟

٦

٤

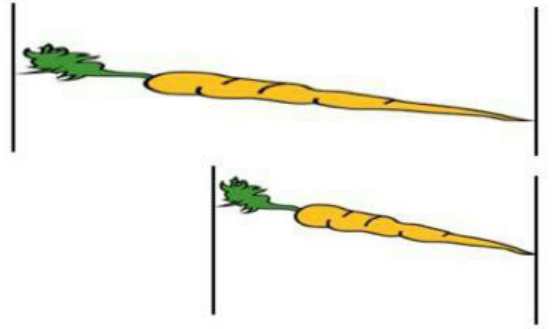
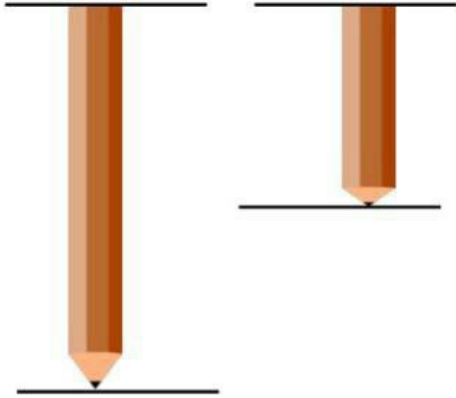
١



عدد رؤوسي وأضلاعي ٣ فمن أنا ؟

الوحدة الثالثة عشرة درس (١٣-١) الطول

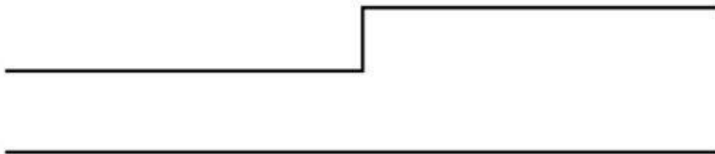
حوظ الاطول :



لون الاطول باللون الاحمر والاقصر باللون الازرق :



أيهما أطول :



حل المسألة :

وفهد اطول من بدر

وحمداقصر من فهد

إذا كان بدر أطول من حمد

ومن يكون الاقصر ؟.....

فمن يكون الاطول ؟.....

الوحدة الثالثة عشرة
درس (١٣-٢) قياس الطول

استخدم



للقياس :



استخدم



للقياس :



حوظ التقدير المناسب :



٤



٣



٢



١٠




٨



٦

الوحدة الثالثة عشرة درس (١٣ - ٣) الوزن

قارن بين وزن الاشياء باستخدام اليدين : صل (أخف - أثقل) :



اثقل



اخف



اثقل

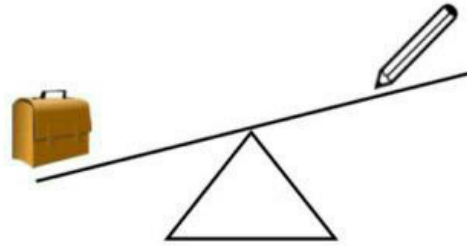


اخف

حوظ الاثقل :



حوظ الاخف :



(اخف من - يساوي - اثقل من) وزن الـ



وزن الـ



(اخف من - يساوي - اثقل من) وزن الـ



وزن الـ

الوحدة الثالثة عشرة
درس (١٣-٥) السعة

حوظ الوعاء الذي سعته اكثر



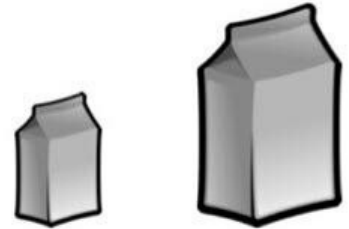
حوظ الوعاء الذي سعته اقل :



صل كل وعاء بالكلمة المناسبة :



اقل سعة | اكثر سعة



اقل سعة | اكثر سعة

الوحدة الثالثة عشرة
درس (١٣-٦) قياس السعة

لقياس السعات المختلفة :

استخدم












الوحدة الثالثة عشرة درس (٧-١٣) إيجاد الوحدات الناقصة



و



إذا كان



فحوظ عدد المشابك التي تدل على طول الجهاز .



يسع ٦



إذا كان

من النوع نفسه



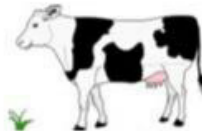
المناسبة لملء




فحوظ الـ



تنتج



إذا كانت الـ



التي تنتجها



فإن عدد الـ

الوحدة الثالثة عشرة درس (١٣-٨) قياس الوقت

لون الاجابة الصحيحة :

٩ أيام	٧ أيام	٥ أيام
--------	--------	--------

كم عدد أيام الاسبوع ؟

الاثنين	الاحد	السبت
---------	-------	-------

اليوم الاول في الاسبوع ؟

الجمعة	الخميس	الاربعاء
--------	--------	----------

اليوم الاخير في الاسبوع ؟

٨ أيام	٧ أيام	٥ أيام
--------	--------	--------

كم عدد أيام الدراسة ؟

الثلاثاء	الاحد	السبت
----------	-------	-------

اليوم الاول في ايام الدراسة ؟

الخميس	الاربعاء	الثلاثاء
--------	----------	----------

اليوم الاخير في أيام الدراسة ؟

٧ أيام	٢١ يوم	٣٠ يوم
--------	--------	--------

كم عدد أيام الشهر ؟

٥ أسابيع	٤ أسابيع	٣ أسابيع
----------	----------	----------

كم اسبوع في الشهر ؟

فبراير	ابريل	مارس
--------	-------	------

في أي شهر نحتفل بالعيد الوطني و عيد التحرير ؟

٢٧ فبراير	٢٦ فبراير	٢٥ فبراير
-----------	-----------	-----------

في اي يوم نحتفل بالعيد الوطني ؟

٢٧ فبراير	٢٦ فبراير	٢٥ فبراير
-----------	-----------	-----------

في اي يوم نحتفل بعيد التحرير ؟

٧ أشهر	١٢ شهر	٣٠ شهر
--------	--------	--------

كم عدد الاشهر في السنة الميلادية ؟

٧ أشهر	١٢ شهر	٣٠ شهر
--------	--------	--------

كم عدد الاشهر في السنة الهجرية ؟

الوحدة الثالثة عشرة
درس (١٣-٩) النقود

حوظ كم شيئا يمكن شراؤه من المحل :



١٨ دينار



٢٣ دينار



١٥ دينار

لدى خالد ١٧ دينار



لدى احمد ٢٥ دينار




ارسم قطع النقود الموضحة :

القطعة	السعر	ارسم القطع النقدية
	٣٠ فلسا	
	٥٠ فلسا	
	٢٥ فلسا	

الوحدة الثالثة عشرة
درس (١٣-١٠) نموذج (١)

السؤال الاول : (أ) حوط الاثقل :




(ب) حوط الاخف :



السؤال الثاني : (أ) حوط الاطول :



(ب) حوط السعة الاقل :



السؤال الثالث : حوط الاجابة الصحيحة :

ابريل

مارس

فبراير

نحتفل بالعيد الوطني و عيد التحرير في شهر

٢٠ فلسا

٢٥ فلسا


٣٠ فلسا

٥ فلسا

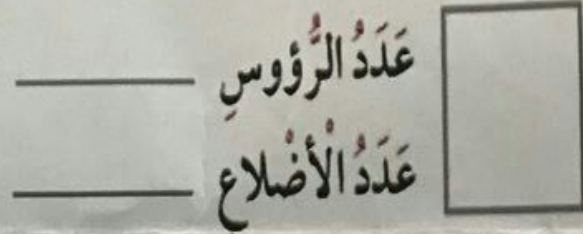
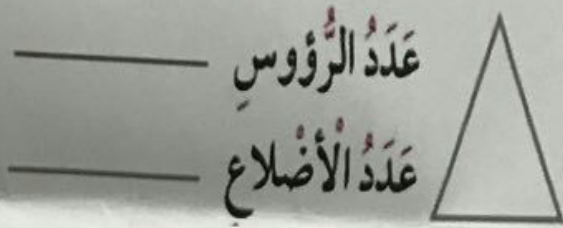
١٠ فلسا

١٠ فلسا

السؤال الأول: حوط مايشبه المجسم



السؤال الثاني: اذكرى عدد الرؤوس وعدد الاضلاع



ب. حوط الاقصر



السؤال الثالث:- أ. حوط الطبق الاثقل



السؤال الرابع: وصل كل وعاء بالكلمه المناسبه

أَقْلُ سَعَةٍ

أَكْثَرُ سَعَةٍ

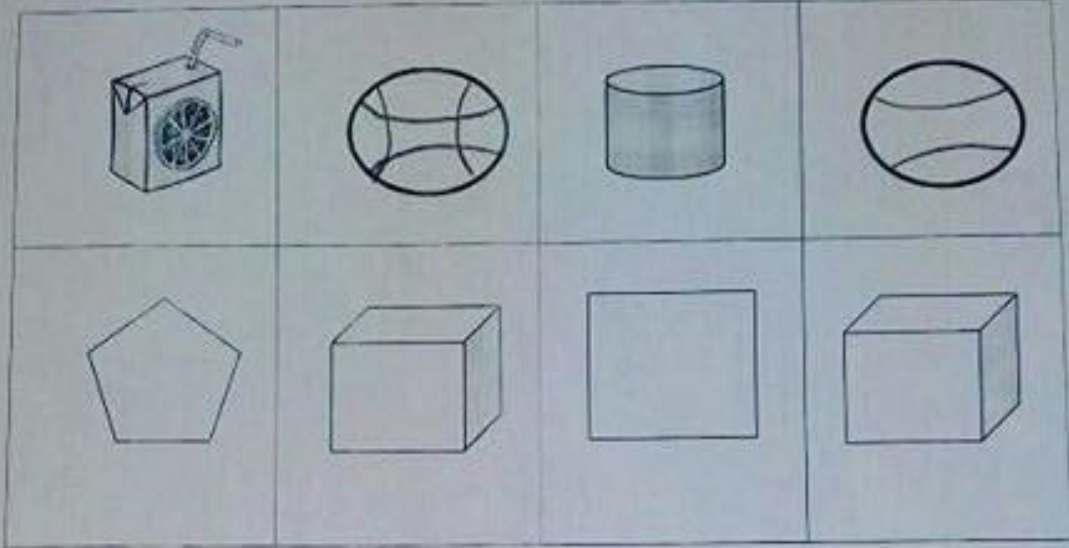


الصف الأول

ورقة عمل

قسم الرياضيات

السؤال الأول: حوِّط ما يشبه المجسم



س ٢ : حوِّط الاجابة الصحيحة

(أ) الطبق الأثقل



(ب) الوعاء ذو السعة الأقل



السؤال الأول:

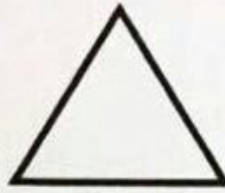
(أ) حوط ما يشبه المجسم



(أ) أكمل


عدد الرؤوس _____

عدد الأضلاع _____



عدد الرؤوس _____

عدد الأضلاع _____



السؤال الثاني:

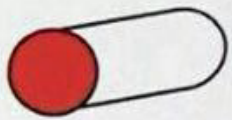
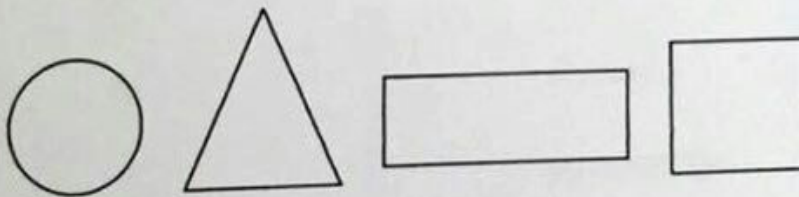
(أ) حوط الوعاء الذي سعته أكثر




(ب) حوط الأقصر

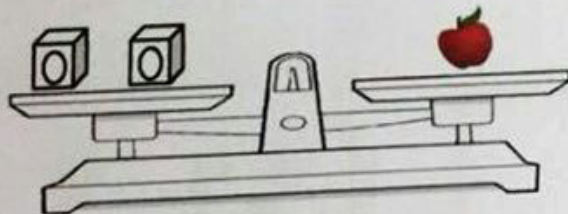


(ج) لون الشكل لتحصل على منطقه ملونه للمجسم



السؤال الثالث

(أ) كم (٥) يكافئ وزن 



(ب) أختار الاجابه الصحيحه .

كم أسبوع في الشهر الواحد _____ أسابيع تقريبا