

السؤال الأول : يتكون من (أ - ب - ج) :

(أ) صنف ما يلي كلاً حسب موقعه في الجدول التالي : $٥ = ٥ \times ١$

(تجميع السيارات / مصادر الطاقة / الخشب / خامات المعادن / الورق)

الصناعات التحويلية ص ١٤٢	الصناعات التجميعية ص ١٤٣	الصناعات الاستخراجية ص ١٤١
- الخشب - الورق	- تجميع السيارات	- خامات المعادن - مصادر الطاقة

(ب) أكمل العبارات التالية بما يناسبها مما درست : $٥ = ٥ \times ١$

- ١- زحف رمال الصحراء على المناطق الجافة وشبه الجافة مشكلة اسمها التصحر..... ص ١٦٢
- ٢- استضافت دولة الكويت القمة العربية الاقتصادية التنموية والاجتماعية عام ...٢٠٠٩م... ص ١٨٦
- ٣- القطاع الذي يشكل نسبة ٥٠% من الاقتصاد العربي في الاقطار غير المنتجة للنفط يسمى..الزراعي.. ص ١١٠
- ٤- الطبقة التي تحمي الأرض من الاشعاعات فوق البنفسجية الضارة تسمى....الأوزون ص ١٦٩
- ٥- القارة التي يتوزع بها ٧٠% من سكان الوطن العربي تسمى أفريقيا ص ٩٩

(ج) أختر للمجموعة (ب) ما يناسبها من المجموعة (أ) وذلك بوضع الرقم في المكان المناسب :

$٥ = ٥ \times ١$

الرقم	المجموعة (أ)	المكان المناسب	المجموعة (ب)
١	القمح والشعير والارز تعتبر بالوطن العربي من	٣	الغلات الصناعية ص ١١٤
٢	الحديد والنحاس والمنجنيز تعتبر بالوطن العربي من	-	الثروة الرعوية
٣	القطن والبن وقصب السكر تعتبر بالوطن العربي من	٥	الفواكة والأشجار ص ١١٤
٤	الأسماك والمحار واللؤلؤ تعتبر بالوطن العربي من	٢	الثروة المعدنية ص ١٣٢
٥	العنب والتمر والموز تعتبر بالوطن العربي من	١	الحبوب الغذائية ص ١١٤
		٤	الثروة المائية ص ١٢٢

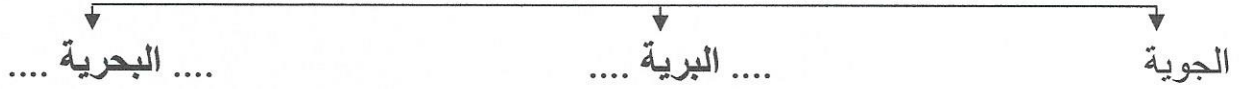
يتبع الصفحة التالية



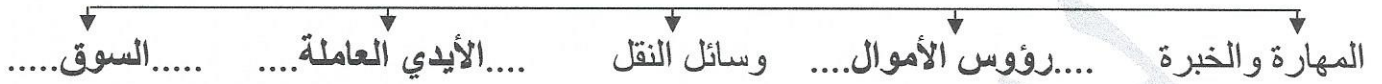
السؤال الثاني : يتكون من (أ - ب - ج)

(أ) أكمل الفراغ في المخططات السهمية التالية بما يناسبها : $٥ = ٥ \times ١$

١- طرق النقل في الوطن العربي . ص ١٤٧



٢- المقومات البشرية للصناعة بالوطن العربي . ص ١٣٩



(ب) اختر الأكمال المناسب للعبارات التالية من بين الخيارات التي تلي كلا منها وضع تحتها خط : $٥ = ٥ \times ١$


١- عقدت المؤتمرات الدولية الثلاثة للمانحين لدعم الوضع الإنساني في سوريا بدولة اسمها : ص ١٨٩

أ- الكويت ب- السودان ج- البحرين د- العراق

٢- صندوق أوظيفي للتنمية تأسس في عام : ص ١٧٩
أ- ١٩٧٠م ب- ١٩٧١م ج- ١٩٧٢م د- ١٩٧٣م

٣- أشهر العلماء العرب في خارج الوطن العربي الدكتور : ص ١٧٦

أ- أحمد شوقي ب- طه حسين ج- أحمد زويل د- حافظ إبراهيم

٤- الصورة التالية  تمثل إحدى حيوانات الثروة الرعوية في الوطن العربي يسمى : ص ١١٩

أ- الأغنام ب- الأبقار ج- الإبل د- الماعز

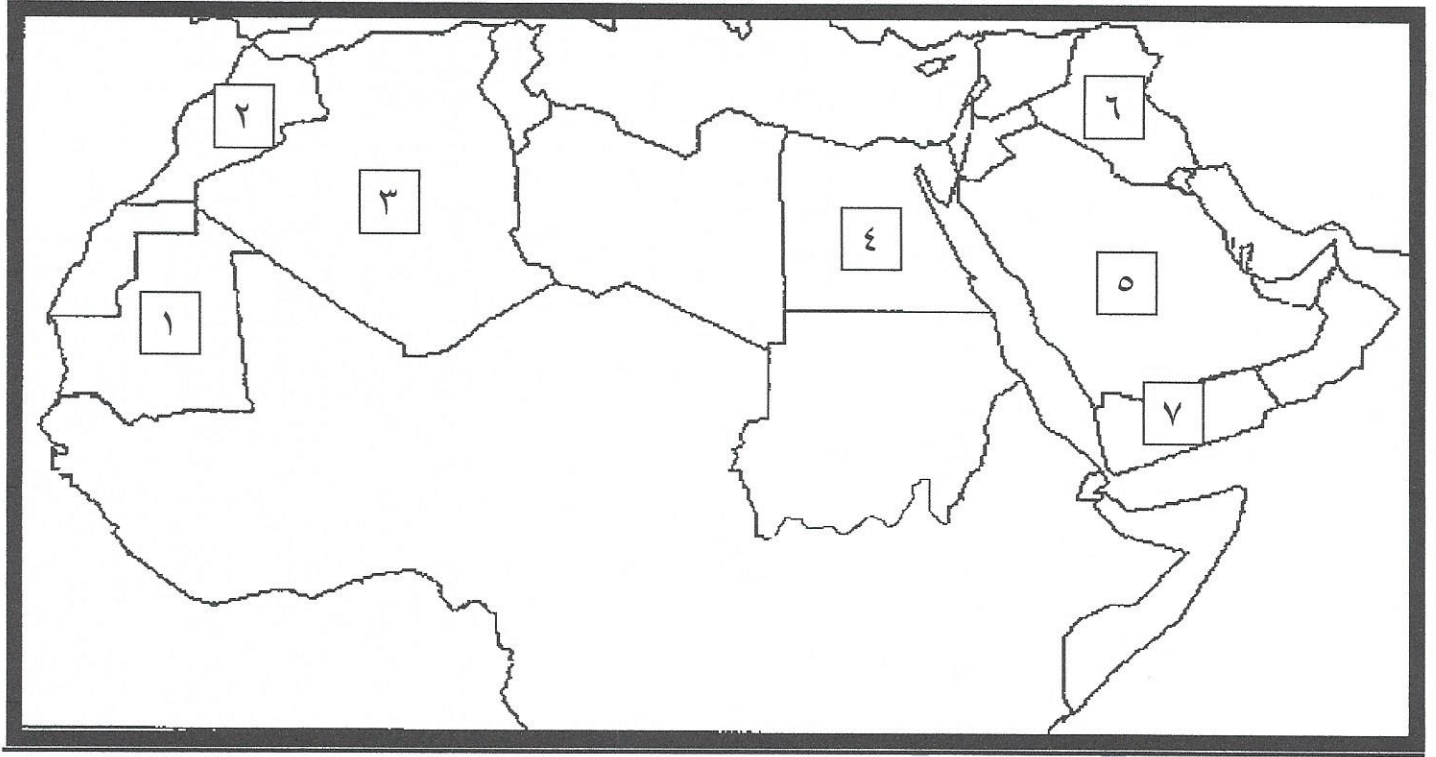
٥- عقدت قمة الأرض بالبرازيل عن مشكلة التلوث البيئي عام : ص ١٦٧

أ- ١٩٩١م ب- ١٩٩٢م ج- ١٩٩٣م د- ١٩٩٤م

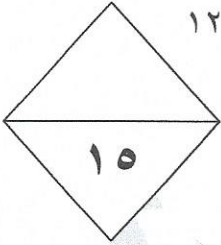
يتبع الصفحة التالية



(ج) لاحظ خريطة الوطن العربي الصماء ثم اكتب الرقم الدال على كلاً مما يلي : ٥=٥×١



- الدولة العربية التي يوجد بها نهر الفرات علي الخريطة يمثلها الرقم٦..... ص ١٤٩
- الدولة العربية التي تحتل المركز الاول في انتاج البن علي الخريطة يمثلها الرقم٧..... ص ١١٤
- الدولة العربية التي تحتل المركز الاول في انتاج معدن الفوسفات علي الخريطة يمثلها الرقم٢..... ص ١٣٢
- الدولة العربية التي تسهم بأكثر من ثلث الإنتاج العربي من الأسماك علي الخريطة يمثلها الرقم٤..... ص ١٢٣
- الدولة العربية التي تحتل المركز الاول في احتياط النفط علي الخريطة يمثلها الرقم٥..... ص ١٢٩



السؤال الثالث : يتكون من (أ - ب - ج) :

(أ) قارن بين كلاً مما يلي حسب المطلوب في الجدول التالي : ٥ = ٥×١

أوبك ص ١٣٥	أوبك ص ١٣٤	أوجه المقارنة
- ثلاث دول عربية .	- خمس دول عالمية .	عدد الدول المؤسسه
- دولة الكويت .	- مدينة فيينا .	المقر
- منظمين للدول المصدرة للنفط . - عدد أعضائهما ١١ دولة . - تشترك بهما كل من الدول التالية الكويت والسعودية وقطر والعراق والامارات والجزائر . - في المنظمين يوجد بهما جهاز الامانة العامة . (يكتفى بنقطة واحدة)		التشابه بينهما

يتبع الصفحة التالية



(ب) بعد قراءة الفقرة التالية أجب عما يليها : $٥ = ٥ \times ١$

((يعد الصندوق الكويتي للتنمية الاقتصادية العربية أول مؤسسة للتنمية في الوطن العربي . تأسس في عهد الشيخ عبدالله السالم الصباح . بفكرة ودعم من صاحب السمو الراحل أمير القلوب رحمه الله حيث كان سموه وزيراً للمالية آنذاك . ويتبع الصندوق الكويتي للتنمية الاقتصادية العربية حالياً وزارة الخارجية بدولة الكويت .))

١- ما أسم صاحب فكرة تأسيس الصندوق الكويتي للتنمية الاقتصادية العربية ؟

- الشيخ جابر الأحمد الصباح ص ١٨٤

٢- ماذا يقصد بالتنمية ؟

- ... تعني التطور والتطوير وهي عملية تتطلب التخطيط والمشاركة من الجميع ... ص ١٧٢

٣- أي وزارة بدولة الكويت يتبع الصندوق الكويتي للتنمية الاقتصادية العربية ؟

-وزارة الخارجية..... ص ١٨٤

٤- عدد أهداف الصندوق الكويتي للتنمية الاقتصادية العربية ؟

- .. تقديم المساعدات اللازمة في حالات الكوارث والنكبات.... (يكتفى بنقطتين)

- .. يقوم بالمساهمة في تحقيق مشاريع التنمية الضرورية الخاصة بالمجالات الصحية الاجتماعية... ..

- .. دعم قضايا الأمة العربية الإسلامية.... ص ١٨٤

(ج) أكتب فيما يلي مما درست : $٥ = ٥ \times ١$

١- طرق الحفاظ على ثروة المياه في الوطن العربي . ص ١٦٥

- ترشيد استخدام المياه والحد من التبذير في المنازل (يكتفى بثلاث نقاط)

- تطوير استعمال مياه الصرف الصحي المعالجة في الزراعة

- إقامة البحيرات والسدود لتجميع مياه الأمطار والسيول للاستفادة منها في فصل الجفاف

- ... الحد من هدر المياه في عمليات الري وذلك باستخدام الوسائل الحديثة كالرش بالتنقيط والمحوري

- توقيع اتفاقيات مع الدول المشاركة ودول المنبع لتحقيق مصالح الدول العربية المعنية

- تنظيم عملية الاستفادة من المياه الجوفية ومنع تسرب الإملح الملوثة إليها واستثمارها

على الوجه الأمثل

٢- أهداف الصناعات البتروكيمياوية في الوطن العربي . ص ١٤٥ (يكتفى بنقطتين)


- تنوع مصادر الدخل للدولة المنتجة

- توفير المواد الأولية للصناعات التحويلية لتأمين حاجات القطاعات الاستهلاكية

(خاصة مجال البناء)

- تطوير الصناعات البتروكيميائية إلى تقنيات متخصصة وعالية

السؤال الرابع : يتكون من (أ - ب - ج) :



(أ) شاهد الصورة التالية ثم اجب عن الاسئلة التي تليها : $٥ = ٥ \times ١$

١- ما اسم مصدر الطاقة الذي تمثله الصورة المقابلة ؟

- النفط / oil ص ١٢٥

٢- لماذا يتمتع هذا المصدر للطاقة بمكانة مهمة على المستوى العالمي ؟ ص ١٣١

- نظراً لأهميته للدول الصناعية المتقدمة في أوروبا واليابان والولايات المتحدة الأمريكية

٣- يعد هذا المصدر من أهم مصادر الطاقة بالوطن العربي . علل ؟ ص ١٢٥

- تقوم عليه صناعات مهمة لا غنى عنها في حياتنا (يكتفى بنقطة)

- مهم بالنسبة لاقتصاد الدول العربية (الاموال)

٤- أذكر أسم الدولة الاولى في انتاج هذه الطاقة بالوطن العربي ؟

- المملكة العربية السعودية ص ١٢٩

٥- اكتب رسالة تقدر بها أهمية هذا المصدر من الطاقة في حياتك اليومية ؟

- أي اجابة مناسبة يراها المصحح من المتعلم

(ب) عرف ما يلي : $٥ = ٥ \times ١$

١- التضامن العربي : العمل على توثيق الصلات بين الدول والشعوب العربيه وحماية لمصالحها السياسية والاقتصادية والثقافية وغيرها ص ١٧٧

٢- الموارد الطبيعية : الثروات التي منحها الله لإقليم من دون أن يكون للإنسان أي دور في وجودها ص ١٠٩

٣- التبادل التجاري: عمليتا التصدير والاستيراد بين الدول ص ١٥١

٤- مقومات الصناعة : العوامل التي تساعد على تحويل المواد الخام إلى سلع استهلاكية ص ١٣٩

٥- النمو السكاني : تزايد عدد السكان من عام لآخر نتيجة للزيادة الطبيعية للسكان والهجرة ... ص ١٠٦

(ج) لاحظ الجدول التالي ثم أجب عن الأسئلة التي تليه: $٥ = ٥ \times ١$

جدول احصائية لبعض الدول العربية تبين مساحة وتقديرات السكان في عام ٢٠١٤ م

الرقم	اسم الدولة العربية	المساحة كم ^٢	تقديرات عدد السكان (ألف نسمة)
١	المغرب	٧١٠,٨٥٠	٣٣,٣٠٤,٠٠٠
٢	جيبوتي	٢٣,٢٠٠	٩٣٩,٠٠٠
٣	السودان	١,٨٨٢,٠٠٠	٣٧,٤٠٢,٠٠٠
٤	الصومال	٦٣٧,٦٥٧	١٢,٣١٧,٠٠٠
٥	الجزائر	٢,٣٨١,٧٤١	٣٩,٤٠٢,٠٠٠
٦	تونس	١٦٤,١٥٠	١٠,٩٨٣,٠٠٠

١- استخلص من الجدول الدول العربية التي عدد سكانها أقل من ١١ مليون نسمة من الجدول ؟ ص ١٠٠

- جيبوتي / تونس

٢- استخلص من الجدول أكبر الدول العربية مساحة ؟ ص ١٠٠

- الجزائر

٣- ما أسباب ارتفاع الكثافة السكانية في بعض مناطق دول الوطن العربي ؟ ص ١٠٥

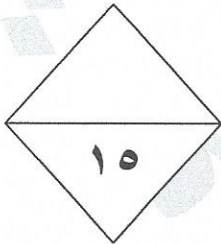
- لتمتعها بمقومات طبيعية ومناخية ملائمة

- وثروات طبيعية

- وطرق مواصلات

٤- ماذا يستفاد من الإحصاء الحيوي في دول الوطن العربي ؟ ص ٩٩

- تسجيل المواليد والوفيات وحالات الزواج والطلاق



انتهت الاسئلة