

**السؤال الأول : يتكون من ( أ - ب - ج ) :**

( أ ) **صنف ما يلي كلاً حسب موقعه في الجدول التالي :  $5 = 5 \times 1$**

( الحروب / البراكين / نفايات التطور الصناعي / الانفجارات النووية / الغبار )

مصادر التلوث البيئي الطبيعية ص 81	مصادر التلوث البيئي البشرية ص 81
- البراكين - الغبار	- الحروب - الانفجارات النووية - نفايات التطور الصناعي

( ب ) **أكمل العبارات التالية بما يناسبها مما درست :  $5 = 5 \times 1$**

- 1- عام صدر به قرار مجلس الأمن رقم 833 بترسيم الحدود بين الكويت والعراق....1993م.... ص 106
- 2- الدولة الإسلامية التي بلغ بها معدل إمام البالغين بالقراءة والكتابة 97% اسمها .....قطر..... ص 128
- 3- ترتب على اندلاع الحرب الأهلية بالصومال عام 1991م موجات من الجفاف و..... المجاعة..... ص 117
- 4- نسبة التلوث الهوائي في باكستان بسبب عوادم السيارات يبلغ ..... 40% ..... ص 83
- 5- أسم أطلق على حرب تحرير دولة الكويت من النظام العراقي البائد ..... عاصفة الصحراء ..... ص 122

( ج ) **أختر للمجموعة ( أ ) ما يناسبها من المجموعة ( ب ) وذلك بوضع الرقم في المكان المناسب :**

$5 = 5 \times 1$


الرقم	المجموعة ( أ )	الرقم المناسب	المجموعة ( ب )
1	تم إنشاء شرطة البيئة في دولة الكويت عام	3	1973م ص 103
2	تأسس بيت الزكاة في الكويت عام	5	2007م ص 90
3	قامت القوات العراقية بالهجوم على مركز الصامته الكويتي عام	-	1984م
4	تم تأسيس البنك الإسلامي للتنمية عام	1	2015م ص 82
5	ضرب إعصار جونو أو غونو سواحل سلطنة عمان الشرقية عام	4	1975م ص 145
		2	1982م ص 160

يتبع الصفحة التالية

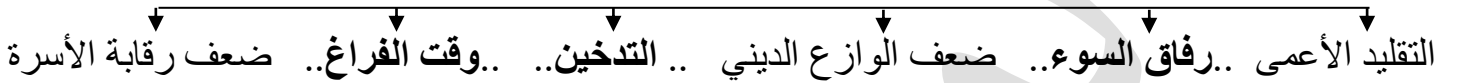
السؤال الثاني : يتكون من ( أ - ب - ج ) :

( أ ) أكمل الفراغ في المخططات السهمية التالية بما يناسبها :  $5 = 5 \times 1$

1- القارات التي بها دول العالم الإسلامية . ص 137



2- أسباب الإدمان على المخدرات في دول العالم الإسلامي . ص 126



( ب ) اختر الأكمال المناسب للعبارات التالية من بين الخيارات التي تلي كلا منها وضع تحتها خط :  $5 = 5 \times 1$

1- الغاز الأول المسؤول عن الاحتباس الحراري يسمى : ص 90

أ- ثاني أكسيد الكربون ب- الأكسجين ج- النيتروجين د- هيدروجين

2- تاريخ إخماد آخر بئر نفطي مشتعل في الكويت نتيجة الغزو العراقي الغاشم : ص 120

أ- 6 نوفمبر 1990م ب- 6 نوفمبر 1991م ج- 6 نوفمبر 1992م د- 6 نوفمبر 1993م

3- الحاكم الذي رفض ادعاءات عبدالكريم قاسم بأن الكويت تابعة لولاية البصرة عام 1961م : ص 103

أ - الشيخ جابر الاحمد ب- الشيخ صباح السالم ج- الشيخ عبدالله السالم د- الشيخ سالم المبارك

4- الصورة التالية تجدها على كثير من المنتجات البلاستيكية و تعبر عن : ص 91



أ- البيئة ب- التصحر ج- النفايات د- التدوير

5- نسبة المسلمين الذين يتكلمون اللغة العربية في العالم الإسلامي من : ص 157

أ- 20 - 25% ب- 20 - 30% ج- 20 - 35% د- 20 - 40%

يتبع الصفحة التالية



( ج ) أكتب المفاهيم والمصطلحات الدالة على العبارات التالية مستعينا بما بين القوسين :  $5=5 \times 1$

( مجمع الفقه الإسلامي - الميزان التجاري - التنمية المستدامة - العولمة - العقير - التصحر )

1- (التنمية المستدامة) : هي عبارة عن برامج تحسين نوعية الحياة ولا تتحقق إلا بمشاركة جميع

المواطنين من أجل تحسين نوعية الحياة وفق بيئة صحية آمنة ومستقرة

ومتقدمة . ص 93

2- (العقير) : هو مؤتمر تم به ترسيم الحدود البرية بين الكويت والعراق والسعودية عام 1922م . ص 106


3- (مجمع الفقه الإسلامي) : يسعى للقضاء على التطرف الفكري والتعصب الطائفي وتحقيق الوسطية

الدينية بين عامة المسلمين . ص 148

4- (العولمة) : هي نظام عالمي جديد يقوم على الإبداع العلمي والتطور التقني والتكنولوجي وثورة

الاتصالات بحيث تزول الحدود الثقافية بين الشعوب بالعالم ويصبح العالم كقرية واحدة . ص 99

5- (الميزان التجاري) : هو الفرق بين قيمة الصادرات وقيمة الواردات بالدولة . ص 100



السؤال الثالث : يتكون من ( أ - ب - ج ) :

( أ ) بعد دراسة خريطة الأقلية الإسلامية ( أراكان ) أجب عن الأسئلة التالية :  $5=5 \times 1$

1- أكتب أسم الدولة التي تقع بها الأقلية الإسلامية ( أراكان ) بالخريطة ؟

ص 113 ( درجة )

2- علل فرار أكثر من مليوني مسلم من منطقة ( أراكان ) والعيش

كلاجئين في الدول المجاورة ؟ ص 113 ( درجة )

- .... قيام السلطات الميانمارية في شن حملات قمعية ضد المجموعات المسلمة وصلت إلى حد الإبادة الجماعية والجرائم ضد الإنسانية ...

3- كيف تكونت الأقليات الإسلامية ؟ ص 112 ( درجة ) ( يكتمى بنقطة )

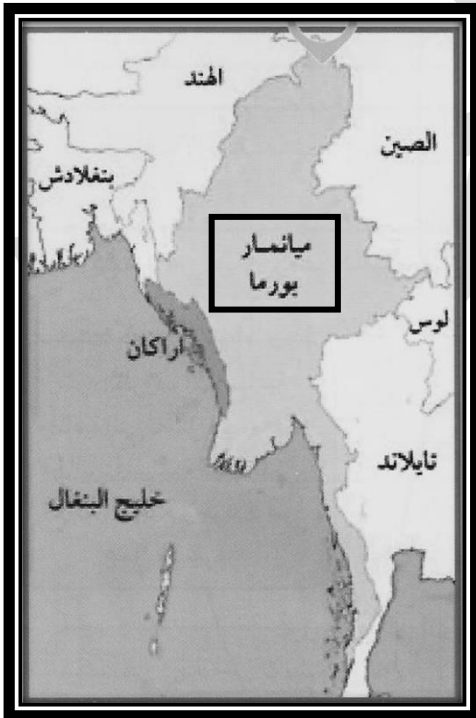
- .... اعتناق الإسلام في اي بقعة من بقاع الارض .....

- .... هجرة بعض المسلمين إلى أرض غير مسلمة بدوافع مختلفة .....

4- حدد التحديات الاجتماعية والثقافية التي تواجه دول العالم الإسلامي ؟

- .... مشكلة إدمان المخدرات ..... ص 125 ( درجتان )

- .... مشكلة الأمية ..... ص 128



يتبع الصفحة التالية



تابع / السؤال الثالث :-

$$5 = 5 \times 1$$

(ب) بعد قراءة الفقرة التالية أجب عما يليها :

((عانت بعض الدول الإسلامية من نزاعات سياسية وحروب مدمرة فيما بينها وبين دول أخرى لأسباب عديدة . انتهت بعضها باتفاقيات ومعاهدات أو دامت قضاياها عالقة إلى وقتنا الحالي . مثل اجتياح قوات النظام العراقي على دولة الكويت في يوم الخميس 2 أغسطس 1991م . القضية الفلسطينية عقب الحرب العالمية الأولى . ))

- 1- استخرج من الفقرة السابقة تاريخ اجتياح قوات النظام العراقي على دولة الكويت ؟  
- ..... يوم الخميس 2 أغسطس 1991م ..... ص104
- 2- ماذا يهدف قرار (181) الذي أصدرته الجمعية العامة للأمم المتحدة تجاه قضية فلسطين ؟  
- ..... يهدف إلى خطة لتقسيم فلسطين إلى قسمين عربي ويهودي في عام 1947م وجاء هذا القرار حين شهد تعداد اليهود ارتفاعاً كبيراً..... ص107
- 3- بماذا تتبأ (ريد آرير) أحد أكبر خبراء مكافحة حرائق النفط بالعالم عن الآبار المشتعلة بالكويت ؟  
- ..... بأن تمتد المدة المطلوبة لإخماد حرائق النفط بالكويت إلى خمس سنوات ..... ص120
- 4- ما مقترح الملك عبدالله بن عبدالعزيز في القمة العربية بالقاهرة عام 2000م تجاه قضية فلسطين ؟  
- ..... إنشاء صندوق يحمل اسم صندوق انتفاضة القدس وآخر صندوق الأقصى برؤوس أموال تخدم الشعب الفلسطيني ..... ص108
- 5- أكتب رسالة قصيرة عن تقديرك لشهداء العالم الاسلامي في حماية أوطانهم ؟

..... أي أجابة مناسبة يراها المصحح من المتعلم .....  
.....

(ج) قارن بين كلاً مما يلي حسب المطلوب في الجدول التالي :  $5 = 5 \times 1$

أوجه المقارنة	التلوث الضوضائي ص 87	تلوث التربة ص 88+89
أسبابه	- وسائل النقل السيارات بأنواعها - المختلفة والطائرات والقطارات وغيرها. - عمليات البناء والهدم وأصوات آلات الحفر . (يكتفى بنقطة)	- الإفراط باستخدام المبيدات الحشرية على المزروعات النباتية . - المخلفات الصناعية والكيميائية والبشرية (النفايات) . - الأمطار الحمضية . (يكتفى بنقطة)
نتائجه	- التوتر العصبي لدى الإنسان . - الضوضاء الشديدة تؤدي إلى ضرر خطير في الجهاز السمعي. (يكتفى بنقطة)	- الاخلال بالتوازن البيئي للتربة . - ضعف عمليات البناء الضوئي للنبات . - انحسار الغطاء النباتي . (يكتفى بنقطة)
دولة اسلامية يوجد بها النوعين من التلوث	- مصر .	

يتبع الصفحة التالية

**السؤال الرابع : يتكون من ( أ - ب - ج ) :**

**( أ ) بعد قراءة المقدمة أجب عن اسئلة (ميثم) في الحوار التالي مما درست :  $5=5 \times 1$**

وقف الحاج جاسم يوماً مع حفيده ميثم لمتابعة نشرة الأخبار وعند سماعهما لتلك النشرة أعلن المذيع عن انعقاد مؤتمر منظمة التعاون الإسلامي هنا تساءل ميثم ودار بينهما الحوار التالي :

ميثم : في أي عام تم إنشاء منظمة التعاون الإسلامي ؟

الحاج جاسم : أنشأت في عام 1969م . ص138

ميثم : ما سبب إنشاء منظمة التعاون الإسلامي ؟

الحاج جاسم : قيام المحتل الاسرائيلي بإحراق المسجد الأقصى في فلسطين في 21/8/1969م والذي

يعد أحد مقدسات المسلمين . ص138

ميثم : ما هي أهداف منظمة التعاون الإسلامي في الجانب الاقتصادي ؟

الحاج جاسم : تعزيز التعاون الاقتصادي بين الأعضاء . / بذل الجهود لتحقيق التنمية البشرية المستدامة

والشاملة . / تقديم الدعم المالي لدول الاعضاء . ص139 ( يكتفى بنقطة )

ميثم : ما هو ترتيب مؤتمر منظمة التعاون الإسلامي الذي إستضافته دولة الكويت ؟

الحاج جاسم : الخامس . ص143

ميثم : أين عقد مؤتمر القمة الثالث عشر لمنظمة التعاون الإسلامي يا جدي ؟

الحاج جاسم : ..... في مدينة إسطنبول التركية ..... ص144

**( ب ) شاهد الصورة التالية ثم اجب عن الاسئلة التي تليها :  $5=5 \times 1$**

1- لماذا تم تكريم دولة الكويت عام 2014م كما تمثله الصورة المقابلة ؟

- .. من أجل تطوير المجتمعات ودعم الشعوب ودورها الانساني.. ص161 (درجة)

2- من الحاكم المسلم الذي تم اختياره قائد للعمل الإنساني عام 2014م ؟

- ..... الشيخ صباح الأحمد الجابر الصباح ..... ص161 (درجة)

3- عدد أهم أهداف الصندوق الكويتي للتنمية ؟

- ..... تقديم القروض الميسرة للدول المحتاجة ..... ص159 (درجتان)

- ..... تقديم المنح على سبيل المثال المعونات الفنية .... ( يكتفى بنقطتين )

- ..... الإسهام في برامج التنمية .....

4- كم عدد المؤتمرات التي استضافتها الكويت للمانحين لدعم الوضع الإنساني في سوريا ؟

- ..... ثلاثة ..... ص160 (درجة)

يتبع الصفحة التالية

تابع/ السؤال الرابع :-

( ج ) لاحظ الجدول التالي ثم أجب عن الأسئلة التي تليه:  $5 = 5 \times 1$

**جدول الدول الأعلى بنسبة الفقر في العالم الإسلامي لعام 2015م**

الرقم	اسم الدولة	النسبة المئوية
1	أوغندا	23,8%
2	باكستان	76,5%
3	إندونيسيا	37,2%
4	بنغلاديش	77,5%
5	نيجيريا	69,2%

1- استخلص من الجدول الدولة الأعلى فقراً في العالم الإسلامي ؟ ص 97 (درجة)  
- ..... بنغلاديش.....

2- ماذا يقصد في البلدان النامية ؟ ص 100 (درجة)

- ..... هي الدول التي مازالت أقل تقدماً في ميادين الاقتصاد والعلم والتكنولوجيا.....

3- حدد أسباب الفقر في الدول الإسلامية ؟ ص 98 (درجتان)

- ..... عدم توفر فرص العمل.....

- ..... إنتشار البطالة ..... ( يكتفى بنقطتين )

- ..... ضعف اقتصاد الدولة .....

- ..... تضخم أسعار السلع والخدمات .....

- ..... قلة التبرعات والصدقات في المجتمع .....

4- أكتب من عندك حلول لعلاج مشكلة الانفجار السكاني في العالم الإسلامي ؟ (درجة)

- ..... أي إجابة مناسبة يراها المصحح من المتعلم .....

انتهت الاسئلة