

العام الدراسي ٢٠١٨ - ٢٠١٩  
الاسم : .....  
الصف : ١ / .....

ورقة عمل ( ٥ ) رياضيات  
للفترة الدراسية الثانية  
الصف الأول الابتدائي

وزارة التربية  
إدارة التعليم الخاص  
الأكاديمية العربية الحديثة

السؤال الأول: عد الوحدات والعشرات . اكتب رمز العدد

عشرات	آحاد

□




□	□
□	□

السؤال الثاني : أكمل سلسلة الأعداد



السؤال الثالث: اكتب رمز العدد ثم قارن بين العددين مستخدماً رمز العلاقة المناسبة

:( = , > , < )



□



□

السؤال الرابع: رتب الأعداد التالية تصاعدياً .

٣٣ ، ٧٥ ، ٥٦

--	--	--

العام الدراسي ٢٠١٨ - ٢٠١٩

الاسم : .....

الصف : ١ / .....

ورقة عمل ( ٦ ) رياضيات

للفترة الدراسية الثانية

الصف الأول الابتدائي

وزارة التربية

إدارة التعليم الخاص

الأكاديمية العربية الحديثة

(ب) ارسم عقرب الساعة لتحديد الوقت :




الساعة ٥ : ٠٠

(أ) اكتب الوقت :




:

(ب) ارسم عقرب الساعة لتحديد الوقت :



الساعة ٧ : ٠٠


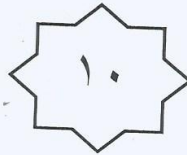
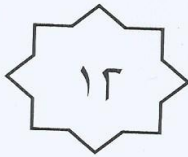
(أ) اكتب الوقت :



:

ظل الإجابة الصحيحة :

٢ ، ٤ ، ٦ ،



العام الدراسي ٢٠١٨ - ٢٠١٩  
الاسم : .....  
الصف : ١ / .....




ورقة عمل ( ٧ ) رياضيات  
للفترة الدراسية الثانية  
الصف الأول الابتدائي

وزارة التربية  
إدارة التعليم الخاص  
الأكاديمية العربية الحديثة

### السؤال الأول :


٥:٠٠

حوظ الساعة المناسبة للوقت الموضح.



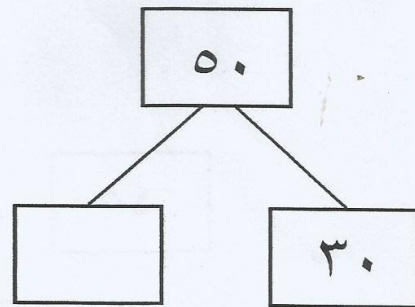
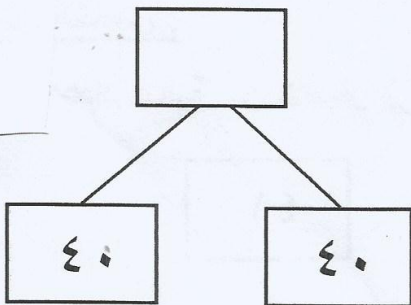
### السؤال الثاني :

أكمل :





### السؤال الثالث :

أكمل :

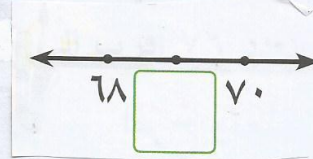




السؤال الرابع :

(أ) ضع  على الصورة الدالة على ضعف:



اكتب رمز العدد الذي يأتي بين العددين.



السؤال الخامس :

رتب الأعداد التالية من الأصغر إلى الأكبر:

٤٥

٤٠

٤١

--	--	--

العام الدراسي ٢٠١٨ - ٢٠١٩  
الاسم : .....  
الصف : ١ / .....

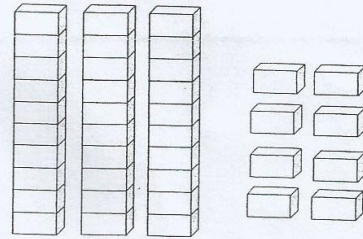
ورقة عمل ( ٨ ) رياضيات  
للفترة الدراسية الثانية  
الصف الأول الابتدائي

وزارة التربية  
إدارة التعليم الخاص  
الأكاديمية العربية الحديثة

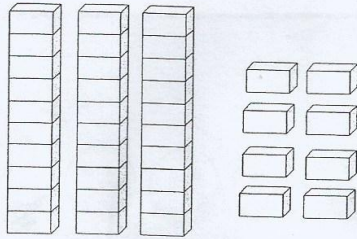
### السؤال الأول :

لون. اكتب رمز العدد

( أ ) ٥ وحدات و ٢ عشرات

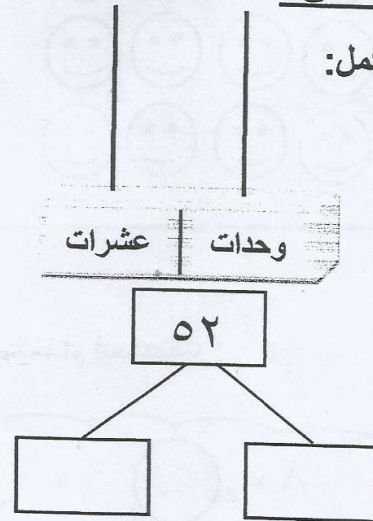
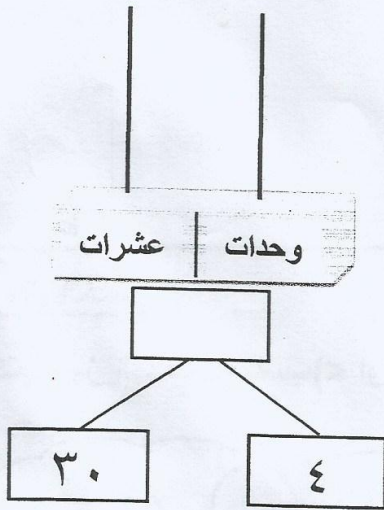


( ب ) ٣ عشرات



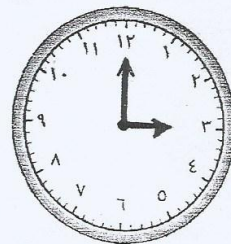
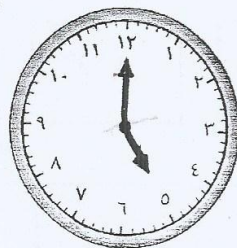

### السؤال الثاني :

مثل. أكمل :



٣:٠٠

حوط الساعة المناسبة للوقت الموضح.





أكمل النمط

١٠ ، — ، — ، ٤ ، ٢  
— ، ١٥ ، — ، ١٠ ، ٥

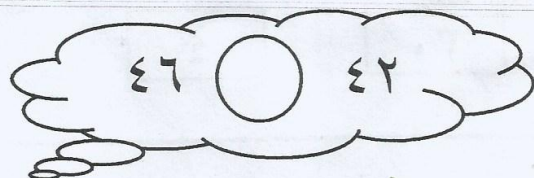
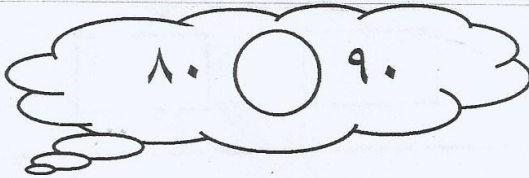
السؤال الرابع :

لون ضعف



السؤال الخامس :

أ) اكتب رمز العلاقة المناسب (< أو > أو =) بإمكانك استخدام المكعبات :



ب) رتب الأعداد التالية من الأصغر إلى الأكبر:

