



وزارة التربية

الإدارة العامة لمنطقة الجهاد التعليمية

اختبار نهاية الفصل الدراسي الثاني
٢٠١٩ / ٢٠١٨

السابع	الصف
الاجتماعيات	المادة

نموذج إجابته



وزارة التربية
كنترول منطقة الجهاد التعليمية



وزارة التربية
الإدارة العامة لمنطقة الجهاد التعليمية
مكتب المدير العام



وزارة التربية

الإدارة العامة لمنطقة الجهاد التعليمية

التوجيه الفني للاجتماعيات

امتحان نهاية الفترة الدراسية الثانية

للفيف السابع

الكويت والوطن العربي

العام الدراسي: ٢٠١٨/٢٠١٩

الزمن: ساعة ونصف

عدد الأوراق: (٦)

أجب عن جميع الأسئلة التالية :-

السؤال الأول: (موضوعي) يتكون من (أ - ب - ج - د - هـ - و) :- (لكل سؤال درجة)

أ) ضع خطأ تحت الخيار الصحيح من بين الخيارات التي تلي كل عبارة :-

١ - من الغلات الصناعية التجارية: ص ١١٣

(البين) - العنب - التمور - الشعير (-)

٢ - أولى الدول العربية في إنتاج الموز: ص ١١٤

(مصر) - الصومال - السودان - المغرب (-)

٣ - أكثر أنواع الثروة الحيوانية انتشاراً في منطقة الوطن العربي: ص ١١٨

(الأبقار) - الماعز - الأغنام - الإبل (-)

٤ - من المقومات البشرية للصناعة: ص ١٣٩

(البتروال) - الغاز الطبيعي - رؤوس الأموال - المحاصيل الزراعية (-)

٥ - تبلغ نسبة احتياطي النفط الخام في دول الوطن العربي: ص ١٢٧

(١٦.٥% - ٢٧.٥% - ٣٠% - ٥٥%)

ب) أكتب المفاهيم أو المصطلحات الدالة على العبارات التالية :-

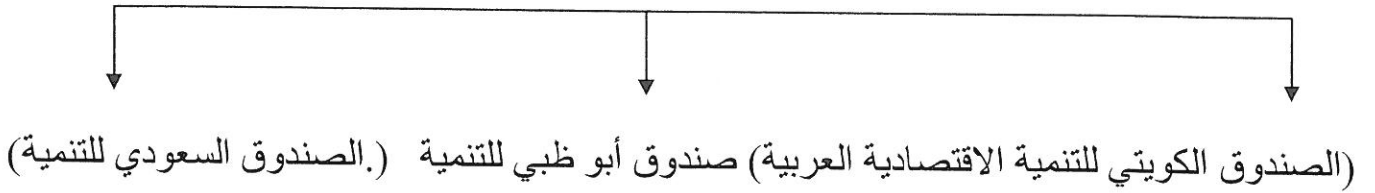
م	المفهوم	العبرة
١	إحصاء الحيوي	تسجيل المواليد والوفيات وحالات الزواج والطلاق ونحصل على بياناتها من واقع السجلات الرسمية للدولة . ص ٩٩
٢	طاقة	قوى محركة للآلات وعنصر مهم للتقدم والتطور الاقتصادي في جميع المجالات . ص ١٢٥
٣	تبادل التجاري	عمليات التصدير والاستيراد بين الدول . ص ١٥١
٤	تصحّر	زحف رمال الصحراء على المناطق الجافة وشبه الجافة . ص ١٦٢
٥	تنمية المستدامة	برامج تحسين نوعية الحياة ولا تتحقق إلا بمشاركة جميع المواطنين . ص ١٧٥

ج) أكمل العبارات التالية بما يناسبها فيما درست :-

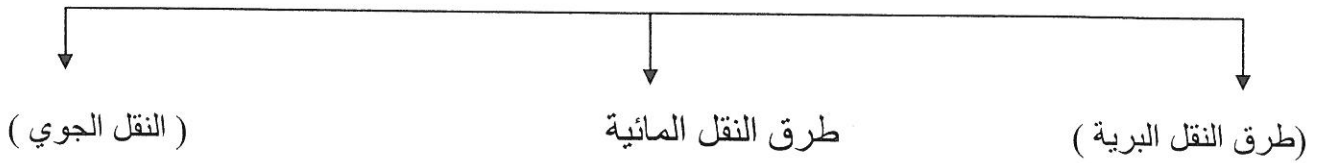
- ١ - الدولة العربية الأكثر سكانا حسب إحصائية عام ٢٠١٤ م تسمىمصر.....ص ١٠٠
- ٢ - تبلغ نسبة المساحة المزروعة في الوطن العربي٥٦..... % ص ١١٦
- ٣ - الدولة العربية الأولى في إنتاج الإبل تسمىالصومال..... ص ١١٨
- ٤ - تبلغ نسبة إنتاج الغاز الطبيعي في دول الوطن العربي١٦.٥.....% ص ١٢٧
- ٥ - الدولة العربية التي عقد فيها أكبر وأهم مؤتمر للقمة العربية عام ٢٠٠٩ م تسمى ...الكويت... ص ١٨٦

د) أكمل المخطط السهمي التالي :-


١ - أهم الصناديق الوطنية (على مستوى الدول العربية) ص ١٧٩



٢ - أنواع طرق النقل ص ١٤٨ - ١٥٠



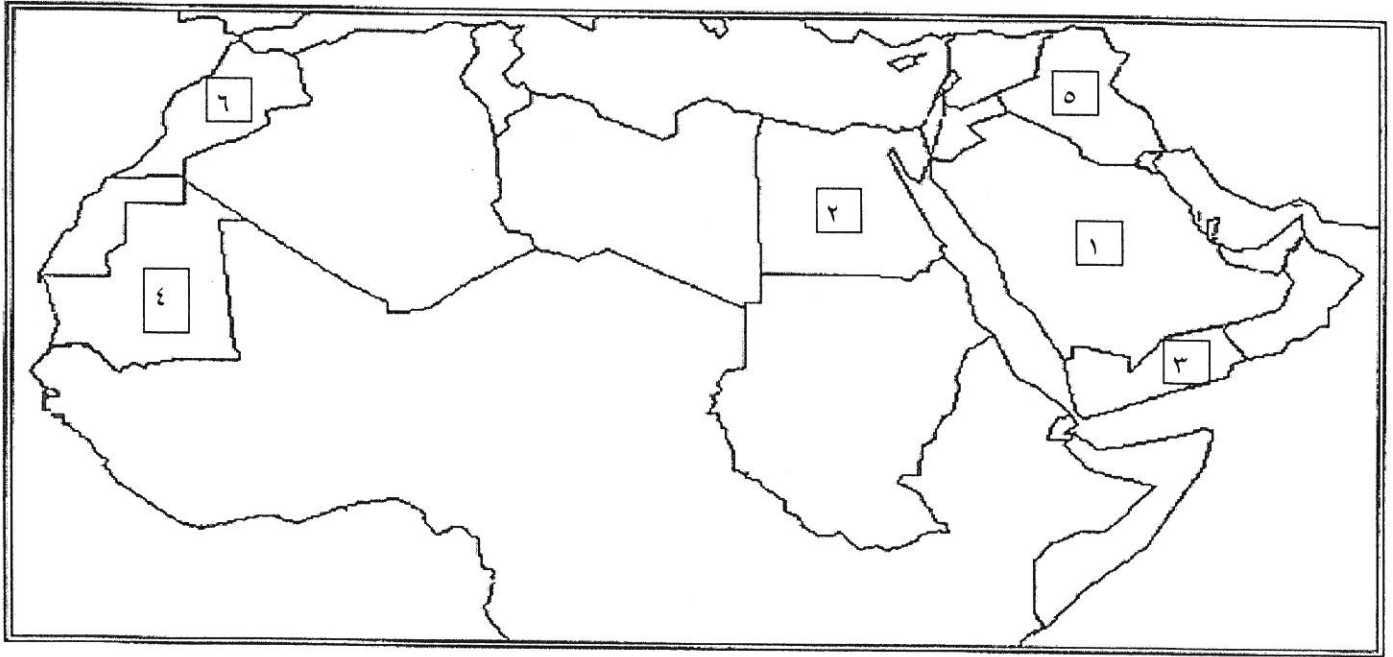
٣ - أسباب التصحر



هـ) صوب ما تحته خط في العبارات التالية :-

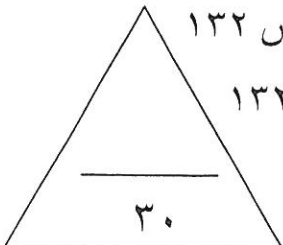
التصويب	العبرة
الحبوب الغذائية	١ - يعتبر القمح والأرز والذرة من <u>الغلات الصناعية التجارية</u> . ص ١١٣
السودان	٢ - أولى الدول العربية في نسبة إنتاج الأبقار <u>مصر</u> . ص ١١٨
متجددة	٣ - تعد الرياح والشمس من مصادر الطاقة <u>الغير المتجددة</u> . ص ١٧١
١٩٨١م	٤ - أعلن قيام مجلس التعاون الخليجي في ٢٥ مايو عام <u>١٩٨٨</u> م . ص ١٨١
الكويت	٥ - عقد المؤتمر الدولي للمحتاجين لدعم الوضع الإنساني في سوريا في <u>سلطنة عمان</u> . ص ١٨٨

و) أمامك خريطة صماء للوطن العربي نفذ المطلوب عليها :-



حدد على خريطة الوطن العربي الصماء ما يلي :-

- الدولة العربية الأولى في إنتاج البن يمثلها على الخريطة الرقم٣..... ص ١١٤
- الدولة العربية الأولى في إنتاج التمور يمثلها على الخريطة الرقم١..... ص ١١٤
- الدولة العربية الأولى في إنتاج الأسماك يمثلها على الخريطة الرقم.....٢.....ص ١٢٣
- الدولة العربية الأولى في إنتاج معدن الحديد يمثلها على الخريطة الرقم.....٤.....ص ١٣٢
- الدولة العربية الأولى في إنتاج معدن الفوسفات يمثلها على الخريطة الرقم.....٦.....ص ١٣٢



السؤال الثاني: (مقال) يتكون من (أ - ب - ج) :-

أ) اقرأ الفقرة التالية ثم أجب عن الأسئلة التي تليها: - (لكل سؤال درجة) ص ١٦٦ / ص ١٦٧

" التلوث البيئي من أهم وأخطر المشاكل التي تواجه شعوب العالم اليوم ، حيث عقد أكبر مؤتمر للأمم المتحدة في مدينة ريودي جانيرو بالبرازيل عام ١٩٩٢ م ، ويصيب التلوث عناصر البيئة من عدة مصادر للملوثات منها صناعية وزراعية ومنزلية "

١ - عرف ما تحته خط . ص ١٦٦

التلوث : هو الضر الذي يلحق بالتربة والهواء والماء ويصيب التلوث عناصر البيئة من عدة مصادر للملوثات .

٢ - استخرج من القطعة ما يلي :-

أ - المدينة التي عقد فيها أكبر مؤتمر للأمم المتحدة لمواجهة مشكلة التلوث . ص ١٦٧
ريودي جانيرو

ب - مصادر الملوثات . (يكتفى بعاملين) ص ١٦٦

- صناعية .
- زراعية .
- منزلية .
وكذلك الملوثات الصادرة عن البقايا الصلبة وتراكم النفايات والمواد البلاستيكية .

ب) عدد أهداف كل من :- (درجتين لكل سؤال)

١ - الصناعات البتروكيميائية . (يكتفى بنقطتين) ص ١٤٥

- تنويع مصادر الدخل للدولة المنتجة .
- توفير المواد الأولية للصناعات التحويلية لتأمين حاجات القطاعات الاستهلاكية (خاصة مجال البناء) .
- تطوير الصناعات البتروكيميائية إلي تقنيات متخصصة وعالية .

٢ - التنمية الاقتصادية . ص ١٧٤

- استخدام العلم في زيادة الإنتاج .
- تحقيق التكامل بين الدول العربية في الإمكانيات والحاجات .

ج) عرف المفاهيم التالية :- (درجة لكل سؤال)

١ - تنمية . ص ١٧٢

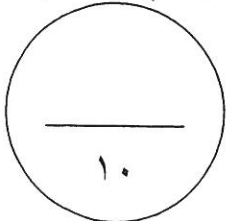
التطور والتطوير وهي عملية تتطلب التخطيط والمشاركة من الجميع .

٢ - صناعات تجميعية . ص ١٤٣

عملية تركيب وجمع المواد المصنعة على اختلاف مصادرها كي نحصل على سلع متنوعة .

٣ - نمو سكاني . ص ١٠٦

تزايد عدد السكان من عام لآخر نتيجة للزيادة الطبيعية للسكان (معدل المواليد - معدل الوفيات) والهجرة .



السؤال الثالث (مقال) يتكون من (أ - ب - ج) :-

أ) فرق بين كل من :-

موارد بشرية (درجة) ص ١٠٩	موارد طبيعية (درجة) ص ١٠٩
هي التي ترتبط بالسكان من حيث أعدادهم وتوزيعهم ومناسبة أعدادهم لمساحة الأرض التي يستغلونها .	الثروات التي منحها الله لإقليم من دون أن يكون للإنسان أي دور في وجودها . مثل : الثروات المعدنية والغابات والمراعي والموارد المائية وموقع الإقليم .
غاز طبيعي (درجة) ص ١٢٥	نفط (درجة) ص ١٢٥
غاز مصاحب للنفط الخام أو يوجد منفردا تتم إيسالته لاستخدامات عديدة .	بقايا عضوية على هيئة نباتات وحيوانات دقيقة ترسبت في عصور قيمة وانطمرت وتحولت بالضغط والحرارة إلى صورتها الحالية .

ب) عدد المشكلات التي تواجه كل من :- (لكل سؤال درجتين)

١ - التنمية البشرية . (يكتفى بنقطتين) ص ١٧٥

- ضعف الاستفادة من القدرات البشرية في المنطقة العربية .
- مشكلة الأمية .
- نقص ومحدودية مشاركة المرأة في المنظمات السياسية .
- الاختلاف الكبير في مستويات المعيشة بين دولة وأخرى وفي داخل الدولة الواحدة .

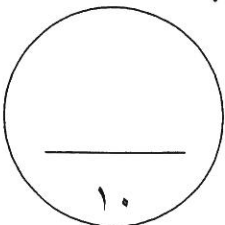
٢ - الزراعة . (يكتفى بنقطتين) ص ١٦١

- عدم استغلال الأراضي القابلة للزراعة لندرة مياه الري أو تذبذب الأمطار أو قلة الأيدي العاملة .
- اتباع طرق الزراعة التقليدية في معظم أجزاء الوطن العربي .
- زحف الرمال (التصحر) وانجراف التربة .
- تلوث التربة نتيجة للإسراف في استخدام المبيدات الحشرية وارتفاع نسبة الملوحة بالتربة .
- الرعي الجائر .

ج) علل لما يلي :- (درجة لكل سؤال)

- ١ - تختلف أنواع منتجات الإنتاج الزراعي من دولة عربية لأخرى . ص ١١٠
- بسبب اختلاف المناخ والتربة ومدى توفر المياه في هذه الدول .

- ٢ - يتمتع النفط بمكانة مهمة على المستوى العالمي . ص ١٣١
- نظرا لأهميته للدول الصناعية المتقدمة في أوربا واليابان والولايات المتحدة الأمريكية .



السؤال الرابع (مقال) يتكون من (أ - ب - ج) :-
(أ) قارن بين كل من :- (٣ درجات) ص ١٣٤ / ١٣٥

أوجه المقارنة	أوبك	أوابك
التعريف	منظمة الدول المصدرة للنفط	منظمة الأقطار العربية المصدرة للنفط
سنة التأسيس	١٩٦٠ م	١٩٦٨ م
المقر	فيينا	الكويت

ب (أذكر ما يلي :-

١ - أسباب تدني وفرة المياه في الوطن العربي . (يكتفى بنقطتين) ص ١٦٤ (درجتين)
- النمو السريع للسكان الذي يشكل ضغطا متزايدا على المياه المتوفرة لكل فرد .
- ٥٠% من الموارد المائية في العالم العربي تأتي من خارج حدوده وتتحكم فيها دول المنبع في غياب التشريعات دولية تضمن حقوقنا .
- الطرق التقليدية المستخدمة في استغلال المياه في معظم مناطق العالم مسؤولة عن تدني نسبة المياه (استخدام الري بالغمر والاستهلاك غير المسؤول في مجالات المياه)
- الشبكات المؤهلة لنقل المياه شبكات قديمة .
- افتقار الدول العربية إلي برامج لإدارة المياه كما أنها لا تستخدم الأدوات الاقتصادية اللازمة لترشيد الاستخدام المتزايد من المياه .

٢ - أهداف القمة الاقتصادية للتنمية العربية . (يكتفى بنقطتين) ص ١٨٦ (درجتين)

- إنشاء بنك عربي لتمويل شتى المشاريع التنموية للتقليل من معدلات الفقر .
- القضاء على البطالة والفقر بتوفير فرص العمل .
- الاستثمار الاقتصادي بين الدول العربية وتقوية التبادل التجاري .
- الاعتناء بالعنصر البشري والتنمية المستدامة .

٣ - المناطق الرئيسية التي يتركز فيها معظم الحقول النفطية في الوطن العربي . (يكتفى بنقطتين)
ص ١٢٦ (درجة)

- منطقة دول الخليج وسهول دجلة والفرات ويوازي إنتاجها ٨٠% .
- منطقة الصحراء البرى ويوازي إنتاجها ١٨% .
- منطقة خليج السويس ويوازي إنتاجها ٤,٧% .

ج (نفذ ما بين القوسين :- (لكل سؤال درجة)

١ - الزيادة السكانية . (انواعها) . ص ١٠٦

- زيادة طبيعية .
- زيادة غير طبيعية .

٢ - تنوع الثروة المائية في الوطن العربي . (علل) . ص ١٢٢

دول الوطن العربي دول بحرية لها سواحل ومسطحات مائية واسعة منها المالحة ومنها العذبة .
تم التحميل من :

" انتهت الإجابة "

