

منطقة حولي التعليمية

اختبار نهاية الفترة الدراسية الثانية

العام الدراسي 2019/2018م

الصف الثامن

نموذج إجابة اختبار مادة

الاجتماعيات

الاختبار الأساسي



نموذج إجابة

وزارة التربية
الإدارة العامة لمنطقة حولي التعليمية
التوجيه الفني للاجتماعيات
المادة : دولة الكويت والعالم الإسلامي
الصف الثامن المتوسط
العام الدراسي : ٢٠١٨ / ٢٠١٩ م
الزمن : ساعة وخمس وأربعون دقيقة
عدد الصفحات : 6

السؤال الأول : و يتكون من (أ - ب - ج)

أ- اختر البديل المناسب من بين البدائل التي تلي كل عبارة في ما يأتي :

١- قامت القوات العراقية بالهجوم على مركز الصامتا الحدودي عام :ص ١٠٣

أ- ١٩٧٣م ج- ١٩٧٥م

ب- ١٩٧٤م د- ١٩٧٦م

٢- منطقة أركان ذات الأقلية الإسلامية توجد في دولة: ص ١١٣

أ- تايلاند ج- الهند

ب- بورما د- الصين

٣- عقد المؤتمر الإسلامي الأول في مدينة : ص ٤٢

أ- مكة ج- القاهرة

ب- الكويت د- الرباط

٤- الزيادة الكبيرة في أعداد السكان تعبير يطلق على : ص ٩٥

أ- التطور السكاني ج- الكثافة السكانية

ب- الانفجار السكاني د- التضخم السكاني

٥- عانت موريتانيا من شدة التلوث المائي نتيجة : ص ٨٥

أ- تسرب كميات كبيرة من بقع الزيت ج- انتشار الأوبئة

ب- إحراق آبار النفط د- الضوضاء

ب- أكتب بين القوسين الاسم أو المصطلح الذي يدل على كل عبارة في ما يأتي :

١- (الأقليات الإسلامية)	مجموعة من المسلمين تعيش تحت سلطة دولة غير إسلامية في وسط أغلبية غير مسلمة . ص ١١٢
٢- (خط الفقر)	أدنى مستوى من الدخل يحتاجه المرء أو الأسرة حتى يكون بالإمكان توفير مستوى ملائم في بلد ما . ص ٩٧
٣- (النفايات)	أي موارد زائدة وغير مرغوبة من مخلفات البيئة أو الفضلات. ص ٩١
٤- (القمة الإسلامية)	مؤتمر ملوك ورؤساء الدول و الحكومات ويعقد مرة كل ثلاث سنوات. ١٤١
٥- (ريد آرير)	أحد أكبر خبراء مكافحة حرائق النفط في العالم الذي تنبأ بأن فترة إخماد حرائق النفط في دولة الكويت تمتد إلى خمس سنوات. ص ١٢٠

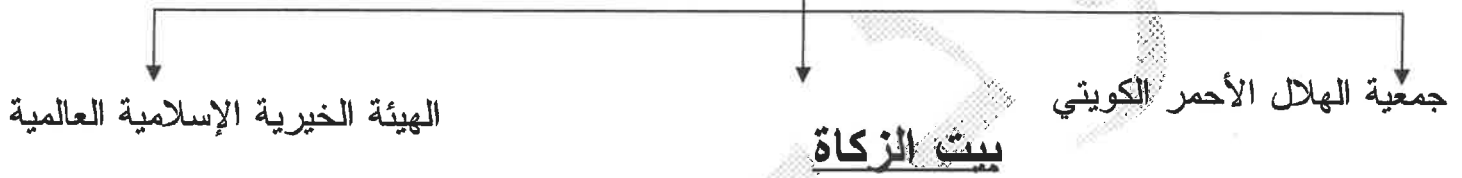
ج- صحح ما تحته خط في كل عبارة مما يلي: ص ١٢٠-١٠٦-٨٣-١٠٧-١٤٧

١-	عدد الآبار المشتعلة نتيجة الغزو العراقي على دولة الكويت هو ٦٠٠ بئر.	(٧٣٧)
٢-	أول ترسيم للحدود بين دولة الكويت و العراق- الدولة العثمانية آنذاك عام ١٩٢٠م.	(١٩١٣)
٣-	بلغت نسبة التلوث الهوائي في الهند ٤٠% بسبب عوادم السيارات.	(باكستان)
٤-	بدأت القضية الفلسطينية بعد الحرب العالمية الثانية.	(الأولى)
٥-	يطلق على وكالة الأنباء الإسلامية الدولية تعبير (إيسيسكو) .	(إينا)

السؤال الثاني : ويتكون من (أ - ب - ج)

أ- أكمل المخططات السهمية التالية :

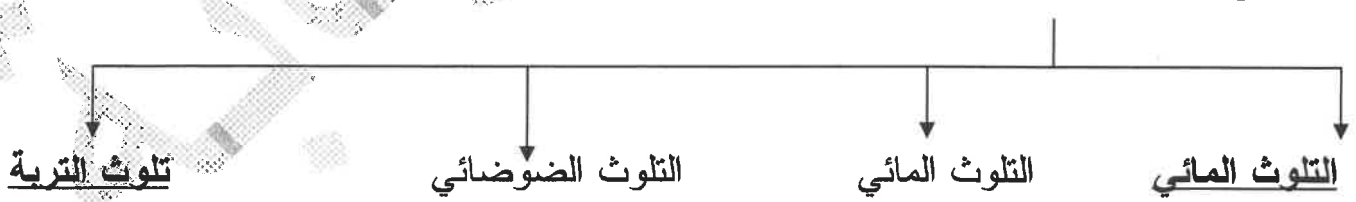
١- الجمعيات والهيئات الخيرية في دولة الكويت :ص ١٦٠



٢- أجهزة منظمة التعاون الإسلامي : ص ١٤١



٣- أنواع التلوث البيئي: ص ٨٣



تابع / امتحان نهاية الفترة الدراسية الثانية- الاجتماعيات - ٢٠١٨/٢٠١٩ م الصف الثامن المتوسط

تابع السؤال الثاني /

ب- صنف كلاً مما يأتي حسب مكانه المناسب في الجدول التالي:

- ١- دعم الجوانب المختلفة من احتياجات الدول الإسلامية كافة. ص ١٤٦
- ٢- تغطية الشعائر الدينية. ص ١٤٧
- ٣- دعم المؤسسات العلمية. ص ١٤٧
- ٤- التواصل بين الشعوب كافة. ص ١٤٧
- ٥- محاربة الأمية. ص ١٤٧

المنظمة الإسلامية للتربية والعلوم والثقافة	البنك الإسلامي للتنمية	وكالة الأنباء الإسلامية الدولية
٥- محاربة الأمية.	١- دعم الجوانب المختلفة من احتياجات الدول الإسلامية كافة.	٤- التواصل بين الشعوب كافة.
٣- دعم المؤسسات العلمية.	٢- تغطية الشعائر الدينية.	

ج- أختَر للمجموعة (أ) ما يناسبها من المجموعة (ب) بوضع الرقم المناسب :

المجموعة (أ)	الرقم	المجموعة (ب)
١- دعا إلى عقد القمة الإسلامية في دولة الكويت.	(٤)	الشيخ صباح الأحمد الصباح
٢- وقع اتفاقية الحماية البريطانية عام ١٨٩٩م.	(٥)	الملك عبد الله بن عبد العزيز
٣- دعا إلى إنشاء تجمع يضم الدول الإسلامية في مؤتمر القمة الثالث عام ١٩٦٥م.	(١)	الشيخ جابر الأحمد الصباح
٤- قائد العمل الإنساني.	(٢)	الشيخ مبارك الصباح
٥- اقترح إنشاء صندوق القدس .	(٣)	الملك سعود بن عبد العزيز
	(.....)	الشيخ سعد العبد الله السالم

السؤال الثالث : ويتكون من (أ - ب - ج) لكل نقطة درجة المجموع ١٥ درجة

أ- عرف المفاهيم التالية :

- ١- الحدود : خطوط حددت بواسطة الإنسان ورسمت حتى تفصل بين سيادة دولة و أخرى .ص ١٠٢
 - ٢- التصحر :انجراف التربة على المدن و المناطق الزراعية. ص ٨٨
 - ٣- العولمة : نظام عالمي يقوم على الإبداع العلمي و التطور التقني و التكنولوجي و ثورة الاتصالات بحيث تزول الحدود الثقافية بين الشعوب بالعالم ويصبح العالم كقرية صغيرة. ص ٩٩
- ب- علل لما يأتي :

- ١-مشكلة إدمان المخدرات . ص ١٢٦
 - ضعف الوازع الديني و انحدار القيم الأخلاقية .
 - ضعف الرقابة من الأسرة على الفرد .
 - رفقاء السوء .
 - التقليد الأعمى و استيراد قيم جديدة .
 - انتشار التدخين بين في المدارس .
 - قضاء أوقات الفراغ في أمور تافهة لا تعود على الشباب بالنفع .
 - ٢- أسباب الفقر في الدول الإسلامية. ص ٩٨
 - عدم توفر فرص العمل . - ضعف اقتصاد الدولة . - انتشار البطالة .
 - تضخم أسعار السلع و الخدمات . - قلة التبرعات والصدقات في المجتمع .
- ج- أجب عن كلاً مما يأتي:

- ١- عدد تلوث البيئة. ص ٨٨
- الإخلال بالتوازن البيئي للتربة.
- ضعف عمليات البناء الضوئي للنبات .
- انحسار الغطاء النباتي.

٢- لاحظ الشعر المقابل ثم أجب عن ما يلي :

- ماذا يمثل الشعر المقابل ؟

الصندوق الكويتي للتنمية الاقتصادية العربية.ص ١٥٩

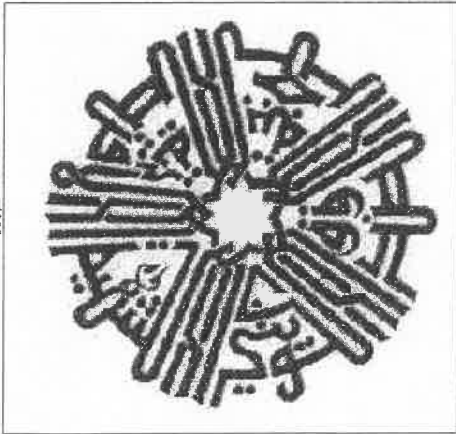
- أذكر هدفاً واحداً من أهدافه ؟

- تقديم القروض الميسرة للدول المحتاجة.

- تقديم المنح المعونات الفنية. -الإسهام في برامج التنمية.

- أذكر مجالاً واحداً من مجالات عمله ؟

-المساعدات الزراعية/ الصناعية/ الصحية/ التعليمية .



تابع / امتحان نهاية الفترة الدراسية الثانية- الاجتماعيات - ٢٠١٨/٢٠١٩م الصف الثامن المتوسط

السؤال الرابع : ويتكون (أ- ب- ج) لكل نقطة درجة واحدة فقط المجموع ١٥ درجة
أقارن بين كل مما يلي حسب معايير المقارنة الموضحة بالجدول :

معايير المقارنة	البلدان النامية	البلدان المتقدمة
مفهوم الأمية	- الإنسان الذي بلغ الثانية عشر من عمره و لم يتعلم مبادئ القراءة و الكتابة والحساب .	- الشخص الذي لم يصل إلى مستوى تعليمي الذي يجعله يفهم التعليمات الكتابية في الموضوعات التقنية في عمله. ص ١٢٨
معايير المقارنة	التلوث المائي ص ٨٤	التلوث الضوضائي ص ٨٧
آثار ونتائج	- هلاك الكائنات البحرية والحيوانية والنباتية - فقدان السواحل لقيمتها الاقتصادية والسياحية . - التأثير على صحة الإنسان لاعتماده على الغذاء البحري الذي يعتبر من أهم مصادر الغذاء الغنية بالمعادن و القيمة الغذائية.	- الضوضاء الشديدة تؤدي إلى ضرر في الجهاز السمعي . - التوتر العصبي لدى الإنسان .

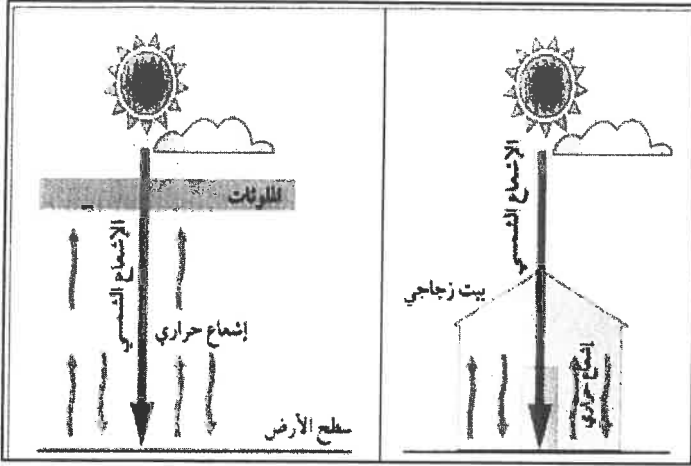
ب- أذكر كلاً مما يأتي:

- ١- قرارات المؤتمر الإسلامي الخامس . ص ١٤٣ .
- دعم القضية الفلسطينية .
- الحرص التام على استقلال لبنان ووحدة أراضيه ورفض الاحتلال الإسرائيلي للجزء الجنوبي منه .
- ضرورة الوقوف الفوري لكل عمليات الحربية بين الجمهورية العراقية وجمهورية إيران .
- الموافقة على مشروع النظام الأساسي لمحكمة العدل الإسلامية الدولية .
- ٢- الجهات الحكومية التي تشرف على المساعدات الخارجية . ص ١٥٩ .
- وزارة المالية . - الهيئة الخيرة الإسلامية العالمية ١٩٨٤م .
- الصندوق الكويتي ١٩٦١م . - بيت الزكاة ١٩٨٢م .
- جمعية الهلال الأحمر ١٩٦٦م .

تابع / امتحان نهاية الفترة الدراسية الثانية- الاجتماعيات - ٢٠١٨/٢٠١٩م الصف الثامن المتوسط

السؤال الرابع : ويتكون (أ- ب- ج) لكل نقطة درجة واحدة فقط المجموع ١٥ درجة
تابع /

ج- أنظر إلى الشكل المقابل ثم أجب عن الأسئلة التي تليه : ص ٩٠



١- ما أسم الظاهرة في الشكل المقابل ؟
- الاحتباس الحراري.

٢- ما أسباب هذه الظاهرة ؟
- الزيادة المستمرة لغاز ثاني اكسيد الكربون في الهواء.

٣- ما هي النتائج المتوقعة منها ؟
- احتباس الحرارة في طبقة الغلاف الجوي القريبة القريبه من سطح الأرض .