

فريق الاعداد:

الوحدة الثالثة : تغريد العنزي / عهد النمشان

الوحدة الرابعة والخامسة : مرام المعصب

مراجعة وتدقيق:

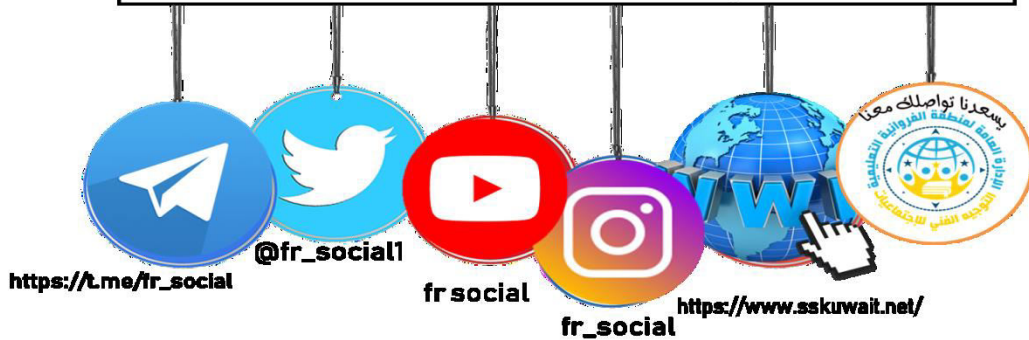
رئيسة قسم الاجتماعيات في مدرسة رقية بنت محمد : جليله الدغيم

رئيسة قسم الاجتماعيات في مدرسة عمرة الانصارية : فاطمة الصفران

اشراف عام : الموجه الفني : حمد ابراهيم البحوه

تصميم وتنسيق : جليله الدغيم

مكتب التوجيه الفني للاجتماعيات منطقة الفروانية التعليمية



الوحدة الثالثة



العالم الإسلامي تحديات وحلول

الوحدة الثالثة

أولاً	المشكلات البيئية في دول العالم الإسلامي
1- التلوث البيئي:	أ- تلوث هوائي . ب- تلوث مائي . ج- تلوث لوسمائي . د- تلوث تربة .
2- تحديات بيئية أخرى:	أ- الاحتراس الحرجري . ب- الضباب .
3- العالم الإسلامي في مواجهة التحديات البيئية .	
ثانياً	التحديات الاقتصادية التي تواجه دول العالم الإسلامي
1- الاتجار السكاني . 2- الفقر . 3- العمالة الاقتصادية . 4- التكامل الاقتصادي .	
ثالثاً	التحديات السياسية التي تواجه دول العالم الإسلامي
1- مشكلة الحدود السياسية .	
2- مشكلة الأقليات الإسلامية .	
3- مشكلة الحروب والتمرد (تأرجح من دول العالم الإسلامي) .	
رابعاً	المشكلات الاجتماعية والثقافية التي تواجه دول العالم الإسلامي
1- مشكلة إيمان الخدعات .	
2- مشكلة الأئمة .	
الخاتمة	

الأسئلة الموضوعية

الوحدة الثالثة

١. أكمل العبارات التالية بما يناسبها فيما درست :

١. الثورة التي ظهر معها الخطر البيئي تسمى الثورة الصناعية ص ٨١
٢. ترجع مصادر التلوث البيئي إما مصدر طبيعي أو مصدر بشري. ص ٨١
٣. العام الذي أنشأت فيه دولة الكويت شرطة البيئة ٢٠١٥ م ص ٨٢
٤. نسبة التلوث الهوائي في باكستان بسبب عوادم السيارات بلغت ٤٠% ص ٨٢
٥. تعرضت دولة الكويت لتلوث بيئي خطير في عام ١٩٩٠ م ص ٨٥
٦. حدثت ظاهرة نفوق الاسماك بدولة الكويت نتيجة ضخ مياه المجاري في جون الكويت في عام ٢٠٠١ م ص ٨٥
٧. عانت موريتانيا من تلوث مائي شديد في عام ٢٠١٧ م ص ٨٥
٨. إحدى ملوثات البيئة عرفت أنها الإزعاج أو الضجيج وتسمى بالتلوث الضوضائي ص ٨٧
٩. العاصمة العربية الاسلامية التي تعتبر نموذج للتلوث الضوضائي تسمى القاهرة ص ٨٧
١٠. من عناصر البيئة الطبيعية وتعد المصدر الرئيسي لإنتاج الغذاء تسمى التربة ص ٨٨
١١. انجراف التربة على المدن والمناطق الزراعية يسمى التصحر ص ٨٨
١٢. عقد مؤتمر الأمم المتحدة للتصحر في عام ١٩٧٧ م ص ٨٩
١٣. الدولة الخليجية التي لا تعاني من مشكلة التصحر تسمى عمان ص ٨٩
١٤. تصل نسبة التصحر في كل من مصر وجيبوتي ودول الخليج العربية ما عدا سلطنة عمان الى ٩٠% ص ٨٩
١٥. ارتفاع درجات حرارة الأرض عن معدلها الطبيعي يسمى الاحتباس الحراري ص ٩٠
١٦. الغاز المسبب لظاهرة الاحتباس الحراري يسمى ثاني أكسيد الكربون ص ٩٠
١٧. الاعصار الذي ضرب سواحل سلطنة عمان والإمارات وايران يسمى جونو (غونو) ص ٩٠
١٨. حدث اعصار جونو (غونو) نتيجة لظاهرة الاحتباس الحراري في عام ٢٠٠٧ ص ٩٠
١٩. أي مواد زائدة وغير مرغوبة من مخلفات البيئة أو الفضلات تسمى النفايات ص ٩١
٢٠. إعادة استخدام المخلفات لإنتاج منتجات أخرى أقل جودة من المنتج الأصلي يسمى تدوير ص ٩١
٢١. تحسين نوعية الحياة وفق بيئة صحية آمنة ومستقرة ومتقدمة يسمى التنمية المستدامة ص ٩٣
٢٢. يبلغ عدد سكان دولة الكويت حوالي ٤,٥٣٢,٠٤٨ ص ٩٥
٢٣. أعلى نسبة فقر في دول العالم الاسلامي لعام ٢٠١٥ دولة تسمى بنغلادش ص ٩٧
٢٤. تبلغ نسبة الفقر في دولة بنغلادش حوالي ٧٧.٥% ص ٩٧
٢٥. نسبة السكان الذين يعيشون تحت مستوى خط الفقر في العالم الاسلامي يبلغ ٣٧% ص ٩٧
٢٦. تنقسم الحدود السياسية بين الدول الى حدود بحرية وحدود برية ص ١٠٢
٢٧. عقد مؤتمر العقير في عام ١٩٢٢ م ص ١٠٣
٢٨. الحاكم العراقي الذي ادعى أن الكويت تابعة لولاية البصرة يسمى عبد الكريم قاسم ص ١٠٣
٢٩. هاجمت القوات العراقية مركز الصامته الكويتي في عام ١٩٧٣ م ص ١٠٣
٣٠. اجتاحت قوات النظام العراقي على دولة الكويت في تاريخ ٢ أغسطس ١٩٩٠ م ص ١٠٤
٣١. انسحاب القوات العراقية بالقوة العسكرية من أراضي دولة الكويت في تاريخ ٢٣ فبراير ١٩٩١ م ص ١٠٤

٣٢. اصدرت الامم المتحدة عام ١٩٩١ م عن طريق مجلس الأمن قرار رقم ٦٧٨
ص ١٠٤
٣٣. قرار ٦٧٨ يهدف لترسيم الحدود بين دولتين الكويت والعراق
ص ١٠٤
٣٤. اصدر مجلس الأمن قرار ٨٣٣ لترسيم الحدود بين الكويت والعراق عام ١٩٩٣م
ص ١٠٤
٣٥. تم توقيع اتفاقية الحماية بين الشيخ مبارك الصباح والحكومة البريطانية عام ١٨٩٩م
ص ١٠٦
٣٦. الشيخ الذي وقع على اتفاقية الحماية عام ١٨٩٩ مع بريطانيا يسمى مبارك الصباح
ص ١٠٦
٣٧. أول ترسيم للحدود بين الكويت والعراق في عام ١٩١٣م
ص ١٠٦
٣٨. اعترفت العراق بترسيم الحدود بينها وبين الكويت بقرار ٨٣٣ عام ١٩٩٤م
ص ١٠٦
٣٩. بدأت القضية الفلسطينية عقب الحرب العالمية الأولى
ص ١٠٧
٤٠. توسع المحتل الصهيوني الإسرائيلي في أراضي فلسطين بعد حرب ١٩٤٨م
ص ١٠٧
٤١. احتل المعتدي الصهيوني من الأراضي الفلسطينية بعد حرب ١٩٤٨ م حوالي ٨٠٪
ص ١٠٧
٤٢. تشرد سبعمائة وخمسين ألفاً من الفلسطينيين ما بين نازح، ومهاجر في حرب ١٩٤٨ م.
ص ١٠٧
٤٣. اصدرت الجمعية العامة للأمم المتحدة قرارها رقم ١٨١ عام ١٩٤٧ م لتقسيم فلسطين إلى قسمين عربي ويهودي
ص ١٠٧
٤٤. اطلق على مؤتمر القمة العربية في القاهرة عام ٢٠٠٠ م اسم قمة الأقصى
ص ١٠٨
٤٥. عقدت قمة التضامن مع الشعب الفلسطيني في غزة عام ٢٠٠٩ م في دولة تسمى الكويت
ص ١٠٨
٤٦. الملك الذي اقترح إنشاء صندوق انتفاضة القدس و صندوق الأقصى يسمى عبدالله بن عبدالعزيز
ص ١٠٨
٤٧. مجموعة من المسلمين تعيش تحت سلطة دولة غير مسلمة في وسط اغلبية غير مسلمة تسمى الاقليات الإسلامية
ص ١١٢
٤٨. عدد المسلمون في دول غير العضو بمنظمة المؤتمر الاسلامي يبلغ حوالي ٤٥٠ مليون
ص ١١٢
٤٩. من نماذج الاقليات الإسلامية حول العالم منطقة شينجيانغ أوريجور و منطقة تسمى أركان
ص ١١٣
٥٠. تقع منطقة أركان (بورما) في ميانمار
ص ١١٣
٥١. تقع منطقة شينجيانغ أوريجور على الحدود الغربية لجمهورية تسمى الصين الشعبية
ص ١١٣
٥٢. واجهت العديد من المسلمين تمييزاً في العمل منذ أحداث ١١ سبتمبر م ٢٠٠١.
ص ١١٤
٥٣. اندلعت حرب البوسنة والهرسك على يد القوات الصربية من عام ١٩٩٢ الى عام ١٩٩٥
ص ١١٦
٥٤. المعسكر الذي كان مركزاً لاعتقال وتعذيب المدنيين البوسنيين والكروات يسمى (أومارسكا)
ص ١١٦
٥٥. اندلعت الحرب الأهلية في الصومال في عام ١٩٩١ م
ص ١١٧
٥٦. بطلة من ابطال اطفاء حرائق النفط الناجمة عن الغزو العراقي الغاشم تسمى سارة اكبر
ص ١١٩
٥٧. بلغ عدد الابار المشتعلة في الكويت اثناء الغزو العراقي ٧٣٧ بئراً
ص ١٢٠
٥٨. أطفأت الابار المشتعلة خلال ٢٤٠ يوم
ص ١٢٠
٥٩. أطفأ أخطر بئر نفطي في تاريخ ٦ نوفمبر ١٩٩١
ص ١٢٠
٦٠. أطفأت أبار النفط المشتعلة في عهد الشيخ جابر الأحمد الصباح
ص ١٢٠
٦١. شنت قوات التحالف حرب عاصفة الصحراء في تاريخ ١٧ يناير ١٩٩١
ص ١٢٢
٦٢. اطلق على حرب تحرير دولة الكويت اسم عاصفة الصحراء
ص ١٢٢
٦٣. تحررت دولة الكويت في تاريخ ٢٦ فبراير ١٩٩١
ص ١٢٢
٦٤. مكان يحتوي على أسماء وصور شهداء الكويت يسمى حديقة الشهيد
ص ١٢٣
٦٥. ظاهرة ثقافية متفشية في معظم دول العالم الإسلامي ومختلف البلدان تسمى الامية
ص ١٢٨
٦٦. الدولة التي سجلت أعلى معدل من المام البالغين بالقراءة والكتابة حيث بلغ ٩٧٪ تسمى قطر
ص ١٢٨
٦٧. تقدمت دول العالم الإسلامي في مجال محو الأمية خلال عامي (١٩٩٠ م و ٢٠١٣ م) من نسبة ٥٥٪ إلى ٧٨٪
ص ١٢٩
٦٨. أقل نسبة محو أمية الكبار في الدول الأعضاء في منظمة التعاون الإسلامي لعام 2015 م. تسمى النيجر
ص ١٢٩
٦٩. أعلى نسبة محو أمية الكبار في الدول الأعضاء في منظمة التعاون الإسلامي لعام 2015 م تسمى كازاخستان
ص ١٢٩

٢ (اكتب المفاهيم أو المصطلحات الدالة على العبارات التالية :

الرقم	المفهوم	العبارة
١	التلوث البيئي	ص ٨١ أي تغيير غير مرغوب به في الخواص الطبيعية أو الكيميائية أو البيولوجية للبيئة المحيطة (الهواء- الماء التربة) والذي قد يتسبب في الإضرار بحياة الإنسان والكائنات الأخرى
٢	التصحّر	ص ٨٨ انجراف التربة على المدن والمناطق الزراعية
٣	الاحتباس الحراري	ص ٩٠ ارتفاع درجات حرارة الأرض عن معدلها الطبيعي مما يؤدي إلى تغيرات مناخية
٤	النفايات	ص ٩١ أي مواد زائدة وغير مرغوبة من مخلفات البيئة أو الفضلات.
٥	التدوير	ص ٩١ إعادة استخدام المخلفات لإنتاج منتجات أخرى أقل جودة من المنتج الأصلي
٦	التنمية المستدامة	ص ٩٢ عبارة عن برامج تحسين نوعية الحياة.
٧	الانفجار السكاني	ص ٩٥ الزيادة الكبيرة في أعداد السكان
٨	الفقر	ص ٩٦ الحالة الاقتصادية التي يفتقد فيها الفرد إلى الدخل الكافي للحصول على المستويات الدنيا من الغذاء والملبس عد والتعليم والرعاية الصحية وكل ما ي من الاحتياجات الضرورية لتأمين مستوى لائق في الحياة»
٩	خط الفقر	ص ٩٧ ادنى مستوى من الدخل يحتاجه المرء أو الأسرة حتى يكون بالإمكان توفير مستوى معيشة ملائم في بلد ما
١٠	العولمة	ص ٩٩ نظام عالمي جديد يقوم على الإبداع العلمي، والتطور التقني، والتكنولوجيا، وثورة الاتصالات بحيث تزول الحدود الثقافية بين الشعوب بالعالم ويصبح العالم كقرية واحدة.
١١	التكامل الاقتصادي	ص ١٠٠ عملية اقتصادية، واجتماعية يتم بموجبها إزالة جميع الحواجز بين الوحدات المختلفة، وتؤدي إلى تحقيق تكافؤ الفرص أمام جميع عناصر الإنتاج في دول التكامل
١٢	البلدان النامية	ص ١٠٠ الدول التي مازالت أقل في ميادين الاقتصاد تقدما والعلم والتكنولوجيا
١٣	الدخل القومي	ص ١٠٠ مجموع الدخل المكتسب في بلد ما خلال فترة زمنية ما تكون سنة معينة، عادة واحدة.
١٤	الميزان التجاري	ص ١٠٠ الفرق بين قيمة الصادرات وقيمة الواردات بالدول
١٥	الحدود	ص ١٠٢ خطوط حددت بواسطة الإنسان ورسمت حتى تفصل بين سيادة دولة ودولة أخرى.
١٦	الأقليات	ص ١١٢ يطلق لفظ الأقلية على مجموعة من سكان دولة أو إقليم ما يختلفون عن غالبية سكان تلك الدولة بخاصية من الخصائص المتمثلة في العرف أو الثقافة أو الدين
١٧	الأقليات الإسلامية	ص ١١٢ مجموعة من المسلمين تعيش تحت سلطة دولة غير مسلمة في وسط أغلبية غير مسلمة
١٩	الامية	ص ١٢٨ ظاهرة ثقافية متفشية في معظم دول العالم الإسلامي ومختلف البلدان وبخاصة البلدان النامية

٣) ظلل الخيار الصحيح من بين الخيارات التي تلي كل عبارة :

ص ٨٢	١. انشأت دولة الكويت شرطة البيئة في عام :			
	٢٠١٨ م	٢٠١٧ م	٢٠١٦ م	٢٠١٥ م
ص ٨٣	٢. النسبة التي بلغها التلوث الهوائي في باكستان بسبب عوادم السيارات :			
	٦٠ %	٥٠ %	٤٠ %	٣٠ %
ص ٨٥	٣. تعرضت دولة الكويت لتلوث بيئي خطير في عام			
	١٩٩٣ م	١٩٩٢ م	١٩٩١ م	١٩٩٠ م
ص ٨٥	٤. حدثت ظاهرة نفوق السمك في دولة الكويت بسبب ضخ مياه المجاري في جون الكويت في عام			
	٢٠٠٣ م	٢٠٠٢ م	٢٠٠١ م	٢٠٠٠ م
ص ٨٧	٥. العاصمة العربية الاسلامية التي تعتبر نموذج للتلوث الضوضائي تسمى			
	السعودية	باكستان	القاهرة	ماليزيا
ص ٨٩	٦. الدولة الخليجية التي لا تعاني من مشكلة التصحر تسمى			
	الكويت	البحرين	قطر	عمان
ص ٨٩	٧. تصل نسبة التصحر في كل من مصر وجيبوتي ودول الخليج العربية ما عدا سلطنة عمان الى			
	٩٠ %	٨٠ %	٧٠ %	٦٠ %
ص ٩٠	٨. الغاز المسبب لظاهرة الاحتباس الحراري يسمى			
	النيروجين	أول أكسيد الكربون	الاكسجين	ثاني أكسيد الكربون
ص ٩٧	٩. أعلى الدول نسبة فقر لدول العالم الاسلامي في عام ٢٠١٥ تسمى			
	النيجر	باكستان	مالي	بنغلادش
ص ٩٧	١٠. نسبة السكان الذين يعيشون تحت مستوى خط الفقر في العالم الاسلامي يبلغ			
	٣٨ %	٣٧ %	٣٦ %	٣٥ %

ص ١٠٣	١١. عقد مؤتمر العقير في عام			
	١٩٢٢م	١٩٢٣م	١٩٢٤م	١٩٢٥م
ص ١٠٤	١٢. اجتاحت قوات النظام العراقي على دولة الكويت في تاريخ ٢ أغسطس			
	١٩٨٨م	١٩٨٩م	١٩٩٠م	١٩٩١م
ص ١٠٤	١٣. اصدرت الامم المتحدة عام ١٩٩١ م عن طريق مجلس الأمن قرار رقم			
	٦٧٦	٦٧٧	٦٧٨	٦٧٩
ص ١٠٦	١٤. الشيخ الذي وقع على اتفاقية الحماية عام ١٨٩٩ مع بريطانيا يسمى			
	مبارك الصباح	عبد الله السالم	صباح الأحمد	جابر الأحمد
ص ١١٣	١٥. تقع منطقة شينجيانغ أوريغور على الحدود الغربية لجمهورية			
	تايلند	الصين	كوريا	اليابان
ص ١٢٠	١٦. بلغ عدد الابار المشتعلة في الكويت اثناء الغزو العراقي			
	٧٢٥ بئرا	٧٣٦ بئرا	٧٣٧ بئرا	٧٣٨ بئرا
ص ١٢٠	١٧. أطفأت آبار النفط المشتعلة بدولة الكويت في عهد الشيخ			
	صباح الأحمد الصباح	جابر الأحمد الصباح	مبارك الصباح	سعد العبدالله الصباح
ص ١٢٨	١٨. الدولة التي سجلت أعلى معدل من إمام البالغين بالقراءة والكتابة حيث بلغ ٩٧٪ من إجمالي السكان تسمى			
	قطر	الامارات	البحرين	عمان
ص ١٢٩	١٩. الدولة التي حصلت على أعلى نسبة محو أمية الكبار لعام ٢٠١٥ م تسمى			
	بنغلادش	مالي	كازاخستان	اوزباكستان
ص ١٢٩	١. تقدمت دول العالم الإسلامي في مجال محو الأمية خلال عامي ١٩٩٠ م و ٢٠١٣ م من نسبة ٥٥٪ إلى			
	٧٨٪	٧٩٪	٨٠٪	٨١٪

٤) صوب ما تحته خط في العبارات التالية :

الصفحة	الرقم	العبارة	التصويب
ص ٨٢	١.	انشأت دولة الكويت شرطة البيئة في عام ٢٠١٦ م	٢٠١٥
ص ٨٣	٢.	النسبة التي بلغها التلوث الهوائي في باكستان بسبب عوادم السيارات ٥٠٪	٤٠ ٪
ص ٨٥	٣.	بسبب ضخ مياه المجاري في جون الكويت أدى الى نفوق الاسماك عام ٢٠٠٢ م	٢٠٠١ م
ص ٨٧	٤.	إحدى ملوثات البيئة عرفت أنها الإزعاج أو الضجيج وتسمى بالتلوث الهوائي	الضوضائي
ص ٨٧	٥.	العاصمة العربية الاسلامية التي تعتبر نموذج للتلوث الضوضائي تسمى دمشق	القاهرة
ص ٨٩	٦.	الدولة الخليجية التي لا تعاني من مشكلة التصحر تسمى السعودية	عمان
ص ٩٠	٧.	الغاز المسبب لظاهرة الاحتباس الحراري يسمى أول أكسيد الكربون	ثاني أكسيد الكربون
ص ٩٠	٨.	حدث اعصار جونو (غونو) نتيجة لظاهرة الاحتباس الحراري في عام ٢٠٠٨ م.	٢٠٠٧
ص ٩١	٩.	أي مواد زائدة وغير مرغوبة من مخلفات البيئة أو الفضلات تسمى التدوير	النفائيات
ص ٩٣	١٠.	منطقة في الكويت سيتم بها اكمال مشروع توليد ٧٠ ميغاوات من الكهرباء تسمى العبدلي	الشقيا
ص ٩٧	١١.	أعلى الدول نسبة فقر لدول العالم الاسلامي في عام ٢٠١٥ تسمى باكستان	بنغلادش
ص ٩٧	١٢.	نسبة السكان الذين يعيشون تحت مستوى خط الفقر في العالم الاسلامي يبلغ ٢٥٪	٣٧ ٪
ص ١٠٣	١٣.	هاجمت القوات العراقية على مركز الصامتة الكويتي في عام ١٩٧٠ م	١٩٧٣ م
ص ١٠٦	١٤.	الشيخ الذي وقع على اتفاقية الحماية عام ١٨٩٩ مع بريطانيا يسمى عيد الله سالم	مبارك الصباح
ص ١٠٧	١٥.	بدأت القضية الفلسطينية عقب الحرب العالمية الثانية	الأولى

٥) ضع علامة (✓) أمام العبارة الصحيحة، وعلامة (×) أمام العبارة الخاطئة مع التصويب:

الصفحة	الرقم	العبارة	أ	ب	التصويب
١٠٨	١	اطلق على مؤتمر القمة العربية في القاهرة عام ٢٠٠٠ م اسم قمة الأرض			الأقصى
١٠٨	٢	عقدت قمة التضامن مع الشعب الفلسطيني في غزة عام ٢٠٠٩ م في دولة الكويت			
١٠٨	٣	الملك الذي اقترح إنشاء صندوق انتفاضة القدس و صندوق الأقصى يسمى فهد بن عبدالعزيز			عبدالله بن عبدالعزيز
١١٢	٤	تقع منطقة شينجيانغ أوريغور على الحدود الغربية لجمهورية مصر			الصين
١١٦	٥	المعسكر الذي كان مركزا لاعتقال وتعذيب المدنيين البوسنيين والكروات يسمى (أومارسكا)			
١١٧	٦	اندلعت الحرب الاهلية في الصومال في ١٩٩٢ م			١٩٩١ م
١١٩	٧	بطلة من ابطال إطفاء حرائق النفط الناجمة عن الغزو العراقي الغاشم تسمى سارة اكبر			
١٢٠	٨	بلغ عدد الابار المشتعلة في الكويت اثناء الغزو العراقي ٧٣٧ بئرا			
١٢٠	٩	تم إطفاء آبار النفط المشتعلة في عهد الشيخ صباح الأحمد الصباح			جابر الأحمد الصباح
١٢٢	١٠	اطلق على حرب تحرير دولة الكويت اسم عاصفة الصحراء			
١٢٢	١١	مكان يحتوي على أسماء وصور شهداء الكويت يسمى حديقة الشهيد			
١٢٨	١٢	ظاهرة ثقافية متفشية في معظم دول العالم الإسلامي ومختلف البلدان تسمى المخدرات			الامية
١٢٨	١٣	سجلت قطر أعلى معدل من إمام البالغين بالقراءة والكتابة حيث بلغ ٩٧٪ من إجمالي السكان			
١٢٩	١٤	أعلى نسبة محو أمية الكبار في الدول الأعضاء في منظمة التعاون الإسلامي لعام ٢٠١٥ م تسمى كازاخستان			

٦) استنتج الرابط بين العناصر التالية:

- ١/ النفايات + الاستخدام المفرط للأسمدة + الحروب + الانفجارات النووية
 - ٢/ التلوث الهوائي + التلوث المائي + التلوث الضوضائي + تلوث التربة
 - ٣/ عمليات البناء والهدم + أصوات آلات الحفر + وسائل النقل
- (مصادر التلوث بشرية) ص ٨١
(أنواع التلوث البيئي) ص ٨٣
(أسباب التلوث الضوضائي) ص ٨٧

(٧) من أنا أو ماذا أمثل أو من نحن أو من نكون :



بطلة من أبطال إطفاء
حرائق النفط الناجمة
عن الغزو العراقي
الغاشم انا سارة أكبر
ص ١١٩



قضية لم تنتهي
بدأت بعد الحرب
العالمية الاولى
أنا دولة فلسطين
ص ١١٥

أنا معلم من معالم الكويت يوجد لدي (جدار الشهداء)
أنا حديقة الشهيد ص ١٢٣

(٨) صنف الكلمات التالية إلى مكانها المناسب في الجدول الذي يليها :

١/ مصادر التلوث البيئي ص ٨١ :

البراكين - الاستخدام المفرط للأسمدة - رش المبيدات الحشرية على المزروعات - الحروب - الانفجارات النووية - النفايات - الغبار

مصادر بشرية	مصادر طبيعية
الاستخدام المفرط للأسمدة رش المبيدات الحشرية على المزروعات - الحروب - الانفجارات النووية - النفايات	البراكين - الغبار

٢/ أسباب تلوث كل من التربة والوضائي :

وسائل النقل - الامطار الحمضية - النفايات - عمليات الهدم والحفر - المبيدات الحشرية - اصوات الات الحفر

اسباب تلوث التربة ص ٨٨	اسباب تلوث الضوضاء ص ٨٧
الامطار الحمضية - المبيدات الحشرية	وسائل النقل - عمليات الهدم والحفر اصوات الات الحفر


٣/ نسبة التصحر في الدول إسلامية ص ٨٩

مصر - لبنان - سوريا - السودان - العراق - السنغال - جيبوتي - الصومال - دول الخليج العربي عدا سلطنة عمان

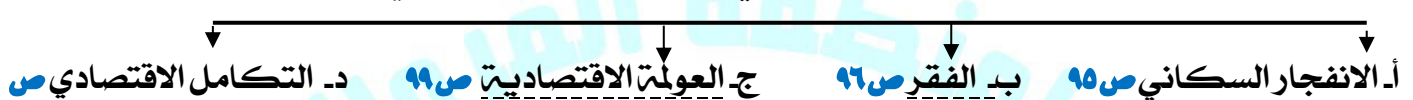
دول إسلامية تصل نسبة التصحر فيها ما بين ١٠٪ - ٥٠٪	دول إسلامية تصل نسبة التصحر الى ٩٠٪
لبنان - سوريا - السودان - العراق - السنغال - الصومال	مصر - دول الخليج العربي عدا سلطنة عمان - جيبوتي

(٩) أكمل المخططات السهمية التالية :

١- أنواع التلوث البيئي :ص ٨٣



٢- التحديات الاقتصادية التي تواجه دول العالم الإسلامي




٣- انواع الزيادة السكانية : ص ٩٥



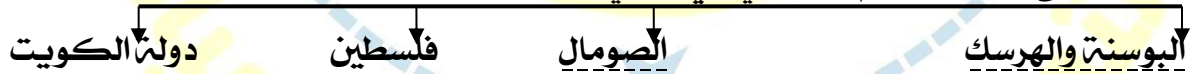
٥- التحديات الاجتماعية والثقافية التي تواجه دول العالم الإسلامي



٦- انواع الحدود السياسية بين الدول :ص ١٠٢



٧- نماذج من دول العالم الإسلامي التي تعاني من مشكلة الحروب والدمار : ص ١١٥



٩- دول عانت من مشكلات الحدود السياسية : ص ١٠٣ ص ١٠٧

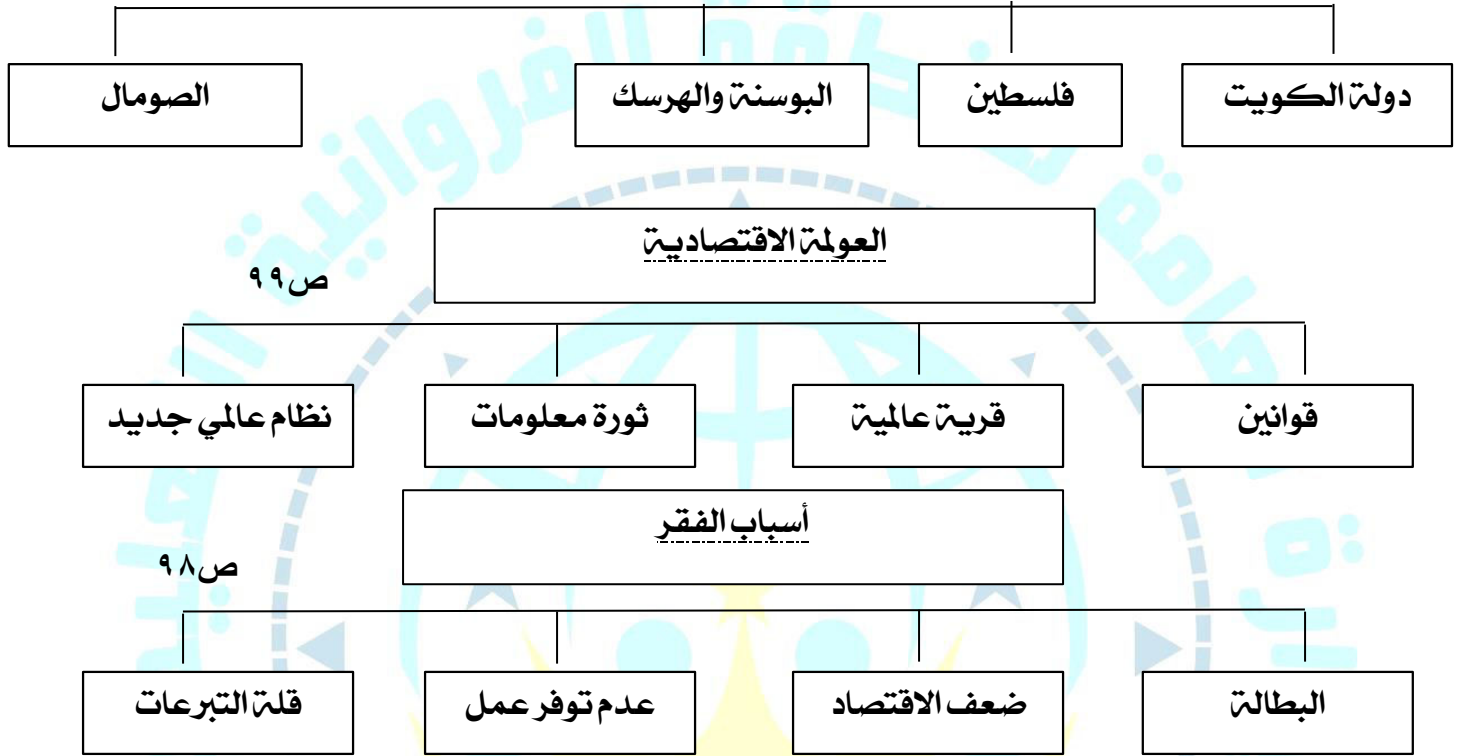


١٠- من نماذج تواجد الأقليات الإسلامية ص ١١٣



(١٠) اكتب عنوانا للمخططات السهمية التالية :

نماذج من دول العالم الإسلامي التي تعاني من مشكلته الحروب والدمار ص ١١٥



(١١) اختر للمجموعة (أ) ما يرتبط بها من المجموعة (ب) بوضع الرقم في المكان المناسب .

م	المجموعة (أ)	الرقم المناسب	المجموعة (ب)
١	١٨٩٩م	٣	مؤتمر العقير ص ١٠٣
٢	١٩٩١م	١	اتفاقية الحماية بين الكويت وبريطانيا ص ١٠٦
٣	١٩٢٢م	٢	تحرير دولة الكويت من المعتدي العراقي ص ١٠٤
٤	١٩٩٣م	٤	قرار مجلس الامن لترسيم حدود الكويت والعراق ص ١٠٤ - ١٠٦

١٢ / أعد ترتيب الأحداث التالية ترتيبا تصاعديا من الاقدم إلى الأحدث بوضع الرقم الصحيح في المربع ص ١٠٣ + ص ١٠٤

الأحداث	ترتيب الأحداث
الاعتداء على مركز الصامتة الحدودي	٢
قرار مجلس الامن رقم ٨٣٣ لترسيم الحدود بين الكويت والعراق	٥
ادعاءات عبد الكريم قاسم	١
قرار مجلس الامن رقم ٦٧٨	٤
الغزو العراقي على دولة الكويت	٣

الأسئلة المقالية :

(١) عرف المفاهيم أو المصطلحات التالية :

- ١- التلوث البيئي ص ٨١ : أي تغيير غير مرغوب به في الخواص الطبيعية أو الكيميائية أو البيولوجية للبيئة المحيطة (الهواء - الماء التربة) والذي قد يتسبب في الإضرار بحياة الإنسان والكائنات الأخرى
- ٢- التصحر ص ٨٨ : انجراف التربة على المدن والمناطق الزراعية
- ٣- الاحتباس الحراري ص ٩٠ ارتفاع درجات حرارة الأرض عن معدلها الطبيعي مما يؤدي إلى تغيرات مناخية
- ٤- النفايات ص ٩١ : أي مواد زائدة وغير مرغوبة من مخلفات البيئة أو الفضلات.
- ٥- التدوير ص ٩١ إعادة استخدام المخلفات لإنتاج منتجات أخرى أقل جودة من المنتج الأصلي
- ٦- التنمية المستدامة ص ٩٢ : عبارة عن برامج تحسين نوعية الحياة،
- ٧- الانفجار السكاني ص ٩٥ الزيادة الكبيرة في أعداد السكان
- ٨- الفقر ص ٩٦ : الحالة الاقتصادية التي يفتقد فيها الفرد إلى الدخل الكافي للحصول على المستويات الدنيا من الغذاء والملبس والتعليم والرعاية الصحية وكل ما يعد من الاحتياجات الضرورية لتأمين مستوى لائق في الحياة»
- ٩- خط الفقر ص ٩٧ : أدنى مستوى من الدخل يحتاجه المرء أو الأسرة حتى يكون بالإمكان توفير مستوى معيشة ملائم في بلد ما
- ١٠- العولمة ص ٩٩ : نظام عالمي جديد يقوم على الإبداع العلمي، والتطور التقني، والتكنولوجيا، وثورة الاتصالات بحيث تزول الحدود الثقافية بين الشعوب بالعالم ويصبح العالم كقرية واحدة.
- ١١- التكامل الاقتصادي ص ١٠٠ : عملية اقتصادية، واجتماعية يتم بموجبها إزالة جميع الحواجز بين الوحدات المختلفة، وتؤدي إلى تحقيق تكافؤ الفرص أمام جميع عناصر الإنتاج في دول التكامل
- ١٢- البلدان النامية ص ١٠٠ : الدول التي مازالت أقل في ميادين الاقتصاد تقدما والعلم والتكنولوجيا
- ١٣- الدخل القومي ص ١٠٠ : مجموع الدخل المكتسب في بلد ما خلال فترة زمنية معينة عادة ما تكون سنة واحدة.
- ١٤- الميزان التجاري ص ١٠٠ : الفرق بين قيمة الصادرات وقيمة الواردات بالدول
- ١٥- الحدود ص ١٠٢ : خطوط حددت بواسطة الإنسان ورسمت حتى تفصل بين سيادة دولة ودولة أخرى.
- ١٦- الاقليات ص ١١٢ : يطلق لفظ الأقلية على مجموعة من سكان دولة أو إقليم ما يختلفون عن غالبية سكان تلك الدولة بخاصية من الخصائص المتمثلة في العرف أو الثقافة أو الدين
- ١٧- الأقليات الإسلامية ص ١١٢ : مجموعة من المسلمين تعيش تحت سلطة دولة غير مسلمة في وسط اغلبية غير مسلمة
- ١٨- الامية ص ١٢٨ : ظاهرة ثقافية متفشية في معظم دول العالم الإسلامي ومختلف البلدان وخاصة البلدان النامية

(٢) علل / اذكر السبب .

١. يعتبر تلوث الهواء من أخطر أنواع التلوث البيئي . ص ٨٣
لأن الأوكسجين المحمول في هذا الهواء أحد أسباب الحياة، فبدونه لا تتم الحياة على هذا الكوكب،
٢. التلوث المائي اخطر أشكال التلوث البيئي . ص ٨٥
لأن الماء هو المادة الضرورية لبقاء الحياة على سطح الأرض فأى خلل بهذا العنصر الأساسي سيؤدي إلى تدهور واختلال بقية نظام الحياة والنظام البيئي
٣. تعتبر التربة عنصر مهم من عناصر البيئة الطبيعية . ص ٨٨
لأنها المصدر الرئيسي لإنتاج الغذاء.
٤. حدوث اعصار جونو او غونو في سواحل عمان والامارات وايران عام ٢٠٠٧م . ص ٩٠
نتيجة لظاهرة الاحتباس الحراري
٥. حدوث ظاهرة الاحتباس الحراري . ص ٩٠
نتيجة الزيادة المستمرة لغاز ثاني أكسيد الكربون في الهواء الجوي
٦. زيادة كمية المخلفات الصناعية والمنزلية والزراعية والبنائية . ص ٩١
نتيجة لسرعة التقدم الصناعي، والسلوك الاستهلاكي لدى الإنسان
٧. زيادة عدد السكان ص ٩٥
بسبب الزيادة الطبيعية والزيادة وغير الطبيعية
٨. انعقاد مؤتمر العقير عام ١٩٢٢م . ص ١٠٢
لإيجاد حل لمشاكل الحدود بين نجد والعراق من جهة، والكويت والعراق، ونجد من جهة أخرى.
٩. بدأت القضية الفلسطينية عقب الحرب العالمية الاولى . ص ١٠٧
بسبب تشجيع الانتداب البريطاني الذي حكم فلسطين في الفترة ما بين ١٩٢٠ و ١٩٤٨ م
ووصول موجات متتالية من الهجرات اليهودية داخل فلسطين.
١٠. إصدار الجمعية العامة للأمم المتحدة قرار رقم ١٨١ . ص ١٠٧
لتقسيم فلسطين الى قسمين عربي ويهودي عام ١٩٤٧م حيث شهد تعداد اليهود ارتفاعا كبيرا
١١. مواجهة العديد من المسلمين تمييزا في العمل ص ١١٤
بسبب احداث ١١ سبتمبر ٢٠٠١م
١٢. انخفاض المستوى التعليمي للأقليات الاسلامية ص ١١٤
نتيجة سوء الاحوال الاجتماعية والمادية.
١٣. سوء الظروف الاجتماعية والمادية التي تعيش فيها معظم الجاليات المسلمة ص ١١٤
تدني الاجور او عدم وجود فرص عمل مستقرة.
١٤. اضطرار أكثر من مليوني مسلم إلى الفرار من ميانمار والعيش كلاجئين في الدول المجاورة ص ١١٣
بسبب قيام السلطات الميانمارية في شن حملات قمعية ضد المجموعات المسلمة وصلت إلى حد الإبادة الجماعية والجرائم ضد الإنسانية.
١٥. ظهور المشكلة السكانية . ص ٩٥
عدم التوازن بين عدد السكان والموارد والخدمات وفرص العمل و ارتفاع المستوى المعيشي

٣) اكتب ما تعرفه عن:

١/ موقف الملك عبدالله بن عبدالعزيز في قضية فلسطين ص ١٠٨

- أ) اقترح فيه إنشاء صندوق يحمل اسم (صندوق انتفاضة القدس).
ب) انشاء صندوق يحمل اسم (صندوق الأقصى) برؤوس أموال تخدم الشعب الفلسطيني.
ج) كان للملك عبدالله بن عبدالعزيز - رحمه الله - موقف تاريخي في مؤتمر القمة العربية الاقتصادية والتنموية والاجتماعية (قمة التضامن مع الشعب الفلسطيني في غزة) التي عقدت في الكويت في شهر يناير ٢٠٠٩.

٢/ الآثار السئية التي خلفها الغزو العراقي على دولة الكويت ص ١١٩

أ. حرق الآبار ب. تدمير المباني والمنشآت. ج. تدمير البيئة الطبيعية والكائنات الحية

٣/ دور الحش الكويتي في الغزو العراقي ص ١٢٢

- أ) قامت القوة الجوية الكويتية بالاسلحة صقور الجو بتدمير عدد من دبابات النظام العراقي البائد وأكثر من ١٨ طائرة مقاتلة مما أدى إلى تأخير عملياتهم الهجومية.
ب) قام الجيش الكويتي بالاسلحة في دحر المعتدي واضعاف قوة النظام العراقي بعدها دخلت قوات التحالف والجيش الكويتي برياً للقضاء على الجيوش العراقية.

٥/ الغيوم السوداء التي حلت بسماء دولة الكويت نتيجة العدوان العراقي الغاشم. ص ١٢٠.

- أ) اشتعال ٢٣٧ بئر نفطي.
ب) تمكنوا فرق الاطفاء من إطفاء الآبار جميعها والسيطرة عليها خلال ٢٤٠ يوماً.
ج) بدأ العمل الفعلي للإطفاء في ١١ مارس ١٩٩١ م , انتهى بإخماد آخر بئر نفطي في ٦ نوفمبر ١٩٩١ م.

١٦/ أسباب الإدمان ؟ ص ١٢٦

- أ. ضعف الوازع الديني وانحدار القيم الأخلاقية.
ب. ضعف الرقابة من الأسرة على الفرد.
ت. رفاق السوء
ث. التقليد الأعمى واستيراد قيم جديدة غريبة على مجتمعاتنا تتنافى مع مبادئ ديننا الحنيف.
ج. انتشار التدخين بين المتعلمين في المدارس.
ح. قضاء أوقات الفراغ في أمور تافهة لا تعود على الشباب بالنفع.

٤) عدد ما يلي :

أ- نماذج من الدول الإسلامية التي تعاني من التلوث الهوائي : ص ٨٣
ماليزيا - باكستان

ب- آثار تلوث الهواء على الانسان والبيئة . ص ٨٤
امراض القلب والأوعية الدموية وأمراض الرئة، وضيق التنفس. - اضطراب في الجهاز العصبي. - تآكل وتلف المباني والمنشآت والآثار

ت- نماذج من الدول الإسلامية التي تعاني من التلوث المائي : ص ٨٥
الكويت - موريتانيا

ج- انواع الزيادة السكانية. ص ٩٥

١- زيادة طبيعية

٢- زيادة غير طبيعية

د أسباب الفقر في الدول الإسلامية ص ٩٨

١- الحروب والدمار

٢- عدم الاستغلال الأمثل للموارد الطبيعية والبشرية

٣- عدم تكافؤ الفرص

٤- التفرقة بين الناس في الحقوق والواجبات.

٥- ضعف اقتصاد الدولة.

٦- انتشار البطالة

٧- تضخم أسعار السلع والخدمات

٨- قلّة التبرعات والصدقات في المجتمع . ٩- عدم توفر فرص العمل

هـ- العوامل التي أثرت على انخفاض مستوى نصيب الفرد من الدخل القومي ص ١٠٠

١- ضعف الإنتاج الاقتصادي، والذي يترتب عليه انخفاض شديد في الدخل القومي .

٢- تعاني غالبية دول العالم الإسلامي عجزا في ميزانها التجاري.

و - اهم المناطق التي احتلها الكيان الصهيوني بفلسطين بعد حرب ١٩٦٧ م: ص ١٠٧

أ. غزة

ج. الضفة الغربية

هـ القدس الشرقية

ب. سيناء المصرية

د. هضبة الجولان السورية

ل- الشخصيات الكويتية التي بذلت العطاء في مساعدة الدول والمجتمعات التي تعرضت للكوارث والحروب.

ص ١١٨

١/ د. معالي العسوسي

٢/ د. عبدالرحمن السمييط

ي- التحديات التي تواجه الأقليات الإسلامية حول العالم؟ ص ١١٤

١. مواجهة العديد من المسلمين تمييزا في العمل منذ أحداث ١١ سبتمبر ٢٠٠١ م.

٢. سوء الظروف الاجتماعية والمادية التي تعيش فيها معظم الجاليات المسلمة نتيجة تدني الأجور وعدم وجود

فرص عمل مستقرة

٣. الحفاظ على الهوية الإسلامية في ظل عادات وتقاليد المجتمعات الغربية

٤. انخفاض المستوى التعليمي نتيجة سوء الأحوال الاجتماعية والمادية

٥. فرض القيود على المسلمين في حرية ممارستهم لشعائرهم الدينية الإسلامية

٥) أجب عن الأسئلة التالية

١. كيف واجهت دول العالم الإسلامي التحديات والمشكلات البيئية. ص ٩٣
 - أ. اتجهت دول العالم الإسلامي إلى برامج التنمية المستدامة
 - ب. أعلنت دولة الكويت عن خطط لتوليد الطاقة من خلال المصادر المتجددة.
 - ج. وضعت السعودية خططا لبناء قطاع لتوليد (٤١) ميجاوات من الكهرباء بالطاقة الشمسية.
 - د. مصر قامت بتشغيل مدرسة بالطاقة الشمسية.
٢. ماهي المشكلات الناتجة عن الانفجار السكاني ص ٩٥
ظهور الجريمة والبطالة و الطلاق و المخدرات.
٣. ما الهدف من مؤتمر العقير ١٩٢٢م. ص ١٠٣
إيجاد حل لمشاكل الحدود بين نجد والعراق من جهة، والكويت والعراق، ونجد من جهة أخرى
٤. ما الأوضاع التي عانا منها المسلمون المقيمين في منطقة شينجيانغ أوريغور الواقعة على الحدود الغربية للصين. ص ١١٣
 - أ. محاولات طمس هويتهم الثقافية بـ حرمانهم من حقوقهم الاجتماعية والدينية.
 ٥. كيف تكونت الأقليات الإسلامية؟ ص ١١٢
١/ اعتناق الإسلام ٢/ هجرة بعض المسلمين إلى أرض غير مسلمة
 ٦. اين تتواجد الأقليات الإسلامية؟ ص ١١٣
أ. أراكان ب= شينجيانغ أوريغور
٦. ما النتائج المترتبة بعد حرب ١٩٤٨م بين المحتل الصهيوني الإسرائيلي وفلسطين ١٠٧
أ. التوسع الصهيوني الإسرائيلي في أراضي فلسطين لتحتل حوالي ٨٠% من الأراضي الفلسطينية
ب. تشرد سبعمائة وخمسين ألفا من الفلسطينيين ما بين نازح، ومهاجر
٧. ماهي الحلول الإسلامية والدولية المقترحة للتحديات التي تواجه الأقليات الإسلامية؟ ص ١١٥
أ. تفعيل الوجود الإسلامي ب. الدور التثقيفي للمؤسسات الإسلامية
٨. كيف يتم تفعيل الوجود الإسلامي للأقليات الإسلامية؟ ص ١١٥
أ. حيث يكون لكل جالية مسلمة هيئة تتحدث باسمها.
ب. تفعيل المشاركات الاجتماعية والسياسية والاقتصادية للمسلمين في الغرب.
٩. ما هو الدور التثقيفي للمؤسسات الإسلامية اتجاه الأقليات الإسلامية؟ ص ١١٥
أ. الحفاظ على الهوية الإسلامية ب. التمسك بقيم الدين الإسلامي
١٠. ما هو دور دولة الكويت اتجاه دولة الصومال؟ ص ١١٧
أ. تقديم المساعدات عبر مؤسسات و مراكز خيرية من بينها جمعية الهلال الاحمر الكويتي
١١. ما الآثار المترتبة على ادمان المخدرات؟ ص ١٢٥
أ. سلوك عدواني ب. هلوسة سمعية وبصرية

٦ دليل

١- دليل على عدم تبعية دولة الكويت للعراق: ص ١٠٦

- أول ترسيم للحدود بين الكويت والعراق - الدولة العثمانية - عام ١٩١٣ م و اعتراف العثمانيين باستقلال دولة الكويت وترسيم الحدود.
- تم ترسيم الحدود في مؤتمر العقير ١٩٢٢م بين الكويت والعراق والسعودية مما يثبت استقلال دولة الكويت عن العراق.
- اتفاقية الحماية عام ١٨٩٩م بين الشيخ مبارك الصباح والحكومة البريطانية.
- عام ١٩٩٣ م صدر قرار مجلس الأمن رقم ٨٢٣ بترسيم الحدود بين الكويت والعراق واعترفت الكويت به فيما اعترف العراق بالقرار في عام ١٩٩٤ م.

(٧) برهن على صحة العبارة التالية:

تعرضت دولة الكويت لتلوث بيئي خطير ٨٥

- قامت قوات النظام العراقي الغاشم وبشكل متعمد بسكب كميات كبيرة من النفط الكويتي بمياه الخليج العربي مكونة بقعة نفطية كبيرة
- تكونت سحابة دخانية كثيفة ناتجة عن احتراق آبار النفط الكويتية لمدة سبعة أشهر أثناء وبعد حرب التحرير في عام ١٩٩١ م.
- تلوث مياه الخليج عن طريق تساقط الأمطار الحمضية في مياه الخليج العربي
- تم ضخ مياه المجاري في جون الكويت عام ٢٠٠١ م ، وهذا أدى إلى نفوق كثير من الأسماك، وتكررت هذه الظاهرة عدة سنوات كما حدث آخرها في عام ٢٠١٧.

٨ اذكر ما تعرفه عن مراحل ازمة الحدود السياسية بين الكويت والعراق: ص ١٠٣-١٠٤

* مراحل أزمة الحدود	* أهم الأحداث
* ادعاءات مؤتمر عبد الكريم قاسم ٢٥ / يونيو / ١٩٦١ م بأن الكويت تابعة الى ولاية البصرة	* رفض الشيخ عبد الله السالم حاكم دولة الكويت هذه الادعاءات . * انضمام دولة الكويت لاتفاقية الدفاع العربي المشتركة
* اعتداء على مركز الصامتة عام ١٩٧٣م	* رفض الحكومة الكويتية للمشروع العراقي للحصول على منفذ بحري ١٩٧٣. الهجوم على مركز الصامتة الكويتي. انسحاب القوات العراقية من الصامتة بعد نصيحيه موسكو للعراق
* غزو النظام العراقي على دولة الكويت ١٩٩٠ م * ترسيم الحدود عام ١٩٩٣م	* هزيمة وانسحاب القوات العراقية بالقوة العسكرية ١٩٩١ م * اصدرت هيئة الأمم المتحدة قرار ٦٧٨ بترسيم الحدود عام ١٩٩١ م * اصدار قرار ٨٢٣ ليرسم الحدود بين الدولتين عام ١٩٩٣ م

٩١ / أقرأ الفقرة التالية ثم أجب على الأسئلة التي تليها :

يرى علماء البيئة ان اعصار جونو او غونو عام ٢٠٠٧م الذي ضرب سواحل سلطنة عمان الشرقيه باتجاه سواحل الامارات الشرقيه وسواحل ايران الجنوبيه الشرقيه نتيجته لظاهرة الاحتباس الحراري . ص ٩٠

١- عرف المفهوم الذي تحته خط:

أ. ارتفاع درجات حرارة الأرض عن معدلها الطبيعي مما يؤدي إلى تغيرات مناخية

ب. ما اسباب حدوث هذه الظاهرة

نتيجة الزيادة المستمرة لغاز ثاني أكسيد الكربون في الهواء

ج- ما النتائج المتوقعة لهذه الظاهرة

● ارتفاع درجات الحرارة في الأرض

● تغير المناخ أذوبان الجليد في القطب الشمالي والجنوبي بد غرق مناطق كثيرة من العالم

أعلنت دولة الكويت عن خطط لتوليد ١٥٪ من احتياجاتها من الطاقة و بحلول عام ٢٠١٧ تم تشغيل أول محطة كهرباء تعمل بالطاقة الشمسية. ومن المتوقع اكتمال مشروع رائد لإنتاج ٧٠ ميجاوات من الكهرباء في منطقة الشقيا في غرب الكويت. ص ٩٣

١. في أي عام تم تشغيل أول محطة كهرباء تعمل بالطاقة الشمسية في دولة الكويت ؟
عام ٢٠١٧ م
٢. ما اسم المنطقة التي سيتم اكتمال مشروع إنتاج ٧٠ ميجاوات من الكهرباء بها ؟
الشقيا
٣. اذكر نماذج أخرى من الدول الإسلامية سعت لتحقيق التنمية
أ- السعودية ب / مصر

١٠ / من القائل :

ان الكويت دولة عربية ذات سيادة ومن ورائها يقف شعب الكويت بدعم قيادتها . ص ١٠٣

١ / من القائل؟ الشيخ عبد الله السالم

٢ / المناسبة؟ عندما رفض ادعاءات عبد الكريم قاسم بأنه يوجد حقوق تاريخية للعراق في الكويت،
وأنها كانت تابعة لولاية البصرة

➤ الناس تموت هنا، ويجب على العالم أن يتحرك الآن لوقف هذا < ص ١١٧

١ / من القائل ؟ السكرتير العام للأمم المتحدة أنطونيو جوتيريش

٢ / المناسبة؟ أزمة الصومال

٣ / ما هو دور منظمة التعاون الإسلامي ؟

أ. ارتفاع أعداد المشردين والنازحين في الصومال من جراء الأزمة التي اندلعت في البلاد.

ب. تقدم دولة الكويت مساعداتها عبر عدة مراكز ومؤسسات خيرية من بينها جمعية الهلال الأحمر
الكويتي.

١١ / قارن بين كل من :

١ / أنواع التلوث حسب الجدول : ص ١٨٨٢

أوجه المقارنة	التلوث الهوائي ص ٨٤	التلوث المائي ص ٨٦	التلوث الضوضاء ص ٨٧	تلوث التربة ص ٨٨
الاسباب	الثورة الصناعية عوادم السيارات	١ / سكب البقع النفطية في المياه ٢ / تساقط الأمطار الحمضية في المياه ٣ / ضخ مياه المجاري ٤ / تسرب كميات من بقع الزيت من البواخر	وسائل النقل السيارات بأنواعها المختلفة، والطائرات، والقطارات وغيرها. عمليات البناء والهدم وأصوات آلات الحفر	الإفراط باستخدام المبيدات الحشرية على المزروعات النباتية. المخلفات الصناعية والكيميائية والبشرية (النفايات). الأمطار الحمضية.
النتائج	❁ سبب رئيسي لأمراض القلب والأوعية الدموية وأعراض الرئة وضيق التنفس. ❁ اضطراب في الجهاز العصبي ❁ تآكل وتلف المباني والمنشآت والآثار	❁ هلاك الكائنات البحرية الحيوانية والنباتية. ❁ فقدان السواحل لقيماتها الاقتصادية والسياحية. ❁ التأثير على صحة الإنسان	❁ الضوضاء الشديدة تؤدي إلى ضرر خطير في الجهاز السمعي. ❁ التوتر العصبي لدى الإنسان	❁ الاخلال بالتوازن البيئي للتربة. ❁ انحسار الغطاء النباتي. ❁ ضعف عمليات البناء الضوئي للنبات.
نماذج من دول تعرضت للتلوث	باكستان - ماليزيا	الكويت - موريتانيا	مصر (القاهرة)	

٢ / الاحتباس الحراري و النفايات من حيث المطلوب :

أوجه المقارنة	الاحتباس الحراري: ص ٩٠	النفايات ص ٩١
التعريف	ارتفاع درجات حرارة الأرض عن معدلها الطبيعي مما يؤدي إلى تغيرات مناخية	أي مواد زائدة وغير مرغوبة من مخلفات البيئة أو الفضلات
الاسباب	نتيجة الزيادة المستمرة لغاز ثاني أكسيد الكربون في الهواء	سرعة التقدم الصناعي، والسلوك الاستهلاكي لدى الإنسان صعوبة التخلص من النفايات
النتائج	● ارتفاع درجات الحرارة في الأرض ● تغير المناخ أذوبان الجليد في القطب الشمالي والجنوبي بد غرق مناطق كثيرة من العالم	تدمير البيئة
الحلول		عمليات التدوير
نماذج من دول تعرضت للتلوث	إعصار جونو أو غونو عام ٢٠٠٧ الذي ضرب سواحل سلطنة عمان الشرقية باتجاه سواحل الإمارات الشرقية وسواحل إيران الجنوبية الشرقية	دولة الكويت أثناء الغزو العراقي الغاشم

٣/ حرب البوسنة والهرسك وحرب الصومال من حيث المطلوب :

أوجه المقارنة	البوسنة والهرسك ص ١١٦	الصومال ص ١١٧
الأطراف	البوسنيين والكروات × القوات الصربية	حرب أهلية
العام	١٩٩٢ - ١٩٩٥	١٩٩١
النتائج	١. اغلاق معسكر اومارسكا الذي كان مركزا لاعتقال وتعذيب المسلمين ٢. ابادة اكثر من ٣٠٠ الف مسلم	موجات من الجفاف والمجاعة اجتاحت البلاد واودت بحياة اكثر من مليون نسمة

٤/ حرب ١٩٤٨ م حرب يونيو ١٩٦٧ م من حيث النتائج المترتبة :

النتائج المترتبة	حرب ١٩٤٨ م * توسع المحتل الصهيوني الإسرائيلي في أراضي فلسطين لتحتل حوالي ٨٠% من الأراضي الفلسطينية . * تشرد سبعمائة وخمسين ألفا من الفلسطينيين ما بين نازح، ومهاجر	حرب يونيو ١٩٦٧ م * احتلت غزة والضفة الغربية وسيناء المصرية وهضبة الجولان السورية والقدس الشرقية.
------------------	---	--

(١٢) فرق بين كل مما يلي :

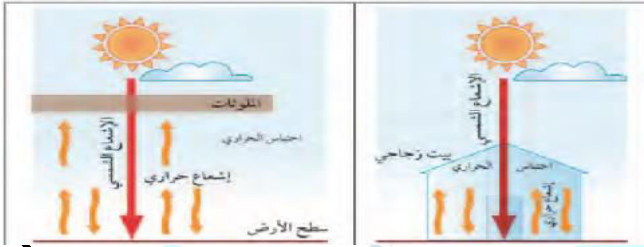
١/ عرف الامية حسب مفهوم الدول الإسلامية : ص ١٢٨

مفهوم الامية	البلدان النامية	البلدان المتقدمة
	الانسان الذي بلغ الثانية عشرة من عمرة ولم يتعلم مبادئ القراءة والكتابة والحساب بلغة ما	الشخص الذي لم يصل الى المستوى التعليمي الذي يجعله يفهم التعليمات الكتابية في موضوعات التقنية في عملته

١٣ / لاحظ الشكل المقابل ، ثم أجب عن الأسئلة التالية :



- (٢) أكمل العبارات التالية بما يناسبها : ص ٨٤
الشكل المقابل يمثل أحد الآثار التي تآكلت وأتلفت بسبب التلوث الهوائي
اذكر آثار اخرى لهذا التلوث.
١) أمراض القلب و الرئة، وضيق التنفس.
٢) اضطراب في الجهاز العصبي.



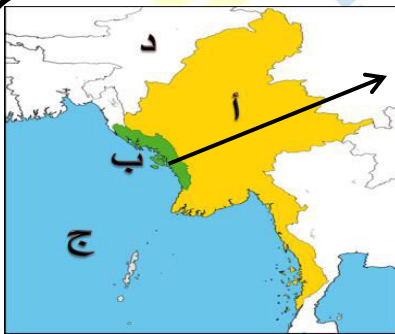
- (١) أكمل العبارات التالية بما يناسبها : ص ٩٠
الشكل المقابل يمثل ظاهرة تسمى : الاحتباس الحراري
الغاز الأول المسؤول عن الظاهرة هو ثاني اكسيد الكربون
ظهر نتيجة له اعصار يسمى جونو أو غونو



- (١) أكمل العبارات التالية بما يناسبها : ص ١٠٩/١٠٨
- الصورة المقابلة تمثل شخصية ملك يسمى عبدالله بن عبدالعزيز
- شارك في مؤتمر القمة العربية في القاهرة عام ٢٠٠٠ م
ما أسماء الصناديق التي اقترحها لكي تخدم القضية الفلسطينية ؟
١. صندوق انتفاضة القدس ٢. صندوق الأقصى



- (١) أكمل العبارات التالية بما يناسبها : ص ١٠٩
- الشكل المقابل يمثل : مؤتمر القمة العربية الاقتصادية والتنموية والاجتماعية
في أي دولة حدث ؟ الكويت
في أي عام ؟ ٢٠٠٩ م



- (١) لاحظ الخريطة التي أمامك ثم أجب على الأسئلة التي تليها : ص ١١٣
١. منطقة أراكان يمثلها على الخريطة الحرف : ب
٢. الحرف (د) يمثل على الخريطة دولة تسمى الهند
٣. الحرف (ج) على الخريطة يمثل سطح مائي يسمى : خليج البنغال
٤. ارسم على الخريطة اتجاه دولة الصين بالنسبة لأراكان باستخدام
٥. الشكل →



- (١) لاحظ الخريطة التي أمامك ثم أجب على الأسئلة التي تليها : ص ١١٣
١. اقليم شينجيانغ أوريغور يمثلها على الخريطة الحرف : أ
٢. بحر الصين الشرقي يمثلها على الخريطة الحرف (د)

ملحق الصور والخرائط



مشكلة الفقر ص ٩٦



شكل (٣٣) صورة توضح الانفجار السكاني في إحدى دول العالم الإسلامي ص ٩٥



اثر التلوث المائي ص ٨٦



موريتانيا عانت من التلوث المائي عام ٢٠١٧ ص ٨٥



شكل رقم (٣٧) الملك عبدالله بن عبد العزيز رحمه الله ص ١٠٩



شكل رقم (٣٦) مؤتمر القمة العربية الاقتصادية والتنموية والاجتماعية في الكويت ٢٠٠٩ م



شكل رقم (٣٤) الشيخ جابر الأحمد الصباح في منعة الأمم المتحدة وسطاء الحكم الذي حرك العالم تجاه قضية دولة الكويت. وقرحة التحرير شكل رقم (٣٥) توضح الحرب الجوية

ص ١٠٥



شكل رقم (٤١) توضح معاناة شعب البوسنة والهرسك



شكل رقم (٤٠) توضح الاقضية الفلسطينية



ص ١١٥

ص ١١٣

ص ١١٦



شكل رقم (٤٧) توضح فريق الإنقاذ أثناء بئله وجهوره وعظاءه في إطفاء حريق الأبرار



شكل رقم (٥٠) توضح لشيخ جابر الأحمد الصباح - رحمه الله - والشيخ سعد آلجيدالله - رحمه الله - ولقطة لحفان بلطفاء آخر بتر



شكل رقم (٤٢) تضرده آلاف السكان جراء الحرب الأهلية



شكل رقم (٤٣) اغتشار المبروح والأمرراض



شكل رقم (٤٨) توضح ولي العهد الفيخ سعد آلجيدالله - رحمه الله - ووزير النفط الدكتور حمود الرقيبة بمقتلهم حثول الأبرار القطبية

ص ١٢٠

ص ١١٧



شكل رقم (٤٤) مساعده دولة الكويت لإنسانة للصومال

الوحدة الرابعة

منظمة التعاون الإسلامي ودور دولة الكويت في التعايش الإنساني

أولاً: منظمة التعاون الإسلامي، والأجهزة التابعة لها.

- 1- لجمهورية الإكوادور منظمة جمع الدول الإسلامية.
- 2- لجمهورية العراق منظمة التعاون الإسلامي.
- 3- لقطر منظمة التعاون الإسلامي.
- 4- لجمهورية مصر العربية منظمة التعاون الإسلامي (القمة الإسلامية - مجلس وزراء الخارجية - اللجنة العامة - محكمة العدل الإسلامية الدولية).
- 5- لبلدان من بعض اللغات العربية (الأثر الأول - الأثر الخامس - الأثر التاسع عشر).

ثانياً: دور المنظمات والمؤسسات الإسلامية في مواجهة التحديات التي تفرزها بالعالم الإسلامي.

- 1- المنظمات والمؤسسات الإسلامية (سنة ألفينين) - لقر - الأديان.
- 2- دور المنظمات والمؤسسات الإسلامية في مواجهة التحديات.
- أ- البنك الإسلامي للتنمية.
- ب- وكالة الأوقاف الإسلامية لدولة قطر.
- ج- اللجنة الإسلامية للتربية والعلوم والثقافة (الإيسيسكو).
- د- مجمع الفقه الإسلامي.
- هـ- اللجنة الإسلامية للمهرجانات الدولية.



الوحدة الخامسة

دور دولة الكويت في التعايش الإنساني

أولاً: التنوع اللغوي والتعايش الحضاري.

- التنوع اللغوي والتعايش الحضاري.
- التعايش بين العالم الإسلامي والديانات والثقافات المختلفة.

ثانياً: دور الكويت في مساعدة دول العالم الإسلامي.



الوحدة الرابعة البرابعية والخامسة

الأسئلة الموضوعية

الوحدة الرابعة والخامسة :

١. أكمل العبارات التالية بما يناسبها فيما درست :

١. الملك الذي دعا الى انشاء تجمع يضم الدول الاسلامية يسمى فيصل بن عبد العزيز سوري ص ١١١
٢. عقد مؤتمر القمة العربية الثالثة في عام ١٩٦٥ م ص ١٣٧
٣. أحرق المسجد الأقصى في عام ١٩٦٩ م ص ١٣٧
٤. دولة يكون فيها نسبة المسلمين ٥٠٪ أو أكثر ويحكمها حاكم مسلم تسمى الدولة الاسلامية ص ١٣٧
٥. نسبة المسلمين تبلغ في الدولة الاسلامية الى ٥٠٪ أو أكثر ص ١٣٧
٦. تضم منظمة التعاون الاسلامي في عضويتها ٥٧ دولة ص ١٣٨
٧. يقع مقر منظمه التعاون الاسلامي بالمملكة العربية السعودية في مدينه تسمى جدة ص ١٣٨
٨. أنشأت منظمه التعاون الاسلامي في تاريخ ١٩٦٩/٩/٢٥ م ص ١٣٨
٩. تغير اسم منظمة المؤتمر الاسلامي الي اسم منظمه التعاون الاسلامي في عام ٢٠١١ م ص ١٣٨
١٠. تغير اسم منظمه المؤتمر الاسلامي الي اسم منظمة التعاون الاسلامي ص ١٣٨
١١. يعقد مؤتمر القمة الاسلامية مرة كل ثلاث سنوات ص ١٤١
١٢. المدة التي يتراس فيها الامين العام لمنظمة التعاون الاسلامي سنتان ص ١٤١
١٣. الهيئة التنفيذية لمنظمة المؤتمر الاسلامي تسمى الأمانة العامة ص ١٤١
١٤. انعقد المؤتمر الاسلامي الاول في عام ١٩٦٩ م ص ١٤٢
١٥. انعقد المؤتمر الاسلامي الاول بمملكة المغرب بمدينة تسمى الرباط ص ١٤٢
١٦. انعقد المؤتمر الاسلامي الخامس في دولة تسمى الكويت ص ١٤٣
١٧. انعقد المؤتمر الاسلامي الخامس في دولة الكويت عام ١٩٨٧ م ص ١٤٣
١٨. انعقد المؤتمر الاسلامي الرابع في عام ١٩٨٤ م ص ١٤٣
١٩. انعقد المؤتمر الاسلامي الرابع في مدينه تسمى الدار البيضاء ص ١٤٣
٢٠. الشيخ الذي دعا الى اقامة المؤتمر الاسلامي الخامس في دولة الكويت يسمى الشيخ جابر الاحمد الصباح ص ١٤٣
٢١. انعقد المؤتمر الاسلامي الثالث عشر في عام ٢٠١٦ م ص ١٤٤
٢٢. انعقد المؤتمر الاسلامي الثالث عشر في مدينة تسمى اسطنبول في تركيا ص ١٤٤
٢٣. يطلق على وكالة الانباء الاسلامية اسم اينا ص ١٤٥
٢٤. يقع مقر وكالة الانباء الاسلامية (اينا) بالمملكة العربية السعودية في مدينة تسمى جدة ص ١٤٥
٢٥. تأسست وكالة الانباء الاسلامية اينا في عام ١٩٧٢ م ص ١٤٥
٢٦. تأسس البنك الاسلامي للتنمية في عام ١٩٧٥ م ص ١٤٥
٢٧. يقع مقر البنك الاسلامي للتنمية بالمملكة العربية السعودية في مدينة تسمى جدة ص ١٤٥
٢٨. يطلق على المنظمة الاسلامية للتربية والعلوم والثقافة ايسيسكو ص ١٤٥
٢٩. تأسست المنظمة الاسلامية للتربية والعلوم والثقافة (ايسيسكو) في عام ١٩٨٢ م ص ١٤٥
٣٠. تأسس مجمع الفقه الاسلامي في عام ١٩٨٢ م ص ١٤٥
٣١. يقع مقر مجمع الفقه الاسلامي بالمملكة العربية السعودية في مدينة تسمى جدة ص ١٤٥
٣٢. تأسست اللجنة الاسلامية للهلال الدولي في عام ١٩٨٢ م ص ١٤٥
٣٣. يقع مقر اللجنة الاسلامية للهلال الدولي في مدينة تسمى بنغازي ص ١٤٥
٣٤. استقلت دولة الكويت في عام ١٩٦١ م ص ١٥٨

٣٥. صاحب فكرة انشاء الصندوق الكويتي لتنمية هو الشيخ جابر الاحمد الصباح ص ١٥٩
٣٦. تأسس الصندوق الكويتي للتنمية في عهد الشيخ عبد الله السالم الصباح ص ١٥٩
٣٧. تأسس الصندوق الكويتي للتنمية في عام ١٩٦١م ص ١٥٩
٣٨. أول مؤسسة تنموية في المنطقة يسمى الصندوق الكويتي للتنمية ص ١٥٩
٣٩. تأسست جمعية الهلال الاحمر عام ١٩٦٦م. ص ١٦٠/١٥٩
٤٠. الهيئة المساعدة للسلطات الرسمية في الجانب الانساني تسمى جمعية الهلال الاحمر ص ١٦٠
٤١. تأسست الهيئة الخيرية الاسلامية العالمية عام ١٩٨٤ ص ١٦٠/١٥٩
٤٢. تأسست الهيئة الخيرية الاسلامية في عهد الشيخ جابر الاحمد الصباح. ص ١٦٠
٤٣. أكبر المؤسسات العالمية في المجال الانساني تسمى الهيئة الخيرية الاسلامية ص ١٦٠
٤٤. هيئة حكومية مستقلة تخضع لإشراف وزير الاوقاف والشؤون الاسلامية تسمى بيت الزكاة ص ١٦٠
٤٥. تأسس بيت الزكاة عام ١٩٨٢م ص ١٦٠/١٥٩
٤٦. الدولة التي استضافت المؤتمرات الأول والثاني والثالث للمانحين لدعم الوضع الانساني في سوريا تسمى الكويت ص ١٦٠
٤٧. عقدت القمة الخليجية الثالثة والثلاثون في ٢٠١٢ في مدينة تسمى المنامة ص ١٦٠
٤٨. عقد أول مؤتمر للمانحين لدعم الوضع الانساني في سوريا عام ٢٠١٣م ص ١٦٠
٤٩. اختير الشيخ صباح الاحمد الصباح قائدا للعمل الانساني في تاريخ ٢٠١٤/٩/٩ ص ١٦١

٢) اكتب المفاهيم أو المصطلحات الدالة على العبارات التالية :

المفهوم	العبرة
١. الدولة الاسلامية	الدولة التي يكون فيها نسبة المسلمين ٥٠٪ أو أكثر من نسبة مجموع سكانها و يحكمها حاكم مسلم ص ١٣٧
٢. منظمة التعاون الاسلامي	منظمة تضم في عضويتها ٥٧ دولة اسلامية مستقلة مقرها مدينة جدة ص ١٣٨
٣. القمة الاسلامية	مؤتمر ملوك ورؤساء الدول والحكومات ويعقد مرة كل ثلاث سنوات. ص ١٤١
٤. الأمانة العامة	الهيئة التنفيذية لمنظمة التعاون الاسلامي والتي تقوم بمباشرة الشؤون الموكلة إليها من المؤتمر يرأسها امين عام ص ١٤١
٥. إينا	وكالة الانباء الاسلامية الدولية ص ١٤٥-١٤٧
٦. ايسيسكو	المنظمة الاسلامية للتربية والعلوم والثقافة ص ١٤٥-١٤٧
٧. الصندوق الكويتي للتنمية	صندوق مالي كويتي تأسس في ٣١ ديسمبر ١٩٦١م، ويعد أول مؤسسة تنموية في المنطقة. ص ١٥٩
٨. جمعية الهلال الأحمر الكويتي	هيئة مساعدة للسلطات الرسمية في الجانب الانساني تأسست عام ١٩٦٦م تمارس عملها استنادا الى اتفاقيات جنيف الأربع والقوانين والمعاهدات الدولية التي تشكل القانون الدولي الانساني ص ١٦٠
٩. بيت الزكاة	هيئة حكومية مستقلة تخضع لإشراف وزير الاوقاف والشؤون الاسلامية تأسست عام ١٩٨٢م ص ١٥٩-١٦٠
١٠. الهيئة الخيرية الاسلامية	هيئة مستقلة متعددة الأنشطة ومن أكبر المؤسسات العالمية في المجال الانساني تأسست في عهد الشيخ جابر الاحمد الصباح عام ١٩٨٤م ص ١٦٠

٣) ظلل الخيار الصحيح من بين الخيارات التي تلي كل عبارة :

ص ١٣٧	١) احرق المسجد الاقصى في عام			
	أ. ١٩٤٩	ب. ١٩٥٩	ج. ١٩٦٩	د. ١٩٧٩
ص ١٣٧	٢) الدولة الاسلامية التي يكون فيها نسبة المسلمين			
	أ. ٥٠%	ب. ٦٠%	ج. ٧٠%	د. ٨٠%
ص ١٣٨	٣) عدد الدول الاسلامية التي انضمت الى منظمة التعاون الاسلامي يبلغ			
	أ. ٥٥	ب. ٥٦	ج. ٥٧	د. ٥٨
ص ١٣٨	٤) يقع مقر منظمة التعاون الاسلامي في مدينه تسمى			
	أ. الرياض	ب. الكويت	ج. المنامة	د. جدة
ص ١٣٨	٥) تم تغيير اسم منظمة المؤتمر الاسلامي الي اسم منظمه التعاون الاسلامي في عام			
	أ. ٢٠١١	ب. ٢٠١٢	ج. ٢٠١٣	د. ٢٠١٤
ص ١٤٢	٦) عقد المؤتمر الاسلامي الاول في عام			
	أ. ١٩٦٨	ب. ١٩٦٩	ج. ١٩٧٠	د. ١٩٧١
ص ١٤٢	٧) عقد المؤتمر الاسلامي الاول بمدينة تسمى			
	أ. جدة	ب. الرياض	ج. الرباط	د. الدار البيضاء
ص ١٤٣	٨) عقد المؤتمر الاسلامي الخامس في دولة تسمى			
	أ. الكويت	ب. السعودية	ج. المغرب	د. تركيا
ص ١٤٣	٩) عقد المؤتمر الاسلامي الرابع في مدينه تسمى			
	أ. الرياض	ب. الدمام	ج. الدار البيضاء	د. الرباط
ص ١٤٣	١٠) الشيخ الذي دعا الى اقامة المؤتمر الاسلامي الخامس في دولة الكويت			
	أ. أحمد الجابر الصباح	ب. صباح الاحمد الصباح	ج. جابر الاحمد الصباح	د. عبد الله السالم الصباح
ص ١٤٥	١١) اطلق اسم إينا على			
	أ. مجمع الفقه الاسلامي	ب. وكالة الانباء الاسلامية	ج. الصندوق الكويتي	د. البنك الاسلامي للتنمية
ص ١٤٥	١٢) أنشأ مجمع الفقه الاسلامي عام			
	أ. ١٩٨٠	ب. ١٩٨١	ج. ١٩٨٢	د. ١٩٨٣
ص ١٥٨	١٣) استقلت دولة الكويت عام			
	أ. ١٩٦٠	ب. ١٩٦١	ج. ١٩٦٢	د. ١٩٦٣
ص ١٥٩	١٤) صاحب فكرة انشاء الصندوق الكويتي لتنمية هو الشيخ			
	أ. جابر الاحمد الصباح	ب. عبد الله السالم الصباح	ج. صباح الاحمد الصباح	د. نواف الاحمد الصباح
ص ١٥٩	١٥) أنشأ الصندوق الكويتي للتنمية في عهد الشيخ			
	أ. جابر الاحمد الصباح	ب. عبد الله السالم الصباح	ج. صباح الاحمد الصباح	د. نواف الاحمد الصباح
ص ١٦٠	١٦) استضافت دولة الكويت المؤتمر الاول والثاني والثالث للمانحين لدعم الوضع الانساني في دولة			
	أ. اليمن	ب. السودان	ج. سوريا	د. الصومال
ص ١٦٠	١٧) عقدت القمة الخليجية الثالثة والثلاثون عام ٢٠١٢ في مدينة			
	أ. الرياض	ب. جدة	ج. الرباط	د. المنامة

٤) ضع علامة (✓) أمام العبارة الصحيحة ، وعلامة (×) أمام العبارة الخاطئة مع التصويب:

الصفحة	الرقم	العبارة	أ	ب	التصويب
١٤١	١	المدة التي يتراس فيها الامين العام لمنظمة التعاون الاسلامي ٣ سنوات		ب	سنتان
١٤٢	٢	اقيم المؤتمر الاسلامي الخامس في دولة الكويت	أ		
١٤٢	٣	انعقد المؤتمر الاسلامي الرابع في مدينه جدة		ب	الدار البيضاء
١٤٥	٤	يطلق على المنظمة الاسلامية للتربية والعلوم والثقافة ايسيسكو	أ		
١٤٥	٥	تأسس مجمع الفقه الاسلامي في عام ١٩٨٠م		ب	١٩٨٢
١٤٥	٦	يقع مقر المنظمة الاسلامية للتربية والعلوم ايسيسكو في مدينة الرباط	أ		
١٤٥	٧	يقع مقر اللجنة الاسلامية للهلل الدولي في مدينة جدة		ب	بنغازي
١٤٦	٨	تبلغ نسبة دعم البنك الاسلامي للتنمية والتعليم في الدولة الاسلامية ٨,٥٪	أ		
١٥٧	٩	يتكلم من ٢٠-٣٠٪ اللغة العربية في العالم الاسلامي وتليها اللغات الاخرى.	أ		
١٥٩	١٠	صاحب فكرة انشاء الصندوق الكويتي لتنمية هو الشيخ جابر الاحمد	أ		
١٥٩	١١	تأسس الصندوق الكويتي للتنمية في عام ١٩٦٦		ب	١٩٦١
١٦٠	١٢	تأسست جمعية الهلال الاحمر عام ١٩٦٦م.	أ		
١٦٠	١٣	تأسست الهيئة الخيرية الاسلامية العالمية عام ١٩٨٥		ب	١٩٨٤
١٦٠	١٤	تأسست الهيئة الخيرية الاسلامية في عهد الشيخ جابر الاحمد الصباح	أ		
١٦٠	١٥	استضافت دولة الكويت المؤتمر الاول والثاني والثالث للمانحين لدعم الوضع الانساني في دولة تسمى سوريا	أ		
١٦٠	١٦	عقدت القمة الخليجية الثالثة والثلاثون في ٢٠١٢ في مدينة تسمى الرياض		ب	المنامة

(٥) صف الكلمات التالية في مكانها المناسب في الجدول الذي يليها :

أـ (ألبانيا - كازاخستان - السنغال - سوريان) ص ١٣٧

القاره	قاره آسيا	قارة افريقيا	قاره اوروبا	قارة امريكا الجنوبية
اسم الدولة	كازاخستان	السنغال	البانيا	سوريان

بـ (اسطنبول - الكويت - الرباط)

المؤتمرات	المؤتمر الاسلامي الاول ص ١٤٢	المؤتمر الاسلامي الخامس ص ١٤٢	المؤتمر الاسلامي الثالث عشر ص ١٤٤
اسم المدينة	الرباط	الكويت	إسطنبول

جـ (الملك فيصل بن عبد العزيز / الشيخ جابر الأحمد الصباح / الشيخ صباح الاحمد الصباح)

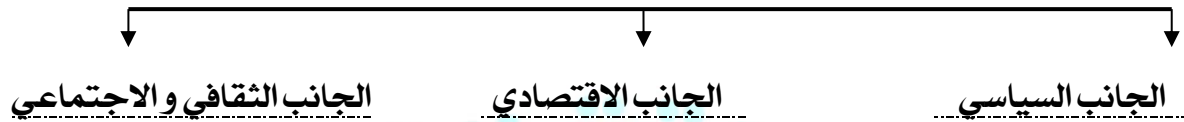
الشخصية	الملك فيصل بن عبد العزيز ص ١٣٧	الشيخ جابر الأحمد الصباح ص ١٤٢	الشيخ صباح الاحمد الصباح ص ١٦٠
الحدث	دعا الى انشاء تجمع يضم الدول الاسلامية	دعا الى عقد القمة الخامسة في الكويت	أعلن عن استضافة الكويت للمؤتمر الاول للمانحين

(٦) استنتج الرابط بين العناصر التالية :

- ١ / القمة الاسلامية + مجلس وزراء الخارجية + الامانة العامة + محكمة العدل الاسلامية الدولية
(أجهزة منظمة التعاون الاسلامي) الهيكل التنظيمي ص ١٤١
- ٢ / المساعدات الزراعية + المساعدات الصناعية + المساعدات الصحية + المساعدات التعليمية
(نطاقات عمل الصندوق الكويتي للتنمية ص ١٥٩)
- ٣ / جمعية الهلال الأحمر الكويتي + الهيئة الخيرية الاسلامية العالمية + بيت الزكاة
(الجمعيات والهيئات الخيرية في الكويت ص ١٦٠)

(٧) أكمل المخططات السهمية التالية :

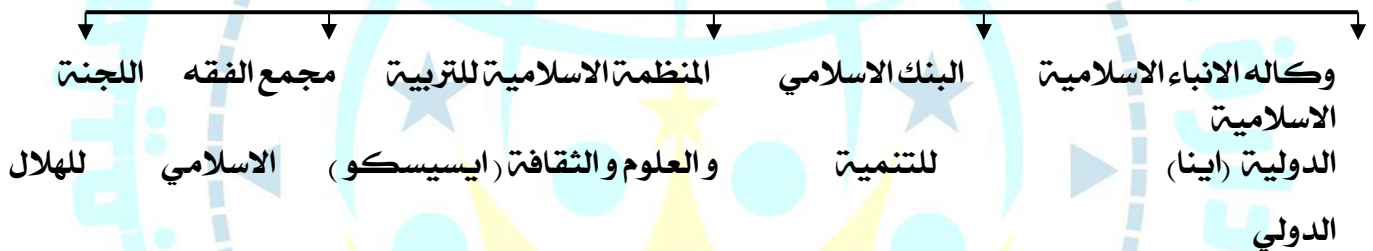
١- جوانب منظمة التعاون الاسلامي ص ١٣٩



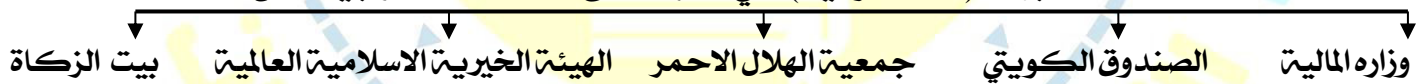
٢- أجهزة منظمة التعاون الاسلامي (الهيكل التنظيمي) ص ١٤١



٣- المنظمات والمؤسسات الاسلامية ص ١٤٥



٤- الجهات (الحكومية) التي تشرف على المساعدات الخارجية ص ١٥٩



٥- نطاقات عمل الصندوق الكويتي للتنمية ص ١٥٩



٦- الجمعيات والهيئات الخيرية في الكويت ص ١٦٠



٨) اختر للمجموعة (أ) ما يرتبط بها من المجموعة (ب) بوضع الرقم في المكان المناسب.

ص ١٤٥

م	المجموعة (أ)	الرقم المناسب	المجموعة (ب)
١	مجمع الفقه الاسلامي	٣	بنغازي
٢	ايسيسكو	١	جدة
٣	اللجنة الاسلامية للهلال الدولي	٢	الرباط
		-	الرياض

م	المجموعة (أ)	الرقم المناسب	المجموعة (ب)
١	المؤتمر الاسلامي الاول ص ١٤٢	٢	الكويت
٢	المؤتمر الاسلامي الخامس ص ١٤٣	١	الرباط
٣	المؤتمر الاسلامي الثالث عشر ص ١٤٤	-	الدار البيضاء
		٣	اسطنبول

٩) لاحظ الصورة التي أمامك ، ثم أكتب الحدث التاريخي الدال عليها :

الحدث : إخراج المسجد الاقصى
الدولة : فلسطين
العام : ١٩٦٩ م
المعتدي : المحتل الإسرائيلي



ص ١٣٧-١٣٨

(١٠) لاحظ الأشكال والصور المقابلة ، ثم أجب عن الأسئلة التالية :



(١) أكمل العبارات التالية بما يناسبها : **ص ١٤٥**

- أ) الشعار المقابل يمثل مجمع الفقه الاسلامي
ب) تم انشائه في عام ١٩٨٣ م
ج) يقع مقره في مدينة جدة



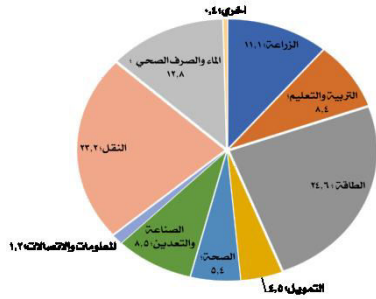
(٢) أكمل العبارات التالية بما يناسبها : **ص ١٤٥**

- أ) الشكل المقابل يمثل البنك الاسلامي للتنمية
ب) اذكر اثنين من اهدافها
١- دعم التنمية الاقتصادية و التقدم الاجتماعي للشعوب الاسلامية.
٢- تنمية التجارة الخارجية للدول الاعضاء و التبادل التجاري.



(٢) أكمل العبارات التالية بما يناسبها : **ص ١٤٣**

- أ/ ما اسم الشخصية في الصورة المقابلة ؟ الشيخ جابر الأحمد الجابر الصباح / أمير الكويت الراحل
ب/ في أي عام عقد المؤتمر الاسلامي الخامس بدولة الكويت ؟ في عام ١٩٨٤م
ج- اذكر اثنين من قرارات المؤتمر الاسلامي الخامس
١/ دعم القضية الفلسطينية
٢/ الحرص على استقلال لبنان ووحدة اراضيها ورفض الاحتلال الاسرائيلي للجزء الجنوبي منه



(٣) أكمل العبارات التالية بما يناسبها : **ص ١٤٦**

- أ- أعلى نسبة دعم قدمها البنك الاسلامي للتنمية في الدول الاسلامية في مج الطاقة
ب- كم تبلغ نسبة النقل ؟ ٢٣,٢٪



(٤) أكمل العبارات التالية بما يناسبها : **ص ١٥٩**

- أ) الشعار المقابل يمثل ؟ الصندوق الكويتي للتنمية
ب) متى تم تأسيسه ؟ ١٩٦١م .٣ صاحب الفكرة ؟ الشيخ جابر الأحمد الصباح
ج) اكتب اثنين من أهداف الصندوق
أ- تقديم القروض الميسرة للدول المحتاجة ب- تقديم المنح



(٤) أكمل العبارات التالية بما يناسبها : **ص ١٦١**

- أ) ما اسم الشخصية في الصورة المقابلة ؟ الشيخ صباح الاحمد الصباح
ب) بماذا لقب ؟ قائد العمل الانساني
ج) ما هو تاريخ حصوله على هذا اللقب؟ ٢٠١٤/٩/٩م

الأسئلة المقالية :

(١) علل / اذكر السبب.

- ١) إنشاء منظمة التعاون الاسلامي ص ١٣٨
- بسبب قيام المحتل الاسرائيلي باحراق المسجد الاقصى في فلسطين عام ١٩٦٩/٨/٢١
- ٢) انعقاد المؤتمر الاسلامي الخامس ص ١٤٣
- تلبية لرغبة الشيخ الراحل جابر الاحمد الصباح لاستضافة المؤتمر الخامس في دولة الكويت
- ٣) اعتبر خطاب الشيخ جابر الأحمد من الوثائق الرسمية في منظمة التعاون الاسلامي ص ١٤٣
- لما فيه من أهمية للعالم الاسلامي والدول الأعضاء ولأنه يحتوي على عدة قضايا تواجه أمتنا الاسلامية
- ٤) دعم المنظمة الاسلامية للتربية والعلوم والثقافة للمؤسسات العلمية داخل الدول الاسلامية ص ١٤٧
- لمحاربة الأمية والقضاء عليها - حتى لا يكون هناك عائق للتقدم والتطور
- ٥) تأسيس بيت الزكاة الكويتي ص ١٦٠
أ- لأحياء ركن من أركان الاسلام وتيسير أدائه
ب- العمل على جمع وتوزيع الزكاة بأفضل الطرق المشروعة

(٢) اكتب ما تعرفه عن :

- ١- جمعية الهلال الأحمر ص ١٦٠
- تأسست عام 1966 م كهيئة مساعدة للسلطات الرسمية في الجانب الإنساني.
تمارس عملها استناداً لاتفاقيات جنيف الأربع والقوانين والمعاهدات الدولية التي تشكل القانون الدولي الإنساني.
- ٢- الهيئة الخيرية الاسلامية العالمية ص ١٦٠
- تأسست عام ١٩٨٤ م بمرسوم أميري أصدره المغفور له الشيخ جابر الأحمد الصباح
- من أكبر المؤسسات العالمية في المجال الإنساني.
تعتبر هيئة مستقلة متعددة الأنشطة وتقدم خدماتها في جميع أنحاء العام دون تمييز أو تعصب
- ٣- بيت الزكاة ص ١٦٠
- تأسست عام ١٩٨٢ م تعتبر هيئة حكومية مستقلة تخضع لإشراف وزير الأوقاف والشئون الإسلامية
ك الجهات الحكومية والاهلية التي تشرف على المساعدات الخارجية: ص ١٥٩
أ) القطاع الحكومي (١- وزاره المالية ٢- الصندوق الكويت ٣ جمعية الهلال الاحمر
٤ الهيئة الخيرية الاسلامية العالمية ٥- بيت الزكاة)
ب) القطاع الأهلي (غرفة تجارة وصناعة الكويت الجمعيات واللجان الخيرية ومؤسسات المجتمع المدني)

(٣) عدد ما يلي :

- ١) أهداف منظمة التعاون الاسلامي ص ١٣٩
أ/ الجانب السياسي ب/ الجانب الاقتصادي ج/ الجانب الثقافي والاجتماعي
- ٢) أهداف الجانب السياسي لمنظمة التعاون الاسلامي. ص ١٣٩
أ/ تعزيز التضامن بين الدول الاعضاء. ب/ المصالح المشتركة بين دول الاعضاء
- ٣) أهداف الجانب الاقتصادي لمنظمة التعاون الاسلامي. ص ١٣٩
أ/ تعزيز التعاون الاقتصادي بين الأعضاء ب/ بذل الجهود لتحقيق التنمية البشرية المستدامة
- ٤) أهداف الجانب الثقافي والاجتماعي لمنظمة التعاون الاسلامي. ص ١٣٩
أ/ الرقي بالعلوم والتكنولوجيا وتطويرها والتعاون الثقافي بين الأعضاء
ب/ تعزيز دور الأسرة وحماية حقوق الانسان وصيانة الحريات.
- ٥) مبادئ منظمة التعاون الاسلامي. ص ١٤٠
أ. المساواة بين دول الاعضاء
ب. تسوية المنازعات بالطرق السلمية بين دول الاعضاء.
ج. احترام حق تقرير المصير وعدم التدخل في الشؤون الداخلية للدول الاعضاء.
- ٦) المنظمات والمؤسسات الاسلامية ص ١٤٥
أ. وكالة الأنباء الاسلامية الدولية (اينا)
ب. البنك الاسلامي للتنمية
ج. المنظمة الاسلامية للتربية والعلوم والثقافة (ايسيسكو)
د. مجمع الفقه الاسلامي
هـ. اللجنة الاسلامية للهلال الأحمر
- ٧) أهداف الصندوق الكويتي للتنمية ص ١٥٩
أ. تقديم القروض الميسرة للدول المحتاجة
ب. الإسهام في برامج التنمية.
ج. تقديم المنح.
- ٨) نطاقات عمل الصندوق الكويتي للتنمية ص ١٥٩
أ. المساعدات الزراعية
ب. المساعدات الصناعية
ج. المساعدات الصحية
د. المساعدات التعليمية
- ٩) الجمعيات والهيئات الخيرية في دولة الكويت ص ١٦٠
أ. جمعية الهلال الأحمر الكويتي
ب. الهيئة الخيرية الاسلامية العالمية
ج. بيت الزكاة

(٤) أقرأ الفقرات التالية ثم أجب مما يليها من أسئلة:

دعا عاهل المملكة العربية السعودية الملك فيصل بن عبدالعزيز آل سعود في مؤتمر القمة العربية الثالثة في عام ١٩٦٥ م إلى إنشاء تجمع يضم الدول الإسلامية، ولكن هذه الدعوة لم تر النور إلا بعد إحراق المسجد الأقصى في عام ١٩٦٩ م.

ص ١٣٧

١/ عرف ما تحته خط ص ١٣٧

الدولة الإسلامية هي التي يكون فيها نسبة المسلمين ٥٠% أو أكثر من نسبة مجموع سكانها ويحكمها حاكم مسلم*.

٢/ من صاحب الدعوة لإنشاء تجمع يضم الدول الإسلامية ؟ الملك فيصل بن عبدالعزيز آل سعود

٣/ ما سبب هذه الدعوة ؟ إحراق المسجد الأقصى في عام ١٩٦٩ م.

دعا سمو أمير دولة الكويت الراحل الشيخ/ جابر الأحمد الجابر الصباح من مدينة الدار البيضاء في نهاية الجلسة الختامية لمؤتمر القمة الإسلامي الرابع عام ١٩٨٤ م لعقد القمة المقبلة في الكويت في عام ١٩٨٧ م، وانتخب سمو الأمير رئيساً للمؤتمر بحضور ٤٤ دولة، حيث استعرض سموه عدة قضايا تواجه أمتنا الإسلامية، ومنها دعم القضية الفلسطينية. واعتبر خطابه من الوثائق الرسمية للمؤتمر لما فيه من أهمية للعالم الإسلامي، والدول الأعضاء في المنظمة.

ص ١٤٣

١- في أي عام أقيم المؤتمر الإسلامي الرابع ؟ ١٩٨٤ م

٢- في أي مدينة عقد مؤتمر القمة الإسلامي الرابع ؟ الدار البيضاء

٣- أين أقيم المؤتمر الإسلامي الخامس؟ دولة الكويت

٤- ما أهم قرارات المؤتمر الإسلامي الخامس؟

◆ دعم القضية الفلسطينية.

◆ الحرص التام على استقلال لبنان ووحدة أراضيه ورفض الاحتلال الإسرائيلي للجزء الجنوبي منه.

◆ ضرورة الوقف الفوري لكل عمليات الحربية بين الجمهورية العراقية وجمهورية إيران الإسلامية.

◆ الموافقة على مشروع النظام الأساسي لمحكمة العدل الإسلامية الدولية.

(٥) قارن بين كل من :

١- جوانب منظمة التعاون الاسلامي من حيث ص ١٣٩

وجه المقارنة	الجانب السياسي	الجانب الاقتصادي	الجانب الثقافي والاجتماعي
الأمم الارباب	١- تعزيز التضامن بين الدول الاعضاء. ٢- المصالح المشتركة بين دول الاعضاء ٣- دعم القضية الفلسطينية.	١- تعزيز التعاون الاقتصادي بين دول الاعضاء. ٢- بذل الجهود لتحقيق التنمية البشرية المستدامة و الشاملة. ٣- تقديم الدعم و المساعدات المالية الاقتصادية لدول الاسلاميه	١- الرقي بالعلوم و التكنولوجيا و تطويرها و التعاون الثقافي بين الدول الاعضاء. ٢- تعزيز دور الاسرة و حماية حقوق الانسان و صيانه الحريات.

٢- الجمعيات والهيئات الخيرية في دولة الكويت والصندوق الكويتي من حيث سنة التأسيس والهدف من التأسيس

وجه المقارنة	الهلال الاحمر الكويتي ص ١٦٠	الهيئة الخيرية الاسلامية العالمية ص ١٦٠	بيت الزكاة ص ١٦٠	الصندوق الكويتي ص ١٥٩
سنة التأسيس	١٩٦٦م	١٩٨٤م	١٩٨٢م	٣١/ديسمبر/١٩٦١م
الهدف من المؤسسة	مساعدة السلطات الرسمية في الجانب الانساني	تقديم خدماتها في جميع أنحاء العالم دون تمييز أو تعصب	جمع وتوزيع الزكاه بافضل و اجود الطرق المشروعة	١- تقديم القروض الميسرة للدول المحتاجة ٢- تقديم المنح. ٣- الإسهام في برامج التنمية.

٣. المنظمات و المؤسسات الاسلامية :- ص ١٤٥ / ١٥٢

الشعار	الاسم	سنة التأسيس	المقر	الأهداف	دورها
	اللجنة الاسلامية للهلال الدولي	١٩٨٣	بنغازي	١. تقديم الاسعافات الطبية و الانسانية في الكوارث الطبيعية أو بفعل الانسان. ٢. مساعدة المنظمات الدولية و المحلية المهتمة بخدمة الانسانية.	١/ مساعدة الدول الإسلامية في أوقات الكوارث والنكبات، بتقديم الدعم المالي والصحي والاجتماعي لتلك الدول المنكوبة. ص ١٤٨
	المنظمة الاسلامية للتربية و العلوم والثقافة (ايسيسكو)	١٩٨٢	الرياض	١. تقوية التعاون و التشجيع و تعميقه بين الدول الاعضاء في مجالات التربية و العلوم و الثقافة والاتصال. ٢. العمل على التكامل بين المنظمات التربوية في الدول الاعضاء.	١/ دعم المؤسسات العلمية داخل الدول الإسلامية، لمحاربة الأمية، والقضاء عليها باعتبارها عائقا أمام التقدم والتطور ص ١٤٧
	البنك الاسلامي للتنمية	١٩٧٥	جدة	١. دعم التنمية الاقتصادية و التقدم الاجتماعي للشعوب الاسلامية. ٢. تنمية التجارة الخارجية للدول الاعضاء و التبادل التجاري.	١/ دعم الجوانب المختلفة من احتياجات الدول الإسلامية كافة ٢/ تعزيز مكانتها بين دول العالم المتقدمة ص ١٤٦
	وكالة الانباء الاسلامية الدولية (اينا)	١٩٧٢	جدة	١. اقامة علاقات وثيقة بين الدول الاعضاء و تنميتها في ميدان الاعلام. ٢. تعريف الرأي العام العالمي بمشكلة الشعوب الاسلامية	١/ تغطية الشعائر الدينية ٢/ والتواصل بين الشعوب الإسلامية كافة ٣/ تحسين الرأي العام العالمي في عدالة الإسلام ومنهجيته المعتدلة، في ظل حملات التشويه الموجهة نحو الإسلام. ص ١٤٧
	مجمع الفقه الاسلامي	١٩٨٣	جدة	١. تحقيق الوحدة الاسلامية نظريا و علميا وفقا للشريعة الاسلامية ٢. تقوية ارتباط الامة الاسلامية بعقيدتها.	١/ يسعى إلى الاجتهاد الفقهي ٢/ القضاء على التطرف الفكري والتعصب الطائفي ٣/ تحقيق الوسطية الدينية بين عامة المسلمين ص ١٤٨

٤- المؤتمرات الاسلامية:-

وجهه المقارنة	المؤتمر الاسلامي الاول ص ١٤٢	المؤتمر الاسلامي الخامس ص ١٤٣	المؤتمر الاسلامي الثالث عشر ص ١٤٤
السنة	١٩٦٩	١٩٨٧	٢٠١٦
سبب الانعقاد	بسبب قيام الاحتلال الصهيوني الاسرائيلي بحرق المسجد الاقصى	تلبية لدعوة امير دولة الكويت الراحل الشيخ جابر الاحمد الصباح لاستضافة المؤتمر الخامس في دولة الكويت	
مقر الانعقاد	مدينة الرباط عاصمة مملكة المغرب	دولة الكويت	اسطنبول في تركيا
أهم القرارات	١- رفض اي حل للقضية الفلسطينية لا يكفل لمدينة القدس وضعها السابق لأحداث يونيو ١٩٦٧. ٢- تمسك المسلمين بالقدس وعزم حكومتها على تحريرها. ٣- بذل الجهود المشتركة لتحقيق الانسحاب السريع للقوات الإسرائيلية من كافة الاراضي الفلسطينية التي احتلتها بعد حرب يونيو ١٩٦٧	١- دعم القضية الفلسطينية. ٢- الحرص التام على استقلال لبنان و وحدة أراضيه و رفض الاحتلال الاسرائيلي للجزء الجنوبي منه. ٣- ضرورة الوقف الفوري لكل عمليات الحربية بين الجمهورية العراقية و جمهورية ايران الاسلامية. ٤- الموافقة على مشروع النظام الاساسي لمحكمة العدل الاسلامية الدولية.	١- التأكيد على مركزية قضية فلسطين و القدس الشريفية بالنسبة للامة الاسلامية. ٢- دعم الشعب الفلسطيني في حق تقرير المصير و انشاء الدولة الفلسطينية المستقلة. ٣- التأكيد على دعم لبنان في استكمال تحرير اراضيه من الاحتلال الاسرائيلي لها و الانسحاب من الاراضي اللبنانية المحتلة. ٤- التأكيد على أن تكون العلاقات التعاون بين الدول الاسلامية و الجمهورية الاسلامية الايرانية قائمة على مبدأ حسن الجوار و عدم التدخل في الشؤون الداخلية للدول و احترام استقلال و سيادة و وحدة أراضيه

ملحق الأحداث :

العام	الحدث	الصفحة	العام	الحدث	الصفحة
١٩٦١م	● استقلال دولة الكويت ● تأسيس الصندوق الكويتي للتنمية	١٥٨ ١٥٩	١٩٨٢م	❖ تأسيس مجمع الفقه الإسلامي ❖ تأسست اللجنة الإسلامية للهلال الدولي	١٤٥
١٩٦٥م	● مؤتمر القمة العربية الثالثة	١٢٧	١٩٨٤م	❖ انعقد المؤتمر الإسلامي الرابع ❖ تأسست الهيئة الخيرية الإسلامية العالمية	١٤٣ ١٦٠
١٩٦٦م	● جمعية الهلال الأحمر الكويتي	١٦٠/١٥٩	١٩٨٧م	❖ انعقد المؤتمر الإسلامي الخامس	١٤٣
١٩٦٩م	● تأسست منظمه التعاون الإسلامي ● احراق المسجد الأقصى ● انعقد المؤتمر الإسلامي الأول	١٢٨ ١٣٨-١٣٧ ١٤٢	٢٠١٢م	❖ عقدت القمة الخليجية ٣٣ في المنامة	١٦٠
١٩٧٢م	● تأسست وكالة الأنباء الإسلامية (اينا)	١٤٥	٢٠١٣م	❖ أول مؤتمر للمانحين لدعم الوضع الانساني في سوريا في دولة الكويت	١٦٠
١٩٧٥م	● تأسيس البنك الإسلامي للتنمية	١٤٥	٢٠١٤م	❖ اختيار الشيخ صباح الاحمد الصباح قائدا للعمل الانساني	١٦١
١٩٨٢م	● تأسست المنظمة الإسلامية للتربية والعلوم والثقافة (إيسيسكو) ● تأسيس بيت الزكاة	١٤٥ ١٥٩	٢٠١٦م	❖ انعقد المؤتمر الإسلامي الثالث عشر	١٤٤