



التاريخ: _____
الفصل: _____
العلامة: _____



أكتب وقت كل ساعة تحتها.



















أنا ♥ مدرستي





التاريخ: _____



الفصل: _____

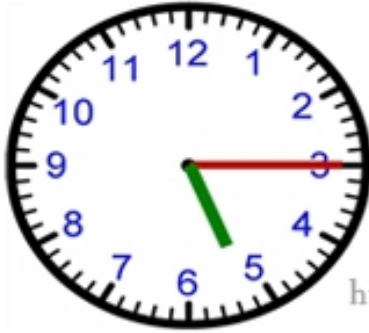
العلامة: _____

أكتب تحت الساعة الوقت المشار إليه بالعقارب.



















أنا ♥ مدرستي





التاريخ: _____
الفصل: _____
العلامة: _____



أكتب وقت كل ساعة تحتها.



















أنا ♥ مدرستي



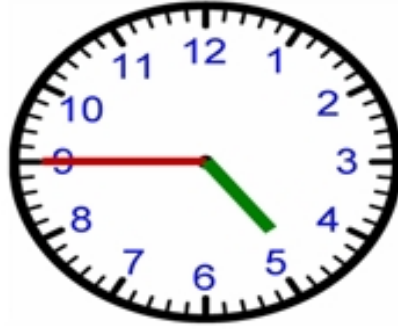


التاريخ: _____
الفصل: _____
العلامة: _____



أكتب وقت كل ساعة تحتها.



















أنا ♥ مدرستي





التاريخ: _____
الفصل: _____
العلامة: _____



أكتب وقت كل ساعة تحتها.



















أنا ♥ مدرستي





التاريخ: _____
الفصل: _____
العلامة: _____



أكتب وقت كل ساعة تحتها.



















أنا ♥ مدرستي





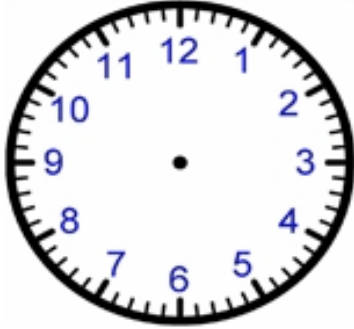
التاريخ: _____



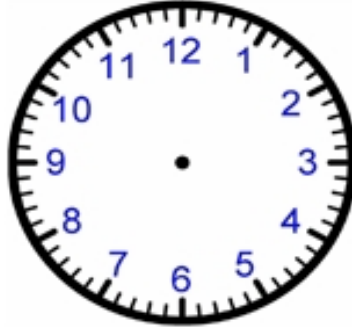
الفصل: _____

العلامة: _____

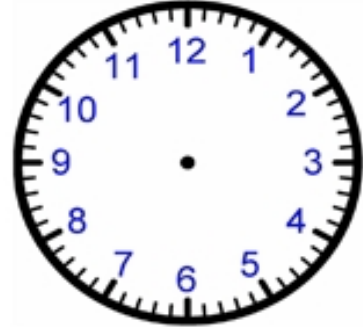
أرسم عقارب الساعة حسب الوقت المسجل تحتها.



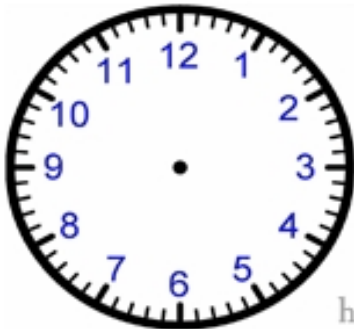
10:40



5:00



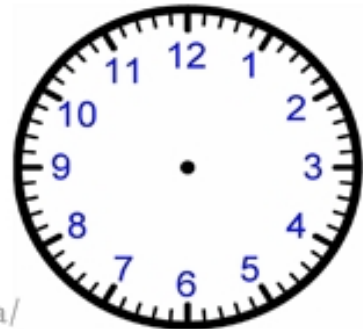
6:20



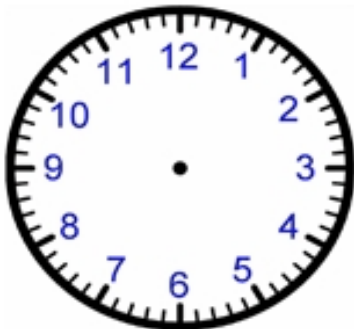
6:40



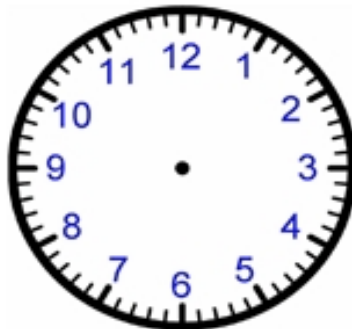
8:20



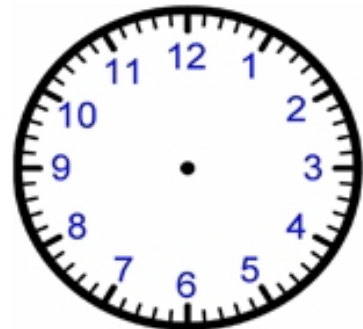
3:00



12:00



11:40



2:00

أنا ♥ مدرستي



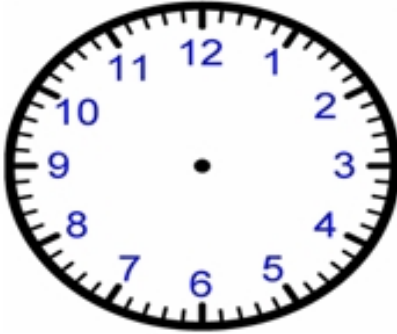


التاريخ: _____

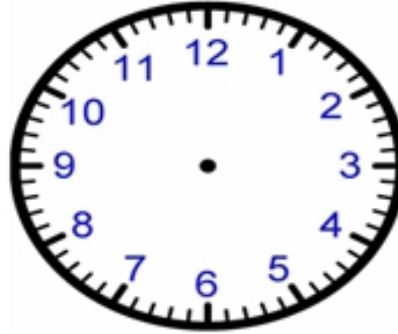
الفصل: _____

العلامة: _____

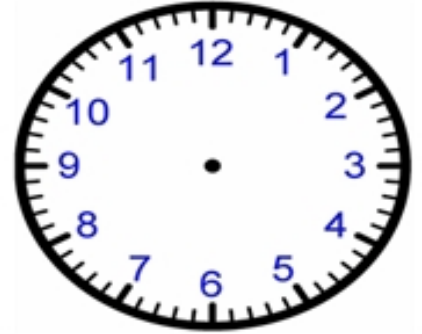
أرسم عقارب الساعة حسب الوقت المسجل تحتها.



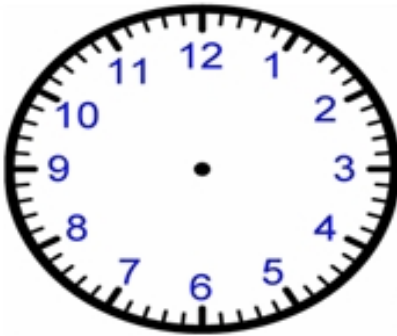
11:00



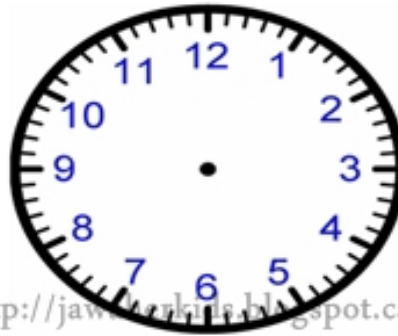
6:00



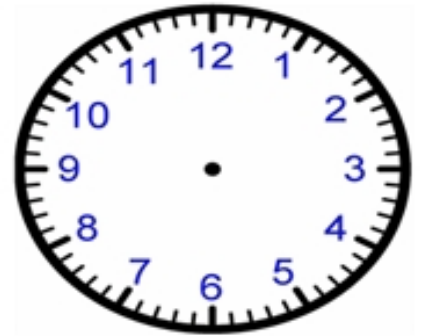
4:00



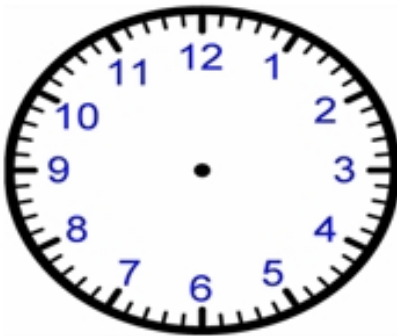
5:00



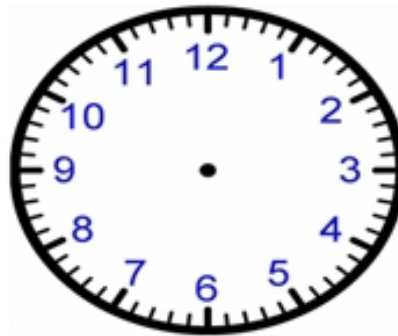
5:00



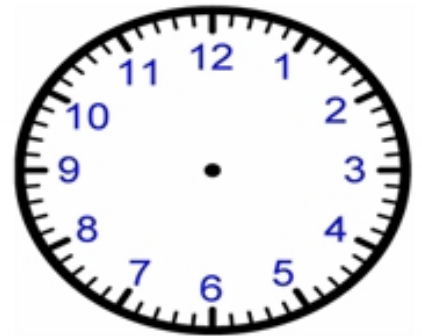
7:00



11:00



1:00



10:00

أنا ♥ مدرستي



المادة / رياضيات

الصف / الثاني الابتدائي

الموضوع / الوقت بنصف ساعة


التاريخ /

الاسم /


الحصة /

✎ - اكتب الوقت الذي تشير اليه الساعة :

- ١



- ٢



بسم الله الرحمن الرحيم

المادة / رياضيات

الصف / الثاني الابتدائي

الموضوع / الوقت بالساعات الكاملة

التاريخ /

الاسم /

الحصّة /

مثال : استعمل الصورة وأكتب الوقت الذي تشير اليه الساعة

::

- ١



- ٢



المادة / رياضيات

الصف / الثاني الابتدائي

الموضوع / الوقت لأقرب ٥ دقائق

التاريخ /

الاسم /

الحصة /

🧠 - أقرأ الساعة ثم أكتب الوقت الذي تشير اليه ..

- ١



..... :



..... :

- ٢



..... :



..... :

المادة / رياضيات

الصف / الثاني الابتدائي

الموضوع / الوقت بالساعات الكاملة ونصف الساعة

التاريخ /

الاسم /

الحصة /

🧠 - أقرأ الساعة ثم أكتب الوقت :

- ١



- ٢



المادة / رياضيات

الصف / الثاني الابتدائي

الموضوع / الوقت بربع ساعة


التاريخ /

الاسم /


الحصّة /

👉 - أقرأ الساعة ثم ارسمي عقرب الدقائق على الوقت المعطى .

- ١



- ٢



المادة / رياضيات

الصف / الثاني الابتدائي

الموضوع / النشاط والزمن

التاريخ /

الاسم /

الحصة /

أحيط النشاط الذي يستغرق زمنا أطول .

١ -



٢ -



المادة / رياضيات

الصف/ الثاني الابتدائي

الموضوع/ تقدير الزمن

التاريخ/

الاسم /

الحصّة/

✿ - قدر الزمن اللازم لكل مما حدث مما يأتي . ثم أحيط إجابتك .

١- تحضير حقيبة المدرسة .



ثَانِيَّةً وَاحِدَةً دَقِيقَةً وَاحِدَةً سَاعَةً وَاحِدَةً

٢- اللعب في الحديقة



ثَانِيَّةً وَاحِدَةً دَقِيقَةً وَاحِدَةً سَاعَةً وَاحِدَةً



الزمن - الوقت رقميا

بدأت هند مساعدة والدتها في أعمال البيت
في الوقت الذي تشير إليه الساعة المجاورة،
وانتهت من ذلك الساعة 5:55 مساءً
ما الزمن المستغرق لهذا النشاط؟
ساعة وخمسة وأربعون دقيقة
خمسة وأربعون دقيقة
ساعة ونصف
ساعة وخمسة وثلاثون دقيقة



الوقت قبل وبعد

طول الفترة الزمنية بين وقت البدء ووقت

الانتهاء الموضحين أعلاه هو:

ساعة وخمس دقائق

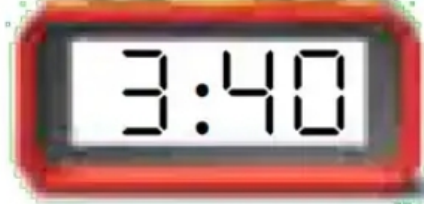
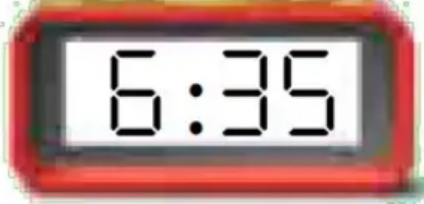
ساعة وخمس وخمسون دقيقة

ساعتان

ساعتان وخمس دقائق

تدريبات الزمن وحل مسائل الوقت

وقت
الانتهاء



وقت
البدء

قبل انتهاء الوقت وبعد انتهاء الوقت

الزمن المستغرق بين وقت الانتهاء ووقت
البدء الموضحين أعلاه هو:

٣ ساعات

ساعة وخمسة وخمسون دقيقة

ساعتان وخمسة وخمسون دقيقة

٣ ساعات وخمسة دقائق



وقت الانتهاء



وقت البدء

قبل وبعد انتهاء الوقت

بدأ محمد تدريباته في النادي الرياضي الساعة 3:05 بعد الظهر وأنهاها الساعة 4:35 مساءً. ما الزمن الذي استغرقه في التدريب؟