

الاسم :

الصف :

السؤال الأول :-



عدد الصفوف المتساوية _____

عدد العناصر في كل صف _____

_____ = _____ × _____

(ب) عبر عن عدد الكل بعباراة ضرب مناسبة

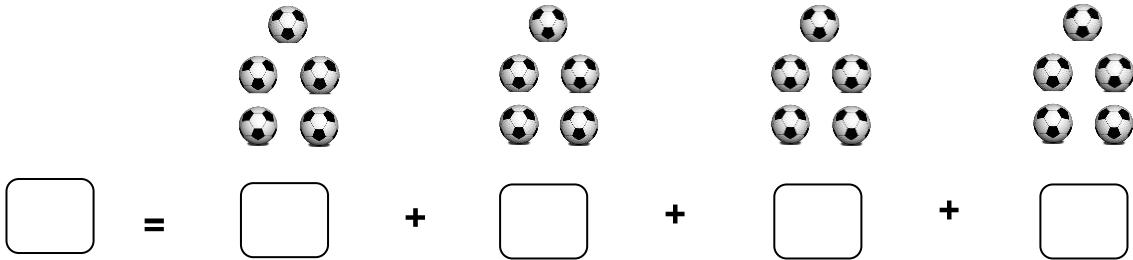


_____ = _____ × _____

السؤال الثاني :- أكمل :

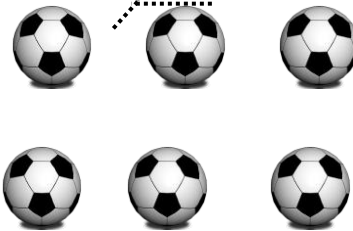
(أ) ٢ ، ٤ ، _____ ، ٨ ، _____ ، ١٤

(ب) عبر عن عدد العناصر :



□ = □ + □ + □ + □

(أ) حوط ما يمثل الثلث :



(ب) ظل نصف عدد التفاح :

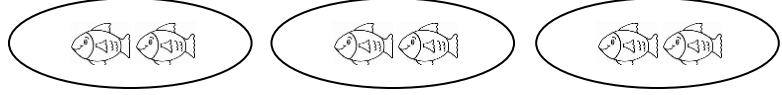


(ج) لون ما يمثل الربع :



السؤال الثالث :- أختار الإجابة الصحيحة بوضع ✓

(أ) عدد كل الأسماك هو :



$2+2+2$

$3+3+3+3$

$4+4+4$

(ب) $5 \times 2 =$

3×6

2×5

2×4

انتهت الأسئلة مع تمنياتنا بالتوفيق

مديرة المدرسة : أ/فاطمة مبارك

اعداد المعلمة: وفاء الشملان

رئيسة القسم : أ/عذاري البطحاني