




وزارة التربية
الإدارة العامة لمنطقة الأحمدية التعليمية
مدرسة هدية الابتدائية بنين

• وسائل الوحدة (١٤)

للصف الثاني



• المعلمة : رباب حسيني


إعداد

• رئيسة القسم : شيماء المطيري

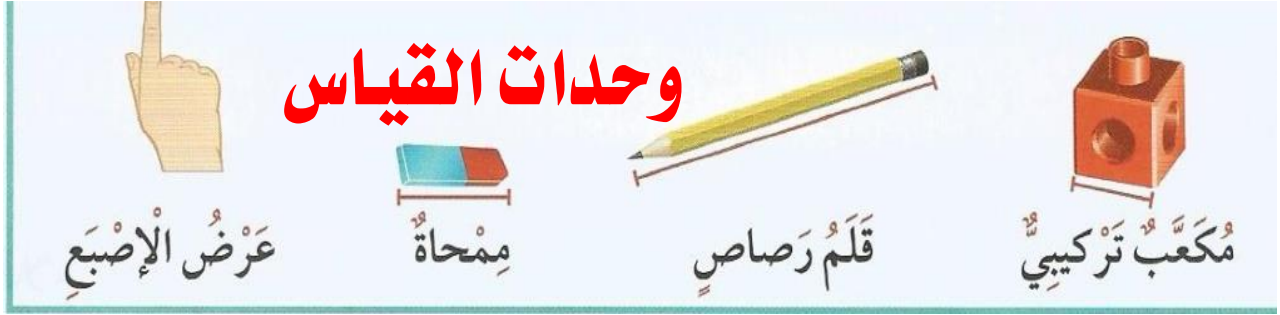
إشراف

• قياس الطول بوحدات غير مقننة

بند (٤-١) (١)


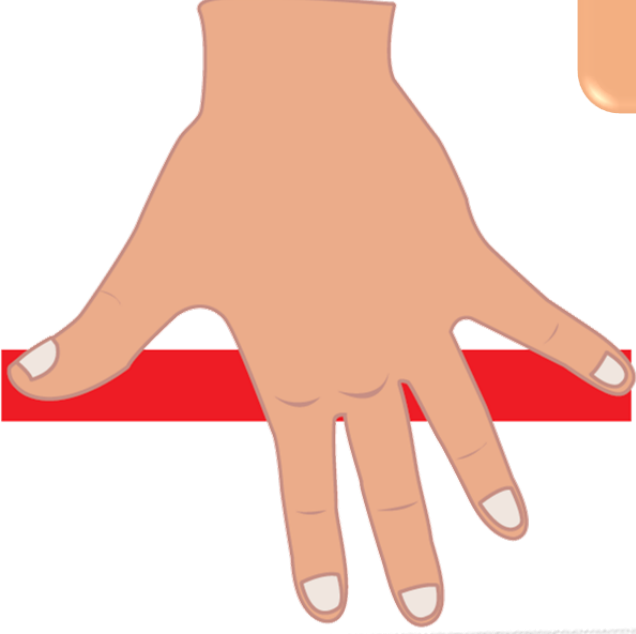


قس طول الأشياء مستخدماً وحدتي قياس مختلفين ثم أكمل الجدول



القياس	وحدة القياس	الشيء المقاس
تقريباً _____	_____	_____
تقريباً _____	_____	
تقريباً _____	_____	_____
تقريباً _____	_____	
تقريباً _____	_____	_____
تقريباً _____	_____	

أَكْمَل

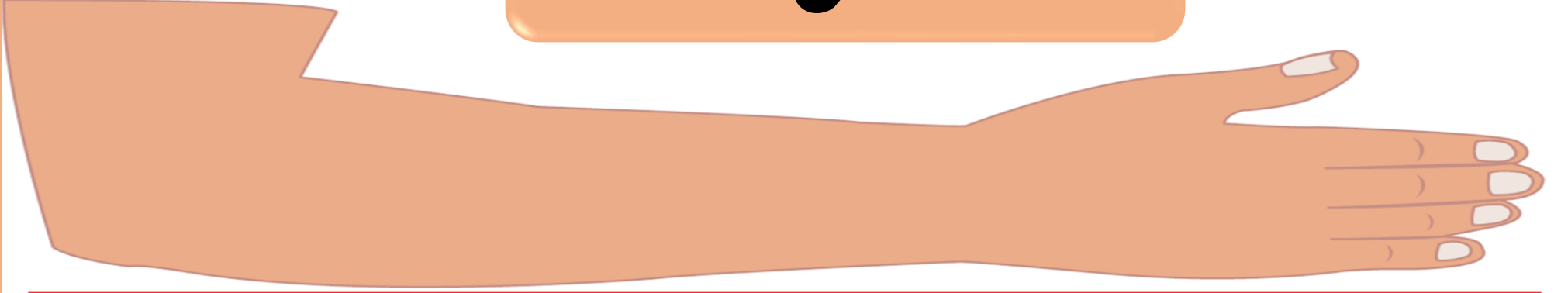


شِبْر



طَوَّل السَّيْفَ

أَكْمَل



ذراع



طول السيف

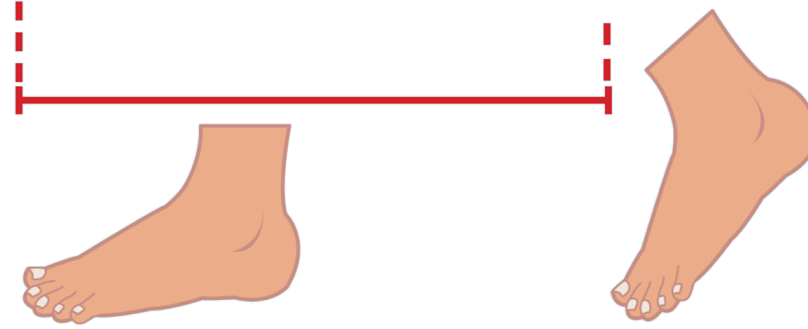
أكمل

وَحْدَةٌ



طول القلم وحدات

أُكْمَل



خَطْوَةٌ


خطوة



طول فصلك

• قياس الطول بوحدات مقننة (السنتيمتر - المتر)

بند (٤ - ٢)



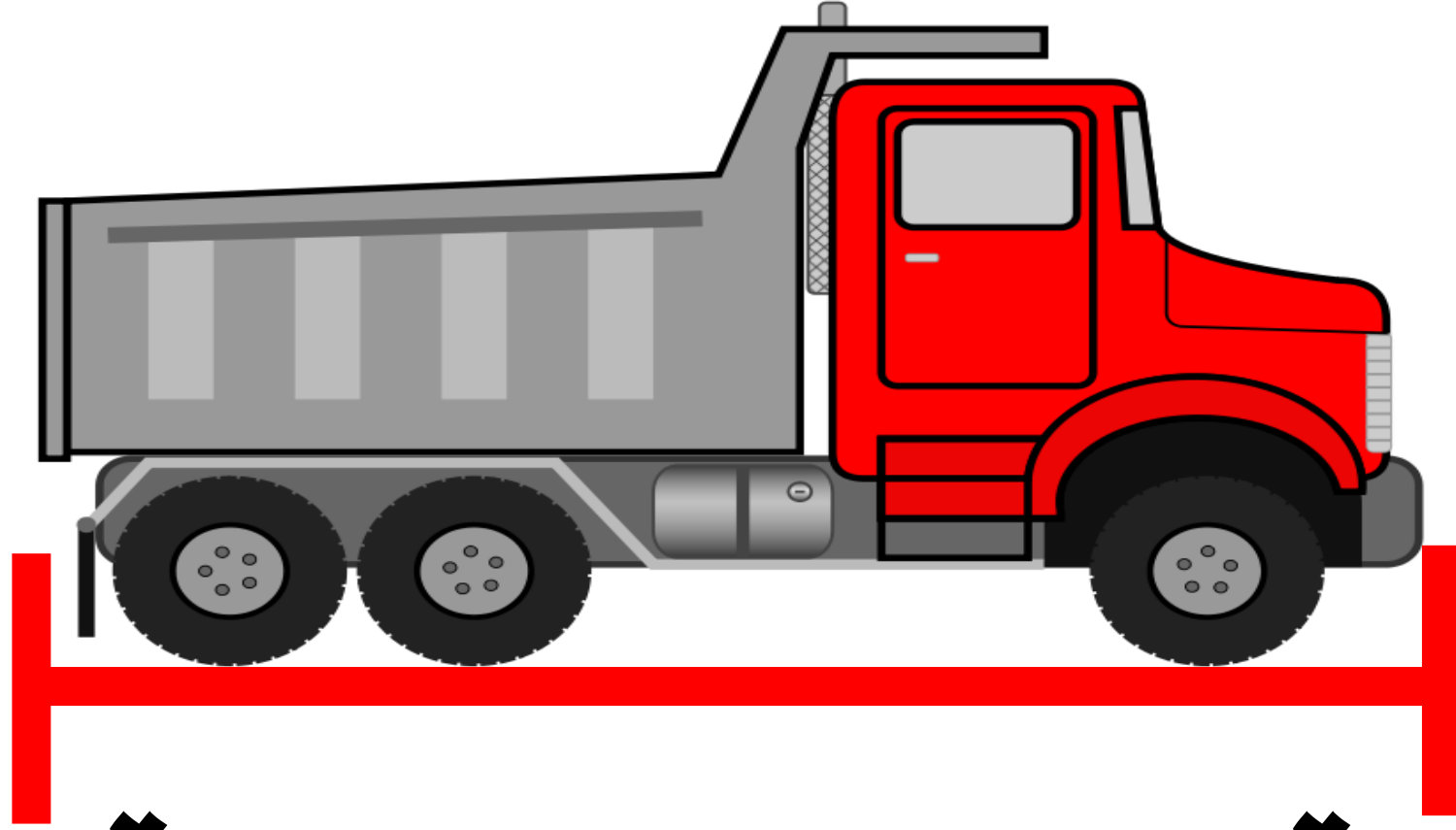
حوط وحادة القياس المناسبة .



متر

سنتيمتر

حوط وحدة القياس المناسبة .



متر

سنتيمتر


حوط وحدة القياس المناسبة .



متر

سنتيمتر

حوط التقدير المناسب .



٤ أمتار .

٤ أمتار

حوط التقدير المناسب .



٧٠ سنتيمترات

٧ سنتيمترات

قدر طول الأشياء ، ثم قس باستخدام

(المسطرة-المسطرة المترية)

القياس

التقدير

الأشياء


تقريباً — سنتيمتراً

تقريباً — سنتيمتراً




تقريباً — متر

تقريباً — متر

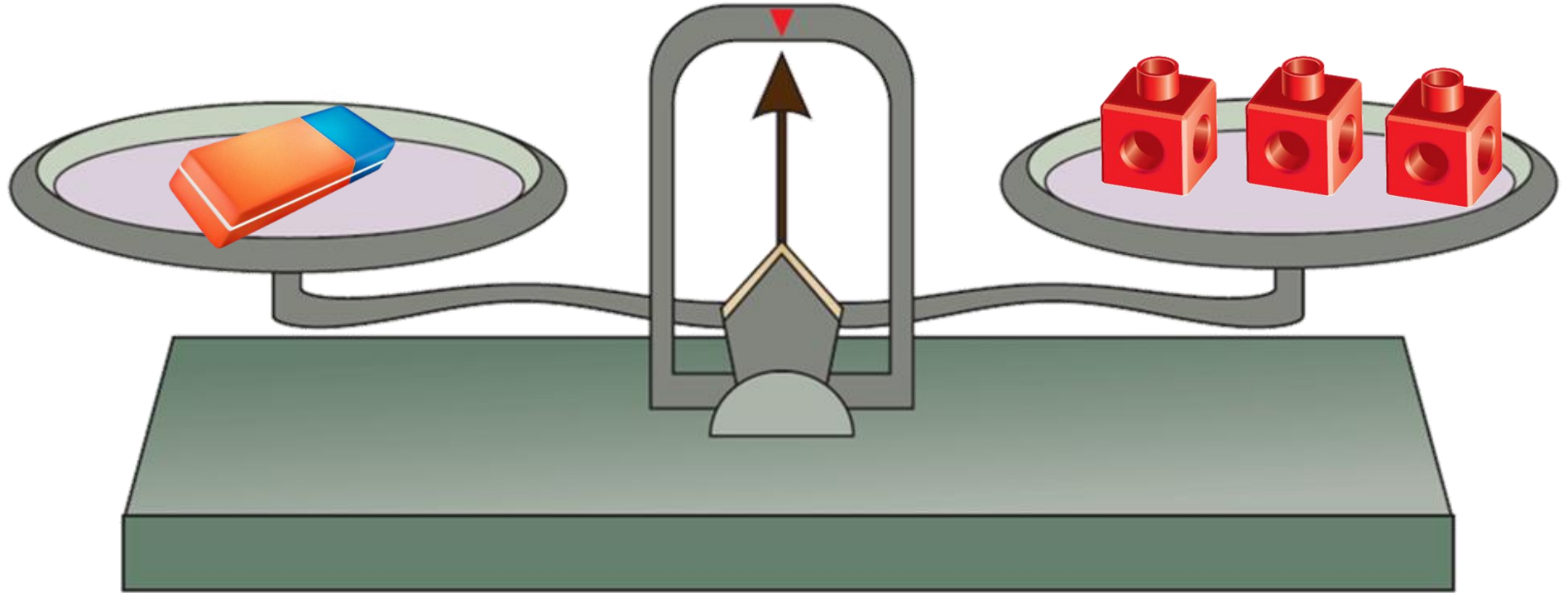




• قياس الوزن بوحدات غير مقننة

بند (٤-٣)

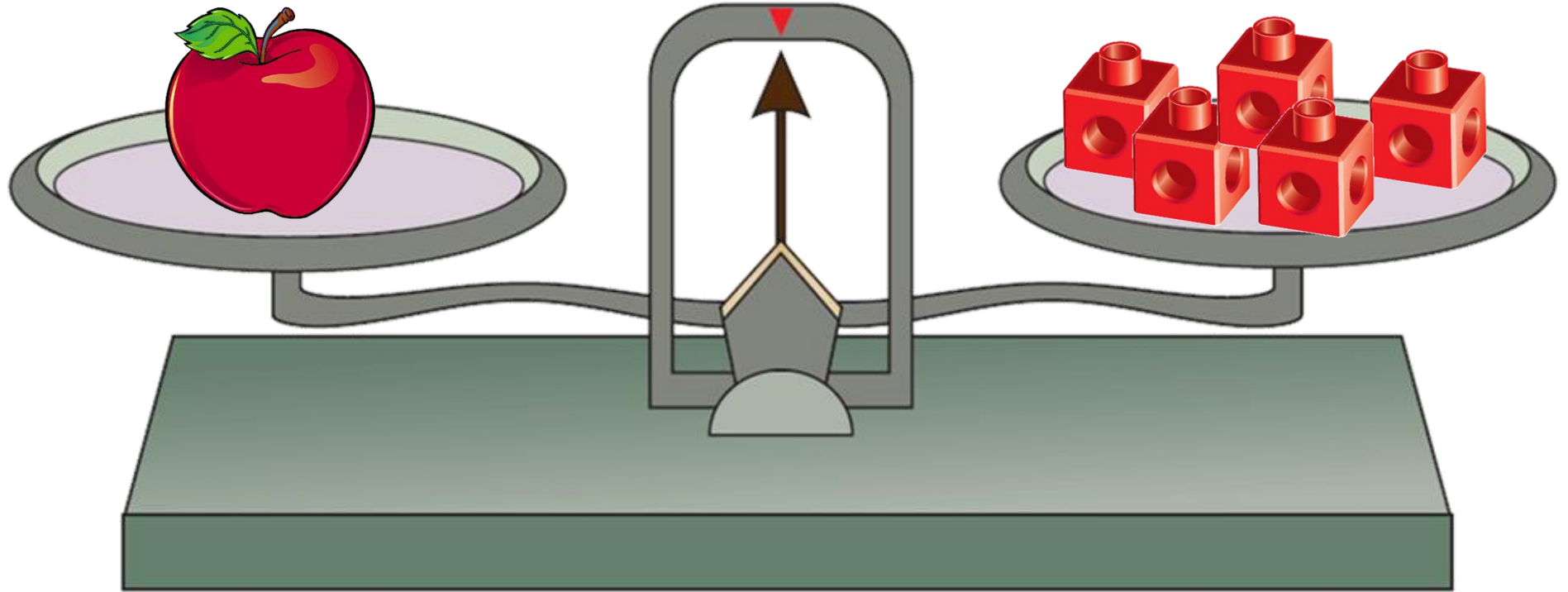


أكمل الفراغ



 _____ =  وزن

أكمل الفراغ

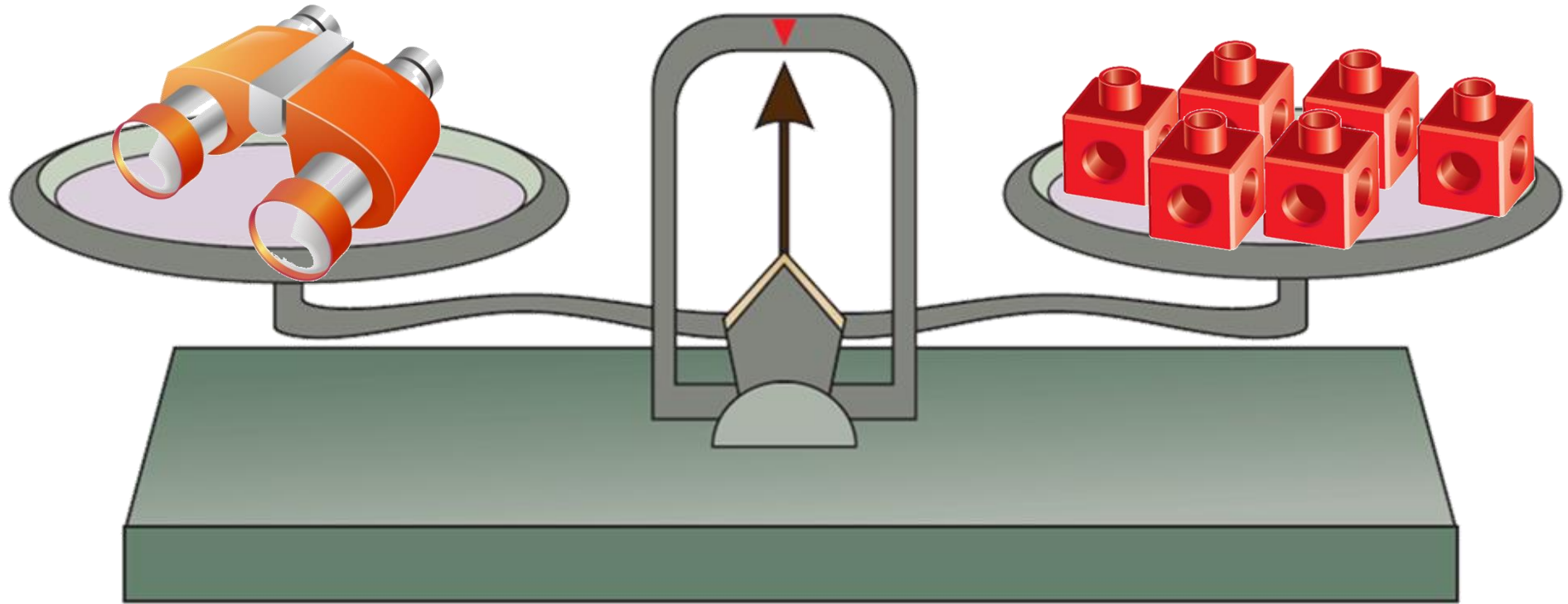




=



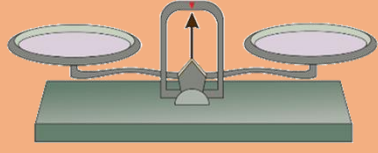
وزن

أكمل الفراغ



 ————— =  وزن

قَدْر . قِسْ مَسْتَخْدَمًا و



القياس

التقدير

الأشياء



تقريباً —



تقريباً —



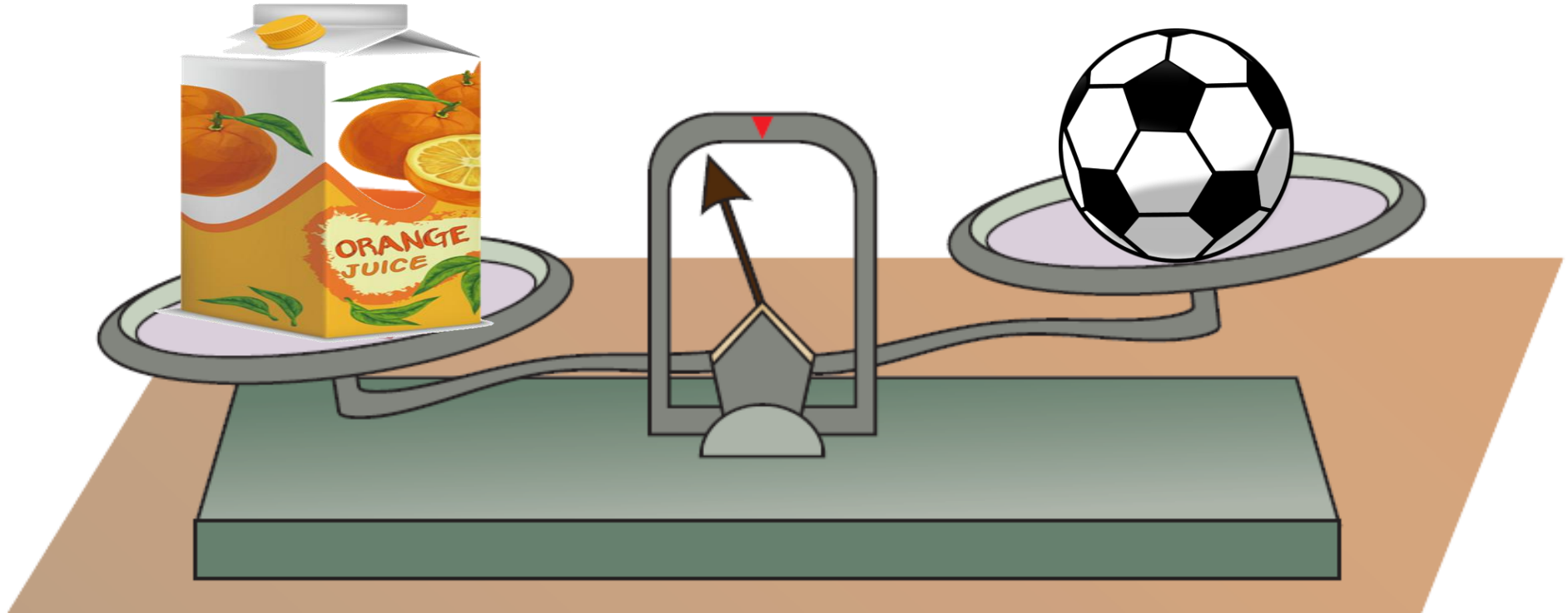
تقريباً —



تقريباً —



حوظ لإكمال الجملة التي تعبر عن الصورة




وزن الكرة — وزن علبه العصير

أخف من أثقل من يساوي

• قياس الوزن بوحدات مقننة (الكيلوجرام)

بند (٤ - ١)



حوط العبارة المناسبة

أخف من ١ كيلو جرام

تقريباً ١ كيلو جرام

أثقل من ١ كيلو جرام



حوط العبارة المناسبة

أخف من ١ كيلو جرام

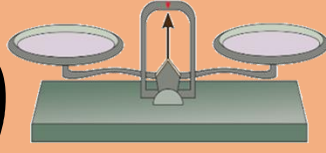
تقريباً ١ كيلو جرام

أثقل من ١ كيلو جرام





قدر . قس مستخدماً و



قس

قدر

الأشياء

تقريباً — كيلو جرام

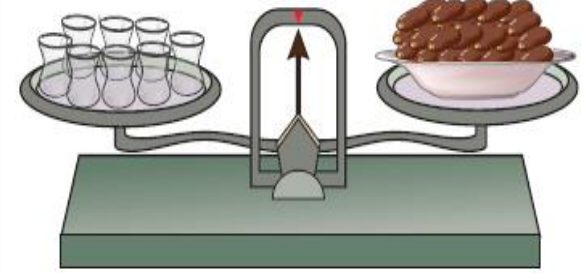
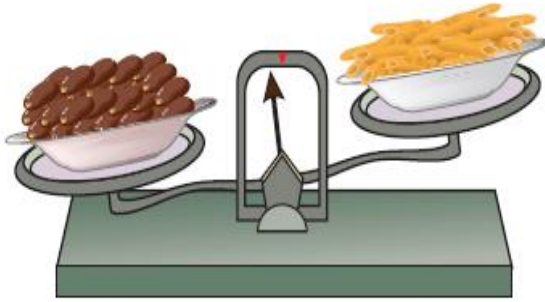
تقريباً — كيلو جرام



تقريباً — كيلو جرام

تقريباً — كيلو جرام





٣ صل.

٢

•

أكثر

•

٨

•

أقل

•

• أ وزنُ  يساوي وزنَ  .


• ب وزنُ  يساوي _____ كيلو جرام.

• ج وزنُ  _____ من ٢ كيلو جرام.

• د وزنُ  _____ من ٨  .

• قياس السعة بوحدات غير مقننة

بند (٤-٥)





كم كوباً تسع إذا ملأتها بالماء؟

اكتب العدد المناسب



—





كم كوباً تسع إذا ملأتها بالماء؟

اكتب العدد المناسب





كم كوباً تسع إذا ملأتها بالماء؟

اكتب العدد المناسب



كم كوباً تسع إذا ملأتها بالماء؟

اكتب العدد المناسب



كم كوباً تسع إذا ملأتها بالماء؟

اكتب العدد المناسب





كم يسع كل إناء ؟ حوط التقدير المعقول



تقريباً ٤



تقريباً ٤






كم يسع كل إناء ؟ حوط التقدير المعقول



تقريباً



تقريباً





كم يسع كل إناء ؟ حوط التقدير المعقول



تقريباً ٣



تقريباً ١





كم يسع كل إناء ؟ حوط التقدير المعقول



تقريباً ،



تقريباً ،



نون الإجابة الصحيحة



٢

ومها لديها



٤


فاطمة لديها

مها لديها ماء أكثر

كلاهما لديه كمية الماء نفسها

• قياس السعة بوحدات مقننة (الليتر)

بند (٤ - ١ - ٦)



حوط الإجابة الصحيحة



إذا كان: ١ ليتر



أكثر من ١ ليتر
يساوي ١ ليتر
أقل من ١ ليتر



يسع

حوط الإجابة الصحيحة



إذا كان: ١ ليتر



أكثر من ١ ليتر
يساوي ١ ليتر
أقل من ١ ليتر



يسع

يشرب طفل ٥ أكواب من الحليب كل يوم .

هل تستطيع أن تحدد بالليتر كم ليترًا يشرب كل يوم

أكثر من ١ ليتر


يساوي ١ ليتر

أقل من ١ ليتر



• النقود المعدنية

بنء (٤ - ٧)



عد النقود ، ثم اكتب قيمة الكل .

فلساً _____



عد النقود ، ثم اكتب قيمة الكل .



فلساً _____

عد النقود ، ثم اكتب قيمة الكل .



فلساً _____

عد النقود ، ثم اكتب قيمة الكل .



فلس —

عد النقود و اكتب قيمة الكل ، ثم حوط اللعبة التي يمكن أن تشتريها



فلسًا _____



ب

عد النقود و اكتب قيمة الكل ، ثم حوط اللعبة التي يمكن أن تشتريها .




فلسًا _____



• النقود الورقية

بنءء (٤ - ٨)



اختر مجموعة أشياء لتشتريها من متجر الألعاب



سَجِّلْ مُشْتَرِيَاتِكَ.

أَكْمَلْ



خالد



سالم

لدى سالم — دينار و فلساً

أَكْمَلْ



خالد



سالم

لدى خالد — دينار و فلساً

أَكْمَل



خالد



سالم

— لديه أكثر من —

أكمل



خالد



سالم

مجموع ما لديهما هو — دينار و — فلساً

أَكْمَلْ



خالد




سالم

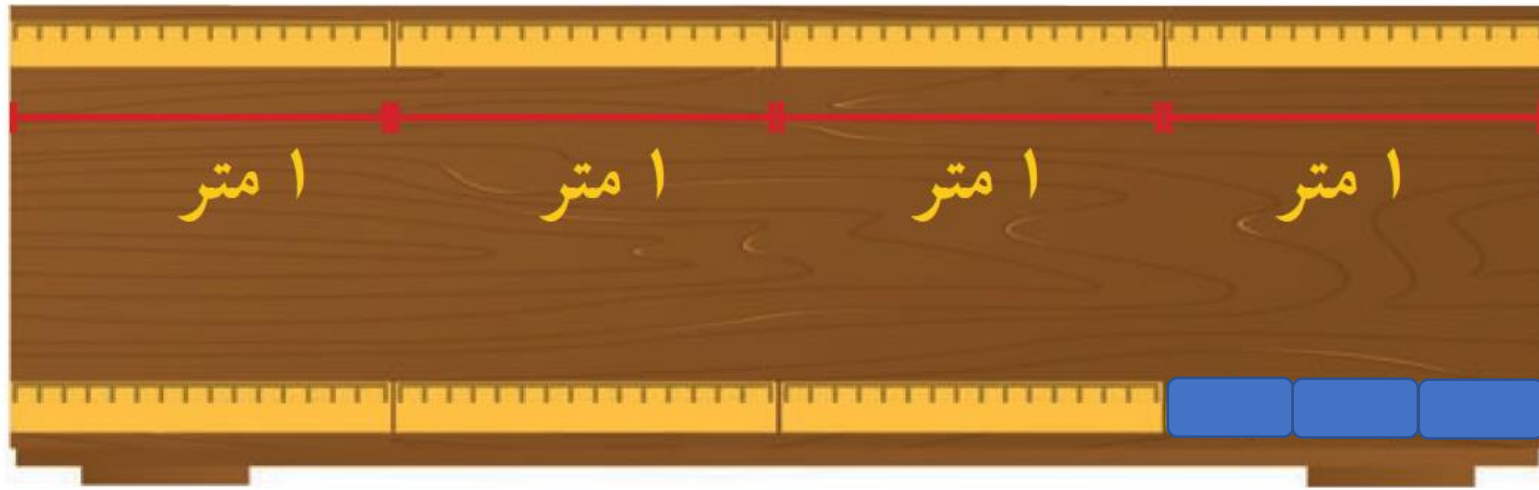
سالم لديه ————— دنانير و ————— فلساً أكثر من خالد

• إيجاد العدد المجهول



بند (٤-١-٩)



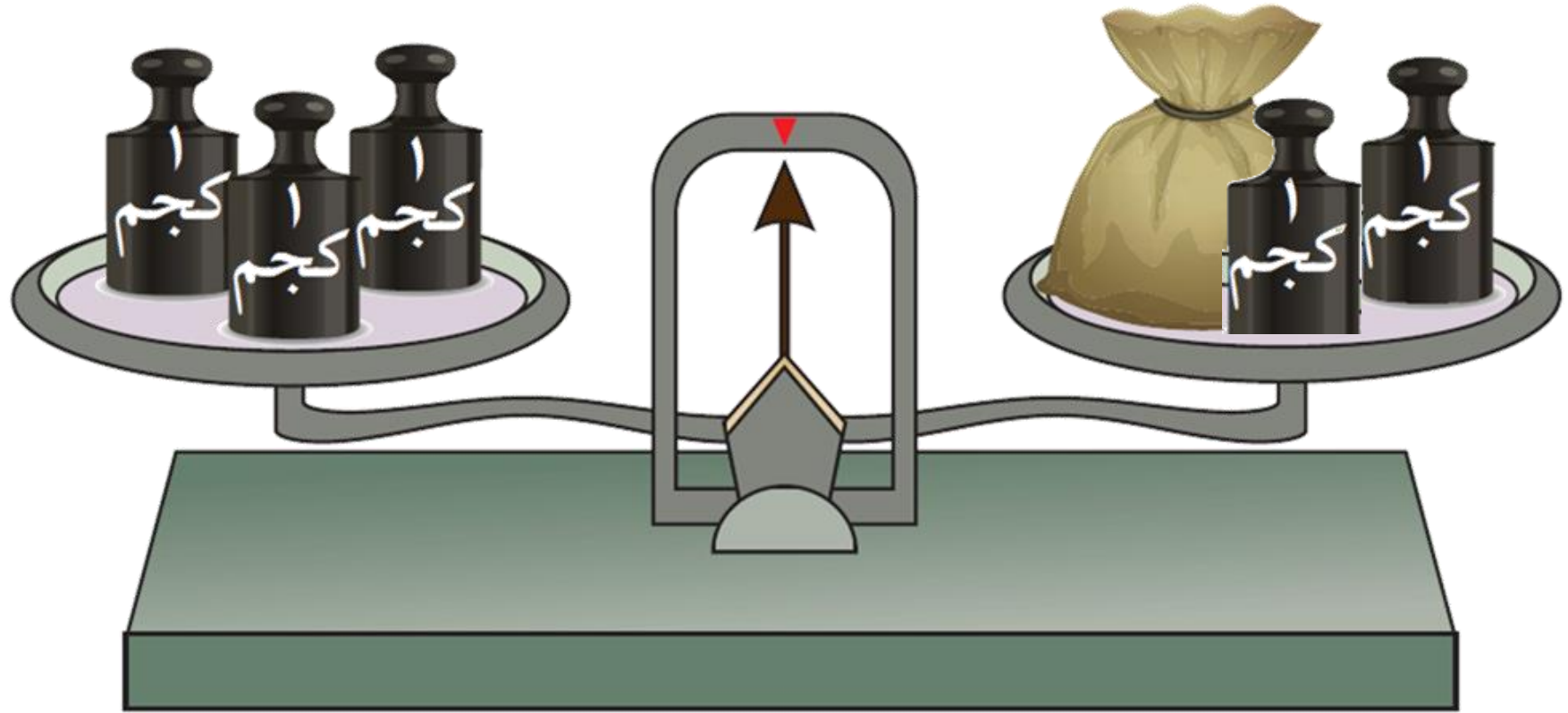
أكمل



إذا كان


فإن طول  يساوي  متر

أَكْمَل



فإن وزن  يساوي — كيلوجرام

أَكْمَل



يَسَعُ ١٠ لِيْتَرَاتٍ وَ



إِذَا كَانَ

فَإِنَّ سَعَةَ  يُسَاوِي _____ لِيْتَرَاتٍ.

حل المسألة

قيمة ما داخل الكيس ١٠ دنانير ،

فكم سعر الدمية ؟




سعر ————— دنانير



•مراجعة الوحدة الرابعة عشر

بند (٤-١٠)






حوظ الكوب الذي سعته أصغر



حوط الشيء الأخرى




أكمل

الأشياء	التقدير	القياس
	تقريباً — سنتيمتراً	تقريباً — سنتيمتراً
	تقريباً — كيلو جرام	تقريباً — كيلو جرام
	تقريباً — لتر	تقريباً — لتر

حوط التقدير المناسب .

تقريباً ،
تقريباً ،
متر ،
متر



حوط التقدير المناسب .

تقريباً ٢ كيلو جرام

تقريباً ١ كيلو جرام



حوط التقدير المناسب .

تقريباً ٢٠٠٠ دينار

تقريباً ٢٠٠٠ دينار



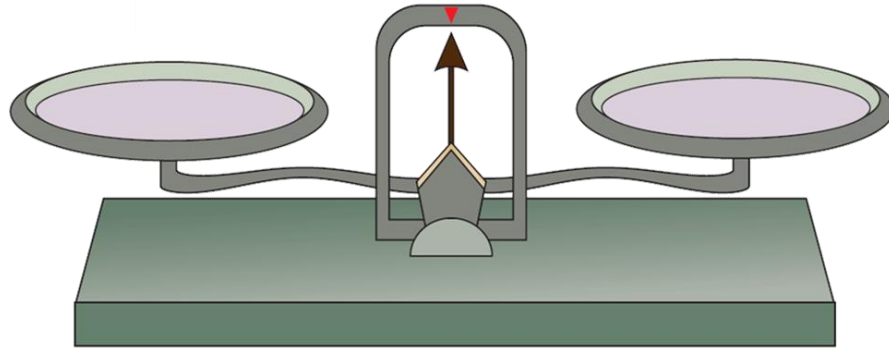
حوط التقدير المناسب .

تقريباً ٢ متر

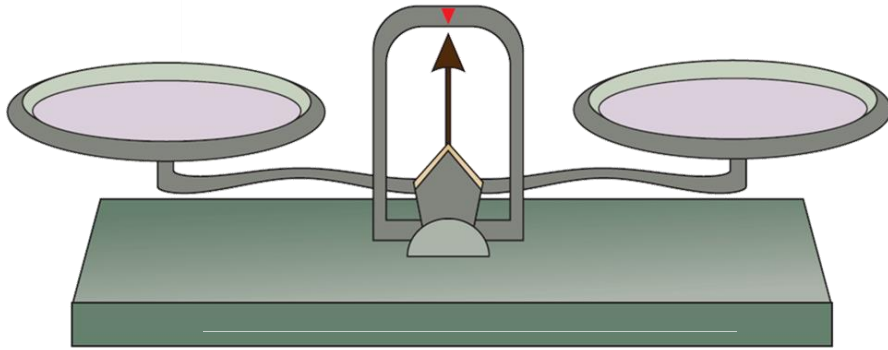
تقريباً ٢ متر



حوظ الأداة المناسبة للقياس .



حوظ الأداة المناسبة للقياس .



حوظ الأداة المناسبة للقياس .

