

ورقة عمل للصف الثاني الابتدائي للوحدة الثامنة والتاسعة والعاشره



وزارة التربية
الإدارة العامة لمنطقة الأحمدى التعليمية
مدرسة محمد سليمان الجراح


٢- استخدم خط الأعداد لإيجاد الناتج



$$\underline{\quad} = 5 \div 15$$

$$\underline{\quad} = 3 \div 12$$

١- اوجد الناتج



$$\square = 2 \div 8$$

$$\square = 4 \times 2$$


٤- حوّل مايمثل النصف :




٣- حوّل مايمثل الثلث :



٦- لون مايمثل الثلث :



٥- لون مايمثل الربع :



٧- اوجد العدد الناقص :

$$2 = \square \div 12$$

$$3 = \square \div 9$$

رئيسة القسم : أ- عذارى البطحاني

أعداد المعلمة : فجر الدوسري

