




اعداد المعلمة
فاطمة الدماك




تريد إحدى شركات الإطارات
توزيع ٥٢٤ إطارات على ٣ محطات
بالتساوي لتزويد أحد المحلات.
فكم إطار توضع في كل محطة؟
وكم إطاراً يبقى؟



$$\square \text{ والبقية } \square = 9 \div 66.$$

$$\square \text{ والبقية } \square = 8 \div 777.$$



ج

ج

ج

ج

ج


۸

۳

۸

۸

ج



لدى محمد ٦٤٨ كتابا يريد
توزيعها على ٦ أرفف بالتساوي.
فكم كتاباً يضع في كل رف؟



لنفترض أنك قسمت ٤٢٧ على ٧
وحصلت على النتيجة ٦٠ والباقي ٧
وضح كيف تبين أن الإجابة خطأ.

اكتب عددا مكونا رمزه من رقمين عند
قسمة على ٦ يكون الباقي ٥.


٧

٣

٧

٧

٧




۸


۳

۸

۸



ج



٨

٣

٨

٨

٨

