

-عدي النقود واكتبي قيمة الكل-

لدى سالم _____ دينار و _____ فلساً



لدى سالم _____ دينار



لدى خالد _____ دينار و _____ فلساً



حوظ الكوب الذي سعته أصغر




حوظ الشيء الاخف



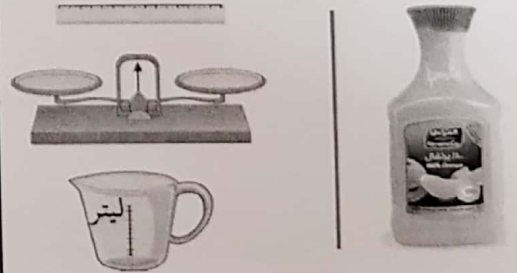
حوظ الأداة المناسبة للقياس .



حوظ الأداة المناسبة للقياس .



حوظ الأداة المناسبة للقياس .



اختراري الاجابه الصحيحه


1 متر = ---- سنتيمتر

1 كيلومتر = 1000 متر

السؤال الأول: حوط الأداة المناسبة للقياس:



السؤال الثاني: (أ) حوط الوعاء الذي سعته أكبر



ب) حوط الشيء الأثقل:



السؤال الثالث: اختر الإجابة الصحيحة بوضع (✓):

(١) وزن الفيل ١ كجم

يساوي



أثقل من



أخف من



(٢) ١٠٠ سنتمتر = متر

١٠٠

١٠

١



السؤال الرابع: أكمل الفراغ

٥ مكعبات = 

وزن مكعبات = 

السؤال الخامس: اكتب قيمة الكل:


..... فلسا




..... ديناراً




السؤال الأول: حوط الأداة المناسبة للقياس:



السؤال الثاني: (أ) حوط الوعاء الذي سعته أكبر



(ب) حوط الشيء الأثقل:



السؤال الثالث: اختر الإجابة الصحيحة بوضع (✓):


١ كجم

(١) وزن الفيل

يساوي

أثقل من

أخف من



(٢) ١٠٠ سنتمتر = متر

١٠٠




١٠



١




السؤال الرابع: أكمل الفراغ

٥ مكعبات = 


وزن  = ١٠ مكعبات

السؤال الخامس: اكتب قيمة الكل:

١١٠ فلساً



٣٣ ديناراً




ورقة عمل للصف الثاني الابتدائي عن الوحدة الرابعة عشر


الفصل الدراسي الثاني

- عدي النقود واكتبي قيمة الكل

لدى سالم ٣ دينار و ١٥ فلساً



لدى سالم ١٢ دينار



لدى خالد ٥٠ دينار و ٢٥ فلساً



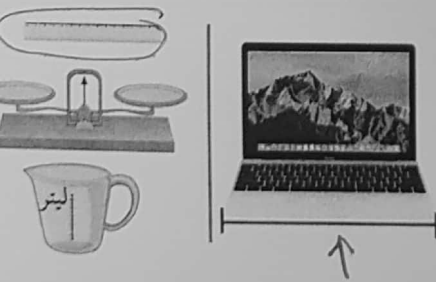
حوظ الكوب الذي سعته أصغر




حوظ الشيء الأخف



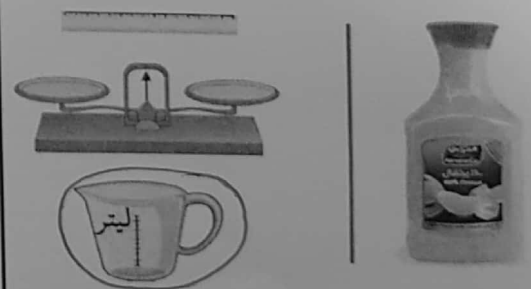
حوظ الأداة المناسبة للقياس .



حوظ الأداة المناسبة للقياس .



حوظ الأداة المناسبة للقياس .



اختاري الاجابه الصحيحه

١ متر = ١٠٠ سنتيمتر

١ كيلومتر = ١٠٠٠ متر