


اكتب الوقت الذي تدل عليه الساعة

اكتب الوقت الذي تدل عليه الساعة

اكتب الوقت الذي تدل عليه الساعة



الساعة \_\_\_\_

الساعة \_\_\_\_ و النصف

الساعة \_\_\_\_ و الربع

حوظ الإجابة الصحيحة

حوظ الإجابة الصحيحة

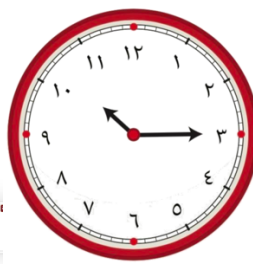
تشير الساعة إلى الثالثة و \_\_\_\_ .

الساعة الآن العاشرة و الربع .



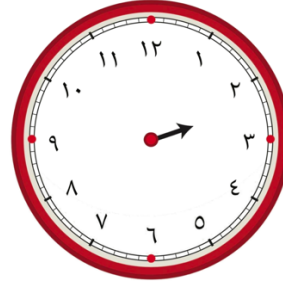
النصف

الربع



صل نموذج الساعة بالوقت المناسب لها

ارسم العقرب الكبير ليبدل على الوقت الموضح



الساعة الواحدة  
والنصف

الرابعة

الساعة السادسة  
والربع

الساعة الثانية و النصف

ارسم العقرب الكبير ليبدل على الوقت الموضح

ارسم العقرب الكبير ليبدل على الوقت الموضح





الساعة الرابعة و النصف

الساعة الخامسة و الربع

ارسم عقربي الساعة اللذين يدلان على الوقت

اكتب أكثر أو أقل من دقيقة .



التاسعة و الربع

الواحدة و النصف

أصلي صلاة العصر



من الدقيقة \_\_\_\_\_

اكتب أكثر أو أقل من دقيقة .

اكتب أكثر أو أقل من دقيقة .



أكتب اسمي


من الدقيقة \_\_\_\_\_



أتناول وجبة الإفطار

من الدقيقة \_\_\_\_\_

اكتب الوقت الذي تشير إليه الساعة بطريقتين مختلفتين




الساعة \_\_\_\_\_



الساعة \_\_\_\_\_

ارسم عقرب الدقائق ليبدل على الوقت

اكتب الوقت الذي تشير إليه الساعة بطريقتين مختلفتين




الساعة \_\_\_\_\_

٥:٣٠

ارسم عقرب الدقائق ليبدل على الوقت

ارسم عقرب الدقائق ليبدل على الوقت



٤:١٥

٦:٠٠

ارسم عقربي الساعة ، ثم اكتب وقت النهاية

ابدأ ٩:٠٠

بعد ساعتين

تصبح :



ارسم عقربي الساعة ، ثم اكتب وقت النهاية

ابدأ ٦:٠٠

بعد ساعة ونصف

تصبح :



ارسم عقربي الساعة ، ثم اكتب وقت النهاية

ابدأ ٣:٠٠

بعد ٣ ساعات وربع

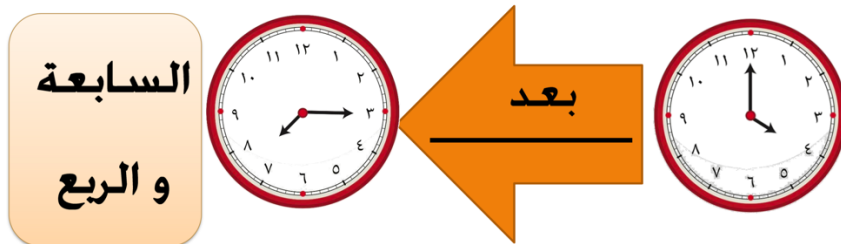
تصبح :



اقرأ الساعتين ما المدة التي مضت ؟

السابعة و الربع

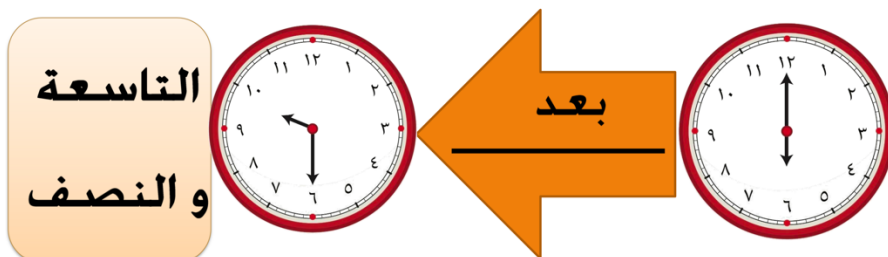
بعد



اقرأ الساعتين ما المدة التي مضت ؟

التاسعة و النصف

بعد



ذهب خالد مع زملائه ليلعبوا بالملعب الساعة ٤ ،  
وقضوا وقتا ممتعا استمر ساعتين . في أي ساعة  
عاد خالد الى المنزل ؟ وضح إجابتك على الساعات .



يتناول محمد وجبة الغداء يوميا الساعة الثانية لمدة ربع  
ساعة ، ما الوقت الذي ينتهي به ؟  
وضح إجابتك على الساعات



اختر أكثر من دقيقة – أقل من دقيقة

حل الواجبات



أكثر من دقيقة  
أقل من دقيقة

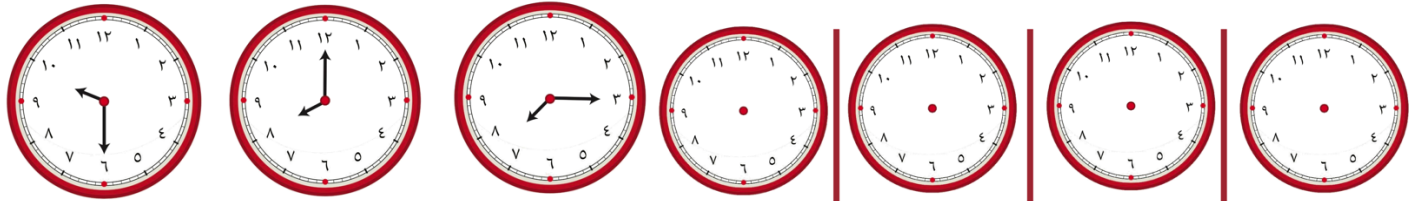
اختر أكثر من دقيقة – أقل من دقيقة

القفز مرتين متتاليتين



أكثر من دقيقة  
أقل من دقيقة

صل نموذج الساعة بالوقت المناسب لها



٧:١٥

٩:٣٠

٨:٠٠

:

٦:٠٠

٥:٣٠


٥:٠٠

ارسم عقربي الساعة لتوضيح الوقت المحدد أسفل الصورة

ارسم عقربي الساعة لتوضيح الوقت المحدد أسفل الصورة



الساعة الحادية عشر و الربع



الساعة العاشرة و النصف



ارسم عقري الساعة لتوضيح الوقت المحدد أسفل الصورة

لون الإجابة الصحيحة :



الساعة الواحدة



الساعة =

٦٠

دقيقة

٣٠

دقيقة

١٥

دقيقة

لون الإجابة الصحيحة :

لون الإجابة الصحيحة :



نصف الساعة =

٦٠

دقيقة

٣٠

دقيقة

١٥

دقيقة

٦٠

دقيقة

٣٠

دقيقة

١٥

دقيقة

لون الإجابة الصحيحة :

لون الإجابة الصحيحة :

ذهب وليد إلى السوق لشراء مستلزمات حفل الساعة الرابعة  
و عاد للمنزل الساعة الثامنة . المدة التي قضاها بالسوق هي :



٤ ساعات

ساعة

ساعتين

أكتوبر ١٠						
الأحد	الاثنين	الثلاثاء	الأربعاء	الخميس	الجمعة	السبت
٧	٦	٥	٤	٣	٢	١
١٤	١٣	١٢	١١	١٠	٩	٨
٢١	٢٠	١٩	١٨	١٧	١٦	١٥
٢٨	٢٧	٢٦	٢٥	٢٤	٢٣	٢٢
				٣١	٣٠	٢٩

عدد أيام شهر أكتوبر =

٣١

يوم

٣٠

يوم

٢٩

يوم