



ورقة عمل الوحدة الرابعة عشرة (٢)

وزارة التربية

المجال / رياضيات

للفصل الثاني الابتدائي

الإدارة العامة للتعليم الخاص

الاسم :

الفصل الدراسي الثاني

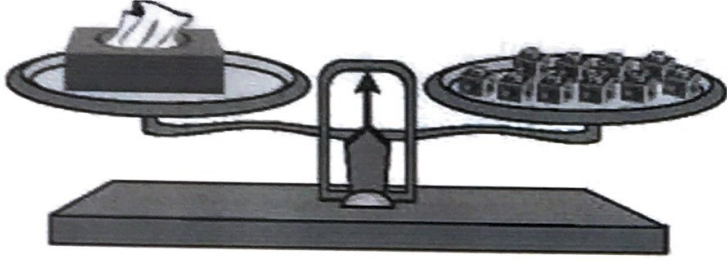
مؤسسة الجھراء الأهلية التعليمية



الصف :

للعام الدراسي ٢٠١٨ / ٢٠١٩

مدرسة الجھراء الأهلية الابتدائية بنات

السؤال الأول : أكْمِلِ الْفَرَاغَ.




وَزْنُ  =  \_\_\_\_\_

السؤال الثاني : حَوِّطِ الْعِبَارَةَ الْمُنَاسِبَةَ.

أخَفُّ مِنْ ١ كيلوجرامٍ



تَقْرِيبًا ١ كيلوجرامٍ

أثْقَلُ مِنْ ١ كيلوجرامٍ





السؤال الثالث : كَمْ كَوْبًا تَسَعُ الْعَلْبُ إِذَا مَلَأْتَهَا بِالْمَاءِ؟ اُكْتُبِ الْعَدَدَ الْمُنَاسِبَ.

ب

 \_\_\_\_\_ 

٢ | من خوار

أ

 \_\_\_\_\_ 



ورقة عمل الوحدة الرابعة عشرة (٢)

وزارة التربية

المجال / رياضيات

للفصل الثاني الابتدائي

الإدارة العامة للتعليم الخاص

الاسم :

الفصل الدراسي الثاني

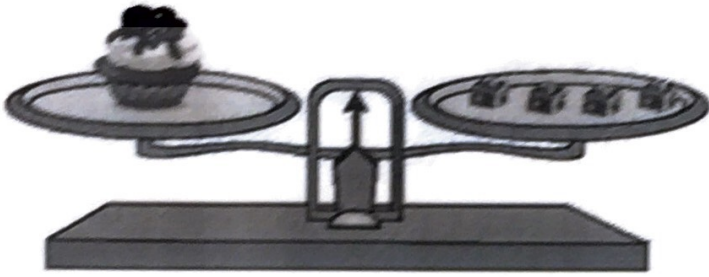
مؤسسة الجھراء الأهلية التعليمية



الصف :

للعام الدراسي ٢٠١٨ / ٢٠١٩

مدرسة الجھراء الأهلية الابتدائية بنات

السؤال الأول : أكْمِلِ القَرَأَغَ.





وَزْنُ  =  \_\_\_\_\_

السؤال الثاني : حَوِّطِ العِبَارَةَ المُنَاسِبَةَ.

أخفُّ مِنْ ١ كيلوجرامٍ  
تَقْرِيبًا ١ كيلوجرامٍ  
أثْقَلُ مِنْ ١ كيلوجرامٍ



السؤال الثالث : كَمْ كُوبًا تَسَعُ العُلبُ إِذَا مَلَأْتَهَا بِالمَاءِ؟ اُكْتُبِ العَدَدَ المُنَاسِبَ.



ما جيلو السيد

ورقة عمل للصف الثاني للوحدة الرابعة عشر

١- حوطي وحدة القياس المناسبة:



سننآمتر  
متر




سننآمتر  
متر

٢- حوطي التقدر المناسب:

تقربآ ٣ أمتار

تقربآ ٣٠ مترآ



تقربآ ٨ دنائبر

تقربآ ٨٠ دآنارآ



٣- حوطي العبارة المناسبة:

أخف من ١ كآلوجرام

تقربآ ١ كآلوجرام


أثقل من ١ كآلوجرام




أخف من ١ كآلوجرام

تقربآ ١ كآلوجرام

أثقل من ١ كآلوجرام



٤- عدآ النقود ثم اكتبآ قآمة الكل:



فلسا.....



دآنار.....