

# تم تحميل الملف من موقع مدرستي الكويتية

مدرستي

الكويتية

school-kw.com



ننصح بأفضل مذكرة  
مذكرات النجاح

حمل تطبيق مدرستي الكويتية



Download on the  
App Store



GET IN ON  
Google Play



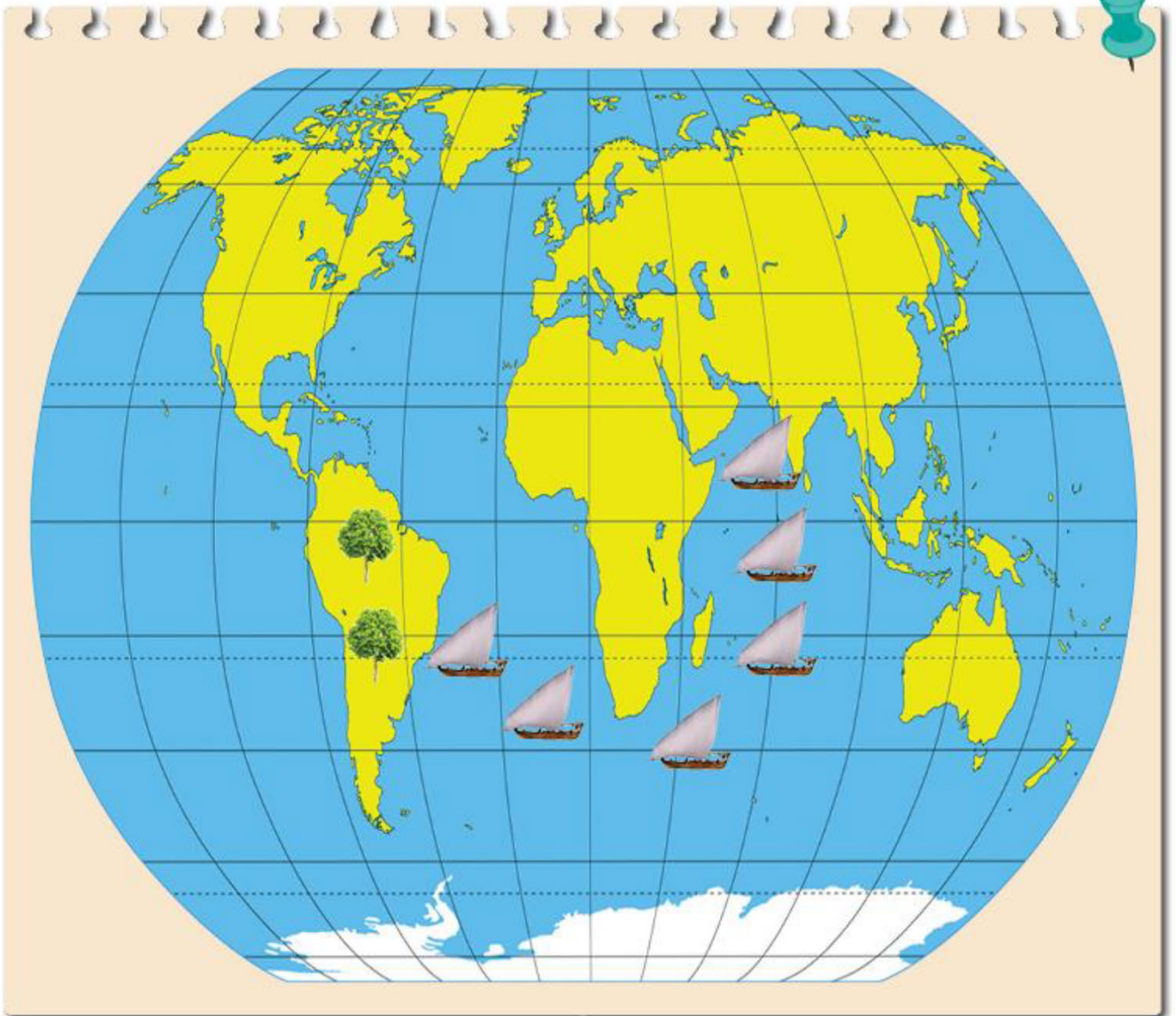
## الدرس الأول

التاريخ ..... / ..... / .....

### سطح الكرة الأرضية

### التمهيد

مم يتكون سطح الكرة الأرضية؟



## النشاط الأول

اقرأ ... لاحظ ثم استنتج

### لغز عالم الطبيعة



أحمد عالم طبيعة يقوم بالعديد من الرحلات حول العالم لاستكشاف الغابات ودراسة النباتات في رحلته الأخيرة وصل إلى منطقة يوجد فيها نوع جديد من النبات يستخدم في صناعة الأدوية الطبية.

١- ما وسيلة النقل التي استخدمها عالم الطبيعة أحمد في رحلته الأخيرة؟ ..... السفينة

٢- وأين تستخدم هذه الوسيلة؟ ..... البحر

٣- ما دلالة الألوان على الخريطة؟

مدرستي  
الكويتية  
school-kw.com


الماء.....	اليابسة.....
------------	--------------

### اقرأ وتعلم

تتكون الكرة الأرضية من يابسة وماء ، وتغطي المياه حوالي ٧٠٪ من سطح الكرة الأرضية وتوجد على شكل مسطحات مائية، وتمثل اليابسة حوالي ٣٠٪ من مساحة الكرة الأرضية، وتوجد على شكل قارات.

## النشاط الثاني

- ١- دوّن نسبة المياه ونسبة اليابسة على سطح الكرة الأرضية في الشكل التالي.
- ٢- لون ما يمثل مساحة اليابسة باللون الأصفر، وما يمثل مساحة الماء باللون الأزرق.



٣- الاستنتاج: مساحة ..... الماء ..... على سطح الكرة الأرضية أكبر من مساحة ..... اليابسة .....

## النشاط الثالث

١- شارك زملائك في المجموعة بعمل مشروع مجسم الكرة الأرضية باستخدام المواد التالية:

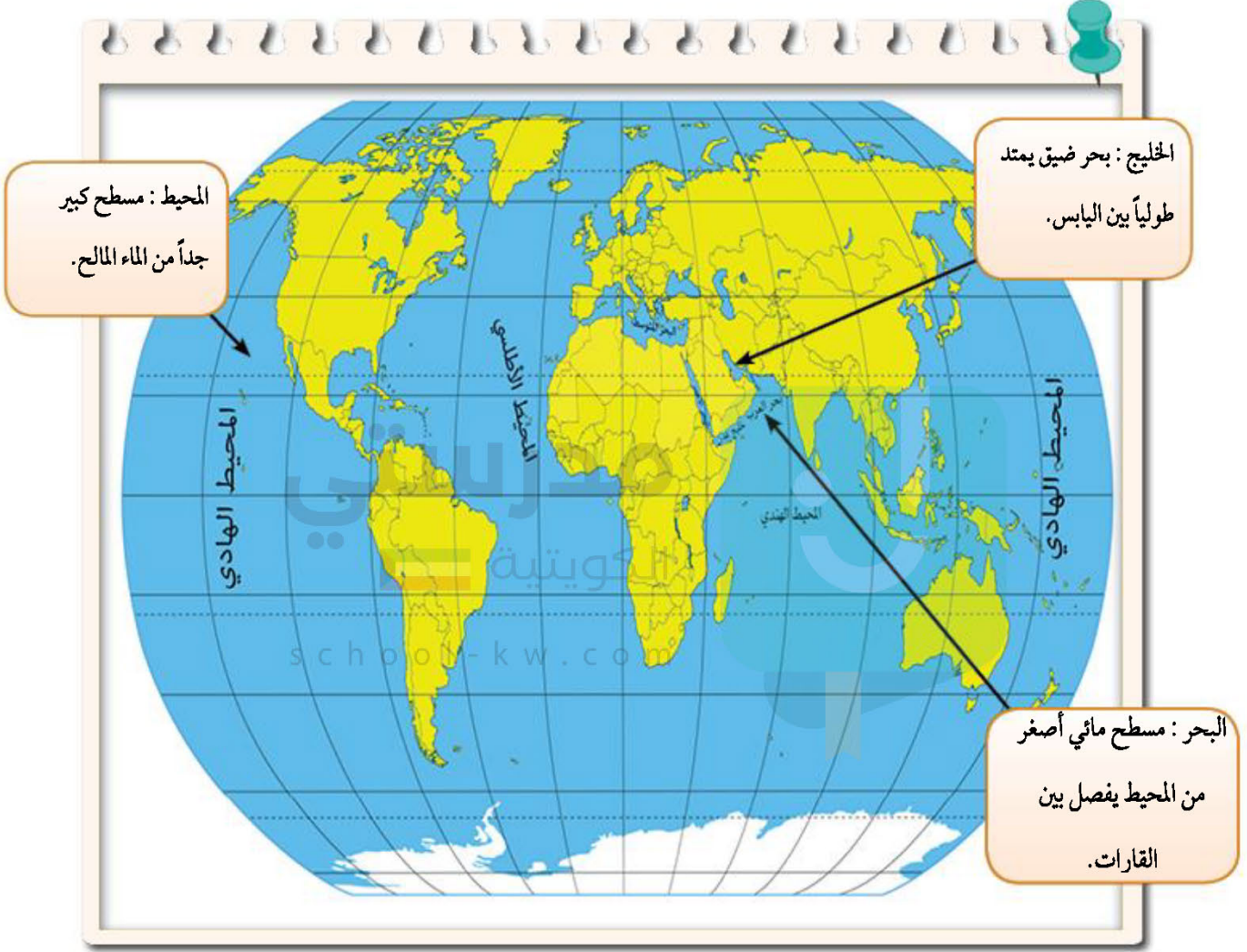
- بالون باللون الأزرق.
- صمغ (غراء).
- أوراق قص لصق باللون الأصفر.
- مقص
- صور (حيوانات برية - حيوانات بحرية - سفن - سيارات - خيام - منازل)

٢- ماذا نلاحظ على شكل مجسم الكرة الأرضية؟

(تصميم المشروع مع المجموعة)

## ١ - المسطحات المائية

تتنوع المسطحات المائية على سطح الكرة الأرضية مثل ( المحيطات - البحار - الخلجان - الأنهار - البحيرات - المضائق).



### النشاط الأول

لاحظ الخريطة... ثم نفذ ما يليها:



١- استنتج أسماء المسطحات المائية من الخريطة ثم صنفها في الجدول التالي:

الخلجان	البحار	المحيطات
.....الخليج العربي..	.....البحر الأحمر.....	.....المحيط الهادي.....
.....خليج عدن.....	.....البحر المتوسط.....	.....المحيط الهندي.....
.....	.....بحر العرب.....	.....المحيط الأطلسي.....
.....	.....	.....المحيط المتجمد.....
		الشمالي/ الجنوبي

.....  
المحيط الهادي  
.....

٢- اكتشف اسم محيط تكرر أكثر من مرة.

.....  
لان الأرض كروية الشكل  
.....

٣- هل تعلم لماذا تكرر؟

school-kw.com

النشاط الثاني

أكمل العبارات التالية بما يناسبها مما درست:

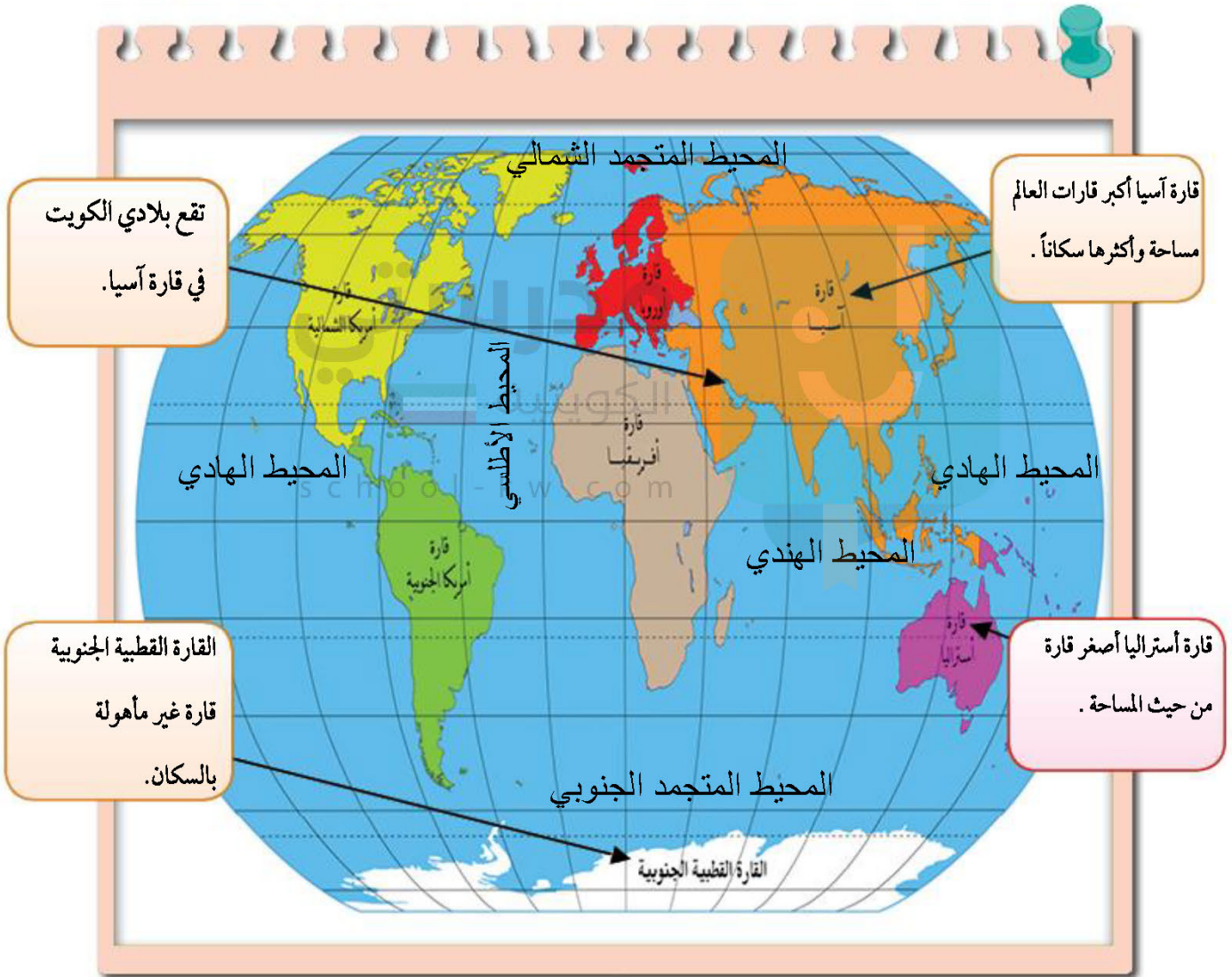
- ١- تطل بلادي الكويت على مسطح مائي يسمى .....الخليج العربي.....
- ٢- مسطح مائي أصغر من المحيط يفصل بين القارات يسمى ..البحر.....
- ٣- يبلغ عدد المحيطات في العالم .....خمسة.....محيطات.

## ٢ - القارات

يتكون العالم من سبع قارات هي :

آسيا ، أوروبا ، أفريقيا ، أمريكا الشمالية ، أمريكا الجنوبية ، أستراليا ، القارة القطبية

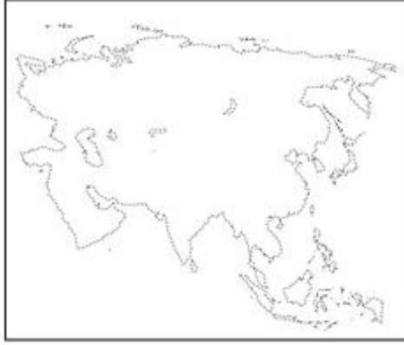
القارة: هي مساحة كبيرة من اليابسة يحيط بها الماء





## النشاط الأول

تتبع النقاط بالقلم في الأشكال التالية ثم أكمل الجدول الذي يليها:



اسيا	استراليا	اسم القارة
اكبر القارات - أكثرها سكانا	اصغر القارات	مميزاتها

## النشاط الثاني

اكتب أسماء القارات حسب موقعها على خريطة العالم التالية.

