

تم تحميل الملف من موقع مدرستي الكويتية

مدرستي

الكويتية

school-kw.com



ننصح بأفضل مذكرة
مذكرات النجاح

حمل تطبيق مدرستي الكويتية



Download on the
App Store



GET IN ON
Google Play



الوحدة الثانية

دول الخليج العربية تتطور حضارياً وسياسياً

صفحة
46

نشاط ١

استخرج من الفقرتين :-

- ١- حقيقة ... القرن. ١٠٠٠. عام
- ٢- رأي منطقة الخليج ذات حضارة زاهرة
- ٣- تعريفاً للحضارة ... كل تطور وتقدم وورقي يطرأ على المجتمع في جميع نواحي الحياة.

مدرستي

نشاط ٢

١- قم بعملية حسابية لمعرفة عدد السنوات التي امتدت خلالها حضارة منطقة الخليج العربية .

..... ٤٠ قرن. X ١٠٠٠ عام = ٤٠٠٠ عام

٢- نستنتج أن .. الحضارات القديمة في دول الخليج العربي امتدت لمدة ٤٠٠٠ سنة ق. م

.....
.....

صفحة
48

نشاط ١

- ماذا كان يسمى الخليج العربي في العصور القديمة ؟ البحر الأدنى أو بحر شروق الشمس



- ١- اكتب بيانات كل حضارة .
- ٢- ألصق صورًا لها .



اسم الدولة الخليجية **الكويت** . .
اسم الحضارة . . **الحضارة الهلنستية**



اسم الدولة الخليجية . **سلطنة عمان** .
اسم الحضارة . . . **حضارة مجان** . . .



اسم الدولة الخليجية . **مملكة البحرين** .
اسم الحضارة . . . **بجضارة دلمون** . . .



رتب الحضارات التي ظهرت في منطقة الخليج العربية حسب موقعها الجغرافي على الخريطة من الشمال إلى الجنوب



ابحث مع خالد

عن حضارات أخرى قديمة
ظهرت في دول الخليج
العربية وألصق صوراً لها



اتصلت حضارات شبه الجزيرة العربية بالعديد من الحضارات القديمة التي كانت سائدة في العراق وإيران ومصر وشرق إفريقيا وآسيا الصغرى، حيث نتج عن ذلك تأثيرات حضارية متبادلة، ومن أهم المناطق الأثرية في المملكة العربية السعودية مدائن صالح والأخدود وقرية الفاو والأحقاف وتيماء ودومة الجندل، فمعظم تلك المناطق كانت ممراً لطرق التجارة التي تعبر شبه الجزيرة العربية.

المصدر: سلسلة الحضارات التاريخية، حضارات شبه الجزيرة العربية



ضع أمام كل عامل من العوامل التالية عنواناً مناسباً :



شكل (١٣) خريطة توضح موقع دول الخليج العربية بالنسبة للعالم

وقد ساعد موقع الخليج العربي المتميز على إنشاء علاقات تجارية واسعة مع المناطق المجاورة مما عاد عليه بمزايا اقتصادية عديدة ، كما أن سهولة اتصال سكانه مع المناطق أدى إلى انطلاق الهجرات وتأسيس أقدم الحضارات .

الموقع المميز



شكل (١٤) يوضح بئرًا للمياه الشرب في إحدى حضارات دول الخليج العربية

الكويتية

توفر آبار مياه الشرب الناتجة عن سقوط الأمطار وحفر آبار قليلة العمق (القليب) * .

الموارد المائية

تمتاز بعض مناطق الخليج العربية بملائمة بيئتها الطبيعية للاستقرار وقيام الحضارات .

العوامل الطبيعية

- أ - نستنتج أن من العوامل التي أثرت في حضارة منطقة الخليج العربي: عوامل طبيعية، الموقع المميز، الموارد المائية
- ب - بالتعاون مع معلمك استخرج تعميماً سكنت منطقة الخليج العربي حضارات عدة.



لاحظ الصور التالية وفكر :



دار الآثار الإسلامية في الكويت



متحف الشارقة للحضارة الإسلامية



متحف دار القرآن في مملكة البحرين

نشاط ١ // صفحة 53

ما العنصر المشترك بين هذه الصور ؟ ماذا تتوقع أن تحوي من معروضات ؟

..... مظاهر الحضارة الإسلامية / آثار الحضارة الإسلامية

* نستنتج وجود الحضارة الإسلامية في منطقة الخليج العربي

نشاط ٢ // صفحة 54

ضع علامة (✓) أو علامة (X) أمام العبارات التالية مستعيناً بالفقرة السابقة :

- ١- ظهر الإسلام في القرن العاشر الميلادي الكويتية (X)
- ٢- شارك أبناء منطقة الخليج العربية في نشر الإسلام فقط . (X)
- ٣- لم يتأثر سكان منطقة الخليج العربية بمظاهر الحضارة الإسلامية . (X)
- ٤- ساهم سكان منطقة الخليج العربية في نشر الإسلام في جنوب شرق آسيا . (✓)

نشاط ٣ //

استخرج من الفقرة السابقة :-

- ١- حدثاً تاريخياً مهماً دخل سكان شبه الجزيرة العربية الإسلام في القرن السابع ميلادي.
- ٢- نشاطاً اقتصادياً مارسه سكان منطقة الخليج العربية . التجارة
- ٣- ما يثبت استمرار اهتمام أبناء منطقة الخليج العربية بالحضارة الإسلامية في الوقت الحالي . وجود المظاهر الحضارية الإسلامية
- ٤- عاملاً ساهم في ازدهار مدن الخليج العربية الخليج العربي



صنّف مظاهر الحضارة الإسلامية في الشكل السابق بوضع الرقم المناسب في الجدول التالي :

| الصناعة | الفن | العمران |
|---------|------|---------|
| ٧-٥-٣-١ | ٨-٦ | ٤-٢ |

أ- استخرج من الفقرة :-

مظهرًا من مظاهر التطور السياسي لدول الخليج العربية . **ظهور وحدات سياسية في الخليج**

الكويتية

ب - سببًا ونتيجةً ورتبها بالجدول التالي :

| السبب | النتيجة |
|---|---|
| قيام موانئ الخليج العربي بأنشطة بحرية مختلفة | جذب الهجرات إلى منطقة الخليج العربية |
| اكتشاف النفط | بدأت مرحلة جديدة لدول الخليج العربية في تأثيرها على السياسة الدولية |



استخرج من الفقرة السابقة حقائق تؤكد كدها الخريطتان :-



شكل (١٦) خريطة العالم

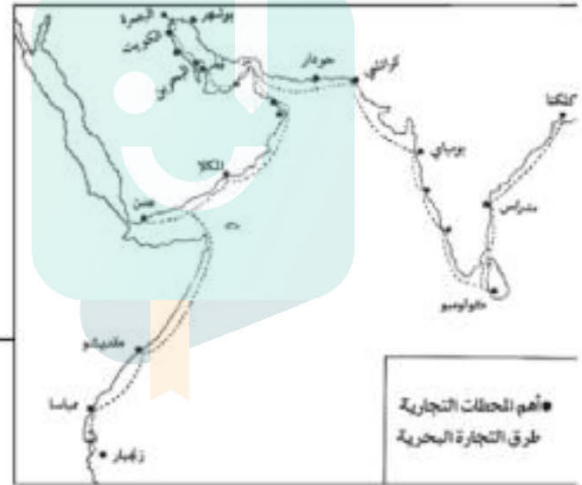
للخليج العربي موقع جغرافي هام

مدرستي

الكويتية

school-kw.com

ممكن الخليج العربي سكانه من ممارسة
الأنشطة البحرية المختلفة خاصة التجارة
البحرية



شكل (١٧) خريطة توضح أهم المحطات التجارية وطرق التجارة البحرية التي مارسها سكان دول الخليج العربية قديمًا .



أكمل الجدول المقابل مستعيناً بالفقرة السابقة :-

| الاسم | المنطقة التي هاجروا إليها |
|----------------------------|---------------------------|
| آل البوسعيد واليعاربة | عمان |
| العيوب (آل صباح وآل خليفة) | إلى الكويت والبحرين |
| القواسم | رأس الخيمة |

نشاط ٤



حدد على خريطة شبه الجزيرة العربية خط سير هجرة العتوب من منطقة الهدار إلى منطقة الخليج العربية باستخدام الأسهم.

شكل (١٨) خريطة شبه الجزيرة العربية صماء

نشاط ٥

أكمل كتابة أسماء الدول الخليجية في

الشكل التالي :-





* بعد قراءة الصحيفة التي أعدها متعلمو الصف السادس أجب
التالية :

صفحة 61

نشاط ١

عرف الاستعمار هو أن تسيطر دولة قوية على دولة ضعيفة بهدف استغلال مواردها.

نشاط ٢

موقع مهم

استعمار

اكتب جملة مفيدة مستعيناً بالكلمات التالية :


... هدف الاستعمار هو السيطرة على المواقع المهمة في الدول واستغلال مواردها.

نشاط ٣

١- اكتب حدث تاريخي منافسة استعمارية من دول الخليج العربية منذ القرن الخامس عشر

نشاط ٤

٢- حدد على المخطط الزمني الفترة الزمنية التي ظهر فيها الحدث :



١٣٠٠ م ١٤٠٠ م ١٥٠٠ م ١٦٠٠ م ١٧٠٠ م ١٨٠٠ م ١٩٠٠ م ٢٠٠٠ م

نشاط ٥

١- رتب الدول الاستعمارية الأوروبية تصاعدياً حسب وصولها لمنطقة الخليج العربية :





٢- هل هذه الدول قريبة أم بعيدة عن منطقة الخليج العربية؟

صفحة 62

بعيدة

٣- ماذا تستنتج من ذلك؟

أهمية موقع دول الخليج العربية أدى إلى طمع الدول الاستعمارية، وتوفر الثروات الطبيعية في منطقة الخليج العربي

٤- استخرج من تقرير خالد الأساليب التي اتبعتها الاستعمار للسيطرة على دول الخليج العربية :-

- المعاهدات - الاتفاقيات

أفكر وأجيب

اتفاقية الحماية ١٨٩٩م

«ألا يتنازل أو يبيع أو يؤجر أي جزء من أراضيه لدولة أجنبية دون موافقة مسبقة من الحكومة البريطانية، وألا يستقبل هو أو خلفاؤه من بعده ممثل أي دولة أجنبية دون إذن من السلطات البريطانية مقابل حماية بريطانية لإمارة الكويت من أي خطر خارجي» .

school-kw.com

تمعن (اقرأ بدقة)
الاتفاقية في الوثيقة
التالية ثم :-

١- اكتب بيانات الاتفاقية في الجدول التالي :

| السنة | أطراف الاتفاقية | أسلوب الاستعمار |
|-------|------------------|-----------------|
| ١٨٩٩م | الكويت وبريطانيا | اتفاقية الحماية |

٢- ابحث في المواقع الالكترونية المتخصصة عن أهم أسباب عقد الشيخ مبارك الصباح اتفاقية الحماية عام ١٨٩٩ مع بريطانيا وسجلها في الفراغات التالية :

خوفاً من الأطماع التي احاطت بالكويت ورغبته في حمايتها.....



الاستقلال : تحرر الدولة من المستعمر الأجنبي وقيامها بمسؤولية
إدارة شؤونها الداخلية والخارجية .



هيا تكمل البطاقة التالية :

اقترح عنوان للصورة

... توقيع اتفاقية استقلال الكويت .

تاريخ الصورة ١٩٦١ م

اسم حاكم الكويت في هذه الفترة

... الشيخ عبد الله السالم الصباح .

الطرف الأجنبي الذي وقع المعاهدة

..... بريطانيا

نشاط ١

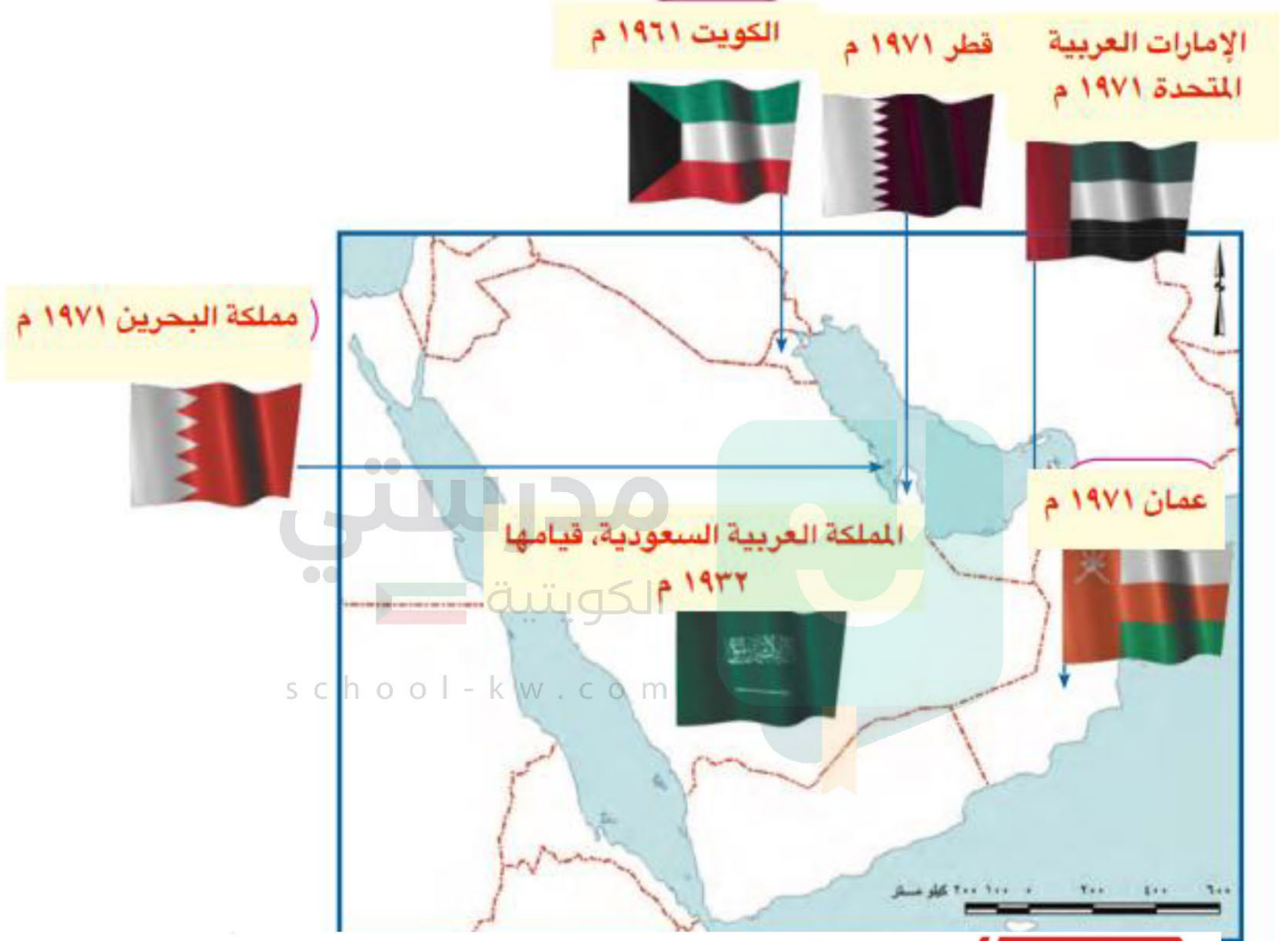
استدل من القرآن الكريم والسنة النبوية الشريفة ما يؤكد اهتمام الإسلام بمبادئ حقوق الإنسان .

آية : وَالَّذِينَ اسْتَجَابُوا لِرَبِّهِمْ وَأَقَامُوا الصَّلَاةَ وَأَمْرُهُمْ شُورَى بَيْنَهُمْ وَمِمَّا رَزَقْنَاهُمْ يُنْفِقُونَ ﴿٢٨﴾ . الشورى

حديث نبوي : جاء في السنة الشريفة: (المسلم أخو المسلم، لا يجل لمسلم إذا باع من أخيه بي عا فيه عيب إلا يبينه)، أما
جاء في الحديث: (لا يجل لمسلم أن يغش مسلماً) (رواه البخاري)



لاحظ خريطة دول الخليج العربية ثم سجل داخل المربعات اسم الدولة وسنة الاستقلال .



اختر احدي الدول الخليجية واكتب لها بطاقة تهنئة بمناسبة عيدها الوطني :

أهنئكم باليوم الوطني السعودي
كل عام وأنتم بخير



نشاط ١

- قام مجموعة من أبناء دول الخليج العربية بزيارة وطنك الكويت .
- ارشدهم إلى أهم المناطق السياحية في وطنك الكويت .
- ألصق صورًا لأهم المعالم السياحية في وطنك الكويت .

أبراج الكويت
المسجد الكبير





عرّف مصطلح مجلس التعاون الخليجي
عبارة عن منظمة سياسية اقتصادية إقليمية تضم ست دول عربية خليجية.

نشاط ٢

١ - قم بعملية حسابية لمعرفة عدد السنوات التي تمثل مسيرة مجلس التعاون لدول الخليج العربية (منذ بداية قيامه إلى سنة انعقاد آخر قمة خليجية) .

$$2020 - 1981 = 39$$

٢ - اسم المدينة التي اتخذت مقراً لمجلس التعاون لدول الخليج العربية مدينة الرياض في المملكة العربية السعودية

school-kw.com

نشاط ٣

استخرج من الفقرة :-

السمات (الصفات) المشتركة بين دول مجلس التعاون لدول الخليج العربية .
صفات مشتركة وأنظمة متشابهة. أساسها وحدة التراث والانتماء والعقيدة والمصالح المشتركة: العادات والتقاليد، الدين، اللغة، التاريخ، الأهداف المشتركة، أنظمة الحكم، المستوى الاقتصادي

تم تحميل الملف من موقع مدرستي الكويتية

مدرستي

الكويتية

school-kw.com



ننصح بأفضل مذكرة
مذكرات النجاح

حمل تطبيق مدرستي الكويتية



Download on the
App Store



GET IN ON
Google Play



لاحظ التالي :- صفحة 73



شكل (٢١) صورة توضح آخر اجتماعات مجلس التعاون الخليجي

نشاط ١

- ما اسم التنظيم السياسي الذي تمثله الصور .. مجلس التعاون لدول الخليج العربي
في أي عام ٢٠٠٨ م

نشاط ٢

ماذا يمثل شكل رقم (أ)؟ . شعار مجلس التعاون لدول الخليج العربي (أ)



العناصر الأساسية التي يتكون منها
الخريطة السياسية لدول مجلس التعاون، والشكل السداسي يحدد
الالوان المشتركة لالوان الاعلام واللون الأزرق الذي يجمعهم هو الخليج
الغربي، وأسم الشعار والبسمة.



أبحث مع زملائك عن اسم الشخصية التالية :-

- ١- وجه . الشيخ جابر الأحمد الصباح سنة ١٩٧٦ دعوة إلى إنشاء وحدة خليجية ، بهدف تحقيق التعاون في جميع المجالات ، وإيجاد نوع من الاتحاد على أسس سليمة ومتينة لمصلحة شعوب هذه المنطقة واستقرارها .
- ٢- ألصق صورة لهذه الشخصية .

صفحة
74

لاحظ الصور التالية وشارك بالأنشطة التي تليها :-



القمة السابعة والعشرون بالرياض ١٠ / ١٢ / ٢٠٠٦ م
(قمة الشيخ جابر الأحمد الصباح رحمه الله)

نشاط ١

- ١- ماذا تمثل الشخصيات الظاهرة في الصور؟
.....
قادة دول مجلس التعاون الخليجي

أكمل البيانات التالية :

تاريخ القمة : ٢٠٠٦ / ١٢ / ١٠ م

اسم القمة : قمة الشيخ جابر الأحمد الصباح
رحمه الله

عدد الدول المشاركة : ٦ أعضاء



لماذا سميت باسم هذه الشخصية ؟

..... قابيلاً لذكرى رحيل الشيخ جابر الأحمد الصباح

نشاط ٢

بالتعاون مع زملائك وبزيارة مكتبة المدرسة اكتب نبذة عن
سيرة المغفور له الشيخ جابر الأحمد .

الشيخ جابر الأحمد الجابر الصباح (29 مايو 1926 - 15 يناير 2006) ، أمير دولة الكويت الثالث عشر والثالث بعد الاستقلال من المملكة المتحدة. هو الابن الثالث للشيخ أحمد الجابر الصباح من الشيخة بيبي السالم الصباح ابنة حاكم الكويت التاسع الشيخ سالم المبارك الصباح. تلقى تعليمه في المدرسة المباركية والمدرسة الأحمدية. في عام 1949 عينه والده نائباً له في الأحمدي، وكان المسؤول العام عن المدينة، وفي عام 1959 عينه الشيخ عبد الله السالم الصباح رئيساً لدائرة المال والأموال العامة، كما كان رئيساً لمجلس النقد الكويتي، وقام في 1 أبريل 1961 بإصدار أول عملة في الكويت تحمل توقيعه. وبعد استقلال الكويت في 19 يونيو 1961 وإجراء انتخابات المجلس التأسيسي عين وزيراً للمالية والصناعة في الحكومة الأولى والتي كانت برئاسة الشيخ عبد الله السالم الصباح. وعندما تولى الشيخ صباح السالم الصباح رئاسة الحكومة أصبح نائباً لرئيس مجلس الوزراء، وبعد وفاة الشيخ عبد الله السالم وتولى الشيخ صباح السالم الحكم عُيّن في 30 نوفمبر 1965 رئيساً لمجلس الوزراء، وفي 31 مايو 1966 بويع في مجلس الأمة ولياً للعهد وذلك بعد تزكية الأمير له. وفي 5 يونيو 1967 أصبح حاكماً عرفياً للكويت بعد تطبيق الأحكام العرفية، وذلك إلى أن رفعت الأحكام العرفية في 1 يناير 1968. تولى الحكم في 31 ديسمبر 1977 بعد وفاة الشيخ صباح السالم الصباح، وكان صاحب فكرة إنشاء مجلس التعاون الخليجي الذي أنشئ في 1981، تعرّض في يوم 25 مايو 1985 لمحاولة اغتيال نجا منها، وفي 2 أغسطس 1990 غزت العراق الكويت، فاستخدم كافة الوسائل لتحريرها، وتحقق ذلك في 26 فبراير 1991 بعد حرب الخليج الثانية.

نال شهادة دكتوراه فخرية من قبل جامعة اليابان في 14 أكتوبر 1965. واختير في عام 1995 شخصية العام الخيرية من قبل مؤسسة المتحدون للإعلام والتسويق البريطانية بعد استبيان شارك فيه 5 ملايين عربي.



١- ماذا تتوقع أن يحدث لو لم تكن هناك صفات مشتركة بين دول مجلس التعاون الخليجي ؟

..... **قلة التعاون بين تلك الدول.**

..... **عدم قيام مجلس التعاون الخليجي**

٢- استخرج القيم التي تسعى دول مجلس التعاون الخليجي إلى تحقيقها ، على سبيل المثال في رقم :

(١) قيمة التعاون

(٢) **قيمة الترابط والعمل على تقديم حل مشاكل دول الأعضاء.**

(٣) **قيمة الترابط بين الأعضاء.**

مدرستي
الكويتية

school-kw.com





نشاط // صفحة 78

قم بزيارة الموقع الالكتروني لدول مجلس التعاون الخليج العربية
WWW-GCC-SG. ORG واستخرج أهم الإنجازات الحديثة لدول مجلس التعاون
الخليجي .

ومن الإنجازات الكبيرة والتي نفخر بها ما تم في حرب تحرير الكويت ، إذ كان
لدول مجلس التعاون دورًا متميزًا ، حيث شكلت الجسم الرئيسي للقوات المشتركة
ضمن قوات عربية ، وإسلامية ، ودولية صدت العدوان وشاركت بفعالية في دحر
المعتدي العراقي وطرده يجر أذيال الخيبة من الكويت .

متى قام النظام العراقي البائد بغزو دولة الكويت؟ ٢ أغسطس ١٩٩٠.....

خطط مع زملائك لزيارة هذا الموقع لتسجيل إنجازات أخرى

صنّف الإنجازات السابقة كما هو مطلوب في الجدول التالي :

| الاقتصادية | الثقافية | السياسية | العسكرية |
|--|---------------------------------------|--|--|
| - المساواة التامة بين صوالتني مجلس التعاون لدول الخليج العربية. | - وثيقة التطوير الشمامل للتعليم. - | - التنسيق في المجال السياسي في المحافل الدولية لكل القضايا. | - اتفاقية الدفاع المشتركة واستمرار تعزيز قوة درع الجزيرة. |
| - إقامة الاتحاد الجمركي. | | - إعلان البيئة البحرية في الخليج العربي | - تحرير دولة الكويت عام ١٩٩١ م من الغزو العراقي الغاشم. |
| - انطلاق السوق الخليجي المشتركة في يناير ٢٠٠٨ م. | | - منطقة بحرية خاصة. | |
| - السياسة الزراعية المشتركة. | | | |



لاحظ خريطة مجلس التعاون الخليجي التالية ثم نفذ ما يلي :



- ١- اكتب أسماء دول مجلس التعاون الخليجي في مكانها الصحيح على الخريطة .
 - ٢- ارسم اتجاه الشمال في أعلى الخريطة؟
 - ٣- ما وسائل النقل التي يمكن لك أن تستخدمها إذا أردت السفر إلى سلطنة عُمان .
- و 🚗 و ✈️
- ٤- ارسم خط سير سكة حديد يربط دول مجلس التعاون الخليجي ببعضها بعضًا .





دول الخليج العربية تتطور حضارياً وسياسياً

السؤال الأول : أكمل العبارات التالية بما يناسبها مما درست :

- ١- الفترة الزمنية التي امتدت خلالها حضارة منطقة الخليج العربية ٤٠ قرناً
- ٢- الاسم الذي أطلق على الخليج العربي قديماً . البحر الأذني أن بحر شروق الشمس ..
- ٣- المدينة التي انطلقت منها الأمة الإسلامية تسمى المدينة المنورة
- ٤- العام الذي وقع فيه الشيخ مبارك اتفاقية الحماية مع بريطانيا هو ١٨٩٩ م .
- ٥- القرن الذي بدأت فيه شعوب الخليج العربية بالتخلص من التبعية البريطانية هو
العشرين
- ٦- العام الذي حصلت فيه دولة قطر على استقلالها هو ١٩٧١ م .
- ٧- العام الذي حصلت فيه مملكة البحرين على استقلالها هو ١٩٧١ م .
- ٨- المدينة التي يوجد فيها مقر مجلس التعاون لدول الخليج العربية
..... الرياض
- ٩- أطلق على القمة السابعة والعشرون لمجلس التعاون لدول الخليج العربية اسم الشيخ
. جابر الأحمد الصباح رحمه الله .
- ١٠- المدينة التي عقدت فيها القمة السابعة والعشرون لمجلس التعاون لدول الخليج العربية
..... الرياض
- ١١- صاحب فكرة إنشاء مجلس التعاون لدول الخليج العربية الشيخ
.. جابر الأحمد الصباح رحمه الله ..



السؤال الثاني : اختر الإجابة الصحيحة للعبارات التالية من بين الخيارات
كل منها وضع خطأ تحتها :

- ١- القرن الذي ظهر فيه الإسلام هو .
(السادس - السابع - الثامن - التاسع)
- ٢- أول دولة أوروبية استعمارية وصلت للخليج العربي .
(هولندا - البرتغال - إنجلترا - فرنسا)
- ٣- العام الذي حصلت فيه دولة الكويت على استقلالها .
(١٩٦٠ - ١٩٦١ - ١٩٦٢ - ١٩٦٣)
- ٤- العام الذي حصلت فيه دولة الإمارات العربية المتحدة على استقلالها .
(١٩٧٠ - ١٩٧١ - ١٩٧٢ - ١٩٧٣)
- ٥- عدد الدول العربية الخليجية التي خضعت للاستعمار البريطاني .
(٣ - ٤ - ٥ - ٦)
- ٦- أول دولة عربية خليجية نالت استقلالها من الاستعمار البريطاني .
(قطر - البحرين - الكويت - عُمان)
- ٧- الدولة العربية الخليجية التي لم تخضع للاستعمار البريطاني .
(المملكة العربية السعودية - البحرين - الكويت - عُمان)
- ٨- المدينة التي أعلن فيها قيام مجلس التعاون لدول الخليج العربية .
(الرياض - أبوظبي - الكويت - مسقط)

السؤال الثالث : صحح ما تحته خط في العبارات التالية واكتب الإجابة الصحيحة فيما بين الأقواس :

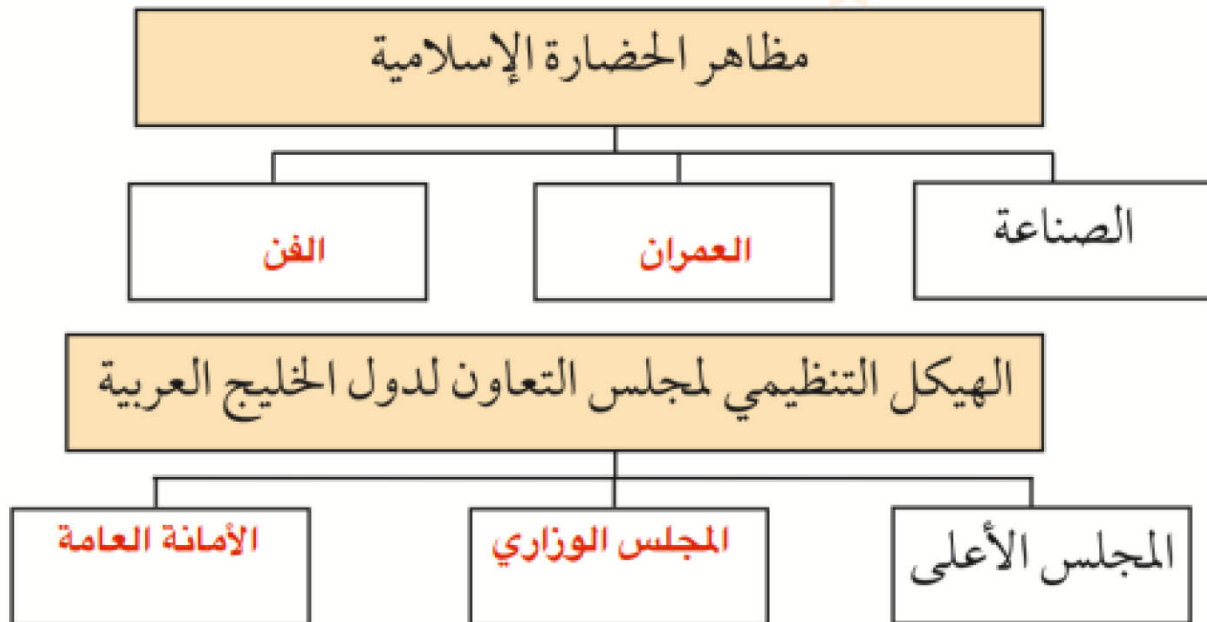
- ١- حصلت دولة الكويت على استقلالها في عهد الشيخ مبارك الصباح .
(عبد. الله. السالم. الصباح)
- ٢- وقعت الكويت اتفاقية الحماية مع بريطانيا في عهد الشيخ عبد الله السالم .
(.. مبارك. الصباح. ..)



- ٣- حصلت سلطنة عُمان على استقلالها في عام ١٩٧٠ م . ()
- ٤- كان الخليج العربي ملتقى الحضارات الكبرى في الغرب . (الشرق)
- ٥- الحضارة التي اشتهرت بأفران صهر المعادن هي دلمون . (مجان)
- ٦- شهدت منطقة الخليج العربي المنافسة الاستعمارية منذ القرن ١٦ . (١٥)
- ٧- أعلن قيام مجلس التعاون لدول الخليج العربية في ٢٥ مايو ١٩٨٠ م . (١٩٨١)
- ٨- توحدت المملكة العربية السعودية في عام ١٩٣٠ م . (١٩٣٢)
- ٩- طرح الشيخ جابر الاحمد فكرة إنشاء وحدة خليجية في عام ١٩٧٧ م . (١٩٧٦)
- ١٠- تم انطلاق السوق الخليجي المشترك في يناير عام ٢٠٠٧ م . (٢٠٠٨)
- ١١- يتكون المجلس الوزاري لمجلس التعاون الخليجي من وزراء العدل . (الخارجية)

مدرستي
الكويتية
school-kw.com

السؤال الرابع : أكمل المخططات السهمية التالية :





السؤال الخامس : صنف إنجازات مجلس التعاون لدول الخليج العربية > الصحيح في الجدول التالي :

(إقامة الاتحاد الجمركي / السياسة الزراعية المشتركة / السوق الخليجية المشتركة / التنسيق في المجال السياسي في المحافل الدولية / وثيقة التطوير الشامل للتعليم / إعلان البيئة البحرية في الخليج العربي منطقة بحرية خاصة / اتفاقية الدفاع المشتركة واستمرار تعزيز قوة درع الجزيرة / المساواة بين مواطني مجلس التعاون في المجالات الاقتصادية والاجتماعية والصحية والتعليمية) .

| الإنجازات الاقتصادية | الإنجازات الثقافية | الإنجازات السياسية | الإنجازات العسكرية |
|---|---|--|---|
| <ul style="list-style-type: none"> - المساواة التامة بين مواطني مجلس التعاون لدول الخليج العربية. - إقامة الاتحاد الجمركي. - انطلاق السوق الخليجي المشتركة في يناير ٢٠٠٨م. - السياسة الزراعية المشتركة. | <ul style="list-style-type: none"> - وثيقة التطوير الشامل للتعليم. | <ul style="list-style-type: none"> - التنسيق في المجال السياسي في المحافل الدولية. - إعلان البيئة البحرية في الخليج العربي منطقة بحرية خاصة. | <ul style="list-style-type: none"> - اتفاقية الدفاع المشتركة واستمرار تعزيز قوة درع الجزيرة. |

السؤال السادس : علل لما يلي (اذكر السبب) :

- ١- ازدهار مدن الخليج العربية .
- .. ثروتها النفطية أدت إلى نهضة عمرانية هائلة وتقدمًا كبيرًا من أجل بناء الإنسان الخليجي المتطور..
- ٢- تنافس الدول الاستعمارية على منطقة الخليج العربي .
- . استغلالاً لموقعها الجغرافي المميز الذي يطل على مسطحات مائية هامة للتجارة.....
- ٣- جذب الهجرات من شبه الجزيرة العربية إلى منطقة الخليج العربية .
موقعه المميز في قلب العالم مقرباً بين دول المحيط الهندي ودول البحر المتوسط/ كونه ممر مائي علمي/مركز تجاري.
- ٤- قيام الشيخ مبارك الصباح بتوقيع اتفاقية الحماية مع بريطانيا في عام ١٨٩٩ م .
- . لحماية إمارة الكويت من الأخطار والأطماع الخارجية.....
- ٥- إنشاء مجلس التعاون لدول الخليج العربية .
- . لما بين دول الأعضاء من علاقات خاصة وصفات مشتركة وأنظمة متشابهة، أسبابها وحدة التراث والانتماء والعقيدة والمصالح المشتركة، واقتناعاً بأن التعاون والتكامل فيما بينها يخدم الأهداف السامية للأمة العربية.